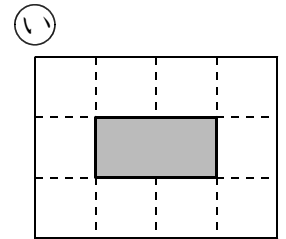
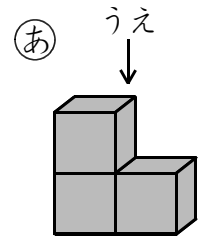


6

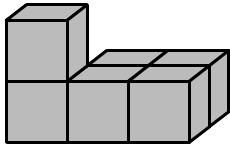
12

4

つみきを 3こ はりあわせて、**あ**の かたちを  
 つくりました。**い**は、**あ**の かたちを うえから みた  
 ものです。いま、**あ**を いくつか つかって、(1)~(3)の  
 かたちを つくりました。(1)~(3)を、うえから みると  
 どのように みえますか。それぞれ ☆と ★を せんで  
 むすびましょう。したの えは 1まい あまります。




(1)



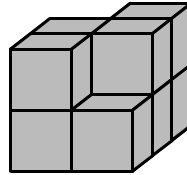
17 ☆

(2)



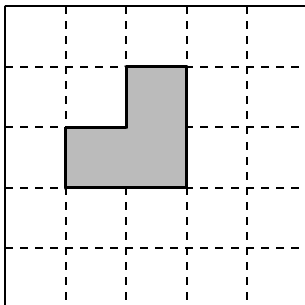
18 ☆

(3)

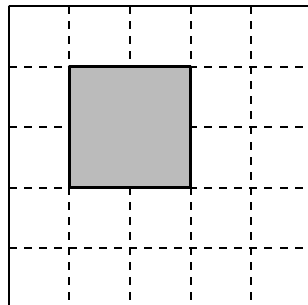


19 ☆

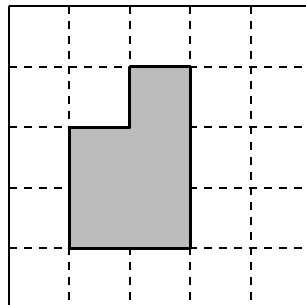
★



★



★



★

