

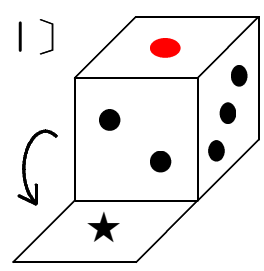
6

12

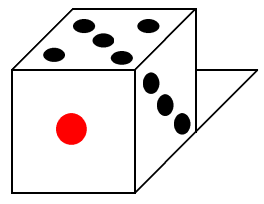
4

〔図1〕のように、さいころを正方形のます目の上におき、ます目すにそって★のところまでころがすと、〔図2〕のようになりましすた。このとき、さいころの上に見えていする目は5でした。(1)~(3)で、さいころが★のところすにきたとき、上に見えていする目はいくつですか。数字でこたえますしょう。ただし、さいころのむかいあすっている目をたすと7です。

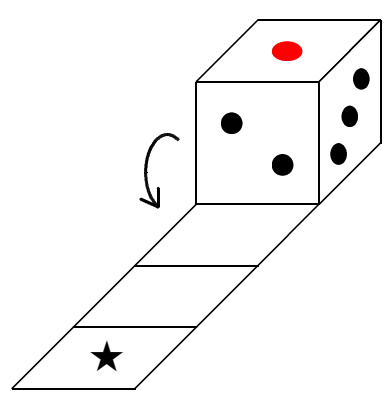
〔図1〕



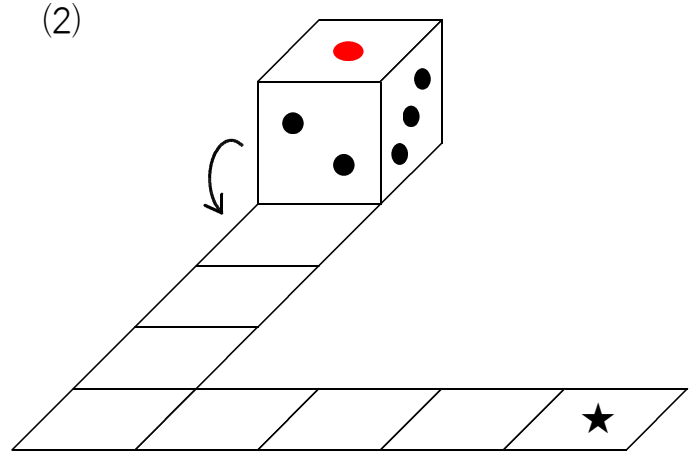
〔図2〕



(1)



(2)



(3)

