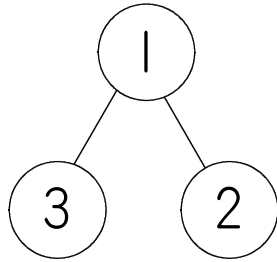
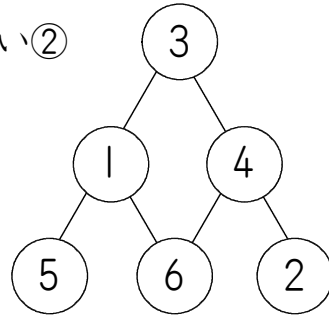


下の 2つの ○に 書いた 数の ちがいを 上の ○に 書くと いう
 きまりで ○の 中に 数を入 入れて いきます。れい①は この きまりで
 1・2・3の 数を入 れました。れい②は 同じ きまりで、1・2・3・
 4・5・6の 数を入 れました。

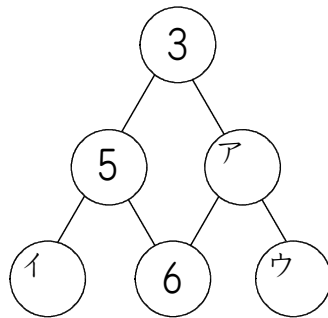
れい①



れい②



(1) この きまりで 1・2・3・4・5・6と いう 数を入 てる ○の 中に
 1つずつ 入れる とき、ア、イ、ウに 入る 数を 答えましょ う。



(2) この きまりで 1~10までの 数を入 てる ○の 中に 1つずつ 入れる
 とき、ア、イ、ウ、エ、オに 入る 数を 答えましょ う。

