

訂正 社会

問題用紙 3 ページ

1 (4) **エ**

誤 世界遺産に指定されている富岡製紙場がある……

正 世界遺産に指定されている富岡製糸場がある……

2024（令和6）年度

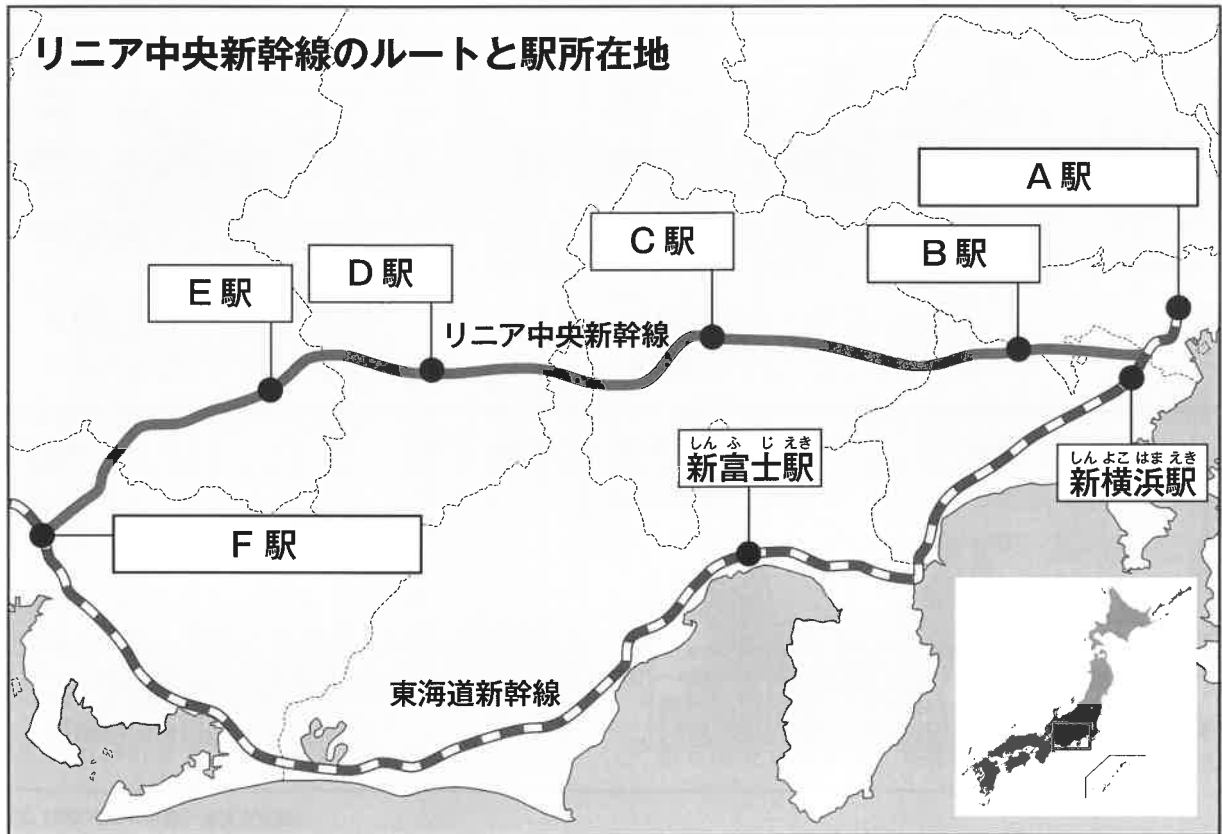
社 会

注 意

- 問題は①～④で、16 ページあります。
解答用紙は 1 枚です。
- 時間は 30 分です。指示があるまで問題冊子を開いてはいけません。
- 文字はていねいに書くこと。

- 1 竹男さんは、現在建設が進められているリニア中央新幹線と現在運行している東海道新幹線について調べ、次の地図1をつくりました。これを見て、あとの問いに答えなさい。

地図1



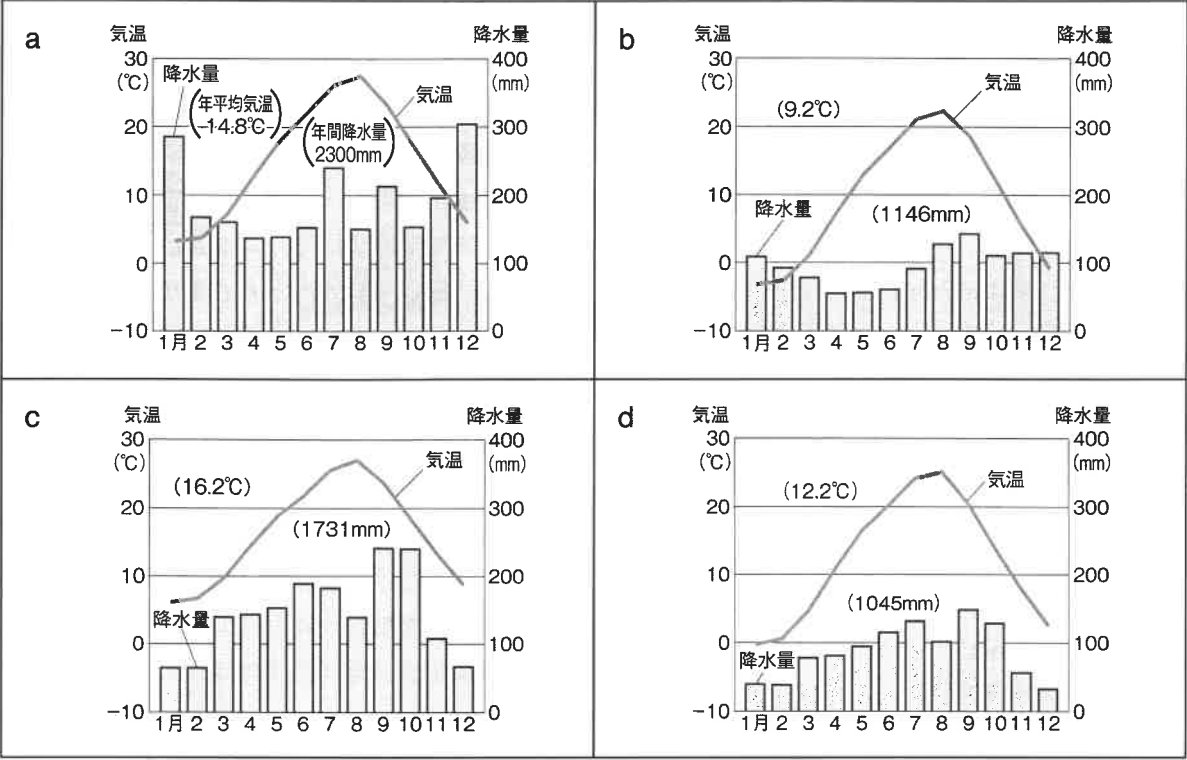
（リニア新幹線が描く日本の未来図 ホームページによる）

- (1) 地図1のリニア中央新幹線のA駅～F駅はどの都道府県にあるか、その組み合わせとして正しいものを、ア～エから一つ選び、記号で答えなさい。

	A 駅	B 駅	C 駅	D 駅	E 駅	F 駅
ア	とうきょうと 東京都	さいたまけん 埼玉県	しずおか 静岡県	やまなし 山梨県	あいち 愛知県	ぎふ 岐阜県
イ	東京都	埼玉県	山梨県	ながの 長野県	愛知県	岐阜県
ウ	東京都	かながわ 神奈川県	長野県	山梨県	岐阜県	愛知県
エ	東京都	神奈川県	山梨県	長野県	岐阜県	愛知県

(2) 地図 1 の東海道新幹線の新横浜駅がある都市について、その降水量（棒グラフ）と気温（折れ線グラフ）を示したグラフ a～d と説明 e～h の組み合わせとして正しいものを、下のア～クから一つ選び、記号で答えなさい。

グラフ



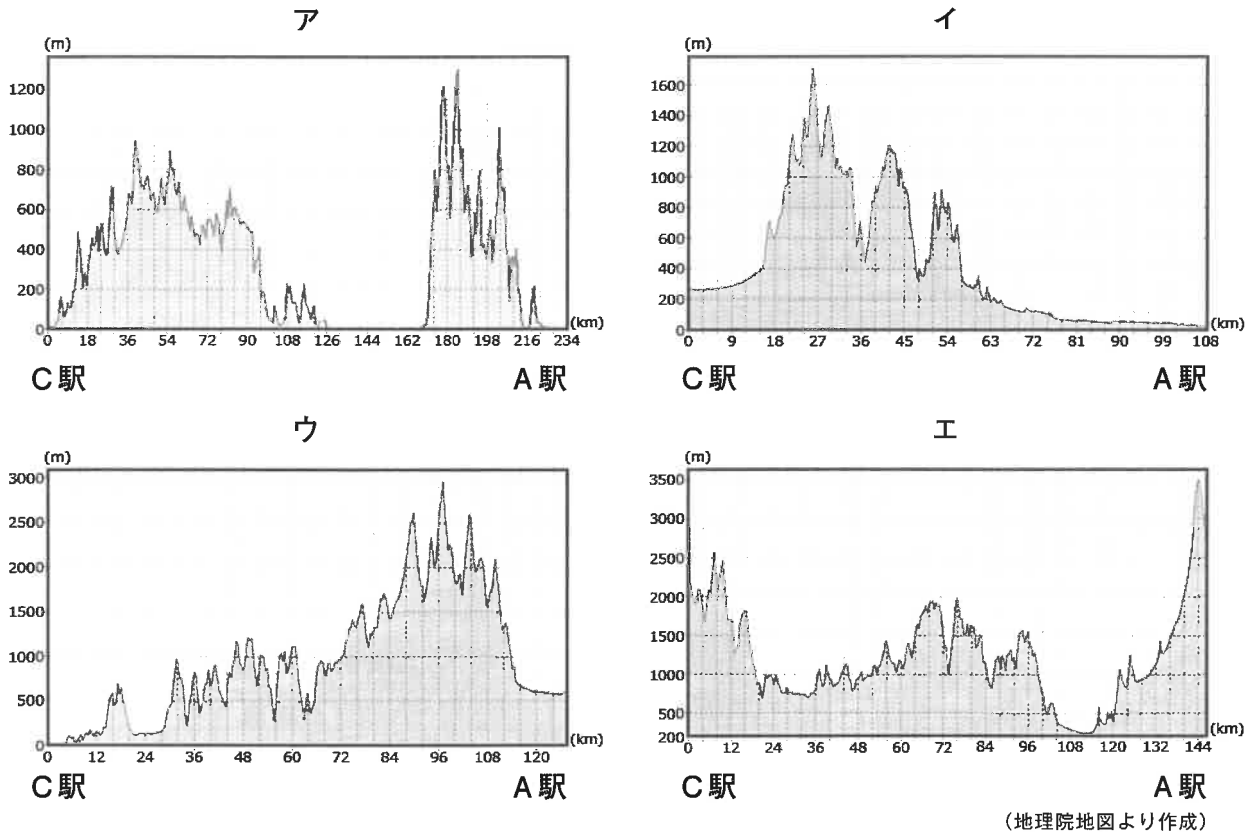
(国立天文台「理科年表 2023」より作成)

説明

- e 冬は北西の季節風がしめった空気を運んできて、雪が多くなり、夏は晴れた日が多く、気温も高くなる。
- f 夏は海から南東の季節風の影響を受け、雨が多くて蒸し暑くなり、冬は北西の季節風が山を越えてふいてくるので、晴れてかんそうした日が多くなる。
- g 夏はすずしく、冬は寒さがきびしくなり、1年を通じて降水量が少なく、梅雨や台風の影響をほとんど受けない。
- h 季節風の影響を受けにくく、1年を通じて降水量が少ないが、夏と冬の気温の差が大きくなっている。

	グラフ	説明
ア	a	e
イ	a	f
ウ	b	g
エ	b	h
オ	c	e
カ	c	f
キ	d	g
ク	d	h

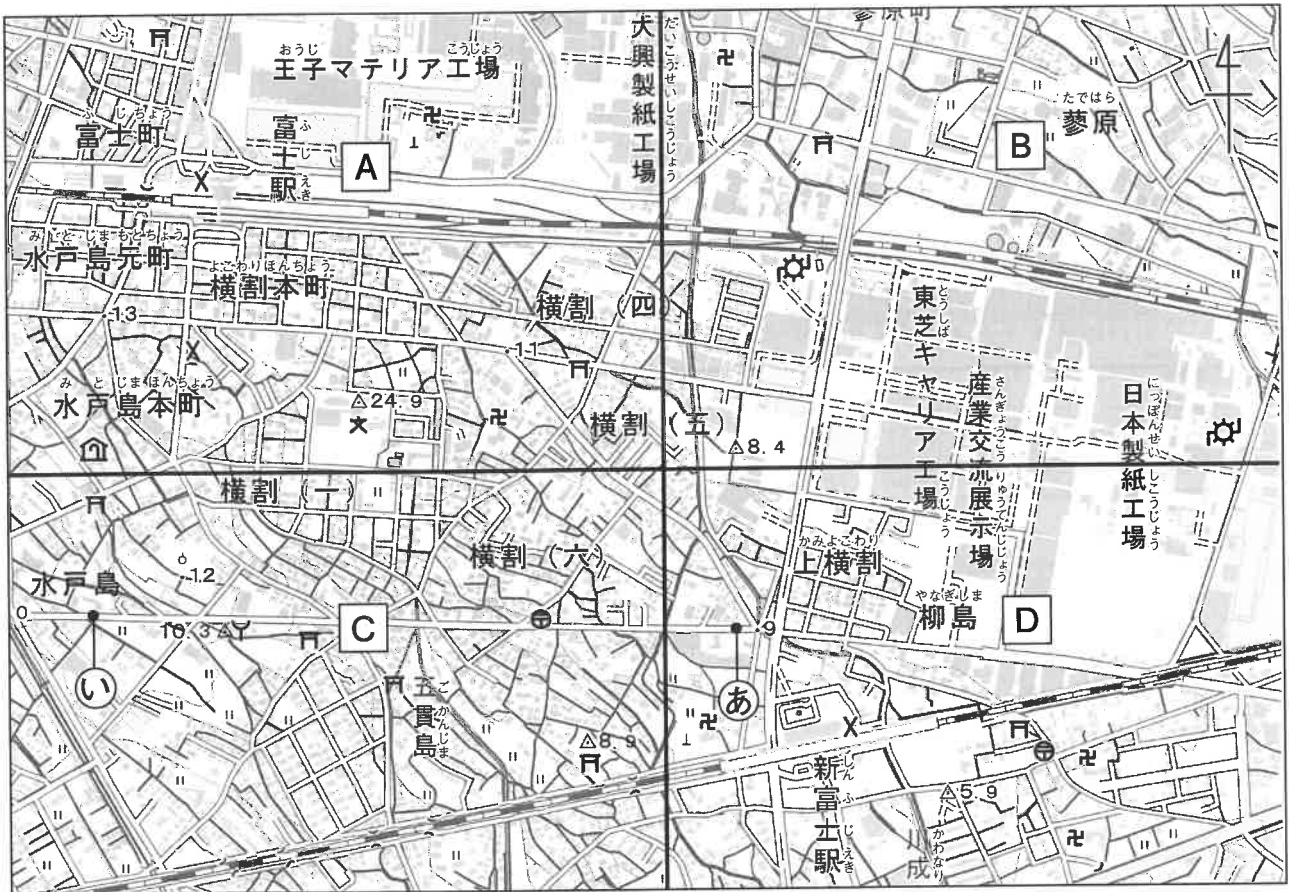
- (3) 地図1のC駅とA駅を結んだ断面図として最も適切なものを、次のア～エから一つ選び、記号で答えなさい。



- (4) 竹男さんは、地図1の地域の遺跡や地域の発展につくした人々について調べました。次のア～エからまちがっているものをすべて選び、記号で答えなさい。
- ア 弥生時代の農耕集落である登呂遺跡がある都道府県には、リニア中央新幹線と東海道新幹線の両方の停車駅がある。
- イ 征夷大將軍に任じられた源頼朝が幕府を開いた鎌倉がある都道府県には、東海道新幹線の新横浜駅がある。
- ウ ペリーが上陸した浦賀がある都道府県には、リニア中央新幹線と東海道新幹線の両方の停車駅がある。
- エ 世界遺産に指定されている富岡製紙場がある都道府県には、リニア中央新幹線と東海道新幹線の両方の停車駅がある。

- (5) 次の地図2は、竹男さんが地図1の東海道新幹線の新富士駅周辺にみられる土地利用について調べたものです。地図2のA～Dは、竹男さんが地図を4つの範囲に区切ったものです。地図2について正しく説明した文を、次のア～エからすべて選び、記号で答えなさい。

地図2



(地理院地図より作成)

- ア Aの範囲にある富士駅からみてDの範囲にある新富士駅は、南東の方向にあり、どちらの範囲にも交番を示す地図記号がある。
- イ Aの範囲内には、富士駅の南西に老人ホームを示す地図記号があり、Cの範囲内には、図書館を示す地図記号がある。
- ウ AとBとDの範囲内には、寺と神社を示す地図記号があるが、Cの範囲内だけは、寺を示す地図記号がない。
- エ Dの範囲内の㊸地点から、Cの範囲内の㊹地点に向かう道路沿いに、最初に確認できる地図記号は、消防署である。

- (6) 次の表は、主な国の鉄道営業キロ数と国土面積をまとめたものです。表から読みとれる内容として、次のア～エからまちがっているものをすべて選び、記号で答えなさい。

表 主な国の鉄道営業キロ数と国土面積 (2021 年)

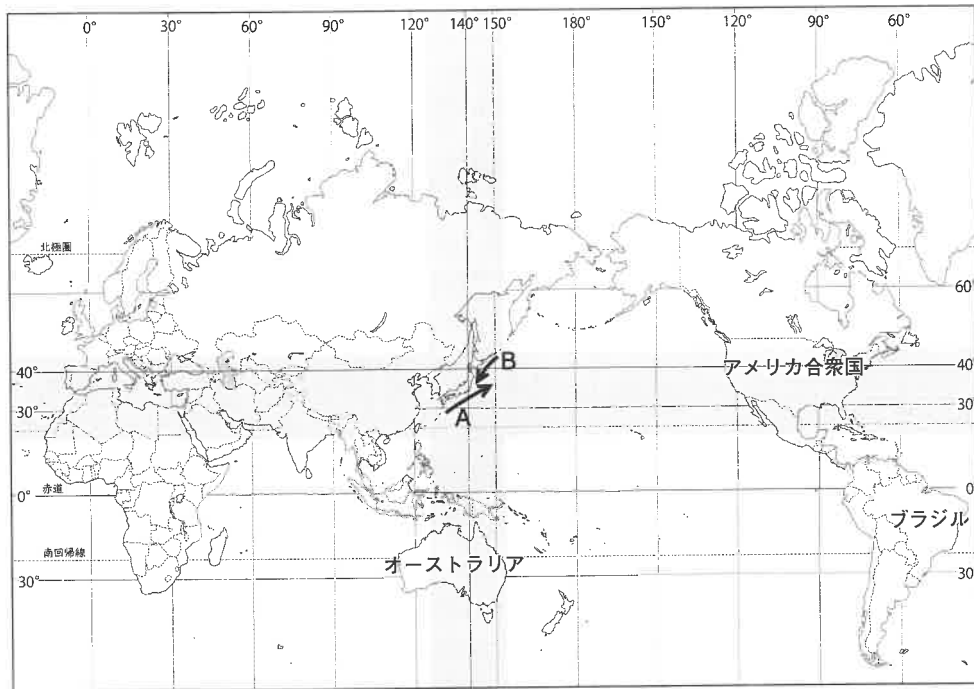
	営業キロ数 (単位 km)	面積 (万km ²)
アメリカ合衆国 ^{がっしゅうこく}	148 553	983.4
中国 ^{ちゅうこく}	109 767	960.0
ロシア	85 544	1709.8
インド	68 103	328.7
カナダ	48 150	998.5
ドイツ	33 401	35.8
ブラジル (2007 年)	32 622	851.0
フランス	27 716	55.2
日本	27 517	37.8
ウクライナ (2020 年)	21 626	60.4
南アフリカ共和国 ^{みなみ きょうわこく}	20 953	122.1
ポーランド	18 620	31.3
アルゼンチン (2019 年)	17 866	279.6
イタリア	17 305	30.2
イギリス	16 179	24.4
カザフスタン	16 006	272.5
スペイン	15 963	50.6
ルーマニア	10 769	23.8
トルコ	10 546	78.4
スウェーデン	9 714	43.9
イラン	9 455	163.1
チェコ	9 357	7.9
ハンガリー	8 037	9.3
パキスタン (2019 年)	7 791	79.6
トルクメニスタン (2018 年)	7 680	48.8
フィンランド	5 918	33.7
インドネシア (2019 年)	5 483	191.1

(世界国勢図会 2023-24 より作成)

- ア 営業キロ数が日本より長い国の中で、日本よりも面積が狭い国はドイツだけである。
また、営業キロ数が日本よりも短い国の中で日本よりも面積が狭い国は、7 か国ある。
- イ 営業キロ数の上位 5 か国は、面積も上位 5 か国となっている。また、営業キロ数の下位 5 か国は、面積も下位 5 か国となっている。
- ウ 中国とインドの営業キロ数を合わせるとアメリカよりも長くなる。また、中国とインドの面積を合わせるとロシアより広くなる。
- エ ルーマニアとトルコの営業キロ数を比べると、ルーマニアの方がわずかに長い。しかし、面積は、ルーマニアはトルコの 3 分の 1 以下となっている。

- 2 竹子さんは、日本と世界の結びつきを調べるため、次の地図をつくりました。これについて、あとの問いに答えなさい。

地図



- (1) 竹子さんは、地図を用いて、日本と世界の国の位置について調べ、次の文章にまとめました。文章中の^ア～^エから、まちがっているものをすべて選び、記号で答えなさい。

地球儀の緯線・経線から、日本と同じ緯度・経度にある国を調べ、^ぬのように塗りました。地図をみると、オーストラリアには、^ア日本と同じ経線が通っていることが分かります。また、オーストラリアは、^イ三大洋のうちの太平洋とインド洋に面しています。ブラジルは、^ウ国土のすべてが東経に位置しています。また、ブラジルは、^エアメリカ合衆国と異なる大陸にあります。

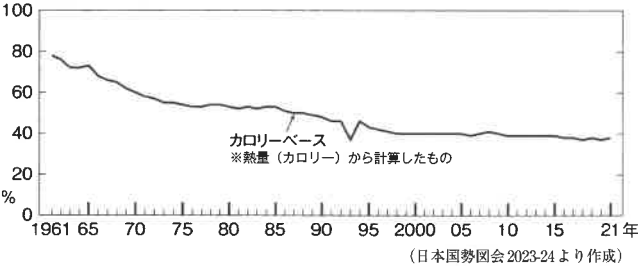
- (2) 竹子さんは、地図中の^Aと^Bの海流について調べ、表にまとめました。^Aと^Bの海流について正しく分類できているものを、表の^ア～^カから一つ選び、記号で答えなさい。

表

	A		B	
^ア	親潮	暖流	黒潮	寒流
^イ	親潮	寒流	黒潮	暖流
^ウ	親潮	寒流	黒潮	寒流
^エ	黒潮	暖流	親潮	寒流
^オ	黒潮	寒流	親潮	暖流
^カ	黒潮	暖流	親潮	暖流

(3) 竹子さんは、日本の食料自給率に関する次の資料1をみつけました。そして、資料1から下のような予想を立てて、さらに資料2と資料3をみつけて考えました。資料から読みとれることとして正しいものを、次のア～エから一つ選び、記号で答えなさい。

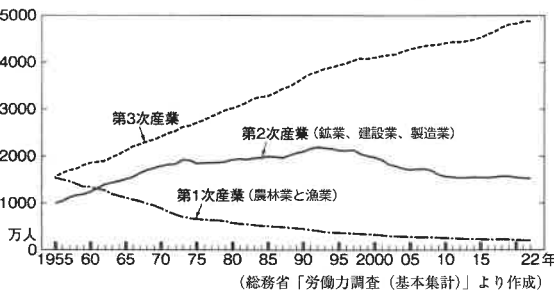
資料1 食料自給率の推移



竹子さんの予想

食料自給率が変化している背景には、食料をつくる仕事についている人の数と、農地の面積の変化と関係がありそうだ。

資料2 産業3部門別の働いている人の数



資料3 国土利用の推移 (単位 万ha)

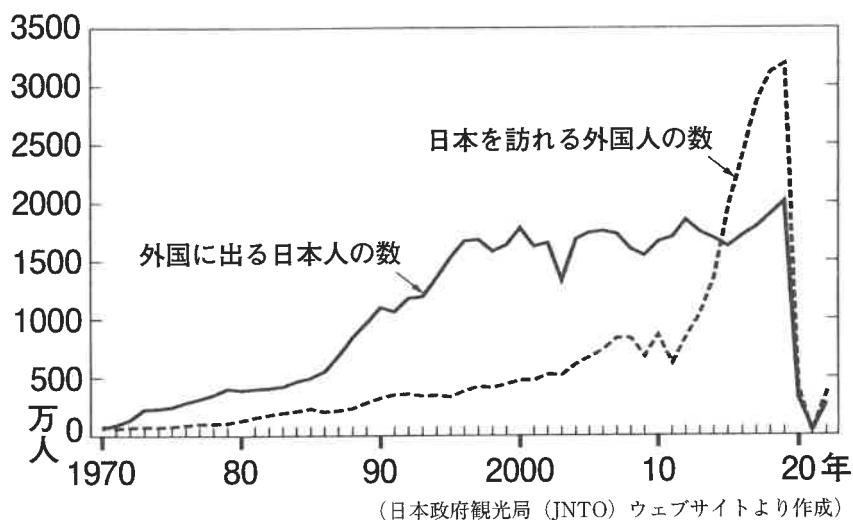
	1970	1980	1990	2000	2010	2020
農地	581	546	524	483	459	437
森林	2 523	2 526	2 524	2 511	2 507	2 503
原野等	88	48	37	34	36	31
水面・河川・水路	111	115	132	135	133	135
道路	88	104	114	127	136	142
宅地	102	140	161	179	190	197
住宅地	81	108	99	107	115	120
工業用地	12	15	16	17	16	16
その他の宅地	9	17	46	55	59	61
計	3 773	3 777	3 777	3 779	3 779	3 780

(国土交通省「土地白書」および総務省統計局「日本長期統計総覧」より作成)

- ア 資料2から、第3次産業の働いている人の数が1955年に比べて2020年は大幅に増えていることが読みとれる。資料3から、国土面積に占める宅地の面積が1970年と比べて、2020年には減少していることが読みとれる。これらのことから資料1の食料自給率が1970年と比べて2020年が下がったことにつながっていると考えられる。
- イ 資料2から、第1次産業の働いている人の数が1955年から1990年まで減り続けていることが読みとれる。資料3から、農地の面積が1970年に比べて、1990年は減少していることが読みとれる。これらのことから資料1の食料自給率が1970年と比べて1990年が下がったことにつながっていると考えられる。
- ウ 資料2から、1970年から2000年にかけて常に、第2次産業で働いている人の数は、第1次産業で働いている人の数よりも多く、第3次産業で働いている人の数よりも少ないことが読みとれる。資料3から、1970年と比べて、2000年は、水面・河川・水路が減少していることが分かる。これらのことから資料1の1970年から2000年の食料自給率の急激な上昇につながっていると考えられる。
- エ 資料2から、1960年から1980年にかけて常に、第2次産業で働く人の数は、第1次産業で働く人の数を上回っていたことが読みとれる。資料3から、1970年と比べて1980年は、森林面積が減り、道路の面積が増えていることが読みとれる。これらのことから資料1の1970年から1980年の食料自給率の大幅な上昇につながっていると考えられる。

- (4) 竹子さんは、2020年に新型コロナウイルス感染症が流行したことから、日本から海外に出ていく人と日本を訪れる外国の人の数に注目して、資料4と資料5を見つけました。資料4と資料5から読みとれることについて正しく述べたものを、次のア～エからすべて選び、記号で答えなさい。

資料4 日本を訪れる外国人の数と外国に出る日本人の数



資料5 日本を訪れる外国人の数（千人）と旅行消費額（億円）

	2018	2019	2020	2021	2022
日本を訪れる外国人の数	31 192	31 882	4 116	246	3 832
韓国	7 539	5 585	488	19	1 013
(台湾)	4 757	4 891	694	5	331
アメリカ合衆国	1 526	1 724	219	20	324
ベトナム	389	495	153	27	284
(香港)	2 208	2 291	346	1	269
タイ	1 132	1 319	220	3	198
中国	8 380	9 594	1 069	42	189
旅行消費額（億円）	45 189	48 135	7 446	1 208	…

（日本政府観光局（JNTO）ウェブサイト（法務省「出入国管理統計」にもとづく）、観光庁「訪日外国人消費動向調査」より作成）

- ア 資料4から、2015年以降、日本を訪れる外国人の数は、外国に出る日本人の数を上回っていたが、2020年には両方とも大幅に減少した。資料5から、2020年の旅行消費額は、2019年の約半分に減少した。
- イ 資料4から、1970年と比べて2019年は、日本を訪れる外国人の数が大幅に増えたが、外国に出る日本人の数をはじめて上回ったのは2010年から2019年のあいだであった。資料5から、日本を訪れる外国人の数はどの国も、2020年は2019年の半分以下に減少した。
- ウ 資料4から、日本を訪れる外国人の数と外国に出る日本人の数が2019年にはどちらも過去最大であった。資料5から、中国から日本を訪れる外国人の数は、他の国と比べて、2018年以降も常に最大である。
- エ 資料4から、2019年から2020年にかけて日本を訪れる外国人の数も外国に出る日本人の数も、大幅に減少した。資料5から、2020年の旅行消費額は、2019年の約6分の1よりも少ない額に減少した。

- 3** 竹男さんと早子さんのクラスでは、8つの班^{はん}にわかれて、歴史の学習をふり返り、調べてきたことを整理して新聞をつくりました。次の表1は、それぞれの班^{たんどう}が担当した記事をまとめたものです。あとの問いに答えなさい。

表1

班	見出し	内 容	班	見出し	内 容
1 班	天皇 ^{てんのう} の力の広がり	大化の改新によって豪族 ^{ごうぞく} が支配していた土地や人々は、国のものになり、①都 ^{みやこ} が奈良につくられ、国を治めるための法律 ^{ほうりつ} もできました。	5 班	日本風の文化が生まれる	平安時代に A が停止されてからも中国文化の影響をうけながら、貴族 ^{きぞく} のはなやかなくらしの中でこれまでとはちがう独自の文化が生まれました。
2 班	武士が治める時代へ	② 鎌倉時代 ^{しやうぐん} 、将軍 ^{しやうぐん} を助ける執権 ^{しつけん} の職についた北条氏 ^{ほうじやう} が政治を行うようになると、北条泰時 ^{やすとき} は、③ 武士 ^{さいばん} の裁判 ^{さいばん} の基準 ^{きじゆん} となる法律をつくりました。	6 班	キリスト教の伝来	1549年、イエズス会の宣教師 ^{せんきやうし} B が、⑤ キリスト教 ^{かこしき} を伝えるために鹿児島に上陸し、このころからポルトガルやスペインの商人もやってきて貿易を行うようになりました。
3 班	国会が開かれる	1889年に、大日本帝国憲法 ^{だいにっぽんていこくけんぽう} が公布 ^{はつぷ} され、その翌年 ^{よくねん} には④ 初めての衆議院議員選挙 ^{しゆぎいんぎいんせんきよ} が行われて、第1回の帝国議会が開かれました。	7 班	将軍による支配の安定	江戸幕府 ^{えど} は⑥ 全国 ^{ぜんこく} の大名を取りしまるきまりを定め、それに反した大名が取りつぶされたりました。3代将軍徳川家光 ^{とくがわいえみつ} のころに、⑦ 大名が行列 ^{ぎやうれつ} を組んで領地 ^{りやうち} と江戸との間を行き来する制度が整えられました。
4 班	X	労働者や農民は生活 ^{かいぜん} の改善や権利 ^{けんり} の拡大 ^{かくだい} を求めて組合をつくり、平塚 ^{ひらつか} らいてうは女性の自由と権利の拡大を目指す運動を続けました。また、身分制度がなくなっても差別に苦しんでいた人々は C をつくり、差別をなくす運動を広げていきました。	8 班	戦争のない世界をめざして	1945(昭和20)年、世界の平和を守るしくみとして国際連合 ^{こくさいれんごう} がつくられました。日本は、1951年、アメリカの⑧ サンフランシスコ ^{さんふらんしんこ} で開かれた講和会議 ^{こうわかいぎ} で世界の48か国と平和条約 ^{じやうやく} を結び、翌年に独立を回復しました。また、同じ日に D 条約が結ばれ、独立後もアメリカ軍が日本の基地にとどまることになりました。

(1) 表1の下線部①都が奈良につくられ、国を治めるための法律について正しく述べたものを、次のア～エからすべて選び、記号で答えなさい。

ア 中国にならって、平城京^{へいじょうきやう}という日本で最初の本格的な都が飛鳥^{あすか}（奈良県）につくられ、710年には藤原京^{ふじわらきやう}に都が移され国の政治を行う役所や多くの寺院が建てられた。


イ 人々には国から農地が貸し与えられ、農民は税として稲や特産物を納めるほかに、都の役所や寺などをつくる工事で働いたり、都や北海道^{ほっかいどう}の守りについたりした。

ウ 都には各地から多くの産物が運ばれ、それらの管理のために、今でいう手紙や書類の代わりとして、木簡^{もっかん}という木の札^{ふだ}が使われていた。

エ 都のにぎわいを支える地方の人々の生活はとても厳しく、重い税の負担^{きび}や遠くはなれた所で働いたりする負担にたえかねて、土地をすててにげる者もでてきた。

(2) 次の資料1は表1の下線部②鎌倉時代のころにおこったできごとを描いたものです。このできごとについて述べた次のア～エからまちがっているものをすべて選び、記号で答えなさい。

資料1



ア この絵に描かれているのは日本にせめてきた元^{げん}の大軍で、むかえうつ幕府の執権、北条時宗^{ときむね}は、御家人^{ごけにん}たちを九州に集めて守りを固めるために石^{いし}るいをつくらせて戦った。

イ 元の大軍は2度にわたって九州北部に攻めてきたが、幕府の御家人たちは苦戦しながらも火薬兵器を使って集団戦法を用いて命がけで戦った。

ウ 幕府の御家人であった竹崎季長^{たけざきすえなが}は、元軍との戦いで先頭に立っていさましく戦ったようすを描かせ、その手がらをうったえることで領地をあたえられた。

エ この戦いのあと、御家人たちは命がけで元と戦ったが、幕府からご恩^{おん}として領地をもらうことができたのはほんのわずかの者たちであったので、幕府への不満が高まることになった。

- (3) 表1の下線部③武士の裁判の基準となる法律と⑥全国の大名を取りしめるきまりをそれぞれ何というか。その組み合わせとして正しいものを、次のア～エから一つ選び、記号で答えなさい。

	③	⑥
ア	大宝律令 <small>たいほうりつりょう</small>	武家諸法度 <small>ぶけしよはつと</small>
イ	御成敗式目 <small>ごせいばいしきもく</small>	武家諸法度
ウ	大宝律令	御成敗式目
エ	武家諸法度	御成敗式目

- (4) 表1の下線部④初めての衆議院議員選挙が行われて、第1回の帝国議会が開かれましたについて、当時の選挙や議会について述べた次のア～エからまちがっているものをすべて選び、記号で答えなさい。

ア 投票することが認められた有権者は、日本の総人口の1.1%程度であった。

イ 国会の開設にそなえて、板垣退助は自由党、大隈重信は立憲改進黨という政党をつくった。

ウ 第1回の帝国議会が開かれたとき、国民によって選ばれた議員からなる衆議院と、天皇が任命する参議院の二院制であった。

エ 大日本帝国憲法では、主権は天皇にあり、天皇が大臣を任命し、軍隊を統率した。言論の自由などの国民の権利も法律の範囲内で認められていた。

- (5) 表1の4班の見出し X について、次の資料2・3を参考にして、見出しを考えて書きなさい。

資料2



演説する山田孝野次郎 (1924年)

資料3



普通選挙の実現を求める人々のデモ行進 (1920年 東京・日本橋)

- (6) 表1の **A** ～ **C** にあてはまる語句の組み合わせとして正しいものを、次のア～エから一つ選び、記号で答えなさい。

	A	B	C
ア	遣隋使 ^{けんずいし}	フランシスコ・ザビエル	国際連盟 ^{れんめい}
イ	遣隋使	ペリー	全国水平社 ^{ぜんこくすいへいしゃ}
ウ	遣唐使 ^{けんとうし}	フランシスコ・ザビエル	全国水平社
エ	遣唐使	ペリー	国際連盟

- (7) 表1の下線部⑤キリスト教と日本とのかかわりについて述べた次のア～エからまちがっているものをすべて選び、記号で答えなさい。

- ア 織田信長は、抵抗^{ていこう}していた仏教勢力を武力でおさえこみ、キリスト教に対しては保護して、教会や学校をたてることを認めた。
- イ 豊臣秀吉は、はじめはキリスト教を保護していたが、全国统一のさまたげになると考えるようになり、宣教師の国外追放や外国商船の来航もいっさい禁止した。
- ウ 江戸幕府は、キリスト教信者の勢力が団結して幕府に従^{したが}わなくなることをおそれ、キリスト教を禁止し、キリスト教徒を発見するためにふみ絵をふませるなどして取り締まりを強めた。
- エ キリスト教徒たちは、重い年貢^{ねんぐ}の取り立てとキリスト教に対する取りしまりに反発して一揆^{いっき}をおこした。九州の島原（長崎県）や天草（熊本県）で天草四郎^{しろ}（益田時貞^{ますだときさだ}）を中心にして抵抗したが、幕府は大軍を送ってようやくおさえた。

- (8) 次の資料4～6を手がかりにして、表1の下線部⑥全国の大名を取りしまるきまりと⑦大名が行列を組んで領地と江戸との間を行き来する制度について述べた次のア～エからまちがっているものを一つ選び、記号で答えなさい。

資料4 大名が領地と江戸との間を行き来する日数

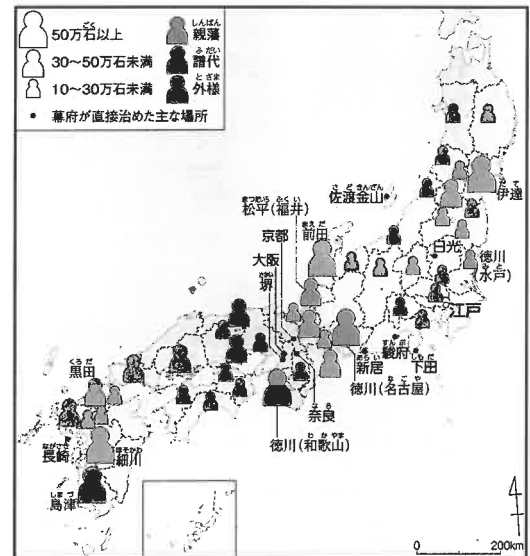


資料5 加賀藩(石川県)の支出の割合

京都・大阪での費用5.5



資料6 主な大名の配置 (1664年)



- ア 大名は将軍から命じられた江戸城の建設やさまざまな土木工事の費用や労力を負担しており、大名にとって、江戸での生活は多くの費用がかかるものであった。
- イ 江戸に通じる街道を大名がおおぜいの家臣を連れていき、江戸と京都を結ぶ東海道など、主な街道が整備され、旅人や荷物、手紙を運ぶ飛脚が行き来した。
- ウ 大名は、1年おきに江戸のやしきにすまわされ、妻と子どもは江戸のやしきでくらすことを義務づけられた。
- エ 江戸幕府は全国の大名を徳川家の親類である親藩、関ヶ原の戦いの後で従った大名である譜代、関ヶ原の戦い以前からの家臣である外様の三つに区別して、幕府にとって都合のよい地域に配置していた。

- (9) 表1の下線部⑧サンフランシスコで開かれた講和会議で世界の48か国と平和条約を結びについて述べた次のア～エからまちがっているものを一つ選び、記号で答えなさい。

- ア 日本は朝鮮の独立を認める。
- イ 日本は台湾、千島列島、樺太の南半分などを放棄する。
- ウ 日本は沖縄、奄美諸島、小笠原諸島は、アメリカが治めることに同意する。
- エ 日本の独立と同時に国際連合への加盟を認める。

- (10) 表1の D にあてはまる語句を、漢字6文字で答えなさい。

- 4 次の文章は、昨年(2023年)9月1日の新聞記事です。これを読んで、あとの問いに答えなさい。

約10万5千人の死者、行方不明者を出した関東大震災の発生から今日で100年をむかえた。政府は①「防災の日」のこの日、首都直下地震を想定し、②岸田文雄首相らが出席する防災訓練を実施した。東京都内では犠牲者をいたむ※法要が営まれ、各地で③理由もなく殺された朝鮮人らの追悼式もあった。これまでにない大きな災害を教訓に、いつ起こるか分からない巨大地震への備えが改めて求められる。

※法要=なくなった人をしのんで、お経を唱えたり、花や線香を供える儀式

〈東京新聞2023年9月1日付け夕刊の記事による〉

- (1) 下線部①「防災の日」について、防災に対する備えには、都道府県や市町村の住民からの税金が使われています。防災に限らず、市町村がおこなう政治や税金とその使い道について述べた、次のア～エからまちがっているものをすべて選び、記号で答えなさい。

ア 消防署の仕事は、火事が起こったときの消火活動のほか、地域の住民に火災予防を呼びかけたり、防火や救助の訓練を指導したりすることであるが、消防署の消防士以外は火災の消火活動をすることができない。

イ 子育て支援など福祉を進めるための施設をつくる場合、住民の意見を聞きながら計画を進めるが、その費用は住民からの税金のほか、国や都道府県からの補助金を受けることもできる。

ウ 風水害など災害が起こった市町村では、人命救助を第一にして、被害状況を確認しながら避難所を設置したり、被災した住民のために、水や食料などの支援物資の配給などにあたるが、国の支援は受けられない。

エ 福島県にある原子力発電所の事故がおこったため、住民に避難を呼びかけ、避難先での生活を支援したり、放射性物質を取り除く作業を行ったが、それらは関係する市町村が独自に行い、国からの支援は行われていない。

- (2) 下線部②岸田文雄首相について、首相(内閣総理大臣)を指名する手続きについて正しく述べたものを、次のア～エから一つ選び、記号で答えなさい。

ア だれでもなりたいたい人に対して、すべての国民による投票で決める。

イ 国会議員のなかから、ふさわしいと思う人に国民が投票して決める。

ウ 国会議員のなかから、ふさわしいと思う人を国会議員の中で投票して決める。

エ 国会議員の中から、ふさわしいと思う人を天皇が指名する。

(3) 首相は国務大臣を任命して、内閣をつくります。内閣の仕事について、次のア～オからまちがっているものをすべて選び、記号で答えなさい。

ア 国会の召集^{しゅうしゅう}を決める

イ 参議院の解散を決める

ウ 国の予算^{しゅうにゅう}（収入と支出^{ししゅつ}）を議決する

エ 外国との条約を結ぶ

オ 憲法改正の発議^{はつぎ}をする

(4) 下線部③理由もなく殺された朝鮮人^{あつが}について、当時や現在でも日本にいる外国人や少数民族の人々に対して差別的な扱いが問題になっています。現在の日本国憲法では、だれもが自由で平等に暮らせることを認めていますが、それは日本国憲法の3原則^{げんそく}のうち、どの原則にもとづくものか、答えなさい。

(5) 100年前のこの出来事のすぐ後、1925年には、国民の選挙権^{かくたい}が拡大されることが決まりました。この時の選挙権が認められた条件として正しいものを、次のア～カから一つ選び、記号で答えなさい。

ア 満18歳^{さい}以上のすべての男子

イ 満18歳以上のすべての男女

ウ 満20歳以上のすべての男子

エ 満20歳以上のすべての男女

オ 満25歳以上のすべての男子

カ 満25歳以上のすべての男女

これで 社会科の問題は終わりです

受験番号	氏 名

社 会

※印には何も書かないこと

1

(1)	(2)	(3)	(4)	(5)	(6)

2

(1)	(2)	(3)	(4)

※

--

3

(1)	(2)	(3)	(4)

※

--

(5)

(6)	(7)	(8)	(9)	(10)

(6文字)

4

(1)	(2)	(3)

(4)	(5)

※

--