

1 次の文章を読んで、1～11の問いに答えなさい。

湘南白百合学園には a 北海道函館市、岩手県盛岡市、宮城県仙台市、東京都千代田区、神奈川県箱根町、熊本県八代市に姉妹校があります。1878年に函館にフランスから3人の修道女がやってきて、キリスト教のカトリックに基づく学校を全国につくっていきました。

函館市には路面電車があります。b 近年、路面電車の役割は見直されており、富山市などでは路面電車を活用した町づくりがされています。岩手県や宮城県の沿岸部にはリアス海岸が広がっており、c 養殖が盛んです。熊本県八代市は d 農業が盛んで、特に e 畳に使う作物の生産量は日本で最も多いです。

八代市は日本三大急流の一つ、球磨川の下流域に位置します。2020年7月に日本各地で発生した集中豪雨の際に球磨川は12か所ではらんを起し、記録に残っている球磨川水害で最大の被害をもたらしました。f 気象庁は熊本県を含め全国7県に g 特別警報を出して警戒を呼びかけました。私たちはつねに h 自然災害に対する意識を高め、備えておく必要があります。

2019年11月、カトリックで最も地位の高い聖職者であるローマ教皇が日本を訪れました。ローマ教皇は i 被爆地である j 長崎と広島を訪れました。長崎では「人の心にある最も深い望みの一つは、平和と安定への望みです。核兵器や大量破壊兵器を保有することは、この望みへの最良の答えではありません。」と訴えました。日本はアジア太平洋戦争が終わってから戦争をしていませんが、k すべてのひとが同じ社会に共に生きる人間として平和に暮らせるように、私たちに何ができるか考えてゆきたいですね。

1. 下線部 a について、次の問いに答えなさい。

(1) 次のうち、道庁や県庁の所在地に新幹線の駅がない道県を1つ選びなさい。

- ア. 北海道 イ. 岩手県 ウ. 宮城県 エ. 熊本県

(2) 次のうち、世界遺産が存在しない道県を1つ選びなさい。

- ア. 北海道 イ. 岩手県 ウ. 宮城県 エ. 熊本県

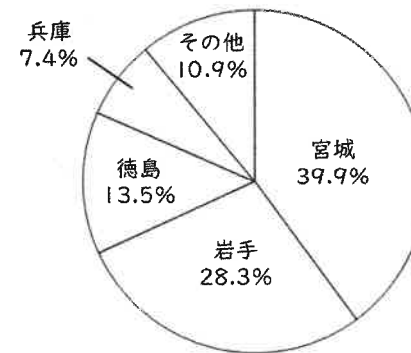
2. 下線部 b について、次の問いに答えなさい。

(1) 路面電車は自動車と比べて、地球温暖化を防ぐという点から環境に優しいとされています。それはなぜか、解答欄にあう答えを漢字5文字で答えなさい。

(2) 宇都宮市では、2022年の開業に向けてLRTという次世代の路面電車を新しく建設しています。宇都宮市は何県の県庁所在地か答えなさい。

3. 下線部 c に関連し、養殖や漁業に関する次の問いに答えなさい。

(1) 次のグラフは、養殖で育てられたある水産物の都道府県別の生産量の割合を示したものです。この水産物は何か、記号で答えなさい。



(令和元年漁業・養殖業生産統計(農林水産省)より作成)

- ア. ほたて イ. かき ウ. わかめ エ. こんぶ

(2) スーパーなどで次のようなラベルを見ることが増えてきました。これを海のエコラベルと言います。魚は獲りすぎると、やがて獲れなくなってしまいます。近年、将来にわたって魚を獲り、食べることができるように、資源の管理や海の環境にも配慮した漁業を行うべきだという考えが広がっており、このラベルは適切な漁業によって獲られた水産物であることを示しています。ラベルの空欄部分には、このような漁業を表す言葉が入ります。空欄に入る言葉を、漢字4文字で答えなさい。



4. 下線部 d について、次の問いに答えなさい。

(1) 農作物の生産には、さまざまな工夫がされています。きゅうりを生産するときに行われている工夫について説明したものはどれですか、次の中から選んで記号で答えなさい。

- ア. 収穫したあとカントリーエレベーターで保管し、全国に出荷する
- イ. 夜でも電灯を当てながら、一番良い値段で売れる時期に出荷する
- ウ. 冬でも暖かい気候を利用して、市場に出回る量が少ない冬に出荷する
- エ. 夏でも涼しい気候を生かして、市場に出回る量が少ない夏に出荷する

(2) 地球温暖化が進むと、農業にも影響が出ると考えられています。みかんとりんごでは、どちらの方が温暖化が進むことで今よりも栽培に適した場所が少なくなると考えられるか答えなさい。

(3) 次の あ～う は、東京の市場、大阪の市場、福岡の市場における、きゅうりとじゃがいもの取引量の割合を、生産地の都道府県別に表したものです。これを見て次の問いに答えなさい。

(2018年)

	あ		い		う	
	生産地	(%)	生産地	(%)	生産地	(%)
きゅうり	福岡	33.1	群馬	16.6	佐賀	53.0
	佐賀	22.8	埼玉	16.0	鹿児島	10.3
	熊本	17.1	福島	13.9	福島	6.9
	鹿児島	13.1	宮崎	11.9	愛媛	4.5
	長崎	6.9	千葉	10.4	高知	3.8
	その他	7.0	その他	31.2	その他	21.5
じゃがいも	北海道	45.9	北海道	54.3	北海道	50.6
	長崎	27.3	鹿児島	18.3	長崎	22.8
	鹿児島	20.3	長崎	16.3	鹿児島	22.6
	その他	6.5	その他	11.1	その他	4.0

(東京中央卸売市場市場統計情報(月報・年報)、大阪府中央卸売市場年報、福岡市中央卸売市場成果年報より作成)

① 東京の市場の取引量を表したものは あ～う のうちどれか答えなさい。

② じゃがいもはどの市場でも取引量の割合が高い生産地が同じです。この3つの生産地にはじゃがいもの生産に適した土地の共通点があります。それを次の中から選んで記号で答えなさい。

- ア. 下流に大規模な平野をつくる大きな川がある
- イ. 近くを流れる寒流の影響で、海から冷たい風が吹く
- ウ. 海に面しているところに、大きな砂丘がある
- エ. 水はけの良い土をつくる火山がある

5. 下線部 e について、この作物は何か答えなさい。

6. 下線部 f について、気象庁は国の防災事業に関わる省に属しています。それはどこの省ですか、次の中から選んで記号で答えなさい。

- ア. 環境省
- イ. 防衛省
- ウ. 厚生労働省
- エ. 国土交通省

7. 下線部 g について、特別警報とは、大雨、暴風、大雪など6種類の現象で、重大な災害の起こるおそれが著しく高まったときに出される警報のことです。警報が出された対象地域の住民は、「ただちに【 】を守る行動をとる」ように呼びかけられます。【 】に入る漢字を1字答えなさい。

8. 下線部 h について、自然災害が起きた場合の被災予想などを知らせる地図のことを何といいますか、カタカナで答えなさい。

9. 下線部 i について、学校の授業で「なぜ広島や長崎が攻撃されたのか」を地図を使って説明するとき、地図に書き込むとよいものを、次の中から2つ選び、五十音順で答えなさい。

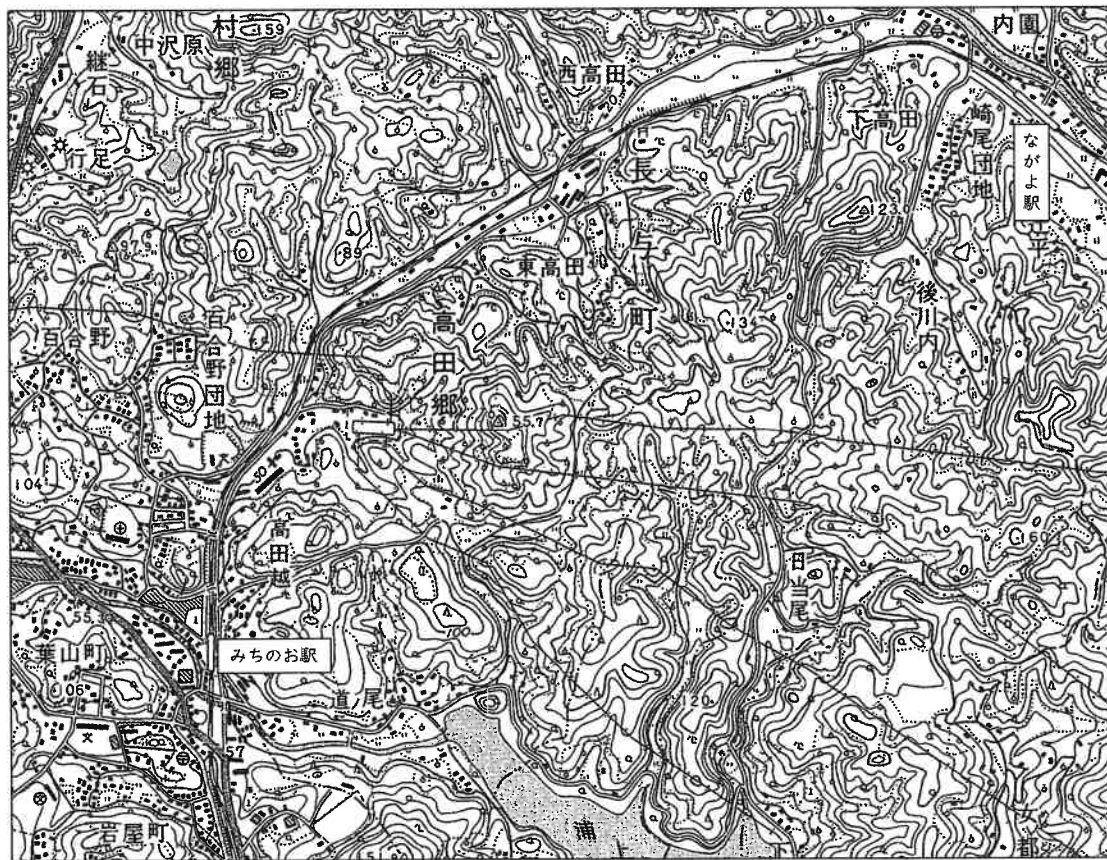
- ア. 学校の場所
- イ. 軍の施設の場所
- ウ. お寺や神社の場所
- エ. 工場の場所
- オ. 銀行の場所

10. 下線部 J について、次の問いに答えなさい。

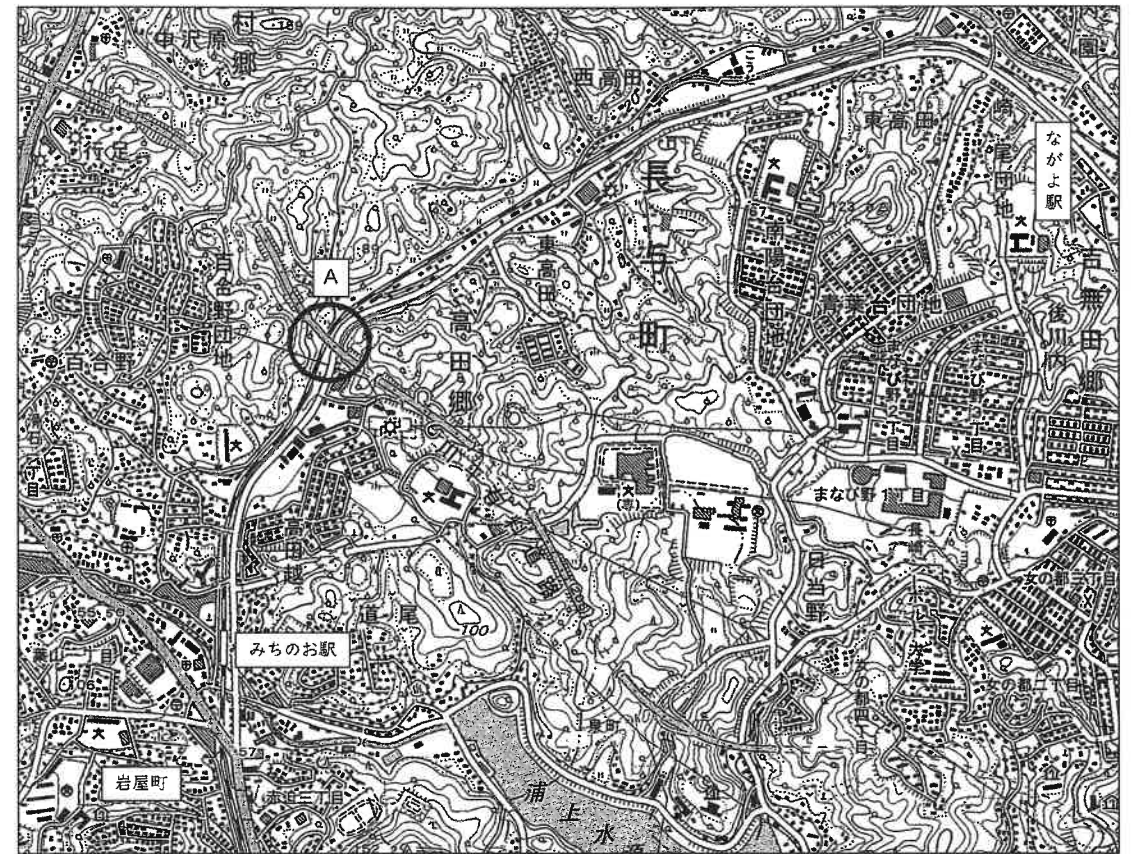
(1) 次の地図 1 は 1970 年の、地図 2 は 2009 年の長崎市郊外の同じ場所の 2 万 5 千分の 1 地形図です。次のうち、地形図から読み取れることとして正しいものを 1 つ選びなさい。

- ア. みちのお駅の南西、岩屋町付近には、高等学校の隣に新たに博物館が建設された
- イ. 新たに作られた有料道路は、地点 A 付近で JR 線の下をくぐっている
- ウ. みちのお駅とながよ駅の間にあった駅は 1970 年から 2009 年の間に廃止された
- エ. ながよ駅の南西にある南陽台団地や青葉台団地は、山を切り崩して作られた

地図 1 (日本地図センター『地図で見る長崎の変遷』より作成)








地図 2 (1 : 25,000 「長崎西北部」 2009 年発行より作成)



- (2) 東京から長崎まで船と飛行機を使わずに行くときに、必ず通過する県が 4 つあります。兵庫県、山口県、福岡県ともう 1 つは何県か答えなさい。
- (3) 長崎県にある諫早湾を含む有明海沿岸では、干潟や浅瀬など海の一部を堤防で囲み、排水することで陸地を増やしてきました。このような方法を何というか答えなさい。

11. 下線部 **k** について、近年、いろいろな国から観光客や留学生などが日本を訪れています。また、外国にルーツがある人もたくさん暮らしています。日本の地図記号の中には、こうした人たちにわかりづらいものもたくさんあります。そこで、国土地理院では外国人にわかりやすい地図記号を作りました。例えば、郵便局や交番は図のように、わかりやすい地図記号が作られました。

現在は「小中学校」には外国人にわかりやすい地図記号はありません。あなたが、「小中学校」を表す外国人にわかりやすい地図記号を作るとしたら、どのような記号を作りますか。考えた地図記号と由来を解答用紙に書きなさい。

地図記号	由来	外国人にわかりやすい地図記号	由来
	郵便を取り扱っていた通信省の頭文字「テ」を図にした。		封筒の形を表す絵文字。
	警棒を交差させた形。		警官が敬礼する姿に建物の枠。
	文字を習う場所から。		

2 次の文章を読んで、1～16の問いに答えなさい。



上の絵画は、**a** 葛飾北斎が描いた「琉球八景」のうちの一つです。「琉球八景」には琉球の景勝地が描かれており、1832年に制作されました。その年は、**b** 琉球から江戸へ使節が送られ、江戸では **c** 琉球関連の出版物が多く出回るなど関心が高まっていました。葛飾北斎は琉球を訪れたことはありませんでしたが、他の書物を参考に「琉球八景」を制作しました。

1832年の琉球ブームとともに流行したのが当時「琉球風」と呼ばれたインフルエンザでした。そこで、人の往来と病気の歴史について、次のⅠ～Ⅳの文章に時系列でまとめました。

【Ⅰ】 **d** 縄文時代や弥生時代の人々が苦しんだ病気は、骨を調べることで知ることができます。縄文人には、その生活の特性から骨折が多くみられます。一方、感染して重症化すると骨に跡が残る結核は、弥生時代から始まったと言われます。この病気は、結核菌という細菌が体の中に入って増えることでおこる病気で、大陸からもたらされたと言われています。**e** 弥生時代にはむら同士の争いが起こるようになり、それとともに様々な病気が広がりました。


【Ⅱ】 奈良時代の735年には天然痘という病気が大流行しました。この年には新羅からの使節が都にやってきました。中国へ渡った使節が、中国やペルシアからの人を連れて帰国するなど、**f** 大陸との往来が盛んでしたが、同じ頃から大宰府から疫病が流行し始めました。病気などによる社会の不安を仏教の力でしずめようとし、大仏を造立したのが（あ）天皇です。この天皇の頃、**g** 中国から6度目の航海でようやく来日した（い）は、仏教のみならず医薬に詳しく、かつたことでも知られています。

【Ⅲ】 1858年にアメリカとの間でh(う)条約を結び、さらにiヨーロッパの国々とも同様の条約を結びました。この条約が結ばれる少し前、上海から長崎に入港したアメリカ船の船員がコレラという病気に感染していました。そして長崎から関西、江戸へとまたたく間に感染が広がりました。コレラの流行で、人々の中には日本を外国に開放したからだと考える者も増え、j外国の勢力を追いはらおうという動きを刺激しました。

【Ⅳ】 ペストはkペスト菌による感染症で、ヨーロッパで大流行が繰り返され、皮膚が黒くなって亡くなるため、「黒死病」として恐れられてきました。日本では、l1899年に流行し、港で厳重な防疫体制を敷いてもペストが発生するため、政府は古着や古紙などの輸入禁止の措置を取りました。しかし、m紡績業は日本にとって重要な産業であったため、綿花はその対象にはなりませんでした。

- 文中の空欄(あ)～(う)にあてはまる語をそれぞれ答えなさい。
- 下線部aについて、この人物が描いた絵画は次のうちどれですか。正しいものを次から1つ選び、記号で答えなさい。


ア



イ



ウ



エ



- 下線部bに関連して、江戸時代には琉球から幕府へ計18回使節が送られました。その目的の一つとして正しいものを次から1つ選び、記号で答えなさい。
 - 一年おきに江戸のやしきに住み、将軍に対して服従の態度を示すため
 - 幕府に領地の支配を認めてもらう代わりに、江戸を警護するため
 - 調という税として課されていた、地方の特産品や布を江戸まで運ぶため
 - 幕府の将軍の代替わりに、お祝いのあいさつをするため
- 下線部cに関連して、鎖国のなかでの対外関係について、誤っているものを次から1つ選び記号で答えなさい。
 - 蝦夷地のアイヌの人々は不正な取引に不満を持ち、シャクシャインを指導者に松前藩と戦った
 - 薩摩藩は琉球王国を征服すると、琉球王国が中国と貿易を行うことを禁止させた
 - 出島ではオランダとの貿易が行われ、決められた日本人しか出入りできなかった
 - 朝鮮との交流の窓口になった対馬藩は、プサンにある倭館へ役人を送って朝鮮と貿易を行った
- 下線部dについて、縄文時代の大規模な集落跡が発見された、青森県の遺跡の名前を答えなさい。
- 下線部eについて、なぜそのようなことが分かるのですか。証拠として考えられないものを次から1つ選び、記号で答えなさい。
 - 大きな堀やさくで囲まれた集落の跡が発見されているから
 - 大型化した矢じりを用いた、人を殺す武器としての弓矢が発見されているから
 - 弥生時代につくられた『日本書紀』に、争いがあったことが書き記されているから
 - 武器で傷つけられたと思われる人骨が大量に出土しているから

7. 下線部 f について、この時期に大陸との往来が盛んだった様子をあらわす資料として適切なものはどれですか。正しいものを次から1つ選び、記号で答えなさい。

ア



イ



ウ

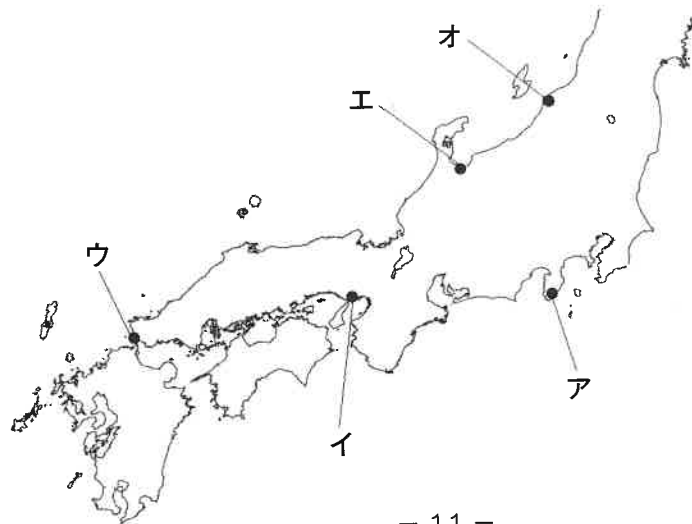


エ



8. 下線部 g について、(い) が開いた寺院名を答えなさい。

9. 下線部 h について、この条約によって新たに開港された場所を、下の地図中より2カ所選び、五十音順に記号で答えなさい。



10. 下線部 i について、これらの条約締結より後に描かれた下の2枚の絵を見て、次のア～ウの文章を読み、正しいものを1つ選びなさい。全て誤っている場合はエと解答しなさい。

①ノルマントン号事件についての風刺画



②「日本の裁判官の前で」という風刺画



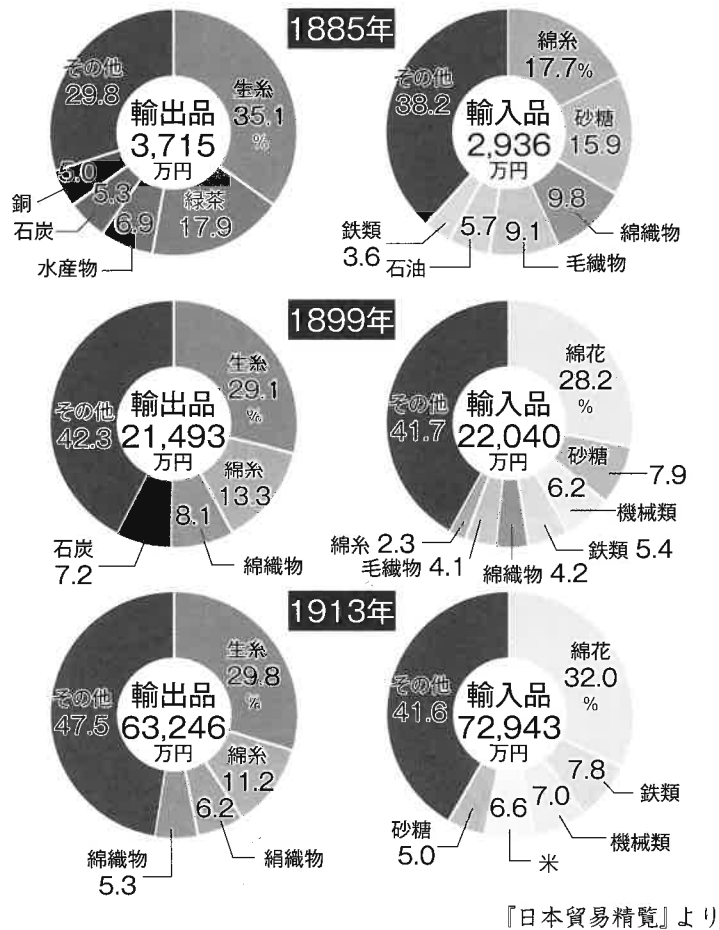
- ア. ①で描かれた事件後に日本が関税自主権を確立したため、②では日本の裁判官に外国人が裁かれている
- イ. ①で描かれた事件後、助かったイギリス人船長は、②の風刺画のように日本人の裁判官によって裁かれた
- ウ. ②の絵の状況に反発した欧米諸国によって条約改正が行われたので、①の絵で描かれた事件では、船長には軽い罰が与えられたのみだった

11. 下線部 j に関連して、このような動きが高まった幕末、そして明治時代のできごとを記した下のア～オの文章のうち、内容が正しいものを3つ選び、時期が早い順に記号で並べかえなさい。

- ア. 長州藩の坂本龍馬が仲立ちをし、薩摩藩の西郷隆盛と土佐藩の桂小五郎が同盟を結んだ
- イ. 西郷隆盛が不満を持つ士族の中心となって西南戦争をおこした
- ウ. 学制によって、6才以上の男子だけが小学校に通うことが定められた
- エ. 新政府は新しい政治の方針を、明治天皇の名で五か条の御誓文として示した
- オ. ドイツの憲法を参考にして作られた大日本帝国憲法が發布された

12. 下線部 **k** について、ペスト菌や破傷風の治療の仕方を発見し、感染症の研究所をつくった日本人の人物名を答えなさい。

13. 下線部 **l** に関連して、下のグラフは 1899 年前後の日本の貿易における輸出入品の割合やその総額を示したものです。グラフを説明した文①・②を見て、文①のみ正しければア、文②のみ正しければイ、文①・②ともに正しければウ、文①・②ともに誤っていればエと答えなさい。



- ① 日清戦争以降、綿花を輸入して綿糸を輸出するようになった。
 ② 1913年の生糸の輸出額は、1885年の生糸の輸出額の8倍以上になった

14. 下線部 **m** について、産業をさかんにし、富国強兵をおしすすめようとした政策を何と言いますか、漢字4字で答えなさい。

15. 次のア～エは、文【Ⅱ】と【Ⅲ】の間の時代のできごとを記したものです。時期が早い順に記号で並べかえなさい。

- ア. 朝廷が幕府をたおす命令を全国に出したが、幕府のもとに集まった御家人たちにより朝廷軍は破られ、幕府の力が西国にまでおよんだ
- イ. 幕府は、武家諸法度という決まりを定め、これにそむいた大名は、他の土地に移されたり、領地を取り上げられたりした
- ウ. 将軍は明との貿易を行うとともに、能を大成した観阿弥・世阿弥父子を支援するなど文化や芸術の保護を行った
- エ. 太閤検地が行われ、村ごとに田畑の面積を測り、土地の良し悪しや耕作している人々の名前が記された

16. 次の文は、糖尿病に苦しんでいたとされる歴史上の人物について記したものです。文を読み、後の問いに答えなさい。

『源氏物語』の光源氏のモデルとも言われる【 】は、「この世をば わが世とぞ思ふ望月の 欠けたることも無しと思へば」という歌をよんで栄華を極めました。一方で糖尿病による様々な症状に苦しみました。n織田信長もまた、糖尿病に苦しんだ歴史上の人物として知られています。

- (1) 【 】にあてはまる人物名を答えなさい。
- (2) 下線部 **n** の人物について記した次の文のうち、正しいものを1つ選びなさい。
 - ア. キリスト教をはじめは保護していたが、全国統一の妨げになると考え、やがて宣教師を国外追放した
 - イ. 足利氏の将軍を追放して室町幕府をほろぼすと、天皇から征夷大將軍に任命された
 - ウ. 村に住む人々が一揆を起こさないよう、刀狩令を出して刀や鉄砲などの武器を取り上げた
 - エ. 安土に城を築き、城下では市場の税をなくし、商人たちがだれでも自由に営業することを認めた

3 それぞれ別々の小学校に通っているしょうさん、みなみさん、ゆりこさんが2020年を振り返って話をしています。会話文を読んで、1～7の問いに答えなさい。

しょうさん：「去年はとにかく、学校の登校日が少なかったね。僕の学校は早めに再開したから、授業はほとんど遅れずに済むみたい。みなみさんは、7月頃まで休校が続いていたよね？」

みなみさん：「うん。だけど家のパソコンでオンライン授業を受けていたから **a** 学習自体は家で続けられていたよ。」

ゆりこさん：「私も家で学習できていたけどお母さんが近くでテレビを見ていて集中できなかったわ。何か法律の改正についてのニュースだったかしら。」

しょうさん：「検察庁法の改正案についてかな。検察庁は、法務大臣の監督を受ける機関で、罪を犯した疑いのある人を調べて、(あ) 権を持つ **b** 裁判所に訴えるという仕事があるよ。」

みなみさん：「詳しいね。ワイドショーでは、(い) 権を持つ **c** 内閣の介入によって検察官の独立性が損なわれる、ということ言っていたよ。」

しょうさん：「そうだね。ところで、2020年を振り返ってみると夏に祝日が集中していたみたいだね。」

みなみさん：「実は2020年だけ祝日をもともの日付からずらしたそうよ。 **d** オリンピックの開催を受けて『国民の祝日に関する法律』を改正したんだね。」

ゆりこさん：「なるほど、国会の(う) 権に基づいて **e** 法律を改正することで祝日をずらすことができたということね。」

みなみさん：「その通り。ただ、延期になってしまったから国会では2021年も引き続き祝日をずらすことが決定したよ。」

しょうさん：「オリンピックには **f** 多額の費用がかかっているけれど、再延期を主張する声も聞いたよ。感染症がどれだけ猛威をふるったか、歴史に残る一年になってしまったね。」

- 文中の(あ)～(う)にあてはまる適切な語句をそれぞれ漢字二字で答えなさい。
- 下線部 **a** について、日本国憲法に定められる基本的人権の中には、教育を受ける権利があります。以下の基本的人権の尊重に関するア～エの文章で、正しいものを次から全て選び五十音順で答えなさい。
 - 日本国憲法第14条によれば、男女の差別は認められない
 - 国民はだれでも裁判を受ける権利が認められている
 - 健康で文化的な最低限度の生活を営む権利のことを、環境権という
 - 国民は14歳になると、刑法で罰せられるようになるが、同時に選挙で投票をすることも認められるようになる
- 下線部 **b** について、一度の訴えに対して三回まで裁判ができる制度を何といいますか。
- 下線部 **c** について、次の(1)、(2)に答えなさい。
 - 内閣が指揮監督する様々な省庁のうち、中学校の学習内容を決めているのは主に文部科学省です。文部科学省に関して、適切なものを次から1つ選びなさい。
 - 国務大臣の一人である文部科学大臣は内閣総理大臣によって任命される
 - 文部科学大臣をはじめ全ての国務大臣に国会議員は任命されない
 - 歴史教育に力を入れるため、宮内庁は文部科学省の下に設置されている
 - 国の一年間の支出のうち最も大きな割合を占めているのは教育関係の費用で社会保障の費用は最も少ない
 - 内閣を構成する内閣総理大臣を含めすべての国務大臣によって行われる、政治の基本方針を決める会議を何といいますか。
- 下線部 **d** について、オリンピックは「平和の祭典」とも呼ばれていますが、日本国憲法には「平和主義」の規定があります。この規定から発展して示された、「非核三原則」にあてはまらないものを次から1つ選びなさい。
 - もちこませない
 - つかわない
 - もたない
 - つくらない

6. 下線部 e について、法律の改正も法律の制定時と同様の手続きで行われますが、法律の制定手続きに関する以下の各文について、正しいものには○を、誤っているものには×を書きなさい。

- ア. 法律の制定については衆議院のみで話し合われる
- イ. 法律はまず本会議で話し合い、その後委員会で可決されると成立する
- ウ. 法律案は国会議員だけでなく、内閣からも提出することができる
- エ. 新しく成立した法律は、天皇によって公布される

7. 下線部 f について、国民の納める税金がオリンピックの費用に使われています。これについて、次の (1)、(2) に答えなさい。

(1) 税金を納めることは憲法に定められた「納税の義務」に基づいています。憲法に定められる国民の義務に関する文 AB の正誤の組み合わせとして正しいものを次から 1 つ選びなさい。

- A. しょうさんは 18 歳^{さい}になったら選挙に行く義務がある
- B. みなみさんは中学校まで学校に通う義務がある

- ア. A: 正 B: 正 イ. A: 正 B: 誤
- ウ. A: 誤 B: 正 エ. A: 誤 B: 誤

(2) 税金と私たちがかわりに関する文として正しいものを次から 1 つ選びなさい。

- ア. 国民は税金を、国と都道府県には納めるが、市区町村には納めない
- イ. 市区町村の予算は、その市区町村のある都道府県の議会で決められる
- ウ. 災害の復興に税金を使うことはできない
- エ. 選挙の実施^{じっし}には税金が使われている

1

1	(1)		(2)	
2	(1)	自動車よりも		の排出量が少ないから。
	(2)			
3	(1)		(2)	
4	(1)		(2)	(3) ①
				(3) ②
5		6		7
8		9	.	
10	(1)	(2)		(3)
11	外国人にわかりやすい 地図記号		由来	

2

1	あ		い		う
2		3		4	
5			6		7
8		9	.		10

2 -11

11		→	→		12			
13			14			15		
						→	→	→
16	(1)				(2)			

3

1	あ		い		う				
2			3						
4	(1)		(2)						
5		6	ア		イ		ウ		エ
7	(1)		(2)						

受験番号		氏名	
------	--	----	--

得点	
----	--