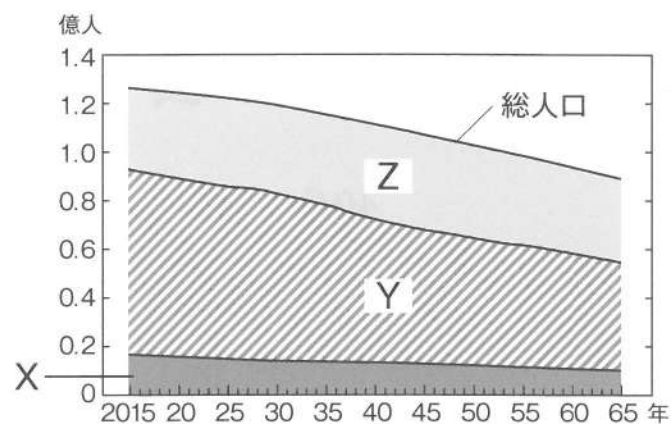


1 次の文章と資料を見て、1～4の問いに答えなさい。

平成29年度の統計によると、ア日本の総人口は前年に比べ、22万7千人の減少であった。反面、イ世界の総人口は、今後も増え続けることが予測されている。

1. 下線部アについて、次の資料1のX～Zは、「0歳から14歳」「15歳から64歳」「65歳以上」の年齢層のいずれかを表しています。「0歳から14歳」を表しているのはどれですか、X～Zから選び記号で答えなさい。

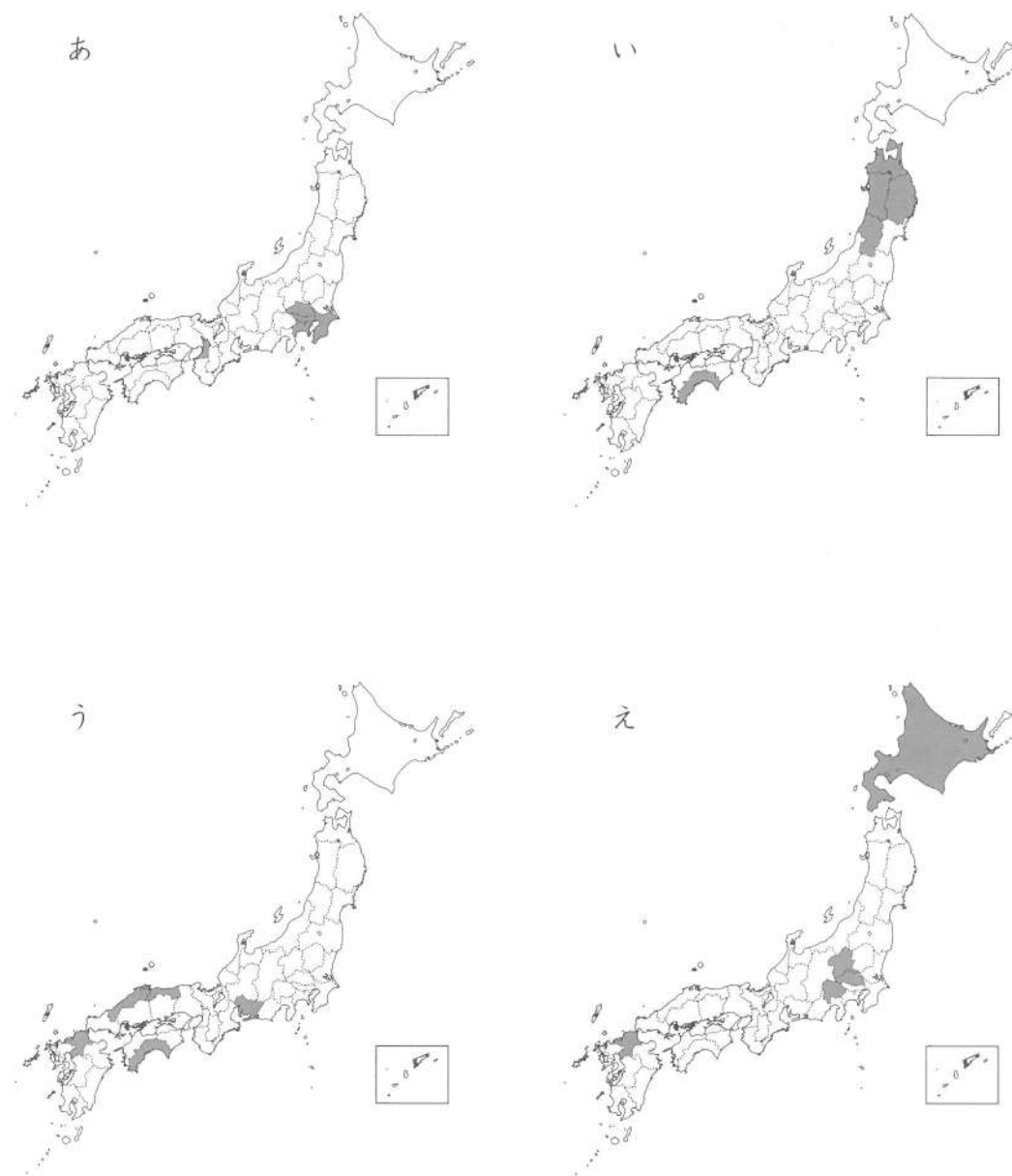
資料1 将来人口の動き



「日本国勢図会 2018/19」より作成

2. 人口減少が問題となる一方、過密が問題となっている都市もあります。過密問題としてふさわしくないものを1つ選び、記号で答えなさい。
 あ) 交通渋滞 (じゅうたい) い) 土地の値段が下がる う) 騒音 (そうおん) え) ごみの増加

3. 次のあ～えの地図から、平成28年に比べて平成29年の人口減少が著しい都道府県上位5位がぬりつぶされた地図として適当なものを選び、記号で答えなさい。



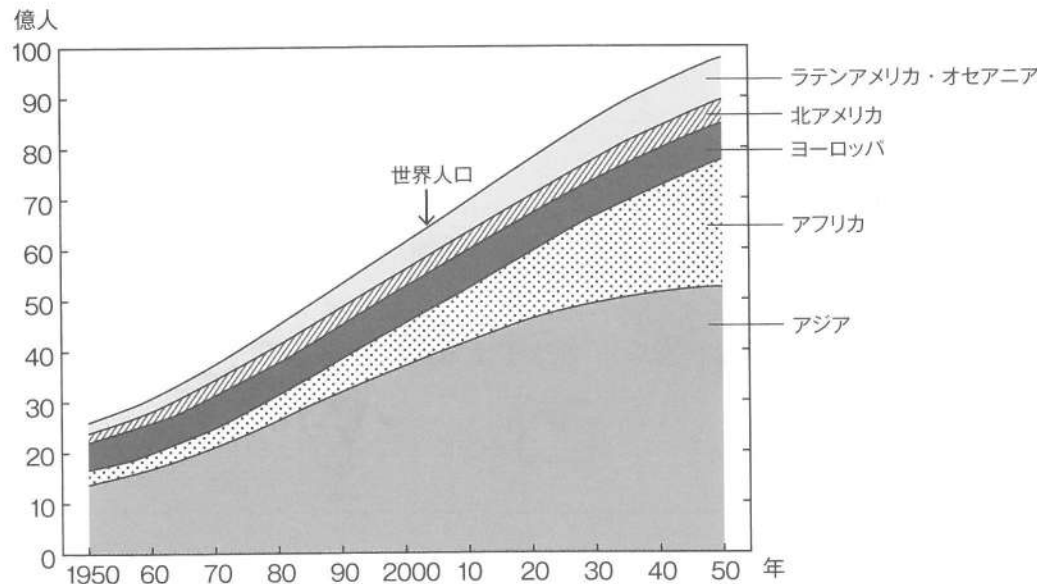
4. 下線部イについて、次の資料2・3・4を見ながら、問①・②に答えなさい。

資料2 人口・面積が上位の国々

| 世界の人口(%) | | 世界の面積(%) | |
|----------|------|----------|------|
| 中国 | 18.7 | ロシア | 12.6 |
| インド | 17.7 | カナダ | 7.3 |
| アメリカ | 4.3 | アメリカ | 7.2 |
| インドネシア | 3.5 | 中国 | 7.1 |
| ブラジル | 2.8 | ブラジル | 6.3 |
| パキスタン | 2.6 | オーストラリア | 5.6 |
| ナイジェリア | 2.5 | インド | 2.4 |
| バングラデシュ | 2.2 | アルゼンチン | 2 |
| ロシア | 1.9 | カザフスタン | 2 |
| メキシコ | 1.7 | アルジェリア | 1.7 |
| 日本 | 1.7 | その他 | 45.8 |
| その他 | 40.4 | 合計 | 100 |
| 合計 | 100 | | |

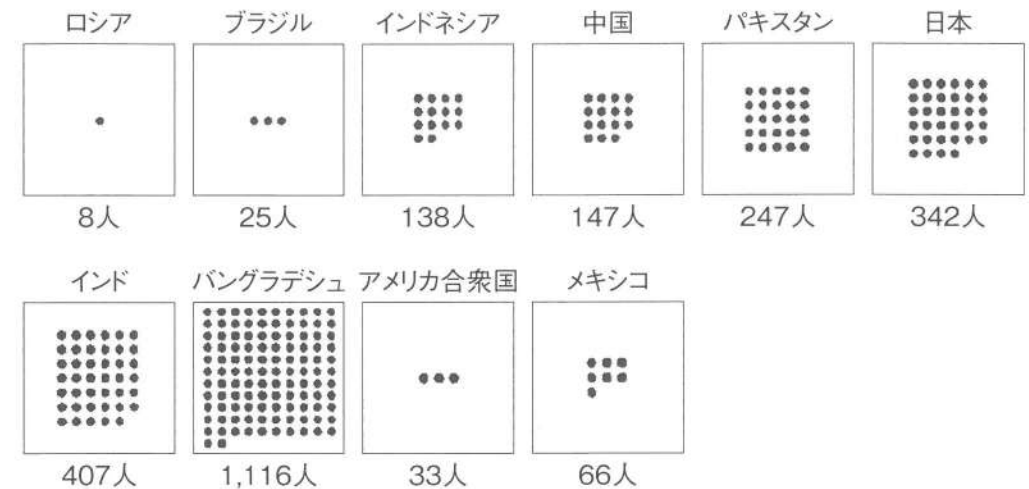
「世界国勢図会 2017/18」より作成

資料3 地域別の人口の推移と予測



「世界国勢図会 2017/18」より作成

資料4 世界の人口密度 (1km²あたり)



「世界国勢図会 2017/18」より作成

問① 次の文の空欄 (a) ~ (d) にふさわしい数字を考え、あ〜くからそれぞれ選び、答えなさい。

- ・日本の人口は世界の人口の約1.7%を占めるので、インドの人口の約(a)分の1と言えるが、世界的にみると人口が多いほうである。
- ・世界の国の総面積は13,620万km²であるので、そこから考えると、中国の面積は日本の面積の約(b)倍である。
- ・世界の人口は現在、(c)億人を超えたが、上位の3か国で全体の約(d)%を占める。

あ) 10 い) 25 う) 30 え) 40 お) 55 か) 65 き) 75 く) 80

問② 次の各文のうち、資料2~4から読み取れることとして正しいものを選び、記号で答えなさい。複数ある場合は、五十音順に答えなさい。

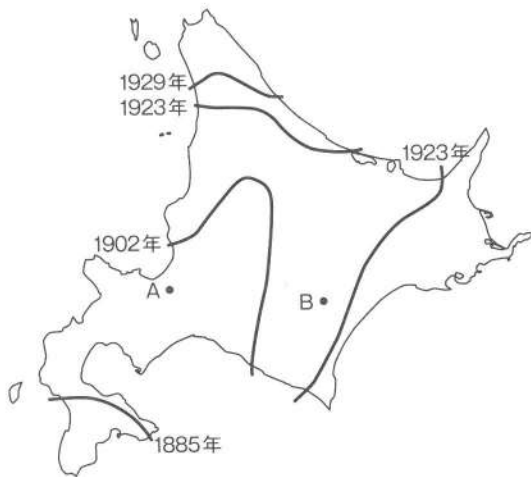
- あ. 地域別に見たとき、現在最も人口が多いのはアジアである
- い. 地域別に見たとき、今後人口増加率が最も急激に高くなると予測されるのは北アメリカである
- う. 面積の広い国上位10か国は、いずれも北半球にある
- え. 世界人口は、2040年に現在の約1.5倍になると予測されている
- お. 面積が広い国ほど、人口密度が低いとは言えない

2 次の文章と資料を見て、1～3の問いに答えなさい。

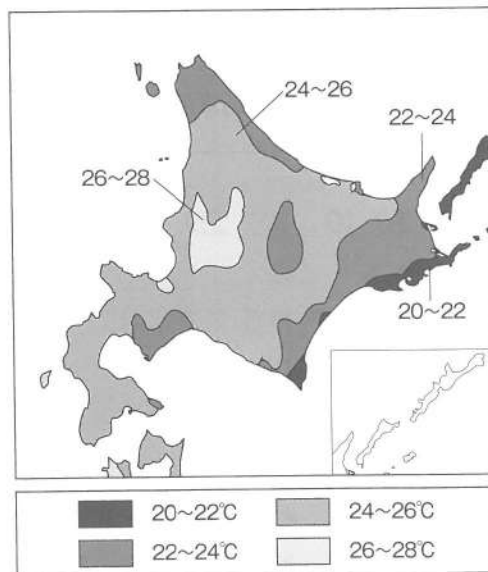
気温が低く、泥炭地が広がる北海道は、もともとはア 稲作に不向きな土地柄であり、米よりも小麦の栽培が奨励されていた時代もあった。しかし、日本人にとって米は大切な作物であり、様々な工夫を重ねてイ 資料1のように稲作の栽培範囲を広げてきた。結果、現在は(ウ)県に次ぐ、米の生産地になっている。

- 下線部アに関連して、現在の北海道で栽培されている主な作物としてふさわしくないものを1つ選び記号で選びなさい。
あ) たまねぎ い) かぼちゃ う) さとうきび え) にんじん
- 空欄(ウ)にあてはまる県名を答えなさい。
- ① 【資料1】のA地点とB地点では、どちらが先に稲作が可能となったのか記号で答えなさい。
② 下線部イについて、稲作の栽培範囲を広げることが出来た理由として考えられることを、【資料1】と【資料2】をもとに説明しなさい

【資料1】
「米を栽培できる限界線の変化」



【資料2】
「8月の1日の最高気温の平均」



帝国書院地理シリーズ『日本の姿⑦北海道』より作成 札幌管区気象台 HP「北海道の四季・夏」より作成

3 次のあ～えの各文が説明するそれぞれの県について、1～7の問いに答えなさい。

- あーこの県には、日本でもっとも広い湖である(A)がある。この湖は釧路湿原などとともに、水鳥がえさをとる湿地と、湿地にすむ動植物を保護することを目的としたア 条約に登録されている。
- いーこの県の孺恋村は、キャベツやレタスなどの高原野菜の栽培が盛んである。夏の涼しい気候を生かし、出荷時期を遅らせるイ 抑制栽培が行われている。
- うーこの県は、気仙沼、石巻など水揚げ量の多い漁港があり、北海道に次ぐ漁業生産量を誇る。ウ 三陸海岸は、エ 複雑に入り組んだ海岸線となっており、好漁場である一方、津波の影響を受けやすい。
- えーこの県は、四大工業地帯のひとつである(B)工業地帯の一部として発展したが、エネルギー革命による石炭産業の衰退で地位が低下した。その後1 C工場が増え、この県を含む地域は(C)アイランドと呼ばれている。

- 空欄(A)～(C)にあてはまる語句を答えなさい。
- あ～うの各文それぞれの県の県庁所在地を答えなさい。
- 下線アの条約名を答えなさい。
- 下線イとは逆に、旬より早くつくる栽培方法を何というか答えなさい。
- 下線ウの付近は、黒潮と親潮がぶつかる潮境があります。そのうち親潮の海流名を答えなさい。
- 下線エの海岸線を何というか答えなさい。

7. 次の地形図は (A) に流れ込む安曇川が表されています。問①・②に答えなさい。



- 問① この地形図でみられる河口に出来る扇形^{おうぎ}の地形を答えなさい。
- 問② 次の各文のうち、下線部が正しいものを選び、記号で答えなさい。複数ある場合は、五十音順に答えなさい。
- ア. 安曇川は、この地形図の南東から北西に向けて流れている
 - イ. この地形図上の「II」は水田を表す地図記号である
 - ウ. この地形図では等高線が密集していないが、これは土地の高低差が大きいことを示している
 - エ. 一般的に問①の地形は、水もちがよい土地となる

4 次の写真について、1～3の問いに答えなさい。

(あ)



(い)



1. (あ)は何という文化財ですか。
2. 次の文のうち、(あ)の説明としてふさわしくないものを1つ選び、記号で答えなさい。
 - ア. 食べ物がたくさんとれるように祈ってつくられた
 - イ. 女性をかたどったものが多い
 - ウ. 墓にほうむられた人物の家臣や召使をかたどっていることが多い
 - エ. 体の一部をわざと欠いたりしたものが多い
3. (い)がつくられたのと同じ時代のものとしてもっともふさわしいものを次の写真から1つ選び、記号で答えなさい。

ア



イ



ウ



エ



- 5 次の【一】～【四】の写真・絵とその説明の文章を見て、それぞれの問いに答えなさい。

【一】



写真の中の○で囲んだところにならんでいる5つの小さな石の塔は、ア 1275年に日本に来た「ある国」の5人の使者をとむらったものといわれています。この使者は、日本に服属するように求めたのですが、イ 当時の幕府の実権をにぎっていた執権の（ウ）は、彼らをすぐ近くの幕府の西の方にある刑場で処刑し、その国に対して服属する意志がないことをしめしました。エ この前年、ある国は九州北部を襲っています。


1. 下線部アの「ある国」とはどこのことですか。当時の国名を漢字1字で答えなさい。
2. 下線部イの「幕府」とは何幕府ですか。
3. この幕府の時代のように正しいものを次のうちから選び、記号で答えなさい。複数ある場合は、五十音順に答えなさい。
 - あ) 地頭は皆、京都に住むことになっていた
 - い) 守護は皆、江戸と自分の領地を1年ごとに行ったり来たりすることになっていた
 - う) この時代の武士は、「やぐら」のある門をもった武家造の家に住むものが多かった
 - え) 将軍と御家人は「御恩」と「奉公」で結ばれていた
 - お) この幕府の3代将軍は、京都の北山に金閣をつくった

4. 空欄（ウ）にあてはまる人名を答えなさい。
5. 下線部エで、この「ある国」が日本を襲った時に使って幕府軍を困らせた、火薬を用いた武器を何といいますか。ひらがなで答えなさい。
6. この「ある国」は、もう1回日本を襲っています。それは西暦何年ですか。

【二】①



②



この①②は、神奈川県横須賀市に立っている石碑の表と裏の写真です。この石碑は オある国からカ ○d「1853」年に来日した使節の上陸を記念して、のちの1901（明治34）年に上陸の地の近くに建てられたものです。この記念碑の表の字は、○b「伊藤博文」が書きました。

7. 下線部オの「ある国」とはどこのことですか。
8. 下線部カの「使節」の名前は、石碑の中の○aと○cに書かれています。その「使節」の名前をカタカナで書きなさい。
9. 次の各文のうち、8の人物について述べた各文のうち正しいものを選び、記号で答えなさい。複数ある場合は、五十音順に答えなさい。
 - ア. 彼はこの地に来航する前に、琉球へ立ち寄ってきた
 - イ. 彼が持ってきた大統領の手紙には、開国を要求する内容が書いてあった
 - ウ. 彼が来航したこの「1853」年から、日本との貿易が始まり日本は開国した
 - エ. 彼は、最初に来航した翌年、長崎・新潟・兵庫などを開港するという内容をふくんだ条約を日本と結んだ
 - オ. 彼が最初に来航した翌年に日本と結んだ条約では、日本に関税自主権が認められていなかった
10. ○bの人物について述べた各文のうち、正しいものを選び、時代の早い順に記号で並べかえなさい。
 - あ) 薩摩藩に生まれ、幕末は大久保利通とともに薩長同盟を結ぶことに努めた
 - い) 内閣制度ができた時、初代総理大臣になった
 - う) 大日本帝国憲法が公布された時の総理大臣であった
 - え) 憲法をつくるために、ヨーロッパへ行き憲法の調査と研究をした
 - お) 不平等条約を改正するため、岩倉具視を団長とする使節団のメンバーとして欧米に派遣された

【三】



この絵は、江戸時代、将軍の代替わりの時にお祝いにやってくる キ外国の使節が江戸へ来た時の様子です。この使節は多い時は500人にもものぼり、江戸へ行く途中の各地で歓迎を受けました。日本の文化人たちも宿舎を訪れて学問や芸術などの教えを受け交流をもったといわれています。

11. この絵に描かれた使節を何といいますか。
12. この使節はもともと、前の時代に日本とそのキ外国がおこなった戦争で相手国の捕虜になった者を交換する目的で来日したものでした。その戦争があった時、日本の実質的統治をしていた人物は誰ですか。次のうちから選び、記号で答えなさい。
 - あ) 織田信長 い) 豊臣秀吉 う) 徳川家康 え) 徳川家光
13. 日本とこのキ外国のその後の歴史にかかわることについて、次のできごとを年代の早い順に記号で答えなさい。
 - あ) 日韓基本条約を結び、大韓民国と国交を回復した
 - い) 大韓民国は北側にある同じ民族の国から攻め込まれて戦争になったが、日本の経済は、この戦争でアメリカ軍から多くの注文を受けたことによって多くの利益を得た
 - う) 日本は大韓帝国を併合し、植民地として統治した

【四】



これは、昔、筑紫の鴻臚館とよばれた施設の遺跡が発掘されたところの写真です。現在の福岡市にあります。鴻臚館は ア 平安時代、イ 平安京・難波・筑紫の三カ所に設置された外交施設です。

9世紀前半までは、筑紫の鴻臚館は、唐や新羅の使節を接待・宿泊させる迎賓館であり、また、遣唐使や遣新羅使が旅支度を整えるところでした。

14. 下線部ア 平安時代のできごとを次から選び、記号で答えなさい。複数ある場合は、五十音順に答えなさい。

- あ) 大宝律令が完成した
- い) 紫式部が『源氏物語』を書いた
- う) 藤原氏が摂政や関白として政治の実権を握っていた
- え) 鑑真が唐から来日した
- お) 全国の国分寺の頂点にあたる東大寺に大仏がつくられた

15. 下線部イ 平安京のあった場所はどこですか。現在の府県を地図の中から選び、記号で答えなさい。



6

これは、江戸幕府が開国後につくった西洋式の城です。中心部には奉行所と役人の住まいがありました。この城についてあとの問いに答えなさい。

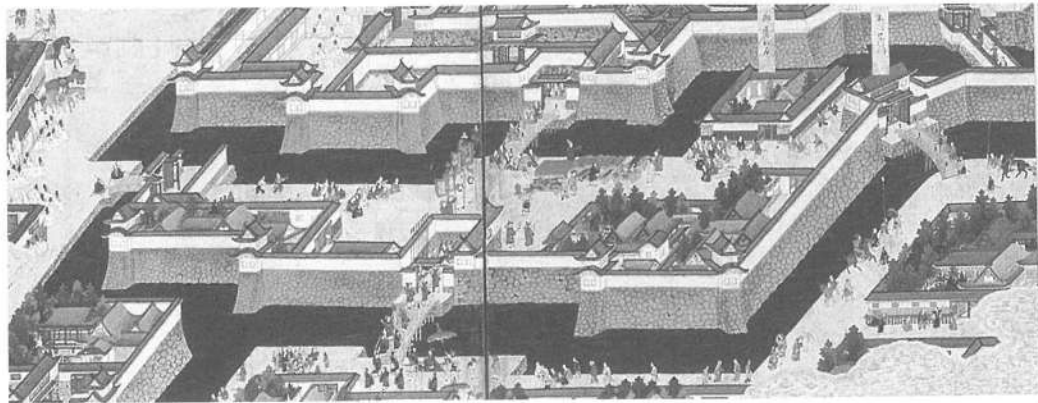


1. 何という名前の城ですか。ひらがなで答えなさい。
2. これがある場所を地図から記号で選びなさい。

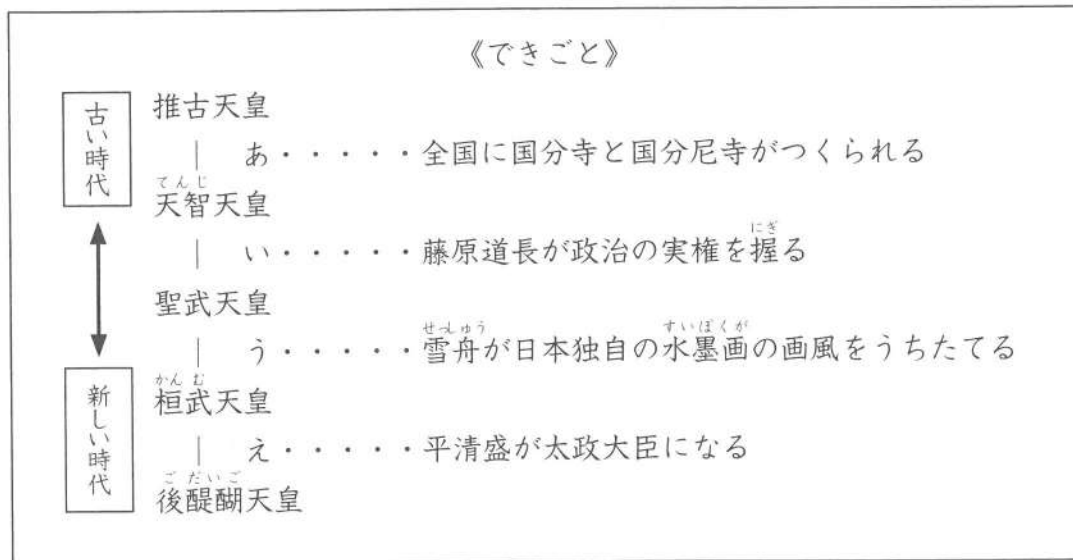


3. 2の近くの港を開く、と日本がアメリカと約束した条約を何といいますか。
4. 3の条約でもう1つ開くと約束した港はどこですか。地名を答えなさい。

5. この城の写真と、次の江戸城を描いた絵を見比べて、どんなところが似ているか、それはどういうはたらきをするところか、考えて答えなさい。



- 7 次の図を見て、各天皇の時代と時代間の時期にあったできごととして、右側に正しいことが書いてあるものはどれですか。1つ選び、あ～えの記号で答えなさい。



- 8 次のA～Eの文は2018年に起きた出来事について書かれたものです。それぞれの文中の下線部について、1～5の問いに答えなさい。

A 2018年3月、東日本大震災の時の対応への反省から災害救助法が改正され、大きな災害が起こった際に被災者を支援する権限を、都道府県から政令指定都市へ移せるようにしました。これにより都道府県は、支援の仕事の一部を政令指定都市に任せることで他の市町村の支援に力を注ぐ事ができるようになり、災害時の対応が素早くなることが期待されます。

1. 「災害救助法」に関する内容として正しいものを1つ選び、記号で答えなさい。
- あ) 「災害救助法」は東日本大震災からの復興にあたって適用された。
 - い) 東日本大震災の際、都道府県は「災害救助法」に基づいて災害対策本部を設置した。
 - う) 東日本大震災の際、「災害救助法」に基づき、日本赤十字社などの団体の協力の下、救助活動が行われた。
 - え) 東日本大震災では、「災害救助法」に基づき、市町村同士が災害時の対応や災害復旧に際して互いに応援し合った。

B 2018年6月、成人年齢を20歳から18歳に引き下げる法律が国会を通過し、成立しました。この法律は2022年4月1日に施行することとなりますが、これにより既に18歳以上に引き下げられた選挙権年齢と合わせ、若者が親の同意なくローンなどの契約を結べるようになります。また、女性が結婚できる年齢も16歳から18歳に引き上げられ、男女ともに18歳となります。

2. 国会に関する次の各文より正しいものを1つ選び、記号で答えなさい。
- あ) 20歳の誕生日を迎えたAさんは、その年に実施された参議院議員選挙に立候補して見事当選した。
 - い) 国土交通省に勤めるBさんは、法律を成立させるため、国会議員のCさんをお願いして法案を提出してもらった結果、見事成立させることが出来た。
 - う) 有識者であるDさんは、国会議員でなかったため、資格がないとの理由から国務大臣になれなかった。
 - え) Eさんは、解散されたことを受けて参議院議員選挙に臨んだが、残念ながら落選した。

C 2018年6月、イスラム教の戒律に厳格なサウジアラビアで、世界で最後まで認められていなかった女性による自動車の運転が認められました。サウジアラビアではこれまで、国籍を問わず女性の運転が禁止され、女性が車で移動するには親族の男性に頼るか、男性運転手を雇わなければなりません。このことから、女性の運転禁止については、女性に対する「抑圧の象徴」と国際社会でも批判がありましたが、女性の社会進出や能力開発を打ち出す改革の目玉として認められました。

3. イスラム教についての説明として誤っているものを1つ選び、記号で答えなさい。
- あ) イスラム教では、女性は男性と接することが制限されている。女性が外出する際は顔や体を布で覆う。
 - い) イスラム教徒は一生のうち一度は聖地メッカへ巡礼することが義務づけられている。
 - う) イスラム教徒は食事をする際は右手しか使わない。また、お酒を飲むことや豚肉などを食べるのが禁じられている。
 - え) イスラム教では一日5回、聖地メッカへ向けてのお祈りが義務づけられている。また、一年のうち一ヶ月の間、一日中断食することが義務づけられている。

D 2018年7月、国際連合（国連）のグテーレス事務総長は、加盟各国に対し国連が「破産寸前」であることを強調し、一刻も早く拠出金を支払うよう訴えました。グテーレス事務総長が加盟各国に宛てた手紙には「“あなた方の”国連」であり、「国連は“破産寸前”に追い込まれるべきではない」と悲痛な訴えが書かれていました。国連の資金難の最大の原因として、最大の拠出国アメリカが分担金を支払っていないことがあげられています。

4. 国際連合の機関についての説明として正しいものを1つ選び、記号で答えなさい。
- あ) WHOはイタリアのローマに本部が置かれた国連の機関で、すべての人々が栄養ある安全な食べ物を手に入れ健康的な生活を送ることができるように、飢餓、食料不安及び栄養失調の撲滅や貧困の削減などにつとめている。
 - い) ILOは、自由貿易促進を主な目的として創設された国連の機関で、常設の事務局がスイスのジュネーブに置かれている。
 - う) UNESCOはフランスのパリに本部が置かれている国連の機関で、教育、科学、文化の発展と推進を目的としている。
 - え) UNICEFはアメリカのニューヨークに本部が置かれた国連の機関で、社会面でも環境面でも持続可能なまちづくりを推進し、すべての人々が適切な住まいを得ることができる世界の実現を目指している。

E 2018年9月、自由民主党は総裁選挙を行い、安倍晋三首相は石破茂元幹事長を破り、連続3選を果たしました。任期は3年となります。2019年は統一地方選挙、参議院選挙が控えており、安倍首相は憲法改正や景気対策、社会保障制度改革などの課題に取り組むこととなります。

5. 以下の文は日本国憲法の前文です。空欄に当てはまる語句の組み合わせとして正しいものを選び、記号で答えなさい。

日本国民は、恒久の平和を念願し、人間相互の関係を支配する崇高な理想を深く自覚するのであつて、平和を愛する諸国民の（ A ）と信義に信頼して、われらの安全と生存を保持しようと決意した。われらは、平和を維持し、専制と隷従、圧迫と偏狭を地上から永遠に除去しようと努めてゐる（ B ）において、名誉ある地位を占めたいと思ふ。われらは、全世界の国民が、ひとしく恐怖と（ C ）から免かれ、平和のうちに生存する権利を有することを確認する。【注：ゐ＝い】

- あ) A = 公正 B = 国際社会 C = 欠乏
い) A = 友情 B = 世界 C = 圧政
う) A = 繁栄 B = 国際社会 C = 圧政
え) A = 公平 B = 世界 C = 欠乏

1

| | | | | |
|------|------|------|------|-----|
| 1 | 2 | 3 | | |
| 4問①a | 4問①b | 4問①c | 4問①d | 4問② |

2

| | | | | |
|----|---|----|--|--|
| 1 | 2 | 3① | | |
| 3② | | | | |

3

| | | | | |
|------|------|------|---|--|
| 1(A) | 1(B) | 1(C) | | |
| 2あ | 2い | 2う | | |
| 3 | 4 | 5 | 6 | |
| 7問① | 7問② | | | |

4

| | | |
|---|---|---|
| 1 | 2 | 3 |
|---|---|---|

5

| | | | |
|-------|--------|--------|-----|
| 【一】-1 | -2 | -3 | -4 |
| -5 | -6 | 【二】-7 | -8 |
| -9 | -10 | 【三】-11 | -12 |
| -13 | 【四】-14 | -15 | |

6

| | | | |
|---|---|---|---|
| 1 | 2 | 3 | 4 |
| 5 | | | |

7

| |
|--|
| |
|--|

8

| | | | | |
|---|---|---|---|---|
| 1 | 2 | 3 | 4 | 5 |
|---|---|---|---|---|

| | | | |
|------|--|----|--|
| 受験番号 | | 氏名 | |
|------|--|----|--|

| | |
|----|--|
| 得点 | |
|----|--|