

1 次のあ～かの県の説明文を読んで、1～12の問いに答えなさい。

あ県—①複雑に入り組んだ海岸で、真珠やはまちななどの養殖が盛んである。北部には江戸時代からの綿織物を起源とし、タオル製造のさかな（ア）市がある。この市は、しまなみ海道によって本州の尾道市と結ばれている。

い県—日本海側に面し、②水あげ量が全国でも上位に位置する（イ）市が位置する。この市は有名漫画家のふるさとでもあり、市のホームページでは「さかなと鬼太郎のまち」と紹介されている。

う県—東北四大祭りのうちの1つは、この県で行われている。東北地方は③稲作が盛んであり、祭りの中には豊作を願って行われるものもある。また、この県には日本三景の1つである（ウ）がある。

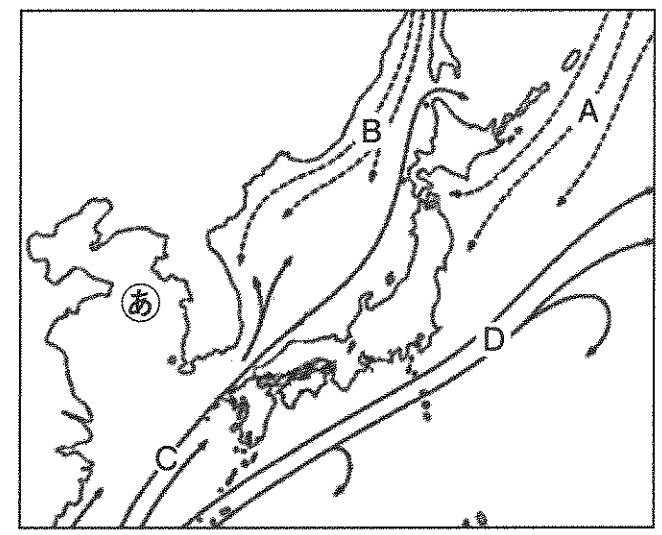
え県—この県は④火山灰におおわれた台地が多くを占め、稲作が出来ないため、茶やたばこなどの畑作が行われている。この県に属する（エ）島には宇宙センターがあり、この島の観光協会は（エ）島を「宇宙に一番近い島」と紹介している。

お県—この県の⑤伝統工業として南部鉄器が知られる。また、平安時代に建てられた（オ）寺が位置する。世界遺産にも登録されているこの寺の金色堂について江戸時代に訪れた松尾芭蕉は「五月雨の降り残してや光堂」という俳句を残している。

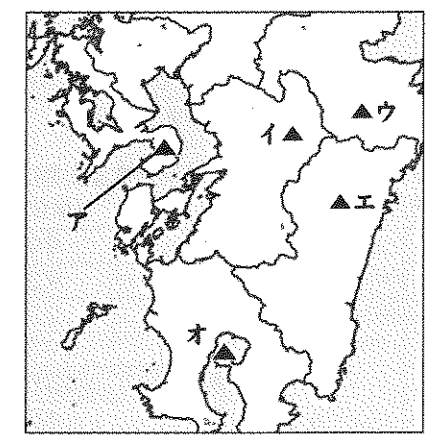
か県—この県は木曾川が西の県境をなしている。用水がつくられたことによって、濃尾平野の東部から知多半島にかけては⑥都市向けの野菜や草花を栽培する農業が発展した。日本一の⑦自動車工業都市である（カ）市がある。

- 文中の空欄（ア）～（カ）に該当する語句をそれぞれ答えなさい。
- 下線部①を何というか、答えなさい。
- 下線部②に関連し、次の文X、Yで説明している漁業名をそれぞれ答えなさい。  
 X—大型船を使った数か月がかりの漁で太平洋やインド洋で行う漁業。石油危機を機に衰退した。  
 Y—10t以上の船を使った数日がかりの漁業。日本において最も漁獲量が多い。

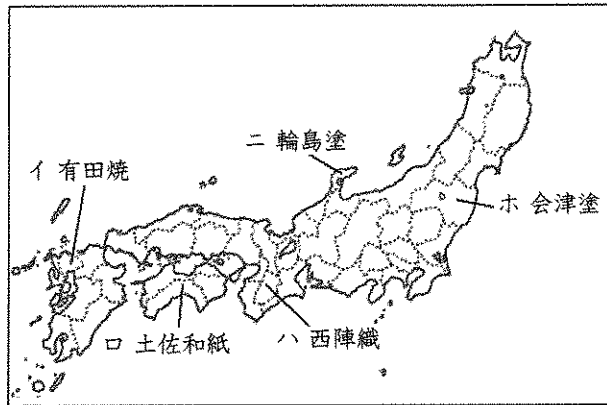
- 「親潮」とよばれる海流の名前を答えなさい。また次の地図中A～Dからあてはまるものを選び、記号で答えなさい。
- 地図中⑧の海域などに広がる水深200mぐらいまでの浅い海底を何というか答えなさい。



- 下線部③では、品種改良や栽培技術の進歩がみられます。「コシヒカリ」や「あきたこまち」のような味や品質の優れた米として品種や産地を表示した米を特に何とよぶか、答えなさい。
- 下線部④のうち、火山活動などにより火口が崩壊・陥没して出来たくぼんだ土地のことを何というか、答えなさい。
- 阿蘇山は、上記設問7を持つ火山として知られています。下記地図中の▲ア～オのうち阿蘇山を示しているものを選びなさい。



9. 下線部⑤について、次の地図のうち県の位置と伝統工芸品の組み合わせが誤っているものを1つ選び、記号で答えなさい。



10. 下線部⑥の農業を何とよぶか答えなさい。

11. 下線部⑦に関連し、P、Qの問いに答えなさい。

P-日本の自動車会社はアメリカとの「ある問題」の解決のため1980年代から海外に工場をつくって生産するようになりました。これは輸出入の収支に関する国際問題です。「ある問題」とは何か、答えなさい。

Q-ガソリンエンジンと電気モーターを組み合わせた車を何というか答えなさい。

12. 次の資料にあるA県～F県は、1ページで説明されている あ県～か県のいずれかです。このうちC県～E県の県名を答えなさい。

資料1 県別面積 (単位: km<sup>2</sup>)

A県	15,275
B県	9,188
C県	7,282
D県	5,676
E県	5,172
F県	3,507

資料2 県別人口統計 (単位: 千人) (単位: %)

	平成17年 (1,000人)	22年 (1,000人)	人口増減率 (平成17～22年) (%)
A県	1,385	1,330	-4.0
B県	1,753	1,706	-2.7
C県	2,360	2,348	-0.5
D県	1,468	1,431	-2.5
E県	7,255	7,411	2.2
F県	607	589	-3.0

総務省 国勢調査より作成

資料3 県別工業生産額 (2012年)  
(単位: 億円)

A県	22,433
B県	17,850
C県	34,417
D県	40,475
E県	401,978
F県	6,933

経済産業省統計資料より作成

資料4 県別果実産出額(2013年)  
(単位: 億円)

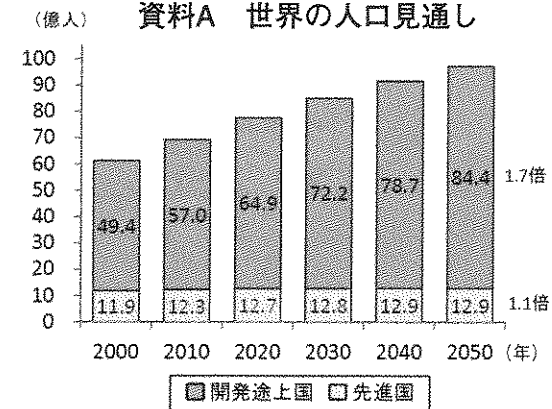
A県	99
B県	92
C県	22
D県	498
E県	175
F県	68

農林水産省統計資料より作成

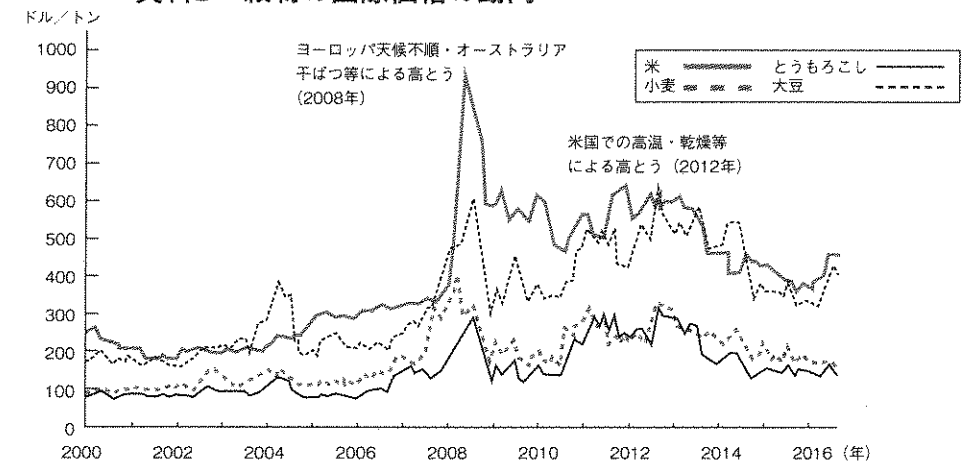
2

次の各資料を見て、1～3の問いに答えなさい。

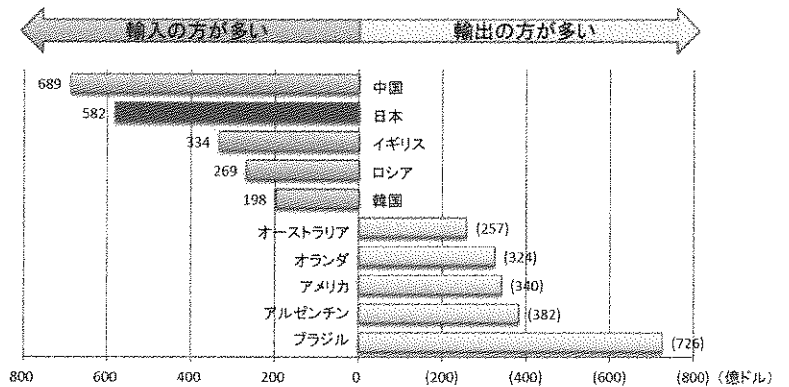
資料A 世界の人口見通し



資料B 穀物の国際価格の動向



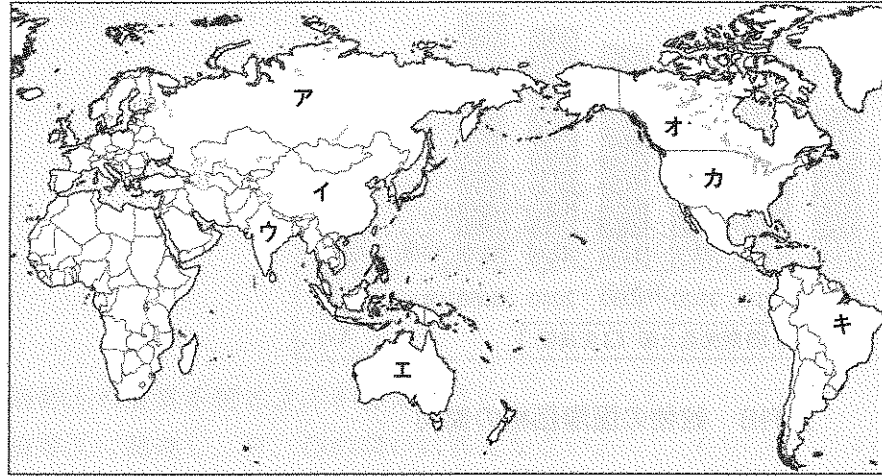
資料C 農産物の純輸入額 (輸入額-輸出額) の比較 (2013年)



資料: FAOSTATを基に農林水産省で作成。(中国は香港、マカオ等を除く)  
 注: 純輸入額の上位5国と、下位5国を抽出して記載。

(資料A～Cは 農林水産省「知ってる?日本の食料事情」より抜粋)

1. 地図中のア～キの国のうち、人口が多い国上位3か国を地図から選び、多い順に記号で答えなさい。



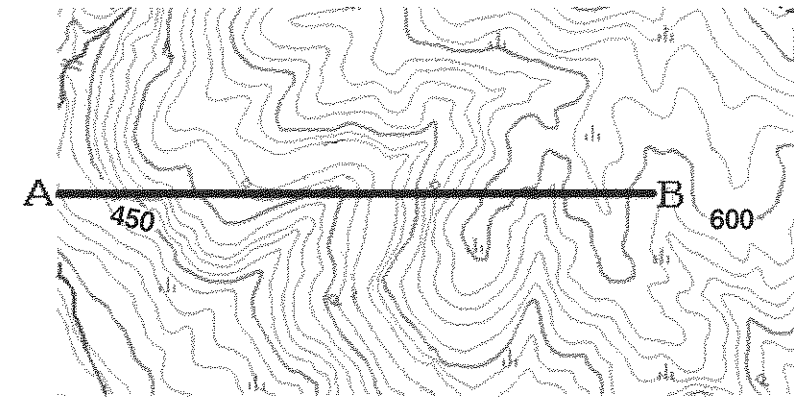
2. 日本の現在の食料自給率（カロリーベース）として最も適当なものを記号で選びなさい。

ア. 10%    イ. 39%    ウ. 53%    エ. 67%

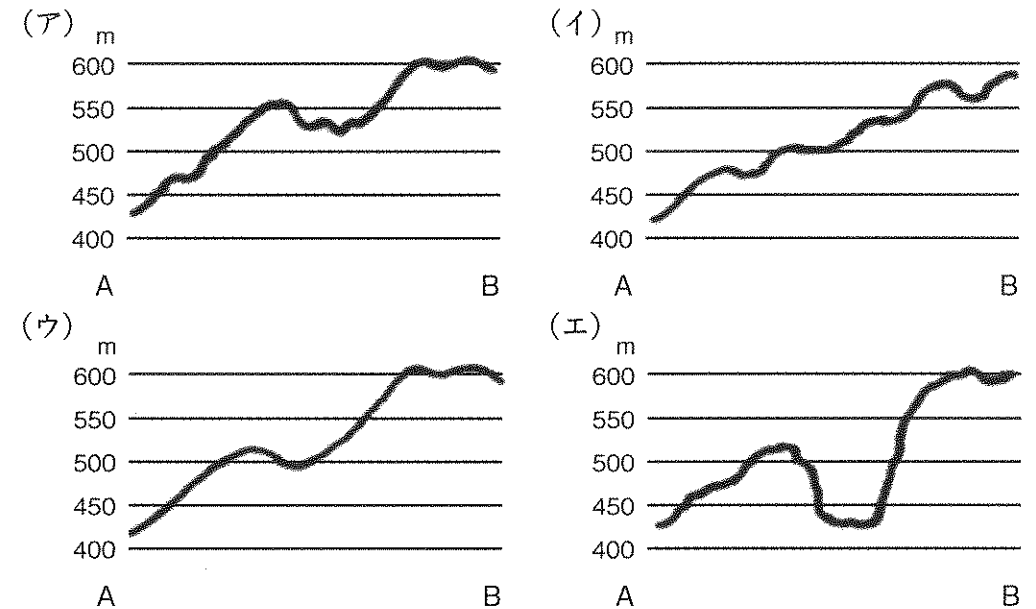
3. 次の文は「フード・アクション・ニッポン」という活動について述べています。日本が食料自給率の向上を目指すのはなぜですか、資料A～Cを読み取り60字以上70字以内で答えなさい。

フード・アクション・ニッポンとは、日本の食を次の世代に残し、創るために、日本の食料自給率の向上を目指した国産農林水産物の消費拡大の取組です。

- 3 次の地形図を見て、1～2の問いに答えなさい。



1. 地形図中のA～B間の地形断面として適当なものを(ア)～(エ)から1つ選びなさい。



2. 地形図について述べた以下の文のうち正しいものを全て選びなさい。複数ある場合は五十音順に答えなさい。

- ア. 2万5千分の1地形図上で、一辺4cm正方形は実際には、1km<sup>2</sup>である
- イ. 2万5千分の1地形図と5万分の1地形図を比較した時、より広い地域を確認するには2万5千分の1地形図の方が適している
- ウ. 実際に1kmの距離があれば、5万分の1地形図では20cmで表される
- エ. 地形図を発行しているのは、総務省の統計局である
- オ. 等高線と等高線の間隔が広い地域の方が、間隔がせまい地域に比べ土地の傾斜がなだらかである

4 次の文章を読んで、1～5の問いに答えなさい。

人間の考え方の時代による変化によって、死者の埋葬のしかたも変化してくる。

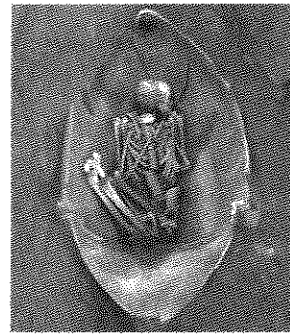
日本の(ア)時代には、遺体は棺には入れられないで、当時のゴミ捨て場であった(イ)で、こわれた土器の破片や貝のカラとともに見つかる。このころの遺体は、手足を折り曲げて葬られていることが多い。これは、死者の霊がよみがえるのを恐れたためだとも、母親の胎内ほらむにいる形をまねすることにより、命の再生を願ったものだともいわれている。

ウ 弥生時代になると、さまざまな形の棺に入れられたり、墓をつくってそこに埋葬されるようになる。その形などは、地域や時期によっても差がある。

3世紀末ごろから、各地の支配者である豪族たちは、エ 土をもりあげた大きな墓に埋葬されるようになる。この墓は5世紀のころに巨大化し、特に奈良や大阪地方につくられたもののなかには、墓として世界最大級のものもある。これらは、日本で最初の国家であるヤマト政権の王たちの墓と考えられている。

日本に仏教が入ってくると、豪族たちは自分の権力を示すために、下線部エに代わって寺院をつくるようになった。7世紀には朝廷のあった近畿地方を中心に寺院がつくられていった。

1. 空欄(ア)にあてはまる語句を入れなさい。
2. 空欄(イ)にあてはまる語句を入れなさい。
3. 下線部ウについて、九州北部にみられる、右の写真のような棺を何というか、答えなさい。
4. 下線部エについて、現在の大阪府堺市にある日本で最大の墓を何というか、答えなさい。
5. 次の各文を読んで、正しいものを1つ選びなさい。



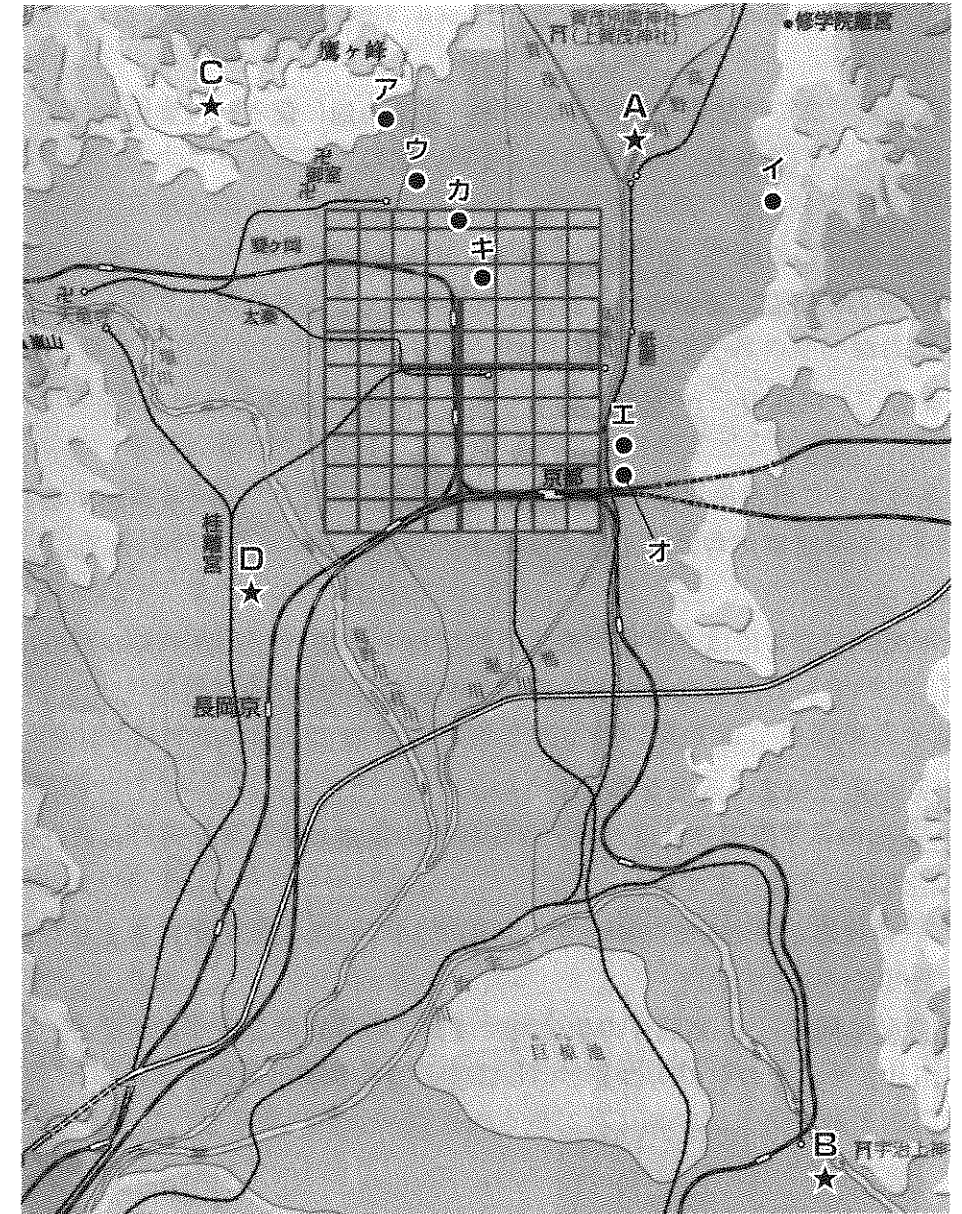
- あ. (ア)時代は、人々は狩りをして木の実や貝を集めて生活していた
- い. 日本で最初にみつかった(イ)は群馬県の岩宿にある
- う. 弥生時代には、日本ではまだ鉄器は使われていなかった
- え. 法隆寺は蘇我馬子が権力の象徴しよくちゆうとしてつくった寺院である

5

大学生の桜子さんと百合子さんは、夏休みに京都旅行に行きました。


◇<資料1>は、2人が持っていった、平安京の道路の描かれた京都市の地図です。この地図の中の寺院や神社などについて、1～10の問いに答えなさい。

<資料1>



- ア 鹿苑寺<sup>ろくおん</sup> ここには、将軍(a)がつくった山荘<sup>さんそう</sup>である b 金閣がある。
- イ 慈照寺<sup>じしょう</sup> ここには、将軍(c)がつくった山荘である d 銀閣がある。
- ウ 北野神社 ここにまつられている(e)は、遣唐使<sup>はいし</sup>を廃止しようという意見をのべて受け入れられた。
- エ 方広寺 ここは豊臣家ゆかりの寺で、ここの鐘に記された文字が原因で、f 大阪冬の陣が始まった。
- オ 蓮華王院<sup>れんげおういん</sup> この寺は、g 平清盛が後白河法皇の命でつくった。本堂の三十三間堂は鎌倉時代に再建されたものである。
- カ 平安宮 現在の h 京都に都をうつしたのは、桓武天皇である。
- キ 二条城 これは徳川家の城で、15代将軍は、ここで i 大政奉還することを家臣たちに伝えた。
- ク 平等院 ここには、平安中期、摂政関白をつとめた人物が父のためにつくった阿弥陀堂である鳳凰堂がある。

- (a)にあてはまる人名を答えなさい。
- b 金閣の1階部分の造りは、平安時代の貴族のやしきに用いられた造りです。何という造りですか。
- (c)の後継ぎ<sup>あとつぎ</sup>問題がきっかけで、京都で11年に及ぶ戦乱<sup>ちよ</sup>がおきましたが、これを何といいますか。
- d 銀閣と同じ イ 慈照寺<sup>ししょう</sup>の敷地内<sup>しきち</sup>には、下の写真のような東求堂<sup>とうきゅうどう</sup>という建物があります。その中の同仁齋<sup>どうじんさい</sup>という部屋の造りを何といいますか。




<東求堂>

- (e)にあてはまる人名を答えなさい。
- f 大阪冬の陣と関連して、次のできごとを年代の早い順に記号で並べかえなさい。
  - あ. 大阪冬の陣おこる
  - い. 徳川家康が征夷大将軍になる
  - う. 関ヶ原の戦いおこる
  - え. 大阪夏の陣おこる
- g 平清盛がしたことについて正しいものを、次の文から選んで記号で答えなさい。
  - あ. 遣唐使についていき、唐との貿易を始めるきっかけをつくった
  - い. 武士として初めて征夷大将軍になり国をうごかした
  - う. 正式な国交はもたなかったが、宋と呼ばれた時代の中国へ行って貿易をした
  - え. 娘を天皇のきさきにして権力をにぎり、一族は朝廷で高い位を得た
- h 京都に都をうつしたに関連して、次のできごとを年代の早い順に記号で並べかえなさい。
  - あ. 京都に都をうつす
  - い. 大宝律令ができる
  - う. 東大寺に大仏ができる
  - え. 聖徳太子が法隆寺をつくる
- i 大政奉還がおこなわれたあとのできごとを次の文の中から選び、年代の早い順に記号で並べかえなさい。
  - あ. 国会開設の要求が高まり、9万人の署名が集まった
  - い. 日米修好通商条約が結ばれた
  - う. 小村寿太郎が、関税自主権を完全に回復する、条約改正を成しとげた
  - え. 大老井伊直弼が、幕府の政策に反対する大名や学者を大勢処罰した
  - お. 五箇条の誓文がでて、天皇を中心にした新しい政治の方針が示された
  - か. 王政復古の号令が朝廷から発せられた
  - き. 大日本帝国議会の第1回目の議会が開かれた
- ク 平等院は、平安京の町から南東の方角にあります。その位置を地図中のA～Dの記号で選びなさい。

◇<資料2>は、桜子さんと百合子さんが旅行に行った時に撮った写真です。  
この写真について桜子さんが書いた文章を読んで、11～16の問いに答えなさい。

<資料2>



この橋は、平等院の近くの(1)橋です。この川の名は(1)川といいます。  
(2)『源氏物語』五十四帖の最後の十帖は、このあたりを舞台として描かれているので、近くに「源氏物語ミュージアム」がありました。  
また、橋の中ほどのところに○で囲んだ突き出した部分がありますが、そこは「三の間」とよばれるところで、もとは橋の守り神をまつっていたとのことですが、  
(3)豊臣秀吉がそこから(4)茶の湯のために川の水をくませたところとしても有名だそうです。

11. (1)にあてはまる語句をア～エから選び、記号で答えなさい。  
ア. 渡月 イ. 宇治 ウ. 五条 エ. 日本
12. (2)『源氏物語』について述べた正しい文を次から選び、記号で答えなさい。  
ア. これは、平安時代に書かれた物語文学である  
イ. これは、奈良時代に書かれた随筆である  
ウ. この物語を書いた人物は、将軍のきさきに仕えていた  
エ. 井原西鶴も、この物語の作者と同じ時代に生きて物語文学を書いた
13. (2)『源氏物語』を書いた人物と同じ立場の仕事をしていて『枕草子』を書いた人物はだれですか。

14. (3)豊臣秀吉がおこなった政策について、あてはまらないものを次から1つ選び、記号で答えなさい。  
ア. 中国に船を派遣して国交をむすび、貿易をした  
イ. 刀狩をして、農民と兵士の立場を分けた  
ウ. 朝鮮へ出兵し2度も戦った  
エ. 検地をして自分が支配した土地の様子をくまなく調べた
15. 次のうちから、(3)豊臣秀吉より前に生きて活躍した人物を選び、年代の早い順に記号で答えなさい。  
ア. 源頼朝 イ. 徳川家光 ウ. 中臣鎌足 エ. 鑑真
16. (3)豊臣秀吉が活躍した時代に(4)茶の湯を大成した人物で、秀吉に重く用いられたものの、最後は切腹を命じられたのはだれですか。

- 6 近代オリンピックは、古代の平和の祭典であったオリンピックの復興をめざして始められたものです。次の年表は、そのうち夏季大会が開催された年と都市をしめしています。これを見て、1～7の問いに答えなさい。

	年	開催都市		年	開催都市
ア	1896	アテネ	ク	1956	メルボルン
イ	1900	パリ	チ	1960	ローマ
ウ	1904	セントルイス	ツ	1964	X
エ	1908	ロンドン	テ	1968	メキシコシティ
オ	1912	ストックホルム	ト	1972	ミュンヘン
カ	1916	ベルリン ⇒中止	ナ	1976	モントリオール
キ	1920	アントワープ	ニ	1980	モスクワ
ク	1924	パリ	ヌ	1984	ロサンゼルス
ケ	1928	アムステルダム	ネ	1988	ソウル
コ	1932	ロサンゼルス	ノ	1992	バルセロナ
カ	1936	ベルリン	ハ	1996	アトランタ
シ	1940	東京⇒中止⇒かわりに ヘルシンキ⇒しかし中止	ヒ	2000	シドニー
ス	1944	ロンドン⇒中止	フ	2004	アテネ
セ	1948	ロンドン	ヘ	2008	北京
ソ	1952	ヘルシンキ	ホ	2012	ロンドン
			マ	2016	リオデジャネイロ

1. 日本が明治時代だった④の年に、外国との大きな戦争が始まりました。何という戦争ですか。
2. ⑥のベルリン大会は、ある戦争のために開催が中止になりました。何という戦争のせいですか、戦争の名前を答えなさい。
3. ⑩の東京大会は、日本がある国と戦争をしていた影響で開催が中止になりました。その戦争は①の開催都市の近くで1937年におこった武力衝突から始まりましたが、その戦争の名前を答えなさい。
4. ②のロンドン大会は、多くの国が関わっているある戦争で戦局が悪化したため開催が中止になりました。その戦争の名前を答えなさい。
5. ⑧の1964年大会の開催都市を答えなさい。
6. 日本に、東海道新幹線が開通したのは、いつの大会の直前ですか。⑦～⑩の記号で答えなさい。
7. 日本は第1次石油危機の影響を受け、高度経済成長が止まってしまいました。第1次石油危機がおこった年の直前の大会を⑦～⑩の記号で答えなさい。

- 7 次の1～5の各問いに答えなさい。

1. 昨年から新たに8月11日が国民の祝日となりました。これによって国民の祝日は年間を通じて全部で何日となりましたか、次のうちから正しいものを選び記号で答えなさい。  
ア. 14日    イ. 15日    ウ. 16日    エ. 17日
2. 昨年8月8日、生前退位の意向を示している天皇陛下の「お気持ち」が表明されました。昭和や平成など年につける名称は、皇位の継承があった場合に限り改めることになっています。この、天皇一代ごとに付く名称を年号または何といいますか。漢字で答えなさい。
3. 昨年の11月3日で日本国憲法が公布されて70年目を迎えました。次のうちから日本国憲法の説明として不適切なものを1つ選び記号で答えなさい。  
ア. 日本国憲法では、国会だけが法律を制定できると定めている  
イ. 日本国憲法の改正には、満18歳以上による国民投票が必要である  
ウ. 日本国憲法の構成は、前文と108の条文によって成り立っている  
エ. 日本国憲法が定める納税の義務は、大日本帝国憲法でも定められていた
4. 現代ではPKO(平和維持活動)、ATM(現金自動預払機)、IT(情報技術)などアルファベットの略称が日常的に使われることが多くなりました。次の文の **A** に相当するアルファベットの略称を答えなさい。  
  
「昔は **A** (国民総生産) が経済成長の度合いを知る指標であったが、現在は **B** (国内総生産) を用いている」
5. 昨年、アメリカで大統領の選挙が行われました。日本は議院内閣制を採用しているので議会在首相を選出します。わが国と同じしくみの国を次から1つ選び番号で答えなさい。  
①ロシア    ②イギリス    ③フランス    ④フィリピン    ⑤大韓民国

1

1	ア		イ		ウ	
	エ		オ		カ	
2						
3	X		Y			
4	海流名		記号			
5			6			7
8		9		10		
11	P			Q		
12	C		D		E	

2

1	.		2														
2																	

3

1		2	
---	--	---	--

4

1		2		3	
4		5			

5

1		2		3	
4		5		6	.
7		8	.	9	.
10		11		12	
14		15		16	

6

1		2		3	
4		5		6	
7					

7

1		2		3		4		5	
---	--	---	--	---	--	---	--	---	--

受験番号		氏名	
------	--	----	--

得点	
----	--