

平成 28 年 度

中 学 校

入 学 試 験 問 題

社 会

40分

受験 番号		氏 名	
----------	--	--------	--

○受験番号・氏名は解答用紙にも書くこと。

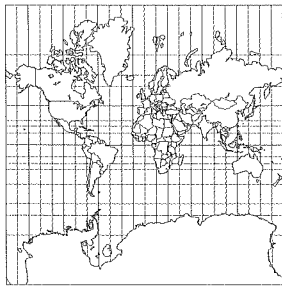
1 次の文を読んで、1～7の問いに答えなさい。

2200年以上も前、(A)ギリシャのエラトステネスは、地球を(B)球体と考え、その周囲の長さを影の角度から計測しました。エラトステネスの計算によると地球1周は約46,000kmです。現在の計測によると赤道の長さが(C)約40,000kmですから、彼は、実際に近い距離を計測していたことになります。

また、地球の表面積についてですが、地球の表面積は約5.1億km²です。そのうち海洋が多くを占めます。特に、最大の海洋である(D)は陸地の総面積(E)km²よりも広いです。

1. 下線部(A)ギリシャで始まったオリンピックは、2020年東京で開催が予定されています。前回の東京オリンピックの開催年を西暦で答えなさい。
2. 下線部(B)球体である地球は、平面である地図で、方位・面積・距離・形の全てを正確に表すことが出来ません。そのため目的に応じた地図が使用されます。このうち、中心からの方位・距離が正しい地図を何というか答えなさい。
3. 前問2. で答えた地図はどれか選び記号で答えなさい。

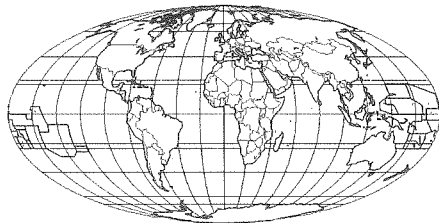
ア



イ



ウ



4. 下線部(C)約40,000kmを参考にし、経線は約何万kmか、次のうちから最も適当なものを選び、記号で答えなさい。

ア. 0.5万km イ. 1万km ウ. 2万km エ. 3万km オ. 4万km

5. 空欄(D)にあてはまる適切な海洋名を答えなさい。
6. 空欄(E)にあてはまる数字として最も適当なものを記号で答えなさい。
あ. 0.15億 い. 1.5億 う. 2.5億 え. 3.6億 お. 4.2億
7. 次のあ～おより正しい文を選びなさい。答えが複数ある場合は、記号は五十音順にならべなさい。
あ. 地球上の位置を示すには緯度と経度が用いられ、緯度は東西90度、経度は南北180度までである。
い. 緯線は赤道と平行にひかれており、緯線0度は赤道と重なる。
う. 経度0度はアメリカのグリニッジ天文台あとを通り、それより東を東経、西を西経と呼ぶ。
え. 赤道をはさんで北側を北半球と呼び、南側を南半球と呼ぶ。北半球と南半球は季節が逆になる。
お. 日本の標準時子午線は、皇居の中心を通っている。

2 次のA～Eの各文を読み、1～11の問いに答えなさい。

- A この川は、長良川・揖斐川と並んで流れ、伊勢湾に注ぐ。下流域では、①堤防に囲まれた土地を見ることが出来る。
- B この川は、別の名を「坂東太郎」という。川の長さは322km、流域面積は16,840km²で、長さは日本第2位、流域面積は第1位である。
- C この川の下流域では、工場の廃水にふくまれていたメチル水銀が原因で②四大公害の一つが発生した。
- D この川は、紀伊山地に水源を持つ。紀伊山地は③木材の産地であり、江戸時代、山で切り出された杉は、いかだとして組まれ川を下った。
- E この川は、北アルプスに水源を持ち、日本海に注ぐ。戦後の電力不足を補うため、川の上流に「くろよん」と呼ばれる④発電所が建設された。

1. A～Eの川の位置を、地図中の あ～こ から選び、記号で答えなさい。



2. A～C の文が示す川の名前をそれぞれ答えなさい。
3. 下線部①^{ていぼう}堤防に囲まれた土地のことを何というか、漢字2文字で答えなさい。
4. 下線部①について述べた次の文のうち、正しいものを2つ選びなさい。記号は五十音順にならべなさい。
 - ア. Aの川、揖斐川、長良川の上流域以外にはみられない。
 - イ. 土地が低く、洪水の被害にあうことが多かったため堤防をめぐらせた。
 - ウ. それぞれの家を取り囲む堤防があり、堤防に囲まれた家の集まりのことを呼ぶ。
 - エ. 家や畑・水田などを守るため周囲に堤防をめぐらせた区域、集落のことを呼ぶ。
5. 下線部①の地域で見られる、非常用物資を備え、洪水が起きた時にひなんするために造られた特別な家屋を何というか、答えなさい。
6. Bの川の下流の低湿地は米づくりが盛んである。この地域で収穫される普通の^{しゅうかく}収穫期より早く出荷される米を何と呼ぶか、答えなさい。
7. 下線部②^{しゅうかく}四大公害のうち、Cの川の下流域で発生した公害病を答えなさい。
8. 公害には様々なものがあるが、工業用水として地下水をくみ上げることで起きる公害を何というか、答えなさい。

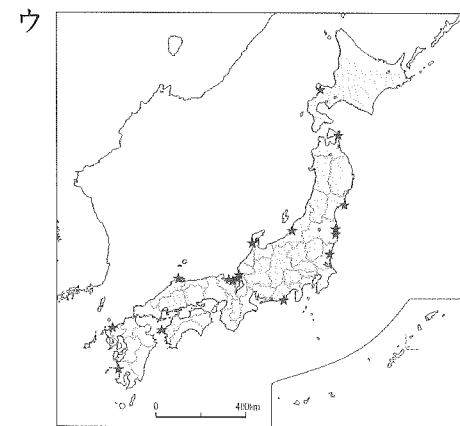
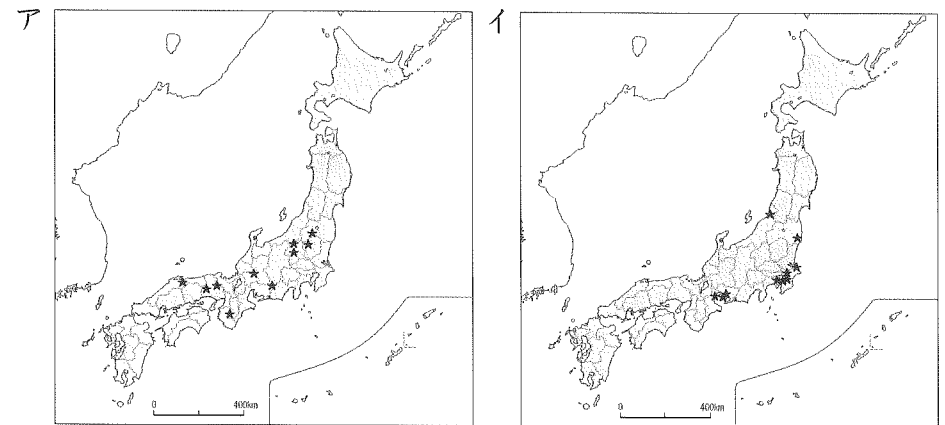
9. 下線部③木材に関連する次の文のうち誤っているものを1つ選び、記号で答えなさい。

- ア. 日本では国土面積の半分以上を森林が占める。
- イ. 森林による山の栄養は、海にもえいぎょうを与える。そのため漁師が植林活動を行うことがある。
- ウ. 国内では林業にたずさわる人の^{こうれいか}高齢化が問題になっている。
- エ. 森林は木材として用いるだけでなく、地球温暖化を弱めたり、土砂くずれを防いだりする役割がある。
- オ. 外国から木材が輸入されているが、国内の木材の方が多く使われている。

10. 下線部④発電所の発電方式として正しいものを次から選び、記号で答えなさい。

- あ. 原子力発電 い. 太陽光発電 う. 水力発電
- え. 地熱発電 お. 火力発電 か. 風力発電

11. 次の地図のうち、前問10. で選んだ方式の発電所の分布図として正しいものをア～ウ から選び記号で答えなさい。



(注：いずれの分布図も④の発電所は表記していない。)

3 それぞれの表を見て、1～2の問いに答えなさい。

1. 次の表から読み取ることが出来る内容のうち、誤っているものをあ～おから2つ選びなさい。記号は五十音順にならべなさい。

農産物輸出入額 (単位: 100万ドル)

	輸入額	輸出額	輸入超過額
日本	68 470	3 273	65 198
イギリス	59 787	28 822	30 964
ロシア	37 233	9 215	28 018
韓国	23 129	4 302	18 827
オーストラリア	11 687	32 656	-20 969
オランダ	57 833	89 330	-31 497
アメリカ合衆国	107 109	139 891	-32 782

(日本国勢図会 2014/2015 より作成)

- あ. 日本、韓国、オーストラリアは、農産物の輸出額が輸入額を下回る。
 い. イギリスの農産物輸出額は輸入額の50%以下である。
 う. オーストラリアの農産物輸出額は、日本の農産物輸出額の約10倍である。
 え. イギリスは、ロシアに比べて農産物輸出額が高いが、輸入超過額がロシアを上回る。
 お. 日本の輸入額は、輸出額の約2倍である。
2. 次の表中のA～Fは、果実、小麦、米、大豆、肉類、野菜のいずれかの品目を示しています。あとの□の中の文章を参考にして、表中のB、C、Dにあてはまる品目の組み合わせとしてもっとも適当なものを、あとのア～カから選び、記号で答えなさい。

日本の食料自給率の推移 (%)

	1960年	1980年	2000年	2010年
A	102	100	95	97
B	39	10	11	9
C	28	4	5	6
D	100	97	81	81
E	100	81	44	38
F	91	81	52	56

(日本国勢図会 2014/2015 より作成)


日本の食料自給率の低さは大きな課題の一つである。2000年と2010年と比較すると、大豆や肉類のように、わずかに数値をあげたものもあるが、1960年と比較すると全ての品目の食料自給率が低下しており、2010年の果実の自給率は、1980年の半数以下まで低下している。

- ア. B-大豆 C-小麦 D-野菜
 イ. B-小麦 C-果実 D-大豆
 ウ. B-大豆 C-肉類 D-野菜
 エ. B-小麦 C-大豆 D-野菜
 オ. B-野菜 C-大豆 D-果実
 カ. B-肉類 C-小麦 D-大豆

4 次の写真とその説明文を見て、1～5の問いに答えなさい。


A (江田船山古墳出土鉄刀)

この鉄刀の□の部分には、
 【 】大王 という文字がぎざま
 れています。

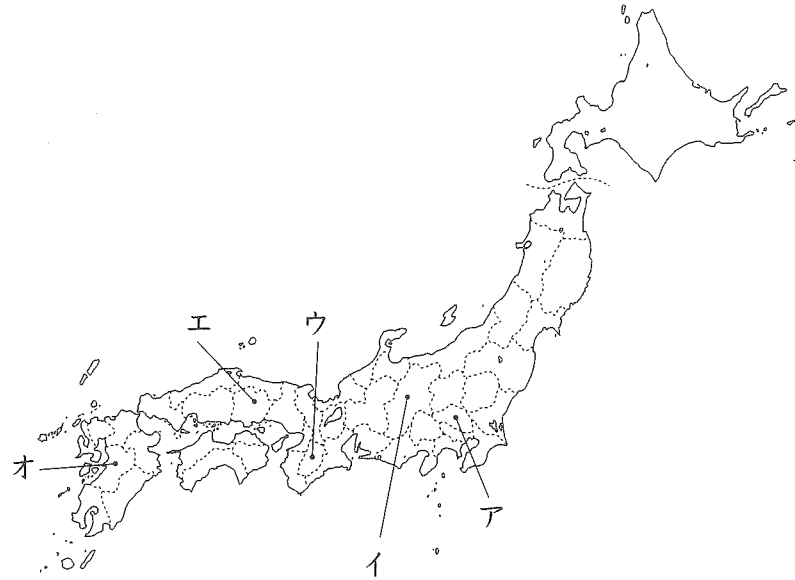


B (稲荷山古墳出土鉄剣)

この鉄剣には、「私はこの剣をつくら
 せた豪族のオワケである。私の家は
 大王を守る軍隊の隊長を代々務め、私は
 【 】大王に仕えていた」という
 意味の文字がぎざまれています。



1. A の江田船山古墳とは、何県にある古墳ですか。次の地図中の記号で選びなさい。




2. B の稲荷山古墳とは、何県にある古墳ですか。
3. AとBの説明文中の【 】には同じ文字が入ります。それをカタカナで答えなさい。
4. 前問3. の【 】大王は、5世紀後半に存在した大和朝廷の雄略天皇である考えられています。その天皇を意味する【 】大王という文字がAとB両方の古墳の出土品にみえるということから、どのようなことが考えられますか。25字以内で説明しなさい。
5. 雄略天皇が活躍した前後のことについて述べた次の文を、時代の早い順に記号で並べなさい。

- ア. 邪馬台国の卑弥呼が中国に使いをおくった
- イ. 大陸から日本に仏教が伝わった
- ウ. 現在の奈良県のあたりに大和朝廷ができた
- エ. 吉野ヶ里のムラができた
- オ. 雄略天皇が中国に使いをおくった

5 次の図版とその説明文を見て、1～6の問いに答えなさい。



この写真は、鎌倉にある①鶴岡八幡宮の例大祭れいたいさいという祭りのおこなわれた、②神事しんじという催しもよおの様子です。この②は、③鎌倉時代の武士が武芸のけいこのためにおこなっていたものです。今では、外国からの観光客も大勢見物に来る催しとなっています。




この絵は、鎌倉時代の武士を描いたものです。これは、④外国の軍勢を待ち構えている場面が描かれています。

1. 下線部①鶴岡八幡宮に関連した次の文から、正しいものを1つ選び、記号で答えなさい。

- あ. 鶴岡八幡宮の位置は、[a] の写真の ① の位置である
- い. 鶴岡八幡宮の位置は、[a] の写真の ② の位置である
- う. 鶴岡八幡宮の位置は、[a] の写真の ③ の位置である
- え. [b] の写真は、鶴岡八幡宮を海から撮影したものである
- お. 鎌倉幕府のあった位置は鎌倉時代いろいろかわったが、源氏一族が信じていた [b] の写真の神社の近くにあったことはかわりがない




[a]



[b]




2. ②) にあてはまる語句をひらがなで入れなさい。
3. 下線部③鎌倉時代の武士について述べた次の文のうちから、正しいものを記号で選びなさい。答えが複数ある場合には、記号は五十音順にならべなさい。
- ア. 自分の館のまわりで農業をしながら、武芸のけいこもしていた。
 - イ. 幕府に決まった額の年貢を納めていた。
 - ウ. 士農工商という固定された身分階級の一番上の地位にいた。
 - エ. 先祖からつたえられた土地を「一所懸命」守ることに努力し、「いざ鎌倉」の時には戦いに参加して幕府からのほうびの土地をもらえるように努めた。
 - オ. 自分の主人の武士につき従い、1年おきに幕府のある場所まで参勤交代していた。
4. 鎌倉時代の武士の住んでいた館をあらわしているのは、次の図のうちどれですか。記号で答えなさい。





5. 下線部④外国の軍勢とは、どこの国の軍勢ですか。
6. 次の各文から 下線部④外国の軍勢との戦いの前にあったできごとを選び、年代の早い順に記号でならべなさい。
- あ. 源義経が壇ノ浦で平氏と戦った。
 - い. 平清盛が太政大臣になった。
 - う. 足利義満が金閣を建てた。
 - え. 豊臣秀吉が朝鮮に出兵した。
 - お. 藤原道長のむすめが次々と天皇のきさきになった。

- 6 次の図版を見て、1～3の問いに答えなさい。




この絵は「(1) 絵巻」という^{えまきもの}絵巻物の一部で、^{きやうてい}宮廷に仕える(2)が、ひらがなを用いて書いた、平安時代の『(1)』という長編の物語をもとに描かれました。この絵から平安時代の貴族の生活のようすがよくわかります。最近では、^{せんたん}先端技術を使ってもとの色彩を復元することに成功し、描かれた当時の美しい状態をうかがい知ることができます。

1. 空欄(1)にあてはまる語句を入れなさい。
2. 空欄(2)にあてはまる人名を次のうちから記号で選びなさい。
 - ア. 清少納言
 - イ. 紫式部
 - ウ. 小野小町
 - エ. 北条政子
3. 絵巻物に描かれている貴族たちが暮らしていた住居の内部はどのようなようすでしたか。次の図版の中から最もふさわしいものを記号で選びなさい。



7 次各人物の写真を見て、1～2の問いに答えなさい。
 写真の下に数字は、その人物の生まれた年～亡くなった年（西暦）を表しています。



1. 次各文は上の写真の人物の説明です。これを参考にして、それぞれの人物名を答えなさい。

- A ア 不平等条約改正の交渉のために欧米に渡った使節団に付きしたが、そのままアメリカにとどまり留学しました。帰国後は女子教育のための学校をつくりました。
- B 生まれたのは明治時代でしたが、イ 江戸時代の小説に学び、『たけくらべ』や『にごりえ』という作品を書きました。若くして亡くなりました。
- C ウ 徴兵によって兵士となり エ 戦地に行った弟を心配した詩を発表して、反戦の気持ちを歌いました。
- D 明治の末から昭和にかけて、女性の地位の向上をもとめる運動をした活動家です。1911年には オ 『青鞥』という雑誌を発行して大きな反響を呼びました。
- E A～Dの中の一人と共に、新婦人協会という団体をつくり、女性の選挙などの権利の獲得や、女性や母親の権利をまもることを訴える活動をしました。のちに カ 参議院議員を25年つとめました。

2. 文中の下線部ア～カについて、次の問いに答えなさい。

- ア. この使節団の団長だった人物は誰ですか。
- イ. 次のうちから江戸時代に小説を書いた人物を1人選び、記号で選びなさい。
- あ. 井原西鶴 い. 歌川広重 う. 市川団十郎
 え. 伊能忠敬 お. 前野良沢

ウ. 日本で最初に出された徴兵令について述べた次の文のうち正しいものはどれですか。記号で選びなさい。答えが複数ある場合は、五十音順に答えなさい。

- あ. 1873年（明治6年）に出された
 い. 満25歳になった男子が徴兵検査を受けた
 う. 満18歳になった男子が徴兵検査を受けた
 え. 徴兵検査に合格すると、一部の免除された人を除いて3年間の兵役にいた

エ. この時、彼女の弟は何戦争で戦地にいたのですか。次のうちから記号で選びなさい。

- あ. 日清戦争 い. 日露戦争 う. 第一次世界大戦 え. 満州事変

オ. この雑誌の冒頭にDの人物が書いた文章の一部として、正しいものを次のうちから記号で選びなさい。

- あ. 廻れば大門の見返り柳いと長けれど、お齒ぐる溝に燈火うつる三階の騒ぎも手に取る如く、…

- い. 天は人の上に人をつくらず、人の下に人をつくらずといえり。
 う. 末に生まれし君なれば 親のなさはまさりしも 親は刃をにぎらせて 人を殺せとをしへしや 人を殺して死ねよとて 二十四までをそだてしや

え. 元始、女性は実に太陽であった。真正の人であった。今、女性は月である。


カ. 参議院について述べた次の文のうち正しいものはどれですか。記号で選びなさい。答えが複数ある場合は、記号は五十音順にならばなさい。

- あ. 大日本帝国憲法のもとの帝国議会は、衆議院と参議院の二院制である
 い. 日本国憲法のもとの国会は、衆議院と参議院の二院制である
 う. 参議院議員の任期は6年であるが、途中で議院が解散されることもある
 え. 次の参議院議員選挙は、2016年の夏に行われる予定である
 お. 参議院ができたのは、1890年である


8

次のA・Bの各文と写真に関連して、あとの問いに答えなさい。

A ラジオは1925年に放送が始まりました



B テレビの本放送は1953年に始まりました



- AとBの間におこったできごとを記号で選びなさい。答えが複数ある場合は、年代の早い順に答えなさい。
 - 日露戦争が始まる
 - 第一次世界大戦が始まる
 - 日中戦争が始まる
 - 東海道新幹線が開業する
 - 日本国憲法が公布される
 - 沖縄が日本に返還される
- テレビ放送が始まったことで、ラジオだけだった時から、人々が得られる情報はどのようにかわり、それによって人々の生活はどのようにかわりましたか。30字以上50字以内で考えを述べなさい。

9

次の文章を読み、1～5の問いに答えなさい。

2015年、わが国は終戦から70年を迎えた。わが国に無条件降伏を求めた連合国のポツダム宣言には、【 X 】の除去と民主主義の確立を柱とする戦後の日本のあり方が示された。【 Y 】平和条約によって日本の独立が認められるまでの間、連合国によって憲法の改正をはじめとするさまざまな改革が行われた。

70年の節目であることから、原子爆弾の被害となった広島・長崎の平和祈念式典や全国戦没者追悼式では、過去の戦争に対する反省に加え、平和に向けた新たな決意と一層の努力をすることが述べられた。

- 終戦は、1945年の8月15日正午、天皇自らがラジオを通じて国民に告げるという異例の形で行われ、この放送は特別に「()放送」と呼ばれた。()にあてはまる語句を答えなさい。
- 【 X 】に最もあてはまるものを記号で答えなさい。

ア. 社会主義 イ. 絶対主義 ウ. 軍国主義 エ. 帝国主義
- 【 Y 】にあてはまる条約の名前を答えなさい。
- 原子爆弾の威力はいくつかある。その中でも()の影響は最も深刻で、70年経った今でも癌の発生率を高くするなど大きな爪跡を残すことになった。()にあてはまる語句を答えなさい。
- 男女平等な選挙が導入されてから70年目を迎えた昨年、選挙権年齢を満18歳に引き下げる法律案が可決した。これに関する説明として誤っているものを1つ選び記号で答えなさい。

ア. 満18歳以上の人は街頭でビラを配るなど選挙活動に参加することができる。

イ. 選挙の実施が公に発表される日までに満18歳になっていないと、選挙権は与えられない。

ウ. 最高裁判所の裁判官が適任かどうかの国民審査の投票も行うことができる。

エ. 国会議員だけでなく県知事や市長などの選挙権年齢も同時に引き下げられた。

1

1		2		3		4	
5		6		7			

2

1	A		B		C		D		E	
2	A				B				C	
3			4			5			6	
7			8				9		10	
									11	

3

1		2	
---	--	---	--

4

1		2		3	
4					
5		→	→	→	→

5

1		2		3		4	
5			6				

6

1		2		3	
---	--	---	--	---	--

7

1	A			B			C		
	D			E					
2	ア			イ		ウ		エ	
	オ			カ					

8

1	
2	

9

1		2		3	
4		5			

受験番号		氏名	
------	--	----	--

得点	
----	--