

平成 25 年 度

中 学 校

入 学 試 験 問 題

社 会

40分

受 験 番 号		氏 名	
------------------	--	--------	--

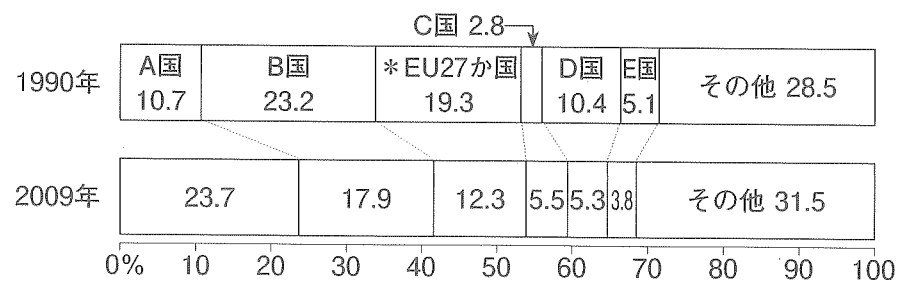
○受験番号・氏名は解答用紙にも書くこと。

1 次の文を読み、あとの問いに答えなさい。

昨年5月、国際エネルギー機関（IEA）は、2011年の世界の二酸化炭素排出量が過去最高を記録したと発表しました。その背景には下のグラフのB国やEU（ヨーロッパ連合）の二酸化炭素排出量が減少した一方で、A国の排出量が増加したためです。

このような二酸化炭素に代表されるような温室効果ガスの問題が国際的な話題として出てくることとなったのは、1970年代になってからでした。その後80年代にはこの考え方が一般的なものとして受け入れられるとともに、この問題に対する世界的な取り組みが必要であると考えられるようになりました。その結果、1992年6月に（1）のリオデジャネイロで開かれた「①環境と開発に関する国際連合会議」の中で「（2）」が採択され、以後この条約に調印した国々は②毎年集まって会議を開き、温室効果ガスの削減に向けた取り組みを行うこととなりました。中でも第3回会議では③温室効果ガスの排出量に対して数値目標が取り入れられ、守れない国に対しては罰則が設けられることとなりました。しかし、2011年に始まった第17回会議において、④日本はこの取り決めの延長には応じられないとして離脱することを表明したため、「⑤日本は今後温暖化防止にどう取り組むつもりなのか」と海外からも非難の声が上がることとなりました。

世界の二酸化炭素（CO₂）排出量の割合



*グラフ中の「EU27か国」とは 2007年1月現在の加盟国である 『2012/13 日本国勢図会』より作成

問

- 上の文中の「A国」「B国」の国名を答えなさい。
- 上の文中の（1）（2）にあてはまる語句をそれぞれ次から選び、記号で答えなさい。
 （1）＝あ. メキシコ い. ブラジル う. ノルウェー
 え. スペイン

- （2）＝あ. ワシントン条約 い. 気候変動枠組条約
 う. ラムサール条約 え. 世界遺産条約

- 下線部①について、この会議の別名を答えなさい。
- 下線部②について、この会議の略称を次から選び、記号で答えなさい。
 あ. GDP い. GHQ う. COP え. NGO お. TPP
- 下線部③のような約束をした取り決めに何をいいますか。漢字で答えなさい。
- 下線部④についてはロシアとカナダが日本と同様の態度をとりました。「ロシア」と「カナダ」の首都名を次から選び、それぞれ記号で答えなさい。
 あ. モスクワ い. バンコク う. オタワ え. シドニー
 お. ワシントン
- 下線部⑤について、日本は前のページの表のC国～E国のどれにあてはまりますか。記号で答えなさい。
- 温暖化防止のために有効と思われることを一つあげ、それを実現するために一人一人がやるべきことを、35字以上40字以内で書きなさい。

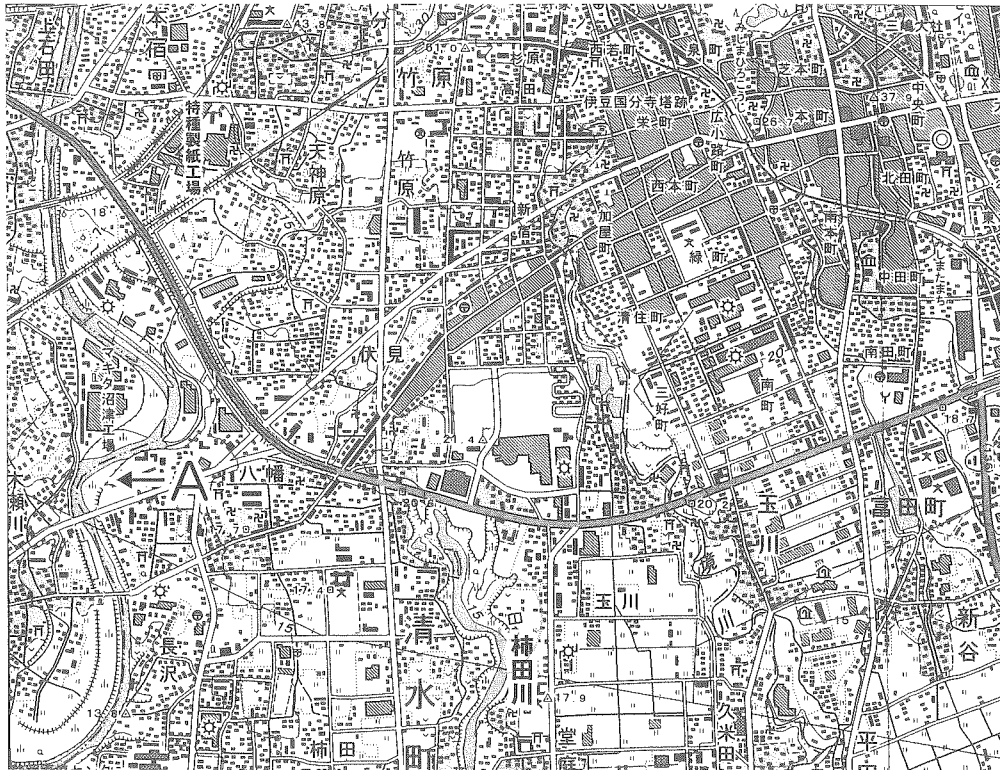
2 次の文を読み、あとの問いに答えなさい。

次の地図中の柿田川は、①静岡県清水町を流れる小さな川です。この川は②富士山や箱根山などに降った雨や雪が地下水となり、富士山の噴火によって出来た溶岩流の端から突然湧き出して出来たものです。

この川は大小数十カ所の湧き間を持つ日本屈指の清流であり、この地域の人々の③貴重な水源となっています。この湧き水は環境省が選定する「名水100選」にも選ばれています。また、この川は一年を通してほぼ一定の水温を保っており、市街地を流れているにもかかわらず、「ミシマバイカモ」や「アオハダトンボ」などの希少な動植物が生息しています。

この川の湧き間にある公園は、戦国時代北条氏によって城が築かれた場所であ

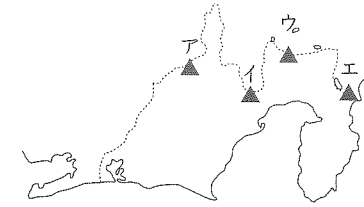
り、江戸時代初期には徳川家康公が隠居所を建設する予定の場所でした（家康公の突然の死により実現しませんでした）。その後、昭和の④高度経済成長期にはこの川の水を利用して石油化学コンビナートの建設が計画されましたが、住民の強い反対を受けて中止となりました。現在この地では、このような貴重な自然環境を後世に残すための「⑤ナショナルトラスト運動」が展開されています。



国土地理院作成 2万5千分の1地形図「三島」より

1. 下線部①について、「静岡県」を流れる川として正しいものを選び、五十音順に記号で答えなさい。
あ. 富士川 い. 揖斐川 う. 吉野川 え. 利根川 お. 安倍川
2. 下線部①の県に隣接している県はいくつありますか。
3. 下線部①の県には、昨年4月、新たに高速道路が開通しました。この高速道路の名前を漢字で答えなさい。
4. 下線部①の県にある政令指定都市を二つ漢字で答えなさい。その際、西にある都市から順に答えなさい。

5. 下線部②の位置として正しいものを、下の地図より選び、記号で答えなさい。




6. 下線部③について、神奈川県の水源地として通常使われていないものを2つ選び、五十音順に記号で答えなさい。
あ. 相模湖 い. 津久井湖 う. 猪苗代湖
え. 宮ヶ瀬湖 お. 手賀沼
7. 下線部④について、この時期に下線部①の県で発生した「公害」として、正しいものを選び、記号で答えなさい。
あ. 豊島の産廃不法投棄 い. イタイイタイ病 う. 第二水俣病
え. 四日市ぜんそく お. 田子の浦のヘドロ
8. 下線部⑤について、この運動とかかわりのない場所を選び、記号で答えなさい。
あ. 知床半島 い. 天神崎 う. 狭山丘陵（トトロの森） え. 藤前干潟
9. 前のページの地形図について、次のうちから正しいことを述べている文を選び、五十音順に記号で答えなさい。
あ. 「特種製紙工場」は「市役所」の西にある。
い. 「柿田川」の北にある電波塔は、「マキタ沼津工場」よりも標高が高い。
う. 「みしまひろこうじ駅」周辺は工場が密集している。
え. 「柿田川」の東には図書館がある。
お. 地図中のA川は、南から北に向かって流れている。
10. 前のページの地形図中の「特種製紙工場」から「柿田川」までを定規で測ったら6センチありました。実際の距離は何kmですか。

3 次の の中の文について、あとの問いに答えなさい。

縄文土器 は、そのあとの時代の土器と比べると、厚さが厚く、低温で焼かれてつくられました。表面に縄目の文様があったことからこの名前がつけられました。
縄文土器が使われていた時代を、縄文時代 といいます。


① 縄文土器 は次のうち、どれですか。1つ選んで記号で答えなさい。



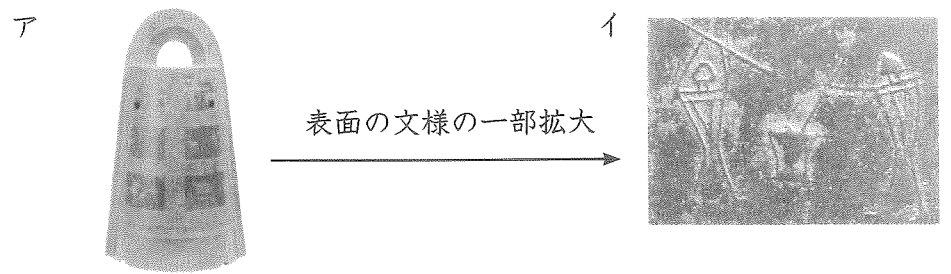
② 縄文時代の生活について、次のうちから正しいことを述べている文を選び、五十音順に記号で答えなさい。

- あ) 縄文時代は、今から200万年くらい前から始まった。
- い) この時代の人々は、主に動物をしとめたり、魚をとったり、貝や木の实を集めたりして生活していた。
- う) この時代には広く東日本でも米作りが始まっていた。
- え) この時代の人々の生活を知るには、当時の人々のゴミ捨て場である遺跡から出てくるものが参考になる。千葉県のかそりかいづか・青森県の三内丸山遺跡もその遺跡の一つである。食べ終わった貝がらや動物・魚の骨、こわれた土器のかけらなどが見つかる。
- お) 日本で初めて発見されたこの時代の遺跡は登呂遺跡で、明治時代に来日したエドワード・モースが偶然発見した。

③ この時代の遺跡から見つかったものとして、正しいものはどれですか。2つ選んで五十音順に記号で答えなさい。




4 次の図を見て、あとの問いに答えなさい。



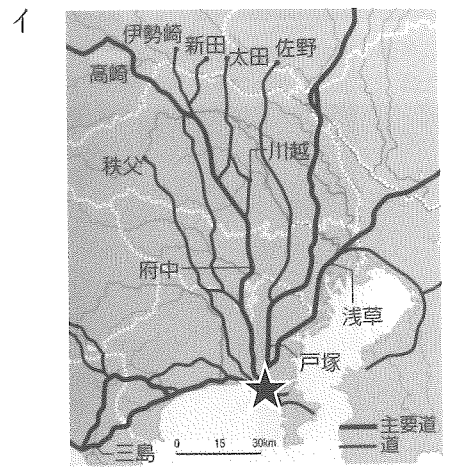
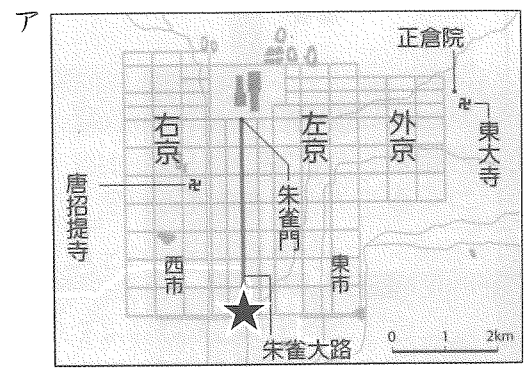
- ① アは何という物ですか。
- ② アは何という金属でできていますか。漢字2文字で答えなさい。
- ③ アは何に使われたと考えられていますか。次の文から最も適切なものを1つ選んで記号で答えなさい。
 - あ) 時刻を知らせる時の鐘として使われた
 - い) 支配者が権力を示すものとして、あるいは、祈りをささげる儀式の時に使われた
 - う) 米作りの道具として使われた
 - え) 狩りの道具として使われた
- ④ 図イに描かれているのは、何をしている様子ですか。またこのことからわかる当時の人々の暮らしについて、あわせて説明しなさい。

5 次の写真Aや絵画Bを見て、あとの問いに答えなさい。




写真Aは、ある橋の近くにある、道路の起点だった印です。この橋を起点として、現在も国道15号線などがスタートしていますが、ここが幹線道路網の起点になったのは、ある時代の政府が街道を整えたのが始まりです。

- 1 この印は何という橋の近くにありますか。
- 2 この印があるのは、ア～ウの地図のうち、どの地図の★印のところですか。記号で答えなさい。



- 3 この場所を起点として幹線道路網がつけられた最初の時代は、何時代ですか。
- 4 3の時代のこととしてあてはまる事गरらる、次の各文から選び、記号で答えなさい。
 - あ) 農民から武士、農民から商人や職人、武士から商人へなどと、身分を変更するのは自由であった。
 - い) 将軍と武士は、御恩と奉公で強く結ばれていた。
 - う) 将軍は家臣である大名に藩を分け与え、その領地でそこに生きる人々を治めて藩を運営するようにさせた。基本的には各藩から幕府には税金は納めなくてよかった。
 - え) 人々は、皇族・華族・士族・平民 というふうにもとの身分によって分けられていた。

5 絵画Bは、写真Aのある場所を描いたものです。



ア 作者は何という人ですか。

イ アの人物について述べたものとして正しい文を、次のうちから番号で答えなさい。

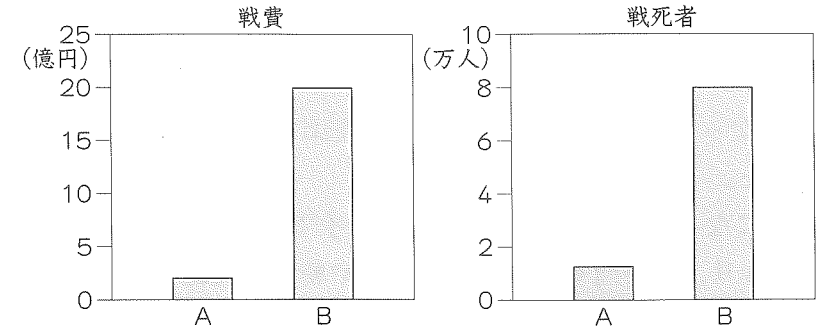
- ① この人物は、他に富士山を様々な角度から描いたシリーズの絵を描いている
- ② この人物は、風景画を得意として描いている
- ③ この人物は、役者や相撲取りの絵を得意として描いている
- ④ この人物の描く絵は、大名や貴族の屋敷の大きな部屋に飾られるために描かれた

ウ 絵画Bについて述べた次の文章の空らんには、あてはまる語句を答えなさい。

この絵の中央の橋を向こう側から渡ってくる行列は、おそらく大名か、それに匹敵するくらいの格式の高い武士の一行である。

大名たちは、自分の領地とこの地にある屋敷とを1年おきに住み分けるよう定められていた。このしくみを①という。これは、3代将軍のころに定められ、②という大名たちが守るべき法に追加されたきまりである。手前に天びん棒をかついでいるのは、この時代の4つの身分のうちの上から③番目と定められていた身分の人である。この身分の人々の経済活動はこの時代発展し、彼らによる文化活動もさかんになった。

6 次の2つのグラフは、明治時代の日本が戦った2つの戦争にかかった戦費と戦死者の数を比較したものです。これを見て、あとの問いに答えなさい。



1 AとBはそれぞれ何という戦争ですか。

2 Aの戦争に勝った日本がその講和条約において、相手国から得たものは次のうち何ですか。正しいものを五十音順に記号で選びなさい。

- ア 賠償金2億両 (当時の日本円で3億1千万円位)
- イ 樺太の南半分
- ウ 台湾
- エ 朝鮮半島
- オ リヤオトン半島
- カ 沖縄諸島
- キ 千島列島

3 次の詩は、AとB どちらの戦争に反対した気持ちを歌ったものですか。

君死にたまふことなかれ

あゝをとうとよ 君を泣く

君死にたまふことなかれ

・・・(以下 略)

4 Bの戦争の時、日本海でロシアのバルチック艦隊を破った海軍の艦隊を率いていた軍人はだれですか。

5 AとBの2つの戦争よりもあとにおこったことを、次から記号で選び、時代の早い順に記号でならべなさい。

- ア 第1次世界大戦開始
- イ 満州国建国
- ウ 大日本帝国憲法発布
- エ 日中戦争開始
- オ 関税自主権完全回復

7 次の ①～⑤ のできごとは、あとの年表の ア～セ の どの時期のことですか。最もあてはまる時期を選んで、記号で答えなさい。

- ① 警察予備隊ができた。
- ② 満20歳になった男子は徴兵検査を受けた上で、3年間の兵役につくという法令が出た。
- ③ このころになると、武力をもった「武士」と呼ばれる人々が各地で力を持つようになり、平将門や藤原純友が国司や朝廷に反乱をおこした。
- ④ 幕府の執権北条氏を倒そうと挙兵した後鳥羽上皇ら朝廷側は、逆に戦いに負けた。このあとは、朝廷より幕府の方が優位に立つことになった。
- ⑤ 日本の軍隊は解散し、徴兵制度もなくなった。

【西暦 (年)】

- 604 聖徳太子が十七条の憲法をつくる
| ア
- 645 蘇我蝦夷・入鹿父子が中大兄皇子・中臣鎌足らに滅ぼされる
| イ
- 701 大宝律令がつくられる
| ウ
- 794 都が平安京にうつされる
| エ
- 1185 平家一族が源氏に滅ぼされる
| オ
- 1274 元が日本に攻めてくる
| カ
- 1334 後醍醐天皇が天皇親政の政治を始める
| キ
- 1404 足利義満が日明貿易を始める
| ク
- 1549 フランシスコ・ザビエルが鹿児島に来航する
| ケ
- 1867 大政奉還がおこなわれる
| コ

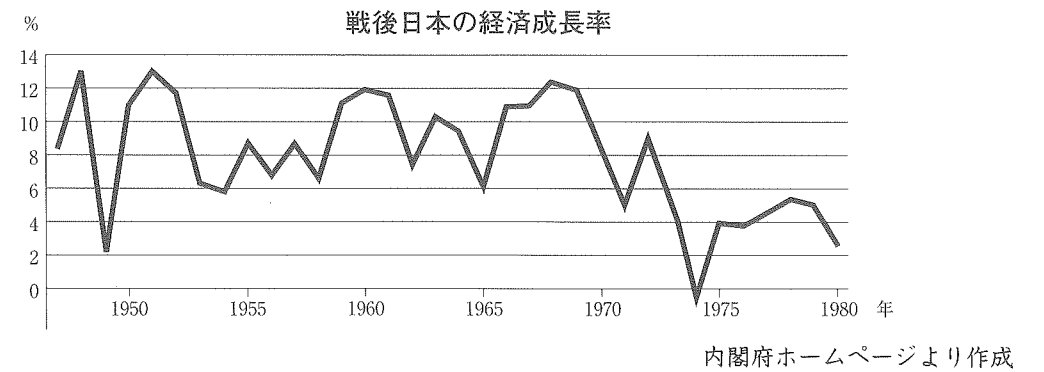
- 1877 西南戦争がおこる
| サ
- 1945 日本はポツダム宣言を受諾する
| シ
- 1946 日本国憲法が公布される
| ス
- 1951 サンフランシスコ平和条約を結ぶ
| セ
- 1956 日ソ共同宣言を出し、ソ連と国交を回復する

8 次の問いに答えなさい。

- ① 日本は世界一の高齢化が進んでいる国で、最新の日本国勢図会によれば、2050年には65歳以上の人口は38.5%で2.58人に一人と予測されている。現在の日本の人口に占める65歳以上の人口の割合として正しいものを下から選び、記号で答えなさい。

あ 20.1% い 23.3% う 29.5% え 34.2%


- ② 日本の「高度経済成長期」は、東海道新幹線開通、東京タワー完成、東京オリンピック開催等がその象徴となるできごとである。「高度経済成長期」にあたるものを下のグラフを参考にして記号で答えなさい。



- あ. 1950年～1967年 い. 1958年～1965年
- う. 1955年～1973年 え. 1960年～1975年

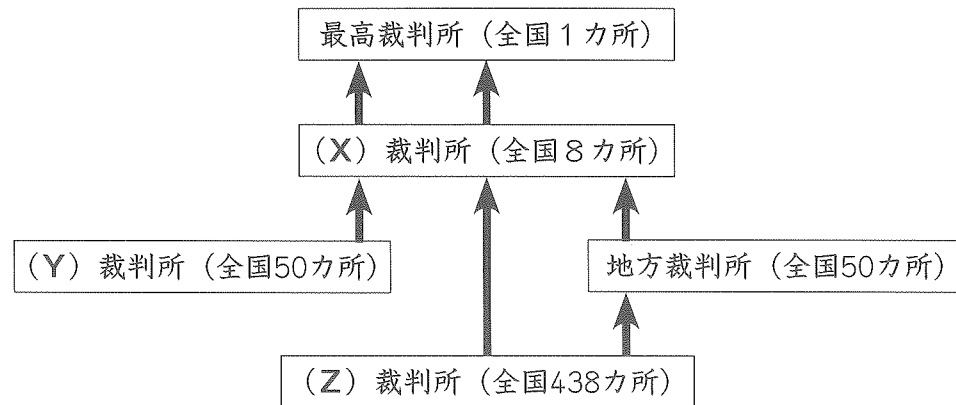
- ③ 次のグラフは、わが国の歳出を表しています。表中のAにあてはまる語句を下から選び、記号で答えなさい。

一般会計歳出の主要経費別割合の変化



- あ. 防衛関係費 い. 国債費 う. 公債金 え. 地方財政費
 お. 公共事業関係費

- ④ 下の図は我が国の犯罪が起こったときの裁判の流れについて表したものです。図中のYにあてはまる語句を漢字で答えなさい。



- ⑤ 我が国の「憲法改正」について述べた以下の文の中から、誤っているものを選び、記号で答えなさい。
- あ) 憲法改正するには、各議院の総議員の3分の2以上の賛成で、国会がこれを発議し、国民に提案してその承認を経なければならない。
- い) 憲法を改正するための国民投票を行う権利を持つのは、満20歳以上の国民である。
- う) 憲法を改正するためには、国民投票で有効投票の過半数の賛成を得る必要がある。
- え) 憲法を改正する際は、天皇が国民の名において公布することとなる。

1

1	A国			B国			2	(1)		(2)	
3			4		5						
6	ロシア		カナダ		7						
8											

2

1		2		3					
4									
5		6		7		8		9	
10		Km							

3

①		②		③	
---	--	---	--	---	--

4

①		②		③	
④					

5

1		2		3		4	
5	ア		イ				
	ウ	①		②		③	

6

1	A		B		2		3	
4			5					

7

①		②		③		④		⑤	
---	--	---	--	---	--	---	--	---	--

8

①		②		③		④		⑤	
---	--	---	--	---	--	---	--	---	--

受験番号		氏名	
------	--	----	--

得点	
----	--