

平成 24 年 度

中 学 校

入 学 試 験 問 題

社 会

4 0 分

受 験 番 号		氏  名	
------------------	--	------------	--

○ 受験番号・氏名は解答用紙にも書くこと。

1 次の文を読み、1～8の問いに答えなさい。

2 ページの地図は「伊那盆地」の一部で、地図中の川は「天竜川」です。「伊那盆地」は①二つの大きな山脈にはさまれている盆地です。

「天竜川」は長さ213kmの全国9位の大きな川で、②長野県にある [ ] 湖が源流です。この川は③二つの県を<sup>こうすい</sup>通って太平洋に流れます。「天竜川」は昔から洪水が多く“あばれ天竜”ともよばれてきました。1868年の大洪水では3ヶ月ものあいだ、家や田畑が水につかる大災害となりました。そのような中、金原明善<sup>きんばらめいぜん</sup>という人は必死の救助活動が続けるとともに、自らの財産を寄付して、治水事業をはじめました。この仕事は「国の仕事」として引き継がれていき、昭和に入ると多くのダムが建設されました。「天竜川」の豊富な水量は、日本の経済成長を担う④電力の供給<sup>こうけん</sup>に貢献したのです。

問

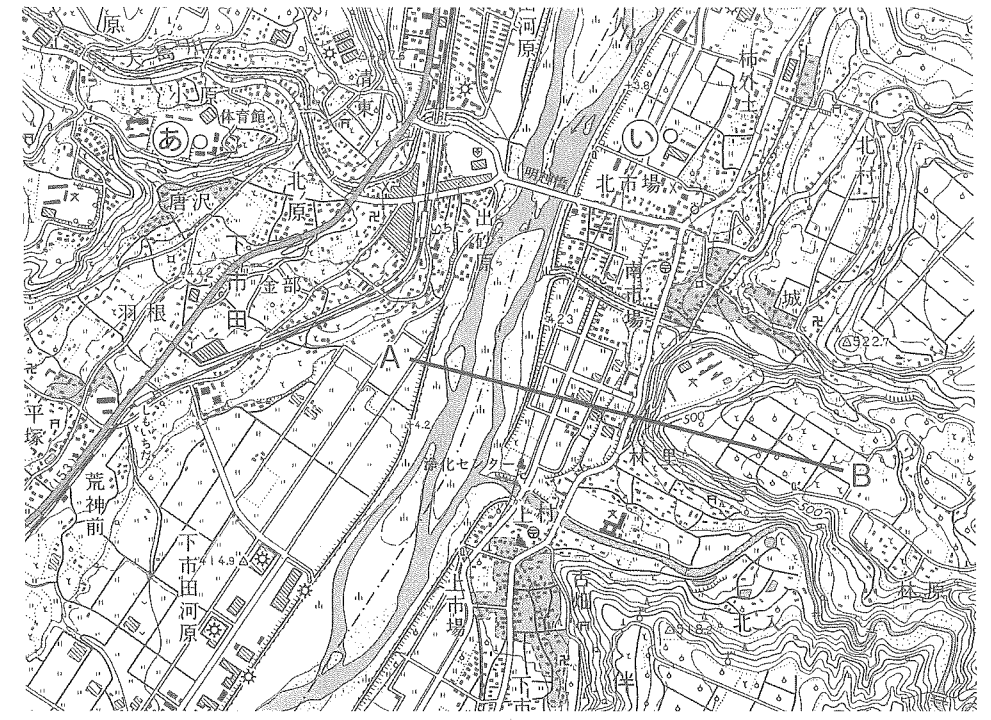
- 文中の [ ] にあてはまる湖の名前をひらがなで答えなさい。
- 下線部①について、正しい組み合わせを選び、記号で答えなさい。  
 ア 木曾山脈・飛驒山脈                      イ 赤石山脈・木曾山脈  
 ウ 赤石山脈・飛驒山脈                      エ 越後山脈・木曾山脈
- 下線部②について、  
 I) この県の伝統工芸品にあてはまるものを選び、記号で答えなさい。  
 ア 木曾漆器    イ 九谷焼    ウ 小千谷紬    エ 長岡仏壇  
 II) 下の表は、「長野県」「岩手県」「福島県」「新潟県」をあらわしています。「長野県」と「福島県」にあてはまるものを選び、記号で答えなさい。

	面積 (km <sup>2</sup> )	人口 (千人)	米 (t)	もも (t)	日本なし (t)	海岸線の長さ(km)
ア	13,783	2,040	436,600	31,800	25,500	167
イ	12,584	2,378	626,900	—	18,200	634
ウ	13,562	2,159	205,900	20,200	20,900	0
エ	15,279	1,340	301,200	—	—	709

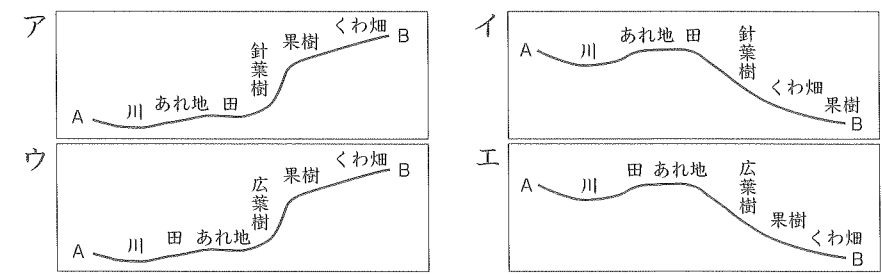
『日本国勢図会 2010/2011』、国土交通省河川局「海岸統計平成21年度版」より作成

- 下線部③について、正しい組み合わせを選び、記号で答えなさい。  
 ア 岐阜県・愛知県                      イ 富山県・福井県                      ウ 愛知県・静岡県  
 エ 山梨県・静岡県                      オ 岐阜県・静岡県

国土地理院作成2万5千分の1地形図より

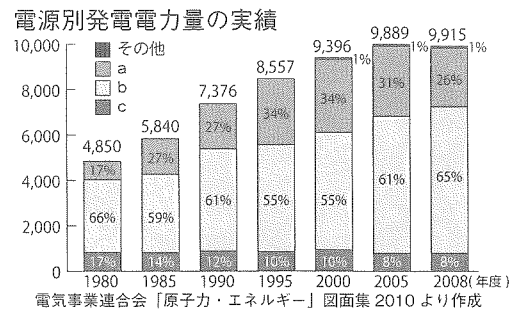


- 地図中のA地点からB地点の断面図としてあてはまるものを下から選び、記号で答えなさい。



- 地図から読み取れないことを次のア～オからすべて選び、五十音順に記号で答えなさい。  
 ア 体育館は明神橋の西にある。  
 イ 天竜川は地図中の北から南へ向かって流れている。  
 ウ 下市田河原には工場がならんでいる。  
 エ ㊸の市役所と㊹の市役所では、㊹の市役所の方が標高が低い。  
 オ 地図中の鉄道は「複線」である。
- 地図中の「明神橋」から「体育館」まで4.5cmありました。実際の距離は何kmですか。少数第3位を四捨五入して、第2位まで求めなさい。

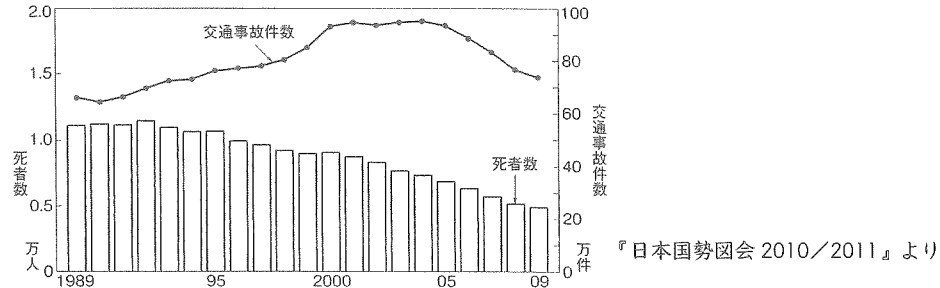
8. 下線部④について、下のグラフは日本の電源別発電電力量をあらわしています。グラフ中のa～cの組み合わせとして正しいものを選び、記号で答えなさい。



- ア a:火力 b:水力 c:原子力  
 イ a:原子力 b:火力 c:水力  
 ウ a:水力 b:火力 c:原子力  
 エ a:火力 b:原子力 c:水力  
 オ a:水力 b:原子力 c:火力

2 次のグラフと文を読み、1～3の問いに答えなさい。

交通事故件数と死者数



上のグラフからもわかるように、1989年から2009年にかけて「道路交通事故」全体の死者数は、おおむね  しています。この理由は車同士の衝突事故が増えたため、屋根を支える部品の強度を高めたり、座席の前や横に (ア) を装備するなど、自動車そのものの安全性を高めたからです。また救急救命医療が進歩したことなども考えられます。その後2000年から2009年にかけては、交通事故件数も  しています。これは一つには (イ) 運転に対する罰則が強化されたことが考えられます。しかし、その一方で高齢者の死者数についてはいぜん多く、今後の対策が求められています。

問

- 空らん 、 に入る言葉を次から選び、記号で答えなさい。  
 ア 増加      イ 減少      ウ 横ばい
- 文中の (ア) (イ) にあてはまる語句を答えなさい。
- 下線部について、高齢者の死者数をへらすために実施した方がよいと思うことを一つ取り上げ、その理由を含めて35字から40字で答えなさい。

3 次の文を読み、1～6の問いに答えなさい。

下の表は日本が輸入する主要輸入品の輸入先をあらわしたものです。A～Dには①ブラジル (Brazil)、②ロシア (Russia)、③インド (India)、④中国 (China) の4カ国が入ります。これらの国々は各々の国名の頭文字をとって「BRICs (ブリックス)」とよばれています。この言葉は、⑤アメリカの会社が2003年に使い始めたことから、広く使われるようになりました。

	木材	綿花	鉄鉱石	精密機械	魚介類
カナダ	25.4	アメリカ 31.4	オーストラリア 54.8	アメリカ 23.9	A 17.4
アメリカ	16.6	B 22.0	B 31.0	A 21.4	アメリカ 9.4
C	12.9	オーストラリア 16.4	南アフリカ 5.3	スイス 10.8	タイ 8.5
A	8.1	D 7.4	D 5.2	アイルランド 8.0	チリ 8.2

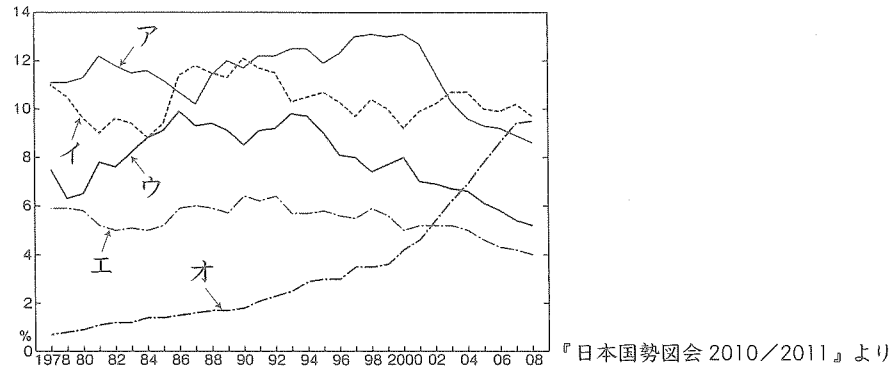
『日本国勢図会 2010/2011』より 単位 (%)

問

- A～Dの組み合わせとして正しいものを選び、記号で答えなさい。  
 ア A:ロシア B:ブラジル C:中国 D:インド  
 イ A:ロシア B:インド C:ブラジル D:中国  
 ウ A:中国 B:ブラジル C:ロシア D:インド  
 エ A:中国 B:インド C:ロシア D:ブラジル  
 オ A:インド B:ブラジル C:中国 D:ロシア
- 下線部①について、この国は面積・人口ともに南アメリカ大陸最大の国です。また流域面積世界一の川も流れています。何という川か、次から選び記号で答えなさい。  
 ア ナイル川      イ アマゾン川      ウ ドナウ川      エ ミシシッピ川
- 下線部②について、現在この国とは領土をめぐる対立をしています。その場所を次から選び記号で答えなさい。  
 ア 沖ノ鳥島      イ 歯舞群島      ウ 尖閣諸島      エ 竹島      オ 与那国島
- 下線部③について、地球が一回転 (自転) するのに約24時間かかります。インドの首都「ニューデリー」は東経77度13分の場所にあり、東京が1月2日の午前0時のときの「ニューデリー」の日時を次から選び、記号で答えなさい。なお東京 (日本) の標準時刻は兵庫県明石市を通る東経135度を基準としています。  
 ア 1月1日午前3時30分      イ 1月1日午後8時30分  
 ウ 1月2日午前3時30分      エ 1月2日午前8時30分

5. 下線部④について、次のグラフは「アメリカ合衆国」「ドイツ」「フランス」「日本」「中国」の世界の輸出貿易に占める割合をあらわしています。「中国」をあらわしているものを選び、記号で答えなさい。

世界の輸出貿易に占める主要国の割合



6. 下線部⑤について、「アメリカ合衆国」は国際連合の平和と安全を維持する機関の常任理事国となっています。この機関の名前を漢字7文字で答えなさい。

4 次の各問いに答えなさい。

問

I. 次のア～オの文と、それに関する写真を見て、1～9の問に答えなさい。

ア


武士が力を持つようになった①この時代には、この木像のような力強い彫刻が多く作られました。力強い像が多かったのは、実力で世の中をわたっていく武士に好まれたからで、本当の人間の筋肉の様子などを写實的に彫ってあるところがそれまでの仏像とは違うところです。



1. 下線部①「この時代」の幕府とは何幕府ですか。

イ

この建物は、「阿弥陀仏を信じれば死後は極楽浄土へ行くことができる」という信仰が盛んな時代に、当時の政治の権力者によって建てられました。建物の造りは、当時の貴族の邸宅によく用いられた②造という様式です。③彼の父親もまた朝廷の実権を長くにぎった貴族で、その絶頂期には「この世をばわが世とぞ思う望月の欠けたることもなしと思えば」という和歌を残したことで有名です。



2. 空らん②にあてはまる語句を答えなさい。

3. 下線部③「彼の父親」とはだれですか。

ウ


この寺は、④豪族の力をおさえて、天皇中心の国にしようと、新しい政治を始めた人物が、斑鳩の里に建てました。金堂や五重塔などは、現存する世界最古の木造建築物です。



4. 下線部④の人物が、豪族たちに政治家としての心構えをしめしたものを何といいますか。

エ

この建物のある寺は、⑤ある天皇が、⑥仏教の力で国の混乱をしずめようとして全国につくらせた寺の中心となりました。当時は伝染病や自然災害や貴族の反乱による戦いなどで世の中が大いに混乱していたのです。この建物の中に盧遮那仏（大仏）が納められていますが、大仏も建物も、建てられた当時のものはごく一部しか残っていません。




- 5. 下線部⑤「ある天皇」とはだれですか。
- 6. 下線部⑥のような寺（男の僧がおかれた寺）を何といいますか。


オ

これは、⑦室町幕府の8代将軍が東山に建てた別荘です。この建物のそばに建つ東求堂の中の同仁斎という部屋は、将軍の書斎で、⑧造という様式が用いられました。

(あ)

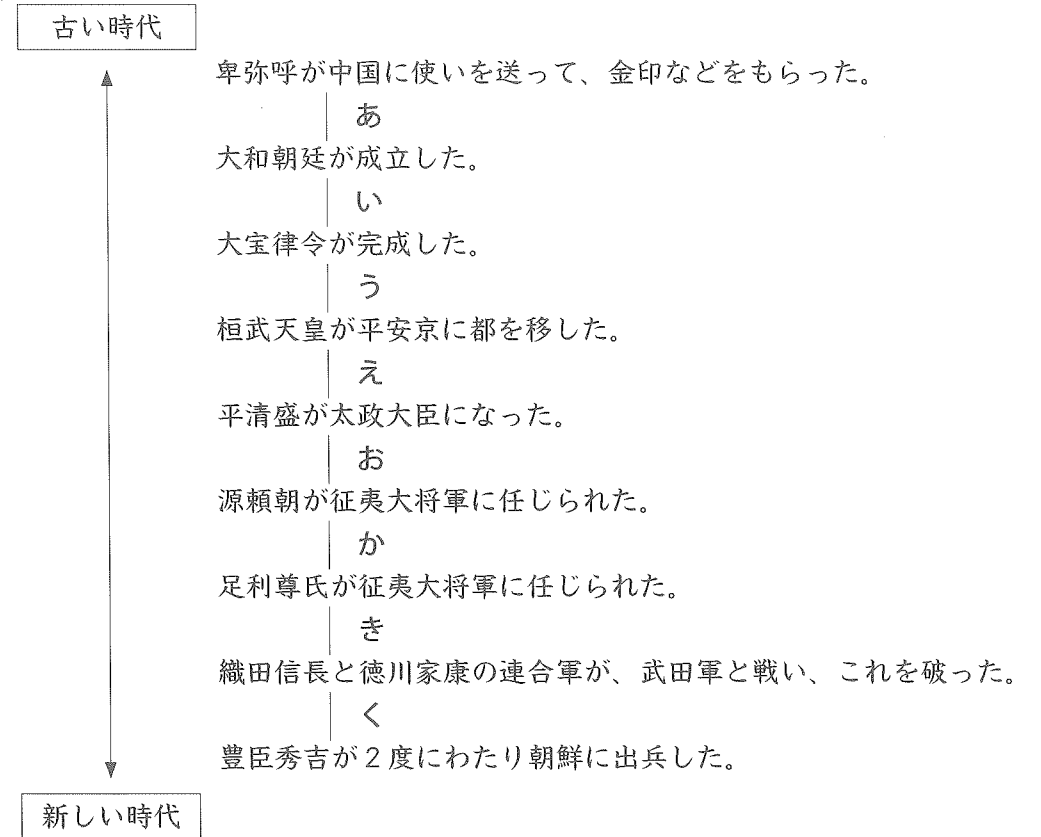


(い)



- 7. オの文が説明している建物は、(あ)と(い)のどちらですか。
- 8. 下線部⑦の将軍とはだれですか。
- 9. 空らん⑧にあてはまる語句を答えなさい

II. 問Iのウ・エ・オの各文のできごとは、いつごろのできごとですか。下の略年表中の あ～く の記号で答えなさい。



5 次本文を読み、IとIIの問いに答えなさい。

戦国時代の終わり近くまで、①はふだんは農村にあって、農村の指導者として農業にたずさわりながら暮らしていた。戦国時代も終わりに近づくと、戦国大名の中には家臣を農村から城の近くによびよせて、城下町に住ませ、農業という生産活動をせずに、役人として主君のもとで働かせるという形をとる者がでてきた。

このあと、①と②の区別をはっきりと固定させたのが、③である。彼は④令を出して、②からやりや刀や鉄砲などの武器を差し出させた。⑤もおこなって、実際に農地の耕作にあたっている農民を確定して⑤帳に登録させた。この⑤の時に、全国でまちまちだった、長さをはかるものさしや容器をはかる「ます」を統一した。②は代々耕してきた田畑を耕作する権利を認められるかわりに、その収穫高（石高）に応じた税（年貢）を①に納める義務を負うことになった。また、田畑を捨てて村を離れることや、

□1□ や商人・職人になることも禁じられた。そのかわり、いくさになっても足軽としてかり出されることはなくなり、戦いはもっぱら □1□ のつとめとなった。

こうした身分の固定化は、そのあとの江戸時代もひきつがれた。□1□ を頂点とする身分制度は □6□ という4文字であらわされたが、さらにその下に低い身分があり、差別をうける人々もいた。一番身分が上とされる □1□ には □7□ を名乗るなどさまざまな特権が認められた。江戸時代も、生産活動をし、税を負担するのは □2□ だけで、□1□ は政治家や役人の仕事と戦いだけをし、税は負担しなかった。

明治になって、新しい政府は、それまでの封建的な身分制度を廃止し国民はみな平等とし、□7□ を名乗らせ、結婚・居住地・職業の制限などをなくした。

これによって、税は □2□ 以外の人も負担しなければならないことになり、土地をもっている人が負担する □8□ など新たな税が定められた。一方、戦闘への参加も国民の義務となり、□9□ 令が定められ、男子は兵役の義務をおった。

問

I. 空らん □1□ ~ □9□ にあてはまる語句を選び、記号で答えなさい。

ア 農民    イ 豊臣秀吉    ウ 名字    エ 消費税    オ 徴兵  
カ 兵士    キ 所得税    ク 荘園    ケ 武士    コ 平民  
サ 刀狩り    シ 商人    ス 士農工商    セ 検地    ソ 天皇  
タ 地租    チ 織田信長    ツ 国民皆兵    テ 身分統制

II. \_\_\_\_\_ のことを何といいますか。漢字4文字で答えなさい。

6 次の1~3の各文を、時代の早い順に記号でならべなさい。

- 1 ア 徳川氏が、豊臣氏を完全に滅ぼした。  
イ 関ヶ原の戦いで、徳川方が勝利した。  
ウ 徳川家康が朝廷から征夷大將軍に任じられた。
- 2 ア 島原の乱がおこった。  
イ 幕府が天領にキリスト教禁止令をだした。  
ウ 幕府が日本人の海外渡航と外国に住んでいた日本人の帰国を全面的に禁止した。
- 3 ア ベリーが浦賀に来航し、開国を要求した。  
イ 日米修好通商条約が結ばれた。  
ウ 桜田門外の変で、大老井伊直弼が暗殺された。

7 次の文を読み、1~6の問いに答えなさい。

明治政府ははじめ、おもに江戸幕府を倒した一部の藩の出身者を中心に政治をすすめていました。それに対して、欧米のように議会や憲法をつくって国民の意見によって政治を行うべきだとする、自由民権運動がまきおこりました。

1889年、ようやく日本で最初の憲法が公布されました。そして選挙が行われ、1890年初めての帝国議会が開かれました。しかし、この時の憲法で定められた政治のしくみは、現在のものとは異なっていました。

問

1. 日本で最初の憲法で、議会は2つと定められましたが、国民の選挙で議員が選ばれるのは、何という議会ですか。
2. はじめての1.の議会の選挙の時は、選挙権のある人は限られていました。年齢は何歳以上と定められていましたか。次から選び、記号で答えなさい。  
ア 18歳    イ 20歳    ウ 25歳    エ 30歳
3. 女性にも選挙権が認められたのは、どの時代ですか。次から選び、記号で答えなさい。  
ア 明治    イ 大正    ウ 昭和
4. 次のア~ウの資料のうち、日本で最初の憲法の条文はどれですか。次から選び、記号で答えなさい。

ア ・国民は、すべて基本的人権の享有をさまたげられない。この憲法が国民に保障する基本的人権は、侵すことのできない永久の権利として、現在および将来の国民に与えられる。

イ ・政治は、広く会議を開き、みんなの意見で行おう。  
・国民は、心を広く合わせ、国の政策を行おう。  
・知識を世界に学び、国を栄えさせよう。

ウ ・天皇が陸海軍を統そつする。  
・臣民(国民)は、法律の範囲の中で、言論、集会、結社の自由を持つ。

5. 次のア～エのうち、現在の憲法にあてはまらないものはどれですか。1つ選んで記号で答えなさい。

ア 国会は、内閣総理大臣を指名する。

イ 裁判所は、法律が憲法に違反していないかどうかを審査する。

ウ 内閣は、衆議院の解散を決める。

エ 天皇は、議会の協力で法律をつくる。

6. 現在の憲法で、行政の仕事をするのは次のうちどれですか。記号で答えなさい。

ア 国会    イ 内閣    ウ 大審院    エ 帝国議会    オ 裁判所

8

次の文を読み、(1)～(10)にあてはまる語句や年号を答えなさい。なお、年号は西暦で答えなさい。

第二次世界大戦末期、連合国は日本に降伏を求める(1)宣言を発表した。この宣言は(2)主義を取りのぞき、民主主義に基づく国家の建設を求めたもので、日本はこれを無条件で受け入れ終戦を迎えた。その後、この宣言にしたがって日本は連合国の占領下におかれ、さまざまな改革が行われた。(3)年には日本国憲法が施行された。新憲法では(4)を永久に放棄すること、(5)が国民にあること、基本的人権を尊重すること、が国の基本原理として定められた。そのほかにも(6)による地主・小作人制度の廃止、労働者の生活と権利を守る法律の制定、教育制度の改革などもおこなわれた。

(7)年には、アメリカなど48カ国と講和条約を結び、日本は独立を回復した。しかしこの条約と同時にアメリカと(8)条約を結び、アメリカ軍は引き続き日本にとどまることになった。また講和条約が結ばれても現在の(9)県はアメリカの統治下におかれたままで、日本の領土として復帰したのは1972年になってからである。ロシア(旧ソ連)との間にも(10)領土をめぐる問題があり、まだ解決していない。

1

1	湖	2	3	I	II	長野県	福島県
4	5	6	7	km		8	

2

1	①	②	2	ア	イ	
3						15
						30
						40

3

1	2	3	4	5
6				

4

I	1	幕府	2	3
	4	5	6	
	7	8	9	
II	ウ	エ	オ	

5

I	1	2	3	4	5	6
	7	8	9			
II						

6

1	→	→	2	→	→	3	→	→
---	---	---	---	---	---	---	---	---

7

1	2	3	4	5	6
---	---	---	---	---	---

8

1	2	3
4	5	6
7	8	9
10		

受験番号		氏名	
------	--	----	--

得点	
----	--