

1

次の1～5の「 」のことばは、昨年まねの新聞やニュースに何度か取り上げられたことばです。それぞれのことばに関連する説明として、間違まちがっているものを1つ選び、記号で答えなさい。

1. 「衆議院が解散」

- ア. 総選挙が行われてから、30日以内に臨時国会しょうしゅうが召集され、首相の指名が行われる。
- イ. 衆議院議員の任期は4年であるが、途中の解散があれば、その時点で任期は終わる。
- ウ. 衆議院は内閣に対して、信任を決議する権限があるが、参議院にこの権限はない。
- エ. 内閣総理大臣になるための資格は、衆議院議員・参議院議員のどちらでもかまわない。

2. 「成人年齢引き下げ」

- ア. 憲法を改正するための国民の投票の権利が、法律で満18歳以上と決まった。
- イ. 現在、満20歳になれば普通選挙法に基づいて、すべての人に選挙権が与えられる。
- ウ. 現在、満20歳になれば親の同意なしに、自由に結婚することができる。
- エ. 現在、犯罪者が未成年であるとき、氏名や写真などは報道されないことになっている。

3. 「北朝鮮が核実験」

- ア. 北朝鮮が核実験を行ったのは、今回で二回目である。
- イ. 核兵器といわれるものには、原子爆弾ばくたんのほかに水素爆弾や中性子爆弾がある。
- ウ. 北朝鮮が地下で核実験を行ったのは、北朝鮮が部分的核実験禁止条約を締結ていけつしているからである。
- エ. 六カ国協議は、北朝鮮の核開発たいしよに対処するための会議で、六者会合または六者協議ともよばれる。

4. 「オバマ大統領就任しゅうにん」

- ア. アメリカの大統領は、日本の首相選出とは異なり、議会の選挙で選出されない。
- イ. オバマ大統領より2代前の大統領はクリントンであった。
- ウ. フランス・ロシア・韓国は大統領という政治的な身分をもうけている国である。
- エ. アメリカの大統領の任期は3年で、最長でも二期連続6年までとなっている。

5. 「初の裁判員による裁判」

- ア. 裁判に出席する裁判員の人数は、6人である。
- イ. 裁判員が参加するのは、地方裁判所で行われる、殺人や放火などの重大な刑事事件である。
- ウ. 裁判員の候補者を選出する方法は、有権者全員を対象にくじで行われる。
- エ. 裁判員が有罪か無罪を決め、有罪であれば裁判官がどれくらいの刑罰けいばつかを定める。

2

次の1～6の文章とそれぞれの写真や絵から、あとの1～16の問いに答えなさい。


一

これは(①)時代の終わりに造られた五稜郭ごりょうかくという城です。これは(②)の地にあります。この地が外国にむけて初めて開港されたのは(③)という条約によってです。

五稜郭という城は、A織田信長が琵琶湖の近くにつくった安土城や豊臣秀吉が淀川河口につくった大阪城など、天守閣のある城とちがって、城の高さが低く五角形になっています。それは、海から攻めてくる外国の船の大砲たいほうで攻撃されにくくするためでした。

しかしこの城を舞台にした戦いがおこなわれたのは、日本人同士の戦いでした。

新しい国をつくらうとする勢力に敗れた旧幕府軍の人々の一部は、この城にたてこもり最後の戦いをしましたが、結局負けて、B新政府の国内統一が完成しました。



1. (①) にあてはまる語句を次のア～オから選び、記号で答えなさい。

ア. 鎌倉 イ. 室町 ウ. 江戸 エ. 明治 オ. 大正

2. (②)、(③) にあてはまる語句を答えなさい。

3. (③) の条約の内容として正しいものを次のア～オから1つ選び、記号で答えなさい。

ア. この条約で開港する約束になっていた場所は、②の地のほかに、新潟・長崎・神奈川・兵庫がふくまれていた。

イ. この条約で開港する約束になっていた場所は、②の地のほかは、下田である。

ウ. この条約で、日本はアメリカと貿易をはじめることになった。

エ. この条約書を交換するために、西郷隆盛は、咸臨丸で相手国におもむいた。

オ. この条約では、日本に開港自主権がないことが定められていた。

4. A 織田信長の政策としてあてはまることからはどれですか。次のア～オから2つ選び、五十音順に記号で答えなさい。

ア. 座を廃止し、城下では自由に商売ができるようにした。

イ. 宣教師を追放し、キリスト教を禁止した。

ウ. キリスト教を厳しく禁止し、絵踏をしたりしてかくれた信者をさがし出した。

エ. 室町幕府をほろぼした。

オ. 検地と刀狩によって、武士と百姓・町人の身分をはっきり区別した。

5. B 新政府の国内統一がなされたあと、この時できた新政府は日本をどのような国につくりかえていきましたか。次のア～カから正しいものを2つ選び、五十音順に記号で答えなさい。

ア. 天皇や公家が華族として支配者となって国を治めるしくみにした。

イ. 武士・百姓・町人に分けられていた身分制度をあらため、みな平等にし、職業や住む場所を自由に選べるようにした。

ウ. 満25歳以上の男子に、衆議院議員と参議院議員を選ぶ選挙権をあたえた。


エ. 個人の会社に西洋の技術を取り入れた近代工場をつくらせ、順調に経営できるようになったら政府が官営工場として買い上げるようにして、工業の近代化をおしすすめた。

オ. 徴兵令をだし、もと武士を中心に満20歳以上の男子は3年間軍隊に入るしくみにして、近代的な軍隊の制度をつくりあげた。

カ. 藩を廃止して、府や県をおいた。

二

この絵のうち、左側にいて立って弓矢を引いているのは、C日本にせめてきた外国の兵で、右側で馬に乗っているのは日本の武士です。この戦いで日本はCの国に危うく敗れそうになりました。




6. C日本にせめてきた外国とはどこですか。当時の国名で答えなさい。

7. この戦いのあと、当時日本を治めていた幕府に対して、家来の武士たちはどのように思うようになりましたか。その理由もふくめて、50字以内で答えなさい。

三

この船は、日本からの留学生たちをのせて中国へ向かう船です。奈良時代に特にさかんに派遣されました。




8. この日本からの使節団を何といいますか。

9. 8の使節団がさかんに派遣されていたころ、政治の中心にいた人物はだれですか。次のア～オから1つ選び、記号で答えなさい。

ア. 聖武天皇 イ. 小野妹子 ウ. 卑弥呼 エ. 聖徳太子 オ. 後醍醐天皇

四

これらの船には政府の高官がのって、日本にとって不平等な条約の改正について交渉してくるためのD使節団として、アメリカやヨーロッパにいきました。



10. このD使節団に入っていない人を、次のア～オからすべて選び、五十音順に記号で答えなさい。


- ア. 岩倉具視 イ. 木戸孝允 ウ. 西郷隆盛 エ. 徳川慶喜
- オ. 坂本竜馬

11. この使節団の条約改正の交渉は成功しませんでした。最終的に日本に不利な点がすべて解消されたのは、西暦何年ですか。

12. 11のときの外務大臣はだれですか。

五

この船はポルトガルから日本にやってきた貿易船です。



13. この絵のかかれた時代に、このような貿易船が来航しなかったのはどこですか。次のア～オから2つ選び、五十音順に記号で答えなさい。

- ア. 長崎 イ. 江戸 ウ. 堺 エ. 鎌倉 オ. 平戸

14. ポルトガルと日本の関係について、正しいものを次のア～オから1つ選び、記号で答えなさい。

- ア. この国の宣教師、フランシスコ=ザビエルが来日し、日本にキリスト教を伝えた。
- イ. この国の人が種子島に漂着し、日本に鉄砲を伝えた。
- ウ. 江戸時代初期、家康は外国との貿易をさかんにしようとして、大名や商人に朱印状を発行して貿易船をつかわした。この国へも朱印状をもった貿易船がたくさん行った。
- エ. この国からは、江戸時代をとおして、將軍の代が変わるごとに国王からお祝いの使者が来日した。
- オ. この国は江戸時代の終わりまで出島に商館をかまえて、幕府の監督のもと日本との貿易を続けた。

六

この絵は、1886年、和歌山県の沖で沈没した船をめぐり、ある国の対応を風刺したものです。



15. この絵が風刺している、1886年のイギリス船の沈没事件を何といますか。

16. 15.の沈没事件は、その後日本の外交問題に大きく影響しました。どのような事態になっていきましたか。正しいものを次のア～オから1つ選び、記号で答えなさい。

ア. この時、イギリス人の船長と日本人の乗組員だけ救命ボートでのがれて、その他の国の乗客が亡くなったため、それらの国の政府が日本に抗議して賠償金を求めてきた。

イ. この時、日本人の船長と中国人やインド人の乗組員だけ救命ボートでのがれた。亡くなった乗客のほとんどはイギリス人だったので、イギリスが日本の政府に抗議して賠償金を求めてきた。

ウ. 乗員や乗客の安全を守る義務を果たさなかった船長には、軽い罰しか科せられなかったため、日本の国民は、その原因は幕末に結んだその国との条約の中で、関税自主権が日本にみとめられていなかったためだと考え、条約改正を政府に要求するようになった。

エ. この船の船長が、乗員や乗客の安全を守る義務を果たさなかったことについての裁判は、イギリスにいる日本人の領事によって行われた。

オ. この沈没した船にのっていた日本人の乗客は全員死亡した。船長の責任を問う裁判の結果に不満をもった日本人は、その原因が幕末に結んだ諸外国との条約の中で、相手国に領事裁判をみとめていたからだと考え、条約改正の世論が高まっていった。

3 次のA群・B群のそれぞれのア～オのできごとを、時代の早い順に並べかえなさい。また問1と問2に答えなさい。

A群

ア. 漢字のくずし字をもとにひらがなを用いて、紫式部の『源氏物語』を代表とするたくさんのお話や、日記が書かれました。

イ. 当時の天皇が愛用した品を収蔵する倉には、ガラスで作られた器や、ラクダに乗った人やヤシの木が貝の細工で描かれている琵琶など、西アジアから伝えられたといわれるものも納められていて、当時国際交流がさかんであったことがわかります。

ウ. 寺子屋では「読み・書き・そろばん」を中心に、日常の生活や商品取引に必要なことなどを学びましたが、義務教育というものはありませんでした。

エ. それまでの日本の技術に、大陸から伝わった「登りがま」などの技術が加わり、高温で焼いた灰色の土器ができるようになりました。

オ. 中国にわたって修行をした雪舟は、帰国後、日本独特の水墨画を大成しました。

問1. ア～オのうち、江戸時代のできごとはどれですか。1つ選んで記号で答えなさい。

B群

ア. 清との戦争に勝った日本は、清から独立を認められた朝鮮への経済的進出をはじめました。

イ. 自分の土地を持たない小作農とよばれる農民にも安い値段で土地が分け与えられるようになったり、労働者には労働組合をつくることが認められたりと、日本の産業構造を大きく変える改革が次々とおこなわれました。

ウ. ヨーロッパで第一次世界大戦がおこり、その戦いの間はヨーロッパの国々から工業製品の注文があつて日本は輸出がさかんになり、景気がよくなりました。

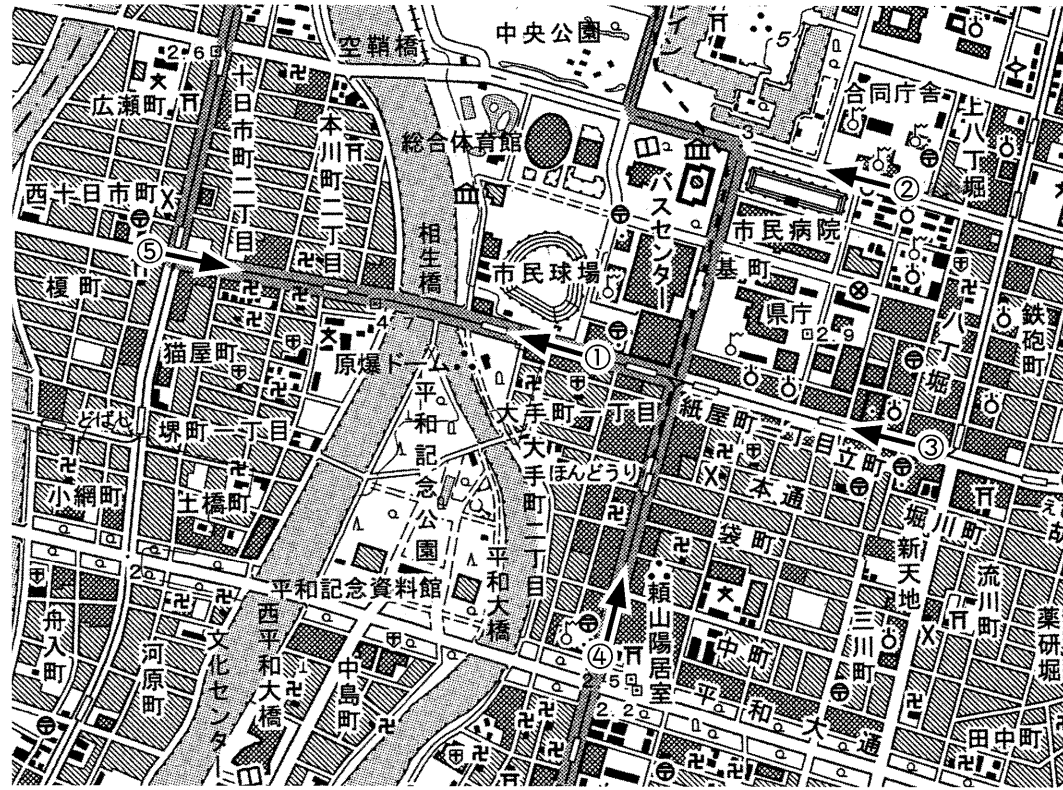
エ. 高度経済成長期に入り、人々の暮らしは豊かになり、「三種の神器」などとよばれる家庭電化製品がふきゅうしました。しかし一方で、公害などの問題もおこってきました。

オ. 世界恐慌がおこり、世界中が大変な不景気になりました。その影響を受けた日本では、一部の軍人や政治家・経済界の人々が、ふたたび中国大陸に進出することによって、この経済状況をぬけだそうと主張をはじめました。

問2. ア～オのうち、大正時代のできごとはどれですか。1つ選んで記号で答えなさい。

4

次の資料と文を読み、あとの1～8の問いに答えなさい。(地形図は1:25000のものを拡大しています)



上の地図は「(A)」の名で有名な あ) 広島県にある広島平和記念碑付近の地形図です。(A)は い) 広島市に投下された原子爆弾の悲惨さを今に伝える記念碑として残されたもので、原子爆弾が投下されたころは、「広島県産業奨励館」とよばれていました。「二度と同じような悲劇が起こらないように」と(A)は国際連合の機関である(B)の う) 世界遺産に登録されました。

2009年4月、え) アメリカのオバマ大統領はチェコの首都プラハで演説し、「世界で唯一核兵器を使用したことのある お) 核保有国として、アメリカは行動を起こす責任がある」と述べ、「核兵器のない世界」の実現に向けて世界を引っ張っていくことを誓いました。


これに対し か) 広島市長は原爆の日の平和記念式で読み上げた平和宣言の中で、オバマ大統領の演説を強く支持し、世界中の市民が核兵器廃絶に向けて行動していく責任がある、と指摘しました。

1. (A) (B) にあてはまる語句を答えなさい。

2. 次の手紙は、地図中の地域に行った桜子さんが、友人に出した手紙です。桜子さんはきれいな景色をみた、と書いていますが、それはどこからみた景色ですか。あてはまる場所を地図中の①～⑤から選び、番号で答えなさい。地図中の矢印は進行方向(本人の向いている方向)をあらわしています。

お元気ですか。先日わたしは市民球場に野球を見に行きました。球場に行く途中のことですが、夕日を正面にうけながら、赤々とまぶしい中を、たくさんの乗客を乗せた路面電車が走っている光景は、とてもきれいで感動しました。道の左側には郵便局、右側には役所がありました。そこから一日の仕事を終えた人たちがたくさん出てきて、通りはとてもにぎやかでした。今度またこの夕方の景色を楽しみながら、一緒に野球を見に行きたいと思い、この手紙を書きました。

3. 下線部 あ) について、右の写真はこの県の特産物である海産物の養殖場です。この海産物とは何ですか。



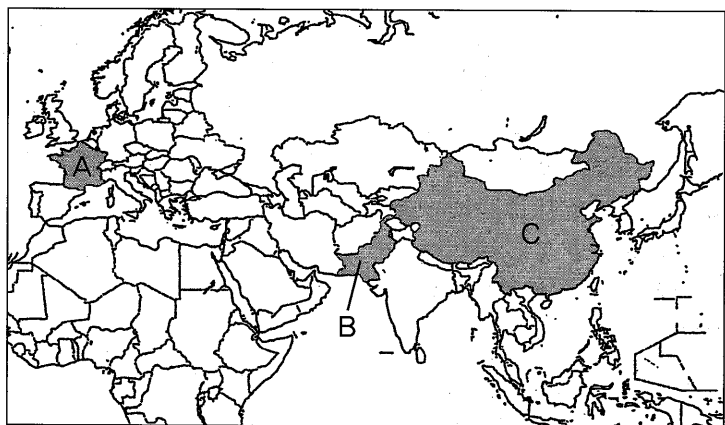
4. 下線部 い) は政令指定都市です。次のア～オから政令指定都市でないものを1つ選び、記号で答えなさい。
ア. 北九州市 イ. 神戸市 ウ. 堺市 エ. 浜松市 オ. 長崎市

5. 下線部 う) について、この県には(A)のほかにもう一つ、「世界遺産」になっているものがあります。もう一つの「世界遺産」とは何ですか。ひらがなで答えなさい。

6. 下線部 え) について、次のア～エは日本がアメリカ合衆国・中国・ブラジル・サウジアラビアから輸入している輸入品を、金額の多い順に3位まで並べたものです。このうち、アメリカ合衆国からの輸入品にあたるものを選び、記号で答えなさい。
ア. 鉄鉱石、肉類、アルミニウム
イ. 機械類、どうもろこし、航空機類
ウ. 機械類、衣類、金属製品
エ. 原油、液化石油ガス、石油製品

(『日本国勢図会 2009/10年版』より作成)

7. 下線部 お) について、下の地図中のA・B・Cの国はいずれも「核保有国」です。ABCにあてはまる国名の組み合わせとして、正しいものをア～オから選び、記号で答えなさい。

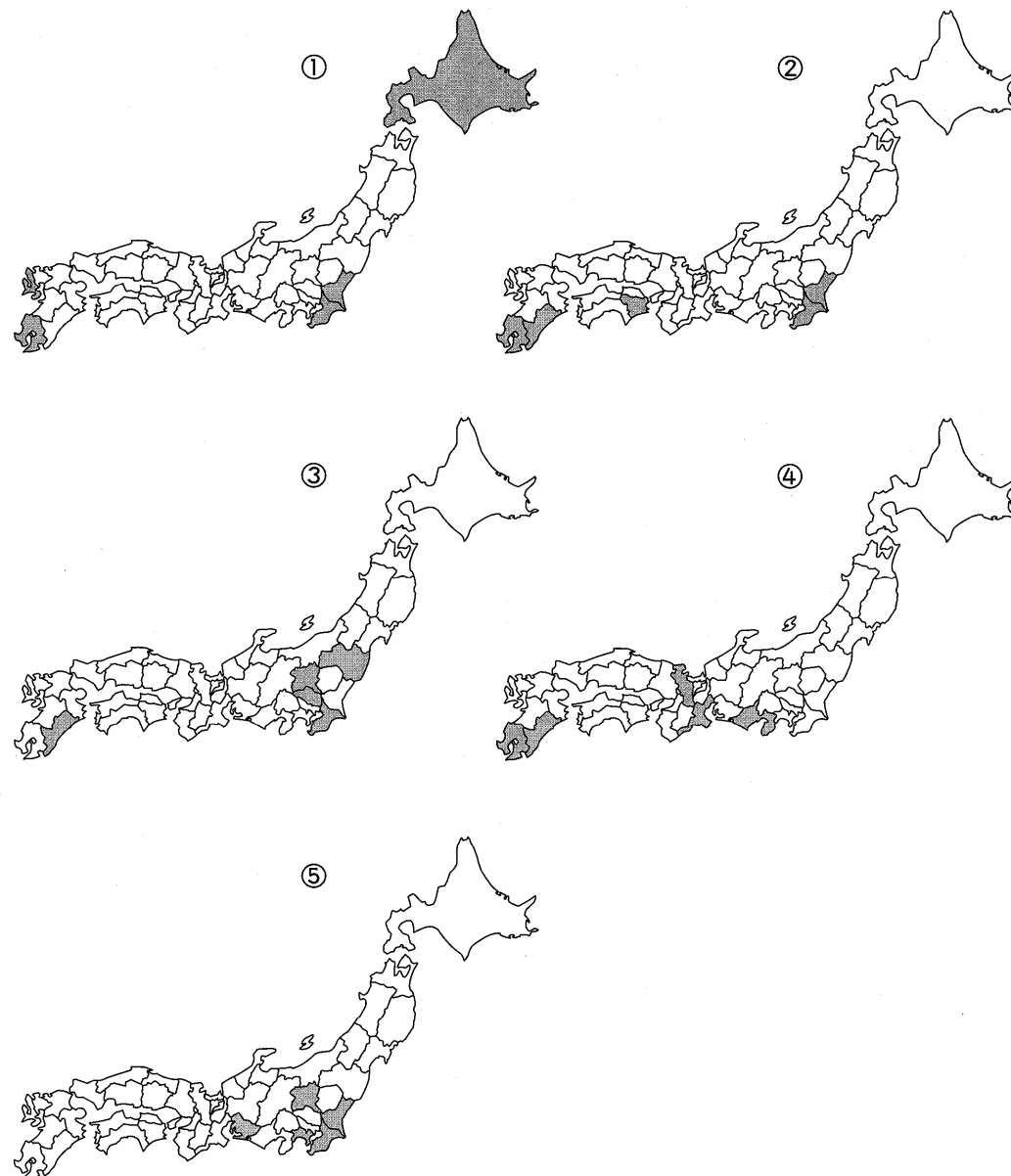


- | | | |
|------------|------------|--------|
| ア. A: フランス | B: アフガニスタン | C: 北朝鮮 |
| イ. A: イギリス | B: パキスタン | C: 中国 |
| ウ. A: フランス | B: インド | C: 北朝鮮 |
| エ. A: イギリス | B: アフガニスタン | C: 中国 |
| オ. A: フランス | B: パキスタン | C: 中国 |

8. 下線部 か) について、式典の開かれる「原爆の日」とは何月何日ですか。

5 わが国の農業について、1～2の問いに答えなさい。

1. ①～⑤の地図は、2007年の農産物の生産量の上位5位までの都道府県を表わしています。それぞれの地図がしめす農産物をア～コより選び、記号で答えなさい。



- | | | | |
|---------|----------|---------|----------|
| ア. もも | イ. じゃがいも | ウ. きゅうり | エ. レタス |
| オ. 茶 | カ. キャベツ | キ. たまねぎ | ク. さつまいも |
| ケ. ピーマン | コ. 日本なし | | |

2. 農産物の生産やその特色について、正しいものを次の①～⑤から1つ選び、番号で答えなさい。

- ①レタスは冷涼な気候のもとで栽培されるため、生産の上位5位のうち半分以上は東北地方の県がしめている。
- ②てんさいは、さとうきびとともに暖かい地域で栽培される工芸作物で、砂糖の原料となる。
- ③ピーマンは夏野菜であるが、抑制栽培により暖かい地方では年間通して収穫できるようになった。
- ④たたみ表の原料となるい草の生産は、大分県が全国1位であるが、収穫量は年々減ってきている。
- ⑤さつまいもは、江戸時代ききに備えて積極的に栽培がすすめられた。今では食用のほか、でんぷんやアルコールの原料としても使われる。

6

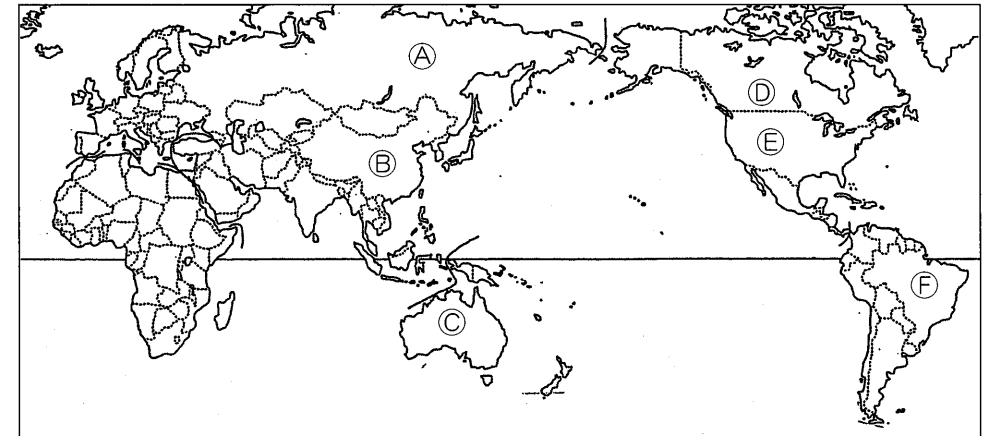
わが国の貿易について、1～2の問いに答えなさい。

1. 下の表の1～5はわが国のおもな輸入品の品目で、右側はその輸入先の国と金額のわりあい(%)をあらわしています。表中のA～Fの記号は地図中のA～Fの国々をしめしています。1～5の品目をあとのあ～こから選び、記号で答えなさい。

主要輸入品の輸入先(2008年)(%)

1	④ 26.9	⑤ 16.2	① 13.7	マレーシア 6.8			
2	② 17.2	⑥ 10.7	③ 9.1	タイ 7.9	チリ 6.8	ベトナム 5.4	インドネシア 5.3
3	⑥ 60.6	④ 23.7	③ 15.5				
4	③ 52.9	⑥ 33.0	南アフリカ共和国 5.3	インド 4.2	④ 1.7	チリ 1.4	
5	⑥ 72.3	⑥ 15.2	④ 9.3	② 3.1			

(『日本国勢図会 2009/10年版』より作成)



- あ. とうもろこし い. 小麦 う. だいず え. 木材
- お. 魚介類 か. 石油 き. 石炭 く. 鉄鉱石
- け. 液化天然ガス こ. コーヒー

2. 次の文章を読み、問いに答えなさい。

日本は資源がとぼしく外国から原材料を輸入し、これを加工して工業製品を輸出する加工貿易で発展してきました。1960年代からは鉄鋼・造船・機械・石油化学工業などの重化学工業がその中心になりました。1970年代になると自動車や電気機械などの輸出が増え、アメリカやヨーロッパの国々とのあいだで、貿易摩擦という問題が occurred。1990年代に入ると、アジア地域の工業化や日本企業の海外進出がすすみ、貿易のすがたはまたかわってきました。1960年代とここ2～3年の輸出入品を比較してみると、輸出では(A)が半分以上を占め、輸入では(B)のわりあいがふえています。日本の会社はものづくりの場所を、国内からアジアへと移すようになってきており、貿易面での結びつきもアメリカからアジアの国々へと、かわってきています。

1) (A) と (B) に入るものの組み合わせとして、ア～エから正しいものを選び、記号を答えなさい。

- ア. A: 機械類や自動車 B: 機械類や石油
- イ. A: 鉄鋼や金属製品 B: 羊毛や綿花
- ウ. A: 衣類や魚介類 B: 機械類や自動車
- エ. A: 羊毛や綿花 B: 機械類や石油

2) 下線部について、この理由を解答欄にあわせて15字以内で答えなさい。ただし文末は「～から」で終わるように書きなさい。

1

1		2		3		4		5	
---	--	---	--	---	--	---	--	---	--

2

1	①	2	②	③
3		4		5
6				
7				
8		9		10
11		12		13
14		15		16

3

A群

時代順に	問1	
------	---	---	---	---	----	--

B群

時代順に	問2	
------	---	---	---	---	----	--

4

1	A	B	2	
3		4	5	
6		7	8	月 日

5

1	①	②	③
	④	⑤	2

6

1	1	2	3
	4	5	2 1)
2	2)		

受験番号		氏名	
------	--	----	--

得点	
----	--