

[1]次の文章を読んで、あとの問いに答えなさい。

「境目」と聞いて皆さんはどのような境目を連想するでしょうか。①国境という言葉に見られるような国と国の境目、他の市や区との境目、自分の家の敷地と隣の家の境目、または②子どもと大人の境目のような③時間的な境目、なかには④あの世とこの世のような境目を思い浮かべる人もいるかもしれません。

このような境目の1つに都道府県の境目も挙げられます。特に昨年は新型コロナウイルス感染症対策として国が「緊急事態宣言」を発出した期間を中心に「都道府県の県境をまたいだ移動は控えください」などと言われていたことを覚えていることでしょう。⑤実際にさまざまな(あ)の解析からもゴールデンウィーク期間には都道府県間の移動が控えられたことが確認されています。

では「県境」とはどのような場所に設けられているのでしょうか。そのことはまず現在の都道府県の源流である7～8世紀の時代に設けられた、律令国家の「国」から考えてゆかなければなりません。こうした「国」は明治維新後の1871年に(い)が行われると廃止され、1888年には現在の都道府県の原型ができあがりました。律令国家の「国」は山や峠の尾根、川、湖などを境目としていましたので、現在でもそのような場所が都道府県境となっていることが多く見られます。険しい山などの尾根を県境とするために、時に県境は気候の変わり目にもなります。ノーベル文学賞を日本人として初めて受賞した⑥の小説『雪国』の冒頭には「国境の長いトンネルを抜けると雪国であった」とありますが、この国境は上越国境、つまり現在の群馬県と新潟県の県境を指しています。⑦冬場には晴天でからっ風の吹く群馬県側、大雪の新潟県側と県境を越えると気候が一変することもあるのです。

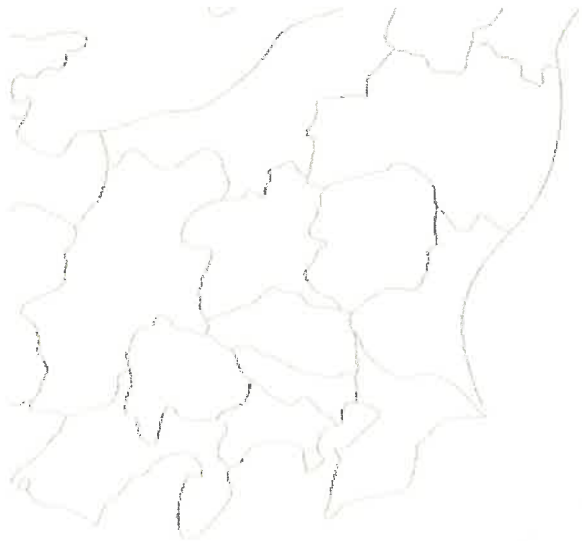


写真1 [群馬県板倉町のホームページより]

ところで、上の白地図に見られるように、⑧県境(海を挟んだ都道府県境は考えないものとします)には3つの都府県の境目となっている場所(以下、三県境と呼びます)もあります。三県境は43都府県で48ヶ所あると言われていますが、ほとんどが険しい山の山頂や川の中となっています。写真1は⑨埼玉県・群馬県・栃木県の三県境ですが、この三県境は徒歩で容易に行くことのできる観光スポットとなっています。



各都府県境にはそれを越える鉄道や自動車の通行できる道路が1つ以上はあります。しかし、群馬県と(う)県の県境は鉄道も道路もなく、この両県にまたがる移動は登山道を徒歩で越えることしかできません。このような場所は日本で唯一ですが、その理由の1つとして、両県の県境のほとんどが(え)国立公園内に位置しており、開発が制限されていることがあげられます。

また、2つの府県境にまたがるような施設も存在します。最後にこのような例を紹介してゆきましょう。京都府木津川市と奈良県奈良市の境目に立地するショッピングモールの床には写真2に見られるように府県境が表示されています。府県境を明確に表示している理由は、⑩府県単位での管轄が必要な事柄を明らかにするためと言われています。

写真2 [神戸新聞 NEXT のホームページより]

問1. 空らん(あ)～(え)に当てはまる語句を答えなさい。[(あ)はカタカナ6字]

問2. 下線部①について、以下の日本の領域を説明した文章を参考にして、ア～エの文のうち、誤りを含むものを1つ選び、記号で答えなさい。

国の主権が及ぶ場所を領域と呼びます。日本の領域には、北海道、本州、四国、九州と、その周辺の小さな島々を含む領土、領土の海岸線から12海里(1海里は1852m、12海里は22224m)までの範囲の海である領海、領土と領海の上空である領空から構成されます。また領土の海岸線から200海里(約370km)までの水域を排他的経済水域と言います。一般に排他的経済水域内にある水産物や鉱物などの資源は、沿岸国の物になります。

- ア. 日本の領域の面積は領土と領海の面積を足したものに等しい。
- イ. 日本の領空の面積は国土面積の約38万km²と等しい。
- ウ. 日本の排他的経済水域内では、外国船が日本の許可なく勝手に漁をしてはいけない。
- エ. 日本の排他的経済水域の面積は国土面積の約38万km²よりも大きい。

問3. 下線部②について、以下の設問に答えなさい。

(1) 子どもと大人の境目の年齢についての以下の文章のうち、誤りを含むものを1つ選び、記号で答えなさい。

- ア. 子どもと大人の境目の年齢を「就職する年齢」と考えれば、人によってその年齢は異なることになる。
- イ. 子どもと大人の境目の年齢を「成人年齢」と考えれば、現在の日本では20歳となる。
- ウ. 子どもと大人の境目の年齢を「結婚できる年齢」と考えれば、現在の日本では男女で年齢が違うことになる。
- エ. 子どもと大人の境目の年齢は時代や地域が変わったとしてもほぼ一定であった。

(2) 子どもから大人へと成長してゆく中で、重要な節目にあたって行われる儀礼を通過儀礼と言います。以下のうち、通過儀礼にあてはまらないものを1つ選び、記号で答えなさい。

- ア. お宮参り イ. 七五三 ウ. 桃の節句 エ. 成人式 オ. 小学校の入学式

問4. 下線部③について、日本歴史の時代の境目(時代区分)は大きく分けて3つのパターンがあると考えられます。そのうちの1つは明治時代から大正時代のような年号(元号)の変わり目です。残り2つの境目(〇〇時代という名付け方)について、以下の設問に答えなさい。

- (1) 旧石器時代・縄文時代・弥生時代はどのようなことを基準にした境目(区分)ですか。
- (2) 奈良時代・平安時代・鎌倉時代・室町時代・江戸時代はどのようなことを基準にした境目(区分)ですか。

問5. 下線部④について、奈良時代に太安万侶によって記録された、日本の神話を記したある書物によれば、生きている人の住む世界と死者の住む世界(黄泉)との間には黄泉比良坂という境目があるとされています。この書物名を答えなさい。

問6. 下線部⑤について、ある特定の期間の人々の移動を調査するデータとして、不適切と考えられるものを2つを選び、記号で答えなさい。なお、データの利用に際しては、個人情報の処理は適切に行われているものとします。

- ア. 人々の携帯電話の位置情報の履歴
- イ. 人々の交通系ICカードの利用履歴
- ウ. 国勢調査で調査された地区ごとの昼間人口と夜間人口の比率
- エ. 人々のETC(高速道路などの有料道路を自動車を利用する際に料金所で自動的に料金を支払う仕組み)利用履歴
- オ. 人々の交通定期券の発行履歴

問7. 空らん⑥にあてはまる人物名を以下から1人選び、記号で答えなさい。

- ア. 湯川秀樹 イ. 川端康成 ウ. 芥川龍之介 エ. 三島由紀夫 オ. 夏目漱石

問8. 下線部⑦の理由を説明しなさい。

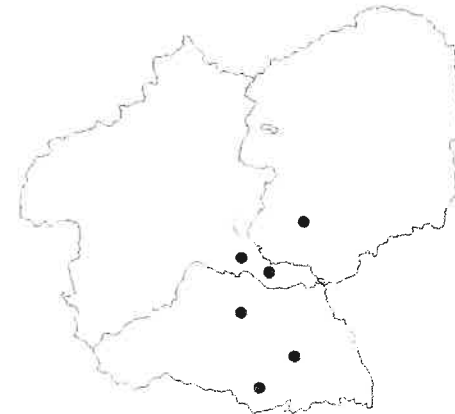
問9. 下線部⑧について、以下の設問に答えなさい。

(1) 三県境の最も多い県は三重県で9箇所になります。その理由として最も適当なものを1つ選び、記号で答えなさい。

- ア. 三重県は隣接する府県数が全国で最も多い県だから。
- イ. 三重県は県境の距離の長さが全国で最も長い県だから。
- ウ. 隣県和歌山県の飛び地が三重県と奈良県の県境にあるから。
- エ. 三重県は県の面積が全国で最も大きい県だから。

(2) 三県境がない都道府県は4つあります。北海道、沖縄県、佐賀県と何県ですか。

問10. 下線部⑨の埼玉・群馬・栃木の3県について、以下の設問に答えなさい。



(1) 左の地図中の●はどのような工業の立地を示していますか。以下から1つ選び、記号で答えなさい。

- ア. 鉄鋼業 イ. 石油化学工業
- ウ. セメント工業 エ. 自動車組立工業

(2) 以下の表のABCはこの3県の農業産出額(農業生産額)の金額とその内訳を示しています。この3県の組み合わせとして最も適当なものを以下のア～カから1つ選び、記号で答えなさい。

	農業産出額(億円)	農業産出額の内訳
A	2,871	畜産38%、野菜28%、米25%、その他9%
B	2,454	畜産43%、野菜40%、米7%、その他10%
C	1,758	野菜47%、米21%、畜産15%、その他17%

(関東農政局 『関東農政局管内の農業産出額(平成30年度)』より)

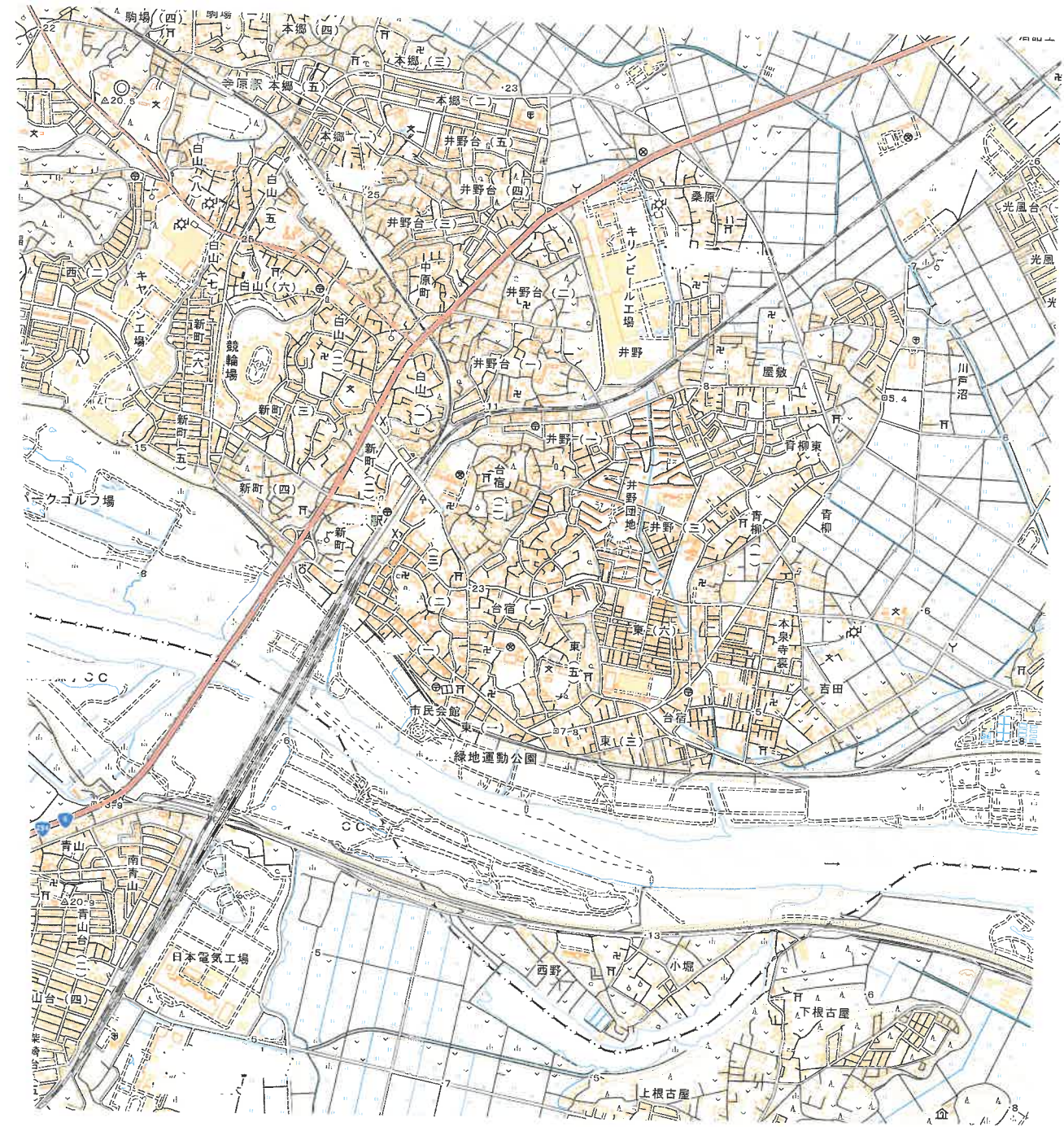
- ア. A-埼玉 B-群馬 C-栃木 イ. A-埼玉 B-栃木 C-群馬
- ウ. A-群馬 B-埼玉 C-栃木 エ. A-群馬 B-栃木 C-埼玉
- オ. A-栃木 B-群馬 C-埼玉 カ. A-栃木 B-埼玉 C-群馬

問 11. 下線部⑩について、以下の事柄のうち、管轄が府県単位となるものはどれですか。最も適当なものを1つ選び、記号で答えなさい。

- ア. ショッピングモール内の各店舗の固定資産税の納付先
- イ. ゴミ収集の管轄
- ウ. 事故や事件が発生した際の警察の管轄
- エ. 火災や緊急の際の消防の管轄

問 12. ある県は他の都道府県との境目(海を挟んだ都道府県境は考えないものとします)が、約 200 kmありますが、その境界線のほとんどすべてが河川となります。県境のほとんどすべてが河川となるのは日本で唯一です。以下の設問に答えなさい。

- (1) その県とは何県ですか。
- (2) その県の河川でない県境の例として、次ページの地形図に見られるような場所もあります。県境が地形図のように河川の流路と一致していない理由として考えられることを記しなさい。
- (3) 以下の文章のうち、この地形図からは読み取れないことを1つ選び、記号で答えなさい。
 - ア. 県境となっている河川は西方向から東方向へと流れている。
 - イ. 市役所の最寄りの鉄道駅は JR 線ではなく私鉄の駅となっている。
 - ウ. JR 線の駅から半径 1km 以内に裁判所・高等学校・図書館はあるが警察署はない。
 - エ. 小堀地区の人々が対岸の市民会館へ行くには西の道路橋を渡ってゆく以外の手段がない。
- (4) 地形図中の JR 線の鉄道橋の長さは地形図上で 4cm あります。この鉄道橋を特急列車が 30 秒で渡り終えたとしたら、この特急列車の時速は何 km ですか。なお、特急列車の編成の長さは無視するものとします。



国土地理院発行 2.5 万分 1 地形図
(一部の地名や河川名などの表記は設問の都合上、隠しています)

問2. 次の文章を読んで、あとの問いに答えなさい。

日本の歴史から見た「境目」についても考えてみましょう。古代には都を中心にした七道という幹線道路が作られ、都への敵の侵入を防ぐために、北陸道に愛発関(福井県)、東海道に鈴鹿関(三重県)、東山道に不破関(岐阜県)という関所が設置されました。この三カ所の関所はすべて都の東側に設置されており、古代ではこの関所より東の地域を「関東」と呼んでいました。奈良時代に編纂された歌集『(あ)』に載せられた東歌には、「関東」の民衆の様子が歌われています。都に住む人々にとって九州から畿内にかけては関の内側で、東側は遠く自力で帰るのが難しい地域と考えられ、律令国家では②「関東」が流罪の地として選ばれました。

中世に入り、この東西の境界意識は大きく変わりました。承久の乱の後、尾張から西の地域は、朝廷の監視も行っていた(い)の管轄下に入り、三河から東が鎌倉幕府の管轄下となりました。つまりそこが東西を分ける境界の1つとなり、三河・尾張は③東西の情報や商品を交換する場所であったと考えられます。このような④三河・尾張の地域性が様々な歴史上の武将を生み出してきました。

近世までは、外国との「境」については大きな問題になりませんでした。17世紀から18世紀前半までの日本地図を見ると、どこまでが日本の境界内なのかが画定しておらず、地図の範囲も時代によって異なり、幕府が支配する領域はともあいまいだったことがわかります。逆に言えば、「境」を定める必要がなかったともいえます。なぜなら、幕府が許可した場所以外に外国船が来航することが想定されていなかったからです。

しかし、18世紀後半に入ると、外国に対する意識を大きく変える人物が現れました。その一人が仙台藩士の林子平です。彼は、天明5(1785)年、⑤『三国通覧図説』という地理書を著し、付録に地図を載せました。彼は従来の地図とは異なる、まったく新しいタイプの地図をつくったのです。

安政5(1858)年の修好通商条約の締結以降、外国との貿易が行われるようになりました。外国との取引を通じて、日本も近代国家体制の整備を急ぎました。領土を画定させるために、様々な国と条約を締結します。明治8(1875)年には特命全権大使の榎本武揚が樺太・(う)交換条約を締結し、ロシアとの国境を定め、翌年に小笠原諸島の領有を宣言しました。⑥明治政府はようやく「国家」意識を持つようになったのです。

問1. 文中の空らん(あ)～(う)に当てはまる語句を答えなさい。

問2. 下線部①の周辺で起きた歴史上の出来事について、X・Yの文章の正誤を判定しなさい。

X: 壬申の乱で勝利した大海人皇子が即位して、近江大津宮に遷都した。

Y: 東軍の徳川家康が天下分け目の戦いで、豊臣秀頼に勝利した。

ア. X=正 Y=正 イ. X=正 Y=誤 ウ. X=誤 Y=正 エ. X=誤 Y=誤

問3. 下線部②について、次の文章の「この地」のうち、問題文のいう「関東」にあたらないものを1つ選びなさい。

ア. 源頼朝は平治の乱の後、この地に流された。

イ. 鎌倉幕府の執権北条時頼に意見を提出した日蓮はこの地に流された。

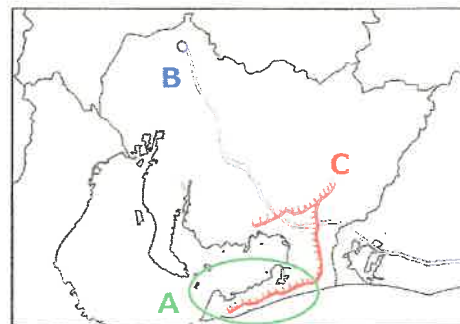
ウ. 法然の弟子であった親鸞は、後鳥羽上皇の怒りにふれ、この地に流された。

エ. 後醍醐天皇は、鎌倉幕府の倒幕計画を立てたが、元弘の変でこの地に流された。

問4. 下線部③について、現在でも愛知県は東西をつなぐ中継地としての役割を果たしています。以下の【地図1】のAは半島、Bは高速道路、Cは用水路を示しています。A半島には、【写真】のような日本夜景遺産の1つがみられます。この夜景はある作物の栽培と関係があります。

A半島一帯でこの作物が栽培されるようになった理由は何ですか。この作物の名前をあげ、立地に着目して説明しなさい。

【地図1】



【写真】



〔日本夜景遺産のホームページより〕

問5. 下線部④について、尾張出身ではない武将の説明として、正しいものを1つ選びなさい。

ア. 九州にバテレン追放令を出し、宣教師の国外追放を命じた。

イ. 幼少期を今川氏の人質として過ごし、息子の名で武家諸法度を制定した。

ウ. 堺の鉄砲生産の技術に着目して、自治権を取り上げ直接おさめた。

エ. 小田原攻めで北条氏をほろぼし、東北地方の伊達政宗を従えた。

問6. 下線部⑤について、以下の【資料1・2】は『三国通覧図説』から、【地図2】はその付録の地図『三国通覧輿地路程全図』(出題者が一部編集)から引用したものです。

【資料1】『三国通覧図説』序文(出題者により訳出)

地理は非常に大切である。思うに、政府にいて国事にあたる者が地理を知らない時には、治安を守ることができない。兵士を引き連れて征伐を職務とする者が地理を知らない時には、安全を確保できない。…世に地理に明るい者は多くいるが、その誰もが万国の図(世界地図)を作るか、または、本国の図(日本地図)に限定して描くだけである。…だから、今新たに本国を中心にして **D**・**E**・**F** 及び小笠原島などの図を作り示すことがこの本の目的である。この三国(3つの国・地域)は **G** だからである。思うに本国の人、身分の上下や教育の有無に関係なく、知るべきものは三国の地理である。

【資料2】『三国通覧図説』に載せられた三国の風俗(一部抜粋)

D の文字について

새라호수사
치호수사
도호수사
사사사
자사사
기사사
미사사
이사사
가사사

E について(出題者により訳出)

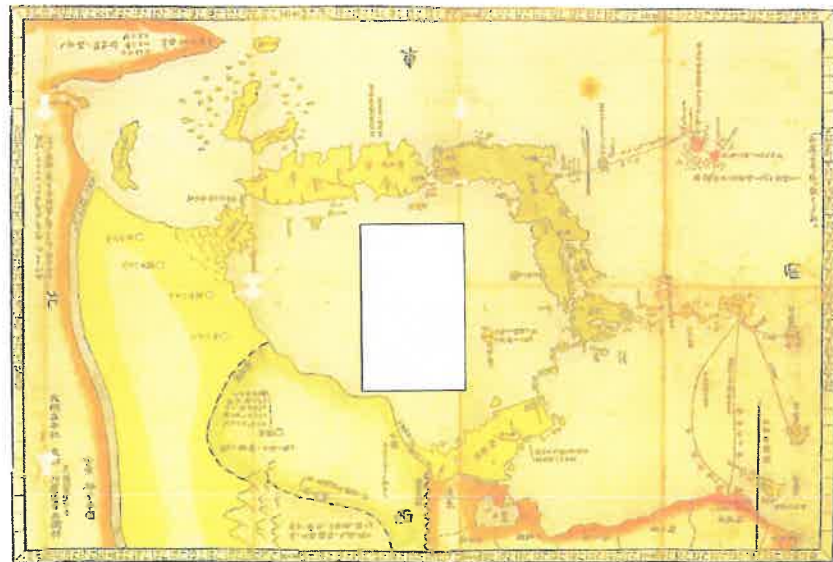
…その国は小さいので、日本、中国の两大国に服従して両方の朝廷に使いを送っている。日本を訪ねるときは日本の年号を使用し、中国を訪ねるときは中国の年号を用いる。…

F にいる人々について

下品ノ夷人軟皮ヲ着タル姿也被リテル物ハ本邦ノ常帽子ヲモ用ヒ又自國ニテモ製スルヘ
中下品ノ者尼ノ帯ハ幅差ヌシヨ
ヲ以テ其身ハ甚チテシサシ
或モキリト云皆本邦ヨリ渡スヘ出包ノ類シテ悉酒田打也



【地図2】『三国通覧輿地路程全図』



(1) 資料や地図を参考に、空らん **D**・**E**・**F** に当てはまる国・地域をそれぞれ答えなさい。

(2) 【資料1】中の **G** には林子平がこの「三国」を本で取り上げた理由が入ります。Gに当てはまる理由を、【地図2】を参考にしながら 15 字以内で答えなさい。

(3) 18 世紀後半に、【資料1】中の波線部のような考えを林子平は持ち、**F** について特に詳しく説明しています。このような考えが生まれた背景を当時の国際情勢から考え、15 字以内で説明しなさい。

問7. 下線部⑥について、「国家」意識の高まりとともに、明治政府は四民平等を実現し、均質な「国民」を生み出そうとしました。四民平等によって農民や商人・職人は名字を名乗ることや自由な結婚ができること等、いくつかの権利を獲得できた一方で、平等に義務も課されました。その義務を2つ、それぞれ漢字二字で答えなさい。

(問題は次のページにつづきます)

[3]次の文章を読んで、あとの問いに答えなさい。

昨年(2020年)は正月早々に、X:カルロス=ゴーン日産自動車元会長が刑事裁判を控えた身(被告)でありながらレバノンへ逃亡するというニュースが飛びこみ、改めて我が国と世界とのつながりを感じた人も多かったのではないのでしょうか。そこで、この問題では国際結婚(これも「境目」のひとつをなしています)によって大きな話題を提供した3人の女性を取り上げ、世界との結びつきについて目を向けていきます。

まず1人目は、クーデンホーフ光子です。本名は青山みつといます。彼女が著名になった理由は、1893年に(あ)出身のクーデンホーフ=カレルギー伯爵と出会い、当時としては珍しかった国際結婚のはしりとなったことが挙げられます。(あ)はウィーンを首都とする国です。2人が知り合ったのは、紅葉館という外国人を接待する社交場でした。同じ時期に、条約改正のために井上馨や伊藤博文が開設した国際的な社交場としては、現在の千代田区内幸町にあった(い)が知られています。紅葉館は(い)のいわば姉妹組織とでもいうべきものでした。

クーデンホーフ光子は「レディーミツコ」とも呼ばれ、その波乱に満ちた人生はたびたび物語や舞台にもなりましたが、彼女の名前が知られるようになったもうひとつの理由としては、息子リヒャルトの存在があります。リヒャルトは雑誌『パン・ヨーロッパ』を1923年に刊行し、ヨーロッパがひとつになることを呼びかけました。それは現在に続く①ヨーロッパ統合の先駆けとなる運動だったため、リヒャルト=クーデンホーフ=カレルギーは「ヨーロッパ統合の父」のひとりに数えられます。現在、ヨーロッパ統合は、1993年に発効した(う)条約により、EU(ヨーロッパ連合)に発展しています。

Y:第二次世界大戦が終わるまで、すなわち戦前に最も国際的に著名であった日本人女性がクーデンホーフ光子であったとするならば、戦後に最も世界中で知られるようになった日本人女性のひとりが、2人目のオノ=ヨーコでしょう。彼女は本名を小野洋子といい、芸術家として活動を開始し、1960年代に世界的なロック・グループとなった(え)のリーダーであるジョン=レノンと1969年に結婚しました。英国のグループであった(え)は1966年来日し、初めて日本武道館をコンサート会場として使用したことも知られています。ジョンとヨーコのふたりは、「ラブ&ピース(愛と平和)」を唱えて反戦運動を行い、1969年には「ウォー・イズ・オーバー(戦争は終わった)」の屋外看板広告を世界12都市で掲げて、アメリカ合衆国が当時泥沼におちいていた(お)戦争の早期終結を訴えました。

最後に3人目として、最近でもテレビでよく見かけるデヴィ夫人にも触れておきましょう。デヴィ夫人こと本名根本七保子は、インドネシア共和国の初代大統領であるスカルノによって、1962年に正式にその第三夫人として迎えられました。したがって、彼女のことをデヴィ=スカルノとも呼びます。なぜ第三夫人かというと、スカルノ大統領が(か)教徒であり、世界で最もインドネシアに信者の多い(か)教では、一夫多妻制が認められているからです。第二次世界大戦後にインドネシアの独立を達成し、その初代大統領となったスカルノは、②1955年にジャワ島で国際的な会議を開催したことも知られま

す。しかし彼は独裁者としての顔も持ち、この会議から十年後には国内で軍事クーデターが発生したため、国際結婚を通じて茶の間の有名人になったデヴィ夫人も、かつてのクーデンホーフ光子と同様に、波乱の人生を歩んだのでした。

問1. 空らん(あ)～(か)に当てはまる語句を答えなさい。

問2. 下線部①に関する説明について、正しい組み合わせをA～Dから1つ選びなさい。

(ア) フランスとドイツが中心国であり、欧州の平和と安定に貢献した。

(イ) 難民問題に苦しんだイタリアが、2020年にEUから正式に離脱した。

- A. (ア)(イ)ともに正しい B. (ア)のみ正しい
C. (イ)のみ正しい D. (ア)(イ)ともに誤り

問3. 下線部②に関する説明について、正しい組み合わせをA～Dから1つ選びなさい。

(ア) バンドン会議と呼ばれ、主に環境問題について話し合った。

(イ) 朝鮮戦争の休戦後に開かれ、我が国も出席した。

- A. (ア)(イ)ともに正しい B. (ア)のみ正しい
C. (イ)のみ正しい D. (ア)(イ)ともに誤り

(問題は次のページにつづきます)

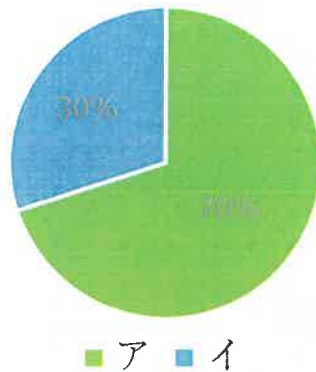
問4. 波線部について、彼とオノ＝ヨーコが共作した曲として「イマジン」が知られています。国境や戦争のない世界を想像（イマジン）するこの曲の精神を伝える建造物（モニュメント）として、2007年にアイスランドの首都レイキャビック沖合の島に「イマジン・ピース・タワー」が建てられました。

この場所が選ばれた理由としては、アイスランドの環境に配慮した発電への取り組みが関係しているといわれています。以下のグラフはアイスランドの発電割合を示しており、そのうち30%を占めるイの発電には、我が国の技術も導入されています。

アとイの組み合わせとして正しいものをA～Dから1つ選びなさい。

- A. (ア) 水力 (イ) 地熱 B. (ア) 火力 (イ) 水力
 C. (ア) 地熱 (イ) 原子力 D. (ア) 原子力 (イ) 火力

アイスランドの発電割合



出典：IEA “Key World Energy Statistics 2019”

問5. 二重下線部Xについて、ゴーン被告の日本への身柄引き渡しは実現していませんが、我が国が犯罪人引き渡し条約を結んでいるのは、アメリカ合衆国と大韓民国だけです。

犯罪人について日本・アメリカ・韓国に共通することを、刑事裁判の判決の結果として受ける可能性のある刑罰の点から、説明しなさい。

問6. 二重下線部Yについて、我が国では第二次世界大戦はこれまで「太平洋戦争」と表記されることが多かったですが、近年「アジア太平洋戦争」と呼ばれることも増えてきています。その理由を説明しなさい。

氏名

受験番号

[1]

問1	あ	い	う	県	え
問2	問3	(1)	(2)		
問4	(1)		(2)		
問5	問6	問7		
問8					
問9	(1)	(2)	県	問10	(1) (2) 問11
問12	(1)		県		
	(2)				
	(3)	(4) 時速	km		

[2]

問1	あ	い	う
問2	問3		
問4			
問5			
問6	(1)	D	E F
	(2)		
	(3)		
問7		

[3]

問1	あ	い	う	条約
	え	お	戦争	か
問2	問3	問4		
問5				
問6				