

2024年度 入学試験問題  
一般第1回入試

社 会

注 意

1. 問題はⅠからⅢまであります。
2. 試験時間は30分です。
3. 答はすべて解答用紙に記入し、**解答用紙だけを提出**してください。
4. 受験番号は**算用数字**で記入してください。
5. 声を出して読むではいけません。
6. 試験場の監督者の指示があるまで、問題用紙を開いてはいけません。

I. 以下の文は、夏休みの自由研究で県境について調べようとしている和洋君（立教新座中学校 1 年生）とお兄さん（立教新座高校 2 年生）の会話です。この文を読み、以下の問に答えなさい。なお、ここでの県境は隣り合う県同士、県と都、府と県、府同士、道と県の境のことです。

和洋 日本地図を見ていると、いろいろな県境があつておもしろいよ。例えば、他の都道府県と陸地であつながらず、海でへだてられ、1 つの県としか県境を持たないところもあるんだよ。

兄 それは、沖縄県と鹿児島県の県境と北海道と青森県の県境(1)だね。

和洋 それから、いろいろなものが県境になっているんだ。海峡、河川(2)、山脈(3)、湖(4)、道路などいろいろな県境があるんだ。

兄 同じ境ということでは、国同士の境界である国境にもいろいろあるよね。河川、山脈、湖など自然の地形などを利用した国境(5)もあると地理の時間に習ったよ。それ以外にも緯度や経度を利用した国境もあるよね。

地理の授業で、河川を国境にすると、領土問題の原因となる場合がある(6)と習ったよ。

和洋 そうなんだ。あと、地図を見て気づいたけれど、海に面していない内陸にある県の方が、周りを他の都道府県に囲まれているから、多くの県と接しているよね。

兄 一番多くの都道府県と接している県は、どこかわかるかい。

和洋 わからないや。海に面していない内陸の県と、隣り合う都道府県(7)を、地図を見て調べてみるよ。

兄 がんばれ！どこも海に面していない内陸国(8)もあるよね。

問 1 下線部(1)についてですが、県境となる海峡名を答えなさい。

問 2 下線部(2)についてですが、県境となる河川として適切ではないものを、以下より選び、記号で答えなさい。

- ① 木曽川      ② 熊野川（新宮川）      ③ 利根川      ④ 信濃川

問 3 下線部(3)についてですが、県境が引かれている高地・山地・山脈として適切ではないものを、以下より選び、記号で答えなさい。

- ① 北上高地      ② 関東山地      ③ 鈴鹿山脈      ④ 越後山脈

問 4 下線部(4)についてですが、県境が引かれている湖として適切なものを、以下より選び、記号で答えなさい。なお、この県境は 2008 年に確定しました。

- ① 猪苗代湖      ② 十和田湖      ③ 田沢湖      ④ 琵琶湖

問 5 下線部(5)についてですが、自然の地形などを国境としている例として適切ではないものを、以下より選び、記号で答えなさい。

- ① フランス－(ライン川)      －ドイツ  
② スイス   －(アルプス山脈)－イタリア  
③ カナダ   －(五大湖)          －アメリカ合衆国  
④ チリ      －(ロッキー山脈)－アルゼンチン

問 6 下線部(6)についてですが、なぜ河川を国境にすると領土問題の原因になるのですか。その理由を簡潔に説明しなさい。

問 7 下線部(7)についてですが、以下の表は、和洋君が海に面していない内陸県と、隣り合う都道府県の数調べたメモをもとに作ったものです。この表を見て次のページの間に答えなさい。

地方名	都道府県名	隣り合う都道府県数	隣り合う都道府県
関東 地方	(ア) 県	4	(イ) 県、埼玉県、他 2 県
	(イ) 県	5	(ア) 県、埼玉県、他 3 県
	埼玉県	7	(ア) 県、(イ) 県、(ウ) 県、(エ) 県、他 3 都県
中部 地方	(ウ) 県	5	埼玉県、(エ) 県、他 3 都県
	(エ) 県	8	(イ) 県、埼玉県、(ウ) 県、岐阜県、他 4 県
	岐阜県	7	(エ) 県、(オ) 県、他 5 府県
近畿 地方	(オ) 県	4	岐阜県、他 3 府県
	奈良県	4	4 府県

1) 内陸県である表中の(イ)県、(エ)県の2県両方に県境を接する県は、埼玉県ともう1県あります。この県名を答えなさい。

2) 上記1)で答えた県の農業の特色として最も適切なものを、以下より選び、記号で答えなさい。

- ① 扇状地を利用して、ぶどうやももなどの果樹栽培がさかんである。
- ② 農地の約9割が水田で、日本一の米の生産量をほこっている。
- ③ 稲作が中心だが、チューリップの日本有数の産地でもある。
- ④ 都市向けの野菜・果実などを生産し、特にイチゴの生産では有名である。

3) 内陸県である表中の岐阜県、(オ)県、奈良県の3県と県境を接する県名を答えなさい。

4) 上記3)で答えた県の特色として最も適切なものを、以下より選び、記号で答えなさい。

- ① この県の北部にある<sup>こうざん</sup>鉱山の<sup>はいすい</sup>廃水にふくまれたカドミウムが、河川を通じて隣の県に達し、イタイイタイ病を引き起こした。
- ② 明治時代の中ごろ、この県の北西部にある<sup>どうざん</sup>銅山の開発により、銅山からの<sup>こうどく</sup>廃水中の<sup>あ</sup>鉱毒によって、川の魚が死んだり、川沿いの農作物がかれたりした。
- ③ 1960年代の石油化学コンビナートの<sup>そうぎょう</sup>操業とともに、コンビナートから排出された<sup>あ</sup>亜<sup>りゅうさん</sup>硫酸ガスによって多くの<sup>かんじや</sup>ぜんそく患者が発生した。
- ④ 工場から<sup>はいしゅつ</sup>排出された有機水銀が、川魚などを通じて人の身体に入り、脳や神経に障害を引き起こした。

5) 表中の(ア)県と(ウ)県の県名を答えなさい。

問8 下線部(8)についてですが、この内陸国の例として適切ではないものを、以下より選び、記号で答えなさい。

- ① スイス      ② エクアドル      ③ モンゴル      ④ ネパール

Ⅱ. 和洋君は、日本列島の歴史を東日本と西日本に分けた場合、どのような違いがあるのかを考えてみました。そして、東日本の歴史に関するキーワードとして次の9個を選びました。これらのキーワードに関して、以下の問に答えなさい。

縄文文化 壬申の乱 蝦夷 平将門の乱 鎌倉幕府 江戸幕府 金 東京遷都 北海道

問1 縄文文化は、西日本よりも東日本で特に栄えたとされています。東日本で縄文文化が栄えた理由として、ブナの木が多かったことが挙げられています。他の木にくらべて、ブナの木が多いとなぜ人口を維持するのに有効なのでしょう。最も適切なものを以下より選び、記号で答えなさい。

- ① ドングリやトチの実がとれるので、食料を確保しやすいため。
- ② 木材が豊富に使えて、住居が造りやすいため。
- ③ 自然のダムの役割を果たすことで、洪水が起きにくいため。
- ④ すぐに成長することで、木材として確保しやすいため。

問2 壬申の乱では、東日本の豪族が大きな役割を果たしました。

- 1) 大海人皇子は東日本から味方を集めるため、吉野から東に向かい、現在の愛知県を經由して大津を攻めたとされます。この時に夫である大海人皇子に同行して、のちに天皇に即位した人物は誰ですか、答えなさい。
- 2) 壬申の乱が起きた頃、九州北部の守りを固めるために東日本から兵士が派遣されていました。この兵士を何といいますか、答えなさい。

問3 蝦夷は東北地方に住んでいた部族で、古代から朝廷の侵攻を受けることになりました。

- 1) 蝦夷を率いて、坂上田村麻呂と戦い、802年に処刑された人物は誰ですか。以下より選び、記号で答えなさい。
- ① シャクシャイン      ② コシャマイン      ③ オニビシ      ④ アテルイ

- 2) 9世紀以降、朝廷に降伏した蝦夷は厳しい扱いを受け、東北地方の境界地域に配置されました。この人たちが、安倍氏をリーダーとして1051年に蜂起<sup>ほうき</sup>しますが、源頼義・義家親子らによって鎮圧されました。この戦いを何といいますか、答えなさい。

問4 平将門の乱は、平安時代の東日本で起きた大規模な反乱です。将門は京都の天皇に対して、自らを何と名乗りましたか、答えなさい。

問5 鎌倉幕府の成立によって、初めて政治の中心が東日本に置かれました。

- 1) 鎌倉幕府が成立する過程を順番に並び替えた時に、2番目に来るものはどれですか。以下より選び、記号で答えなさい。

- ① 源義経をとらえる名目で守護・地頭が設置される。
- ② 後白河法皇の死後、源頼朝が征夷大將軍となる。
- ③ 西国へ逃げた平氏が、壇ノ浦の戦いで滅びる。
- ④ 北陸道から攻め上った源義仲が京都へ入る。

- 2) 1221年、京都の後鳥羽上皇が鎌倉幕府打倒の兵をあげます。この戦いは幕府軍の勝利に終わりますが、このときに大将として京都に攻め上り、のちに御成敗式目を制定した人物は誰ですか、答えなさい。

問6 江戸幕府は、政治的にも経済的にも東日本の発展に大きな役割を果たしました。

- 1) 江戸幕府の所在地である江戸は、日本最大の都市として発展することになります。そのため、江戸と各地を結ぶ五街道が整備されますが、その起点となったのはどこですか、答えなさい。

- 2) 江戸は学問の中心としても栄えましたが、1797年に朱子学を学ぶ幕府公営の学問所として成立した教育機関は何ですか、答えなさい。

問7 金は東日本で特に多く産出されたため、江戸時代の東日本では金貨が多く使われました。東日本にあった金山として適切なものはどれですか。以下より選び、記号で答えなさい。

- ① 足尾      ② 佐渡      ③ 生野      ④ 別子      ⑤ 石見

問 8 東京遷都によって、江戸は東京と改称され、明治天皇が京都からやってきました。

- 1) 明治天皇の住まいとなった宮殿一帯は、江戸時代には別の施設として使われていました。宮殿一帯にかつてあった施設は何ですか、答えなさい。
- 2) 東京にはいち早く鉄道が敷<sup>し</sup>かれたましたが、1872 年に開通した日本初の鉄道は、東京の新橋とどこを結んでいましたか、答えなさい。

問 9 北海道の近代は、ロシアと日本との間で揺れ動いた歴史でした。

- 1) 江戸時代後期になると、北海道周辺にロシア人が多く現れるようになります。漂流民の大黒屋光太夫を連れて、1792 年に根室にやってきた人物は誰ですか、答えなさい。
- 2) 日露戦争の結果、北海道のさらに北にある島の南半分が日本領となりました。この島を何といいますか、答えなさい。

Ⅲ. 和さんと洋さんは「時代による学び方・働き方のちがい調査」という企画に参加し、近所に住む卒業生に昔の話を聞きました。この文を読み、以下の問に答えなさい。

洋さん 中学校に通っていたのは、いつごろでしたか。

卒業生 中学校に入学したのは1973年でした(1)。

和さん 教室はどんな様子でしたか。

卒業生 今のような冷房設備はなく、冬にストーブが入りました。男子も女子も、それぞれの出席番号順に並んで座っていましたね。

洋さん 男の子と女の子に別々の出席番号が、割りふられたのですか？

卒業生 男子を先頭にした通し番号だった学校もあるようです。私たちの学校の名簿<sup>ぼ</sup>は男子と女子で別々の出席番号が割りふられ、男子が先、女子が後に書いてありました。

和さん 今の私たちは、男女関係ない名簿なので、不思議な感じがします。

卒業生 私たちには、男女別名簿が当たり前だったのです。授業も男子と女子では違い、男子は技術を、女子は家庭科を習っていました。

洋さん 学校で学ぶ内容にも、男女差があったのですね。

卒業生 学習内容が同じになったのは、日本が1985年に女子差別撤廃条約(2)を批准<sup>ひじゅん</sup>\*したことが、きっかけの一つです。この年には男女雇用機会均等法(3)も制定されています。皆さんが探究するヒントがあるかもしれませんね。

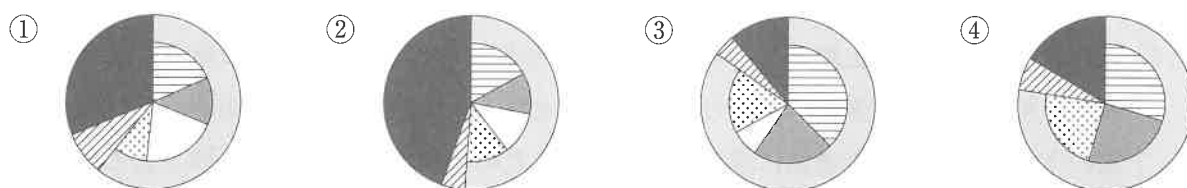
註 \*批准…国際条約を、国会が承認すること。

問1 和さんと洋さんは、インタビューをまとめることになりました。インタビューとそのまとめの方法について適切な対応はどれですか、以下より選び、記号で答えなさい。

- ① インタビューの目的や利用方法を、相手に説明しなかった。
- ② あとから自分で調べた情報も付け加えて、インタビューとしてまとめた。
- ③ 記事にしない約束の話も、大事なことなので書き加えた。
- ④ インタビューの結果をまとめて、インタビューの相手に見せた。



問2 下線部(1)についてですが、1973年に第四次中東戦争をきっかけとした石油危機が起こり、翌年は戦後初のマイナス成長を記録しました。次のグラフは、1973年度、1993年度、2003年度、2023年度の日本の国家予算のうち、歳入を示したものです。1973年度のものを、以下より選び、記号で答えなさい。



凡例 □ 租税及び印紙収入 (▨ 所得税 ▤ 法人税 □ 消費税 ▩ その他)、▨ その他の収入、■ 公債金

問3 下線部(2)についてですが、以下の問に答えなさい。

1) 女子差別撤廃条約が採択された国際連合の機関として、適切なものを以下より選び、記号で答えなさい。

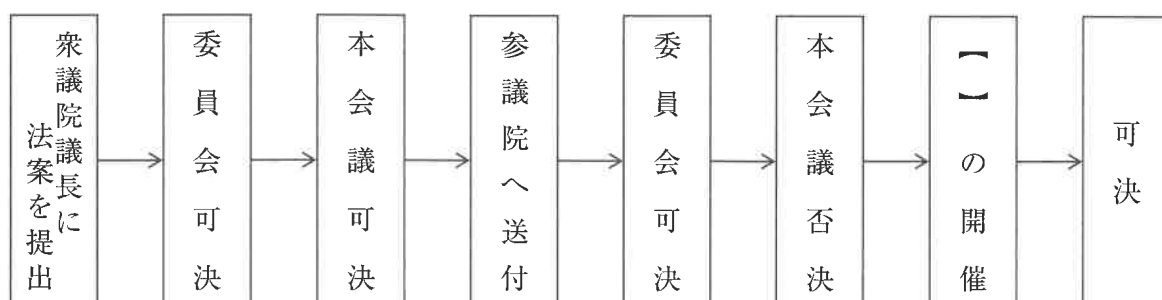
- ① 安全保障理事会 ② 経済社会理事会 ③ 事務局 ④ 総会 ⑤ 人権理事会

2) 女子差別撤廃条約を批准する以前から、日本国憲法 24 条でも、男性と女性の本質的平等が記されていました。それは何についてですか、適切なものを以下より選び、記号で答えなさい。

- ① 国籍を変えること ② 仕事を選ぶこと ③ 結婚相手を選ぶこと  
④ 学校を選ぶこと

問4 下線部(3)についてですが、以下の問に答えなさい。

1) 以下の図は、男女雇用機会均等法などの法律を、国会で制定する過程について示したものです。法律案の審議が、図のような状況になった場合に開催されることがある【 】について、【 】ではどのようなことが行われますか。【 】に入る語を明記した上で、具体的に説明しなさい。

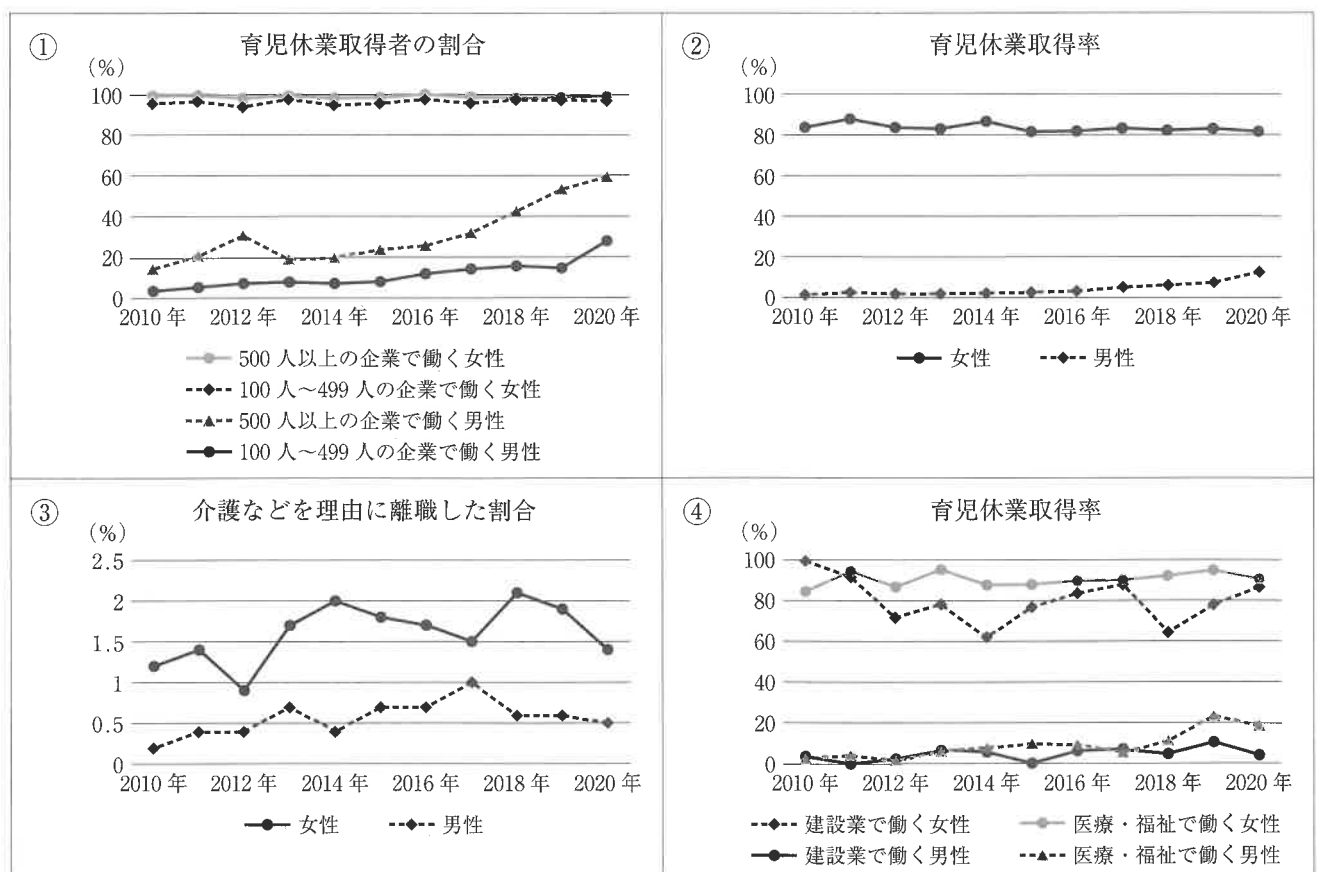


2) 男女雇用機会均等法が施行されてから、性別を理由にした格差は少なくなりつつあり、いまある格差については裁判を通してその適正さが問われています。日本の裁判制度について説明した以下の文の空欄にあてはまる語を答えなさい。

仕事中の事故で顔に重いけがを負った男性が、顔へのけがに対する労災保険\*の給付について、国を相手に裁判を起こしました。この男性は、けがの程度が同じであるにも関わらず、保険金の給付額に男女差がもうけられ、男性が女性よりも低い給付額しか認められないことは、法の下での平等を定めた憲法に違反すると主張したのです。請求金額が原則として140万円以下の場合を除いて、日本の裁判制度で最初に裁判を行うのは【 X 】や家庭裁判所です。この件では京都【 X 】で裁判が行われ、男性の主張が認められました。日本の裁判制度は【 Y 】を採用していますので、裁判所の判決に不服がある場合は上級裁判所に再度判断をあおぐことができます。【 X 】から高等裁判所にうったえることを【 Z 】といいます。この事件で国は【 Z 】を断念し、敗訴が確定しました。現在、この規定は修正されています。

註 \*労災保険…仕事によるけがやその後遺症について、けがの程度によって、定められた等級に従って国から給付金が支払われる仕組み。

問5 和さんと洋さんは、インタビューからヒントをもらって、男女雇用機会均等法が制定されてから、私たちがどのように男女の差別を解消しようとしてきたのか、右ページの資料を利用して、子育てというテーマでまとめてみることにしました。まとめの下線部を補足するような図1を付け加えるとすれば、最も適切なものはどれですか。以下より選び、記号で答えなさい。



題名 働く権利と子どもを育てる役割を男女平等にすること

年表1 男女雇用機会均等法のおもな改正内容

年	おもな内容
1985	・男女雇用機会均等法が制定され、仕事の募集・採用、配置・昇進について、女性を男性と同じように扱うように努力することが求められた。
1999	・仕事の募集・採用、配置・昇進について、女性を男性と同じように扱うことが求められた。 ・女性に対するセクシュアルハラスメントを防ぐようにすることが、義務化された。
2007	・男性に対しても女性に対しても、セクシュアルハラスメントが禁止された。 ・女性の妊娠、出産等を理由に、仕事の上で不利益な取扱いをすることが禁止された。
2017	・女性の妊娠、出産等を理由に、仕事の上で不利益な取扱いをすることが禁止されるとともに、未然に防ぐための防止措置が義務化された。

年表2 育児・介護休業法のおもな改正内容

年	おもな内容
1992	・育児休業法が施行された。
1995	・育児・介護休業法として改正された。
2005	・必要に応じて、子が1歳6か月に達するまで育児休業を延長できるようになった。 ・子の看護休暇制度の設定が義務化された。
2010	・配偶者が専業主婦（夫）であっても育児休業がとれるようになった。
2017	・男女雇用機会均等法の改正と合わせ、育児休業等に関する上司・同僚による就業環境を害する行為に対する防止措置を義務付ける規定がもうけられた。
2022	・育児休業を分けて取得することができるようになった。 ・産後パパ育休制度が作られた。

まとめ

- ・男女雇用機会均等法だけでなく、関係する法律も改正しながら、働く権利を平等にする取り組みが行われてきたことがわかった。
- ・育児休業制度は充実してきたが、実際に取得するためには、まだ問題がある。特に規模の小さな会社では、今でも男性が育児休業を取得することは難しいようだ。
- ・今後は、様々な職場で必要なだけ取得できるようにすべきである。

図1



J1－B

受験番号		氏名	
------	--	----	--



2024J1B

↓ここにシールを貼ってください↓

得点	
----	--

I.  
問1

海峡

問2

問3

小計

問4

問5

問6

問7

1) 県

2)

3) 県

4)

5)  
(ア) 県 (ウ) 県

問8

II.  
問1

問2

1)

2)

小計

問3

1)

2)

問4

問5

1)

2)

問6

1)

2)

問7

問8

1)

2)

問9

1)

2)

III.  
問1

問2

問3

1)

2)

小計

問4

1)

2)  
X Y Z

問5

合計	
----	--