

令和 7 年度

中学校入学試験問題

社会

第 1 回 (2 月 1 日実施)

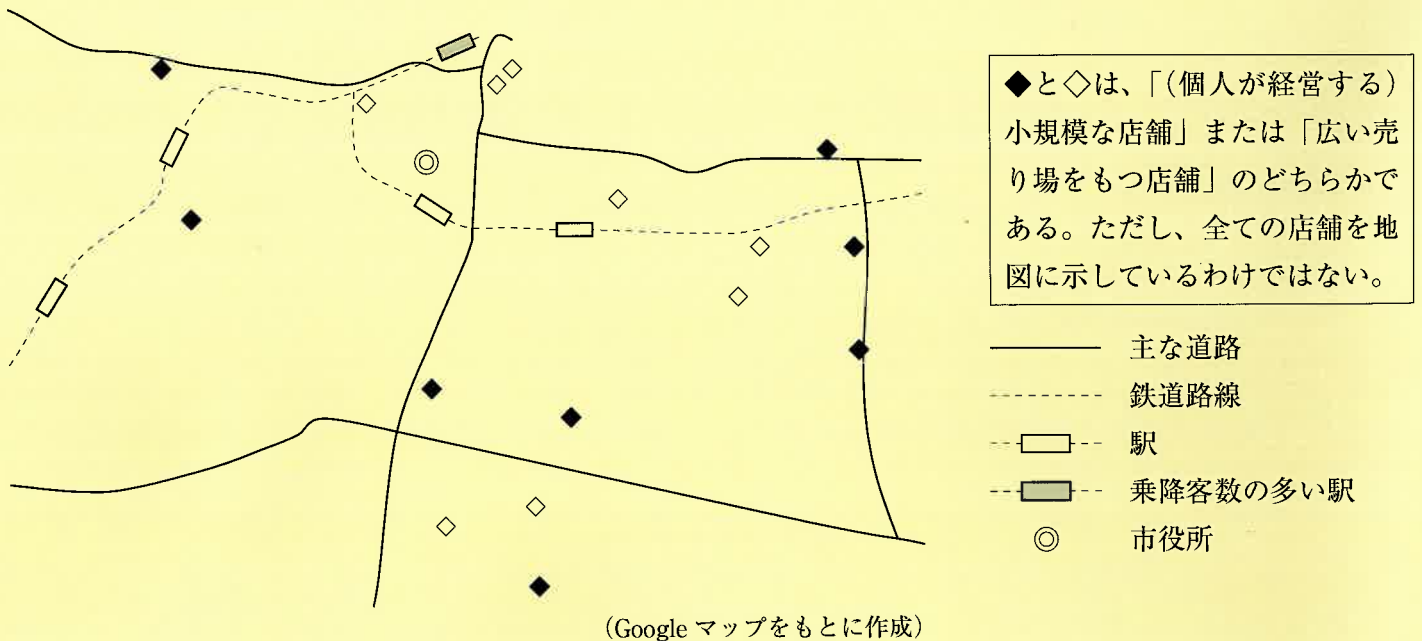
試験開始の合図があるまで試験問題は開かず、下記の注意をよく読んでおきましょう。

1. 問題は 1 ページから 8 ページまであります。足りないページや印刷のよく見えないページがあったときは、手をあげてください。
2. 解答用紙は問題冊子にはさんであります。答えはすべて解答用紙に記入してください。
3. 試験問題には受験番号・氏名を書く必要はありません。
4. 試験時間は 11 時 15 分から 11 時 45 分までです。
5. 地名・用語は、特別の指示がないかぎり、漢字で答えなさい。

1 商店街に関する次の文を読み、あとの問いに答えなさい。

- ①多くの地域の商店街では買い物をするお客さんが減っており、営業をやめたお店がたくさん並ぶ「シャッター通り」とよばれるところが増えています。そこで、少しでもにぎわいを戻そうと、各地でさまざまな取り組みが行われています。例えば、②愛知県の③瀬戸市では、外部から出店を希望する人たちに空き店舗を貸すイベントを行ったり、④岩手県の一関市では、農家が新鮮な⑤農産物を直接販売できる場所を設けたりしています。⑥大都市部でも、⑦地元の人に限らず、多くの人が商店街で買い物や飲食を楽しめる工夫がみられます。

問1. 下線部①について、この理由には商店街の立地が関係しています。次の図は、人口約40万人の、ある地方都市における家電製品を扱うお店を2つのパターンに分けて示したものです。◆にあてはまるものをア・イより選びなさい。さらに、図に関連する下の文中（あ）にあてはまる語句を答えなさい。



古くからある商店街は、(あ)がたいへん少ないです。一方で、大きな道路沿いのお店には広い(あ)があって、買い物をするにはとても便利です。普段の生活に自家用車を用いる地域では、特に商店街の衰退が深刻になっています。

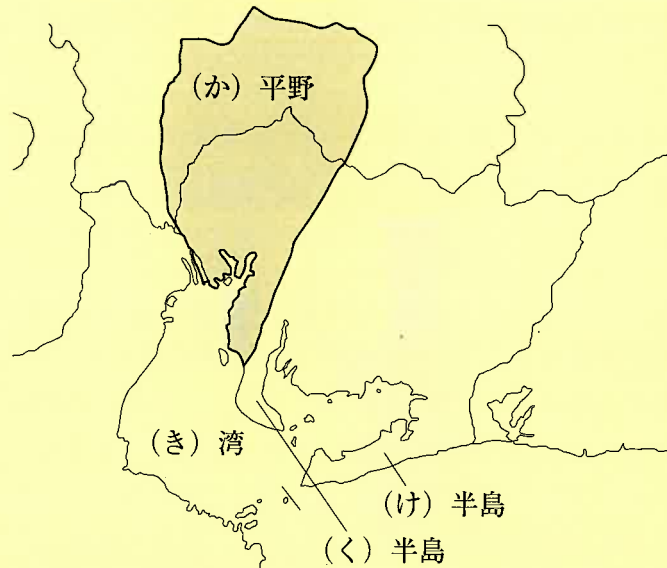
- ア. 小規模な店舗 イ. 広い売り場をもつ店舗

問2. 下線部②について、

(1)次のア～エの文は、愛知県に関して述べたものです。誤りをふくむものを1つ選びなさい。

- ア. 県庁所在地の名古屋市は人口が200万人を超え、愛知県で唯一の政令指定都市となっている。
イ. 製造品出荷額(2020年)は、東京都と大阪府に次いで3番目に多くなっている。
ウ. 中部国際空港は人工島に位置しているため、早朝や夜間にも定期的な国際路線が発着している。
エ. 農業では野菜栽培がさかんで、特にキャベツの生産量は全国有数の規模となっている。

(2)次の図中 (か) ~ (け) の地名を答えなさい。



問3. 下線部③は、焼き物の産地として知られています。瀬戸市のほかにも、日本各地には焼き物の産地として有名な場所がたくさんあります。焼き物とそれが有名な県との組み合わせがまちがっているものを2つ選び、記号で答えなさい。

- ア. 有田焼 - 熊本県 イ. 越前焼 - 福井県 ウ. 益子焼 - 茨城県
 エ. 九谷焼 - 石川県 オ. 信楽焼 - 滋賀県

問4. 下線部④について、

(1)岩手県の面積は、北海道に次いで全国で2番目に大きいですが、人口(2022年)は約120万人で、全国で32位となっています。人口が同じ規模の県のうち、次の説明にあてはまる県を答えなさい。

- ・あじ類やたい類の漁獲量は、全国有数の規模となっている
- ・2022年に新幹線が開通して、観光客の行き来が便利になった
- ・かつてヨーロッパから伝わったものが、名産品になっている

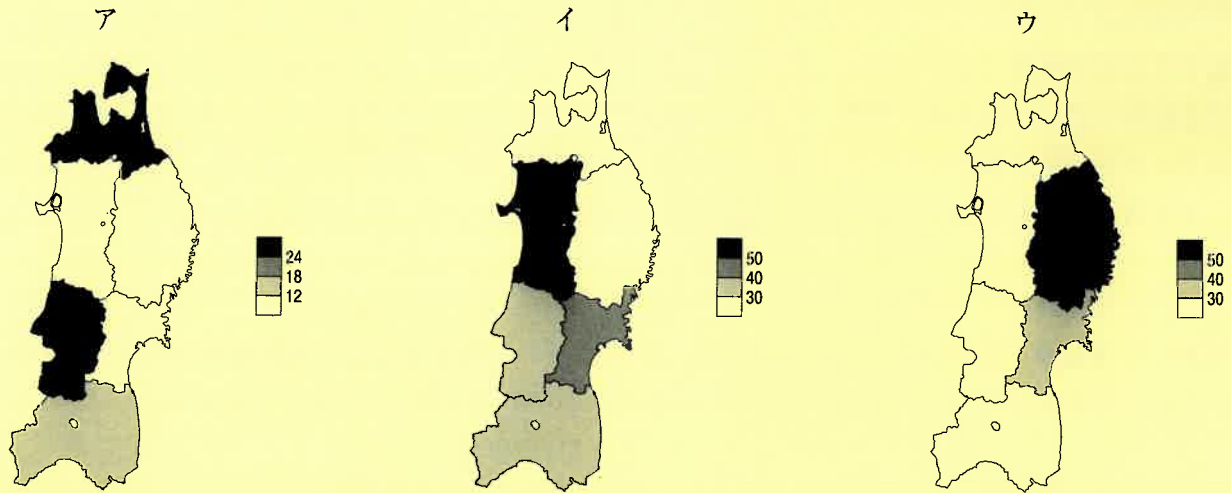
(2)岩手県の県庁所在地は盛岡市です。次の表は、東北地方の県庁所在地について、海に面しているか、内陸に位置するかによって分類し、人口の多い順に並べたものです。(さ) ~ (す) にあてはまる市を答えなさい。

県庁所在地	人口(人)
盛岡市	282960
(さ)市	270744
山形市	240441

県庁所在地	人口(人)
(し)市	1067486
秋田市	300470
(す)市	271544

統計は2023年/『データでみる県勢2024』より作成

問5. 下線部⑤について、次の図は、東北地方各県の農業産出額のうち米、果実、畜産の占める割合（%）を示したものです。それぞれの品目にあてはまるものをア～ウよりそれぞれ選びなさい。



統計は2021年/『データでみる県勢2024』より作成

問6. 下線部⑥について、次の会話は、世界的に有名な大都市へ旅行した人たちのものです。AとBの会話にあてはまる都市をそれぞれ答えなさい。

A 「羽田空港を午前11時に出発して、約13時間かけて現地に到着し、空港の時計を見ると、同じ日の午前10時頃でした」

「2001年9月11日に起きたテロ事件の犠牲者を追悼する場所がありました」

「国際連合の本部の建物には加盟国の国旗が並んでいました」

「世界的に有名な大都市ですが、この都市は国の首都ではありません」

B 「羽田空港を午前7時に出発して、約15時間かけて現地に到着し、空港の時計を見ると、同じ日の午後2時頃でした」

「街の中心部には大きな川がゆるやかに流れていて、世界文化遺産にもなっている宮殿がありました」

「19世紀にできた門のみえる通りで買い物をしましたが、通貨は周辺の国でも使えるようです」

「この都市は首都にもなっていて、青・白・赤の三色の国旗を街中で何度か目にしました」

問7. 下線部⑦について、ある大都市部に位置する商店街では、空き店舗をある施設にかえたことで、商店街の活性化につながりました。次のヒントを参考にして、どのような施設にかえたかを考えて答えなさい。

- ・買い物だけに来るよりも、長い時間を商店街で過ごすようになった
- ・お客さんは、夕食に加えて朝食も商店街の飲食店を利用するようになった
- ・商店街の近くにある銭湯に行く人が多く、地元の人たちとの交流が増えた
- ・この施設を利用する人の中には、外国人観光客もいて、商店街がにぎやかになった

2

大妻中学校の歴史の授業で、「私の好きな歴史上の人物を紹介しよう」というテーマで、調べ学習を行いました。8人それぞれの発表資料を読み、あとの問いに答えなさい。

Aさん

私は I が好きです。彼は群馬県にある（あ）遺跡の関東ローム層から、（い）石器を発見しました。彼のこの発見で、日本にも①旧石器時代があったことが証明されました。日本の歴史の教科書を変えるほどの発見をした彼は、とてもすごいと思います。

問1. 文中の空らん I にあてはまる人物を答えなさい。

問2. 文中の空らん（あ）・（い）にあてはまる語句を、それぞれ漢字2字で答えなさい。

問3. 下線部①について、この時代の説明として正しいものを、ア～エから1つ選び、記号で答えなさい。

- ア. 食料が不足することが多く、集落同士の争いが絶えなかった。
- イ. 竪穴住居がつくられるようになり、定住生活が始まった。
- ウ. 気候が温暖になり、海面が上昇し、今日のような日本列島が形成された。
- エ. 人々は洞くつなどに住み、大型動物を狩りながら生活をしていた。

Bさん

私は II が好きです。彼女は邪馬台国の女王として有名です。また、中国に使いを送り、②王の称号と金印、銅鏡さすを授かりました。中国の権威けんいを背景に、邪馬台国は支配力を強めました。この時代から女性が活躍していたと思うと、とてもうれしいです。

問4. 文中の空らん II にあてはまる人物を答えなさい。

問5. 下線部②について、この称号を答えなさい。

Cさん

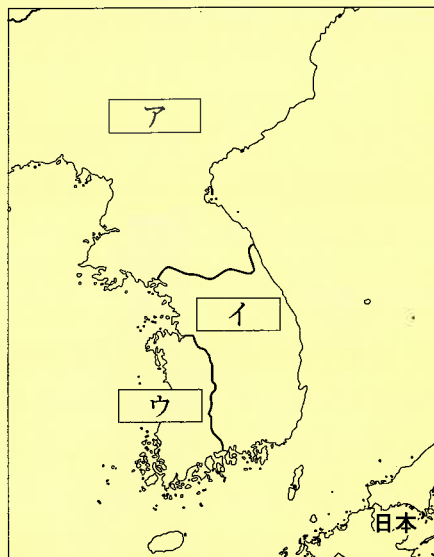
私は小野妹子が好きです。彼は推古天皇や③聖徳太子（厩戸王）らによって（う）に派遣されました。（う）の皇帝に渡した国書は無礼とされましたが、当時（う）は④高句麗と対立しており、高句麗と倭が結びつくことを恐れた（う）は、倭と国交を結びました。この大役を任された彼は、とても信頼されていたのだと思います。

問6. 下線部③について、この人物と関係のある出来事の説明としてまちがっているものを、ア～エから1つ選び、記号で答えなさい。

- ア. 憲法十七条を定め、役人が守るべき心得を示した。
- イ. 現在の奈良県に、法隆寺を建立した。
- ウ. 冠位十二階を定め、優れた人材を役人に登用する制度を整えた。
- エ. 仏教を積極的に受け入れるべきと主張する物部氏と戦い、勝利した。

問7. 文中の空らん（う）にあてはまる国名を、漢字1字で答えなさい。

問8. 下線部④について、この地域を、次の地図中のア～ウから1つ選び、記号で答えなさい。



7世紀の朝鮮半島

Dさん

私は Ⅲ が好きです。 Ⅲ は奥州藤原氏の初代です。この一族は、現在の岩手県の平泉を中心に、3代にわたって栄えました。私は中尊寺が好きで、中でも、⑤世界文化遺産に登録されている建物が大好きです。この建物を見た時は、とても感動しました。何回行っても同じ感動が味わえます。

問9. 下線部⑤について、この建物の写真と、文中の空らん Ⅲ にあてはまる人物との組み合わせとして正しいものを、下のア～エから1つ選び、記号で答えなさい。

M.



N.



o. 藤原頼通

p. 藤原清衡

ア. M・o

イ. M・p

ウ. N・o

エ. N・p

Eさん

私は Ⅳ が好きです。彼は、元の服属要求にも屈することなく、日本の独立を守りました。⑥元との二度の戦争にも負けることはありませんでした。私と同じ10代で執権になり日本を守った、若きリーダーとしての彼が大好きです。

問10. 文中の空らん Ⅳ にあてはまる人物を答えなさい。

問11. 下線部⑥について、この戦争の前後の出来事について記した次のア～エの文を、古い方から順に並べかえ、記号で答えなさい。

ア. 弘安の役がおきるが、幕府軍の抵抗や暴風雨もあり、元軍は引き上げた。

イ. 文永の役がおき、日本軍は元軍の集団戦法に苦戦するも、元軍は引き上げた。

ウ. 幕府の命令で、九州の御家人らによって、博多湾岸に石塁が築かれた。

エ. 幕府は借金に苦しむ御家人の生活を救うため、永仁の徳政令を出した。

Fさん

私は が好きです。彼が東北地方などを弟子と旅行したときの紀行文『奥の細道』は有名です。彼が訪れた場所に行って、彼の気持ちを現地で感じるのが私の趣味です。

問12. 文中の空らん の人物と、活躍した頃の文化との組み合わせとして正しいものを、ア～エから1つ選び、記号で答えなさい。

- ア. 人物：小林一茶 文化：化政文化
- イ. 人物：小林一茶 文化：元禄文化
- ウ. 人物：松尾芭蕉 文化：化政文化
- エ. 人物：松尾芭蕉 文化：元禄文化

Gさん

私は⑦大隈重信が好きです。彼は政府から追放された後、⑧自由民権運動を展開しただけでなく、学校を設立し若者の育成にも力を注ぎました。国の将来を担う人材を育てようとしたことが、好きな理由です。

問13. 下線部⑦について、彼は明治時代と大正時代に活躍した政治家です。明治時代と大正時代に起きた出来事の説明としてまちがっているものを、ア～エから1つ選び、記号で答えなさい。

- ア. 平塚らいてうらが雑誌『青鞥』を創刊し、女性解放運動を展開した。
- イ. 天皇主権を定めた大日本帝国憲法が、1889年2月11日に発布された。
- ウ. 第一次世界大戦が始まった後、日本は中国に二十一か条の要求をつきつけた。
- エ. 伊藤博文が、憲法や議会政治を学ぶため、ロシアと中国に渡った。

問14. 下線部⑧について、この時期に自由民権運動が盛り上がった背景として考えられること i・ii と、その運動の事例として最もふさわしい歴史的な出来事 X・Y との組み合わせとして正しいものを、下のア～エから1つ選び、記号で答えなさい。

〈この時期に自由民権運動が盛り上がった背景として考えられること〉

- i. ロシア革命の影響で、民主主義的風潮が高まったこと。
- ii. 政府が、国会を開くことを、国民に約束したこと。

〈運動の事例〉

- X. 護憲運動をおこした。
 - Y. 立憲改進黨を結成した。
- ア. i・X イ. i・Y ウ. ii・X エ. ii・Y

Hさん

私は が好きです。彼が首相の時、国民所得倍増計画が打ち出されました。日本の⑨高度経済成長を支えた彼の政策が好きです。

問15. 文中の空らん にあてはまる人物を答えなさい。

問16. 下線部⑨について、1955年から1973年までの間におきた出来事としてまちがっているものを、ア～エから1つ選び、記号で答えなさい。

- ア. 日ソ共同宣言が調印され、日本の国際連合加盟が実現した。
- イ. 1回目の東京オリンピックに合わせて、東海道新幹線が開通した。
- ウ. 政府は公害対策基本法を制定し、公害防止に取り組み始めた。
- エ. サンフランシスコ平和条約が締結され、日本は独立を回復した。

次の会話を読み、あとの問いに答えなさい。

- 娘：昨日のニュースで見たけど、2023年の日本の合計特殊出生率は1.20で、統計を取り始めて以降最も低かったんだって。ますます①少子高齢化が加速しそうね。
- 母：2023年に生まれた子どもの数も、1899年以降で最少だったそうよ。日本の人口減少は深刻ね。私たちも②国民年金をきちんと受け取れるか心配だけど、あなた達の世代はもっと難しいかもしれないわ。
- 父：ただいま。聞いたかい？ 駅前の本屋、来月閉店するそうさ。
- 娘：ええ！？ 後継ぎがないから閉店するとか？
- 父：いや、単に売り上げの問題らしい。電子書籍などは売れているようだけど、③紙の本の売上は、2000年頃からずっと減少傾向だからな。
- 母：我が家も昔と比べれば、本を買わなくなったもの。紙の本はかさばるし、不景気なものもあって、あんまり気軽に買えなくなった気がするわ。
- 父：日本経済の先行きが暗くて気が滅入るな。これからは労働人口も減るから、④所得税をはじめとした税収は減るだろう。定年を今より延ばす議論もあるし、私も母さんも、現役引退は先になりそうさ。
- 娘：みんなが長く元気に働けるように、⑤企業には労働環境を少しでも良くしてほしいなあ。
- 母：そうね。これからの企業には業績を上げることだけではなく、労働環境の改善や⑥環境問題への配慮など、社会に与える影響も考えた運営が求められてくるわ。社会が複雑化して、⑦新しい権利をめぐる問題なども出てきているし、あなたも将来のために、きちんとした知識を身につけておくといいわよ。

- 問1. 下線部①について、少子高齢化によって起きると考えられることとしてふさわしくないものを、ア～エから1つ選び、記号で答えなさい。
- ア. 国内の消費活動がにぶり、その国の経済規模が縮小する。
- イ. 社会保障にかかる費用がさらに増え、財政を圧迫する。
- ウ. 働き手が少なくなり、働きやすい環境で仕事ができなくなる。
- エ. 二酸化炭素排出量が増え、環境破壊が深刻になる。
- 問2. 下線部②について、日本で国民年金に関する業務を主に担う省を答えなさい。
- 問3. 下線部③に関連して、1990年代後半まで、日本の年間書籍売り上げ金額は上がり続けていました。しかし、1970年代後半から、一世帯あたりが一年間に書籍を購入する金額は減少しています。1970年代後半から1990年代後半にかけて一世帯あたりの書籍購入金額が減っているにもかかわらず、年間の書籍売り上げ金額が増えているのはなぜでしょう。その理由として考えられることを、簡単に説明しなさい。
- 問4. 下線部④について、日本の所得税は、所得が多くなるほど税率も高くなります。このような制度を何といいますか。
- 問5. 下線部⑤に関連して、

(1)会話中の娘は、右のような社員募集の一部を見て、基本的人権に反すると考えました。どの権利に反しますか。ア～エから1つ選び、記号で答えなさい。

- ア. 社会権 イ. 生存権
ウ. 請求権 エ. 平等権

正社員募集


年齢：20歳以上
職種：看護職（女性）、営業職（男性）
給与：月20万円


(2)労働者に認められる権利のうち、ストライキを行うなど、労働者が使用者に要求を認めさせるために、労働者が集団で働きかけることができる権利を答えなさい。

(3)労働者の権利をめぐり、近年、顧客が企業や労働者に対して無理な要求や、乱暴な言動をすることが問題になっています。このような行為を何といいますか。省略し、カタカナ4字で答えなさい。

問6. 下線部⑥について、日本で「公害の原点」と言われる、有機水銀による健康被害が起きた都道府県と、その公害病の名前をそれぞれ答えなさい。

問7. 下線部⑦について、新しい権利とされる自己決定権の1つで、治療を受ける患者が、治療の目的や方針などについて医師からのじゅうぶんな説明を受けたうえで、その治療に同意することを何といいますか。カタカナで答えなさい。





本校の許可無く、掲載内容の一部およびすべてを複製、転載または配布、印刷するなど、第三者の利用に供することを禁止致します。

令和7年度 中学校入学試験解答用紙 社会 2月1日実施

点

座席番号		

受験番号			

氏名	
----	--

1	1	◆	あ	2	(1)	(2)か	(2)き
						平野	湾

2	(2)く	(2)け	3		4	(1)
	半島	半島				県

4	(2)さ	(2)し	(2)す	5	米	果実	畜産
	市	市	市				

6	A	B	7			点
---	---	---	---	--	--	---

2	1	2	あ		い		3	

4	5	6	7	8	9

10	11	→	→	→	12	13	14

15	16		点
----	----	--	---

3	1	2	省

3	
---	--

4	制度
---	----

5	(1)	(2)	(3)			

6	都道府県	公害病	7			点
---	------	-----	---	--	--	---