

令和 5 年度

# 中学校入学試験問題 社会

## 第 1 回（2 月 1 日実施）

試験開始の合図があるまで試験問題は開かず、下記の注意をよく読んでおきましょう。

1. 問題は 1 ページから 6 ページまであります。足りないページや印刷のよく見えないページがあったときは、手をあげてください。
2. 解答用紙は問題冊子にはさんであります。答えはすべて解答用紙に記入してください。
3. 試験問題には受験番号・氏名を書く必要はありません。
4. 試験時間は 11 時 15 分から 11 時 45 分までです。
5. 地名・用語は、特別の指示がないかぎり、漢字で答えなさい。

1 兵庫県に関するあとの問いに答えなさい。

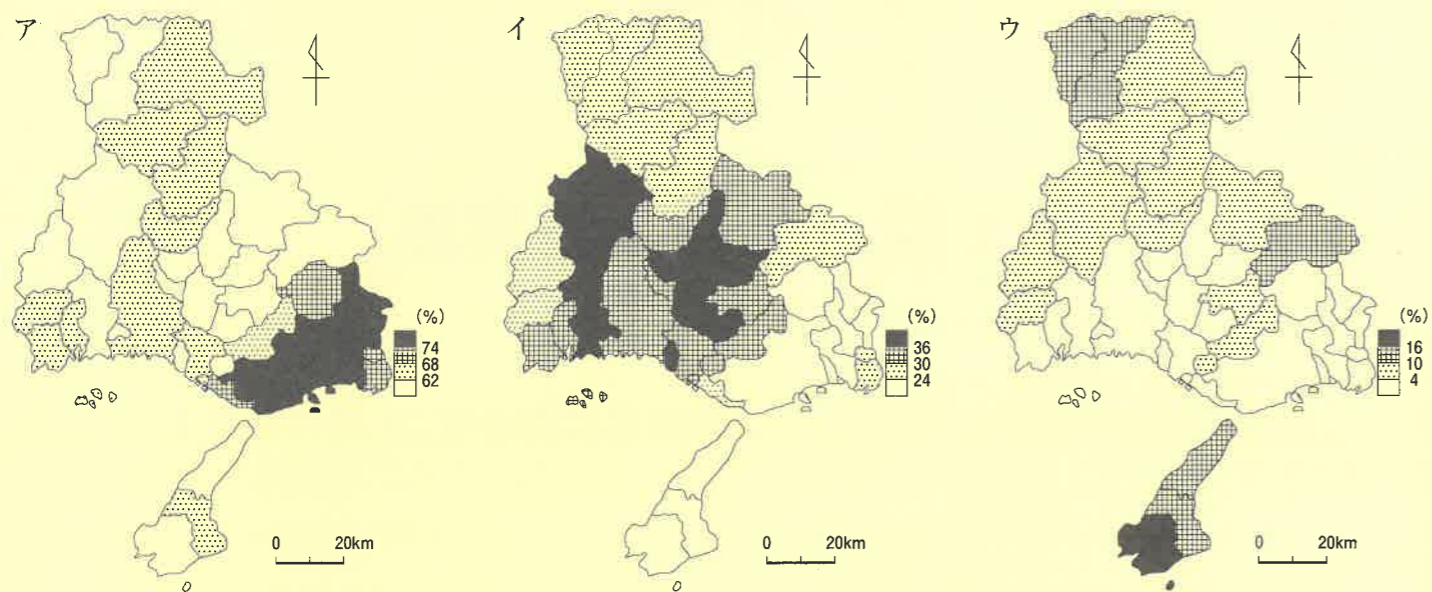
問1. 兵庫県明石市には、日本の標準時の基準となる東経135度の経線が通っています。

- (1)日本と12時間の時差がある場所の経度を答えなさい。ただし、「○経□□度」と答えること。  
 (2)東経135度の経線が通っている国としてまちがっているものを、ア～エから1つ選び、記号で答えなさい。

ア. ロシア    イ. シンガポール    ウ. インドネシア    エ. オーストラリア

問2. 兵庫県は地域によって産業の特色が異なります。次のア～ウの図は、第1次産業、第2次産業、第3次産業に就く人の割合を示したものです。①～③にあてはまる図をア～ウからそれぞれ選びなさい。

- ①第1次産業に就く人の割合    ②第2次産業に就く人の割合    ③第3次産業に就く人の割合



兵庫県「市区町別主要統計指標令和3年版」より作成

問3. 兵庫県から徳島県に行くには橋を使うと便利です。行き方について述べた文中の空らん(あ)・(い)にあてはまる語句を答えなさい。

明石海峡大橋をわたって(あ)島を通過し、さらに大(い)橋をわたって、徳島県側の玄関となっている(い)市にたどり着く。

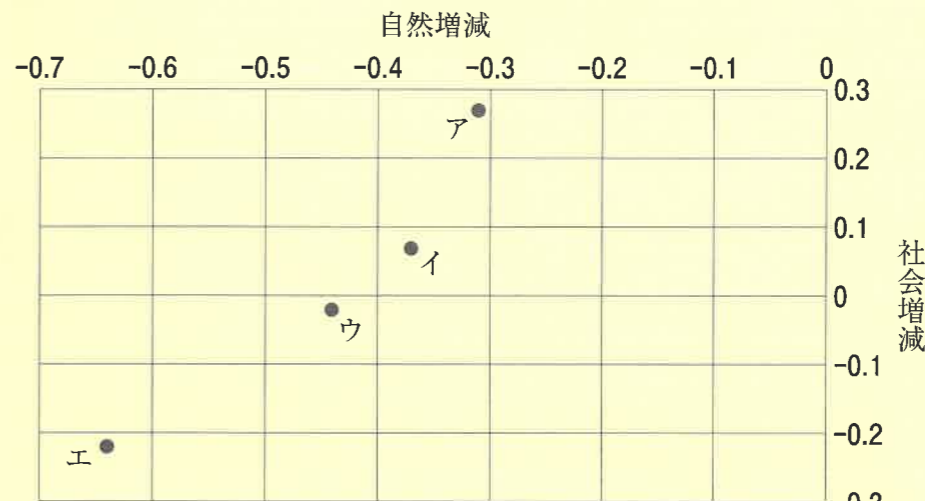
問4. 姫路城は世界文化遺産に登録され、観光地にもなっています。次の城と所在地の組み合わせがまちがっているものを、ア～カから2つ選び、記号で答えなさい。

- ア. 松本城-長野県    イ. 犬山城-愛知県    ウ. 彦根城-三重県  
 エ. 松江城-島根県    オ. 弘前城-岩手県    カ. 若松城-福島県

問5. 1995年に兵庫県南部地震が発生しました。次の文は、この地震と、2011年に発生した東北地方太平洋沖地震を比べたものです。文中の空らん(か)・(き)にあてはまる語句を、それぞれ漢字2字で答えなさい。

兵庫県南部地震は野島(か)付近が震源地となり、(か)のずれによって大きな地震が発生した。一方、東北地方太平洋沖地震は、太平洋プレートが北アメリカプレートに沈み込む(き)が震源地となり、大きな津波が生じたことも特徴である。

問6. 兵庫県にとりあう大阪府、京都府、岡山県、鳥取県について、人口の増加や減少について詳しく調べました。よこ軸は自然増減で生まれた数から亡くなった数を引いて全体の人口で割ったもの、たて軸は社会増減で転入した数から転出した数を引いて全体の人口で割ったものです(統計年次はいずれも2018年)。大阪府と鳥取県にあてはまるものを、ア～エからそれぞれ選びなさい。



「データでみる県勢2022」より作成

問7. 兵庫県の面積は約8400km<sup>2</sup>です。次の①と②は、兵庫県よりも面積の大きな県についての説明です。それぞれにあてはまる県を答えなさい。

- ①温暖な気候を生かした茶の栽培がさかんです。人口密度は兵庫県の3分の1を下回っています。この県に属する島々では火山活動が活発なところがあります。  
 ②兵庫県と同じようにブランド牛が有名で、郷土料理には玉こんにゃくや芋煮があります。夏季にはフェーン現象で気温が上がります。県庁所在地は内陸の盆地に位置し、県の名前と同じです。

2 日本の文学作品について、時代ごとに記した次のカードを読み、あとの問いに答えなさい。

<p>奈良時代 律令国家が作られ、『古事記』などの歴史書が完成した。現存最古の歌集である『(あ)』には①天皇から農民までさまざまな身分の人の歌が残されている。</p>	<p>②平安時代 日本独自の文化が発展し、平仮名がつくられる。紀貫之による『土佐日記』や、(い)の著した『枕草子』などの作品がうまれた。</p>
<p>③鎌倉時代 『平家物語』は、繁栄をほこった平氏が(う)の戦いで滅亡していく様子などをえがいた軍記物語である。『方丈記』や『徒然草』などの随筆もうまれた。</p>	<p>④室町時代 『浦島太郎』などの絵入りの御伽草子が、民衆向けに広まる。将軍の保護のもと、能を大成させた(え)は、『風姿花伝』を著した。</p>
<p>⑤安土桃山時代 ポルトガル・スペインとの(お)貿易がさかんなころ、宣教師が活版印刷術を伝えた。ヨーロッパの『イソップ物語』などがローマ字で印刷された。</p>	<p>⑥江戸時代 (か)の書いた『日本永代蔵』など、町人生活をえがいた浮世草子が広く読まれる。滝沢馬琴や十返舎一九などの小説も、庶民に親しまれた。</p>
<p>⑦明治・大正時代 ⑧西洋文化の影響を受け、近代文学が発展した。また女性文学者も活躍し、与謝野晶子は、(き)戦争に出征した弟に向けて歌を詠んだ。</p>	<p>⑨昭和時代 『蟹工船』など⑩社会問題を題材とした作品がうまれる。⑪第二次世界大戦後は、谷崎潤一郎や太宰治、川端康成などが多くの小説をのこした。</p>

問1. カード中の空らん(あ)～(き)にあてはまる語句や人名を答えなさい。

問2. 下線部①について、次のア～オは6～9世紀に活躍した天皇です。即位した順に古い方から並びかえたと  
き、**3番目**にあたる天皇を選び、記号で答えなさい。

- ア. 聖武天皇      イ. 天智天皇      ウ. 桓武天皇      エ. 推古天皇      オ. 天武天皇

問3. 下線部②について、平安時代には浄土教が貴族を中心に流行しました。11世紀中頃、この世に極楽浄土  
を実現するため、宇治に阿弥陀堂を建立した人物を答えなさい。

問4. 下線部③について、鎌倉時代の説明として正しいものを、次から1つ選び、記号で答えなさい。

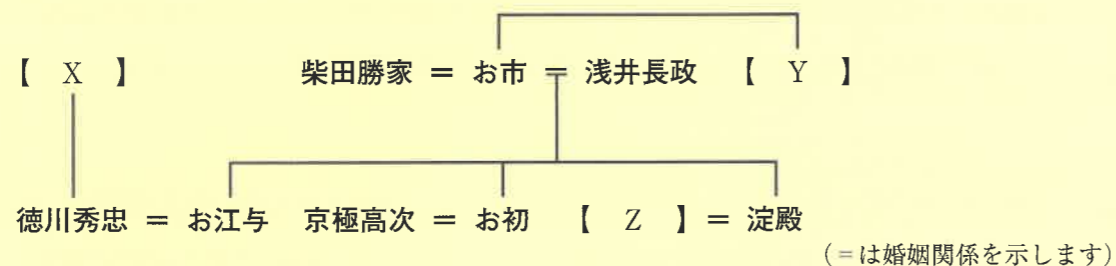
- ア. 幕府は、東日本の御家人との主従関係を強めるため、鎌倉に六波羅探題を設置した。  
イ. 源氏の将軍が3代でとだえると、北条氏が管領となり、幕府の政治の中心となった。  
ウ. 千箇こきが用いられ農業生産が増えると、定期市などがはじまり、商業が発達した。  
エ. 女性も土地の相続権を持ち、荘園や公領ごとに置かれた地頭となる者もあらわれた。

問5. 下線部④について、次の文は室町時代の農村の様子を説明したものです。文中の **A**・**B** にあて  
はまる語句の組み合わせとして正しいものを、下のア～カから1つ選び、記号で答えなさい。

農村では有力な農民を中心に **A** が開かれ、自主的に村の掟<sup>おきて</sup>を定め、物事を進めていくように  
なった。このような村を **B** という。

- ア. A-座    B-寄合    イ. A-寄合    B-惣    ウ. A-惣    B-座  
エ. A-座    B-惣    オ. A-寄合    B-座    カ. A-惣    B-寄合

問6. 下線部⑤について、次の家系図は、16世紀頃の有名な3人の武将【X】・【Y】・【Z】ら  
を示したものです。これらの人物について述べた次の文のうち、下のア～カからまちがっているものを、すべて  
選び、記号で答えなさい。



- ア. 【 X 】は、大名は1年おきに領地と江戸に暮らすことを、武家諸法度で定めた。  
イ. 【 X 】は、関ヶ原の戦いに勝利した後、征夷大將軍となり、江戸に幕府を開いた。  
ウ. 【 Y 】は、延暦寺の焼き打ちや一向一揆との戦いを行って、仏教勢力に対抗した。  
エ. 【 Y 】は、尾張から勢力を強め、將軍を京都から追放し、室町幕府をほろぼした。  
オ. 【 Z 】は、新たな領土を求めて、二度の朝鮮出兵を行ったが、失敗に終わった。  
カ. 【 Z 】は、ポルトガルから輸入した鉄砲を用い、長篠の戦いで今川義元を破った。

問7. 下線部⑥について、次の史料は、江戸時代に起きた反乱の指導者が民衆に示した文書の一部です。この史  
料で述べられた反乱が起きた時期として正しいものを、下の〈ア〉～〈エ〉から1つ選び、記号で答  
えなさい。史料はわかりやすくするために、現代の言葉に直してあります。

「このごろは米の値段がますます高くなっているのに、大坂の町奉行や役人たちは、好き勝手な政治  
をしている。…こうなるとは隠居中の私などでも、もう我慢ができない。…役人を倒し、大坂市中の  
金持ちの町人たちも倒そう。」  
『檄文』

【 享保の改革→〈ア〉→田沼意次の政治→〈イ〉→寛政の改革→〈ウ〉→天保の改革→〈エ〉 】

問8. 下線部⑦について、次の史料は1874年に政府に提出された文書の一部です。この文書を作成した中心人  
物である、旧土佐藩出身者は誰ですか。史料はわかりやすくするために、現代の言葉に直してあります。

「我々が考えてみると、近頃の政権を独占しているのは、上の天皇でも、下の人民でもなく、政府の  
役人なのである。…広く人民が公平な議論を行う。そのためには議会が必要だ。」  
『日新真事誌』

問9. 下線部⑧について、明治政府は欧米化をすすめ、また、不平等条約の改正を目指していました。そのため  
に、1871年に欧米に派遣された人びとは何とよばれますか。

問10. 下線部⑨について、次のア～エは、太平洋戦争までに起きた昭和初期のできごとです。古い方から年代順  
に並びかえなさい。

- ア. 五・一五事件      イ. 盧溝橋事件      ウ. 柳条湖事件      エ. 国際連盟からの脱退

問11. 下線部⑩について、第一次世界大戦以後、日本の社会にはさまざまな問題が起きました。次のX・Yは  
正しい文ですか、誤っている文ですか。正誤の組み合わせを、下のア～エから1つ選び、記号で答えな  
さい。

X. 1925年に治安維持法が制定されると、社会主義の活動が認められた

Y. 田中正造は、栃木県足尾銅山の鉱毒問題について、天皇に直接訴えようとした

- ア. X-正 Y-正      イ. X-正 Y-誤      ウ. X-誤 Y-正      エ. X-誤 Y-誤

問12. 下線部⑪について、この戦争が終わると、政治や社会の仕組みは大きく変化しました。第二次世界大戦後  
に初めておこなわれた国政選挙について説明した文として正しいものを、ア～ウから1つ選び、記号で答  
えなさい。正しいものがない場合は、「なし」と答えなさい。

- ア. 衆議院と貴族院の同日選挙がおこなわれた  
イ. 初めて女性の衆議院議員が誕生した  
ウ. 満25歳以上男子の普通選挙がおこなわれた

3 日本の社会に関する次の文を読み、あとの問いに答えなさい。

2022年、わが国では参議院議員選挙が行われました。選挙の際、候補者はさまざまな論点を用意して選挙運動を展開しました。外交面では主に、①領土問題や、②安全保障の問題、③貿易をめぐる問題などが話題にのぼっていました。国内に目を向けると、新型コロナウイルスに関する事、経済面では④収入の格差や税金の問題、⑤財政不安、政治面では⑥労働問題や⑦人権問題が目立ちました。私たちはより良い社会を実現するため、これらの問題をただ知るだけで満足せず、⑧実際に問題を改善できるよう、さまざまなことを学ぶことが大切です。

問1. 下線部①について、日本政府は領土問題が存在しないと主張しているものの、中国が領有権を主張している場所があります。その場所を答えなさい。また、その位置を右の図中ア～エから1つ選び、記号で答えなさい。

問2. 下線部②について、1951年に日米安全保障条約を締結したときの、日本の首相を答えなさい。

問3. 下線部③について、貿易に関係する税の1つに、関税があります。日本が自国への輸入品に課す関税をなくした場合、発生すると考えられる内容として正しいものを、次から1つ選び、記号で答えなさい。

- ア. 海外の有名ブランド衣類の輸入価格が上がり、国内で日本製の衣類が売れにくくなる。
- イ. 希少な動物の輸入に対する規制が強化され、国内で人気のあるペットが手に入りづらくなる。
- ウ. 輸入自動車との販売競争をする必要が少なくなり、国内では国産自動車の販売価格が上がる。
- エ. 安価な外国産の農作物の輸入がすすみ、国内では国産の農作物の売り上げが落ちる。

問4. 下線部④について、

(1)所得税は、格差を是正するはたらきがある一方、公平な税であるとも言われます。所得税の公平性に関する正しい説明を、次から1つ選び、記号で答えなさい。

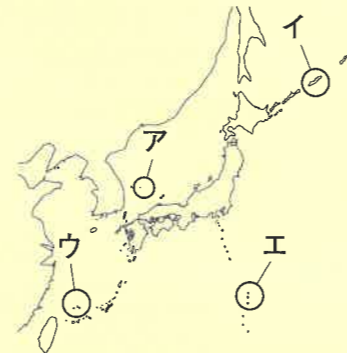
- ア. 全ての課税対象者から同じ税率で税を徴収するため、公平な税であると言える。
- イ. 全ての課税対象者から同じ金額の税を徴収するため、公平な税であると言える。
- ウ. 課税対象者の負担能力に応じて徴収するという意味で、公平な税であると言える。
- エ. 課税対象者の負担能力に関係なく徴収するという意味で、公平な税であると言える。

(2)格差を是正するために、日本には社会保障制度が設けられています。社会保障に関する説明としてまちがっているものを、次から1つ選び、記号で答えなさい。

- ア. 国民から保険料を集め、高齢者の生活を保障する制度として、年金保険がある。
- イ. 第二次世界大戦後、全ての人々が雇用保険に加入したことで、国民皆保険が達成された。
- ウ. 生活に困る人を、国や地方自治体が救済する生活保護は、公的扶助の1つである。
- エ. 公衆衛生には、病気の予防に加え、国民の健康を増進させる取り組みが含まれる。

(3)(2)に関連して、社会保障制度は日本国憲法に基づいています。下は憲法第25条の一部です。空らん(あ)にあてはまる語句を答えなさい。

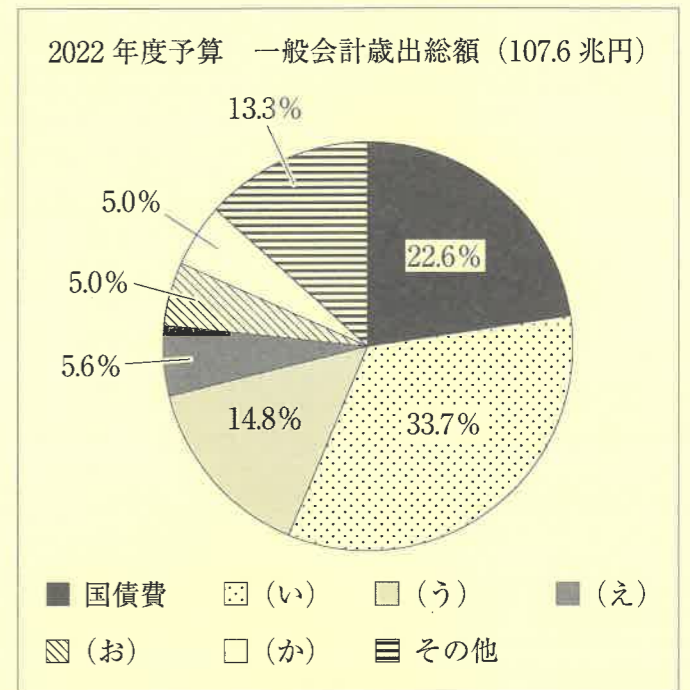
すべて国民は、(あ)の生活を営む権利を有する。



※この図は実際の地図を出題にあわせて簡略化したものです。

問5. 下線部⑤について、右の図は2022年度の一般会計の予算案を表しています。図中の(い)～(か)には、次のア～オのいずれかがあてはまります。(い)・(う)にあてはまるものを、1つずつ選び、記号で答えなさい。

- ア. 教育関係費
- イ. 防衛関係費
- ウ. 社会保障費
- エ. 公共事業費
- オ. 地方交付税交付金



財務省資料より作成

問6. 下線部⑥について、日本には労働について規定した法律があります。その内容として正しいものを、次のア～エから1つ選び、記号で答えなさい。

- ア. 男性の労働者が、妻の産前産後に育児休業を申し出た場合、企業はそれを認めることはできない。
- イ. 経営状態が悪化した場合、企業は労働組合と相談せずに、労働者の賃金を下げることができる。
- ウ. 労働組合と企業の意見が対立し、仕事が進まない場合でも、企業は労働組合を解散させられない。
- エ. 企業が、どうしても業務が終わらないと判断した場合、無給の時間外労働を強制することができる。

問7. 下線部⑦について、2016年に施行された法律によって解消が目指されることとなった、「特定の国の出身者であること又はその子孫であることのみを理由に、日本社会から追い出そうとしたり危害を加えようとするなどの一方向的な内容の言動」を何といいますか。

問8. 下線部⑧について、もしあなたが成人した後、自分の住む地方自治体の条例を改正したいと考えた場合、必要な手続きとして正しいものを、次から1つ選び、記号で答えなさい。

- ア. 自治体の有権者の50分の1以上の署名を集めて請求し、議会で出席議員の過半数の同意を得る。
- イ. 自治体の有権者の過半数の署名を集めて請求し、議会で出席議員の3分の2以上の同意を得る。
- ウ. 自治体の議員となって議会の3分の2以上の賛成を得て発議し、住民投票で過半数の同意を得る。
- エ. 自治体の議員となって議会の過半数の賛成を得て発議し、住民投票で過半数の同意を得る。

点

座席番号

受験番号

氏名

1

1 (1) 度

(2)

2 ① ② ③

3 あ い

点

4

5 か き

6 大阪府 鳥取県

7 ① 県

② 県

点

2

1 あ い

う

の戦い

1 え お

か

貿易

1 き 戦争

2

3

4

5

6

7

8

9

10 → → →

11

12

点

3

1 場所 位置

2

3

4 (1) (2)

点

4 (3) の生活

5 い う

6

7

8

点