

1 次の地形図は、種子島の一部の地域を示したものです。この図と説明文について、あとの問いに答えなさい。



種子島は、①鹿児島県で（あ）大島、（い）島に続いて3番目に大きな島です。②上の地形図は西之表港付近を示しています。この島には、宇宙センターがあり、日本の③宇宙開発において中心的な役割を果たしています。

問1. 文中の（あ）・（い）にあてはまる島を答えなさい。

問2. 下線部①について、この県の産業に関するあとの問いに答えなさい。

(1)製造品出荷額のうち3割を占め、最も大きな割合となっている工業（2018年）をア～エより選び、記号で答えなさい。

- ア. 繊維 イ. 鉄鋼
- ウ. 食料品 エ. 電気機械

(2)(1)の工業の出荷額10位までの都道府県（2018年／単位：億円）を右の表に示しました。北海道以外の府県でこの工業がさかんな理由を答えなさい。

1位	北海道	21946	6位	千葉	15455
2位	埼玉	18962	7位	茨城	14840
3位	兵庫	16846	8位	静岡	13806
4位	愛知	16639	9位	大阪	12705
5位	神奈川	16096	10位	福岡	9999

【データでみる県勢 2020 年度版】より作成

(3)右の表は、鹿児島県で生産のさかんな農産物について、収穫量上位の県（A・Bは2018年、Cは2016年／単位：％）を示しました。A～Cにあてはまる農産物をア～カよりそれぞれ選び、記号で答えなさい。

- ア. キャベツ イ. きく ウ. だいこん
- エ. マンゴー オ. すいか カ. 茶

	A	B	C
北海道	11.8	静岡 38.7	沖縄 44.4
千葉	11.3	鹿児島 32.6	宮崎 37.5
青森	9.2	三重 7.2	鹿児島 13.8
鹿児島	7.2	宮崎 4.4	—
神奈川	6.0	京都 3.6	—

【データでみる県勢 2020 年度版】より作成

問3. 下線部②に関連して、あとの問いに答えなさい。

(1)この地形図の縮尺は2万5000分の1です。この地形図の等高線について述べた次の文中の（う）・（え）にあてはまる数字を答えなさい。

主曲線は（う）mごとに、計曲線は（え）mごとに描かれている。


(2)この地形図から読み取れる事がらとしてまちがっているものをア～オより2つ選び、記号で答えなさい。

- ア. 西之表港は埋立地で、複数の灯台が設置されている。
- イ. テレビやラジオの電波を発する塔がみられる。
- ウ. 市役所付近に保健所はみられるが裁判所はみられない。
- エ. 海の眺めのよいところに神社や墓地が立地している。
- オ. 海から少し離れると広葉樹より針葉樹が多く分布している。

問4. 下線部③に関連して、アメリカ合衆国でも宇宙開発がさかんです。この国について、あとの問いに答えなさい。

(1)右はアメリカ合衆国の国旗です。国旗の星は何の数を示したのですか。

(2)アメリカ合衆国は英語を話す人が多いですが、アメリカ以外にも英語を話す人の多い国があります。X・Yの説明にあてはまる国を答えなさい。



X：国土の中央部に岩山があり、先住民アボリジニによって「ウルル」とよばれている。日本はこの国からたくさんの鉄鉱石や石炭を輸入している。

Y：アメリカの植民地支配を受けていたこともあって、バスケットボールは人気のあるスポーツである。日本はこの国からたくさんのバナナを輸入している。

2 日本の建築の歴史に関する次の文を読み、あとの問いに答えなさい。

①旧石器時代の住居は、②地形を利用した洞穴やテント式の住居でしたが、縄文時代になると、^{たてあな}竪穴住居がくられました。飛鳥・奈良時代には、仏教の伝来とともに寺院が多く建てられました。例えば、厩戸王（聖徳太子）が建てたと伝えられる（あ）は現存する最古の木造建築物です。710年に都が移された③平城京には、^{かわらぶき}瓦葺の建物も多くできました。④平安時代には、貴族の住宅として、日本風の（い）造の建物がつくられました。

⑤鎌倉時代には、武家政権が誕生し、武家造とよばれる建物がつくられていきました。また、中国と^{ひんぱん}頻繁に行き来をした⑥禅僧によって、中国の建築様式も伝えられました。⑦室町時代には、再び京都が政治の中心になり、貴族文化と武家文化がまじり合いました。8代将軍（う）の時代になると、現在の和風住宅のもととなった書院造という様式が生まれました。安土・桃山時代になると、天守閣をもつ大きな城がつけられるようになりました。1590年に全国統一をなしとげた（え）が建てた大坂城などが代表的です。また、茶の湯が（お）によって大成され、茶室も多く建てられました。⑧江戸時代には、江戸・京都・大坂といった都市が発達し、都市には⑨芝居小屋が見られるようになりました。

明治時代になると、政府が富国強兵や^{しよくさんこうぎょう}殖産興業の政策をすすめ、欧米の文化や生活様式を取り入れたので、洋館が建てられるようになります。東京都にある旧岩崎邸は、政府が⑩条約改正交渉に利用した鹿鳴館の設計者コンドルに⑪^{みつばしざいぼつ}三菱財閥が依頼したものです。ただ、このような住宅に住んでいたのは、⑬政治家や実業家などのごく限られた人たちでした。

問1. 文中の（あ）～（お）にあてはまる語句や人名を答えなさい。

問2. 下線部①について、関東ローム層から打製石器が発見され、日本に旧石器文化があることを証明した遺跡を答えなさい。また、この遺跡がある県を答えなさい。

問3. 下線部②に関連して、日本は山がちです。次のA・Bの文が説明する山地・山脈を答え、位置を地図中ア～オより選びなさい。

- A. 温暖で雨の多い気候のもとで、すぎなどの林業がさかんであり、周辺ではみかんやうめの栽培も行っている。
 B. 日本海側ではフェーン現象が、太平洋側ではやませによる冷害が起こることがある。周辺では鉄器やこけしなどさまざまな伝統工芸品が生産されている。

問4. 下線部③に関連して、

- (1)平城京跡からは、全国から都へ運ばれてきた特産物につけられていた資料Aのような物が多く出土しており、当時の様子をうかがい知ることができます。このような出土品を何と言いますか。
 (2)平城京に都が置かれていた時代に起きた出来事として、まちがっているものを1つ選び、記号で答えなさい。

- ア. 墾田永年私財法が出された。 イ. 『日本書紀』が完成した。
 ウ. 日本が白村江の戦いで大敗した。 エ. 鑑真が唐招提寺を開いた。
- 問5. 下線部④に関連して、藤原道長と平清盛の政治に関して述べた次の文のうち、2人に共通するものをすべて選び、記号で答えなさい。
 ア. 摂政や関白の地位につき、政治の実権をにぎった。
 イ. 広い荘園を所有し、そこから多くの収入を得ていた。
 ウ. 中国との貿易に力を入れ、貨幣や絹織物などを輸入した。
 エ. 一族で朝廷の重要な役職を独占して政治の実権をにぎった。
 オ. 娘を天皇のきさきにして、政治の実権をにぎった。

問6. 下線部⑤について、この時代の武士について述べた文としてまちがっているものを1つ選び、記号で答えなさい。

- ア. 土地を仲立ちとして鎌倉幕府の将軍と主従関係を結んだ武士を御家人といった。
 イ. 武芸の訓練のほか、地頭として、荘園・公領の管理や、年貢の徴収を行うものもいた。
 ウ. 合戦への参加のほか、九州に3年間滞在して大宰府の警備を行う義務を負った。
 エ. 元寇の後には、生活が苦しくなり、借金を返済できなくなる武士も増えていった。

問7. 下線部⑥について、代表的な禅宗の開祖を1つ選び、記号で答えなさい。

- ア. 法然 イ. 最澄 ウ. 空也 エ. 栄西 オ. 一遍

問8. 下線部⑦に関連して、室町幕府の仕組みの中で、将軍を補佐するために置かれた役職を答えなさい。

問9. 下線部⑧に関連して、

- (1)江戸時代の初めごろ、途絶えていた朝鮮との国交が回復しました。これを仲介した藩はどこですか。
 (2)江戸幕府の政策について説明した文として、まちがっているものを1つ選び、記号で答えなさい。
 ア. 3代将軍徳川家光は、武家諸法度で、一年おきに江戸と領地に住むことを大名に義務づけた。
 イ. 5代将軍徳川綱吉は、儒学の中でも朱子学を学問の中心とし、武力によらない政治を目指した。
 ウ. 8代将軍徳川吉宗は、税収を増やすため、株仲間の結成や中国との貿易をすすめた。
 エ. 老中松平定信は、各地につくった蔵に、ききん対策として米をたくわえさせた。



資料A

(平城宮跡資料館蔵)

問10. 下線部⑨で上演された演劇に歌舞伎があり、人気のある歌舞伎役者の版画も多くえがけられました。資料Bは江戸時代後半に多くの役者絵をえがいた浮世絵師の作品です。この絵師を1つ選び、記号で答えなさい。

- ア. 近松門左衛門 イ. 東洲斎写楽 ウ. 葛飾北斎 エ. 俵屋宗達

問11. 下線部⑩に関連して、資料Cは1885年と1899年の日本の輸入品の割合を示したグラフです。2つのグラフを比べると、1885年から1899年にかけて、日本の産業に大きな変化がおきたことがわかります。グラフの違いに注目し、資料Dをふまえて、日本の産業の変化について説明しなさい。

資料B



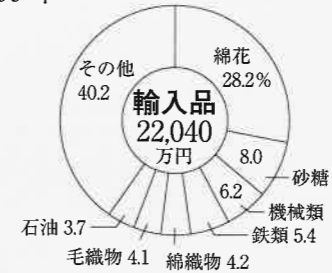
(国立国会図書館蔵)

資料C

1885年




1899年



『詳説日本史』(山川出版社)より

資料D



(国立国会図書館蔵)

問12. 下線部⑪に関連して、アメリカが日本の〇〇〇〇権を認め、不平等条約の改正が完全に達成されたのは1911年のことでした。〇〇〇〇にあてはまる語句を答えなさい。

問13. 下線部⑫に関連して、三菱財閥は、岩崎弥太郎が現在の高知県にあった藩から事業をうけついだのが始まりでした。この藩の出身者で、民撰議院設立建白書を政府に提出し、自由党の初代党首として自由民権運動を行った人物を答えなさい。

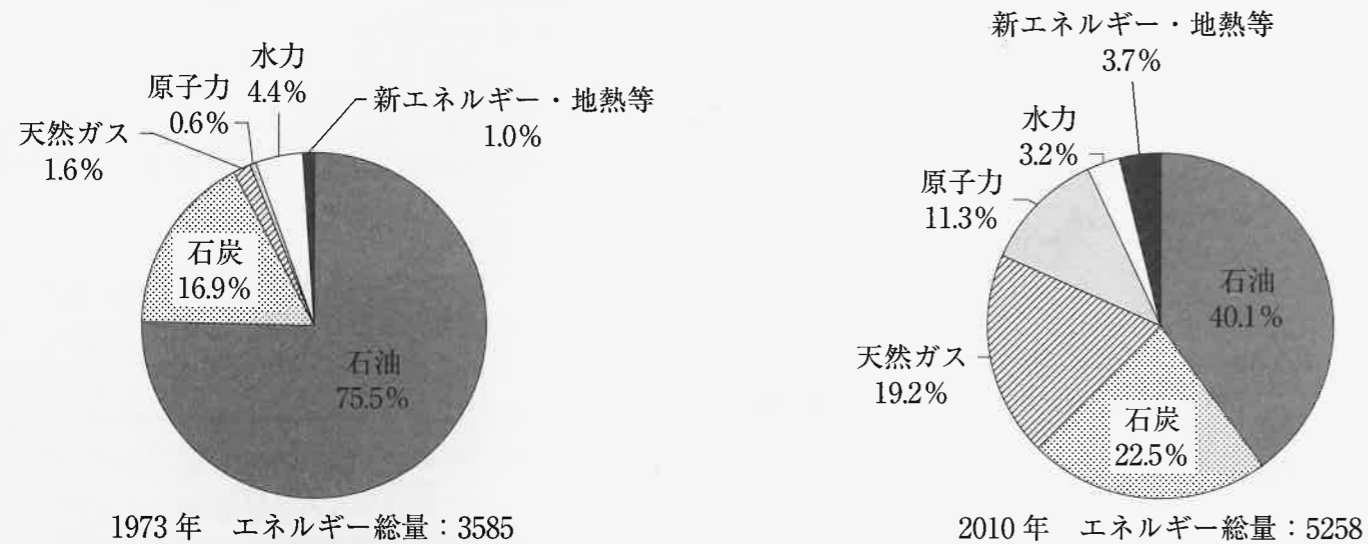
問14. 下線部⑬に関連して、現在の日本の政治家について説明した文として正しいものを1つ選び、記号で答えなさい。

- ア. 国会議員や地方議員に立候補するためには、ともに30歳以上でなければならない。
 イ. 知事や市町村長は住民が直接選挙で選ぶが、国会議員は国民が直接選ぶことができない。
 ウ. 内閣総理大臣は国会議員の中から国会の議決により指名され、天皇が任命する。
 エ. 有権者は、決められた署名数を集めれば、国会議員に対して解職を請求することができる。

3 日本や世界で起きているさまざまな問題に関連して、あとの問いに答えなさい。

問1. 1973年に、第一次石油危機が起こり、日本の産業に大きな影響をもたらしました。その原因の1つは、その年にイスラエルとアラブの国ぐにとの間で始まった戦争でした。この戦争を答えなさい。

問2. 次の図は、日本の一次エネルギー供給量の推移を示したものです。エネルギー供給の変化に関する説明として正しいものを下のア～エから1つ選び、記号で答えなさい。



※エネルギー総量の単位は、千兆トン。ただし、とても大きな数字になるためグラフ下に記された数値のみで考えてよい。

資源エネルギー庁「総合エネルギー統計」をもとに作成

- ア. 1973年から2010年の間で水力発電の発電量が減少したのは、東日本大震災の影響と考えられる。
- イ. 2010年から2015年の間で石油の発電割合が増加したのは、世界同時多発テロの影響と考えられる。
- ウ. 1973年から2015年の間で電力供給の割合が最も増加したのは、新エネルギー・地熱等である。
- エ. 2010年から2015年の間で化石燃料が電力供給に占める量と割合は、どちらも増加傾向にある。

問3. 世界では、現在も多く多くの難民が発生しています。難民の国際的な保護と救済を目指して活動している国連の機関は何ですか。

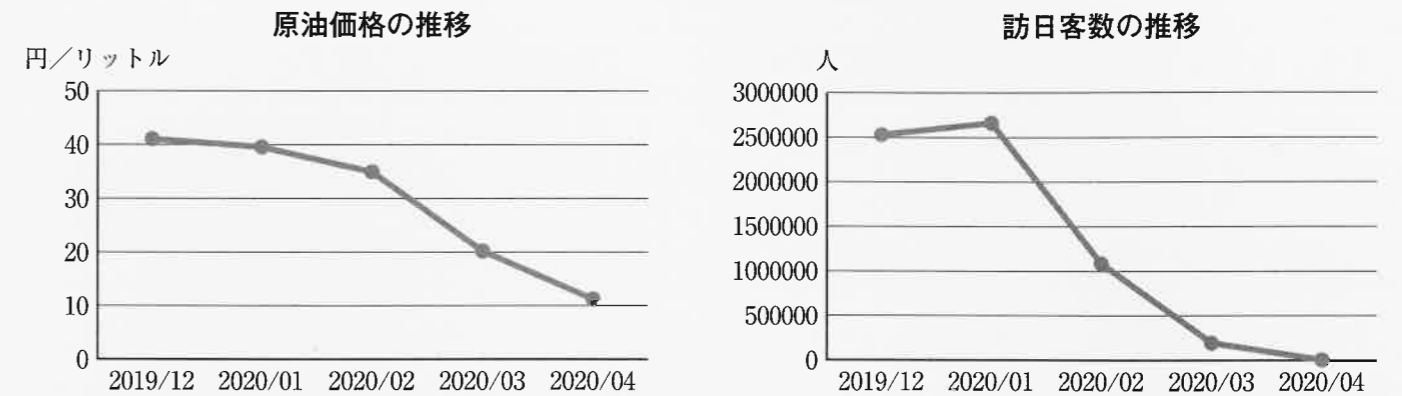
問4. 世界の核問題に関する説明として正しいものを次から1つ選び、記号で答えなさい。

- ア. 部分的核実験停止条約が結ばれたことで、加盟国による核実験は地下実験を除いて禁止された。
- イ. 核拡散防止条約が結ばれ、インドやパキスタンのような核保有国が核実験を停止した。
- ウ. 包括的核実験禁止条約は、国連加盟国すべての国が調印し、実際に核実験を停止した。
- エ. 国際原子力機関は、核兵器が平和的に利用されているか、定期的に調査を行っている。

問5. 世界の大きな問題として南北問題が話題になることがあります。南北問題とはどのような問題ですか。空らんにあてはまる語句を答えなさい。

発展途上国と先進国の間の（ ）の問題

問6. 次の図は、2019年12月から2020年4月にかけての原油価格と訪日客数の移り変わりを示したものです。2020年以降、原油価格が大きく値下がりした理由を、この2つのグラフの関係を手がかりにして1つ答えなさい。



『World Bank Commodity Markets』をもとに作成

日本政府観光局「月別・年別統計データ (訪日外国人・出国日本人)」をもとに作成

問7. 2020年10月、世界の紛争地域で支援活動を行った実績が認められてノーベル平和賞を受賞した機関を答えなさい。

令和3年度 中学校入学試験解答用紙 社会 2月1日実施

座	席	番	号

受	験	番	号

氏			
名			

			点

1	1	あ	大島	い	島	2 (1)

			点

2 (2)				(3)	A	B	C

3 (1)	う	え	(2)		4 (1)		(2)	X	Y

2	1	あ	い	う	え

1	お	2		3	A
			遺跡		県

3	B	4 (1)		(2)		5	

6		7		8		9 (1)		(2)		10	

--	--	--	--	--	--	--	--	--	--	--	--

12				13		14		

			点

3	1		2		3		4	

--	--	--	--	--	--	--	--	--	--

--	--	--	--	--	--	--	--	--	--

			点