

1 富山県の様子について、あとの問いに答えなさい。

問1. 富山県に接している県の数答えなさい。また、そのうち、県庁所在地が政令指定都市である県を答えなさい。

問2. 右の地図中の()で囲まれた地域の様子に関する説明としてまちがっているものを、次から1つ選び記号で答えなさい。

- ア. 標高3,000m前後の高く険しい山々が広がり、川は深い谷をつくりながら流れている。
- イ. 日本最大級のダムや多くの水力発電所が建設され、県や西日本の産業を支えている。
- ウ. 中山道沿いの宿場町から発展し、国内では数少ない氷河も発見された観光地である。
- エ. 山地から海までの距離が短く、運ばれる土砂の量が多いため、河口に扇状地ができる。



問3. 魚津市では、暖かい空気と冷たい空気が混ざり合っていないところを通った光が異常に曲がってしまい、富山湾の上にふだんは見えない遠くの景色が空中に浮いて見える現象が起こります。この現象の名前を答えなさい。

問4. 文中の空らん(①)・(②)にあてはまる語句を答えなさい。

古くから北陸の農業は、稲作の割合が高いという特色をもっています。富山県も、耕地面積全体の約96%が田であり、2018年秋から新たなブランド米が販売されるなど、例外ではありません。その一方で、稲作が終わった冬でも収入が得られるように、雪で覆われてしまう耕地を利用して(①)を行うための作物が求められました。大正時代になると、自然条件が適していたこともあり、県花にもなった(②)の栽培が始まりました。現在でも球根類の出荷量は日本有数です。

問5. 文中の空らん(①)～(③)にあてはまる語句の組み合わせとして、正しいものを1つ選び、記号で答えなさい。

20世紀初め、富山県の(①)下流域で、ある公害病が発生し人々を苦しめました。この公害病は、上流から流れ込んだ鉱山からの廃水に含まれていた(②)が原因です。ほんの少しの動作で(③)が起こってしまうことが、この公害病の名前の由来となりました。

	ア	イ	ウ	エ	オ	カ	キ	ク	ケ
①	渡良瀬川	揖斐川	神通川	渡良瀬川	揖斐川	神通川	渡良瀬川	揖斐川	神通川
②	有機水銀	有機水銀	有機水銀	カドミウム	カドミウム	カドミウム	亜硫酸ガス	亜硫酸ガス	亜硫酸ガス
③	骨折	ぜんそく	虫歯	ぜんそく	虫歯	骨折	虫歯	骨折	ぜんそく

問6. 下の表は、北陸工業地域を形成している4県の、製造品出荷額割合の上位5つをまとめたものです。富山県を表すものを1つ選び、記号で答えなさい。ただし、〔富山県の全国1位生産物〕を参考にすること。

〔富山県の全国1位生産物〕医薬品 住宅用アルミサッシ 銅や銅合金の^{いもの}鋳物

	ア		イ		ウ		エ	
1	電子部品	14.3	生産用機械	24.8	食料品	15.6	化学	16.7
2	化学	13.8	電子部品	12.9	化学	12.9	非鉄金属	11.2
3	繊維	12.8	繊維	7.9	金属製品	11.4	金属製品	10.1
4	電気機械	8.2	食料品	6.0	生産用機械	7.2	生産用機械	9.5
5	プラスチック製品	7.9	情報通信機械	5.9	電子部品	6.8	電子部品	8.5

(2014年工業統計表(産業編)による)

※銅合金…銅に別の金属を混ぜ合わせたもの ※鋳物…高温で溶かした金属を型に流し込んで冷やして固めた製品

問7. 電力会社の発表資料によると、北陸地方の家庭用電気料金(家庭で使う電気につけられた値段)は、他の地方より安くなっていますが、富山市の1世帯あたりの電気代は日本全体でも高めになっています(電力自由化などに伴う料金の値引きサービスは考えないこととします)。この理由として考えられることを、資料1・2をもとに説明しなさい。

資料1 平成27年～29年の年間光熱費平均額

電気		都市ガス		プロパンガス		灯油	
全国	125,883円	全国	38,781円	全国	22,346円	全国	13,854円
富山市	151,426円	富山市	30,038円	富山市	17,326円	富山市	25,119円

資料2 1専用住宅あたり延べ面積・1世帯あたり人員

1専用住宅あたり延べ面積				1世帯あたり人員			
全国	94.42㎡	富山市	126.77㎡	全国	2.33人	富山市	2.66人

(総務省統計局による)

2 日本の政治に関する次の文章を読んで、あとの問いに答えなさい。

権威とは、自分がどのくらい偉いのかを相手に示す力です。日本の歴史のなかで政治を行ってきた多くの権力者たちは、さまざまな方法で権威をもとめ、政治を安定させようとしてきました。

権威の根拠として最もわかりやすいのは、自分より大きくて強い存在に認めてもらうことです。弥生時代、「楽浪郡の海の向こうに倭と呼ばれる国があり、100余りの国に分かれている」と中国の歴史書『(あ)』に書かれています。それらの中から、中国の皇帝に力を認めてもらうことで権威を得ようとする国が出てきました。飛鳥時代に権力を握った厩戸王(聖徳太子)も、607年に遣隋使の(い)を送りました。大国に認められることで、権力を周囲に示そうとしたのだと言われています。

①奈良時代に入って720年には、日本ではじめての正式な歴史書である『(う)』が編さんされましたが、これも権力者が権威を高めるために行われたという考えがあります。さらに時代が進むと、仏教が力を持ち、②政治と宗教的な権威が結びつくことも増えてきました。

鎌倉時代から江戸時代の間は、③幕府と呼ばれる武士の政治組織が実質的に日本を統治していました

が、幕府の長は朝廷から征夷大將軍に任命してもらうしきたりになっていました。このことから、武士が朝廷の権威を借りながら政治を行ったとも言えます。

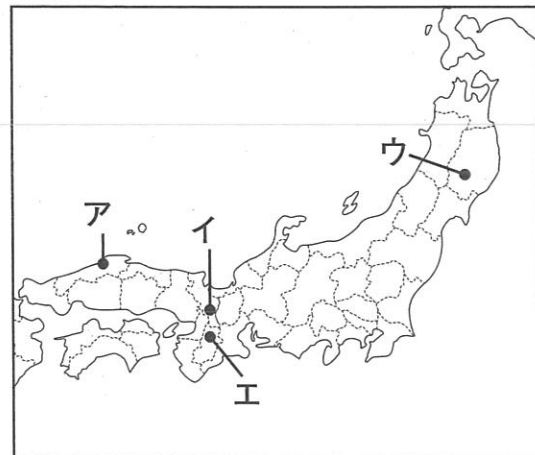
明治政府が誕生すると、④朝廷の権威を利用して倒幕をなした政府は天皇の権威を強調しました。また、初代内閣総理大臣の（え）をはじめ、当時の政府の中心人物たちは近代国家に追いつくことを目標として、⑤積極的に欧米の近代的な制度や文化を取り入れました。したがって、近代的であることや欧米的であることも政治的な権威だったと言えるでしょう。そして、⑥太平洋戦争後はアメリカの文化や制度の影響を強く受けた社会が生まれたのでした。

- 問1. 文中の空らん（あ）～（え）にあてはまる語句・人名を答えなさい。
 問2. 下線部①について、この時代の出来事と最も関係の深いものを次から1つ選び、記号で答えなさい。

- ア. 「日出づる処の天子、書を日没する処の天子に致す、つつがなきや……」
 イ. 「防人に 行くは誰が背と 問う人を 見るがともしさ 物思もせず」
 ウ. 「この世をば わが世とぞ思う 望月の 欠けたることも なしと思えば」
 エ. 「徒然なるままに、日暮らし、^{すすり} 硯にむかいて、心にうつりゆくよしなしごとを……」

- 問3. 下線部②について、次の(1)～(3)の寺院に関係の深い土地を地図中ア～エから、またその寺院の名称を下のオ～クから、それぞれ1つ選び、記号で答えなさい。

- (1)全国の国分寺の総本山として建てられた寺院で、行基の協力で巨大な大仏が造立された。
 (2)藤原氏にゆかりがある寺院で、国宝にも指定されており、浄土教建築で有名な金色堂がある。
 (3)ある摂政の別荘であった「宇治殿」の跡地に建てられた寺院で、現在は世界遺産に登録されている。
 オ. 法隆寺 カ. 平等院 キ. 中尊寺 ク. 東大寺



- 問4. 下線部③について、武士の政治に関してまちがっているものを次から1つ選び、記号で答えなさい。
 ア. 鎌倉幕府では、中央政府の軍事を担当する侍所、政務や財務を担当する政所、裁判を担当する問注所といった機関が置かれた。
 イ. 室町幕府では、政治全般を担当する管領に有力な守護大名が就任し、将軍を補佐しながら政治を行う体制を原則としていた。
 ウ. 豊臣秀吉は、足利一族を京都から追放して室町幕府を滅ぼし、自らが将軍となって全国統一を完成させた。
 エ. 徳川家光は、将軍が強い権力を発揮できるように、参勤交代を制度化したり、大きな船の建造を禁止したりして大名の力をおさえた。

- 問5. 下線部④について、
 (1)江戸幕府は朝廷に、政権を返上することを表明しました。この出来事を何というか答えなさい。また、このときの幕府の将軍の名前を答えなさい。
 (2)江戸時代末期の朝廷と幕府の関係について正しいものを次から1つ選び、記号で答えなさい。
 ア. 水戸藩の武士たちからはじまった尊王論と、外国勢力をしりぞけようとする攘夷論が結びついた尊王攘夷運動が発展し、朝廷の許可を得ずに外交を行った幕府への批判が高まった。
 イ. 幕府は政治を安定させようと公武合体をすすめたが、譜代大名の薩摩藩や長州藩の反対にあったことで改革をあきらめたため、外様大名から批判をあげた。

- ウ. 朝廷は王政復古の号令によって天皇を中心とした政治を行うことを宣言したが、実行する力がなかったため、倒幕の直後は幕府に政治参加を求めている。
 エ. 倒幕運動の盛り上がりを止めるため、幕府の大老である井伊直弼は幕政に反対する大名や幕臣を処罰したが、行き過ぎた処分だと非難をあげ、安政の大獄によって投獄され失脚した。


- 問6. 下線部⑤について、下の文章は明治政府の政策の背景について説明したものです。空らん（お）・（か）にあてはまる語句・人名を答えなさい。

江戸幕府はアメリカと日米修好通商条約を結んだ後、ヨーロッパ諸国とも同様の条約を結びました。しかしそれらの条約の中で、日本は欧米諸国に対し（お）を認めたため、不平等な内容のものとなされました。日本政府は、欧米諸国が日本を対等な文明国だと認めれば条約の改正が可能だと考えて欧米化を進めましたが、すぐには実現できず、1894年に外務大臣の（か）がイギリスと交渉して、はじめて（お）を撤廃することに成功しました。


- 問7. 下線部⑥について、下のア～エは太平洋戦争後の日本で起きた出来事の写真です。古い出来事から順番に並べ、記号で答えなさい。（写真提供：共同通信社 ほか）



ア



イ



ウ



エ

- 問8. 二重下線部について、下の文章は歴史書『（う）』を現代の研究者が分析したものです。この文章から読みとれる、『（う）』が編さんされた目的を、解答らんにあわせて説明しなさい。ただし、当時の権力者の性質と歴史書の内容に触れること。

『（う）』が記す歴史にはいくつかの注目すべき特色が見られる。最大の特色は、[……]歴代天皇の血筋がつながっていて、持統天皇が神武天皇の血筋上の子孫とされていることである。[……]つまり天の最高神の子孫だと記されている。もう1つは、[……]『（う）』では、天皇の位に即いたのは天皇家のみであって、他の家で君主になったものはいないと記されていることである。[……]
 『（う）』は日本の過去をありのままに記したような書物ではない。それは、権力の座についた氏族たちが自分たちの権力の根拠と正統性を神話と歴史から述べた政治の書物であり、過去を支配することを目的とした書物であった。

（吉田一彦『『（う）』の呪縛』より引用。小学生にも読みやすいよう一部を省略し、[……]で表記した）

3 次の文章を読んで、あとの問いに答えなさい。

①国会は国権の最高機関である、と憲法に規定されています。それは主権者である国民によって、②選挙で選ばれた人々が政治を行うためです。国会は③立法権を持ち、ここでの決定は④私たちの暮らしに大きな影響を与えます。⑤裁判所は法律等に対する違憲審査権を持ち、国会へのチェックを行っていると言えます。しかし何よりも大切なのは、国内や⑥世界の問題に対し、国会がどのように動くのか国民一人ひとりが目を離さないことではないでしょうか。

問1. 下線部①について、国会議員の定数は法律の改正によって変化します。2019年2月1日時点の、法律に定められている衆議院と参議院の議員定数の和はいくつになるか答えなさい。

問2. 下線部②について、

- (1)現在は政党を通して政治が運営されていますが、政党は特に選挙の際、国政に関して何を行うかを、実施する期間や目標を明らかにして主張しています。この具体的な公約のことをカタカナで答えなさい。
- (2)下の表は、平成に行われた衆議院議員総選挙における年代別投票率を表したものです。この表について述べた文として、正しいものを次から1つ選び、記号で答えなさい。

単位：%

年	1990	1993	1996	2000	2003	2005	2009	2012	2014	2017
10歳代										40.5
20歳代	57.8	47.5	36.4	38.4	35.6	46.2	49.5	37.9	32.6	33.9
30歳代	76.0	68.5	57.5	56.8	50.7	59.8	63.9	50.1	42.1	44.8
40歳代	81.4	74.5	65.5	68.1	64.7	71.9	72.6	59.4	50.0	53.5
50歳代	84.9	79.3	70.6	72.0	70.0	77.9	79.7	68.0	60.1	63.3
60歳代	87.2	83.4	77.3	79.2	77.9	83.1	84.2	74.9	68.3	72.0
70歳代以上	73.2	71.6	66.9	69.3	67.8	69.5	71.1	63.3	59.5	60.9
全体	73.3	67.3	59.7	62.5	59.9	67.5	69.3	59.3	52.7	53.7

(総務省資料より作成)

- ア. 1996年と2012年を比べると、2012年の40歳代の投票率は下がっているが、60歳代の投票率は上がっている。
- イ. 10回の選挙における、年代別の最高投票率と最低投票率の差を比べると、50歳代よりも30歳代の方が小さい。
- ウ. 若者より高齢者の方が投票率は高い傾向にあり、特に60歳代の投票率を20歳代の投票率が上回った選挙はない。
- エ. 30歳代の投票率は20歳代に比べ常に高いが、一度60%を下回ってからは選挙ごとに投票率が低下し続けている。

問3. 下線部③について、法律の制定に関して、正しいものを次から1つ選び、記号で答えなさい。

- ア. 内閣によって組織される公聴会は、専門家や利害関係者の意見を募るために開かれる。
- イ. 通常国会の閉会後に新たな法律案を審議する必要があるときは、特別国会が開かれる。
- ウ. 衆議院の優越により、法律案を提出することができるのは衆議院議員と内閣に限られる。
- エ. 衆議院で可決した法律案が参議院で否決されたとき、両院協議会が開かれることがある。

問4. 下線部④について、日本では2018年10月末の時点で約130万人の外国人が働いています。以下は、厚生労働省による外国人を雇用するうえでの、その時点における法律の内容の一部です。

- ・教育、医療、スポーツなど特定分野への就労が可能である
 - ・留学や就学を目的とする者のアルバイトには許可が必要で、その場合は就労時間が制限される
 - ・観光、知人や親族への訪問等を目的とする短期滞在の外国人は原則として就労を禁止する
- この法律を『すべての外国人は日本人と同じ条件で、あらゆる業種に就く機会を得られる』と改正すれば、外国人労働者が増えると考えられます。この改正に対する賛成意見と反対意見にはどのようなものが挙げられるか考え、解答らんにあわせて2つずつ説明しなさい。ただし、日本の社会や企業にどのようなメリット・デメリットがあるかに関して答えること。

問5. 下線部⑤について、下の文章はそれぞれある裁判における最高裁判所の判決の内容を示しています。

文書図画による選挙運動は、選挙において候補者がその政策を伝える手段として有効な選挙運動の方法である。この方法は、主権者である国民に政治的意見を表示し、伝達するための有効な手段であるという長所をもっていることを考えると、そのような選挙運動を厳しく制限することが憲法の保障する(A)を侵すものではないかと考えられるだろう。当裁判所の判決によれば、公職の選挙について文書図画の無制限の配布や掲示を許すときは、選挙運動に不当の競争を招き、そのために選挙の自由公正を害する恐れがあると認められる。

複数の人間で共有している山林の分割を請求する権利を、山林を共有する者に認めないことは、憲法で定める(B)を制限することになり、その様な制限を設ける法律は、憲法29条2項に定められる公共の福祉に適合することが必要と考えるべきである。

(裁判所資料をもとに作成)

文中の(A)・(B)には、日本国憲法で定められる権利が入ります。その権利として正しいものを、次からそれぞれ1つ選び、記号で答えなさい。

- | | | |
|----------|----------|------------|
| ア. 表現の自由 | イ. 勤労の権利 | ウ. 国家賠償請求権 |
| エ. 団体交渉権 | オ. 財産権 | カ. 職業選択の自由 |

問6. 下線部⑥について、国際法上の争いを解決するため、国際司法裁判所が設けられています。この裁判所がある都市として正しいものを、下の地図中のア～エから1つ選び、記号で答えなさい。

