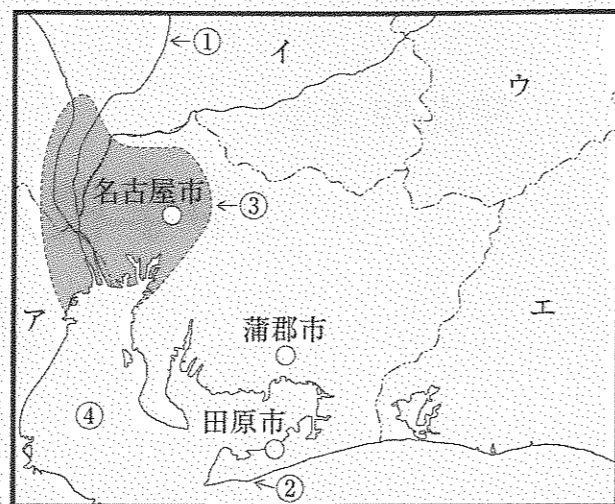


1 愛知県とその周辺の県について、あとの問いに答えなさい。

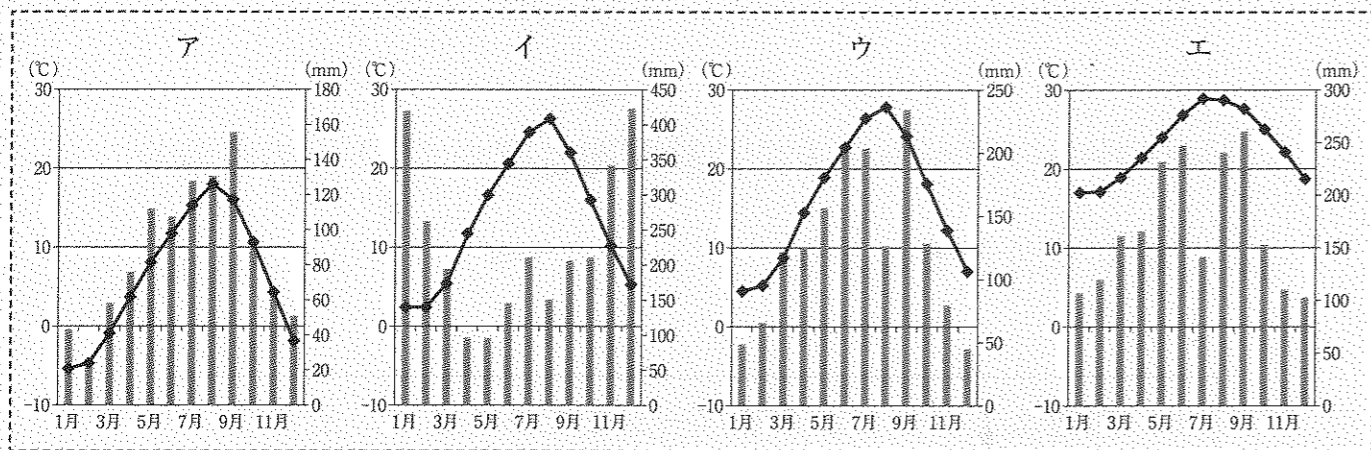
問1. 地図中①～④の地名を、解答らんに合わせて答えなさい。

問2. 下は、名古屋地方気象台発表の「東海地方の天気予報」(8月22日10時53分発表)の一部です。

今日の東海地方は、強い台風が関東地方を北上するため、おおむね晴れますが、湿った空気の影響で、午後は雷をともない激しい雨の降るところがある見込みです。また、高温が予想され、熱中症の危険が高くなるので、十分な対策をとってください。(以下、省略)



(1)名古屋市の雨温図を、下から1つ選び、記号で答えなさい。



(2)天気予報中の「東海地方」にはいくつかの県が属しています。このうち、日本を7地方に分けた場合の「中部地方」に属さない県を、地図から1つ選び、記号で答えなさい。また、その県の県庁所在地を、それぞれ答えなさい。

問3. 下の表は、地図中の愛知県の3つの都市の農業に関する数値をまとめたものです。この表を読み取って考えたことを表した文中の空らんにあてはまる語句を答えなさい。

	主業農家	準主業農家	副業農家	田	畑	樹園地
名古屋市	112	305	667	45,400	20,485	7,473
蒲郡市	278	192	226	4,659	7,904	50,895
田原市	2,462	677	580	108,941	427,941	7,384

(農家の単位は戸。耕地の単位はa。平成27年度刊愛知県統計年鑑による)

工業で有名な愛知県は、農業もさかんである。田原市は愛知県を代表する農業のさかんな都市で、市のホームページによると、キャベツやブロッコリー、花の主産地のようだ。名古屋市と距離が近いことから、大都市周辺で行われる **ア** 農業を営む農家が多いと考えられる。一方、和歌山県や四国・九州での生産が多い **イ** の産地として知られる蒲郡市は、田畑よりも樹園地の面積の方がずっと広い。

近年、専業農家・兼業農家という分類よりも現代の農家の実態をわかりやすく表すことができる、自給的農家と **ウ** 農家という分類が利用されることが増えた。この表からは、各都市の **ウ** 農家数はわかるが自給的農家の数はわからない。

問4. 愛知県には、県内でさかんな産業や多く作られる製品を題材とした「産業博物館」が各地にあります。下は、愛知県内の「産業博物館」を訪れた人による説明文です。X・Yの文中の「あるもの」とは何ですか。語群から1つ選び、答えなさい。

X…原料の一部に使われる酒を貯蔵する倉庫などとともに運河沿いに建てられたこの博物館では、世界的に有名な日本の料理で使われる「あるもの」について、江戸時代に使われていた製造のための道具や輸送船が展示されている。

Y…大正時代の工場の跡地を利用して建てられたこの博物館では、明治時代に日本の工業を支えた「あるもの」やその後大量生産されるようになった自動車について、模型や映像などを使って紹介している。

〔語群〕 航空機 織機 酢 豆腐 トマトケチャップ ミシン

問5. 下の表は、名古屋港と成田国際空港の主な輸出入品を表したものです。名古屋港の輸入品を表しているものを、次から1つ選び、記号で答えなさい。

ア	イ	ウ	エ
自動車	通信機	科学光学機器	液化ガス
自動車部品	医薬品	集積回路	石油
金属加工機械	集積回路	半導体製造装置	衣類

問6. 名古屋市内にある「若宮大通」や「久屋大通」は、「100 m 道路」とよばれる幅の広い道路です。このような道路が多く自動車を通行させる以外にもつ、防災における重要な役割を説明した文として正しいものを、次から1つ選び、記号で答えなさい。

- ア. 交通渋滞が激しくなったときに、地下鉄やモノレールを建設できるようにする。
- イ. 大雨が降ったときに、あふれそうになった水を道路上に貯められるようにする。
- ウ. 悪天候などで空港が利用できなくなったときに、着陸用の臨時の滑走路にする。
- エ. 大規模な火事が発生したときに、道路を越えて火が燃え広がらないようにする。

問7. 東京と名古屋市を結ぶ高速鉄道の建設が始まっています。この鉄道は、のちに大阪市まで延長するとされています。名古屋市と大阪市を結ぶにあたり、どこを通るのがよいでしょうか。下の〔建設される高速鉄道の意義〕と〔大阪市までのルートの考え方〕に従って、最も適当なルートを答えなさい。解答する際は、解答らんの地図中の点(駅を表す)を結んで線を引いて、考えたルートを表すこと。

〔建設される高速鉄道の意義〕

- ・現在、約2時間20分かかっている東京と大阪市の間を約1時間で結ぶ。
- ・世界でも有数の人口密集地域である三大都市圏を結ぶ鉄道を、東海道新幹線とは別に建設する。

〔大阪市までのルートの考え方〕

- ・通過する府県1つに、1駅設置する。
- ・奈良市の近くを通るルートとする。国際的な観光都市である京都市を通るようにすべきという意見もあるが、それでは大阪市まで遠回りになってしまう。
- ・大阪市に建設する駅は、山陽新幹線に乗り換えやすいところとする。空港へ乗り継ぎしやすくする方法は、今後検討する。

中学1年生の社会の授業で、班に分かれて「遊びの歴史」について調べました。以下のまとめを読み、あとの問いに答えなさい。

【蹴鞠】

- ・6世紀頃、中国から①仏教などとともに伝わってきました。
- ・後に天智天皇となる（あ）と藤原鎌足も、蹴鞠で遊んでいたようです。
- ・『枕草子』の作者の（い）も「蹴鞠は上品ではないが面白い」と書いています。
- ・②平安時代には、宮廷の競技として貴族の間に広まりました。
- ・③鎌倉時代になるとルールがまとまり、④室町時代には3代将軍（う）も遊んでいました。

【折り紙】

- ・外国でも“origami”と呼ばれることから、日本で生まれたという説があります。
- ・平安時代の貴族たちが、贈り物を美しく見せるために紙を折ったことが、折り紙の起源のようです。
- ・⑤和紙の生産に力を入れたことで、庶民にも紙が広がり、折り紙が普及しました。
- ・⑥『好色一代男』に、折り紙についての最も古い記録があります。

【カードゲーム】

- ・船旅の際に、⑦ポルトガル人やスペイン人たちが遊んでいました。
- ・“カード”は、ポルトガル語の“⑧カルタ”に由来しています。
- ・⑨戦国大名が制定した分国法の中には、家臣が かるた を行うことを禁止するものもあります。
- ・⑩江戸時代には、いろはかるた や ことわざかるた などが生まれました。
- ・⑪明治時代には、トランプが日本に伝わりました。

- 問1. 文章内の空らん（あ）～（う）にあてはまる語句を答えなさい。
- 問2. 下線部①について、仏教の説明としてまちがっているものを、次から1つ選び、記号で答えなさい。
- ア. 現存する世界最古の木造建築は、607年に聖徳太子（厩戸皇子）が建てた法興寺である。
 - イ. 奈良時代には僧の地位が高まり、天皇に気に入られ政治に関わった道鏡が力を持った。
 - ウ. 平安時代に末法思想が広がると、藤原道長の息子である頼通は平等院鳳凰堂を建てた。
 - エ. 鎌倉時代には、念仏を唱えればだれでも救われるとした浄土宗などが民衆にも広まった。
- 問3. 下線部②について、次の文の太線部には、平安時代と関係のないものが1つあります。文中からその記号を選び、正しい語句を答えなさい。

奈良時代末期、(A)班田収授法などが崩れ、世の中がひどく乱れていたため、(B)桓武天皇は、政治のたてなおしを行いました。しかし時代がすすむと、貴族の藤原氏が力を伸ばし、(C)摂関政治を行いました。この時代の貴族の生活は、(D)書院造や十二単などとても華やかなものでした。

- 問4. 下線部③について、
- (1)次の言葉を述べた人物を答えなさい。また、文中の太線部の人物を答えなさい。

「みな、心を一つにしてよく聞くがよい。故右大將軍が、敵を討ち、幕府を開いてから、官位といい俸禄といい、御家人が受けた恩は山よりも高く、海よりも深い。このような深い情けを忘れて、京都に味方するのか、それとも幕府に仕えるのか、この場ではっきりと言ってみよ。」

（『吾妻鏡』より）

(2)1976年に韓国南西部沖で沈没船が見つかりました。これは鎌倉時代末期に京都の寺院を建てなおすため、日本に向けられた船で、約2万点の陶磁器などが積まれていました。このことから、日本と当時の中国との関係についてわかることを25字以内で説明しなさい（句読点も字数として数える）。ただし、当時の中国の名前を明らかにすること。

- 問5. 下線部④について、次のX・Yの文章が正しければ○、まちがっていれば×と答えなさい。
- X. 大名の中から、将軍を助ける老中が数名おかれ、交代で政治を行った。
 - Y. 牛・馬や鉄製農具を使った農耕や、かんがい用の水車が使われ始めた。
- 問6. 下線部⑤について、和紙は古くから日本各地で作られてきました。和紙の原料として最も適切なものを、次から1つ選び、記号で答えなさい。
- ア. 茶
 - イ. 桑
 - ウ. 楮
 - エ. 漆
- 問7. 下線部⑥について、この小説の作者と同時代に活躍した人物としてまちがっているものを、次から1つ選び、記号で答えなさい。
- ア. 尾形光琳
 - イ. 滝沢馬琴
 - ウ. 竹本義太夫
 - エ. 市川団十郎
- 問8. 下線部⑦について、日本と彼らとの貿易は、南蛮貿易と呼ばれます。南蛮貿易やそれと共に伝わった文化に関する説明として正しいものを、次から1つ選び、記号で答えなさい。
- ア. 南蛮貿易を行うには、幕府が発行する海外への渡航を証明する朱印状が必要だった。
 - イ. 墨の濃淡を使って表現する技術が海外より伝わり、特に雪舟が優れた山水画を残した。
 - ウ. 狩野永徳らによって、輸入された金ばくを使ってあざやかな色彩の障壁画が描かれた。
 - エ. ヨーロッパから時計、眼鏡、毛織物などがもたらされ、日本から銀や刀剣が輸出された。
- 問9. 下線部⑧について、群馬県には、1947年に発行された“上毛かるた”があります。「あ」は、“浅間のいたずら 鬼の押し出し”、「わ」は、“和算の大家（え）”です。空らん（え）には、江戸時代に研究をつづけ、世界的な数学者となった人物の名前が入ります。この人物の名前を、次から1つ選び、記号で答えなさい。
- ア. 関孝和
 - イ. 伊能忠敬
 - ウ. 杉田玄白
 - エ. 平賀源内
- 問10. 下線部⑨について、次の文中の空らん（お）・（か）にあてはまる語句を答えなさい。

（お）大名にかわって、実力のある新しい大名が実権をうばうなど、下の身分の者が実力で上の者の地位をうばうことを、（か）という。

- 問11. 下線部⑩について、江戸時代の政治を説明した文ア～エを年代順にならべ、記号で答えなさい。
- ア. 農民の出稼ぎを禁止し農村の再建をはかり、株仲間を解散させて取引を自由にさせた。
 - イ. 参勤交代の義務付けや、大きな船の建造の禁止など、大名に対する引きしめを強めた。
 - ウ. 悪化した財政をたてなおすため質の悪い貨幣を発行したほか、生類憐みの令を出した。
 - エ. 積極的に新田の開発をさせ、年貢を毎年一定の割合で徴収して収入の安定をはかった。
- 問12. 下線部⑪について、1868年に明治天皇が発表する形で示された、政府の基本方針を定めたものを何と呼ぶか答えなさい。

3 次の文章を読んで、あとの問いに答えなさい。

2016年7月に行われた参議院選挙は、(あ)法の改正により、満18歳をむかえた者が投票を行った初めての国政選挙で、①隣りあった県を一つの選挙区とする「(い)」の導入が見られました。

選挙は、日本国憲法の三大原則である(う)を実現する機会であり、その結果は②国会や内閣が法律を制定したり、③歳入・歳出を決定したりすることなどによって、私たちに大きな影響を与えます。今回の選挙では、④憲法の改正に前向きな政党が議席を増やし、今後の動きが注目されています。一人ひとりが社会について考え、選挙に臨むことが大切なのです。

問1. 文中の空らん(あ)～(う)にあてはまる語句を答えなさい。

問2. 下線部①によって尊重される権利として最も適切なものを、次から1つ選び、記号で答えなさい。

- ア. 生存権 イ. 法の下での平等 ウ. 財産権 エ. 信教の自由

問3. 下線部②について、

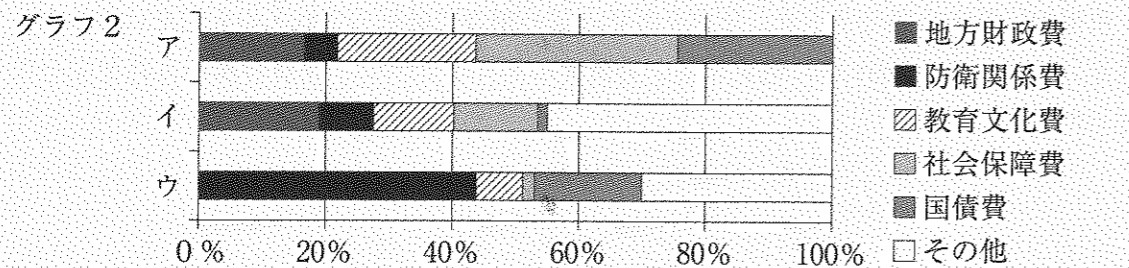
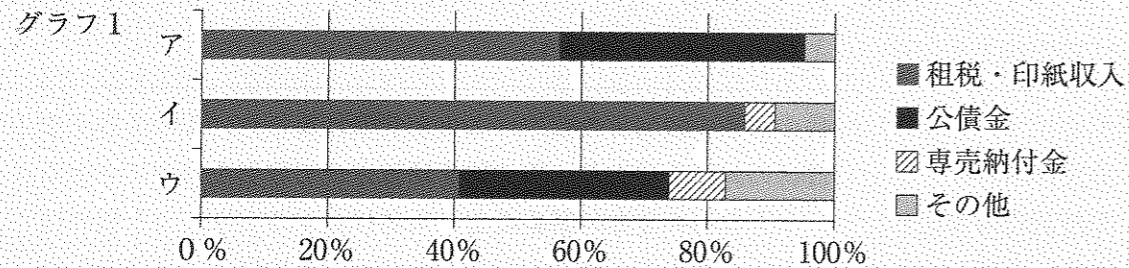
(1)国会は、国の様々なことがらに対して証言を求めたり、記録や文書の提出をさせたりする権限を持っています。この権限を何といいますか。

(2)国会に関する次の文のうち、正しいものを2つ選び、記号で答えなさい。

- ア. 国会は国の唯一の立法機関と規定されているが、政令や条例の制定は行っていない。
 イ. 法律の制定に対して衆議院は参議院に優越するが、条約の承認については優越しない。
 ウ. 予算に関する審議や議決は、毎年4月から150日間開かれる常会で行われている。
 エ. 内閣総理大臣および国務大臣は、国会議員の中から国会が指名し、天皇が任命する。
 オ. 衆議院が解散していても、緊急の必要があるときには、参議院で緊急集会が開ける。
 カ. 衆議院と参議院で内閣不信任案が可決されると、内閣は総辞職しなければならない。

(3)衆議院が、参議院にいくつかの点で優越しているのは、より国民の声を反映できると考えられているためです。その理由の一つは任期が短いことですが、もう一つは何ですか。

問4. 下線部③について、グラフ1はある年度の歳入を、グラフ2はある年度の歳出を示したものです。グラフ1・2のア～ウにはそれぞれ1934年度、1964年度、2014年度のどれかが共通してあてはまります。これらの年度はどれにあてはまりますか。ア～ウからそれぞれ選び、記号で答えなさい。



(財務省資料より作成)

問5. 下線部④の手続きについて下の文を読み、次の問いに答えなさい。

憲法の改正は日本国憲法第96条で定められており、国会の(X)の賛成で改正案を発議し、国民投票で(Y)の賛成が得られれば改正が成立する。

- (1)文中の空らん(X)にあてはまる文および(Y)にあてはまる語句をそれぞれ答えなさい。
 (2)文中の国民投票は、代表者を通じてではなく、国民の意思が政治の決定にそのまま反映されるしくみの1つです。このようなしくみを何といいますか。解答らんに合わせて答えなさい。
 (3)国民投票は海外でも行われています。2016年の6月にイギリスで行われた国民投票では、どのようなことが決定しましたか。

平成 29 年度 中学校入学試験解答用紙 社会 2月1日実施

座席番号		

受験番号			

氏名				
----	--	--	--	--

--	--	--	--	--

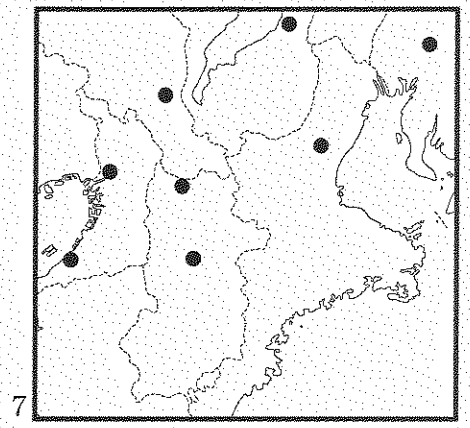
1 ① 川 ② 半島 ③ 平野 ④ 湾

--	--	--	--	--

2 (1) (2) 位置 都市名 市

3 ア イ ウ

4 X Y 5 6



2 あ い う

--	--	--	--	--

2 記号 正しい語句 言葉を述べた人物 故右大將軍

4 (2)

5 X Y 6 7 8 9

10 お か 11 → → → 12

3 あ 法 い う

--	--	--	--	--

3 (1) (2) (3)

4 1934 年度 1964 年度 2014 年度

5 (1) X Y

5 (2) 制 (3)