

平成 28 年度

# 中学校入学試験問題 社会

## 第 1 回 (2 月 1 日実施)

試験開始の合図があるまで試験問題は開かず、下記の注意をよく読んでおきましょう。

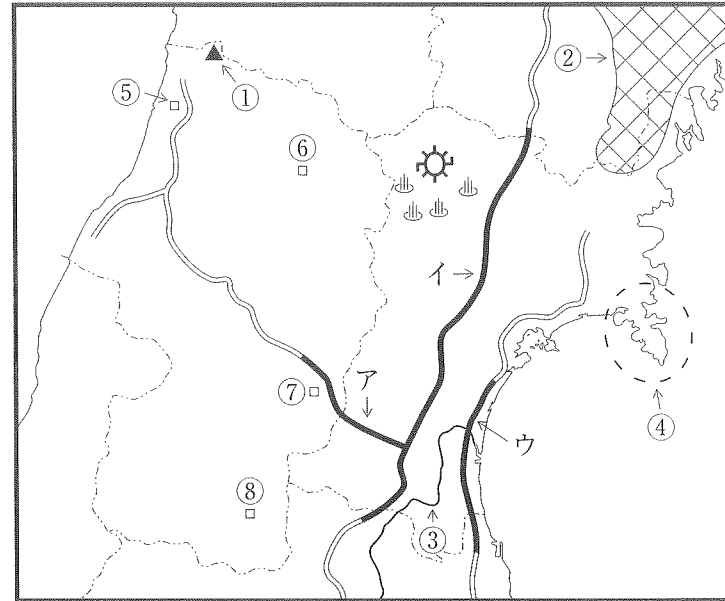
1. 問題は 1 ページから 6 ページまであります。足りないページや印刷のよく見えないページがあったときは、手をあげてください。
2. 解答用紙は別になっています。答えはすべて解答用紙に記入してください。
3. 試験問題には受験番号・氏名を書く必要はありません。
4. 試験時間は 11 時 05 分から 11 時 35 分までです。
5. 地名・用語は、特別の指示がないかぎり、漢字で答えること。

1 宮城県と山形県について、あとの問いに答えなさい。

問1. 地図中①～④の地名を、解答らんに合わせて答えなさい。

問2. 山形県内は、夏になると南東の山々を越えて吹き下ろす乾燥した風によって、気温が急に高くなることがあります。このような風が吹く現象を何といいますか。解答らんに合わせてカタカナで答えなさい。

問3. 地図中の発電所は鬼首発電所おにこうべといいますが、この発電所はどのような方法で発電しているか、例に従って答えなさい。ただし、地図中の発電所周辺に記されている地図記号を参考にする。



例：水力発電と考えた場合、解答らんには「水力」と書く。

問4. 山形県は果物の生産がさかんです。

(1)右の表は、ある果物の収穫量について上位5県を示したものです。X・Yにあてはまる農作物を、それぞれ答えなさい。ただし、収穫量はXが2013年産、Yは2014年産です。

	X		Y	
1	山梨県	39,100	山形県	14,500
2	福島県	29,300	北海道	1,430
3	長野県	15,400	山梨県	1,190
4	和歌山県	9,590	青森県	605
5	山形県	8,080	秋田県	364

(単位はt 農林水産統計による)

(2)果物の栽培に向く、河川が山地から平地に流れ出るところに上流から運んできた土砂がたまってできた地形を何といいますか。3字で答えなさい。

問5. 下の文は宮城県の工業を説明したものです。(あ)と(い)にあてはまる語句を答えなさい。

1990年代の終わりごろから宮城県内では(あ)工業がさかんととなり、愛知県に本社を置く企業の系列の部品工場や組み立て工場が進出した。日本の(あ)の生産台数は長らくアメリカ合衆国と世界一を争うほど多かったが、現在は急速に経済発展した(い)が世界一となっている。

問6. 宮城県の漁業を説明した文として、正しいものを1つ選び、記号で答えなさい。

- ア. ウナギの養殖がさかんで、宮城県は2012年度の収穫量が日本最大であった。
- イ. 沖合は日本有数の漁場で、サンマやカツオといった魚の漁がさかんである。
- ウ. ワカメを養殖するため、気仙沼湾では医薬品の使用や生産は禁止されている。
- エ. 海水浴客の安全を守るため、サメ漁やフカヒレの生産が全面的に禁止された。

問7. 現在、東北地方に広がる高速道路は、大まかには次のように建設されてきました。これをふまえて、地図中の高速道路ア～ウを開通した順番にならべ、記号で答えなさい。ただし、ア～ウは、それぞれの高速道路の一部区間を示しています。

仙台市を通過して首都圏と東北地方を結ぶように、奥羽山脈に沿って建設された。  
↓  
宮城県以外の各県の主要都市を結ぶように、奥羽山脈を横切って建設された。  
↓  
各県内の海岸沿いの中小都市を結ぶように、太平洋岸や日本海岸に建設された。

問8. 下の文が説明する山形県の都市の位置を、地図中の⑤～⑧からそれぞれ選び、番号で答えなさい。また、それぞれの都市名を語群から選びなさい。

- A 各マスメディアの本社が集中する中心都市で、宮城県の県庁所在地と接している。松尾芭蕉とゆかりのある寺院がある。
- B 雪深い内陸の地域にあり、この都市の近くで最上川が流れの向きを西へ大きく変える。山形新幹線の終点となっている。
- C 上杉氏の城下町だったこの都市は、物資の運送などを通じて福島県とのつながりが強い。和牛の産地としても有名である。
- D 庄内平野が広がる地域にあるこの都市は、稲作が非常にさかんである。西廻り航路の整備後、港町として大きく栄えた。

〔語群〕 酒田市 新庄市 天童市 山形市 米沢市

問9. 下の表は、宮城県・山形県・福島県についてのいくつかの情報をまとめたものです。宮城県と山形県を示すものを、表中のア～ウからそれぞれ選び、記号で答えなさい。

	人口の推移			農業産出額	製造品出荷額	小売業商品販売額
	2010年	2012年	2014年			
ア	約203万人	約196万人	約194万人	2021億円	4兆5786億円	1兆7040億円
イ	約235万人	約233万人	約233万人	1810億円	3兆4417億円	2兆1986億円
ウ	約117万人	約115万人	約113万人	2352億円	2兆4130億円	1兆775億円

(データでみる県勢2015、統計局ホームページによる)

2 次の文を読んで、(あ)と(い)にあてはまる語句を答え、あとの問いに答えなさい。

縄文時代、人びとは石や骨などで道具をつくり、集団で狩り・漁・採集などをして生活をしていました。また、食べ物をたくわえたり、煮たりするための道具を使っていました。このころのようすは、①貝塚などを通じて知ることができます。弥生時代になると、大陸から米作りの技術が伝わり、各地に広がっていきました。この代表的な遺跡である静岡県の登呂遺跡では、田げたや②石包丁などの道具が出土しており、収穫した稲を高床倉庫にたくわえたことがわかっています。また、金属器も大陸から伝わりました。一方、③このころ日本の各地の王の中には中国に使いを送り、中国の皇帝に従うことを約束した者もいました。

7世紀末から8世紀の初めにかけて、中国にならって日本でも金属貨幣がつくられるようになりました。その代表が、708年に、武蔵国の秩父で銅が発見されたことを記念してつくられた「和同開珎」です。これ以前につくられた貨幣に(あ)がありましたが、これらの貨幣はあまり流通しませんでした。8世紀中ごろ、聖武天皇は、仏教の力で国を治めようとし、全国に④国分寺と国分尼寺を建立しました。⑤743年、奈良の大仏をつくる命令が出されました。大仏の表面は、東北地方で発見された大量の金を使用され、その金をメッキ※するためにさらに⑥大量の金属が使われ、都の環境を汚染したと考えられています。

⑦菅原道真の意見によって(い)が停止されてから、⑧足利義満によって貿易が再開されるまで、日本と中国との正式な貿易は途絶えていましたが、商人や⑨僧侶の行き来など民間の貿易は続いていました。その輸入品の中に⑩中国銭があるのは興味深いことです。また、戦国時代の大名は、金山や⑪銀山の獲得や開発に力を注ぎ、特に⑫豊臣秀吉は、黄金の茶室をつくったことでも知られています。江戸幕府は大名に領地を与える一方、自らの財政の基礎を固めるため、⑬多くの農地や主要な鉱山、重要な都市を直接支配しました。主要な鉱山を支配下においた幕府は、⑭金貨・銀貨・銅貨を発行しました。こうして江戸時代は産業・交通の発達にとまない、貨幣経済が発展しました。

明治政府は新しい貨幣の発行を決めました。貨幣の単位もかえ、貨幣の中心は⑮紙幣となり、金属が材料の硬貨は補助的な貨幣となりました。

※メッキ…金属の薄い膜を他の金属の表面にかぶせること

問1. 下線部①について、東京の大森貝塚を発見した人物を答えなさい。

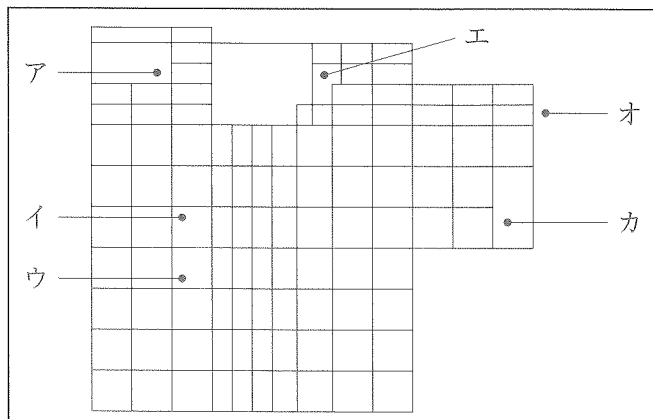
問2. 下線部②は何のために使われましたか。次から1つ選び、記号で答えなさい。

- ア. 稲のもみをとるため
- イ. 稲の根元を刈り取るため
- ウ. 稲の穂を刈り取るため
- エ. 雑草を刈り取るため

問3. 下線部③について、「奴国の王が中国に使いを送り、印を授けられた」と書かれている中国の歴史書の名前を、次から1つ選び、記号で答えなさい。

- ア. 『魏志』倭人伝
- イ. 『宋書』倭国伝
- ウ. 『漢書』地理志
- エ. 『後漢書』東夷伝

問4. 下線部④について、全国につくられた国分寺の総本山で、奈良の大仏がつくられた寺の名称を書きなさい。また、その場所を、平城京を表した右の地図のA～カから選び、記号で答えなさい。



問5. 下線部⑤の年に、開墾を進め、耕地を増やす目的で制定された法は何ですか。

問6. 下線部⑥は、水俣病の原因とも共通している金属です。この金属を漢字2字で答えなさい。

問7. 下線部⑦の(い)の停止に関係する次の問いに答えなさい。

(1)(い)の停止により、日本の風土や生活にあった文化がうまれました。その代表例は『源氏物語』のようなすぐれた文学作品です。なぜこのようなすぐれた文学作品が数多くつくられたのですか。下の語句を用いて説明しなさい。

- 外国
- かな文字
- 漢字
- 日本語

(2)(い)の停止から、足利義満の貿易再開までにおきたできごとを年代順にならべ、記号で答えなさい。

- ア. 元が二度にわたって九州にせめてきた。
- イ. 後醍醐天皇が建武の新政を始めた。
- ウ. 平将門が関東で反乱をおこした。
- エ. 後鳥羽上皇が承久の乱をおこした。
- オ. 平清盛が平治の乱に勝利した。
- カ. 白河上皇が院政を始めた。

問8. 下線部⑧について、

(1)このとき、海賊と正式な貿易船を区別するために合い札の証明書をいていたことから、この貿易を何とよびますか。

(2)下線部中に登場する足利義満の保護を受け、田楽・猿楽から発達した能楽(能)を大成させたのはだれですか。また、能と能との間に演じられ社会を風刺した内容が多い劇を何といいますか。

問9. 下線部⑨について、僧侶の栄西によって中国から伝えられた仏教(禅宗)の宗派を答えなさい。

問10. 下線部⑩は、宋と貿易があったころから商業の発展とともに使用され始めます。その背景には農業の発達も関係があります。この時代の農業に関する説明として正しいものを、次から1つ選び、記号で答えなさい。

- ア. 農民たちは団結を強めていき、一揆をおこして領主に抵抗した。
- イ. 備中くわ、千歯こきなど、農具の改良や発明がおこなわれた。
- ウ. 新田開発をおこない、お金をだす肥料を使って商品作物を栽培した。
- エ. 牛や馬を農業に使用し、刈り取った草を土にうめて肥料にした。

問11. 下線部⑪について、16～17世紀にかけて大量に銀を産出した島根県の銀山の名前を答えなさい。

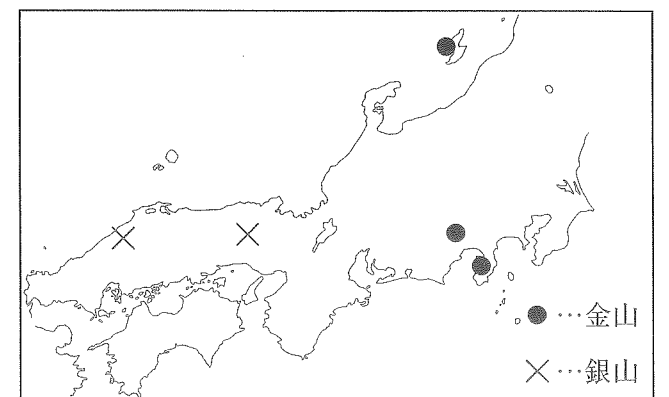
問12. 下線部⑫について、豊臣秀吉が行ったことに太閤検地があります。この検地を実行するためには、当時、地方によってバラバラだったものを統一する必要がありました。何を統一しましたか。

問13. 下線部⑬のような、幕府の直接支配地を何といいますか。次から1つ選び、記号で答えなさい。

- ア. 親藩
- イ. 天領
- ウ. 公領
- エ. 荘園

問14. 下線部⑭について、江戸時代には貨幣に関するある商売が発展しました。この理由を、ある商売の名前を明らかにしながら、下の語句を用いて説明しなさい。ただし、解答には右の地図を参考にする。

- 金貨
- 銀貨
- 江戸
- 上方



問15. 下線部⑮について、明治以降、現在まで発行された紙幣に関する問いに答えなさい。

(1)1970年代には「百円札」が残っていました。この紙幣には、土佐藩の出身で、自由民権運動の中心人物として活躍し、1881年に自由党をつくった人物が描かれていました。この人物を答えなさい。

(2)「二千円札」には沖縄の守礼門が描かれています。沖縄の返還を重要な外交課題としてかかげ、返還協定を結ぶことに成功した内閣を、次から1つ選び、記号で答えなさい。

- ア. 吉田茂内閣
- イ. 岸信介内閣
- ウ. 佐藤栄作内閣
- エ. 田中角栄内閣

2015年は戦後70年を迎えた年でした。下の表は、2015年に「〇周年」や「〇年目」を迎えたできごとをまとめたものです。これを見て、あとの問いに答えなさい。

	できごと	説明
戦後70年	アジア・太平洋戦争終結 第二次世界大戦終結	①沖縄県では国内で唯一の地上戦が行われた戦後、連合国による占領と②改革が行われた
開催60周年	第1回原水爆禁止世界大会 アジア・アフリカ会議	③広島で開催された ④中国やインドの代表が主導して開かれた
決定50周年	万国博覧会の大阪開催が決定	⑤高度経済成長を果たした日本で、5年後に開催することが決まった
戦後40年	(※) 戦争終結	南北に分断されていた国が統一された
制定30年	⑥男女雇用機会均等法が成立	働く場での男女の均等待遇などを定めた
被災20年	⑦阪神淡路大震災が発生	死者6,434名、住宅全壊約10万5,000棟
成立10年	⑧イラクで新憲法成立	国民投票で賛成が過半数を超えた

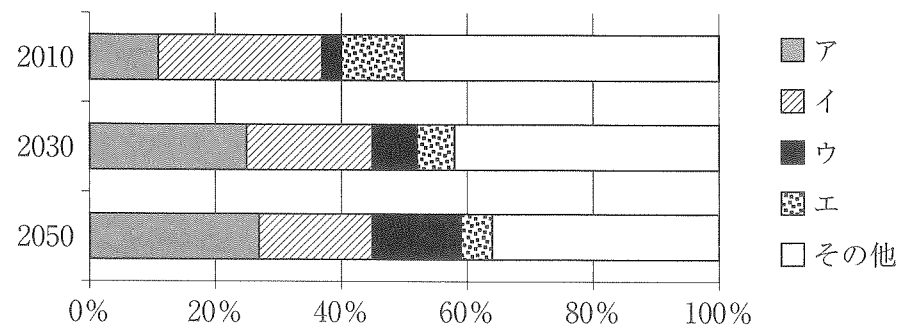
問1. 下線部①には現在、日本にある米軍施設の多くが集中しています。1996年、日米両政府は普天間飛行場の返還に合意しています。しかし、移転先とされた同県名護市  への新基地の建設には反対も根強く、全面的な返還は実現していません。空らんに入る地名を3字で答えなさい。

問2. 下線部②の中心として、新しい憲法が作られました。新しく作られた憲法の内容について、次の文の(あ)～(う)に入る憲法の文言を、それぞれ2字で答えなさい。

- ・この憲法にもとづいて天皇が行うすべての(あ)行為には、(い)の助言と承認が必要です。
- ・第26条は教育、第27条は(う)について定めていて、どちらも権利と義務の両方があります。

問3. 下線部③では毎年8月6日に平和祈念式典が行われています。2015年の式典では安倍首相が「核兵器のない世界を実現する重要な使命がある」と述べた一方、とよばれる核兵器に関する日本の基本方針には触れなかったことも報道されました。空らんに入る語句を5字で答えなさい。

問4. 下線部④の国々は世界の経済に大きな影響力をもっています。下の資料は、GDP(国内総生産)が、どの程度の割合で推移するかの予測を示しており、ア～エは、日本・アメリカ・中国・インドのいずれかです。中国とインドにあてはまるものをそれぞれ選び、記号で答えなさい。



(内閣府資料より作成)

問5. 下線部⑤の時期の日本の様子を述べた文として正しいものを、次から1つ選び、記号で答えなさい。

- ア. 金利が低く、株式や土地の人気の高まったため、急激に株式や土地の価格が上昇した。
- イ. 日本の財政は赤字が続いて、税収だけでは足りず、毎年多額の赤字国債を発行していた。
- ウ. 洗濯機、カラーテレビ、自動車の「三種の神器」が各家庭に普及し、国民生活が向上した。
- エ. 若い労働者が都市へ流入し、都市の人口過密と農村の過疎化が見られるようになった。

問6. 下線部⑥を始めとして、日本には性別に関連する多くの規定や制度があります。それらについて述べた文として正しいものを、次から1つ選び、記号で答えなさい。

- ア. 女性が投票に参加する国会議員選挙は、1970年代半ばに初めて実施された。
- イ. 育児のための休暇は、女性だけでなく男性も取得できると定められている。
- ウ. 夫婦がそれぞれ別の姓を名乗ることは、憲法制定当初から認められている。
- エ. 男女平等が実現されたため、政府が男女平等を推進する例は近年見られない。

問7. 下線部⑦に関連して、全国地震・火山などを観測し、資料の収集・配布・発表などを担当する日本の行政機関はどこですか。解答らんに合わせて答えなさい。

問8. 下線部⑧には、日本の自衛隊も2003年以降、派遣されました。これについて述べた文として正しいものを、次から1つ選び、記号で答えなさい。

- ア. イラクでの陸上自衛隊の主な任務は、給水・医療活動、学校や道路の復旧などだった。
- イ. イラクへの自衛隊の派遣は、一時中断したものの、2015年12月には再び始められた。
- ウ. イラクへの自衛隊の派遣に際して、政府は集団的自衛権の行使を認める閣議決定をした。
- エ. イラクへの自衛隊の派遣はPKO協力法にもとづいて行われ、国連の指揮下で活動した。

問9. 表中の(※)にあてはまる国を答えなさい。

問10. 次の文は、2015年のできごとです。

6月、公職選挙法の改正が参議院本会議で、全会一致で可決し成立した。

(1) 次の参議院議員選挙は、今年7月に予定されています。参議院議員を選ぶ選挙で、今の小学校6年生が全員、投票権を持つようになるのは何回目の選挙からですか。ただし、今年の選挙を1回目とし、今の制度は変わらないものとします。

(2) これに関連して、参議院本会議で否決された場合でも、衆議院の議決がそのまま国会の議決となる場合があるものを、次からすべて選び、記号で答えなさい。

- ア. 法律の制定
- イ. 予算の議決
- ウ. 条約の承認
- エ. 最高裁判所長官の指名
- オ. 憲法改正の発議

平成 28 年度 中学校入学試験解答用紙 社会 2月1日実施

座	席	番	号

受	験	番	号

氏			
名			

点	

1

①	山	②	高地	③	川	④	半島
---	---	---	----	---	---	---	----

1

点	

2	現象	3		4 (1)	X	Y	(2)
---	----	---	--	-------	---	---	-----

2

5	あ	い	6	7	→ →	8	A	位置	都市名
---	---	---	---	---	-----	---	---	----	-----

5

8	B	位置	都市名	C	位置	都市名	D	位置	都市名	9	宮城県	山形県
---	---	----	-----	---	----	-----	---	----	-----	---	-----	-----

8

2

あ	い	1	2	3
---	---	---	---	---

1

4	名称	場所	5	6
---	----	----	---	---

4

7 (1)	
-------	--

7 (1)

7 (2)	→ → → → →	8 (1)	
-------	-----------	-------	--

7 (2)

8 (2)	人名	劇の名称	9	10	11	銀山
-------	----	------	---	----	----	----

8 (2)

12	13
----	----

12

14	
----	--

14

15 (1)	(2)
--------	-----

15 (1)

点	

3

1	2	あ	い	う	3
---	---	---	---	---	---

1

4	中国	インド	5	6	7	庁	8	9
---	----	-----	---	---	---	---	---	---

4

10 (1)	回目	(2)
--------	----	-----

10 (1)

点	