

地名・用語は特別の指示がないかぎり、漢字で答えること。


1 資料をみて、あとの問いに答えなさい。

問1. 右下の地図中①～④は、静岡県の旗をつくるもとになった場所を示しています。①～④の地名を解答らんに合わせて答えなさい。

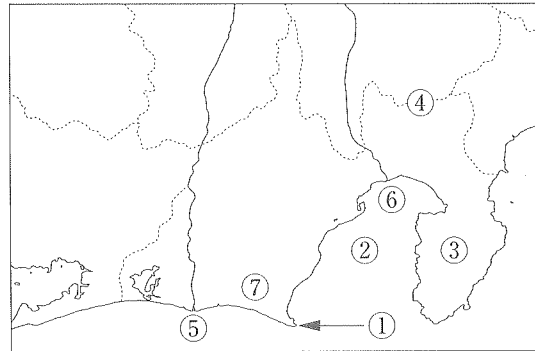
問2. ⑤・⑥の河川の様子を説明した文として正しいものを、次から1つずつ選び、記号で答えなさい。また、⑤・⑥の河川名を答えなさい。

- ア. 新潟県から続く、長い断層線付近を流れている。
- イ. 水力発電への利用などで、深刻な水量不足が問題となった。
- ウ. 湖を源流とし、流域は急な地形で水害に悩まされた。
- エ. 日本でも有数の急流で、アルミニウムの生産にも利用される。

静岡県の旗



地図



問3. 下の文は、⑦の地域の様子を説明したものです。〔 A 〕～〔 C 〕に当てはまる語句の組み合わせとして正しいものを、次から1つ選び、記号で答えなさい。

〔 A 〕が続くこの地域は、水はけの〔 B 〕台地が広がっており、〔 C 〕の生産をさかんにしていることで有名である。

	ア	イ	ウ	エ	オ	カ
A	低地	低地	斜面	斜面	高地	高地
B	よい	悪い	よい	悪い	よい	悪い
C	わさび	茶	茶	わさび	わさび	茶

問4. 下の表は、静岡県で水揚げされる水産物の漁獲量の順位を、上位5つの都道府県まで並べたものです。また、表中の文はD・E・Fの水産物を説明したものです。これらをもとに、D・E・Fに当てはまるものを、下の〔水産物〕からそれぞれ選び、答えなさい。ただし、いずれも2008年のものとします。

	1	2	3	4	5	特 色
D	鹿児島	愛知	宮崎	静岡	高知	淡水魚として知られ、養殖もさかんである。
E	茨城	長崎	静岡	千葉	福島	日本の各地でとれる他、ノルウェーからの輸入も多い。
F	静岡	三重	宮城	高知	東京	温暖な海を好み、太平洋岸を春から秋にかけて回遊する。

〔水産物〕

うなぎ いか かつお さば すけとうだら

問5. 右の表は、中部地方の4県の主な工業生産物を示したものです。それぞれの記号が示す県名を答えなさい。

	ア	イ	ウ	エ
果実酒		理容店で使う刃物	銅合金	ピアノ
ウイスキー		タイル	アルミサッシ	まぐろ缶詰
ミネラルウォーター		包丁	医薬品	プラモデル

問6. 静岡県内を東西に走る東名高速道路は、日本の大動脈ともいえる重要な高速道路です。しかし、「ある問題」を抱えています。次ページ右上の表から読み取れる「ある問題」を説明し、「ある問題」を解消するために現在建設されているものを答えなさい。

首都高速道路に接続する主な高速道路	一日あたりの利用交通量
東名高速道路（東京都世田谷区～愛知県小牧市）	約 43 万台
中央自動車道（東京都杉並区～愛知県小牧市）	約 21 万台
関越自動車道（東京都練馬区～新潟県長岡市）	約 20 万台
東北自動車道（埼玉県川口市～青森県青森市）	約 28 万台
常磐自動車道（埼玉県三郷市～福島県富岡町）	約 18 万台

問7. 東名高速道路と同じく、東海道新幹線も重要な交通路線です。下の文は、東海道新幹線が通過する静岡県内の都市の様子を説明したものです。熱海市、富士市、浜松市を説明した文を、次からそれぞれ選び、記号で答えなさい。

- ア. 製紙工場をはじめ様々な工場が多くみられる。竹取物語の由来の地とされている。
- イ. 行政施設やテレビ局、ホテルなどが多くみられる。県の中心としての施設が多い。
- ウ. 全体的に山や丘が目立つ。海側には温泉街やホテルが多くみられる。
- エ. 商業施設や住宅が多くみられる。オートバイ会社の工場が位置する。

2

大妻中学校のある千代田区周辺には、歴史上よく知られている人物の銅像が多くみられます。A～Eの銅像に関する説明を読んで、(①)～(③)内に当てはまる人物名や語句を答えなさい。また、あとの問いに答えなさい。

A. 竹橋にある毎日新聞社の前の内濠側には、1940年に建てられた和氣清麻呂の銅像があります。この人物は奈良時代に政治を動かし、天皇となろうとした僧(①)をしりぞけました。

問1. 和氣清麻呂は794年にできた都への遷都を提案した人物です。遷都を実施した時の天皇を答えなさい。


問2. 1940年、日本は戦争中でした。その戦争の名称を、次から1つ選び、記号で答えなさい。

- ア. 日清戦争 イ. 日露戦争 ウ. 太平洋戦争
- エ. 日中戦争 オ. 満州事変

問3. 和氣清麻呂の銅像の近くの手町には、自ら「新皇」と名乗って935年に反乱を起こした人物のものと伝えられる首塚があります。その人物を次から1つ選び、記号で答えなさい。

- ア. 藤原道長 イ. 藤原純友 ウ. 源義家
- エ. 源義朝 オ. 平将門 カ. 平清盛

和氣清麻呂像



B. 皇居外苑には、(②)時代末期から南北朝時代の武将である楠木正成の銅像があります。

問4. 楠木正成と対立して、北朝の天皇から征夷大將軍に任命された人物を答えなさい。

問5. 北朝が拠点とした都市はどこですか。次から1つ選び、記号で答えなさい。

- ア. 京都 イ. 鎌倉 ウ. 堺 エ. 吉野 オ. 大阪

問6. (③)時代末期から南北朝時代の様子として正しいものを、次から1つ選び、記号で答えなさい。

- ア. 武士の相続が分割相続から単独相続に変わった。 イ. 分国法とよばれる法律がつけられた。
- ウ. とうみや千歯こきを利用するようになった。 エ. 地頭が一国を支配するまでに成長した。

問7. 南北朝の合一を実現させた足利義満が積極的に保護した芸能として正しいものを、次から1つ選び、記号で答えなさい。

- ア. 歌舞伎 イ. 能 ウ. 人形浄瑠璃 エ. 念仏踊り

C. 有楽町^{ゆらくちよう}の東京国際フォーラムには、最初に江戸に城を築いたといわれる太田道灌^{どうかん}の銅像が置かれています。

- 問8. 太田道灌は戦国時代を生きた人です。戦国時代に突入するきっかけとなった1467年に始まった戦乱を答えなさい。
- 問9. 太田道灌は上杉氏に仕えました。上杉氏の一族の謙信が居城としていた春日山城^{かすがやま}は、何という国にありましたか。当時の国名を、次から1つ選び、記号で答えなさい。
 ア. 上総^{かづみ} イ. 下総^{しもさき} ウ. 越前^{えちぜん} エ. 越後^{えちご} オ. 上野^{こうずけ} カ. 下野^{しもつけ}
- 問10. 有楽町という地名は、織田信長の弟の有楽斎^{うらくさい}の住まいがあったことからついたと伝えられています。信長や彼の業績の説明としてまちがっているものを、次から1つ選び、記号で答えなさい。
 ア. 本能寺で家臣の柴田勝家におそわれて戦死した。 イ. 安土城を築いて楽市令を出した。
 ウ. 安土の城下町に教会をつくることを許した。 エ. 足利義昭を京都から追放した。
- 問11. 有楽斎が茶の湯(茶道)を行ったことから、有楽町には数寄屋橋^{すきやばし}がありました。千利休からお茶の作法を習った豊臣秀吉が建てた建物にあたるものを、次から1つ選び、記号で答えなさい。
 ア. 石山本願寺 イ. 高野山金剛峯寺 ウ. 湯島聖堂 エ. 大阪城 オ. 熊本城

D. 靖国神社^{やすくに}には、シーボルトの娘と交流があった人物で、1868年に(③)戦争の上野の戦いで総司令官として指揮をとった、大村益次郎^{ますじろう}の銅像が建っています。

- 問12. シーボルトが長崎で開いた蘭学の塾を答えなさい。
- 問13. 近代的な軍隊の必要性をとらえた大村益次郎の考えは、1873年に徴兵令となって実現しました。徴兵令が制定される以前の出来事として正しいものを、次から1つ選び、記号で答えなさい。
 ア. 西郷隆盛を指導者とする西南戦争が起こった。
 イ. 埼玉県秩父地方の農民が借金の返済を延期することを求めて高利貸しを襲った。
 ウ. 岩倉具視を団長とする使節団がアメリカやヨーロッパの国々に派遣された。
 エ. 全国から集まった代表が国会開設の意見書を政府に差し出した。
- 問14. 靖国神社のできる以前には鍊兵館^{れんべいかん}という長州藩の人々が通う道場がありました。長州藩出身でない人物を、次から1つ選び、記号で答えなさい。
 ア. 吉田松陰 イ. 木戸孝允 ウ. 板垣退助 エ. 高杉晋作

E. 北の丸公園の田安門の近くには、馬上姿の大山巖^{いわお}の銅像があります。

- 問15. 北の丸公園のあたりは、かつて海に面していたため、貝塚が発見されています。日本で最初に発見された貝塚は、大森貝塚です。大森貝塚を発見した外国人を答えなさい。
- 問16. 日露戦争で活躍した大山巖の妻捨松は、岩倉具視を団長とする使節団とともにアメリカに渡りました。捨松とともにアメリカに渡った、当時6歳の女子留学生を答えなさい。
- 問17. マッカーサーは、大山巖をナポレオンと並ぶ英雄として尊敬していたといわれます。
 (1)日本占領のために設けられ、マッカーサーが司令官をつとめた機関を、アルファベット3字で答えなさい。
 (2)下の文章は、日本占領にも影響をあたえた「冷戦」をわかりやすく説明したものです。[a]～[c]に適語を入れなさい。ただし、[a][b]は漢字2字で、[c]は5字以内で答えなさい。
 「冷戦」とは[a]主義国と[b]主義国が対立しながら、直接[c]状態をあらわしていました。

3 次の文を読み、あとの問いに答えなさい。

2011年6月～7月にかけて、①ドイツで第6回女子サッカーワールドカップが開催されました。日本は決勝トーナメントの初戦でドイツに勝利し、決勝戦では②アメリカをPK戦で破り、初優勝を果たしました。1991年に第1回大会が③中国で行われて以来、④女子サッカーワールドカップの⑤2011年大会は、ちょう

ど20年目でした。日本国内でも試合の様子などが連日⑥報道され、⑦「なでしこジャパン」の活躍に国民の多くが喜びにわきました。また、日本はスポーツ以外でも⑧諸外国の人々とのつながりが増えています。

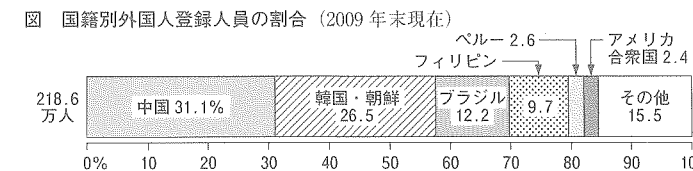
- 問1. 文中の①～③の国について正しく説明した文を、次からそれぞれ選び、記号で答えなさい。
 ア. 近年、国内総生産(GDP)が著しく伸び、GDP世界第2位の経済大国となった。
 イ. 日本との貿易取引額第1位であり、日本の原油輸入に占める割合も第1位である。
 ウ. GDP世界第4位の国であり、女性の首相は近い将来の原子力発電所の停止を表明している。
 エ. 大統領が国民の選挙によって選ばれる国で、2011年現在、民主党が政権を担当している。
- 問2. ①～③の国も加盟している組織について、次の文を読んで(ア)～(ウ)に当てはまる語句を、答えなさい。ただし、(ア)・(ウ)は4字、(イ)は8字で答えること。

(ア)は、a. 1945年、世界の平和を守る目的でつくられました。(ア)の最高議決機関である総会は、全加盟国が参加し、b. 4年に1回開かれます。総会ではさまざまな話し合いが行われ、c. 常任理事国を含む15か国のみが1票ずつ投票権をもち、d. 多数決で物事が決定されます。
 また、(ア)には世界各地で活動する多くの専門機関があります。(イ)機関も専門機関の1つです。(イ)機関の決定により、日本の平泉や小笠原諸島も(ウ)として登録されました。(イ)機関は文化や教育を通じて、平和な社会をつくることを目的として活動しています。

- 問3. 問2の説明文中の下線部a～dのうち、まちがっているものを2つ選び、記号で答えなさい。
- 問4. 下線部④の選手の多くは「労働者」で、正社員やアルバイトなど働き方もさまざまです。日本の「労働者」について説明した文として正しいものを、次から2つ選び、記号で答えなさい。
 ア. アルバイトの賃金は、正社員の賃金を上回らないよう法律で決められている。
 イ. アルバイトの人も労働組合をつくったり、ストライキをしたりする権利がある。
 ウ. 育児や介護のための休業は、女性労働者だけでなく男性労働者にも認められている。
 エ. 女性と男性との間の差別禁止を定めている法律は、男女雇用機会均等法だけである。
 オ. 働くことができず生活保護を受ける、ワーキング・プアとよばれる若者が増えている。
- 問5. 下線部⑤の前年、日本では、参議院議員選挙が行われました。参議院議員選挙のしくみを説明した文として正しいものを、次からすべて選び、記号で答えなさい。
 ア. 20歳以上の国民すべてが投票できる。 イ. 480名が4年ごとに半数ずつ選ばれる。
 ウ. 比例区の投票は政党名を書くこともできる。 エ. 投票日より前に投票することもできる。
 オ. 1人の候補者が同時に、選挙区と比例区の両方に立候補することもできる。
- 問6. 下線部⑥の報道も、憲法の保障する「表現の自由」の1つです。基本的人権を大きく分けたとき、「表現の自由」と同じ分類に入らないものはどれですか。次から1つ選び、記号で答えなさい。
 ア. 必要な医療を受け健康に暮らすこと イ. 好きな宗教を信仰すること
 ウ. 原発の停止を求めて集会を開くこと エ. 自分の財産を自由に使うこと

問7. 下線部⑦には、内閣総理大臣から「国民栄誉賞」が与えられました。これに対して「文化勲章」などの栄典の授与は、天皇が内閣の助言と承認により行います。このような天皇の行為を、何といいますか。

問8. 下線部⑧に関連して、右の図は日本で暮らす外国人の出身国です。これらの外国人について説明した文として正しいものを、次から1つ選び、記号で答えなさい。



- ア. 中国出身者の中には、留学生として来日している人や研修生として働く人の割合も含まれる。
 イ. 韓国・朝鮮出身者は朝鮮戦争のときに、日本に連れてこられた人たちの子孫の割合が多い。
 ウ. ブラジル出身者の多くはIT技術者が中心なので、製造業などで働いている人の割合は少ない。
 エ. フィリピンやペルー出身者の中には、看護師の候補者として来日している人の割合が多い。

