

平成 23 年度 中学校入学試験問題 社会 【2月1日実施】

地名・用語は特別の指示がないかぎり、漢字で答えること。

1 次の文章を読んで、あとの問いに答えなさい。

産業が発達すると経済的な豊かさが増す一方で、環境破壊という問題が発生します。第二次世界大戦後に四大公害病とよばれる①水俣病、②新潟水俣病、③イタイイタイ病、(あ)が大きな問題になりました。空气中に放出された(い)酸化物や窒素酸化物が雨水にとけこんだ酸性雨の問題や、二酸化炭素やフロンガスなどの(う)ガスによる④地球温暖化といった問題も深刻です。1992年には「国連環境開発会議」いわゆる(え)が開かれるなど、世界全体で環境問題の対策が考えられています。

問1. (あ)～(え)にあてはまる語句を答えなさい。

問2. 右の地図は、下線部①が発生した県のものです。

(1)水俣市の位置を地図中(a)～(d)より選びなさい。

(2)水俣病について述べた次の文のうち、まちがっているものを1つ選び、記号で答えなさい。

ア. 水俣病は手足のしびれ、ことばのもつれといった症状がみられ、亡くなる人もいた。

イ. 水俣病の原因となる物質は、化学工場の排水に含まれていたカドミウムであった。

ウ. 水俣病の患者の赤ちゃんにも症状がみられることが、多数報告された。

エ. 水俣病の患者たちは、公害をおこした会社や、国を相手に長年にわたって裁判をした。

(3)地図中(M)平野は米づくりがさかんです。米以外で栽培のさかんな工芸作物を答えなさい。

(4)地図中(N)海では、2010年の夏にプランクトンの異常発生が起き、漁業に深刻な影響がありました。これを何とといいますか。漢字2字で答えなさい。

(5)地図中■にはどのような工場が分布していますか。あてはまるものを1つ選び、記号で答えなさい。

ア. IC イ. セメント ウ. 石油化学 エ. 造船

問3. 右の地図は、下線部②・③が発生した地域のものです。

(1)地図中(イ)～(ホ)の川のうち、下線部②と③に深く関連する川を選び記号で答え、それぞれの名前も答えなさい。

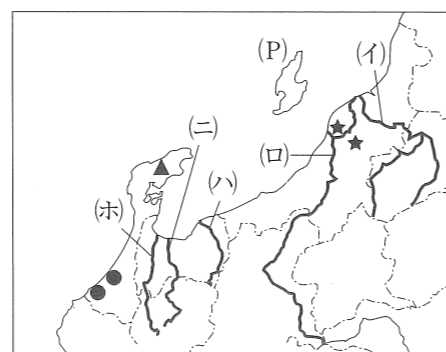
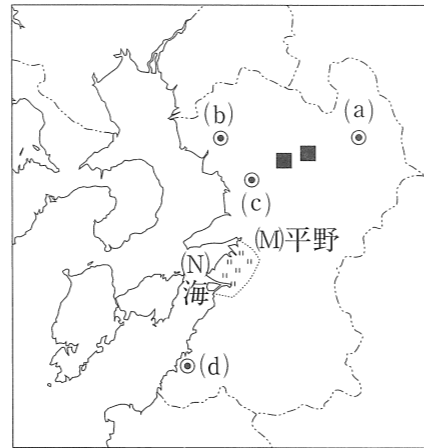
(2)地図中★・▲・●で、製造のさかんな伝統工芸品の組み合わせとして正しいものを次から1つ選び、記号で答えなさい。

	ア	イ	ウ	エ	オ	カ
★	陶磁器	陶磁器	金属製品	金属製品	漆器	漆器
▲	漆器	金属製品	陶磁器	漆器	金属製品	陶磁器
●	金属製品	漆器	漆器	陶磁器	陶磁器	金属製品

(3)北陸地方で伝統工業がさかんな理由を、次の<>にあてはまるように答えなさい。

< 15字以上20字以下 >ため、副業がさかんで、各地で伝統工業が発達している

(4)地図中(P)の島で、人間により保護され飼育数が増えてきた鳥の名前を答えなさい。



問4. 下線部④の対策について、あとの問いに答えなさい。

(1)右の表は二酸化炭素の排出についてまとめたものです。XとYにあてはまる国名を答えなさい。

世界の二酸化炭素排出量 (百万 t)			1人あたりの二酸化炭素排出量 (t/人)		
1位	X	5973	1位	Y	19.2
2位	Y	5792	2位	オーストラリア	18.0
3位	ロシア	1536	3位	ブルネイ	17.9
4位	インド	1357	4位	カナダ	16.0
5位	日本	1220	17位	X	4.5

(2)文中(う)ガスの削減目標を定め、1997年に採択された議定書を何とといいますか。

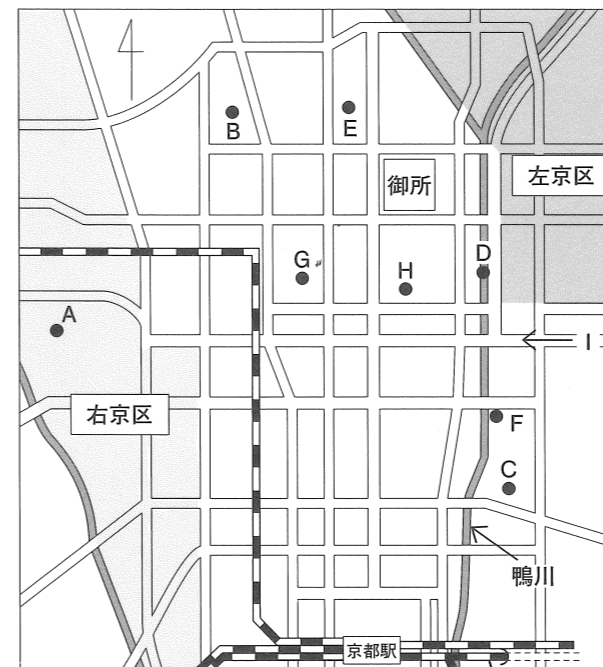
いずれも2007年/『EDMC エネルギー経済統計要覧』

(3)(2)の議定書では2013年以降の国際的な取り決めがなされていません。

2010年11月には、その取り決めを話し合う会議が開かれました。この会議が開かれた都市を次から1つ選び、記号で答えなさい。

ア. モントリオール イ. カンクン ウ. コペンハーゲン エ. ナイロビ

2 京都市内の地図を見て、あとの問いに答えなさい。



問1. Aには「蛇塚古墳」があります。このような古墳から出土する埴輪について、正しいものを次からすべて選び、記号で答えなさい。

ア. 古墳の上や周囲におかれた。

イ. 妊娠した女性の形をしたものが多い。

ウ. 2mをこえる大型のものも発見される。

エ. 割れて発見されることが多く、主にまじないに使用したと考えられる。

オ. 縄文時代の地層から発見される。

カ. 素焼きの土器で、動物や船の形のものもある。

問2. Bは「北野天満宮」です。平安時代に左大臣であった藤原時平と対立し、都から追放された人物をまつています。

(1)この人物が追放された場所はどこですか。漢字3字で答えなさい。

(2)平安時代後半に、摂関政治は衰えていきますが、その原因として正しいものを次から1つ選び、記号で答えなさい。

ア. 藤原頼通が平等院を建て、多くの資金を使ったから。

イ. 平氏を味方につけた天皇が、藤原氏との争いに勝ったから。

ウ. 藤原不比等の4人の男子が伝染病で次々と倒れたから。

エ. 白河天皇が位をゆずり、上皇として政治を始めたから。

オ. 奥州の平泉に、藤原氏が分家し、勢力が二分したから。

問3. Cには、鎌倉時代、朝廷や西国の監視のために役所がおかれました。この役所を何とといいますか。

問4. 京都市内を「鴨川」が流れています。

(1)「このごろ都にはやるもの…」という二条河原の落書がはられたのはこの川の河原Dでした。この内容として正しいものを次から1つ選び、記号で答えなさい。

- ア. 京都の町衆の活気ある生活 イ. 南北朝時代の2つの朝廷の争い
ウ. 建武の新政後の社会の混乱 エ. 一向宗の信徒による守護大名批判
オ. 応仁の乱後の京都の荒廃ぶり

(2)この川の上流には下鴨神社があります。この神社の神職の家に生まれた鴨長明が「行く河の流れは絶えずしてしかも水にあらず」と著した随筆は何ですか。

問5. Eには、千利休と深い関わりのある「不審庵」や「今日庵」という茶室があります。

(1)茶や茶わんについて、正しいものを次から1つ選び、記号で答えなさい。

- ア. 秀吉の朝鮮出兵以後、肥前で有田焼が作られるようになった。
イ. 南蛮貿易では、日本の銀や茶わんが中国へ輸出された。
ウ. 茶は、日明貿易の主な輸入品であった。
エ. 秀吉は兵農分離のため、農民が茶を飲むことを禁じた。

(2)千利休が仕えた織田信長は、安土の城下町で、楽市楽座という政策をとりました。この内容について説明しなさい。

問6. Fは歌舞伎を上演する劇場の「南座」です。安土桃山時代にかぶき踊りを始めた人物はだれですか。

問7. 江戸時代、朝廷は京都に、幕府は江戸におかれしました。

(1)江戸と京都を結ぶ街道を舞台に『東海道中膝栗毛』を書いたのはだれですか。次から選び、記号で答えなさい。

- ア. 歌川広重 イ. 井原西鶴 ウ. 滝沢馬琴 エ. 葛飾北斎 オ. 十返舎一九

(2)1858年の日米修好通商条約は、どのようないきさつで結ばれましたか。次の語句を使って説明しなさい。

〈 大老 朝廷 〉

問8. Gは、大政奉還の舞台となった「二条城」です。

(1)大政奉還を行った、江戸幕府の最後の将軍の名前を答えなさい。

(2)大政奉還前後におこった次のできごとを古い順に並べかえ、記号で答えなさい。

- ア. 鳥羽・伏見の戦い イ. 王政復古の大号令 ウ. 五稜郭の戦い
エ. 江戸城の無血開城 オ. 薩長同盟の結成

(3)大政奉還の翌年、京都御所で五か条の誓文が発表されました。これはどのような形で発表されましたか。次から1つ選び、記号で答えなさい。

- ア. 天皇が国民に誓う イ. 大名が天皇に誓う ウ. 国民が天皇に誓う エ. 天皇が神々に誓う

問9. Hには、1869年に京都初の小学校が建てられましたが、これは、政府が□を公表する3年前に、京都の町衆が寄付などをし、開いたものでした。□にあてはまる語句を2字で答えなさい。

問10. Iは「三条通」といい、明治時代に建てられた近代建築が今も多く残っています。こうした近代建築は東京でも見られました。不平等条約の改正交渉のさい、日本が文明国であることを示すために、舞踏会などが開かれた建物を何といいますか。

問11. 現在、京都市内はいくつかの区に分かれています。地図の右側に「左京区」、左側に「右京区」とありますが、なぜこのように左右が逆になっているのですか。説明しなさい。

3 次の文を読んで、あとの問いに答えなさい。

2010年の①6月から②7月にかけて、サッカーワールドカップが③南アフリカ共和国で開かれました。

これは、1930年に第一回大会が④ウルグアイで行われて以来、初めて⑤アフリカ大陸で開かれた大会です。一方オリンピックは、まだアフリカ大陸では行われていません。スポーツの世界にも⑥発展途上国と先進国との格差が、大きな影響を与えているのです。

経済格差の問題は⑦国際連合でも議論されていて、1964年には()という機関が設置されました。しかしそれから半世紀たった現在でも、この問題はまだ解決されたとはいえません。

発展途上国は、経済格差の原因の一つが自由貿易にあると主張しています。⑧自由貿易によって発展途上国に安い工業製品が輸入されると、自国の産業が発達する機会を奪われるというのです。一部の発展途上国は、⑨先進国からの投資を受け入れて工業化を進めていますが、発展途上国の人が安い賃金で働かされているという批判もあります。

資本主義経済は、⑩自由で活発な競争によって豊かさを追求するのですが、経済活動が公正に行われるためには、競争の条件が⑪平等であることが必要です。発展途上国と先進国の関係をどのようにしたらよいか、さまざまな⑫国際会議が行われています。

問1. 文中の空らんにあてはまる語句として正しいものを、次から1つ選び、記号で答えなさい。

- ア. UNHCR イ. IAEA ウ. UNICEF エ. UNCTAD

問2. 下線部①には、菅直人が首相になりました。菅首相について説明した文のうち、正しいものを次から1つ選び、記号で答えなさい。

- ア. 衆議院でも参議院でも、首相に指名された。 イ. 親も国会議員の、二世議員である。
ウ. 鳩山内閣の不信任決議をうけて就任した。 エ. かつては自民党に所属していた。

問3. 下線部②には、国政選挙が行われました。この選挙についての説明として正しいものを次から1つ選び、記号で答えなさい。

- ア. 比例区では、政党名と候補者名の、どちらを記入してもよい。
イ. 選挙区と比例区の、両方に立候補できる。
ウ. どの選挙区も、当選できるのは1名のみである。
エ. この選挙で当選した人の任期は、2014年までである。

問4. 下線部③では、長い間、白人が非白人を差別していました。この政策のことを何といいますか。

問5. 下線部④では、「国際貿易に関する何度かにわたる交渉」が、1986年から1994年まで続きました。これは、何という機関によるものですか。次から1つ選び、記号で答えなさい。

- ア. IMF イ. WTO ウ. GATT エ. IBRD

問6. 下線部⑤には、異なる民族集団がともに暮らしている国が多く見られます。これはなぜでしょうか。[植民地 ・ 国境 ・ ヨーロッパの国々] の3つの語句を用いて説明しなさい。

問7. 下線部⑥のような問題を何といいますか。

問8. 下線部⑦の本部はどこにおかれていますか。都市名を答えなさい。

問9. 江戸時代末期から明治時代にかけて、日本も下線部⑧のように考え、貿易を制限したいと思っていました。しかし当時の日本はそれができませんでした。その理由を15字以内で説明しなさい。

問10. 下線部⑨のような場所を中国では何とよびますか。

問11. 下線部⑩について、日本国憲法にはいくつかの条文があります。「奴隸的な扱いは受けない」「犯罪による刑罰以外では自由を奪われない」というのは、何の自由についての説明ですか。

問12. 下線部⑪について日本国憲法14条に、「すべて国民は、人種、信条、性別、□又は門地によって差別されない」とあります。□にあてはまる語句を答えなさい。また□の具体的な例を1つあげなさい。

問13. 下線部⑫の例として、アジア太平洋経済協力会議があります。略称をアルファベットで答えなさい。

点

座席番号

受験番号

氏名

1 あ い う え

2 (1) (2) (3) (4) (5)

点

3 (1) ② 記号 川 ③ 記号 川 (2)

(3)

(4) X Y (2) (3)

2 1 2 (1) (2) 3 4 (1)

(2) 5 (1) (2) 6

7 (1) (2)

8 (1) (2) (3) 9 10

11 点

3 1 2 3 4 5

6

7 問題 8 9 点

10 11 の自由 12 例 13