

平成 22 年度 中学校入学試験問題 社会 【2月1日実施】

地名・用語は特別の指示がないかぎり、漢字で答えること。

1 中国・四国地方の県を1つずつ取りあげて調査を行いました。それぞれの人の報告書を読んで、あとの問いに答えなさい。

Aさん：日本海側の（あ）市は特に①水産業がさかんで、②日本最大の砂丘では特色ある農業が行われているなど、中国地方では第（い）次産業に就く人の割合が最も大きい県です。



Bさん：全国で面積が最も小さい県ですが、③たくさんの観光地があります。

Cさん：日本三景のひとつの宮島にある（う）神社は、1996年に世界文化遺産に登録されました。また、④お好み焼きは人気のある食べ物で、県内の広い範囲にお好み焼き屋が分布していました。

Dさん：気候は、（え）という暖流が大きな影響を与えます。⑤工業があまり発達しておらず、この県で最も長い（お）川にも、手つかずの自然が残されていました。

問1.（あ）～（お）にあてはまる地名・数字・語句を答えなさい。

問2. ある地域を調べるときには地図を活用します。

右のア・イの地図記号は何をあらわしますか。ア.  イ. 

問3. 下線部①に関して、右の表は水産業のさかんな県（Aさんの調べた県、静岡県、千葉県、青森県）の漁獲量の全国に占める割合を示したものです。Aさんの調べた県にあてはまるものを選び、記号で答えなさい。

単位：%

	ア	イ	ウ	エ
まぐろ類	1.6	0.3	13.8	1.9
いわし類	1.0	22.2	2.3	0.1
あじ類	0.1	1.9	2.2	4.5
かに類	1.7	0.0	0.1	20.3
いか類	26.9	0.5	0.3	2.7

【データでみる県勢 2009】より作成

問4. 下線部②について説明した文として正しいものを次から1つ選び、記号で答えなさい。

- ア. 砂丘の傾斜地では、果実の生産が行われている
- イ. かんがいを行い、米の二期作がさかんである
- ウ. 冷涼な夏にはレタスやキャベツを栽培している
- エ. 広い砂丘を利用して、牛の放牧がさかんである

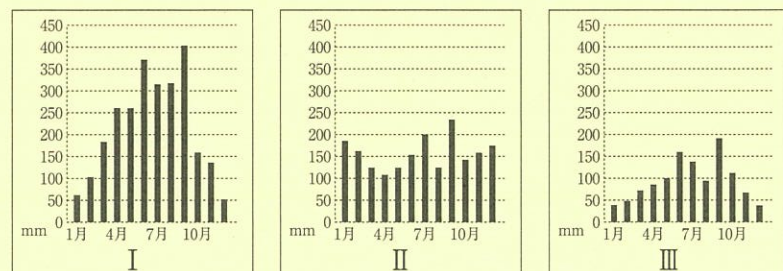
問5. 下線部③について、

(1)次はこの県の代表的な観光地です。それぞれがさす地名を答えなさい。

< か >池：空海が修築にたずさわったといわれる、わが国で最大のため池
 < き >島：小説「二十四の瞳」の舞台になり、またオリーブの生産がさかんな島

(2)Bさんが調べた県への観光客数は昭和63年に大幅に増えました。その理由を解答らんに合わせて10字以内で答えなさい。

問6. 県庁所在地の月別降水量を表した右のグラフのうち、Bさんが調べた県のはどれですか。記号で答えなさい。



問7. 下線部④について、材料には外国産のものもあるとわかりました。

(1)次の数字は、2008年度の日本の小麦、豚肉、鶏卵、野菜の食料自給率です。小麦にあてはまるものを選び、記号で答えなさい。

- ア. 96% イ. 82% ウ. 52% エ. 14%

(2)2005年度の小麦の輸出量の上位5カ国にあてはまらない国を次から2つ選び、記号で答えなさい。

- ア. アメリカ合衆国 イ. インド ウ. オーストラリア
- エ. カナダ オ. フランス カ. 中国

問8. 下線部⑤について、中国・四国地方では石油化学工業やセメント工業がさかんです。それぞれの工業の特徴として正しいものを次から1つずつ選び、記号で答えなさい。

- ア. 原料の産出地の周辺でさかくなる イ. 海沿いのコンビナートでさかくなる
- ウ. 高速道路や空港の近くでさかくなる エ. 人口が特に集中した地域でさかくなる

2 1926年12月から1989年1月までを昭和時代といいます。この時代についての文章中の（A）～（F）にあてはまる語句を入れ、あとの問いに答えなさい。

①第一次世界大戦中は景気がよかった日本も、昭和初期には不景気になりました。ところが、（A）は倒産した会社を吸収し、政党と結びついて多くの利益をあげました。そのような中で軍部は、満州を「日本の生命線」ととらえて大陸に出兵し、1931年に②満州国を成立させました。国際連盟は、日本に撤退するよう求めましたが、日本は連盟を脱退しました。

そのころ国内では、I 五・一五事件によって③政党政治が終わりを告げ、二・二六事件以後、軍部が政治に介入するようになりました。軍国主義に反対する人々は（B）法により弾圧されました。

1937年に日中戦争が始まり、国内では戦時体制がととのえられ、（C）法が制定されて、政府は議会の承認なしに物資や人を自由に動かす権限を与えられました。

戦争が長引くなかで、日本は資源を求めて東南アジアに進出しました。④アメリカは、日本に対して経済封鎖を行いました。日本の進出はとまらず、とうとう太平洋戦争が始まりました。ミッドウェー海戦以降、⑤日本の敗北は続きましたが、国民の多くはその事実を知らされませんでした。1945年4月にはアメリカ軍が（D）に上陸し、多くの人が亡くなりました。8月には原爆が落とされ、日本は無条件降伏しました。

敗戦後、連合軍最高司令官総司令部のもとで、日本は民主化を進めることになりました。政治面では（B）法の廃止や労働三法の制定などが、経済面では（A）解体や⑥農地改革などが進められました。教育基本法も制定され、⑦民主的な教育方針が示されました。

1949年には⑧日本で初めてノーベル物理学賞の受賞者が出、人々を勇気づけました。翌年、朝鮮戦争が始まると、⑨日本の工業は戦前の水準にまで復興しました。同じ年、マッカーサーの指示で（E）が設置され、これはのちに自衛隊に発展しました。翌年のサンフランシスコ講和会議で日本の独立が回復されましたが、同時にII 日米安全保障条約が結ばれ、アメリカ軍は日本への駐留を続けました。1956年にはソ連との戦争状態を終わらせ、III 国際連合に加盟しました。

1960年代以降、日本の経済は驚くべき成長をとげました。東京オリンピックが開かれたのもこのころです。1970年代には2回にわたる世界的な（F）の影響を受け、高度経済成長は止まりましたが、その後も安定した経済成長が続きました。

問1. 下線部①について、第一次世界大戦中、日本の景気がよかった理由について、あてはまるものを次からすべて選び、記号で答えなさい。

ア. 日本の工場で作った飛行機や戦車を、ヨーロッパ諸国に輸出したから。

イ. 戦争で船が不足していたため、海運業や造船業がさかんになったから。

ウ. 国が産業をおこして、失業者をやとったから。

エ. 太平洋上に多くの植民地を獲得して、輸出先を広げたから。

オ. ヨーロッパの国々が戦争をしていたため、中国への輸出を独占できたから。

問2. 下線部②について、満州国を成立させたことで、日本にどのような利益があったかを調べるためには、どの資料が必要でしょうか。次から1つ選び、記号で答えなさい。なお、文中にある「変化」とは、満州国成立以前と以後の変化を意味しています。

ア. 満州国における米の生産量の変化 イ. 満州国から日本への石油の輸出量の変化

ウ. 満州国における日本人の人口の変化 エ. 日本から満州国への石炭の輸出量の変化

問3. 下線部③について、本格的な政党政治は1918年に成立しましたが、それ以前にみられた、一部の地域出身者が政府の重要な役職を占めていた政治を何といいますか。4字で答えなさい。

問4. 下線部④について、アメリカは日本に対して具体的にどのようなことをしましたか。説明しなさい。

問5. 下線部⑤について、一部の大学生も戦場にかりだされるようになりました。このことを何といいますか。次から1つ選び、記号で答えなさい。

ア. 学徒動員 イ. 強制連行 ウ. 特別攻撃隊 エ. 学徒出陣 オ. 学童疎開

問6. 下線部⑥について説明した次の文の(あ)・(い)にあてはまる語句を答えなさい。

農地改革とは、政府が地主から強制的に土地を買い取り、(あ)に安く売ることをいい、この結果(い)が増えて、農業生産力が高まった。

問7. 下線部⑦について、こうした中、教科書にある軍国主義的な部分には墨をぬってかくすことになりました。ところで、墨ぬりに関しては、明治時代に石川啄木が次のような短歌を残しています。

「 地図の上 朝鮮国に黒々と 墨をぬりつつ秋風を聴く 」

これはどのような事件のことをうたったものですか。4字で答えなさい。

問8. 下線部⑧について、この受賞者の名前を答えなさい。

問9. 下線部⑨について、このようになったのはなぜですか。その理由を説明した文「日本は、あを相手にいから」のあ・いにあてはまる語句や文を答えなさい。

問10. 本文中のⅠ ～Ⅲ と最も関係の深い首相を次から選び、それぞれ記号で答えなさい。

ア. 鳩山一郎 イ. 東郷平八郎 ウ. 犬養毅 エ. 田中角栄 オ. 東条英機

カ. 近衛文麿 キ. 高橋是清 ク. 吉田茂 ケ. 佐藤栄作 コ. 池田勇人

3 次の文章を読んで、あとの問いに答えなさい。

2009年7月に衆議院が①解散され、8月に②衆議院議員総選挙が行われました。選挙前に衆議院で多くの議席を持っていた自民党と公明党は、 で法律案を成立させ、「ねじれ国会」を乗り切ってきましたが、③選挙の結果、民主党が多くの議席を獲得し、④政権交代が行われました。

いまの日本は、不景気や⑤少子高齢化などの問題を抱え、国民に生活への不安が高まっています。また、国のあり方を、中央集権から、都道府県にできるだけ多くの権限を認める(A)へと変えていく途中であり、この流れをもっと進めてほしいと考える⑥府・県知事らがともに活動する動きもみられました。

国の政治の基本を定めているのは憲法ですが、⑦日本国憲法第25条には「すべて国民は、(B)な最低限度の生活を営む権利を有する」とあります。社会がどんな問題を抱えていても、一人ひとりを尊重しつつ共同生活が送れるよう、政治が⑧本来の役割を果たしているかどうかを見ていく必要があるのです。

問1. 問題文中の(A)を4字、(B)を6字で答えなさい。

問2. 下線部①について、衆議院を解散することは、天皇の国事行為のひとつです。国事行為にあてはまるものを次から2つ選び、記号で答えなさい。

ア. 内閣が結んだ条約を認める イ. 内閣総理大臣を指名する ウ. 勲章などの栄典を授与する

エ. 最高裁判所長官を任命する オ. 憲法の改正を発議する

問3. 下線部②について、

(1)この選挙のしくみについて説明した文として正しいものを次から2つ選び、記号で答えなさい。

ア. 有権者は、小選挙区制では立候補者を選び、比例代表制では政党を選ぶ。

イ. 小選挙区制は25歳以上、比例代表制は30歳以上の人が立候補できる。

ウ. 小選挙区制と比例代表制の両方に立候補することはできない。

エ. 小選挙区制で選ばれる議員のほうが、比例代表制よりも多い。

(2)選挙が適切に行われるよう、さまざまな決まりを設けている法律を何といいますか。

問4. 問題文中の にあてはまるものを次から選び、記号で答えなさい。

ア. 両院協議会を開いて話し合い、参議院の決定を取り消すこと

イ. 参議院が10日以内に議決しないときは衆議院の決定を優先すること

ウ. どんな法律案も、かならず衆議院で先に話し合うこと

エ. 衆議院で、出席議員の3分の2以上の多数でふたたび可決すること

問5. 下線部③について、民主党は、衆議院の定数の過半数を上回る議席を獲得しました。過半数とは、何議席以上のことですか。数字を答えなさい。

問6. 下線部④の結果、2009年9月、 省の前原大臣は八ッ場ダム(群馬県)や川辺川ダム(熊本県)の建設中止を打ち出しました。 にあてはまる省庁名を答えなさい。

問7. 下線部⑤が進んで、働く世代が減ると、消費税をはじめとするあの割合をい必要があるという意見があります。あ・いにあてはまる語句をそれぞれ次から選び、記号で答えなさい。

ア. 国税 イ. 地方税 ウ. 直接税 エ. 間接税 オ. 高くする カ. 低くする

問8. 下線部⑥について、地方公共団体の首長は、住民の請求によって任期の途中でもやめさせられることがあります。このことを何といいますか。カタカナで答えなさい。

問9. 下線部⑦について、国民の基本的な権利を守るために、日本国憲法で定められている権利を次から2つ選び、記号で答えなさい。

ア. 社会権 イ. 参政権 ウ. 教育を受ける権利 エ. 知る権利 オ. 裁判を受ける権利

問10. 下線部⑧について、政治の役割としてふさわしくないものを次から1つ選び、記号で答えなさい。

ア. 犯罪や人々のあいだの争いごとを防ぐ イ. 国民の所得をふやし、物価を安定させる

ウ. 宗教を広め安らぎを持てるようにする エ. 道路や公園などの生活に必要な設備をつくる

座席番号		

受験番号			

氏名	
----	--

	点
--	---

1

あ	い	う	え	お	川
---	---	---	---	---	---

2

ア	イ	3	4
---	---	---	---

5 (1)

か	池	き	島
---	---	---	---

(2)

から

6

	7 (1)	(2)
--	-------	-----

8

石油化学工業	セメント工業
--------	--------

	点
--	---

2

A	B	法	C	法
D	E	F		

1

	2	3
--	---	---

4

	5
--	---

6

あ	い	7	8
---	---	---	---

9

あ	い	から
---	---	----

10

I	II	III
---	----	-----

	点
--	---

3

1 A

--	--	--	--

B

--	--	--	--	--	--

2

	3 (1)	(2)	法	4
--	-------	-----	---	---

5

	議席以上	6	省	7	あ	い
--	------	---	---	---	---	---

8

	9	10
--	---	----

	点
--	---