
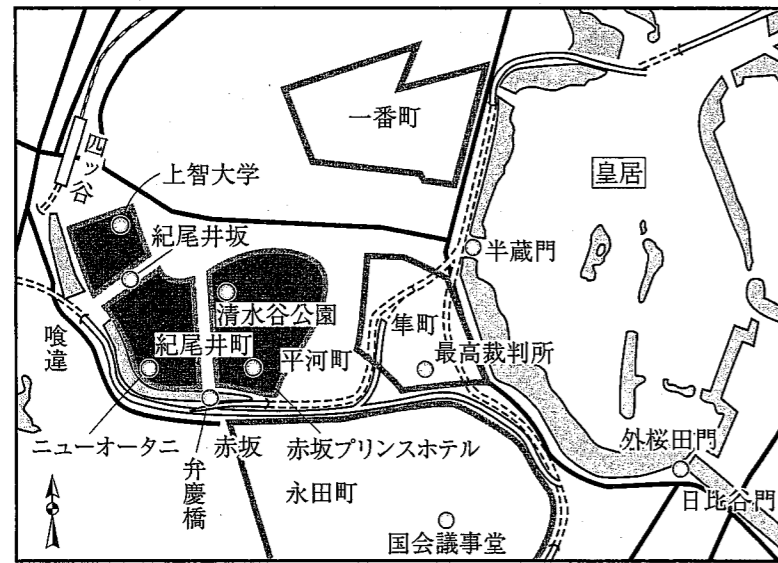


## 平成 21 年度 中学校入学試験問題 社会 第 1 回 【2月1日実施】

1 家族と一緒に東京を訪れたA子さんは紀尾井坂周辺に宿泊し、翌日は浅草を訪れました。A子さんが手に入れた紀尾井坂周辺の地図と「雷門」の写真を参考にし、あとの問いに答えなさい。

(注：特別な指示のないかぎり、用語は漢字で答えること)



- 問1. 地図中の上智大学はイエズス会がつくった学校です。では、イエズス会の宣教師フランシスコ＝ザビエルがキリスト教を初めて日本に伝えたのは西暦何年ですか。
- 問2. キリスト教が日本に伝来した当初、宣教師も貿易に関わっていました。当時のヨーロッパとの貿易を何とといいますか。
- 問3. 地図中の清水谷公園や赤坂プリンスホテルは、紀伊藩の大名屋敷の跡地にあります。紀伊藩の大名から将軍となった人物名と、彼が行った改革名を書きなさい。
- 問4. 清水谷公園には1878年に紀尾井坂で暗殺された人物の碑が残されています。彼は、薩摩藩出身で明治政府の中心人物でした。その人物を次から1つ選び、記号で答えなさい。  
ア. 伊藤博文      イ. 大久保利通      ウ. 板垣退助      エ. 西郷隆盛
- 問5. 問4の事件が起こった当時、清水谷公園周辺は茶畑や桑畑でした。桑はどのような輸出品をつくるために栽培されていましたか。
- 問6. 問5の輸出品は幕末の頃、品不足から値段が上がり、攘夷運動を引き起こす原因となりました。攘夷とはどのような意味ですか。10字以内で説明しなさい。
- 問7. 地図中のホテルニューオータニは、井伊藩の大名屋敷の跡地にあります。大老の井伊直弼について正しく説明した文を次から1つ選び、記号で答えなさい。  
ア. 朝廷の許しを待たずに日米和親条約を結んだ。  
イ. 開国を認めて日米和親条約を結んだ。  
ウ. 安政の大獄で高野長英らをきびしく処罰した。  
エ. 朝廷や反対派の大名をおさえて日米修好通商条約を結んだ。
- 問8. ホテルニューオータニは1964年に外国の要人を宿泊させるためにつくられました。彼らはどのような行事のために日本を訪れたのでしょうか。次から1つ選び、記号で答えなさい。  
ア. 万国博覧会      イ. オリンピック      ウ. サミット      エ. 講和会議
- 問9. 問8の行事にあわせて完成したものを次から1つ選び、記号で答えなさい。  
ア. 青函トンネル      イ. 瀬戸大橋      ウ. 東海道本線      エ. 東海道新幹線
- 問10. 地図中の国会議事堂前には、1960年に「ある条約」の改定に反対して数多くのデモ隊が集まりました。「ある条約」とは何ですか。

- 問11. 写真の雷門のある浅草寺は推古天皇の時代にできたと伝えられます。その頃にできた寺院としてまちがっているものを次から1つ選び、記号で答えなさい。  
ア. 法隆寺      イ. 広隆寺      ウ. 東大寺      エ. 四天王寺
- 問12. 推古天皇の時代のできごとを次から1つ選び、記号で答えなさい。  
ア. 京都に都を移す      イ. 奈良に都を移す  
ウ. 隋に使いを送った      エ. 日本書紀ができる
- 問13. 浅草寺のとなりには、浅草神社があります。ここには隅田川から観音像を網ですくった三人がまつられています。では浅草神社の祭りを何祭りといひますか。次から1つ選び、記号で答えなさい。  
ア. 山王祭      イ. 三社祭      ウ. 神田祭      エ. 時代祭
- 問14. 浅草にはかつて古墳があったといわれています。古墳時代には、朝鮮半島から伝わったのぼりがまによって土器がつけられました。このような固くてこわれにくい灰色の土器を何といひますか。(答えにかなを用いてもかまいません。)
- 問15. 浅草では毎年4月、走る馬に乗って矢をいれる流鏝馬という行事が行われています。日本で流鏝馬が広く行われ始めたのは何時代ですか。次から1つ選び、記号で答えなさい。  
ア. 鎌倉時代      イ. 室町時代      ウ. 安土桃山時代      エ. 江戸時代
- 問16. 浅草寺境内には権現造の建物がありました。日光にも同じ造りの建物があります。その建物の名称を次から1つ選び、記号で答えなさい。  
ア. 阿弥陀堂      イ. 観音堂      ウ. 五重塔      エ. 東照宮
- 問17. 浅草には凌雲閣という12階建ての建物がありました。この建物は1923年のある「できごと」により崩壊しました。その「できごと」は何ですか。

2 次の文A～Dを読み、あとの問いに答えなさい。

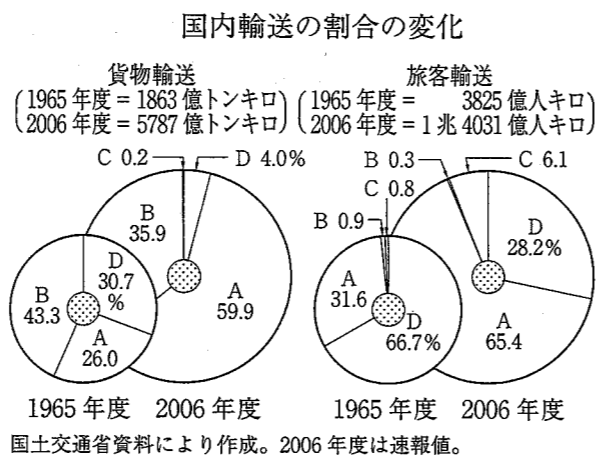
- A 長所：小回りのきく輸送が可能である。  
短所：公害を引き起こしやすい。
- B 長所：重い物資を安く大量に輸送できる。  
短所：速度が遅い。
- C 長所：非常に高速である。長距離輸送に向いている。  
短所：運賃が高額である。重量のある貨物の輸送には向いていない。
- D 長所：一度に多くの人や物を運べる。時間が比較的正確である。  
短所：X

- 問1. A～Dが示す交通機関を次からそれぞれ選び、記号で答えなさい。  
ア. 船舶      イ. 鉄道      ウ. 自動車      エ. 航空機
- 問2. Aによって引き起こされる環境への影響として正しいものを、次から1つ選び、記号で答えなさい。  
ア. 酸性雨      イ. 土壌汚染      ウ. 地盤沈下      エ. 水質汚濁
- 問3. Bで使われる、貨物を輸送しやすくするための一定の規格でつくられた箱型の容器を何といひますか。
- 問4. Cについて、上にあげられた長所や短所以外の特徴としてまちがっている文を、次から1つ選び、記号で答えなさい。  
ア. 外国の場合、アメリカ合衆国のような国土の広い先進国で発達しやすい。  
イ. 東京と大阪を結ぶ路線など、最近ではDとの激しい競争もみられている。  
ウ. 離島と地方都市を結ぶ路線が増え、外国人利用者が大きく増加している。  
エ. 採算の取れない路線が増加しているといった、新たな問題点もみられる。

問5. Dの **X** にあてはまる説明としてまちがっているものを次から1つ選び、記号で答えなさい。

- ア. 建設や施設の維持に、大きな費用がかかる。
- イ. 台風や地震といった、日本の自然災害には弱い。
- ウ. 山間部など、地形によっては建設がしにくい。
- エ. 大気汚染による、健康被害が問題となっている。

問6. 右の図は、1965年度と2006年度のA～Dの国内輸送に占める割合の変化を表したものです。また、下の文はそれに関連した説明文です。



Aは旅客輸送量・貨物輸送量ともに大きく増加している。この理由には、Aの性能の向上や **あ** の建設などがあげられる。現在では、地方都市を通る **あ** のインターチェンジ付近に、(i)多くの工業団地や流通団地などがつくられている。

Bでは、とくに石油などの液体を運ぶ **い** や、鉱石・穀物を運ぶものなど専門化が進んでいる。そのため、国内の貨物輸送だけでなく、(ii)海外との貿易でも大きな役割を担っている。

Cの輸送量も大きく増加している。とくに、旅客輸送量は約 **う** 倍に増えた。札幌の近くにある **え** 空港と、東京を結ぶ路線の旅客輸送量は、日本最大である。

Dのうち、旅客輸送量は **お** している。これは、都市部を中心に路線が整備されてきたり、(iii)新幹線の建設など、大都市を結ぶ路線が高速化されたりしたからだと考えられる。

(1)文中の **あ** ～ **お** にあてはまる語句や数字を書きなさい。( **う** は整数で、 **お** は漢字2字で答えること)

(2)下線(i)について、このような施設が建設された地域にみられる現象の説明として正しいものを、次から1つ選び、記号で答えなさい。

- ア. 大都市の工場が大きく減少し、問題となった。
- イ. 交通が便利になったため、観光客が増加した。
- ウ. 働く場所ができたことで、地域の人口が増えた。
- エ. 農業用地が大きく減少し、反対運動が起きた。

(3)下線(ii)について、右の表は日本の主要な4つの港の主な貿易品目を示したものです。ここから読み

港	主な輸出品目	主な輸入品目
大阪	集積回路 プラスチック 建設用機械	衣類 コンピュータ 肉類
名古屋	自動車 自動車部品 建設用機械	石油 アルミニウム 液化ガス
東京	コンピュータ部品 プラスチック 自動車部品	魚介類 衣類 コンピュータ
横浜	プラスチック 建設用機械 織物類	衣類 たばこ 有機化合物

取れる貿易品目の性質を説明した文として正しいものを、次から1つ選び、記号で答えなさい。

- ア. 周辺で多く生産される製品が、輸出の中心である。
- イ. 非常に高価で軽量の製品だけが、輸送されている。
- ウ. 大消費地向けの、生活に必要な物資は輸入されない。
- エ. 工業地帯でより必要とされる、機械の輸入が目立つ。

(4)下線(iii)について、次のア～オのうち下線部が正しいものを2つ選び、記号で答えなさい。

- ア. 東北新幹線は、三陸海岸と北上高地の間に広がる盆地を、南北に縦断している。
- イ. 上越新幹線は、非常に長いトンネルによって、険しい越後山脈を通過する。
- ウ. 東海道新幹線は、東から相模川・大井川・富士川の順に大きな河川を通過する。
- エ. 山陽新幹線は、岡山平野や広島平野といった海沿いを通して、東西を結んでいる。
- オ. 2004年に開通した九州新幹線は、日向灘沿いを通して熊本から鹿児島まで達している。

3

次の文章を読んで、あとの問いに答えなさい。なお、(A)～(C)は日本で現在、憲法や法律に定められている政治の手続きを示しています。

- (A) 衆議院 → 参議院 (30日以内に議決しなかった) → 衆議院の議決を国会の議決とする
- (B) 訴追の請求 → 訴追委員会 → 弾劾裁判所 → 3分の2以上の賛成でやめさせることを決定
- (C) 住民の請求 → 選挙管理委員会 → 住民投票 → 過半数の賛成があれば解職

日本国憲法は、D. 基本的人権の保障、国民主権、E. 平和主義を基本としています。国民主権の原則は、国民の選挙で議員が選ばれる国会が「国権の( ① )機関」であることからわかります。国会ではF. 衆議院と参議院が対等ですが、上図(A)のようにG. 衆議院の優越が認められる場合もあります。また、憲法は権力分立を採用しており、裁判官の任命は( ② )権による司法権への抑制としてはたります。

上図(C)の対象は地方公共団体の( ③ )や議員です。地方公共団体は独自に( ④ )を制定したり、H. さまざまな財源を使って事業をしたりして、I. 地域の身近な問題に取り組みます。

問1. 文中の( ① )～( ④ )にあてはまる語句を、それぞれ漢字2字で書きなさい。

問2. 上図(A)の手続きの対象となるのはどれですか。次から1つ選び、記号で答えなさい。

- ア. 予算の議決
- イ. 法律案の議決
- ウ. 内閣総理大臣の任命
- エ. 内閣不信任の決議

問3. 上図(B)の手続きでやめさせられる対象はだれですか。次から1つ選び、記号で答えなさい。

- ア. 内閣総理大臣
- イ. 衆議院の議員
- ウ. すべての裁判官
- エ. 参議院の議員

問4. 下線部Dについて、現在では、憲法制定時には想定できなかった問題が増え、新しい人権も主張されています。新しい人権の例として正しいものを、次から1つ選び、記号で答えなさい。

- ア. ホームページで自分の考えや意見を発表する権利
- イ. アルバイトの人がストライキをする権利
- ウ. テレビの報道で私生活を勝手に公開されない権利
- エ. メールで首相に法律の改正を求める権利

問5. 下線部Eについて、憲法第9条にその具体的な内容を規定してあります。しかし、1950年に **X** が起こると、警察予備隊がつけられました。空らんに入る語句を、漢字で書きなさい。

問6. 下線部Fについて、右の表は2008年7月現在の衆議院と参議院での各政党の議席数を示しています。これに関連する文として正しいものを、次から1つ選び、記号で答えなさい。

- ア. 自民党は、衆議院で憲法改正の発議に必要な議席数を得ていた。
- イ. 民主党は、参議院で定数の半分以上を占め、与党とよばれた。
- ウ. 公明党は、自民党と連立政権を組み、国務大臣を出していた。
- エ. 2007年の参議院議員選挙は、介護保険の導入が主な争点だった。

(2008年7月現在/欠員なし)

	衆議院	参議院
自民党	304	84
民主党	114	120
公明党	31	21
その他の政党	( ① )	( ② )

問7. 右表中①・②に入る数字の組み合わせを選び、記号で答えなさい。

- ア. ①-31 ②-17
- イ. ①-31 ②-27
- ウ. ①-31 ②-37
- エ. ①-51 ②-17
- オ. ①-51 ②-27
- カ. ①-51 ②-37

問8. 下線部Gについて、衆議院の優越が認められるのは、「参議院に比べて **Y** ため、国民の意見をより反映しやすい」と考えられるからです。空らんに入る理由を2つまとめて12字以内で書きなさい。

問9. 下線部Hのうち、地方公共団体の財政格差を補うために国税から配分されるお金を何といいますか。

問10. 下線部Iについて、地域には高齢者や障害のある人などさまざまな住民がいます。これらの人々を特別扱いせず、人として普通の生活を送れる社会をめざす考え方をノーマライゼーションといいます。この考え方に合わないものを次から1つ選び、記号で答えなさい。

- ア. 歩行者用の道と自転車用の道を分ける。
- イ. エレベーターのボタンの位置をより高くする。
- ウ. 駅の自動改札の幅をより広くする。
- エ. 横断歩道で青信号の時間をより長くする。

