



受験 番号					
氏名					

## 2026年度 2月1日 入学試験 社会問題

社会の注意 答えはすべて解答用紙に書きなさい。

### 【 試験についての注意事項 】

- 1 机の上に出してよいものは、次の3つです。それ以外のものはカバンにしまってください。
  - ① 受験票（机の左上におきます）
  - ② えんぴつ数本  
（シャープペンシルも可・色ペンやマーカー、定規は使用不可）  
（ことわざ等記載のあるものは使用不可）
  - ③ 消しゴム（カバーを外した状態）
- 2 次のものを持ってきた場合は、カバンにしまってください。また、休けい時間中も使用できません。
  - ① 腕時計・置き時計など（音が鳴らないようにしてください）
  - ② 携帯電話・スマートフォン（電源を切ってください）
  - ③ ウェアラブル端末（Apple Watch など）  
※許可なく携帯電話・スマートフォンやウェアラブル端末を使用したり、携帯電話が鳴った場合、不正行為とみなす場合があります。
- 3 机の中には、何も入れないでください。
- 4 チャイムが鳴ったら、次のことを完了してから始めてください。  
問題用紙 → 受験番号 と 氏名 を記入してください。  
解答用紙 → 受験番号 と 氏名 を記入し、席に準備されているシールを貼ってください。
- 5 問題についての質問は、いっさいできません。
- 6 気分が悪くなったら、すぐに申し出てください。
- 7 物を落としたり、自分でひろわず、手をあげてください。

1 次の文章を読み、以下の問いに答えなさい。

鎌倉幕府は、3代将軍源実朝が暗殺された後、①京都の摂関家(※1)から初代将軍②源頼朝の親戚に当たる2歳の藤原頼経を迎え、鎌倉殿(※2)としていました。京都の後鳥羽上皇はこれを幕府の弱体化ととらえ、各地の武士に、当時(1)であった北条義時を討伐せよとの命令を下します。この事態に幕府首脳は、頼朝の妻で、2代・3代将軍の母である北条政子のもとに集まって対応を協議しました。西暦(2)年5月19日、政子は御家人たちを集め、③頼朝による幕府創設以来の恩を説き、義時追討の命令が不当であることを明言し、上皇方にくるか鎌倉方につくかの決断を迫りました。政子の言葉によって御家人たちは結束します。

当初、幕府首脳の中では、足柄・箱根の関(現在の神奈川県西部)で朝廷軍を迎え撃つという案が優勢でしたが、これに反対したのが④大江広元です。関を守って日数を重ねることは敗北の原因になるから、一刻も早く京都へ派兵すべきだと主張したのです。判断は政子にゆだねられました。政子は早急に出兵することを決断し、5月22日に北条義時の子泰時が京都へ向けて出発します。主だった東国武士のすべてが、5月25日までに進発しました。幕府軍は東海道、東山道、北陸道の三手に分かれ、京都に向けて進軍しました。

これに対し、上皇側の見通しは甘く、天皇の命令に応じて幕府首脳の中にも朝廷に味方する者が現れ、幕府は内側から崩れると考えていました。しかし、⑤木曾三川地域の防衛線は幕府軍によって撃破され、朝廷は激しく動揺します。宇治川では朝廷軍の奮戦や豪雨による増水で幕府軍は窮地に追い込まれますが、やがて渡河に成功して京都になだれ込み、上皇側は敗れました。この朝廷と幕府の戦いを⑥承久の乱といいます。

承久の乱から3年後、政子とともに政治を行ってきた北条義時が亡くなります。その後継者をめぐって鎌倉に不穏な空気が漂いますが、政子は泰時を3代(1)に就け、敵対する動きをしずめました。それは、政子が突出して行動力のある⑦女性だったからできたのでしょうか。当時の武士の社会では、女性は結婚後も姓を変えず、親から譲られた領地を所有し、地頭に任命される者もいました。また、夫の死後、妻が夫の家長権を代行し、子どもたちを監督する権限もっていました。頼朝死後の政子は頼朝の妻、また2代・3代将軍の母という立場で幕府政治に関与したのです。

1225年に政子が69歳でこの世を去ってからおよそ800年がたちました。実は、⑧政子に対する評価は時代によって異なります。その理由は、政子の行動が、その時代その時代において求められた女性像や、社会の状況にもとづいて評価されてきたからです。例えば江戸時代は、政子に対する評価は全体的にはあまり高くなく、嫉妬深い、激しい気性の女性というイメージが形成されました。現代の私たちは、政子に関する資料をどのように読み解き、彼女をどのように評価するのでしょうか。

※1 摂関家：摂政や関白を出す家柄。

※2 鎌倉殿：鎌倉幕府の首長。藤原頼経は当時幼く、征夷大将軍には任命されていない。

問1 下線部①などの特定の場所に観光客が集中することによって、地域住民の生活や自然環境、景観などに悪影響を及ぼし、その土地の魅力を低下させることを何といいますか。カタカナで答えなさい。

問2 下線部②は、1189年に東北地方へ出兵し、平泉を拠点として繁栄していた奥州藤原氏を滅ぼしています。これについて、次の問いに答えなさい。

(1) 奥州藤原氏が平泉に建立した阿弥陀堂として正しいものを、次の中から1つ選び、記号で答えなさい。

ア. 唐招提寺金堂    イ. 慈照寺銀閣    ウ. 平等院鳳凰堂    エ. 中尊寺金色堂

(2) 平泉では、奥州藤原氏の時代の地層から中国製の陶磁器や、現在の愛知県産の陶器が大量に出土しています。これらは海上輸送され、太平洋沿岸から河川を使って平泉に運び込まれました。この河川として正しいものを、次の中から1つ選び、記号で答えなさい。

ア. 最上川    イ. 阿賀野川    ウ. 北上川    エ. 球磨川

(3) 平泉からは、当時の貴族の乗り物を収納する車宿という施設が見つかっています。当時の貴族の乗り物を引いていた動物は何ですか。

(4) 平泉は現在の岩手県に位置しています。岩手県の県庁所在地を答えなさい。

(5) 岩手県水沢市(現奥州市)出身の野球選手で、アメリカメジャーリーグにおいて「二刀流」で活躍している人物は誰ですか。

問3 文中の( 1 )に入る、将軍を補佐した役職名を答えなさい。

問4 文中の( 2 )に入る数字を答えなさい。

問5 下線部③について、頼朝は御家人たちの領地を認め、その権利を保障しました。このことによって武士の地位は向上していきます。武士は平安時代に登場し、やがて統治者となっていきます。これに関連する次の出来事を、年代の古い順に並べなさい。

ア. 都の武士の中には地方の役職に就いたり、反乱をしずめるために地方に赴いたりしてそのまま住みつき、実力をたくわえて一族や家臣で構成される武士団をつくる者もいました。

イ. 武士は城下町に住み、藩主に仕えて給料として米を与えられました。このため彼らの生活は、凶作や米価の変動の影響を大きく受けました。

ウ. 御家人は領地のある農村に住み、農民を監督する一方、武器の手入れや武芸の訓練に励み、鎌倉や京都の警備を分担しました。

エ. 戦国大名たちは、領地を拡大するために激しく戦いました。領内では治水に力を入れて農業の生産を高め、産業の発展や鉱山開発、交通の整備などにも努めました。

問6 下線部④は、鎌倉幕府で政治一般を扱った機関の初代長官です。この機関の名前を答えなさい。

問7 次の資料1～3中のア～エは、鎌倉市のある神奈川県と、下線部⑤によって形成された濃尾平野が広がる岐阜県、愛知県、三重県のいずれかを示しています。岐阜県、愛知県、三重県に当たるものを、資料の中からそれぞれ選び、ア～エの記号で答えなさい。

ただし、各資料中のア～エは、同じ県を示しています。

資料1. 県の面積 (2024年)

	面積 (km <sup>2</sup> )
ア	10,621
イ	5,774
ウ	5,173
エ	2,417

(『日本国勢図会 2025/26』より作成)

資料2. 農業産出額 (2023年)

	合計 (億円)	産出額 (億円)					
		米	野菜	果実	花き	工芸農作物	畜産
ア	1,263	192	421	60	59	3	504
イ	1,218	252	158	68	40	36	584
ウ	3,207	257	1,083	177	563	8	1,047
エ	686	30	334	83	43	1	169

(農林水産省「令和5年生産農業所得統計」政府統計の総合窓口 e-Stat ウェブページより作成)

資料3. 製造品出荷額の割合 (2022年)

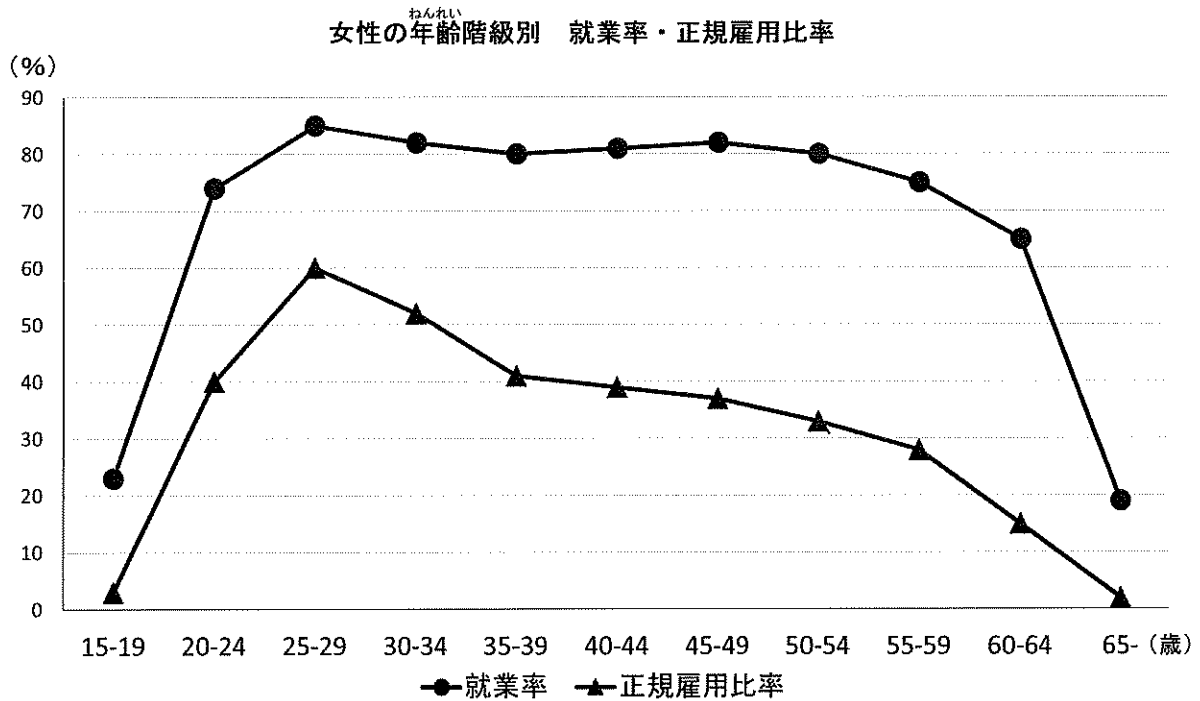
	合計 (億円)	割合 (%)					
		※上位3位を記載					
ア	65,412	輸送用機械	17.8	金属製品	8.8	生産用機械	8.4
						プラスチック製品	8.4
イ	118,668	輸送用機械	23.0	電子部品	16.0	化学	12.0
ウ	524,098	輸送用機械	54.2	電気機械	7.6	鉄鋼	6.0
エ	182,318	輸送用機械	20.7	石油・石炭製品	14.3	化学	11.0

(『データでみる県勢 2025』より作成)

問8 下線部⑥について説明した次の文章のうち、誤っているものを1つ選び、記号で答えなさい。

- ア. 武士がつくった最初の法律である御成敗式目(貞永式目)は、承久の乱の後に定められました。
- イ. 敗れた後鳥羽上皇は佐渡に、土御門上皇は土佐に、順徳上皇は隠岐に流されました。
- ウ. 承久の乱後、幕府が京都に設置した六波羅探題は、朝廷の監視や西国の御家人の取り締まりを行いました。
- エ. 上皇方についた貴族や武士の領地は幕府によって取り上げられ、東国の武士に恩賞として与えられました。

問9 下線部⑦に関連して、下のグラフから読み取れる、女性の雇用に関する現状とその背景を説明しなさい。



(男女共同参画局ウェブページ「女性の年齢階級別正規雇用比率(2024)」より作成)

問10 鎌倉時代は多くの自然災害が発生した時期でもありました。これに関連して、次の問いに答えなさい。

(1) 次の文中の( )に当てはまる言葉として正しいものを、下のア～エの中から1つ選び、記号で答えなさい。

2025年7月30日に、カムチャツカ半島付近を震源とする大規模な地震が発生し、北海道から和歌山県にかけての太平洋側を中心に津波警報が発令されました。この地震の震源付近は太平洋プレートが( )プレートに沈み込む場所でした。

ア. 北アメリカ    イ. アフリカ    ウ. ユーラシア    エ. フィリピン海

(2) 普段から食品や日用品などを少し多めに買い置きして、古いものから順に消費し、消費した分を買い足すことで、常に家庭に備蓄がある状態を保つ方法を何といいますか。

問 11 下線部⑧について、

著作権の関係でこのように処理してあります。

1933 年は、

次の年表中のア～エのどこに当たりますか。正しいものを1つ選び、記号で答えなさい。

ア
よさのあきこが「君死にたまふことなかれ」という詩を発表した
イ
ひらつからいちろう（雷鳥）らが、雑誌『青鞥』を創刊した
ウ
いちかわふさえが国会議員に初めて当選した
エ

問 12 次の新聞記事を読み、問いに答えなさい。

if not me, who, if not now, when. (エマ・ワトソン)

国連の親善大使に選ばれた俳優は国連でのスピーチで、( ) 平等への当然の要求がなぜ酷い誹謗中傷に遭うのかと訴えた。そしてそれを語るのが自分でいいのか不安になるたび、こう眩いた。「私にはできない？ じゃあ、誰がするの。いまは無理？ じゃあ、いつするの」。これを詩人の白井明大は「普通の人間が闘うための言葉」だと評した(『日本の憲法 最初の話』)。

(朝日新聞 2023 年 8 月 18 日デジタル版 「折々のことば」)

(1) 記事中の下線部に関連して、黒柳徹子さんは1984年から現在に至るまで、国際連合のある機関の親善大使として活躍しています。子どもの権利を守るための活動をしているその機関とは何ですか。次の中から正しいものを1つ選び、記号で答えなさい。

ア. UNHCR    イ. UNESCO    ウ. WHO    エ. UNICEF

(2) 記事中の( )には、SDGsの5番目に掲げられた「( ) 平等を実現しよう」の( )と同じ言葉が入ります。その言葉を答えなさい。

問 13 戦後、日本の女性の地位は著しく向上しました。これに関する次の事柄を、年代の古い順に並べた時、古い方から3番目に当たるものを記号で答えなさい。

- ア. 男女雇用機会均等法が制定されました。
- イ. 女子差別撤廃条約が国連総会で採択されました。
- ウ. 男女共同参画社会基本法が制定されました。
- エ. 日本国憲法が公布されました。

2 次の文章を読み、以下の問いに答えなさい。

平成の時代は①1989年1月8日から始まりました。②元号発表の記者会見の際、この元号の意味は「内平らかにして外成る。地平らかにして天成る」であると説明されましたが、平成の時代は実際には平穏ではなく、激動の時代でした。平成の時代に起こった出来事、変わった制度を一部取り上げてみましょう。

日本で暮らしている私たちは、何かを買うときに必ず消費税を納めます。日本の消費税は平成になってから導入された③税制度です。

消費税が導入されたのは平成元（1989）年4月1日ですが、政府が具体的な導入の検討を開始してから10年かかりました。消費税導入に向けて当時大蔵大臣の（1）は、旧国鉄や旧日本電電公社を分割し、国が行なってきた仕事を（2）化する行政改革を行いました。また、1987年に（1）自身が首相に就任してからも所得税減税を実施するなど、消費税導入に向けての準備を整えていきました。こうして消費税導入のための法案は、1988年7月末に国会に提出され、同年12月に消費税法が参議院本会議で可決後、成立しました。最初は3%から始まった消費税も1997年4月に5%となり、2014年4月には8%となりました。その後、2度の延期を経て、2019年10月に10%に引き上げられました。

選挙制度も平成で大きく変わりました。きっかけの1つは、消費税法が成立した同年に発覚したリクルート事件です。当時、リクルートの関連会社の未公開株が政治家に譲渡され、関与した政治家たちが多額の利益を得ていたことがわかりました。こうしてクリーンな政治が求められるようになったのです。選挙制度のうち、大きく変わったのは衆議院議員総選挙の制度です。1925年の（3）法で導入された「中選挙区」制度を「④小選挙区比例代表並立制」に改正することになりました。

また、大都市への人口集中と地方の人口減少によって「⑤一票の格差」が拡大し、違憲訴訟が全国で提起され、⑥最高裁判所が「違憲状態」と判断した選挙もありました。これを受けて、地域による格差を是正するために公職選挙法を改正し、⑦「鳥取・島根」「徳島・高知」の組み合わせで新たに「合区」が誕生しました。しかし令和になった現在でも、この格差が解消しきれていないのが現状です。

選挙権年齢も大きく変わりました。2007年の第一次安倍晋三内閣で成立した（4）法で、憲法改正のための（4）の投票権を18歳以上とし、附則でこの法律の施行までに公職選挙法や民法などの年齢規定を見直すことが求められていました。こうして2015年に公職選挙法が改正され、選挙権が18歳以上に引き下げられました。

日本の⑧外交・⑨安全保障政策も大きく変わりました。1990年にイラクが隣国⑩クウェートに侵攻したのに対し、⑪国連安全保障理事会決議に基づいて多国籍軍が派遣されました。日本はこれに総額130億ドルの支援をしました。その後、続発する地域紛争に国連平和維持活動で対応する動きが国際的に強まる中、日本では1992年に国連平和維持活動協力法が成立し、⑫自衛隊の⑬カンボジア派遣をはじめとする海外派遣が始まります。

その後の2001年9月11日、アメリカの④ニューヨーク市で同時多発テロが起こり、日本人も犠牲となりました。アメリカはテロとの戦いに際し、日本にも協力を求め、当時の小泉純一郎首相はこれに積極的に応じる考えを表明し、後方支援の実施を目的とした自衛隊派遣を決断しました。

平成で大きく変わったこれらの制度が、現時点で理想的な制度であるという訳ではありません。日本社会や国際社会の動きに合わせた制度を今後も模索していく必要があります。

問1 下線部①の11月、冷戦時代に築かれた東西ドイツ分断の象徴が民衆によって壊されました。その象徴を何といいますか。

問2 下線部②に関連して、以下の4つの元号を年代の古い順に並べたものとして、正しいものを次の中から1つ選び、記号で答えなさい。

- ア. 正長→応仁→建武→文永      イ. 正長→建武→文永→応仁  
ウ. 文永→建武→正長→応仁      エ. 文永→正長→建武→応仁

問3 下線部③に関連して、以下の歌に最も関連の深いものを次の中から1つ選び、記号で答えなさい。

「からころも すそにとりつき 泣く子らを おきてぞきぬや 母なしにして」

- ア. 雑徭      イ. 調      ウ. 防人      エ. 地租

問4 消費税について述べた文章として、正しいものを次の中から1つ選び、記号で答えなさい。

- ア. 消費税は、法人税や住民税と同様に間接税に分類されています。  
イ. 消費税は所得の低い人の負担を減らすために、軽減税率制度が採用されています。  
ウ. 少子高齢化が進むと、国の歳入に占める消費税の割合は減少し、所得税の割合は増加していきます。  
エ. 消費税はすべて地方税として納められるため、歳入不足の地方公共団体では大きな財源になっています。

問5 文中の( 1 )～( 3 )にあてはまる言葉を答えなさい。ただし( 1 )には人名が入ります。

問6 下線部④について述べた文章として、正しいものを次の中から1つ選び、記号で答えなさい。

- ア. 1つの小選挙区で最大5人が当選できるため、同じ政党から、複数の立候補者を出すことができます。  
イ. 小選挙区で落選しても、比例区で当選することがあります。  
ウ. 小選挙区制では、比例代表制に比べて、落選者に投票される票が少なくなります。  
エ. 比例代表制では選挙区が小さいため、人数の少ない政党が有利になります。

問7 下線部⑤に関連して、次の文章は第27回参議院議員選挙(2025年7月実施)について述べたものです。文中( A )・( B )に当てはまる数字と言葉の組み合わせとして、正しいものを1つ選び、記号で答えなさい。

総務省が公表した選挙関連資料から計算すると、今回の参議院議員選挙で議員一人を選ぶ当日の有権者数が最も多かったのは神奈川県(1,928,172人)で、最も少なかったのは福井選挙区(616,532人)です。このことから、神奈川の有権者の一票は、福井の約( A )票分で、一票の価値が重いのは( B )であることがわかります。

- ア. A : 3.13    B : 神奈川  
イ. A : 3.13    B : 福井  
ウ. A : 0.32    B : 神奈川  
エ. A : 0.32    B : 福井

問8 下線部⑥に関連して、次の問いに答えなさい。

(1) 最高裁判所は、法律や政令が憲法に違反しているかどうかを最終的に判断する権限を持ちます。このことから、最高裁判所は何と呼ばれていますか。

(2) 日本では三審制が採用されています。第二審の判決に不服なときにさらに上級の裁判所に訴えることを何といいますか。正しいものを次の中から1つ選び、記号で答えなさい。

- ア. 控訴    イ. 上告    ウ. 再審    エ. 起訴

問9 下線部⑦の4県について述べた次の文章のうち、誤っているものを1つ選び、記号で答えなさい。

ア. 吉野川が県の東西を流れ、上流部の四国山地には大歩危・小歩危の峡谷があります。

イ. みかん栽培が盛んです。平地が狭く山が海岸線にせまっているので、斜面に沿った段々畑が多く見られます。

ウ. 黒潮の影響で冬でも比較的温暖で、野菜の促成栽培がさかんです。県内を流れる四万十川は、「最後の清流」といわれています。

エ. 世界文化遺産の石見銀山があり、中国やヨーロッパの国々との交易に大きな影響を与えました。

問10 文中の( 4 )に当てはまるものとして、正しいものを次の中から1つ選び、記号で答えなさい。

- ア. 国政選挙    イ. 国民投票    ウ. 国民審査    エ. 国勢調査

問11 下線部⑧に関連して、室町時代に日本は明と国交を開きました。日本が明から輸入したものとして、正しいものを次の中から1つ選び、記号で答えなさい。

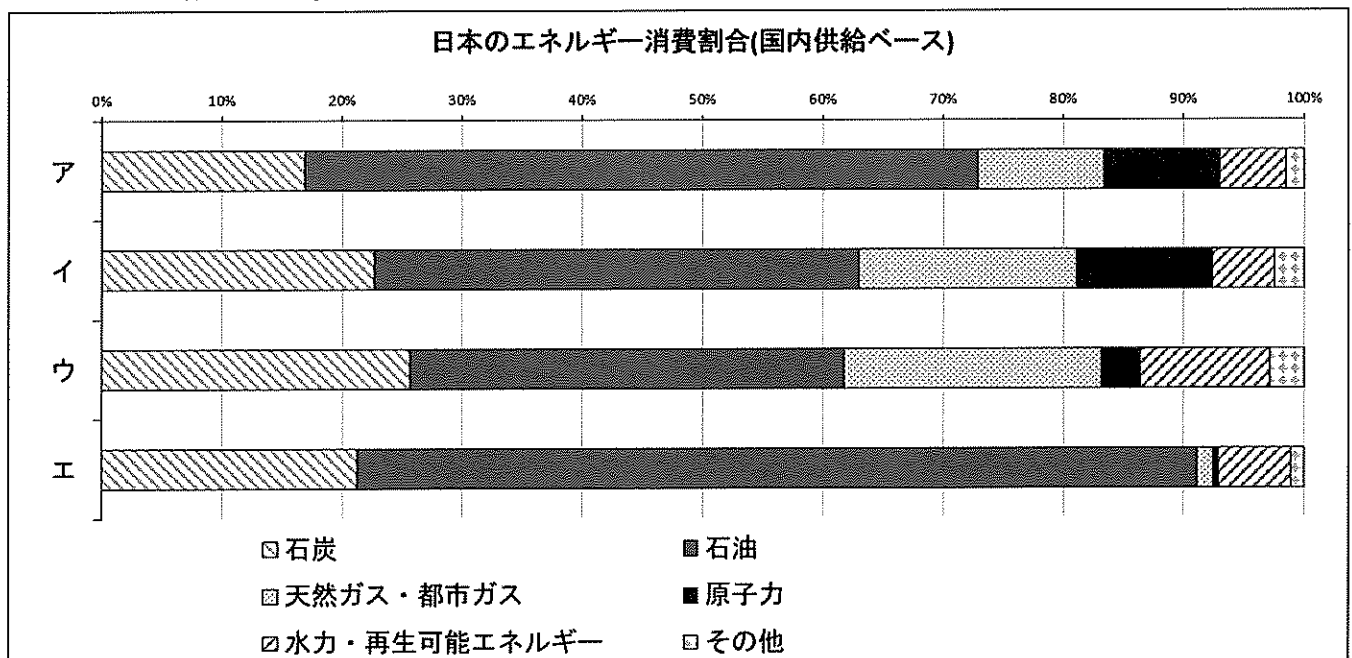
- ア. 銅銭    イ. 硫黄    ウ. 刀剣    エ. 漆器

問 12 下線部㉑に関連して、1951年には日米安全保障条約が締結されました。これと同じ年の出来事を次の中から1つ選び、記号で答えなさい。

- ア. 日本がポツダム宣言を受諾
- イ. 朝鮮戦争の勃発
- ウ. サンフランシスコ平和条約の締結
- エ. 日本が国際連合に加盟

問 13 下線部㉒は、石油資源が豊富な国です。これに関連して、次の問いに答えなさい。

(1) 以下のグラフは、1970年度、1990年度、2010年度、2021年度の日本のエネルギー消費割合(国内供給ベース)を示したものです。1990年度のグラフを次の中から1つ選び、記号で答えなさい。



(『日本のすがた 2021』『日本のすがた 2024』より作成)

(2) 発電について述べた文章として、誤っているものを次の中から1つ選び、記号で答えなさい。

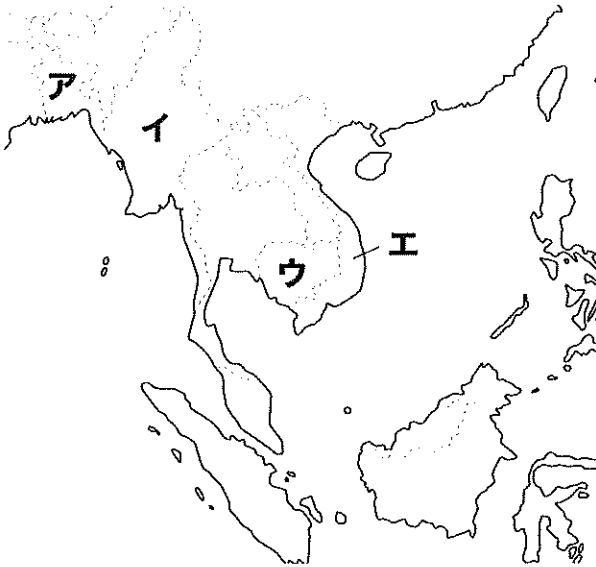
- ア. 水力発電は、ダムに蓄えられた水が落下する力を利用して発電し、二酸化炭素を排出しないためクリーンな発電です。
- イ. 風力発電は、風の強弱によって得られる電力が一定ではないという欠点がありますが、夜間でも発電することができます。
- ウ. 太陽光発電は、建物の屋上や耕作が行われていない農地に設置された太陽光パネルで発電します。
- エ. 火力発電は、火山の地中のマグマなどによって熱せられた蒸気や熱水を利用して行います。

問 14 下線部⑩について述べた文章として、正しいものを次の中から1つ選び、記号で答えなさい。

- ア. 常任理事国が1か国でも反対すると決定されません。
- イ. 非常任理事国10か国は、任期が4年で2年ごとに半数が改選されます。
- ウ. 常任理事国は、アメリカ・ロシア・イギリス・フランス・日本の5か国です。
- エ. 拒否権が発動されたことは設立時から今まで一度もありません。

問 15 下線部⑫の最高指揮監督権は内閣総理大臣にあります。この仕組みを支える民主主義の原則を何といいますか。漢字で答えなさい。

問 16 下線部⑬の位置として、正しいものを次の地図中から1つ選び、記号で答えなさい。



問 17 下線部⑭について述べた文章として、正しいものを次の中から1つ選び、記号で答えなさい。

- ア. 国際平和の維持を目的とした国際連盟の本部が置かれました。
- イ. 地球環境の保全と持続可能な開発の実現のために地球サミットが開催されました。
- ウ. 地球上で経度をはかるときの基準となる本初子午線が通っています。
- エ. 株式市場で株価が暴落し、この地から世界恐慌が始まりました。

問 18 平成の時代の出来事ではないものを次の中から1つ選び、記号で答えなさい。

- ア. 阪神淡路大震災
- イ. ヨーロッパ連合 (EU) の発足
- ウ. バブル経済崩壊
- エ. チョルノービリ (チェルノブイリ) 原発事故



2026年度 社会解答用紙

受験 番号					
----------	--	--	--	--	--

氏名	
----	--

試験会場の机の上にある  
シールを1枚ここに貼ります

1

問1		問2	(1)	(2)	(3)
----	--	----	-----	-----	-----

問2	(4)	(5)	問3	
----	-----	-----	----	--

問4		問5	→ → →	問6	
----	--	----	-------	----	--

問7	岐阜県	愛知県	三重県	問9	
問8					

問10	(1)	(2)	
-----	-----	-----	--

問11		問12	(1)	(2)	問13	
-----	--	-----	-----	-----	-----	--

2

問1		問2		問3		問4	
----	--	----	--	----	--	----	--

問5	(1)	(2)	(3)	問6	
----	-----	-----	-----	----	--

問7		問8	(1)	(2)	問9		問10	
----	--	----	-----	-----	----	--	-----	--

問11		問12		問13	(1)	(2)	問14	
-----	--	-----	--	-----	-----	-----	-----	--

問15		問16		問17		問18	
-----	--	-----	--	-----	--	-----	--

