

1 次の文章を読み、以下の問いに答えなさい。

太平洋の周囲を取り巻く(1)に位置する日本では、人々は古くから恵まれた温泉を利用し、湯治(温泉に入って病気を治療すること)をしたり、温泉を求めて旅をしたりしてきました。このことは、古い書物からもわかります。

奈良時代に、各国の産物や伝説をまとめた『(A)』がつくられましたが、そこには、温泉にまつわる話がいくつも見られます。その一つに、現在の(2)県の出雲大社の祭神大国主命が、別府温泉からお湯をひいてきてつくった①道後温泉で、治療をした話があります。道後温泉は、齐明天皇や中大兄皇子一行が②百済救援の途上、滞在したことで知られています。この地を出発するときに額田王が「熱田津に船乗りせむと月待てば潮もかなひぬ今は漕ぎ出でな」と士気を高めるために詠んだ歌が、奈良時代に編集された『(B)』という歌集に載せられています。

江戸幕府を開いた徳川家康は熱海を訪れた際、その地の温泉の魅力にとりつかれ、湯治のために17日間も滞在しました。歴代の将軍が熱海の湯を江戸城まで運ばせただけでなく、諸大名も(3)で江戸に滞在している期間に、許可をとって熱海へ向かいました。江戸時代中期になると温泉医学書も出版され、武士から庶民まで湯治に出かけることが流行しました。番付も作られ、その基準は湯治を第一の目的とした「温泉の質」におかれています。江戸時代の温泉番付『諸国温泉功能鑑』では、東の最高位は上州③草津、西の最高位は摂州有馬が多く選ばれました。明治時代に日本に招かれたドイツ人医学者のベルツも、草津温泉の効能を世界に紹介しています。

現代の温泉の人気順位には施設、食事、接客などが考慮されるようになり、順位付けが難しくなっています。そのような中でも、泉質の種類豊富な九州は依然として人気です。九州には火山も多く、佐賀県や長崎県、熊本県は、かつて「火の国」を語源とし、「(C)国」「(D)国」と呼ばれていました。

日本一の温泉の湧出量をほこる大分県には、別府や由布院という有名な温泉があります。由布院は閑静で趣きのある温泉街が特徴で、一時期は減少した湯治のできる宿も近年増えてきています。2016年4月の「熊本地震」では、建物や由布院へつながる路線も被害を受けました。この被害によって、2013年から開通している、九州を一周する観光列車「④ななつ星 in 九州」の運行ルートから由布院も外れましたが、2018年3月からは、由布院や阿蘇での宿泊が復活します。そのルートでは⑤福岡県の博多を出発して3泊4日で九州を周遊し、その途中の由布院では選りすぐりの温泉宿で、名湯を堪能することができます。

現在、温泉地では⑥地熱発電や、温泉を利用した花の栽培も行われています。このように様々な温泉の利用方法がありますが、温泉に入ることは日本人の愉しみとして、これからも変わることはないでしょう。

問1. 文中の(1)に当てはまる言葉を漢字7文字で答えなさい。

問2. 文中の(A)、(B)に当てはまる書物の組み合わせとして、正しいものを次の中から1つ選び、記号で答えなさい。

- ア. A 日本書紀 B 万葉集 イ. A 風土記 B 古今和歌集
ウ. A 日本書紀 B 古今和歌集 エ. A 風土記 B 万葉集

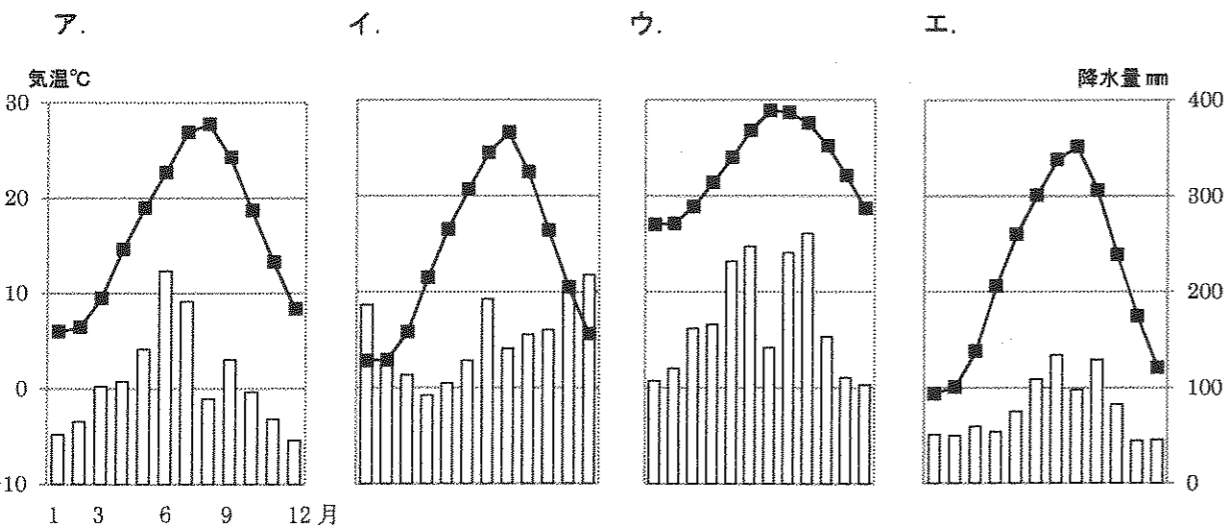
問3. 文中の(2)県の形を次の中から1つ選び、記号で答えなさい。

- ア. イ. ウ. エ.



※縮尺はそれぞれ異なります

問4. 次のア～エは長野、那覇、新潟、松山のいずれかの都市の気候グラフです。下線部①がある都市の気候グラフを次の中から1つ選び、記号で答えなさい。



(『理科年表 平成29年』より作成)

問5. 下線部②について、663年に日本が唐・新羅連合軍に敗れた戦いの名前を答えなさい。

問6. 文中の(3)に当てはまる言葉を答えなさい。

問7. 下の表は、野菜や果物の主な産地を表しています。下線部③の温泉がある県を、表中の(ア)～(ウ)の中から1つ選び、記号で答えなさい。

| | ほうれんそう | キャベツ | 日本なし | こんにゃくいも |
|-----|-------------|--------------|-------------|-------------|
| 第1位 | (ア) 35300 | 愛知県 261700 | (ア) 31700 | (イ) 56500 |
| 第2位 | 埼玉県 26200 | (イ) 243900 | 茨城県 26300 | (ウ) 1790 |
| 第3位 | (イ) 21600 | (ア) 132800 | (ウ) 20700 | |
| 第4位 | 茨城県 17800 | 茨城県 105900 | 福島県 20500 | |

数字の単位はトン(t)

(『日本国勢図会2017/18版』より作成)

問8. 文中の(C)、(D)に当てはまる昔の呼び方の組み合わせとして、正しいものを次の中から1つ選び、記号で答えなさい。

- ア. C 肥前 D 肥後 イ. C 備前 D 備後
ウ. C 豊前 D 豊後 エ. C 越前 D 越後

問9. 下線部④について、次の問いに答えなさい。

(1) J R 九州のウェブページには、列車名の由来は、以下のように記されています。[] に当てはまる言葉を答えなさい。

- ・ [] を表現
- ・ 九州の主な7つの観光素材を表現
自然、食、温泉、歴史文化、パワースポット、人情、列車
- ・ 7両編成の客車を表現

(2) この列車では、九州北部から南部までの様々な景色を楽しむことができます。九州南部に畑が広がっている理由を、地形の特徴に触れながら書きなさい。

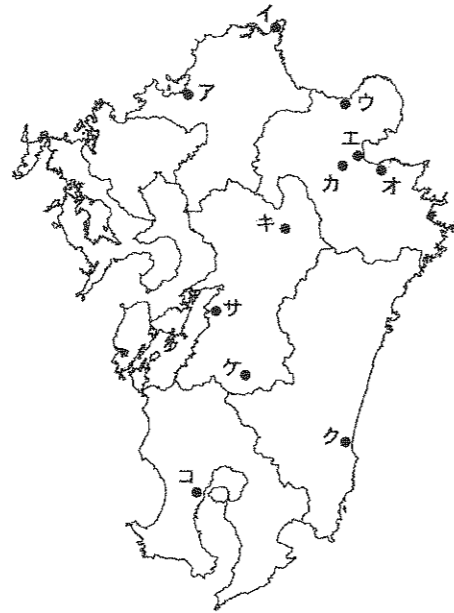
(3) この列車に乗るツアーでは九州の様々な伝統工芸品に触れることができます。九州の伝統工芸品として、正しいものを次の中から1つ選び、記号で答えなさい。

- ア. 南部鉄器 イ. 熊野筆 ウ. 土佐和紙 エ. 薩摩切子

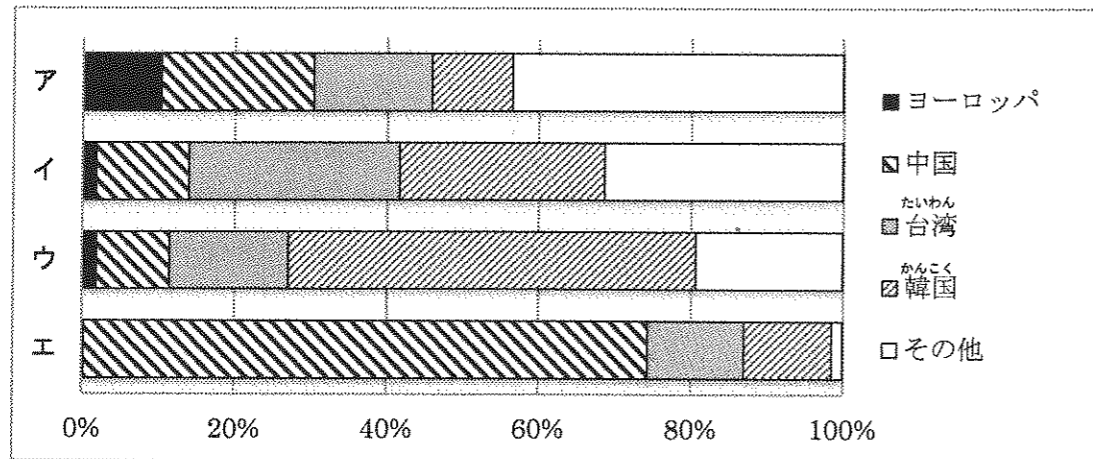
(4) この列車にあしらわれている美しい大川組子は、福岡県大川市の特産品です。大川市は、阿蘇山を水源とし、有明海に注ぐ川の水運を利用して木工の町として発展しました。この川の名前を答えなさい。

(5) 次の①・②は、「ななつ星 in 九州」の停車駅(2018年3月以降)の説明です。①・②は次の地図のア～サのどの駅の説明に当たりますか。それぞれ1つずつ選び、記号で答えなさい。

- ① 北九州に位置している門司港駅の建物は、国の重要文化財に指定されています。駅名にもなっている門司港は、中国大陸への玄関口として発展しました。
- ② 日本三大急流の球磨川を通過すると八代駅に停車します。この駅のある県では、い草やトマトの生産量が日本一となっています。



問10. 次のグラフは、新千歳空港・成田空港・富士山静岡空港・福岡空港への入国者の国籍・地域別割合を示したものです。下線部⑤に関連して、福岡空港にあたるものをア～エから1つ選び、記号で答えなさい。

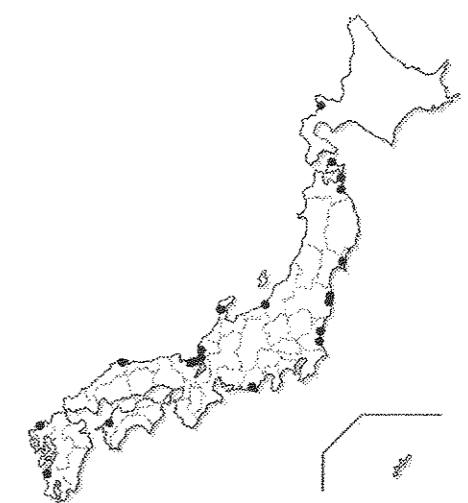
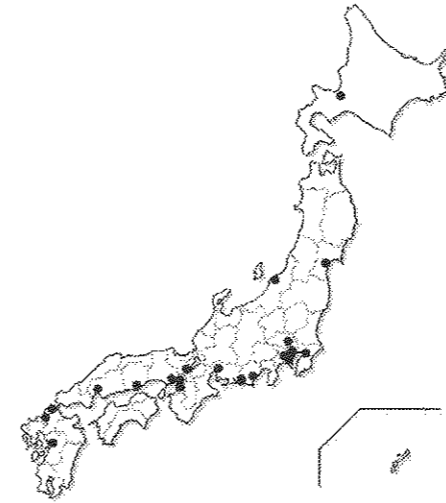


(法務省ウェブサイト「出入国管理統計統計表 2016」より作成)

問11. 下線部⑥について、国内における地熱発電所の分布図として、正しいものを次の中から1つ選び、記号で答えなさい。

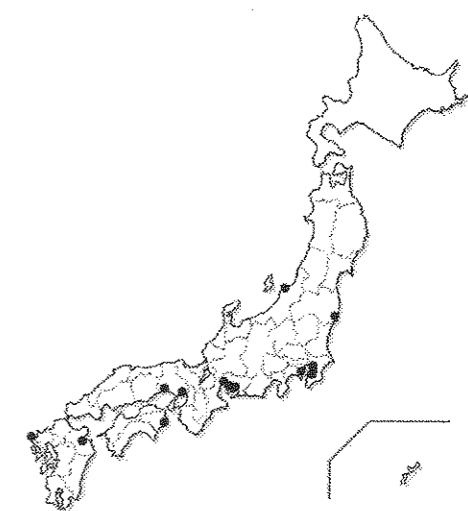
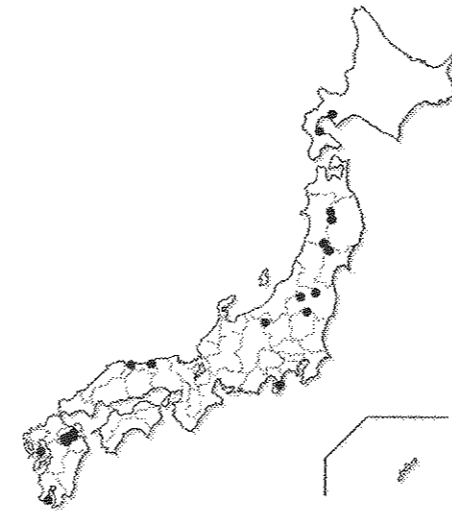
ア.

イ.



ウ.

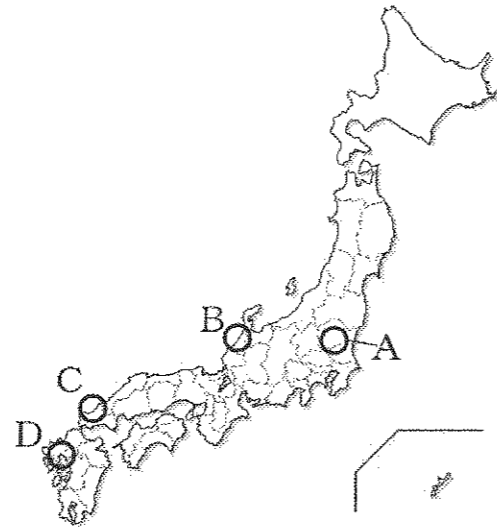
エ.



問5. 下線部⑤の政策を1つ答え、その政策の内容を説明しなさい。

問6. 下線部⑥について、陶磁器の名前と下の地図に示された産地A～Dの組み合わせとして、正しいものを次の中から1つ選び、記号で答えなさい。

- ア. 有田焼—A
- イ. 唐津焼—B
- ウ. 萩焼—C
- エ. 薩摩焼—D



問7. 下線部⑦に関連して、朝鮮通信使が派遣された目的を説明しなさい。

問8. 江戸時代の中ごろ以降、下線部⑧を通じて伝わった蘭学を学ぶ人々が増えました。50歳を過ぎてから天文術や測量術を学び、幕府の命令により全国の沿岸を歩いて測量し、日本地図を作製した人物の名前を答えなさい。

問9. 下線部⑨に関連して、松前藩の横暴な交易に抵抗して1669年に反乱を起こした人物の名前を答えなさい。

問10. 下線部⑩について、この対立によって政府を去った人物として、正しいものを次の中から1つ選び、記号で答えなさい。

- ア. 伊藤博文
- イ. 西郷隆盛
- ウ. 岩倉具視
- エ. 大久保利通

問11. 下線部⑪に関連して、次のA～Eは日清戦争の開始から太平洋戦争の終結までの時期の事柄です。これらを起こった順に並べたものとして、正しいものをア～カから1つ選び、記号で答えなさい。

- A. 世界恐慌が起きました。
- B. 下関条約が結ばれました。
- C. 遼東半島を清に返還しました。
- D. 三・一独立運動が起きました。
- E. 満州事変が起きました。

- ア. B→C→D→A→E
- イ. B→D→E→C→A
- ウ. B→E→A→C→D
- エ. C→B→D→A→E
- オ. C→D→E→B→A
- カ. C→E→A→B→D

問12. 下線部⑫に関連して、その後、日本は大韓民国と1965年に条約を結び、両国間に国交が開かれました。この条約を何といますか。

問13. 下線部⑬について、現在では韓国の文化や風習が、日本でも広く知られるようになりました。韓国の女性の伝統的な衣装を何といますか。

問14. 文中の(1)に当てはまらないものを次の中から1つ選び、記号で答えなさい。

- ア. お経
- イ. 木綿
- ウ. にんじん
- エ. 硫黄

問15. 文中の(2)～(4)に当てはまる言葉を答えなさい。

3 次の文章を読み、以下の問いに答えなさい。

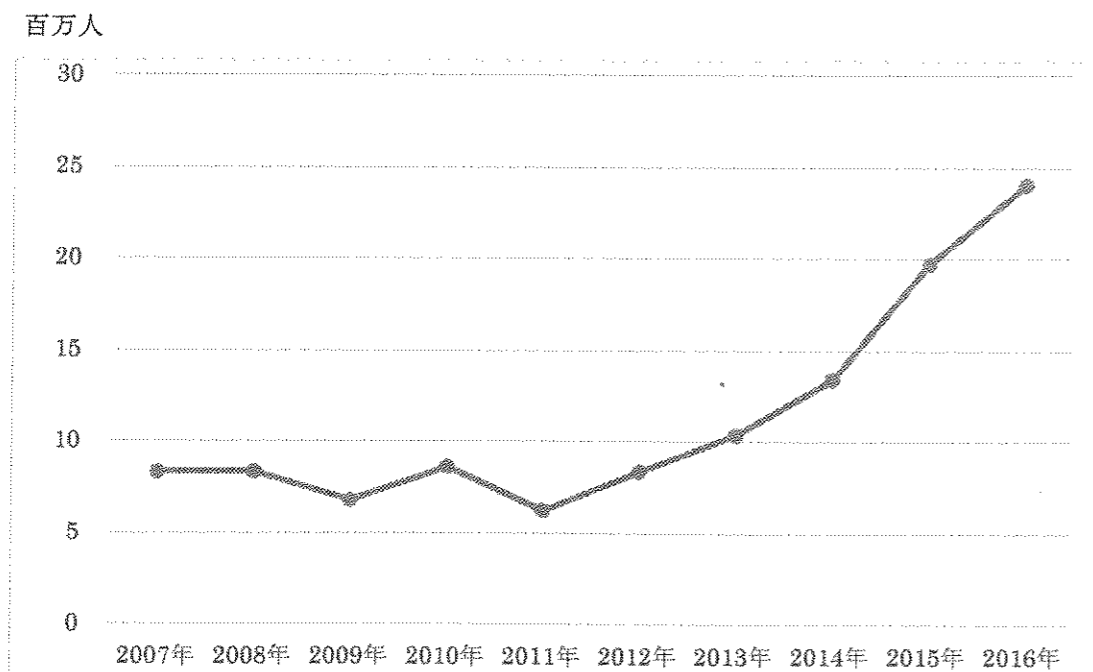
①政府は西暦2020年までに訪日外国人数を(1)万人にするという目標を掲げてきました。しかし、この目標は早くも2016年に達成され、現在は2020年までに(2)万人、2030年までに(3)万人と修正されています。

資料1を見ると、②2009年と2011年に訪日外国人数が減り、その後は増加の一途をたどっていることがわかります。2013年からの増加を後押ししたのは、アベノミクスによる(4)の傾向です。資料2からは、③東南アジアからの訪日客も増えていることがわかります。これらの国々は人口も多く、経済的に急成長を遂げて海外旅行をする人が増えており、今後も訪日客の増加が見込まれます。政府は、東南アジア諸国の人が日本に入国する際のビザ(事前に与える入国許可証)取得の免除や緩和をすでに進めています。

2016年の訪日外国人旅行消費額は、3兆7476億円にのびました。外国人観光客が日本で行う消費のことを(5)消費といい、人口が減少している日本では経済効果が期待されています。訪日外国人は、買い物を主眼とする「モノ消費」だけでなく、自分の国とは異なる自然や景観を楽しんだり、日本食を体験したりする「(6)消費」も好んで行っていることがわかってきました。しかし、外国人が訪れるのは、東京や京都・大阪などをめぐるゴールデンルートや、北海道に集中しているのが現状です。そこで、④多くの外国人観光客を地方へ誘致する取り組みが始まっています。

※文中のデータは、観光庁ウェブサイト「統計情報・白書」による

資料1 訪日外国人数の推移



(日本政府観光局ウェブサイト「統計データ」より作成)

資料2 訪日外国人の内訳

単位：人

| | 2015年 | 2016年 | | 2015年 | 2016年 |
|--------|-----------|-----------|--------|-----------|-----------|
| 韓国 | 4,002,095 | 5,090,302 | マレーシア | 305,447 | 394,268 |
| 中国 | 4,993,689 | 6,373,564 | インドネシア | 205,083 | 271,014 |
| 台湾 | 3,677,075 | 4,167,512 | イギリス | 258,488 | 292,458 |
| 香港 | 1,524,292 | 1,839,193 | フランス | 214,228 | 253,449 |
| タイ | 796,731 | 901,525 | ドイツ | 162,580 | 183,288 |
| シンガポール | 308,783 | 361,807 | アメリカ | 1,033,258 | 1,242,719 |

(日本政府観光局ウェブサイト「統計データ」より作成)

問1. 下線部①は、内閣とその下の行政機関を指します。内閣について説明した次の文章のうち、正しいものを1つ選び、記号で答えなさい。

ア. 内閣総理大臣は、国会議員の中から国会が指名し、天皇が任命します。国務大臣は内閣総理大臣によって任命されます。

イ. 衆議院で内閣不信任案が可決されると、内閣は20日以内に衆議院を解散しない限り、総辞職しなければなりません。

ウ. 内閣の下には、外国との交渉、条約や国際連合に関する仕事をする外務省や、医療・福祉、雇用や労働に関する仕事をする総務省などの機関があります。

エ. 内閣は予算案や法律案をつくって国会に提出するほか、最高裁判所の長官を任命します。

問2. 文中の(1)～(3)に当てはまる数字の組み合わせとして、正しいものを次の中から1つ選び、記号で答えなさい。

| | (1) | (2) | (3) |
|---|------|------|------|
| ア | 1000 | 1500 | 2000 |
| イ | 2000 | 3000 | 4000 |
| ウ | 2000 | 4000 | 6000 |
| エ | 4000 | 6000 | 8000 |

問3. 下線部②に影響を与えた出来事の組み合わせとして、正しいものを次の中から1つ選び、記号で答えなさい。

| | 2009年 | 2011年 |
|---|--------------------------------|---------------------------------------|
| ア | リーマン・ショック、新型インフルエンザ | <small>ひがしにほんだいにんさい</small> 東日本大震災 |
| イ | リーマン・ショック、新型インフルエンザ | ロンドンオリンピック・パラリンピック |
| ウ | <small>ほうかい</small> バブル経済崩壊 | 東日本大震災 |
| エ | バブル経済崩壊 | ロンドンオリンピック・パラリンピック |

問4. 文中の(4)に当てはまる言葉として正しいものは、次のうちのどちらですか、記号で答えなさい。

ア. 円高 イ. 円安

問5. 下線部③に関連した次の文章のうち、誤っているものを1つ選び、記号で答えなさい。

- ア. 東南アジア諸国連合(ASEAN)は、2017年に創立50周年をむかえました。資料2にのせた東南アジアの国々は、すべて東南アジア諸国連合に加盟しています。
- イ. 資料2の中で、2015年と比べて、2016年の訪日人数が最も増えているのは、東南アジアではタイ、ヨーロッパではフランスです。
- ウ. 日本は東南アジア諸国連合全体と経済連携協定(EPA)を結んでいます。
- エ. 東南アジアの国々はすべて、2017年5月にマレーシアで開かれた一帯一路国際協力サミットフォーラムに参加しました。

問6. 文中の(5)、(6)に当てはまる言葉を、すべてカタカナで答えなさい。ただし、(5)は6文字、(6)は2文字で答えなさい。

問7. 2016年、東京都大田区や大阪府は宿泊施設の不足に対応するため、民泊を認めるきまりを施行しました。このような、その地方公共団体だけに適用されるきまりのことを何といいますか。

問8. 下線部④について、多くの外国人観光客を地方へ誘致するには、どのような取り組みが必要だと考えますか。下の2つの言葉に関連させて書きなさい。

【 交通 多言語化 】

問題は以上で終わりです

得点

2018年度 社会 解答用紙

| | | | |
|-------|--|-----|--|
| 受 験 号 | | 氏 名 | |
|-------|--|-----|--|

| | | | | | | | | | | | | | | | | |
|-----|-----|-----|-----|--|-----|-----|-----|-----|--|-----|-----|--|--|-----|----|--|
| 1 | 問1 | | | | | | | 問2 | | | 問3 | | | 問4 | | |
| | 問5 | | | | | 問6 | | | | | 問7 | | | 問8 | | |
| | 問9 | (1) | | | | | | (2) | | | | | | | | |
| | | | | | | | | | | | | | | | | |
| | | (3) | (4) | | | | (5) | ① | | | ② | | | | | |
| | 問10 | | | | | 問11 | | | | | | | | | | |
| 2 | 問1 | | | | | 問2 | | | | | 問3 | | | 問4 | | |
| | 問5 | 政策名 | | | | 内容 | | | | | | | | | | |
| | | | | | | | | | | | | | | | | |
| | 問6 | | | | | 問7 | | | | | | | | | | |
| | 問8 | | | | | 問9 | | | | | 問10 | | | | | |
| | 問11 | | | | | 問12 | | | | | 問13 | | | | | |
| 問14 | | | | | 問15 | (2) | | | | (3) | | | | (4) | | |
| 3 | 問1 | | | | | 問2 | | | | | 問3 | | | 問4 | | |
| | 問5 | | | | | 問6 | (5) | | | | (6) | | | | 問7 | |
| | 問8 | | | | | | | | | | | | | | | |