

受験 番号	
----------	--

2015年度

入学試験 社会問題

注意 答えはすべて解答用紙に書きなさい。

1. 次の文章を読み、問いに答えなさい。

東京駅と新大阪駅を結ぶ東海道新幹線は、昭和39（1964）年10月1日に開業しました。①車窓からはさまざまな自然や町の風景が見られ、旅を楽しませてくれます。開業以来、列車運行にともなう死亡事故はゼロ、その安全性は世界に知られています。現在の主力車両であるN700系は、開業当時の0系に比べ、②電力消費は約49パーセント削減されています。さらにN700系から進化し、2013年にデビューしたN700Aは、地震発生などに備え、従来よりも短い距離で停車できるようになったほか、日本の新幹線では初めてシートクッションを100パーセントリサイクル可能なポリエステルに変更しました。洗面所などの照明には③LEDを採用し、車内照明の電力消費量をN700系に比べて20パーセントも削減しました。

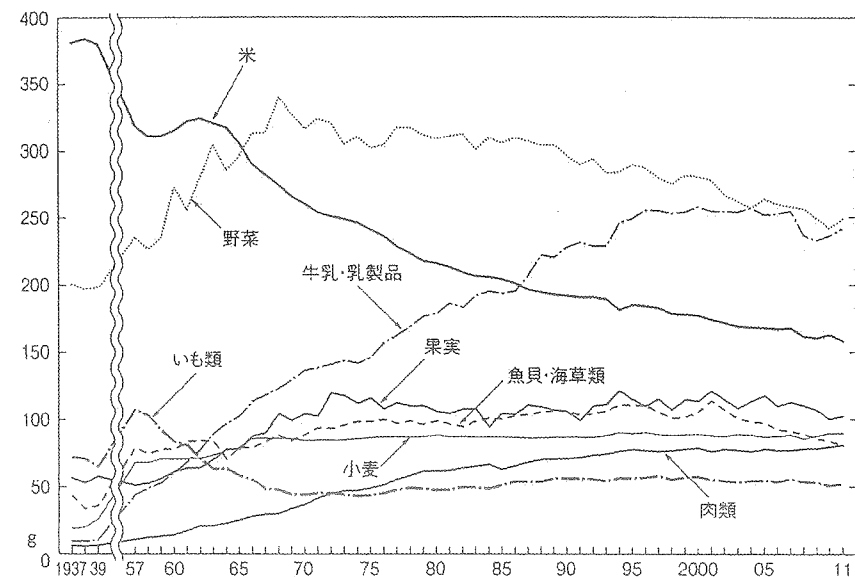
開業から55億人以上が利用し、現在の運行本数は1日当たり300本を超えています。開業当時は東京・新大阪間を4時間で走行していましたが、現在は最高速度270キロで2時間25分、今春には最高速度285キロでの走行を目指しています。

新しい新幹線の計画も進んでいます。現在は東京・長野間が開業していますが、今年の3月に金沢まで延伸される（1）新幹線、来年の3月に新青森から新函館北斗までの区間が開業する（2）新幹線がそれです。また、磁石の力で車両を浮かせて進む（3）を走行させ、東京と大阪を1時間あまりで結ぶ中央新幹線の構想も進んでいます。（1）新幹線や中央新幹線は大阪までつながる予定ですが、そこには④自然災害で東海道新幹線が長期間止まった場合でも東京・大阪間の交通手段が確保されるというねらいもあります。

問1. 文中の（1）～（3）に当てはまる言葉を答えなさい。

問2. 東海道新幹線の開業から50年がたちました。この間、日本人の食生活に大きな変化が起こったことは、下のグラフからもわかります。このグラフから読み取れることを述べた次の文章のうち、正しいものを1つ選び、記号で答えなさい。


食生活の変化（1人1日あたり供給純食料）（会計年度）



『数字でみる 日本の100年』より

- ア. 戦後、牛乳・乳製品と肉類は消費をのばし、2005年度に最も多く消費された品目は肉類です。
- イ. 小麦の消費量は1972年度に、いも類を抜き、2010年度には魚貝・海草類や果実を抜きました。
- ウ. 米の消費量は、1966年度に野菜に抜かれ、1987年度には牛乳・乳製品に抜かれました。
- エ. 米の消費量は、1990年度には戦前の3分の1になりました。

問3. 次の年齢別人口構成のグラフは、1935年、1960年、1990年、2010年のものです。このうち、1990年のグラフはどれですか。正しいものを1つ選び、記号で答えなさい。



（総務省 ホームページより作成）

問4. 次の表は、新幹線が走行している盛岡、仙台、東京、岡山の月別の平均気温と降水量を表したものです。表中のア～エのうち、東京はどれですか。正しいものを1つ選び、記号で答えなさい。

都市	1月	2月	3月	4月	5月	6月	7月	8月	9月	10月	11月	12月	全年
ア	4.9	5.5	8.8	14.5	19.3	23.3	27.2	28.3	24.4	18.1	12.3	7.3	16.2
	34.2	50.5	86.7	92.3	125.0	171.5	160.9	87.4	134.4	81.1	51.2	31.0	1105.9
イ	1.6	2.0	4.9	10.3	15.0	18.5	22.2	24.2	20.7	15.2	9.4	4.5	12.4
	37.0	38.4	68.2	97.6	109.9	145.6	179.4	166.9	187.5	122.0	65.1	36.6	1254.1
ウ	-1.9	-1.2	2.2	8.6	14.0	18.3	21.8	23.4	18.7	12.1	5.9	1.0	10.2
	53.1	48.7	80.5	87.5	102.7	110.1	185.5	183.8	160.3	93.0	90.2	70.8	1266.0
エ	6.1	6.5	9.4	14.6	18.9	22.1	25.8	27.4	23.8	18.5	13.3	8.7	16.3
	52.3	56.1	117.5	124.5	137.8	167.7	153.5	168.2	209.9	197.8	92.5	51.0	1528.8

上段は平均気温（℃）、下段は降水量（mm）。全年は年平均気温、年降水量を表す

（『理科年表2014年版』より作成）

問5. 下線①について、東京駅から新大阪駅に向かう時の、車窓からの風景について述べた次の文章のうち、ふさわしくないものを1つ選び、記号で答えなさい。

- ア. 進行方向右手に富士山が見えます。
- イ. 進行方向左手に相模湾が見えます。
- ウ. 浜名湖を渡ります。
- エ. 進行方向右手に姫路城が見えます。

問6. 東海道新幹線で、東京駅から新大阪駅に向かう時、東京都を1番目とすると6番目に通る府県名を答えなさい。

問7. 下線①に関連して、次のページの地形図は、東海道新幹線の岐阜羽島駅付近のもので(2万5千分の1地形図「竹鼻」より)。これを見て、以下の問いに答えなさい。

(1) 地形図の右下に見えている川は、隣の県との境界にもなっています。この川の名前として正しいものを次の中から1つ選び、記号で答えなさい。

- ア. 揖斐川
- イ. 大井川
- ウ. 木曾川
- エ. 淀川

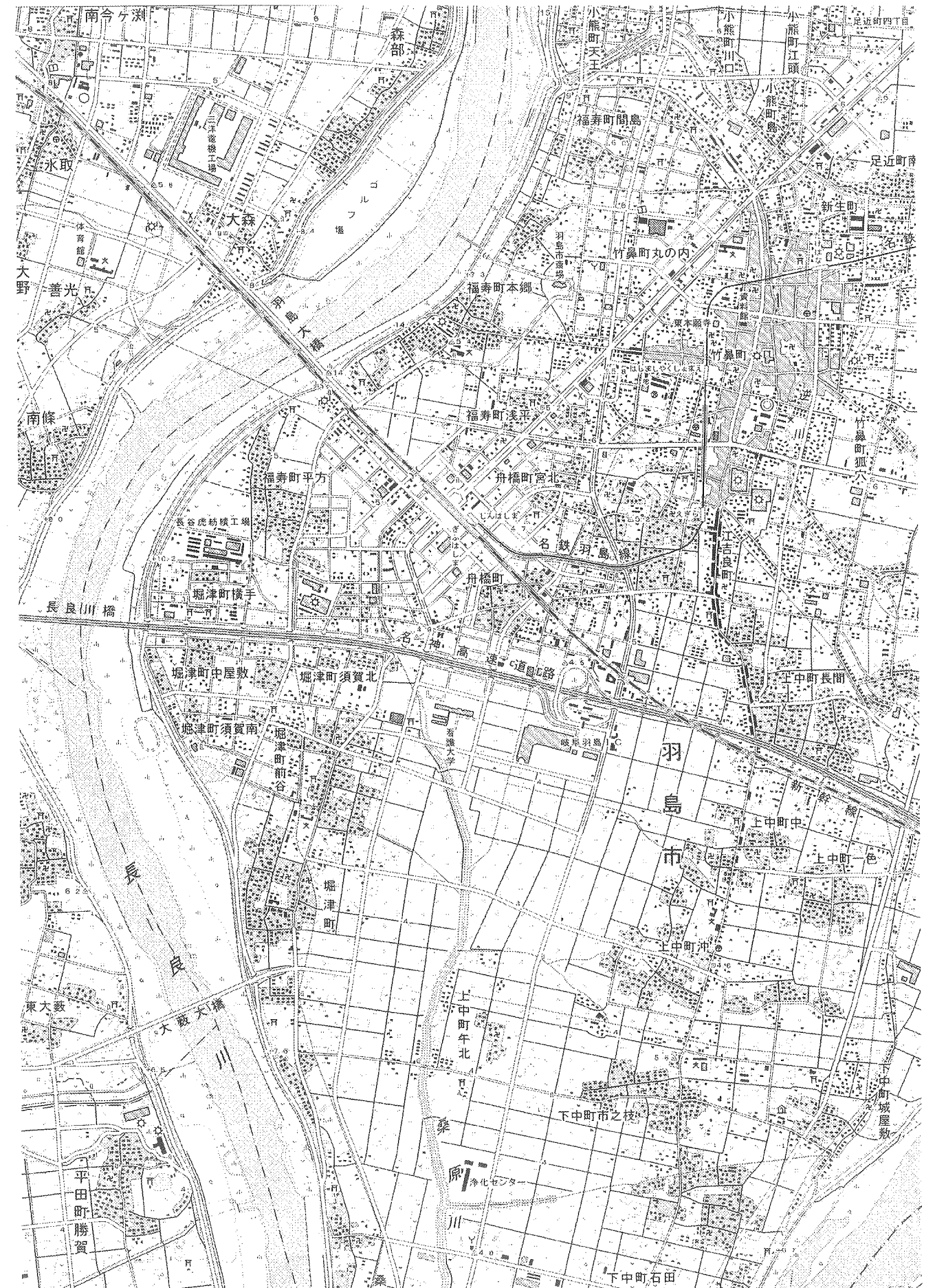
(2) 長良川について説明した次の文章のうち、正しいものを1つ選び、記号で答えなさい。

- ア. 日本で最も長い川で、長野県に入ると千曲川と名前を変えます。越後平野をうるおしながら、新潟県で日本海に注いでいます。
- イ. 濃尾平野を流れ、鵜飼いでも知られています。支流で生産される本美濃紙は、昨年ユネスコの無形文化遺産に登録されました。
- ウ. 日本三大急流の1つで、流域の八代平野では、かつては畳表に用いられるい草の栽培がさかんでしたが、現在ではメロンやトマトの栽培が行われています。
- エ. 日本最後の清流ともいわれ、源流には広大な森が広がっています。天然ウナギや青のりの産地としても知られています。

(3) 岐阜羽島駅から市役所までは、地形図上で7センチメートルあります。実際には何キロメートルありますか。

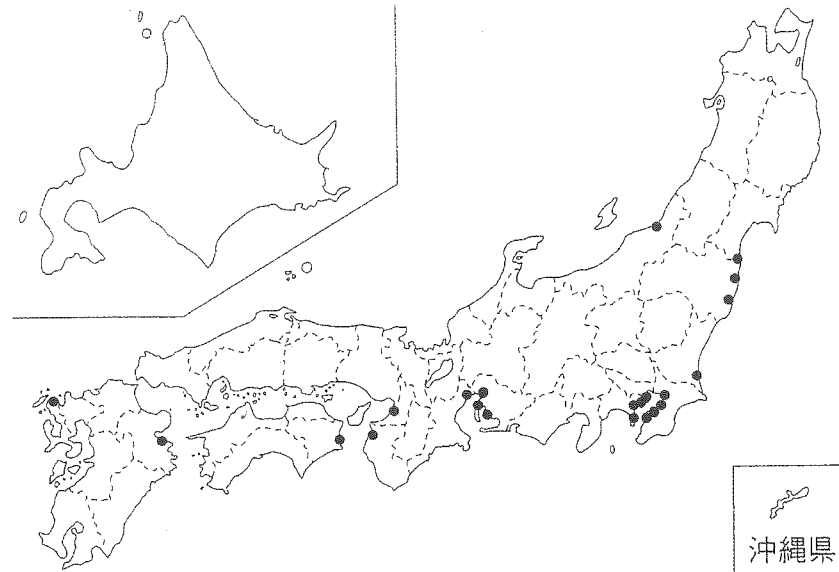
(4) この地形図について説明した次の文章のうち、正しいものを1つ選び、記号で答えなさい。

- ア. 岐阜羽島駅の南には名神高速道路が走っており、さらに南には看護大学があります。その西側には神社があります。
- イ. 新幹線の線路と名神高速道路にはさまれた地域には、ゴルフ場や発電所、紡績工場があります。
- ウ. 長良川が南東に流れを変えたところにある橋の名前は、羽島大橋です。
- エ. 桑原川の東岸には浄化センターがあり、その250メートル南には警察署があります。



問 8. 下線②について、次の地図中の●は、ある発電所の分布を表しています。それは何ですか。次の中から正しいものを1つ選び、記号で答えなさい。

- ア. 原子力発電所 イ. 地熱発電所 ウ. 火力発電所 エ. 水力発電所



(『国勢図会 2014/15』より作成)

問 9. 下線③について、^{あかきまひる}赤崎 勇 氏、^{あまのひろし}天野 浩 氏、^{なかむらしゅうじ}中村 修 二 氏が^{こうきど}高輝度の青色発光ダイオード (LED) の開発や実用化に貢献したことによって昨年、ノーベル賞を受賞しました。3人が受賞したのは次のうち、どの賞ですか。正しいものを1つ選び、記号で答えなさい。

- ア. 化学賞 イ. 医学・生理学賞 ウ. 平和賞 エ. 物理学賞

問 10. 下線④について、西日本の太平洋側のプレート境界では、いくつかの地震が連動して巨大地震が起こると警戒されています。この巨大地震の名前を答えなさい。

問 11. 下の表は、それぞれの野菜の主産地を表しています。表中の()には、東海道新幹線が走行している同じ県名が入ります。その県名を答えなさい。

	キャベツ		たまねぎ		ブロッコリー	
	順位	産地	順位	産地	順位	産地
第1位	()	262 900	北海道	665 000	北海道	22 600
第2位	群馬	259 700	佐賀	122 800	()	15 700
第3位	千葉	128 900	兵庫	87 500	埼玉	14 900
第4位	茨城	94 300	()	30 100	香川	9 050
第5位	神奈川	80 200	長崎	25 700		

2012 年産/全国調査、単位はトン (t)

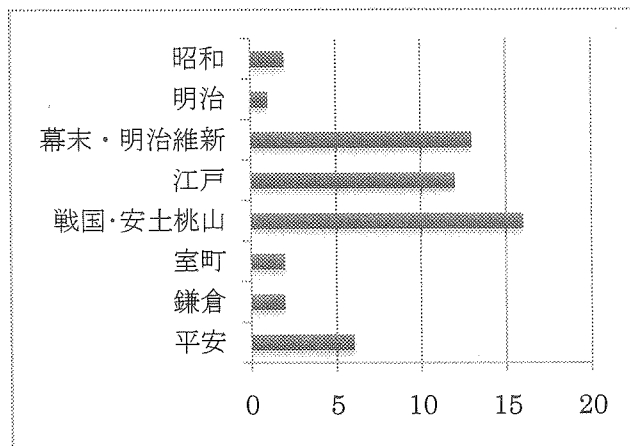
(『国勢図会 2014/15』より作成)

問題は次ページに続きます

2. 次の文章を読み、問いに答えなさい。

毎年、さまざまな時代にスポットをあて、話題をさらう①NHK大河ドラマですが、歴史的な場面がいろいろな見方で映像化されるところにおもしろさがあるように思います。その大河ドラマも 2012 年放送の②「清盛」で 51 作目、大河ドラマ開始 50 年を迎えました。大河ドラマの脚本はオリジナルで書かれることもあります。小説をもとにしていたり、そこに新しい解釈を加えたりしてつくられています。右の表は歴代大河ドラマの舞台として扱われた時代の分布です。

大河ドラマの時代区分



取り上げられた回数が多い時代は戦国・安土桃山時代から③幕末・明治維新に集中していることがわかります。中でも初めて全国統一を果たした④豊臣秀吉、江戸幕府の基礎を作った徳川家康は主役になることも多く、いろいろな姿で描かれています。また昨年は、「軍師官兵衛」が放送されました。⑤黒田官兵衛は戦国時代末期、⑥織田信長、豊臣秀吉、徳川家康の三人に重用され、天才軍師ともうたわれています。また、和歌や茶の湯を愛した文化人であり、⑦キリシタン(キリスト教信者)でもありました。

大河ドラマは、同じ人物でも監督や原作の違いによって描かれ方が違ってきること魅力の一つです。徳川家康が、狸おやじとして描かれる作品もあれば、せっかちな人物として描かれることもありました。豊臣秀吉を題材にしたものでいうと、1996 年放送の「豊臣秀吉」では戦国時代を生きる難しさや、武士の縦社会の中でも、いきいきと生きる登場人物たちが描かれています。それに対し、2011 年の「江」では、戦国の世を駆け抜けた天下人に対し、「サル」と呼び捨てにする力強い女性が描かれたりしています。

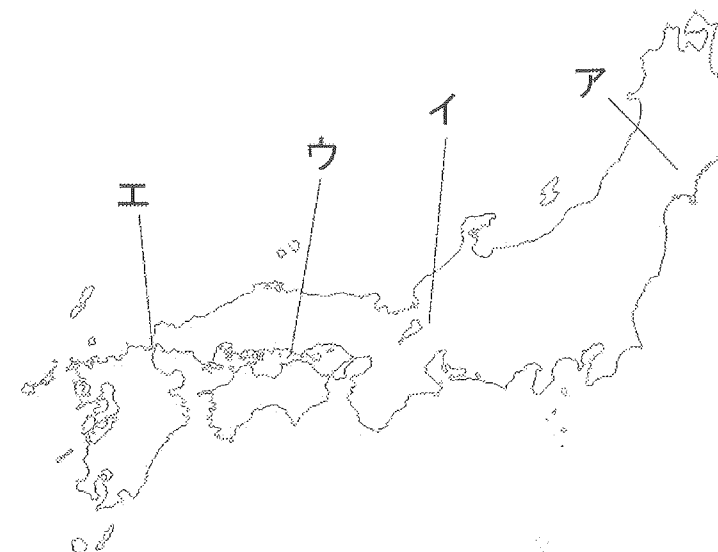
また、時代とともに大河ドラマの描き方も変わってきているように思います。例えば、主役となる人物を見ても、1963 年の放送開始から 2001 年までの間に女性が主役となった回は 40 作品中わずか 6 作品、2002 年以降は「利家とまつ」を皮切りに、2015 年までの間の 14 作品中 6 作品が女性を主役にしています。ここには⑧女性の社会進出の結果、現代の私たちの考え方が変わってきていることも大きく関わっているように思えます。教科書に登場することのない人達であっても、その時代を真剣に生き抜いた姿が描かれています。そこには現代を生きる私たち一人ひとりに向けてのメッセージが込められているようにも思えます。過去を学び、比較することで現在の私達を知る、それが歴史を学ぶおもしろさといえるでしょうし、大河ドラマはそのきっかけを与えてくれるものなのかもしれません。

問 1. 下線①について、放送行政に関わるのは郵政省でしたが、そのもとにあった事業の一つとして、郵政事業がありました。その民営化を決断した総理大臣を次の中から 1 人選び、記号で答えなさい。

- ア. 小泉純一郎 イ. 鳩山由紀夫 ウ. 田中角栄 エ. 竹下登

問 2. 下線②について以下の問いに答えなさい。

(1) 下線②の主人公平清盛の死後、平氏は源氏に負けますが、平氏と源氏の最後の戦いの名前を答え、その場所を地図の中から 1 つ選び、記号で答えなさい。



(2) 平氏が滅んだ後、源頼朝は御家人に領地を与える代わりに、御家人は戦いの時には奉公する関係を築きました。この制度を何と呼びますか。

問 3. 次の表は、下線③の時代を描いた、「徳川慶喜」の放送回ごとのタイトルです。表中の (A) に入るタイトルを以下の中から 1 つ選び、記号で答えなさい。

第1回	母の不在
第2回	新しい母
第3回	黒船が来た
第4回	将軍候補
第5回	日米和親条約
	⋮
第17回	安政の大獄
第18回	(A)
	⋮
第26回	生麦事件
	⋮
第49回	無血開城

- ア. 日米修好通商条約 イ. 桜田門外の変 ウ. 大政奉還 エ. 薩英戦争

問4. 下線④の人物に関して誤っているものを次の中から1つ選び、記号で答えなさい。

- ア. 倭寇などの海賊をとりしめるとともに、南蛮貿易を保護しました。
- イ. 刀狩りを行って、兵農分離を実現しました。
- ウ. 楽市楽座を行い、座の特権を保護しました。
- エ. 全国に検地を強行し、荘園を完全に崩壊させました。

問5. 下線⑤の人物は、やがて姫路城の城主となります。姫路城はその後江戸時代に建て直しがあり、現在の姫路城はユネスコの世界文化遺産にも登録されて、多くの観光客で賑わっています。世界文化遺産について述べた次の文章のうち、誤っているものを次の中から1つ選び、記号で答えなさい。

- ア. 富士山が世界遺産に登録されました。
- イ. 昨年、富岡製糸場が世界遺産に登録されました。
- ウ. 東京都には、小笠原諸島を含め世界遺産が2カ所存在します。
- エ. 日光東照宮などの社寺が世界遺産に登録されました。

問6. 下線⑥の人物たちの性格をくらべた歌で、「鳴かぬなら鳴くまでまとうホトトギス」とたとえられた人物について述べたものとして、正しいものを次の中から1つ選び、記号で答えなさい。

- ア. 足利義昭を京都から追放して室町幕府を滅ぼしました。
- イ. 息子に將軍職を譲ることで代々將軍職が受け継がれることを示しました。
- ウ. 生類憐れみの令を発し、動物を保護しました。
- エ. 中国に進出するために朝鮮半島へ侵略を行いました。

問7. 下線⑦に関連して、次のグラフは日本におけるキリシタン数の変化を表したものです。このグラフをもとに以下の問いに答えなさい。

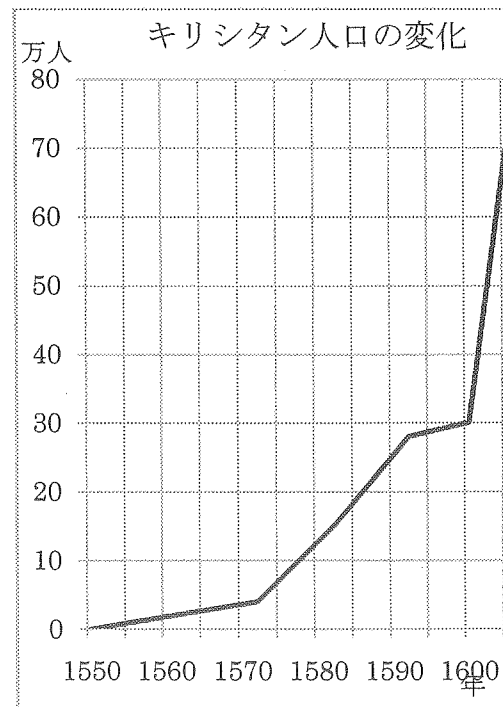
(1) 1590年代は、キリシタン人口はあまり増加していませんが、その理由として考えられることを次の中から1つ選び、記号で答えなさい。

- ア. 島原の乱が起きました。
- イ. 全国で踏み絵が行われました。
- ウ. 豊臣秀吉がキリスト教を禁止しました。
- エ. 江戸幕府が鎖国体制をとりました。

(2) 江戸時代に入ると次第に信者数の正確な把握ができなくなります。その理由としてどのようなことが考えられますか、簡潔に述べなさい。

問8. 下線⑧に関連する事柄として誤っているものを次の中から1つ選び、記号で答えなさい。

- ア. 樋口一葉は明治時代に活躍した女流文学者です。
- イ. 与謝野晶子は文芸活動を行う青鞞社をつくり、その活動は婦人解放運動へと発展していきました。
- ウ. 1945年、初めて女性に参政権が認められました。
- エ. 2014年、安倍政権は働く女性を支援する政策を打ち出しました。



(『Jr.日本の歴史⑤ 天下太平のしくみ』大石学著より)

問9. 「大河ドラマの時代区分」のグラフには平安時代より前のグラフがありません。もしあなたが以下にあげた人物を主人公にして大河ドラマを描くとすると、それぞれのテーマの中で明らかに扱わないものはどれですか、次の中から1つ選び、記号で答えなさい。

(1) 卑弥呼

- ア. 稲作が行われ、収穫物は高床倉庫に収められました。
- イ. 身分の違いや貧富の差がなく、平等な世の中でした。
- ウ. 中国に使いを送り、銅鏡を授けられました。
- エ. 青銅器などを用いて、祭を行いました。

(2) 小野妹子

- ア. 遣隋使として中国に渡り、国交を開こうとしました。
- イ. 推古天皇の摂政として聖徳太子が活躍していました。
- ウ. 国分寺や東大寺が建設され、東大寺に大仏が建立されました。
- エ. 一緒に中国に渡った人たちが大化の改新で活躍しました。

問10. 次の(1)、(2)で説明した人物はまだ大河ドラマの主人公にはなっていません。その人物は誰ですか、それぞれ答えなさい。

(1)

- ・ 総理大臣になりました。
- ・ 憲法を学ぶためにヨーロッパに留学しました。
- ・ 長州藩の出身でした。
- ・ 最期はハルビンで暗殺されました。

(2)

- ・ 藤原道長の娘に嫁しました。
- ・ 寝殿造の建物に住んでいました。
- ・ 『源氏物語』を書きました。
- ・ かな文字を使用しました。

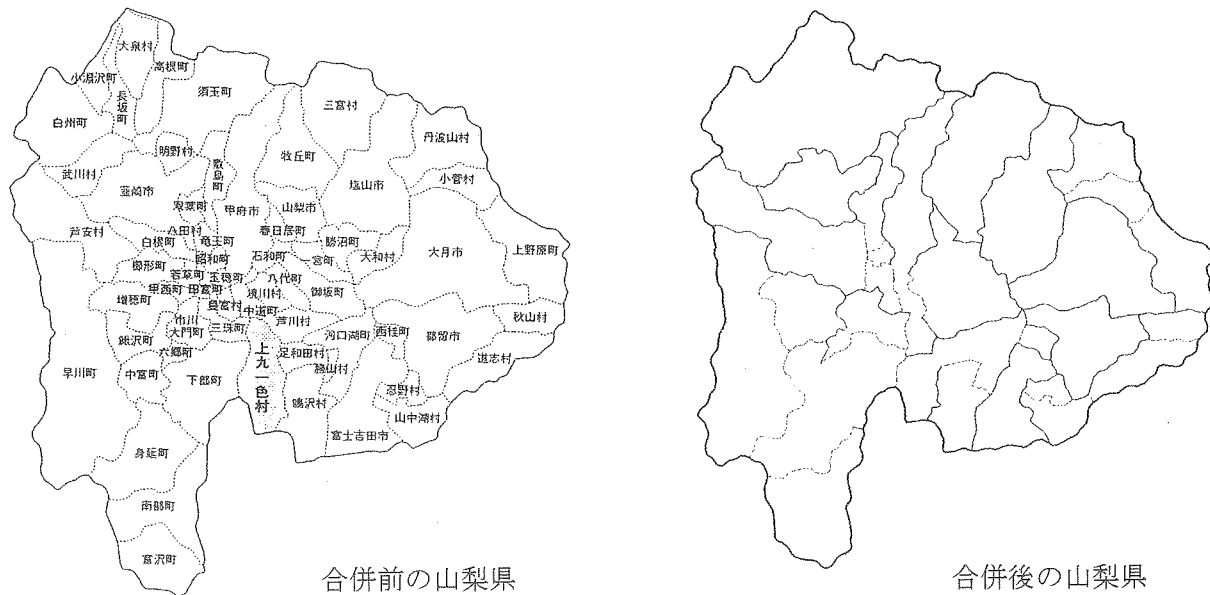
問題は次ページに続きます

3. 次の文章を読み、問いに答えなさい。

都道府県における市町村の合併は、これまでも何度か行われてきました。近年では、平成11(1999)年から平成22(2010)年、財源不足に悩む市町村に特例措置を設けて、合併を促進させることになりました。その結果、次のページの表のように、この10年間で、全国の市町村の数は、およそ3200から1700と、半数近くに減少しています。「平成の大合併」とよばれている今回の合併で、全国的により広い地域をかかえた地方公共団体が誕生したことになります。

- 問1. 文中の下線について、国が地方公共団体の歳入不足を補う税金は何ですか。
- 問2. 今回の合併を市、町、村ごとに見た場合、どのようなことがわかりますか。次のページの表を見て答えなさい。
- 問3. 今回の合併では、都道府県によって合併数に、かなりのかたよがりがあります。たとえば、東京都のような大都市の場合、平成13(2001)年に田無市と保谷市が合併して「西東京市」が誕生した、たった一例だけです。しかし、全国的にみた場合、次のページの表からどのような傾向が読み取れますか。
- 問4. 下の2つの地図は、合併前と後の山梨県の行政区画を示したものです。これをみると、今回の合併によって、新たに大きな市や町が誕生している一方、合併に参加しなかった市町村もあり、それぞれの町村によって合併への対応がまちまちであったことがわかります。

あなたが山梨県のある村の住民で、合併の賛否を問う「住民投票」が行われた場合、賛成票を投じますか、それとも反対票を投じますか。賛成か、反対か、自分の立場をはっきりさせて、その理由を述べなさい。



平成の合併による市町村数の変化(都道府県別)

都道府県	平成11年3月31日市町村数			平成22年3月31日市町村数				
	市	町	村	市	町	村		
北海道	212	34	154	24	179	35	129	15
青森県	67	8	34	25	40	10	22	8
岩手県	59	13	30	16	34	13	16	5
宮城県	71	10	59	2	35	13	21	1
秋田県	69	9	50	10	25	13	9	3
山形県	44	13	27	4	35	13	19	3
福島県	90	10	52	28	59	13	31	15
茨城県	85	20	48	17	44	32	10	2
栃木県	49	12	35	2	27	14	13	0
群馬県	70	11	33	26	35	12	15	8
埼玉県	92	43	38	11	64	40	23	1
千葉県	80	31	44	5	54	36	17	1
東京都	40	27	5	8	39	26	5	8
神奈川県	37	19	17	1	33	19	13	1
新潟県	112	20	57	35	30	20	6	4
富山県	35	9	18	8	15	10	4	1
石川県	41	8	27	6	19	10	9	0
福井県	35	7	22	6	17	9	8	0
山梨県	64	7	37	20	27	13	8	6
長野県	120	17	36	67	77	19	23	35
岐阜県	99	14	55	30	42	21	19	2
静岡県	74	21	49	4	35	23	12	0
愛知県	88	31	47	10	57	37	18	2
三重県	69	13	47	9	29	14	15	0
滋賀県	50	7	42	1	19	13	6	0
京都府	44	12	31	1	26	15	10	1
大阪府	44	33	10	1	43	33	9	1
兵庫県	91	21	70	0	41	29	12	0
奈良県	47	10	20	17	39	12	15	12
和歌山県	50	7	36	7	30	9	20	1
鳥取県	39	4	31	4	19	4	14	1
島根県	59	8	41	10	21	8	12	1
岡山県	78	10	56	12	27	15	10	2
広島県	86	13	67	6	23	14	9	0
山口県	56	14	37	5	19	13	6	0
徳島県	50	4	38	8	24	8	15	1
香川県	43	5	38	0	17	8	9	0
愛媛県	70	12	44	14	20	11	9	0
高知県	53	9	25	19	34	11	17	6
福岡県	97	24	65	8	60	28	30	2
佐賀県	49	7	37	5	20	10	10	0
長崎県	79	8	70	1	21	13	8	0
熊本県	94	11	62	21	45	14	23	8
大分県	58	11	36	11	18	14	3	1
宮崎県	44	9	28	7	26	9	14	3
鹿児島県	96	14	73	9	43	19	20	4
沖縄県	53	10	16	27	41	11	11	19
合計	3232	670	1994	568	1727	786	757	184

(総務省ホームページより作成)

得点

2015年度 社会 解答 用 紙

受 験 号		氏 名	
-------	--	-----	--

1	問1	(1)	(2)	(3)
	問2		問3	問4
	問5		問6	問7 (1)
	問7	(2)	(3)	(4)
	問8		問9	
	問10			問11
2	問1		問2 (1) 名前	地図
	問2	(2)	問3	問4
	問5		問6	問7 (1)
	問7	(2)		
	問8		問9 (1)	(2)
	問10	(1)	(2)	
3	問1			
	問2			
	問3			
	問4			