

1 次の文章を読んで、後の各問いに答えなさい。

昔、沖縄は、「琉球王国」とよばれた一つの国でした。琉球というよび方は、14世紀に琉球国王が①明と貿易した頃<sup>ころ</sup>から使用されるようになりました。首里城を王国の中心とした琉球は、中国や日本などの②アジアの国々との貿易で栄えました。□A□の港は、海外から運ばれた物や外国人であふれていたといわれます。また、琉球は「レキオ」という名前で、③ポルトガルの資料にも記録されています。

「沖縄」というよび方は、古くから地元の人々が用いていた「ウチナー」からきています。④『唐大和上東征伝』<sup>とうだいわじやうとうせいでん</sup>にも、帰国途上の遣唐船が「阿児奈波」<sup>ウチニハ</sup>に暴風雨で流れ着いた、という表記があります。その後、⑤『平家物語』にはじめて「おきなは」の表現が用いられ、「おきなは」に沖縄の文字を当てたのは⑥新井白石が最初でした。

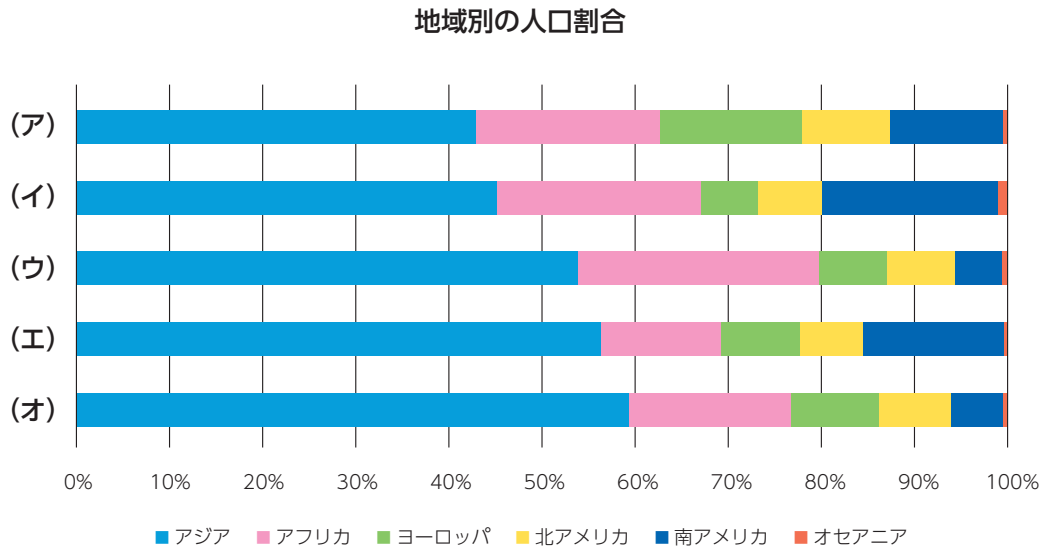
1609年、琉球は□B□藩（現在の鹿児島県）から侵攻<sup>しんこう</sup>されます。⑦江戸時代、琉球は日本文化の影響を受けて、さらに⑧特色ある文化を育てていきました。⑨明治時代になると、450年間続いた琉球王国は沖縄県となりました。

⑩太平洋戦争が終わりを迎えようとする、1945年3月、アメリカ軍が沖縄に上陸しました。民間人をまき込んだ地上戦が行われ、沖縄に住んでいた人々約10万人を含む、たくさんの人たちが亡くなりました。これが沖縄戦です。戦争が終わると、□C□年5月15日に日本へ復帰<sup>ふっき</sup>するまで、沖縄はアメリカの統治<sup>とうち</sup>が続きました。今なお、在日米軍の専用施設の約□D□パーセントが集中しています。このような歴史から、沖縄の人々には、⑪平和を求める思いが強くあります。

沖縄は他の日本の地域に比べて、⑫温暖な気候です。この気候をいかして、⑬観光業がさかんになっています。また、特色のある農作物の栽培も行っています。かつては、⑭さとうきびや熱帯果実の栽培が中心でしたが、⑮野菜や花卉<sup>かき</sup>の県外出荷量が増加傾向です。温暖な気候は豊かで独特な自然環境を育み、沖縄にしかない動植物も多くいます。このような自然は、かけがえのない大切なものですが、こわれやすいものでもあります。私たちは、この⑯豊かな自然を開発から守ることが求められています。

問1 下線①について、日明貿易を始めた日本の人物は誰<sup>だれ</sup>ですか、答えなさい。

問2 下線②は、アジア・アフリカ・ヨーロッパ・北アメリカ・南アメリカ・オセアニアの6地域の中で、最も人口が多い地域です。次のグラフの(ア)～(オ)から、2020年と2050年の地域別の人口割合（いずれも国連による推計値）をそれぞれ選び、記号で答えなさい。



問3 Aに入る沖縄県の県庁所在地を答えなさい。

問4 下線③について、1543年にポルトガル人を乗せた中国の船が、日本のある島に流れ着きました。この島はどこですか、島名を答えなさい。

問5 下線④は、唐の高僧であった鑑真の伝記です。鑑真が来日した頃の日本の出来事として正しいものを次から1つ選び、記号で答えなさい。

- (ア) 大化の改新で、これまで力を持っていた蘇我氏が倒された。
- (イ) 十七条の憲法や冠位十二階が定められた。
- (ウ) 正倉院には、西アジアやインドの珍しい宝物<sup>めづらし</sup>もおさめられた。
- (エ) 大宝律令が完成し、土地支配や税の制度など政治の仕組みが成り立った。

問6 下線⑤が成立した時代に起こった次の出来事を、年代順に記号で並べなさい。

- (ア) 政治や裁判のよりどころを示した御成敗式目が制定された。
- (イ) 初代将軍亡き後、その妻の北条政子が、実権を握<sup>にぎ</sup>った。
- (ウ) 元からの属国要求を断<sup>き</sup>わったため、二度にわたる襲来<sup>しゅうらい</sup>をうけた。
- (エ) 六波羅探題がおかれ、朝廷や西国の監視が強化された。

問7 下線⑥は、当時の将軍のもと、江戸幕府の財政を立て直そうとしました。江戸幕府の財政政策に関する説明として、誤っているものを次から1つ選び、記号で答えなさい。

- (ア) 田沼意次は、商人の経済力を利用するため、特権を与える代わりに税を納入させた。
- (イ) 水野忠邦は、上知令を出して、江戸・大坂周辺を幕府の領地にしようとした。
- (ウ) 井伊直弼は、物価を下げるために株仲間を解散させ、商人の力をおさえようとした。
- (エ) 徳川吉宗は、年貢を増やすために新田の開発につとめ、年貢の率を引き上げた。

問8 に入るものを次から選び、記号で答えなさい。

- (ア) 筑後            (イ) 日向            (ウ) 薩摩            (エ) 土佐

問9 下線⑦には、藩の支配下に入った琉球王国から、幕府に使節がたびたび送られました。以下の図は、その使節が江戸に向かっている様子を描いたものです。幕府は使節に異国風の服装をさせ、楽団に楽器を演奏させるなどしたため、多くの見物人が集まったとされています。使節団のこのような行列は、民衆を大いに楽しませましたが、幕府には別のねらいがありました。別のねらいとは何ですか、説明しなさい。



(「琉球人行列図錦絵」：琉球大学附属図書館蔵)

問10 下線⑧について、沖縄の伝統工芸品として正しいものを次から1つ選び、記号で答えなさい。

- (ア) 大島つむぎ      (イ) 紅<sup>びんがた</sup>型      (ウ) 友<sup>ゆうぜん</sup>禪      (エ) 有田焼

問11 下線⑨には、内閣制度が始まりました。初代内閣総理大臣は誰ですか、答えなさい。

問12 下線⑩の後、日本国憲法が制定されました。日本国憲法で初めて地方自治が規定されましたが、地方公共団体の仕事の内容として誤っているものを次から1つ選び、記号で答えなさい。

- (ア) 上下水道の整備      (イ) ゴミの処理      (ウ) 学校教育      (エ) 郵便の配達

問13 に入る数字を次から選び、記号で答えなさい。

- (ア) 1952      (イ) 1964      (ウ) 1972      (エ) 1989

問14 に入る数字を次から選び、記号で答えなさい。

- (ア) 35      (イ) 50      (ウ) 70      (エ) 85

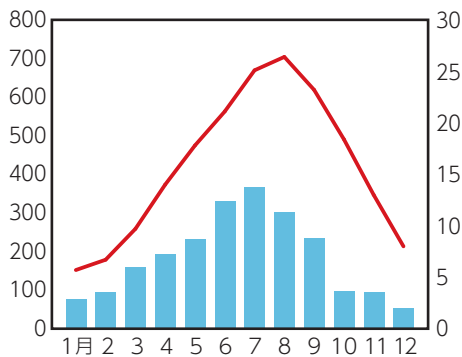
問15 下線⑪について、日本国憲法における平和主義の説明として誤っているものを次から1つ選び、記号で答えなさい。

- (ア) 核兵器を「もたない、つくらない、もちこませない」という非核三原則が憲法に明記されている。
- (イ) 憲法の前文には、「恒<sup>こうきゅう</sup>久の平和を念願し」、「平和のうちに生存する権利」があることがうたわれている。
- (ウ) 憲法第9条は「戦争放棄」、「戦力の不保持」、「交戦権の否認」を三原則としている。
- (エ) 集団的自衛権の行使については、憲法に明記されていない。

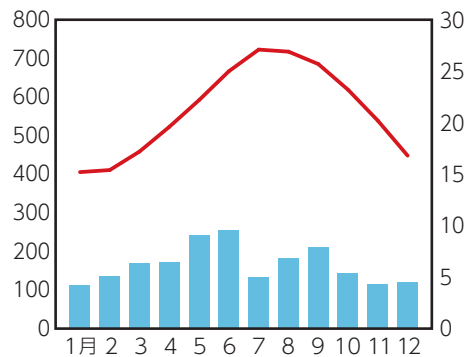
問16 下線⑫について、次の各問いに答えなさい。

(1) 次の図にある (ア)～(エ) は、沖縄本島、対馬、西表島、屋久島のいずれかの雨温図です。沖縄本島の雨温図を選び、記号で答えなさい。

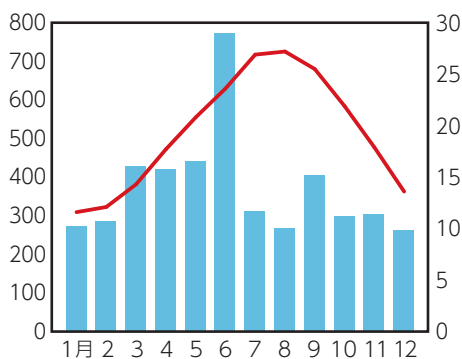
(ア)



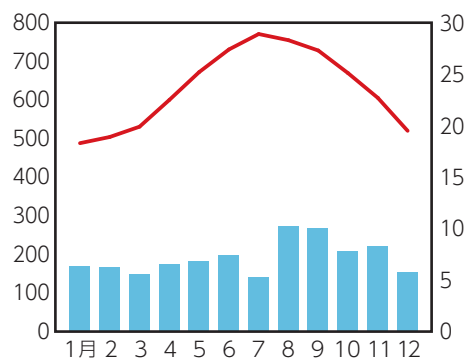
(イ)



(ウ)



(エ)



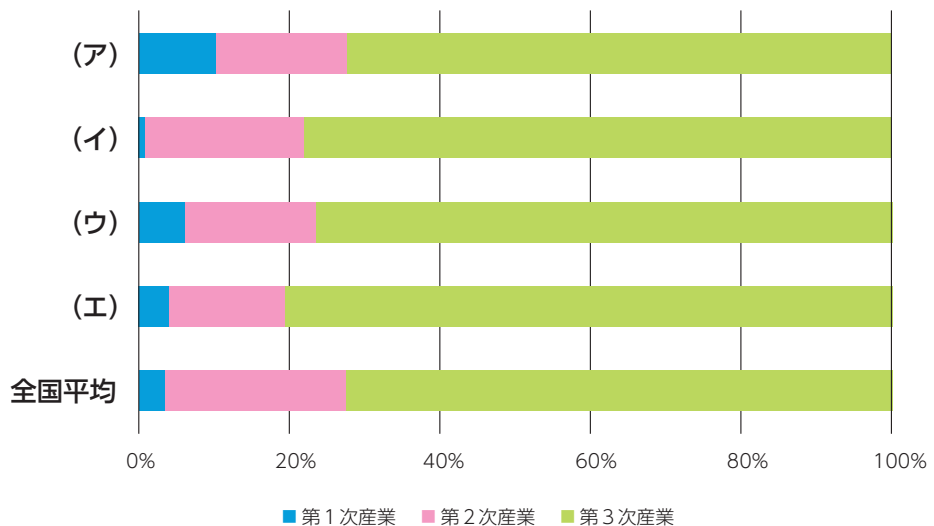
■ 降水量 (mm)    — 平均気温 (°C)

(気象庁ホームページより作成)

(2) 沖縄の住居は、その気候から、本州の住居とは異なる特徴<sup>とくちょう</sup>があります。沖縄の住居の特徴を説明した文として、誤っているものを次から1つ選び、記号で答えなさい。

- (ア) 洪水があっても家屋への出入りが出来るように、玄関の位置を2階にも設けている。
- (イ) 屋根の上に水道タンクが設置されている家が多くある。
- (ウ) 伝統的住居では、家のまわりを石垣や防風林で囲んでいる。
- (エ) 伝統的住居では、屋根のかわらをしっくい<sup>しっくい</sup>で塗り固めている。

問17 下線⑬について、次のグラフの（ア）～（エ）は、北海道・神奈川県・高知県・沖縄県の産業別の有業者割合を表しています。沖縄県のグラフを選び、記号で答えなさい。



（『データで見る県勢2020』より作成）

問18 下線⑭は代表的な工芸作物の一つです。工芸作物について説明した文として、誤っているものを次から1つ選び、記号で答えなさい。

- （ア）小豆は、北海道だけで栽培され、砂糖の原料となる。
- （イ）い草は、主に熊本県と福岡県で栽培され、たたみ表の材料となる。
- （ウ）こんにゃくいもは、群馬県で9割が生産されている。
- （エ）茶は、静岡県と鹿児島県で7割が生産されている。

問19 下線⑮について、沖縄で栽培される野菜や花卉は、飛行機を利用して本州などに出荷されています。輸送費の高い飛行機を利用しても、利益が出る理由として、最も正しいものを次から選び、記号で答えなさい。

- （ア）温暖でビニールハウスを利用しない栽培を行っているため、施設費がかからないから。
- （イ）本州では作ることのできない、めずらしい野菜や花のみが生産・出荷されているから。
- （ウ）沖縄県の産業（農業）振興<sup>しんこう</sup>のために、一次産品の輸送費用に対して、国から全額の助成金が出ているから。
- （エ）本州で出荷される時期よりも遅い時期の出荷なので、高値での取引が可能であるから。

問20 下線⑬について、次の会話を参考にして、後の各設問に答えなさい。

1

ブラジルの大規模な森林火災で、熱帯林が破壊され、多くの動植物が犠牲になっているニュースを見ました。森林火災の原因の一つに、焼畑農業があると聞きました。焼畑農業って何ですか？

2

焼畑農業とは、熱帯地方で昔から行われている農業方法だよ。森林や草原を焼いて、その灰を肥料にして、ヤムイモやタロイモなどの食料を栽培するんだ。

3

森林を焼くなんてひどい！大切な自然や貴重な動植物を守るためにも、焼畑農業を今すぐやめるべきだと思います！！

4

でもね、本来の「伝統的」な焼畑農業は、しっかりと土地を休ませることで、自然と共存もしてきたんだよ。

華子

晃じい

- (1) 世界の人口は増加傾向にあり、2050年までに100億人近くに達すると予測されています。このことは、晃じいが言う「伝統的」な焼畑農業が難しくなってきた原因の一つとされています。焼畑農業のやり方が、人口の増加によってどのように変化してきたと考えられますか、説明しなさい。

(2) 次の資料は、2015年に国連で採択された環境保護と経済の共存を目指す「持続可能な開発目標」(SDGs)です。これらの目標は、いずれも、人口が増加すると、その達成がより難しくなる可能性があります。次の6つの中から目標の番号を1つ選び、その達成が難しくなる理由を答えなさい。



(「国連広報センター」HPより)

得点(記入しないこと)	2021 年度 第 1 回入学試験解答用紙 (社会)	
	氏名	

受験番号	1	<input type="radio"/> 0	<input checked="" type="radio"/>	<input type="radio"/> 2	<input type="radio"/> 3	<input type="radio"/> 4	<input type="radio"/> 5	<input type="radio"/> 6	<input type="radio"/> 7	<input type="radio"/> 8	<input type="radio"/> 9
	0	<input checked="" type="radio"/>	<input type="radio"/> 1	<input type="radio"/> 2	<input type="radio"/> 3	<input type="radio"/> 4	<input type="radio"/> 5	<input type="radio"/> 6	<input type="radio"/> 7	<input type="radio"/> 8	<input type="radio"/> 9
		<input type="radio"/> 0	<input type="radio"/> 1	<input type="radio"/> 2	<input type="radio"/> 3	<input type="radio"/> 4	<input type="radio"/> 5	<input type="radio"/> 6	<input type="radio"/> 7	<input type="radio"/> 8	<input type="radio"/> 9
		<input type="radio"/> 0	<input type="radio"/> 1	<input type="radio"/> 2	<input type="radio"/> 3	<input type="radio"/> 4	<input type="radio"/> 5	<input type="radio"/> 6	<input type="radio"/> 7	<input type="radio"/> 8	<input type="radio"/> 9
		<input type="radio"/> 0	<input type="radio"/> 1	<input type="radio"/> 2	<input type="radio"/> 3	<input type="radio"/> 4	<input type="radio"/> 5	<input type="radio"/> 6	<input type="radio"/> 7	<input type="radio"/> 8	<input type="radio"/> 9

1									
問 1									
問 2	2020年		2050年						
問 3									
問 4									
問 5									
問 6	→ → →								
問 7		問 8							
問 9									
問10									
問11									
問12									
問13									
問14		問15							
問16	( 1 )		( 2 )						
問17		問18		問19					
問20	( 1 )								
	( 2 )	番号							