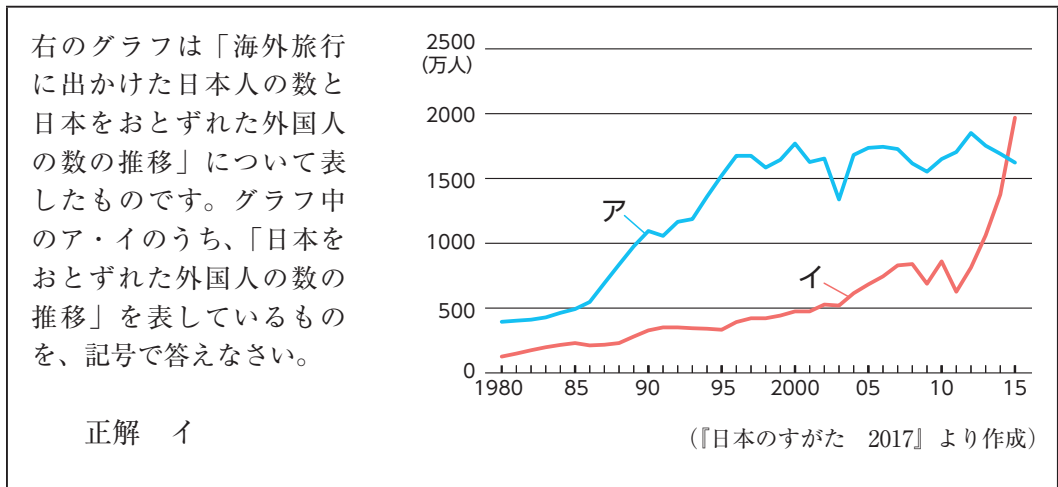


1 次の文章を読んで、後の各問いに答えなさい。

華子さんは、晃華学園中学校の過去の入試問題に取り組み、次の社会科の問題が気になりました。



日本を訪れた^{おとず}外国人の数は、2018年になってからも1～6月の上半期で、前年の同じ時期に比べて増加しています。そこで、華子さんは、どこの国・地域から日本を訪れているのか、日本のどの都道府県を訪れているのか、の2点について調べてみることにしました。

表1 日本を訪れた外国人の国・地域別内訳（2016年）

国・地域	日本を訪れた外国人の数（人）	割合（％）
①韓国	5,090,302	21.2
②中国	6,373,564	26.5
台湾	4,167,512	17.3
香港	1,839,193	7.7
③タイ	901,525	3.8
④オーストラリア	445,332	1.9
⑤アメリカ合衆国	1,242,719	5.2
⑥イギリス	292,458	1.2
その他	3,687,095	15.2
総計	24,039,700	100.0

（「日本政府観光局（JNTO）」のHPより作成）

表1から、日本を訪れた外国人は、中国と韓国で半数近くを占めていることが分かります。また、⑦台湾や香港を加えると、日本を訪れた外国人のうちの70%を超えています。そして、海外に出かけた日本人の訪問先を調べてみても、アメリカに次いで、中国、韓国、台湾が上位を占めています。このことから、海外旅行において、日本は近隣諸国・地域と結びつきが深いことが分かりました。

表2 日本を訪れた外国人の都道府県別訪問率ランキング（2016年）

都道府県	訪問率（％）
大阪府	44.7
⑧ <u>東京都</u>	44.5
⑨ <u>千葉県</u>	35.4
⑩ <u>京都府</u>	33.2
⑪ 県	10.6
愛知県	9.5
⑫ <u>北海道</u>	9.4
神奈川県	9.1
⑬ <u>奈良県</u>	8.4
⑭ <u>沖縄県</u>	8.4

（「日本政府観光局（JNTO）」のHPより作成）

次に、表2から、日本を訪れた外国人の半数近くが、大阪府や東京都を訪れていることが分かります。このことに興味をもった華子さんがさらに調べてみると、日本を訪れた外国人観光客にとって「ゴールデンルート」とよばれる⑮定番の旅行コースがあることが分かりました。このコースは、成田国際空港から入国して、まず東京周辺を観光し、次に箱根・富士山・名古屋などを経由して、最後に京都・奈良・大阪など関西を観光し、関西国際空港から帰国するという5～10日程度のものです。もちろん、逆の関西から関東に向かうものもあり、このゴールデンルート上にある都道府県が、上記の表2において7つを占めています。残り3つの都道府県は、ゴールデンルート上にはありませんが、それぞれ国際線が離発着する空港があります。そのことがこの3つの都道府県を訪れた外国人が多い一因になっていると分かりました。

華子さんは調べてみて、2020年には東京でオリンピック・パラリンピックが開かれるので、今後も日本を訪れる外国人の数は増え続けると思いました。そこで、⑯日本について学び、そのことを外国人に伝えることができるようになりたいと考えました。そして、おたがいを理解するために、⑰国際的に問題になっていることも含めて、外国についても学んでおく必要があると感じました。

問1 日本は下線①～⑥の国々とは、人の往来においてだけでなく、貿易においても深いつながりがあります。

(1) 次の文章の A ・ B には下線①～⑥の国のいずれかが当てはまります。当てはまる国名を、それぞれ①～⑥の番号で答えなさい。

日本は鉄鋼業の原料となる鉄鉱石と石炭を A から、農作物の小麦や大豆を B から最も多く輸入している。

(2) 次の表中の C ・ D ・ E には日本の貿易額上位3港(2016年)が入ります。その組み合わせとして、正しいものを下の(ア)～(カ)から1つ選び、記号で答えなさい。

貿易港	主な輸出品 (%)		主な輸入品 (%)	
<input type="text"/> C <input type="text"/>	金(非貨幣用)	8.1	通信機	14.3
	精密機械	6.6	医薬品	12.4
	半導体製造装置	4.1	集積回路	9.5
<input type="text"/> D <input type="text"/>	自動車部品	5.8	衣類	8.4
	コンピュータ部品	5.2	コンピュータ	5.1
	精密機械	4.9	魚と貝	4.5
<input type="text"/> E <input type="text"/>	自動車	26.6	衣類	7.8
	自動車部品	16.8	液化ガス	7.2
	内燃機関	4.0	石油	6.5

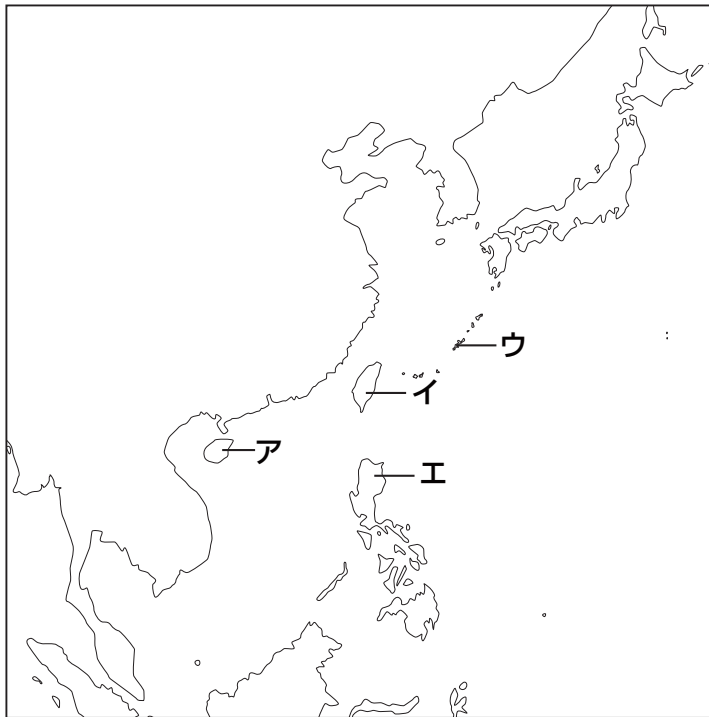
(『日本のすがた 2018』より作成)

- | | | |
|----------------|------------|------------|
| (ア) C : 成田国際空港 | D : 東京港 | E : 名古屋港 |
| (イ) C : 成田国際空港 | D : 名古屋港 | E : 東京港 |
| (ウ) C : 東京港 | D : 名古屋港 | E : 成田国際空港 |
| (エ) C : 東京港 | D : 成田国際空港 | E : 名古屋港 |
| (オ) C : 名古屋港 | D : 成田国際空港 | E : 東京港 |
| (カ) C : 名古屋港 | D : 東京港 | E : 成田国際空港 |

問2 下線②について、中国と日本の間では古くから交流がありました。下の国書を中国に持っていった人物は誰^{だれ}ですか、答えなさい。

日ののぼる国の天子が、日のしずむ国の天子に手紙を送ります。お元気ですか。

問3 下線⑦の位置を下の地図中のア～エから1つ選び、記号で答えなさい。



問4 下線⑧について、現在、多くのレジャー施設やテレビ局のある「お台場」の名前の由来は「砲台場」です。次の年表を参考にしながら、この頃「砲台」が作られた目的を答えなさい。

年表

1853年	7月	台場建設の計画立案
1854年	4月	3基の台場が完成
1854年	12月	2基の台場が完成

問5 下線⑨について、千葉県内にない自然環境を次から1つ選び、記号で答えなさい。

- (ア) 九十九里浜 (イ) 利根川 (ウ) 房総半島 (エ) 八ヶ岳

問6 下線⑩について、次の各設問に答えなさい。

(1) 外国人観光客が京都府を訪れる目的の一つに伝統工芸の体験があります。京都の伝統工芸として正しいものを次から1つ選び、記号で答えなさい。

(ア) 南部鉄器 (イ) 輪島塗 (ウ) 伊万里焼 (エ) 西陣織

(2) 外国人観光客の訪問先として人気のある、平等院鳳凰堂を作った人物は誰ですか、答えなさい。

(3) 外国人観光客の訪問先として人気のある、銀閣に関する説明として正しいものを次から1つ選び、記号で答えなさい。

(ア) 銀閣は、東山にある建物で、禅宗の^{えいきょう}影響を受けた大仏様という建築様式で建てられている。

(イ) 銀閣のとなりにある^{とうく どうどうじんさい}東求堂同仁斎は、ふすまやガラスで空間を仕切る、書院造を取り入れている。

(ウ) 銀閣を作った人物は、明との間で勘合貿易を開始した。

(エ) 銀閣を作った人物が将軍であった時代に、将軍家のなかで対立が発生した。

問7 表2の ⑪ に当てはまる県名を、問題文と次の統計を参考にして答えなさい。

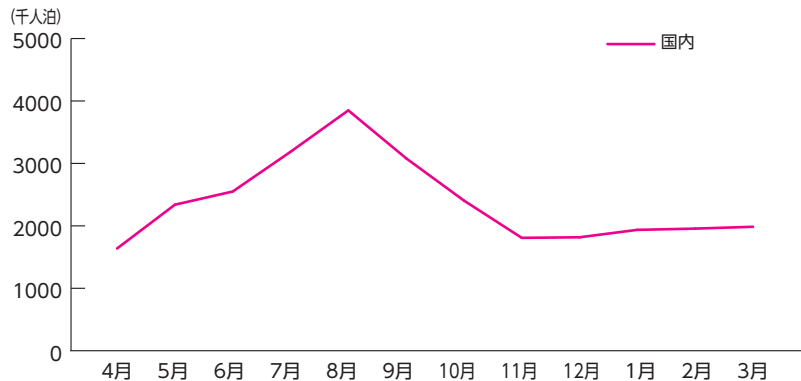
国際線の乗降客数の多い上位5空港 (2016年)

空港名	国際線 (万人)	国内線 (万人)
成田国際空港	3,004	721
関西国際空港	1,904	657
東京国際 (羽田) 空港	1,564	6,609
中部国際空港	522	573
⑪ 空港	518	1,714

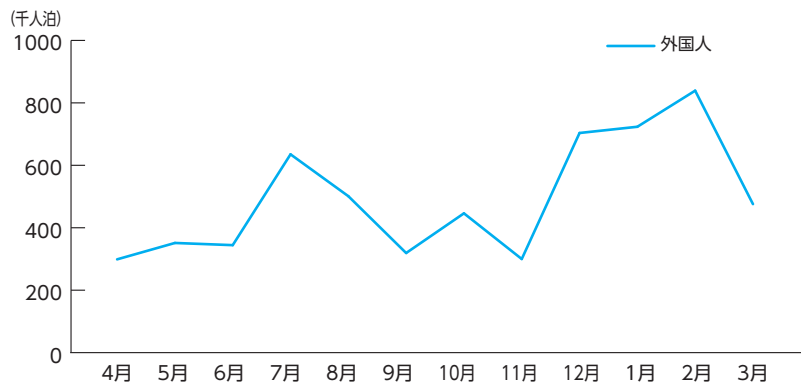
(『日本のすがた 2018』より作成)

問8 下線⑫について、次のグラフを見ると北海道への訪問客数に季節的な偏り^{かたよ}があることが分かります。国内の宿泊者と外国人の宿泊者の季節的な偏りについて、自然環境や気候と関連付けて説明しなさい。

月別 国内宿泊客数 (2015年度)



月別 外国人宿泊客数 (2015年度)



(「北海道経済部観光局」のデータより作成)

問9 下線⑬について、外国人観光客の訪問先として人気のある、東大寺の歴史に関する次の出来事^{できごと}を、年代順に記号で並べなさい。

- (ア) 源平合戦の最中、平家の平重衡^{たいらのしげひら}により焼き打ちにされた。
- (イ) 再建された際に、東大寺南大門に金剛力士像^{よしてる}が作られた。
- (ウ) 室町幕府13代将軍、足利義輝^{よしてる}を暗殺した松永久秀^{ひさひで}により、焼失した。
- (エ) 社会の不安を解決するため、聖武天皇により建てられた。

問10 下線⑭について、次の各設問に答えなさい。

- (1) 下の写真は、沖縄県で多くの観光客が訪れる首里城です。首里城は、かつて沖縄にあった王国の王宮でした。この王国の名前は何ですか、答えなさい。



- (2) 太平洋戦争が終結してからしばらくの間、東京から沖縄へ旅行をする際にはパスポートが必要でした。その後、ある協定により、現在のようにパスポートが不要になりました。この協定は何ですか、答えなさい。

問11 下線⑮について、江戸時代には旅が流行しましたが、その中でも伊勢神宮（三重県）への旅行は人気で、民衆は「一生に一度は伊勢神宮に行きたい」と考えたようです。江戸に住む人は伊勢神宮に旅行する際、行きと帰りで異なる街道を使っていました。五街道のうち、どの二つの街道を使っていたと考えられますか、下の資料を参考に答えなさい。

資料 江戸時代に人気であった観光地

江の島	(神奈川県)
田子の浦	(静岡県)
琵琶湖	(滋賀県)
本願寺	(京都府)
善光寺	(長野県)
草津温泉	(群馬県)
妙義山	(群馬県)

問12 下線⑬について、徳島県を外国人観光客に説明する簡単なカードを作りました。そのカードの内容として誤っているものを1つ選び、記号で答えなさい。

潮の満ち引きのときにおこる鳴門海峡のうず潮は有名です。

(ア)

「四国三郎」とよばれる吉野川では自然を活かしたレジャーを楽しめます。

(イ)

明石から淡路島を通るしまなみ海道によって関西圏とつながっています。

(ウ)

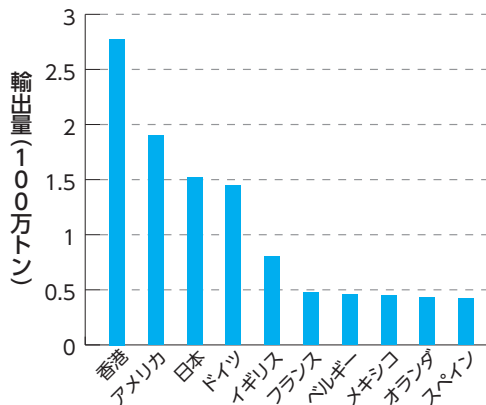
徳島県を発祥^{はっしょう}とする伝統芸能の阿波踊りはよく知られています。

(エ)

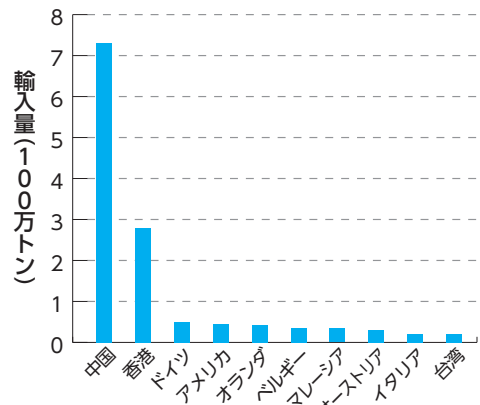
問13 下線⑰の一つに、プラスチックごみの移動に関わる問題があります。

- (1) 下のグラフは、プラスチックごみの輸出量と輸入量のグラフです。この2つのグラフから読み取れることとして、正しいものを次から1つ選び、記号で答えなさい。

プラスチックごみ輸出量が
上位の国と地域 (2016年)



プラスチックごみ輸入量が
上位の国と地域 (2016年)



(「RACONTEUR, Biggest plastic importers and exporters in the world.」より作成)

- (ア) 世界で最も多くプラスチックごみを輸出しているのは日本である。
 (イ) アメリカのプラスチックごみの輸入量は、輸出量を上回っている。
 (ウ) ヨーロッパでプラスチックごみの輸出が最も少ないのはドイツである。
 (エ) 中国は、世界で最も多くプラスチックごみを輸入している。
- (2) プラスチックごみの削減^{さくげん}に取り組むことは、すべての人間が快適に暮らす権利を守ることに繋がります。日本国憲法には明記されていない、この権利は何ですか、答えなさい。
- (3) プラスチックごみは、自然に大きなダメージを与えています。プラスチックごみを減らす取り組みとして、最も効果^{うす}が薄いものを次から1つ選び、記号で答えなさい。
 (ア) ペットボトル飲料^{いんりょう}を買わず、水筒を持ち歩く。
 (イ) スーパーマーケットなどでビニール袋をもらわず、マイバッグを持ち歩く。
 (ウ) シャンプーを買うときは、ボトルではなく、ビニール製の詰め替え用の商品を買う。
 (エ) 飲食店で飲み物を買うときは、プラスチック製ストローを受け取らない。

- (4) 国連は、2030年までに世界が達成すべき17の目標として「持続可能な開発目標」(SDGs)を掲げています。なかでも、下の4つの目標は、プラスチックごみがあることによってその達成が妨げられているものです。この4つの中から目標の番号を1つ選び、プラスチックごみがあることによって、その目標の達成がどのように妨げられているのか、説明しなさい。



【安全な水とトイレを世界中に】

すべての人がきれいで安全な水とトイレを使えるようにする



【気候変動に具体的な対策を】

地球温暖化が改善されるように、具体的な行動を起こしていく



【海の豊かさを守ろう】

海や、魚などの海の資源を、次世代の人たちも利用できるようにする



【陸の豊かさを守ろう】

陸上の生き物や、木などの陸上の資源も次世代の人たちが利用できるようにする

(「国連広報センター」HPより作成)

2019 年度 第 1 回入学試験解答用紙（社会）

※の欄には何も記入しないこと

※

受験番号		氏名	
------	--	----	--

1

問 1	(1)	A		B		(2)		
問 2								
問 3								
問 4								
問 5								
問 6	(1)			(2)			(3)	
問 7				県				
問 8								
問 9	→ → →							
問10	(1)	王国			(2)	協定		
問11							
問12								
問13	(1)			(2)			(3)	
	(4)	番号						