

1 次の文章を読んで、後の各問いに答えなさい。

2013年9月、2020年の東京オリンピック・パラリンピック（以下、東京オリンピックと表記）開催が決定しました。2016年、1 のリオデジャネイロで開かれていたオリンピックの閉会式では、都知事が①オリンピック旗を引き継ぎ、キャラクターにふんした②首相が登場する演出が話題となりました。オリンピックが東京で開かれるのは③1964年以来、2度目のこととなります。また、アジアにおける夏季オリンピックの開催は、2008年の④北京オリンピック以来12年ぶりです。⑤日本におけるオリンピック開催は、夏季・冬季を合わせると4度目となります。

しかし、1940年に東京でオリンピックが開催される予定がありました。東京は、1923年の⑥震災で大きな被害を受け、その後復興していきました。震災からの復興を示すためにも、東京は1931年に、オリンピック招致の活動を開始しました。その後、1936年にオリンピック招致に成功すると、⑦徳川家達を委員長とするオリンピック東京大会組織委員会が発足し、オリンピック開催のための準備が進められました。オリンピック開催の準備には、⑧軍部が強く影響を与えました。そして、招致成功から2年経った1938年、⑨日本政府はオリンピックの開催を辞退しました。この結果、アジアで初めてのオリンピックの開催は、1964年まで待たねばなりませんでした。

私たちが現在「オリンピック」と言っているものは、古代ギリシャの都市オリンピアで行われていた祭典を復活させた近代オリンピックのことで、第1回大会は1896年にギリシャのアテネで開かれました。オリンピックは、世界最大規模の⑩スポーツイベントであると同時に、社会や経済活動に大きな影響を与えるものです。

また同じ頃には、国際的な協力・連携が進み、今日にも続く、私たちになじみのある国際的なイベントが始まりました。1851年、各国の産業・技術・文化を紹介する国際事業として、⑪イギリスのロンドンで第1回万国博覧会（国際博覧会）が開かれました。そして、⑫日本で初めて万国博覧会が開催されたのは、1970年の⑬大阪でした。現在、大阪は2025年の万国博覧会の開催地に立候補し、2 のパリ、ロシアのエカテリンブルク、アゼルバイジャンのバクーの4都市が競合しています。予定では、2018年に開催地が決定します。また、2024年のオリンピックについても、2 のパリとアメリカのロサンゼルスが候補となっていました、パリに決まりました。

私たちは今、2020年の東京オリンピックを迎えるにあたって、開催までの間に解決しなければならない現実的な問題に直面しています。テロ対策などの安全の確保はできるか、莫大にかかる費用をどのように負担していくか、さまざまな施設の建設にともなう環境問題への対応は十分であるか、などが挙げられます。

また、私たちは⑭「レガシー」という言葉をよく耳にします。レガシーとは、オリンピックなどの開催により開催都市や開催国が、長期にわたって受け継いでいくことができる、社会的・経済的・文化的な遺産を意味しています。東京都は「2020年に向けた東京都の取組～大会後のレガシーを見据えて～」(2015年)で8つのテーマを掲げて推進しています。また、公益財団法人東京オリンピック・パラリンピック競技大会組織委員会も「東京2020 アクション&レガシープラン2017」(2017年)で5つの柱を立てて進めています。

これらの内容として、例えば、⑮都市環境について取り上げられ、⑯持続可能な大会や社会を目指していくことが述べられています。また、経済面については、オリンピックにともなうイベントの開催や、⑰東京を訪れる外国人観光客の増加などによる大きな経済効果が期待され

ています。そして、2020年は東日本大震災から10年目にあたり、オリンピックを通して被災地が復興に歩む姿を世界に発信することも述べられています。

私たちがこのレガシーについて考えてみると、オリンピックの結果として偶然^{ぐうぜん}に生まれてくるものではないことに気づくはずで、このような時代に生きる皆さん^{みな}は、現実的な問題への対応やレガシーの実現に向けて、晃華学園の生徒となることができるのではないのでしょうか。

問1 1 ・ 2 にあてはまる国名を答えなさい。

問2 下線①には、5つの大陸の団結とオリンピックで世界中の選手が集まることを表現する、5つの結び合う輪^{えが}が描かれています。2018年現在、オリンピックが開催されていない大陸として正しいものを次から1つ選び、記号で答えなさい。

- (ア) 北アメリカ大陸 (イ) 南アメリカ大陸
(ウ) アフリカ大陸 (エ) ユーラシア大陸

問3 下線②について、この首相は山口県選出の国会議員でもあります。山口県に関する説明として誤っているものを次から1つ選び、記号で答えなさい。

- (ア) 内陸部には、石灰岩が水に溶^とけて、すりばち状のくぼ地となる日本最大のカルスト地形で知られる秋吉台がある。
(イ) 気候は、大部分が瀬戸内の気候で雨が少ないため、東部には日本最大のため池である満濃池がある。
(ウ) 源頼朝の弟である義経は、1185年、壇ノ浦の戦いで平氏をほろぼした。
(エ) 江戸時代に長州藩^{えが}があり、幕末には高杉晋作や木戸孝允が倒幕運動^{たうもくうんどう}で活躍した。

問4 下線③は、高度経済成長の時期にあたります。この時期の出来事^{できごと}に関する説明として正しいものを次から1つ選び、記号で答えなさい。

- (ア) この時期に、「三種の神器」とよばれる白黒テレビ・電気冷蔵庫・自動車が普及^{ふきゅう}した。
(イ) この時期に、熊本県の水俣病や富山県のイタイイタイ病など公害病が深刻化した。
(ウ) 1960年代の日本の産業は、重化学工業に代わって、繊維^{せんい}などの軽工業が発展した。
(エ) 1960年代に日本の国民総生産（GNP）は、資本主義諸国の中で第1位となった。

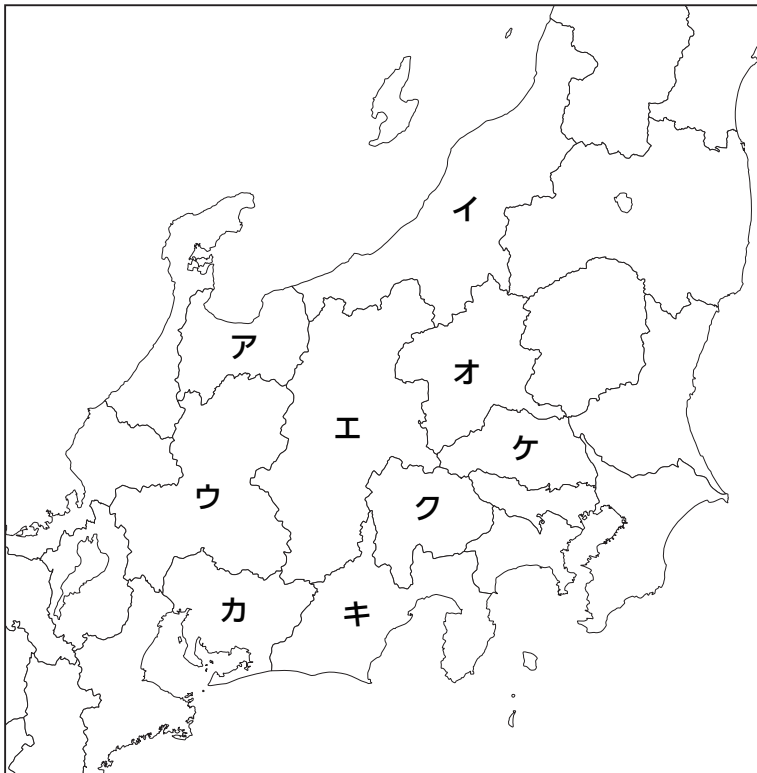
問5 下線④は、中華人民共和国の首都で、北緯39度に位置しています。この緯度に最も近い日本の都市を次から1つ選び、記号で答えなさい。

(ア) 札幌 (イ) 秋田 (ウ) 東京 (エ) 鹿児島

問6 下線⑤について、1998年には長野で冬季オリンピックが開かれました。次の(1)・(2)の文章は、長野県および隣接^{りんせつ}県の農業について説明したものです。文章の説明にあてはまる県を地図の中からそれぞれ選び、記号で答えなさい。

- (1) 近郊農業がさかんで、キャベツの生産は全国1位(2015年)である。

(2) 台地を中心に、工芸作物である茶の生産は全国1位(2015年)である。



問7 下線⑥について、次の各設問に答えなさい。

(1) 1923年の震災とは、大正時代に起きた関東大震災のことです。大正時代の出来事に関する説明として正しいものを次から1つ選び、記号で答えなさい。


(ア) 講和条約の締結に反対する集会が東京で起こり、新聞社や警察署、教会を焼き打ちにする事件に発展した。


(イ) 議会の開設を求める動きが活発化し、政府は10年後に議会の開設することを約束した。


(ウ) 普通選挙法の制定と同時に、社会主義運動や労働運動を厳しく取り締まるための法律も制定された。


(エ) アメリカが日本を守ることを明確にする条約を総理大臣が結んだが、この条約に対する激しい反対運動が発生した。

(2) 2011年には、東日本大震災によって東京電力福島第一原子力発電所が津波に襲われ、大きな被害を受けました。発電所を表わす地図記号を次から1つ選び、記号で答えなさい。

(ア) 

(イ) 

(ウ) 

(エ) 

問8 下線⑦は、徳川家の16代当主ですが、15代当主で、江戸幕府の最後の将軍となった人物は誰ですか、答えなさい。

問9 下線⑧について、1936年に起きたある事件をきっかけに、オリンピック開催の準備に、軍部が強く影響を与えていきました。この事件は何ですか、答えなさい。

問10 下線⑨について、東京は新たにスタジアムを建設する必要がありました。ところが、1937年に始まった出来事をきっかけに、新たなスタジアムを建設することができなくなりました。1937年に始まった出来事を明らかにしながら、スタジアムを建設することができなくなった理由を説明しなさい。


問11 下線⑩について、日本でスポーツという外来語が定着したのは、大正時代だといわれています。しかし、スポーツという言葉が定着する前から、あるルールの中で体を動かす遊びが、日本でも行われていました。その一つが「蹴鞠」です。次の蹴鞠に関する文章を読んで、次の各設問に答えなさい。

蹴鞠は、革製の「鞠」を地面に落とさないように、数人でけり上げ続ける遊びで、中国から日本に伝わりました。『日本書紀』によれば、644年、④中大兄皇子が蹴鞠をした際、靴が脱げてしまったことが記されており、飛鳥時代には蹴鞠が伝わっていたという説の根拠になっています。この他にもさまざまな説がありますが、⑤藤原氏が政治の実権を握っていた10世紀には確実に蹴鞠が行われていたようで、貴族の間で親しまれるようになっていきました。⑥貴族は自身の屋敷に専用の練習場を作り、練習を行っていました。

⑦鎌倉時代以降、蹴鞠は貴族の間だけでなく、武士の間でも親しまれるようになり、室町幕府の三代將軍⑧足利義満も、蹴鞠を好んだようです。しかし、⑨織田信長が相撲を好んだことにより、その人気は次第に低下していきました。

- (1) 下線④について、『日本書紀』には、中大兄皇子の脱げた靴を、ある人物が拾ったことをきっかけに、中大兄皇子とこの人物が仲良くなったことが記されています。中大兄皇子はこの人物とともに、天皇中心の国づくりを目指して、蘇我氏を倒しました。中大兄皇子の靴を拾ったこの人物の名前と、中大兄皇子とこの人物が行った政治改革の名称を答えなさい。
- (2) 下線⑤について、藤原氏が政治の実権を握っていたのは平安時代です。平安時代に起こった次の出来事を、年代順に記号で並べなさい。
- (ア) 「この世をば わが世とぞ思う 望月の かけたることも なしと思えば」という和歌がよまれた。
- (イ) 坂上田村麻呂が征夷大將軍に任命され、東北に住む蝦夷の平定が進んだ。
- (ウ) 白河天皇が天皇の位をゆずり、上皇として政治を行う院政が始まった。
- (エ) その当時、権力を握っていた人物が平等院鳳凰堂を建てた。
- (3) 下線⑥について、平安時代の貴族の屋敷は何という建築様式ですか、答えなさい。
- (4) 下線⑩について、この時代の農民に関する説明として正しいものを次から1つ選び、記号で答えなさい。
- (ア) 農民は朝廷から土地を与えられる代わりに、地方の特産物や麻の布を、自分の力で都まで運び、税として納めた。
- (イ) 朝廷が国司の権力を強めたため、農民は国司からの不正な税の取り立てに苦しんだ。
- (ウ) 農業技術が向上し、草木灰が肥料として使われ、西日本では二毛作が行われるようになった。
- (エ) 農民たちは寄合を開き、村おきてをつくり、自分たちで村を運営した。

(5) 下線⑤は、明と貿易を行いました。この貿易では、右の図のような札が使われていました。この札の名称と、この札を使用した目的を説明しなさい。



(6) 下線⑥が、琵琶湖のほとりに建てた城の名前は何ですか、答えなさい。

問12 下線⑪では、2016年、国民投票の結果、ある国際組織から離脱することが決まりました。この国際組織として正しいものを次から1つ選び、記号で答えなさい。

- (ア) EC (イ) ASEAN
(ウ) EU (エ) UN

問13 下線⑫について、ここ数年、日本の遺産が、世界遺産（文化遺産・自然遺産）に登録される状況が続いています。2017年に登録された世界遺産がある都道府県はどこですか、答えなさい。

問14 下線⑬は、阪神工業地帯に含まれています。次の(ア)～(エ)の表は、阪神工業地帯、京浜工業地帯、中京工業地帯、関東内陸工業地域の工業出荷額を表したものです。阪神工業地帯の工業出荷額を表したものを1つ選び、記号で答えなさい。

機械工業	112,812億円	35.6%
金属工業	67,934億円	21.4%
化学工業	56,068億円	17.7%
食料品工業	34,557億円	10.9%
プラスチック製品	11,738億円	3.7%
その他	33,827億円	10.7%
合計	316,936億円	100.0%

(ア)

機械工業	121,557億円	46.5%
化学工業	53,179億円	20.3%
食料品工業	26,837億円	10.3%
金属工業	22,946億円	8.8%
印刷業	12,538億円	4.8%
その他	24,537億円	9.3%
合計	261,594億円	100.0%

(イ)

機械工業	133,278億円	45.6%
食料品工業	44,311億円	15.1%
金属工業	34,678億円	11.9%
化学工業	27,596億円	9.4%
プラスチック製品	16,807億円	5.7%
その他	35,901億円	12.3%
合計	292,571億円	100.0%

(ウ)

機械工業	363,895億円	66.7%
金属工業	55,105億円	10.1%
化学工業	43,567億円	8.0%
食料品工業	25,455億円	4.7%
プラスチック製品	19,140億円	3.5%
その他	38,498億円	7.0%
合計	545,660億円	100.0%

(エ)

(『日本のすがた 2017』より作成)

問15 下線⑭について、問題文中のレガシーという言葉の意味をふまえて、1964年の東京オリンピックによる交通面のレガシーを2つ挙げなさい。

問16 下線⑮について、左下の写真は晃華学園中学校がある調布市の様子、右下の写真はイギリスのロンドンの様子を撮ったものです。



- (1) わたしたちの生活にとって不可欠なものが、左の写真の路上にはあり、右の写真の路上にはありません。それは何であり、右の写真ではどこにありますか、説明しなさい。
- (2) 右の写真のようになっていると、どのような利点があるのでしょうか。その利点を2つ挙げて、説明しなさい。

問17 下線⑬について、今日、私たちは「持続可能な開発（Sustainable Development）」という言葉をよく耳にします。2015年に国連で採択された「持続可能な開発のための2030アジェンダ」においても、17の持続可能な開発目標（SDGs）がたてられました。次の（ア）～（ウ）の世界が抱える課題は、下の資料の「持続可能な開発目標」（SDGs）のどれと対応するのかそれぞれ選び、A～Cの記号で答えなさい。

- （ア）2030年までに都市部の人口は世界人口のほぼ60%を占めることになる。
 （イ）世界の10億人以上が真水を飲むことができず、毎年30億トンの食料が捨てられている。
 （ウ）開発途上地域では、適切な医療を受けられる女性が全体の半分にすぎない。

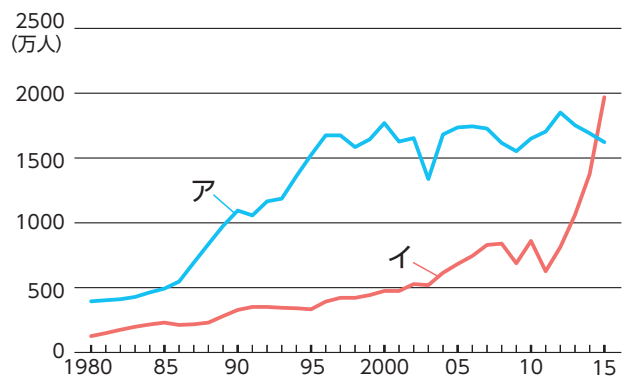
資料 「持続可能な開発目標」(SDGs) のアイコン



(国連広報センターホームページより)

問18 下線⑭について、次の各設問に答えなさい。

- (1) 右のグラフは「海外旅行に出かけた日本人の数と日本をおとずれた外国人の数の推移」について表したものです。グラフ中のア・イのうち、「日本をおとずれた外国人の数の推移」を表しているものを、記号で答えなさい。



(『日本のすがた 2017』より作成)

(2) 外国人観光客にも分かりやすいシンプルなデザインのピクトグラムとよばれるマークがあります。ピクトグラムは、1964年の東京オリンピックで本格的に導入され、右の図のように競技種目や公共施設などを表すために現在も使われています。2020年の東京オリンピックでも世界中の人々が集まるため、宗教に関する新しいピクトグラムの導入も期待されます。

そこで、世界三大宗教のなかから「キリスト教」以外の宗教のピクトグラムを考えて描きなさい。また、あなたが選んだ世界宗教の名称を答え、そのピクトグラムが意味する内容を説明しなさい。

図 さまざまなピクトグラム



(交通エコロジー・モビリティ財団ホームページより)

(3) 資料1は、持続可能な開発目標(SDGs)の一つである「ジェンダー平等を実現しよう」というアイコンです。ジェンダーとは、社会的・文化的につくり上げられた性別に対するイメージのことで、このアイコンはその決めつけられたイメージから自由になることを求めています。


資料2は、私たちが日常でよく目にするトイレのピクトグラムですが、ジェンダーの視点から問題が指摘されることがあります。資料2の何が問題とされるのか、考えて説明しなさい。

資料1



(国連広報センターホームページより)

資料2



(交通エコロジー・モビリティ財団ホームページより)

2018 年度 第 1 回入学試験解答用紙（社会）

※の欄には何も記入しないこと

受験番号		氏名	
------	--	----	--

※

1

問 1	1				2									
問 2			問 3			問 4			問 5					
問 6	(1)			(2)			問 7	(1)			(2)			
問 8					問 9									
問10														
問11	(1)	人物名				改革の 名称								
	(2)	→ → →												
	(3)					(4)								
	(5)	名称												
		目的												
	(6)													
問 12			問13					問 14						

※

※問15～問18の解答欄は裏面にあります。

問15						
問16	(1)					
	(2)					
問17	(ア)		(イ)		(ウ)	
問18	(1)					ピクトグラム
	(2)	宗教				
		説明				
	(3)					

