

2017年度
晃華学園中学校

第1回
入学試験問題

【 社 会 】

時間：35分
配点：75点

答えはすべて解答用紙に記入すること。

問題は次のページから始まります。

1 次の「人の移動に関する歴史」をまとめた文章を読んで、後の各問いに答えなさい。

【人の移動と文化】

人の移動は文化に影響^{えいきょう}を与えます。日本列島と大陸の間を人々が移動することによって、さまざまな文化が大陸から日本列島に伝わってきました。例えば、4世紀以降、大陸から日本列島に多くの人々が移り住んで来ました。①彼らは渡来人とよばれ、仏教などのさまざまな文化を伝えました。隋や唐があった時代には、遣隋使や遣唐使^{はけん}が派遣されました。帰国した遣隋使や遣唐使は大陸の文化を伝えました。894年に遣唐使の派遣が停止されると、②国風文化とよばれる日本独自の文化が栄えました。

【人の移動と戦争】

人の移動は戦争とも関係しています。③元寇の際には、大陸から九州へ十数万人の人々が襲^{しゅうらい}来し日本軍と戦いました。秀吉が行った□1出兵の際には、日本から十数万人の人々が大陸に送り込まれました。

【人の移動と都市、農村】

日本国内での人の移動を見てみましょう。江戸時代、飢饉^{ききん}がおきると貧しい農民は出稼^{でかせ}ぎのために都市に移り住みました。これに関して、④松平定信は自身の著作の中で、農村の人口が減少していることを書いています。

明治時代になってからも、農村から都市に人々が移り住んでいきました。日清戦争の前後に軽工業が発展する際、都市にある繊維産業^{せんい}の工場で働いていたのは⑤貧しい農家出身の女性でした。彼女たちは、安い賃金で長時間働くなど、厳しい環境で働いていました。日露戦争後に重工業が発展する際には、農家の男性が都市に移り住んでいきました。こうして、⑥大正時代になると⑦都市に人口が集中することになりました。

その後、第二次世界大戦中に本土空襲が激しくなると、1944年から都市に住む多くの子どもが、農村に避難^{ひなん}する□2が始まりました。この結果、農村から都市に人が移動する流れが一時的に逆転しました。

問1 □1・□2にあてはまる語句を答えなさい。

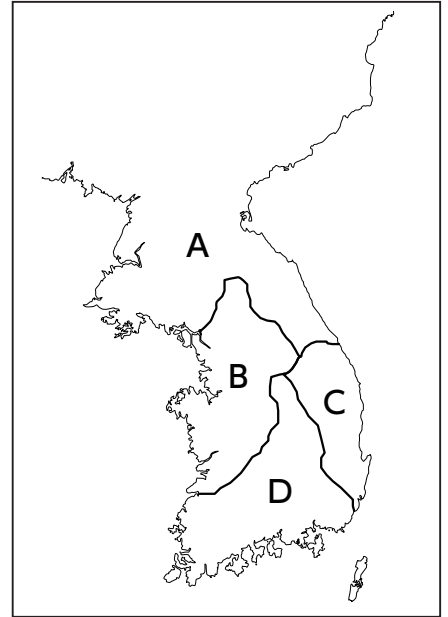
問2 下線①について、次の各設問に答えなさい。

(1) 日本列島に仏教を伝えた渡来人は、何という国からやって来たのか、その国名を答えなさい。また、その国の位置として正しいものを、右の地図の中から1つ選び、記号で答えなさい。

(2) 6世紀に、蘇我馬子が建てた寺院の名前を答えなさい。

問3 下線②として正しいものを次から1つ選び、記号で答えなさい。

- (ア) 最澄が天台宗を伝えた。
- (イ) 清少納言が『源氏物語』を書いた。
- (ウ) 源頼朝像と伝わる似絵が描かれた。
- (エ) 貴族は寝殿造の屋敷に住んでいた。



問4 下線③について、次の各設問に答えなさい。

(1) 元寇の時の執権は誰ですか、答えなさい。

(2) 元寇の後、鎌倉幕府は永仁の徳政令を出しました。鎌倉幕府が永仁の徳政令を出した理由を、元寇が御家人に与えた影響に触れながら説明しなさい。

問5 下線④について、松平定信が行った政治の説明として正しいものを次から1つ選び、記号で答えなさい。

- (ア) 商人の力を利用して幕府の収入を増やそうと考え、株仲間の結成を認める代わりに税を納めさせた。
- (イ) 長崎貿易で輸入品の支払いのために金銀が大量に流出していたので、貿易の制限を行った。
- (ウ) 凶作が起きた際の飢饉に備えて囲米の制を定め、大名に米を蓄えさせた。
- (エ) 財政難に対応するために上げ米の制を定め、大名に石高1万石につき100石の米を納めさせた。

問6 下線⑤について、自分の土地を手放し、地主から土地を借りて農業を行う貧しい農民を何といいますか、答えなさい。

問7 下線⑥に起こった出来事を、年代順に記号で並べなさい。

- (ア) 富山県の主婦たちが暴動を起こし、その後全国的に米屋がおそわれた。
- (イ) 立憲政友会の総裁が首相となり、日本で初めて本格的な政党内閣が誕生した。
- (ウ) サラエボで、オーストリア皇太子がセルビア人の青年によって殺された。
- (エ) 輸出が輸入を上回り、それまでにない好景気が始まった。

問8 下線⑦について、次の各設問に答えなさい。参考資料の統計を見ると、1908年から1925年にかけて、大森町や羽田町では人口の増加があまり見られませんでした。一方で、渋谷町や中野町では人口が増えていました。

参考資料 渋谷町、中野町、大森町、羽田町の人口の変化

	1908年	1913年	1920年	1925年
渋谷町	27203人	62773人	88799人	99022人
中野町	10042人	13137人	21875人	60962人
大森町	13738人	16642人	19501人	32014人
羽田町	13318人	14985人	14546人	17220人

(『帝国統計年鑑』より作成)

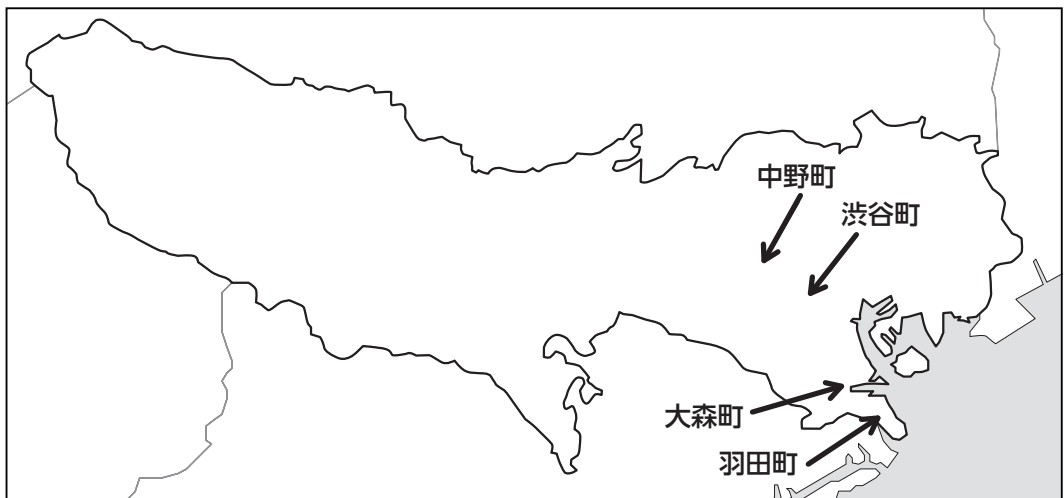
- (1) 参考資料に示されている時期から、東京の南東部から横浜にかけての地帯には、重工業の工業施設が集中しました。現在、この工業地帯を何とよんでいますか、答えなさい。
- (2) 中野町や渋谷町の人口が増加した理由を、資料1の広告と資料2の地図を参考に、(1)と関連付けて説明しなさい。

資料1 中野町に隣接する住宅地の広告

目白文化村は、お客様の趣味と健康を第一に計画しました。高台にあるこの村には、自然林があり、富士山も見え、恵まれた環境になっています。お子様の健やかな成長を望む方にとって、目白文化村の生活はたいへん有意義なものとなります。

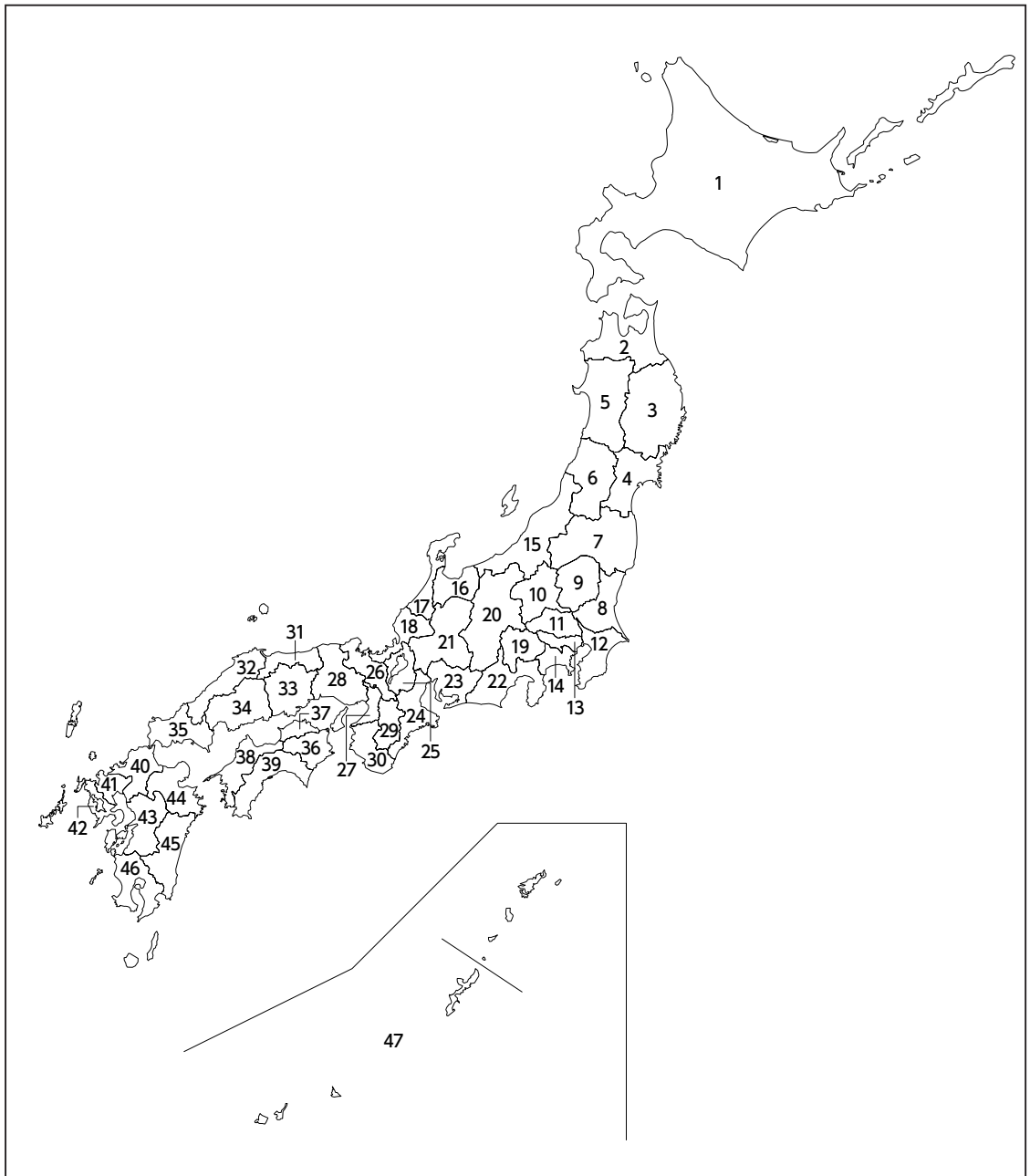
(「目白文化村(広告)」より作成)

資料2 渋谷町、中野町、大森町、羽田町の位置



2 2016年に起こった出来事について、後の各問いに答えなさい。

問1 3月9日、大津地方裁判所は、関西電力高浜原子力発電所3・4号機に対し、運転差し止めを命じました。この原子力発電所がある都道府県名を答えなさい。また、その都道府県の位置として正しいものを、下の日本地図の中から1つ選び、番号で答えなさい。



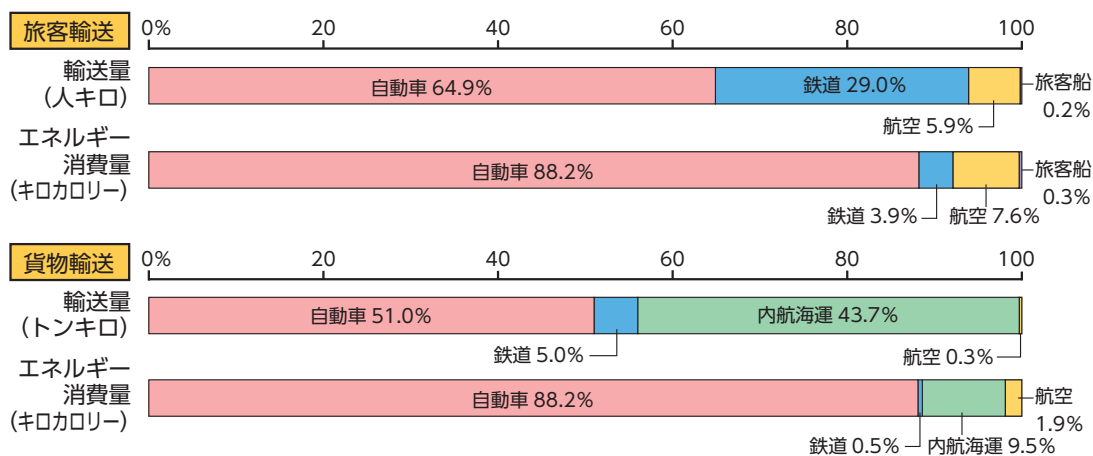
問2 3月26日、北海道新幹線が開通しました。これにより東京から北海道まで、最短4時間2分で行くことができるようになりました。

(1) 最も速く北海道に着くことができる「はやぶさ」の停車駅を五十音順に並べると、「大宮・新青森・新函館・仙台・東京・盛岡」となります。これらを東京から停車する順番に並べなさい。

(2) (1) で並べた順番に、それぞれの駅がある都道府県の位置を、問1の日本地図の番号で答えなさい。

(3) 現在、日本では、貨物輸送を中心に、自動車輸送を鉄道輸送に切りかえる「モーダルシフト輸送」の導入が進められています。それは、鉄道輸送が自動車輸送に比べて優れた点があるからです。それはどのような点ですか、資料1を参考にして、説明しなさい。

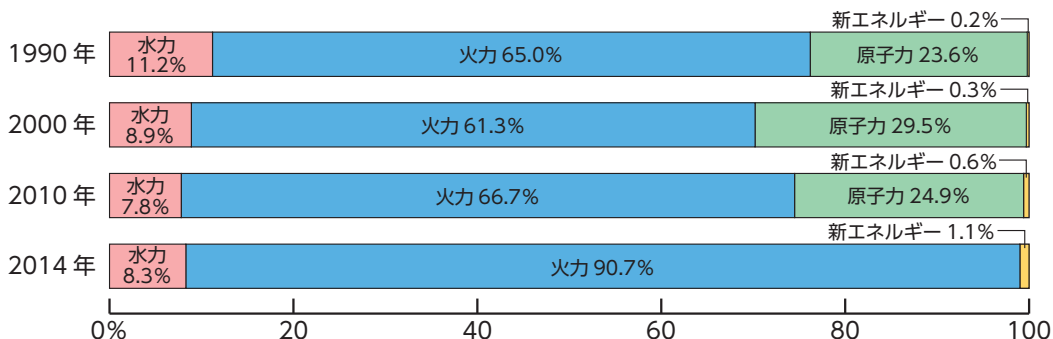
資料1 輸送機関別のエネルギー消費の割合 (2013年度)



(『日本のすがた2016』より作成)

問3 4月から、一般家庭でも地域の電力会社以外から電力を買うことができるようになりました。資料2を見ると、2010年から2014年にかけて、火力発電の割合が大きく変化しています。火力発電の割合は、どのように変化したのか、その理由もあわせて説明しなさい。

資料2 発電のエネルギー源の変化



(『日本のすがた2016』より作成)

問4 5月1日、熊本県で発生した日本の四大公害病の1つが^{かくにん}確認されてから60年たちました。

(1) この公害病を何といいますか、答えなさい。

(2) この公害病の説明として正しいものを次から2つ選び、記号で答えなさい。

- (ア) 石油化学コンビナートから出る^{けむり}煙^{ふく}に含まれる^{いおう}硫黄酸化物が原因である。
(イ) 鉱山から流れ出た排水に含まれる^{はいすい}カドミウムが原因である。
(ウ) 化学工場から流れ出たメチル水銀が原因である。
(エ) 原因となる物質が飲み水や米を通して人の体に入り、骨がもろくなった。
(オ) 魚介類^{ぎょかい}を食べた人が、手足^{うでた}のまひなど神経系の障害を訴えた。
(カ) 周辺に住む多くの人が、ぜんそくに苦しんだ。

問5 5月26・27日、国際社会が直面する問題について話し合うサミットが、日本の伊勢志摩で開催^{かいさい}されました。

(1) 日本の他に、今回のサミットに参加したメンバーの組み合わせとして正しいものを次から1つ選び、記号で答えなさい。

- (ア) カナダ・フランス・中国・ドイツ・イタリア・イギリス・アメリカ
(イ) カナダ・フランス・欧州連合・ドイツ・イタリア・イギリス・アメリカ
(ウ) カナダ・フランス・欧州連合・ドイツ・ロシア・イギリス・アメリカ
(エ) カナダ・フランス・欧州連合・ドイツ・中国・イギリス・アメリカ

(2) 資料3は、日本で過去に開催された「沖縄サミット」や「北海道洞爺湖サミット」で用意された食事のメニューを分かりやすく書き直したものです。もし、あなたが「伊勢志摩サミット」のメニューを決める責任者だとしたら、どのようなメニューにしますか。資料を参考にして考えたメニューを答えなさい。ただし、オードブル（野菜）については答えなくてかまいません。

資料3 サミットのメニュー

沖縄サミット

☪ メニュー ☪

～オードブル(野菜)～
ゴーヤーのチャンプルー

～メイン(肉料理)～
石垣牛の網焼き

～メイン(魚介料理)～
アカミーバイ(島魚)の焼き物

～デザート(果物)～
パイナップルとマンゴーのタルト

2000.7.21～23

☪ ☪ ☪

北海道洞爺湖サミット

☪ メニュー ☪

～オードブル(野菜)～
スイートコーンのスープ

～メイン(肉料理)～
洞爺湖牛のポワレ

～メイン(魚介料理)～
エゾアワビのマリネ

～デザート(果物)～
メロンのゼリー

2008.7.7～9

☪ ☪ ☪

問6 5月27日、アメリカ合衆国のオバマ大統領は、平和記念公園を^{おとず}訪れ、慰霊碑に^{いれいひ}献花し、^{けんか}演説しました。

(1) この記念公園のある都道府県名を答えなさい。また、その都道府県の位置として正しいものを、問1の日本地図の中から1つ選び、番号で答えなさい。

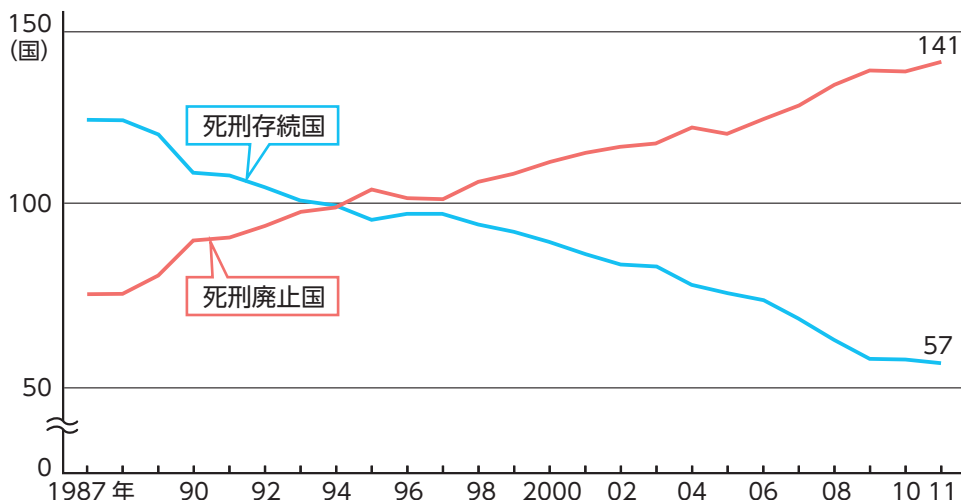
(2) 大統領が献花した慰霊碑は、どのような人々を慰霊したのでしょうか、答えなさい。

3 次の文章を読み、資料1・2を見て、後の各問いに答えなさい。

二つの世界大戦の反省から、1945年に国際連合が^{ほっそく}発足しました。国際連合が設立された最大の目的は、①世界の平和と安全を維持することです。また同時に、人種、性、言語、宗教による差別をなくし、人権を守り、^{いじ}ことも国際連合の大きな使命となっています。

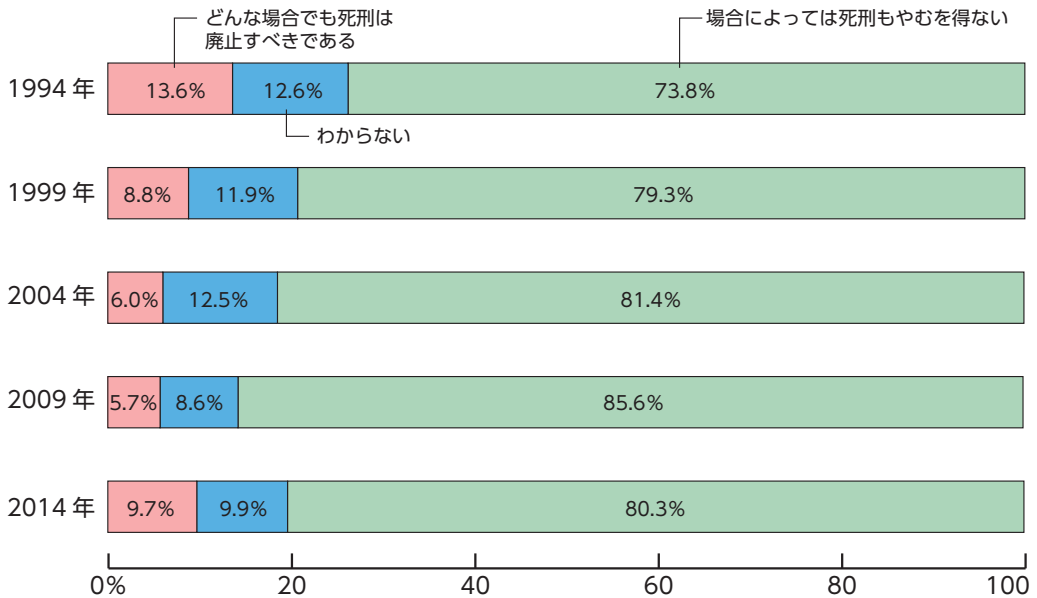
そのため、国際連合は、人権に関する世界共通の具体的基準をまとめた世界人権宣言を1948年に採択しました。さらに、1966年には人権の保障を法制化した国際人権規約を採択しています。2016年に50周年を迎えた国際人権規約は、②社会権を中心としたA規約と、自由権を中心としたB規約に分かれます。日本はA規約・B規約ともに原則^{ひじゅん}批准（条約に対する国家の最終的な同意）していますが、その一部は保留しています。また、選択議定書の一つは死刑廃止に関する内容で、1989年に国際連合で採択されましたが、日本は批准していません。しかし、今後、③死刑制度の是非を含めた人権問題に関する議論が活発化するかもしれません。若い皆さんが、日常生活で④身近な人権に関する問題に関心を持ち、他者の人権を尊重する意識を持つことが何よりも大切でしょう。

資料1 世界の死刑制度の存続国と廃止国の推移



※死刑廃止国…法律上または事実上、死刑制度を廃止している国
（「アムネスティ・インターナショナル資料」より作成）

資料2 死刑についての日本の世論



(「内閣府世論調査」より作成)

問1 下線①の目的を達成するために、オランダのハーグに本部が置かれ、国と国の争いを公平に裁く国際連合の主要機関として正しいものを次から1つ選び、記号で答えなさい。

- (ア) 安全保障理事会
- (イ) 経済社会理事会
- (ウ) 国際刑事裁判所
- (エ) 国際司法裁判所

問2 下線②について、社会権は日本国憲法でも保障されている権利ですが、社会権に分類される権利として正しいものを次から1つ選び、記号で答えなさい。

- (ア) 生存権
- (イ) 裁判を受ける権利
- (ウ) 職業選択の自由
- (エ) 財産権

問3 下線③について述べた文章として正しいものを次から1つ選び、記号で答えなさい。

- (ア) 1990年代は日本でも死刑制度に関する議論が活発だったため、死刑廃止派が常に10%を超えていた。
- (イ) 日本の世論は、常に死刑制度に肯定的な意見が多数を占め、その割合は徐々に増加している。
- (ウ) 21世紀以降、死刑制度の存続国と廃止国の数が逆転し、世界的に死刑廃止の流れに向かっている。
- (エ) 国際連合で死刑廃止の選択議定書が採択された年から翌年にかけて、死刑廃止国は増加した。

問4 下線④について、人権侵害^{しんがいはい}の事例として最も適当なものを1つ選び、記号で答えなさい。

(ア) 運動会で撮^とった友達との写真を、親の許可を得てインターネット上にのせた。

(イ) クラスで決めたことに納得^{なつとく}がいかなかったので、反対の意見を述べた。

(ウ) 赤信号を渡^{わた}っていたことで、担任の先生から信号を守るように注意された。

(エ) 学校で友達にされた嫌^{いや}がらせを、友達の許可なく担任の先生に相談した。

問5 問題文の文章の内容を踏^ふまえ、世界の平和と安全を維持することを目指す国際連合が、人権を守ることも重視する理由を考えて、答えなさい。