

2015年度
晃華学園中学校

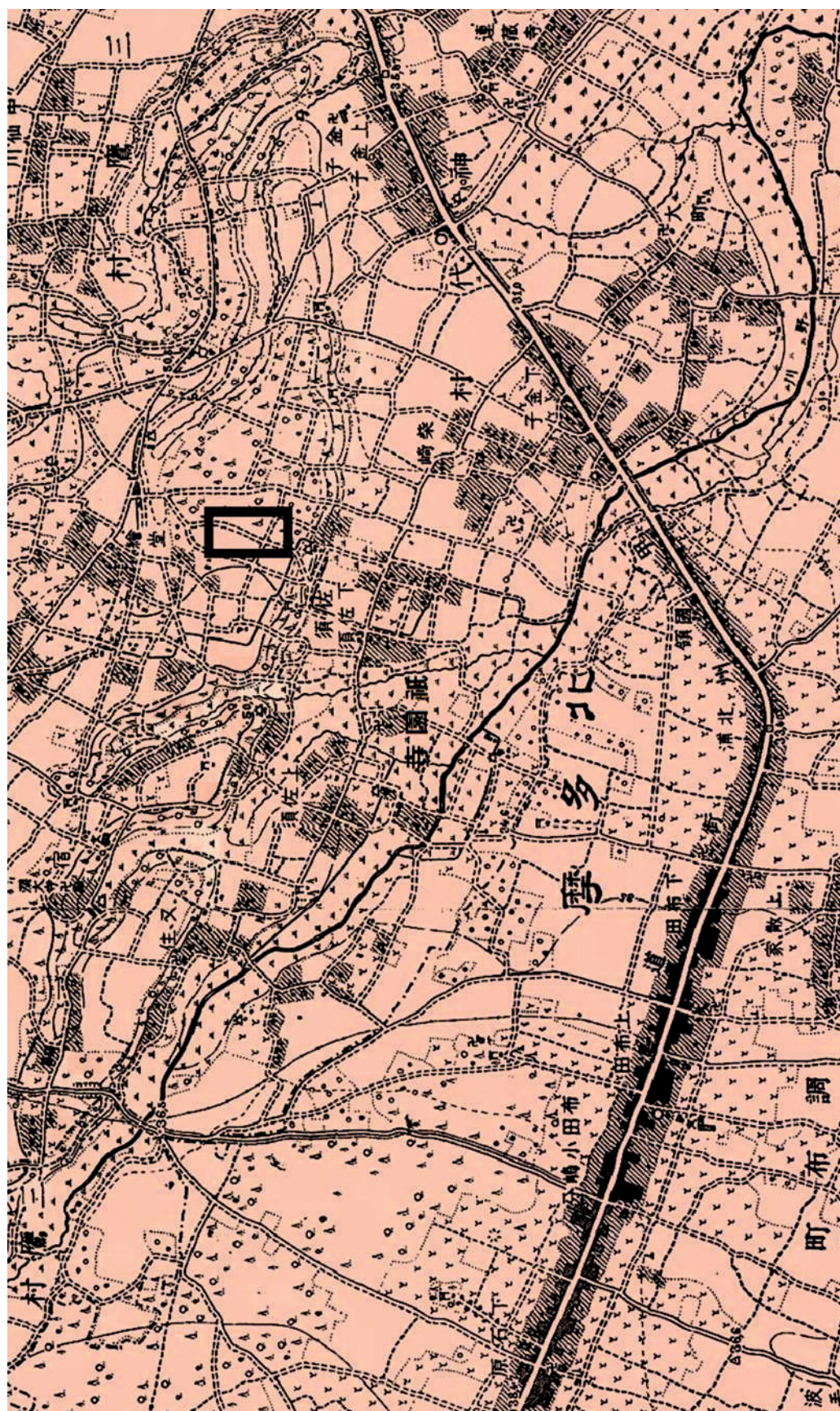
第1回
入学試験問題

【 社 会 】

時間：35分
配点：75点

答えはすべて解答用紙に記入すること。

問題は次のページから始まります。



- 1 左の地図は、1906（明治39）年に作成された、現在晃華学園がある場所の周辺を示した地図です。この地図について後の各問いに答えなさい。なお、地図中の四角い枠の部分は、現在晃華学園がある場所を示しています。また、地図中の地名などを示した横書きの文字は、今と違い右から読みます。

問1 この地図が作成された当時の日本の説明として、正しいものを次から1つ選び、記号で答えなさい。

- (ア) 日本は治外法権（領事裁判権）の撤廃に成功した。
- (イ) 八幡製鉄所が創業を開始した。
- (ウ) 南満州鉄道株式会社が創設された。
- (エ) 台湾が日本の領土になった。

問2 現在晃華学園がある場所は、この地図が作成された当時、どのような地理環境でしたか、正しいものを次から1つ選び、記号で答えなさい。

- (ア) 東側には深い谷の地形が見られる。
- (イ) 西側には針葉樹林や広葉樹林の森が広がっている。
- (ウ) 南側は急斜面の崖になっている。
- (エ) 北側には集落や果樹園が広がっている。

問3 現在晃華学園がある場所から北西の方角には、733（天平5）年に創建されたとされる深大寺があります。

- (1) 深大寺が創建されたころ、この地図に示されている地域では、地方の特産物を納める税として主に麻の布を政府に納めていました。この税は何といいますか、答えなさい。
- (2) 深大寺が創建されたころ、天皇は伝染病の流行や飢饉、政治の権力争いに苦しんでいました。この天皇は誰ですか、答えなさい。
- (3) 深大寺は現在は天台宗の寺です。天台宗を日本に伝えた僧侶は誰ですか、答えなさい。

問4 現在晃華学園がある場所の南西の方角には、
祇園寺ぎおんじがあります。明治時代に、この寺の住職は自由党の党員になって政治活動を行いました。祇園寺では、1908（明治41）年に自由民権運動で亡くなった人々のための慰霊祭いれいが行われ、かつて自由党の党首だった人物が記念に松を植えました。この松は「自由の松」（右の写真）として現在でも地元の人々に大切にされています。下の資料は「自由の松」を植えた人物が中心となって政府に出した意見書です。



今の政権のありさまを見ると、政権は天皇にも人民にもなく、ただ官僚かんりょうにあるのみである。ところが官僚は法令をめまぐるしく変え、情実じょうじつによって政治を行い、失政を重ねている。このようなことでは天下の治安はおびやかされ、国家は崩壊ほうかいしてしまう。これを改めるためには天下の公議をおこななければならない。公議をおこなすためには【 】を設立すべきである。租税を納める国民は、政治に参加する権限を持っており、【 】はそのための機関である。

- (1) 資料中の【 】にあてはまる語句を漢字4字で答えなさい。
- (2) 資料中の下線について、「自由の松」が植えられた当時の有権者資格として、正しいものを次から1つ選び、記号で答えなさい。
- (ア) 直接国税を15円以上納める満25歳以上の男子。
 - (イ) 直接国税を10円以上納める満25歳以上の男子。
 - (ウ) 直接国税を3円以上納める満25歳以上の男子。
 - (エ) 納税額に関係なく満25歳以上の男子。
- (3) 「自由の松」を植えた人物は誰ですか、答えなさい。

問5 地図の中央を横切る大きな道は甲州街道です。甲州街道は、江戸時代のはじめに整備され、主に信濃国高遠藩たかとお、高島藩、飯田藩の3つの大名が利用し、地図に見られるように街道沿いの国領から石原にかけては町もつくられていました。

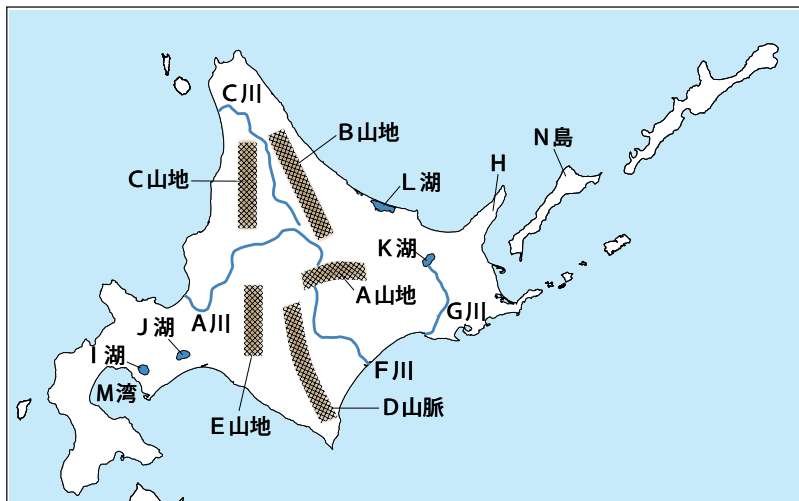
- (1) 大名が甲州街道を利用した主な目的は何ですか、答えなさい。
- (2) (1) を制度として定めた人物は誰ですか、答えなさい。

問6 甲州街道沿いの地域では、明治時代の中期から昭和時代のはじめにかけて、日本の重要な輸出産業と深く関係する農業や工業が発展していました。また、地図記号から、特にあるものが多く栽培されていたことが分かり、現在晃華学園がある場所には70～80人の女工が働いていた工場もありました。

(1) 上の文章から、当時この地域でさかんであった農業、工業について、あるものとは何かを明らかにしながら説明しなさい。

(2) この日本の重要な輸出産業は、1930年代はじめに急速に^{すいたい}衰退しました。その理由を説明しなさい。

2 次の地図を見て、後の各問いに答えなさい。



問1 地図中E山地の西に位置するE市は、かつてある資源の採掘で栄えていました。このある資源とは何ですか、答えなさい。

問2 地図中I湖・J湖・K湖など北海道には多くのカルデラ湖が見られます。

(1) カルデラ湖のカルデラとは何ですか、説明しなさい。

(2) 東北地方にあるカルデラ湖を次から1つ選び、記号で答えなさい。

(ア) 中禅寺湖 (イ) 猪苗代湖 (ウ) 十和田湖 (エ) 諏訪湖

問3 地図中L湖やM湾では養殖業がさかんです。

(1) 地図中L湖やM湾で養殖されているものを次から1つ選び、記号で答えなさい。

(ア) わかめ (イ) のり (ウ) しじみ (エ) ホタテ貝

(2) Mにあてはまる地名を答えなさい。

問4 地図中Hは、2005年に世界自然遺産に登録されています。このことに関連した以下の文章を読み、①～③にあてはまる語句の組み合わせとして、正しいものを次から1つ選び、記号で答えなさい。

日本の世界自然遺産は、地図中Hのほかに3カ所あり、最近では2011年に①が登録された。また、世界遺産には文化遺産があり、①が登録された2011年には②にある平泉が、そして最も新しいものとして2014年には③が世界文化遺産として登録された。

- | | | | | | |
|---|---------|---|-------|---|----------|
| (ア) <input type="text"/> ① <input type="text"/> | : 小笠原諸島 | <input type="text"/> ② <input type="text"/> | : 岩手県 | <input type="text"/> ③ <input type="text"/> | : 富岡製糸場 |
| (イ) <input type="text"/> ① <input type="text"/> | : 小笠原諸島 | <input type="text"/> ② <input type="text"/> | : 宮城県 | <input type="text"/> ③ <input type="text"/> | : 石見銀山遺跡 |
| (ウ) <input type="text"/> ① <input type="text"/> | : 富士山 | <input type="text"/> ② <input type="text"/> | : 宮城県 | <input type="text"/> ③ <input type="text"/> | : 富岡製糸場 |
| (エ) <input type="text"/> ① <input type="text"/> | : 富士山 | <input type="text"/> ② <input type="text"/> | : 岩手県 | <input type="text"/> ③ <input type="text"/> | : 石見銀山遺跡 |

問5 地図中A川は日本で3番目に、C川は日本で4番目に長い川です。右の日本の川の長さ上位5つの川に関する表の《 ④ 》～《 ⑥ 》にあてはまる語句を答えなさい。

川の名前	長さ (km)	地方名
信濃川	367	《 ④ 》地方
利根川	322	《 ⑤ 》地方
A川	268	北海道地方
C川	256	北海道地方
《 ⑥ 》川	249	東北地方

問6 次の(1)～(3)の地域における農業のようすとして最もふさわしいものを、下の(ア)～(カ)からそれぞれ1つ選び、記号で答えなさい。

- (1) 地図中A川流域の平野
(2) 地図中F川流域の平野
(3) 地図中G川の東側に広がる台地

- (ア) クリークとよばれる水路が発達し、稲作と麦類などによる二毛作がさかんである。
(イ) 広い耕地で大型の農業機械を使用して、じゃがいもやてんさいなどの畑作がさかんである。
(ウ) シラス台地が広がり、さつまいもや茶などの畑作がさかんである。
(エ) ビニールハウスを利用したピーマンやトマトなど野菜の促成栽培がさかんである。
(オ) パイロットファームや新酪農村が建設され、酪農がさかんである。
(カ) 客土工事によって泥炭地を改良した結果、全国有数の生産高をほこる稲作がさかんである。

問7 右の写真に見られる、道路の端^{はし}に立てられた背の高い標識柱は、北海道の沿道の風景として一般的なものですが。この標識柱はどのような役割を果たしていると考えられますか。北海道の気候と結びつけて説明しなさい。



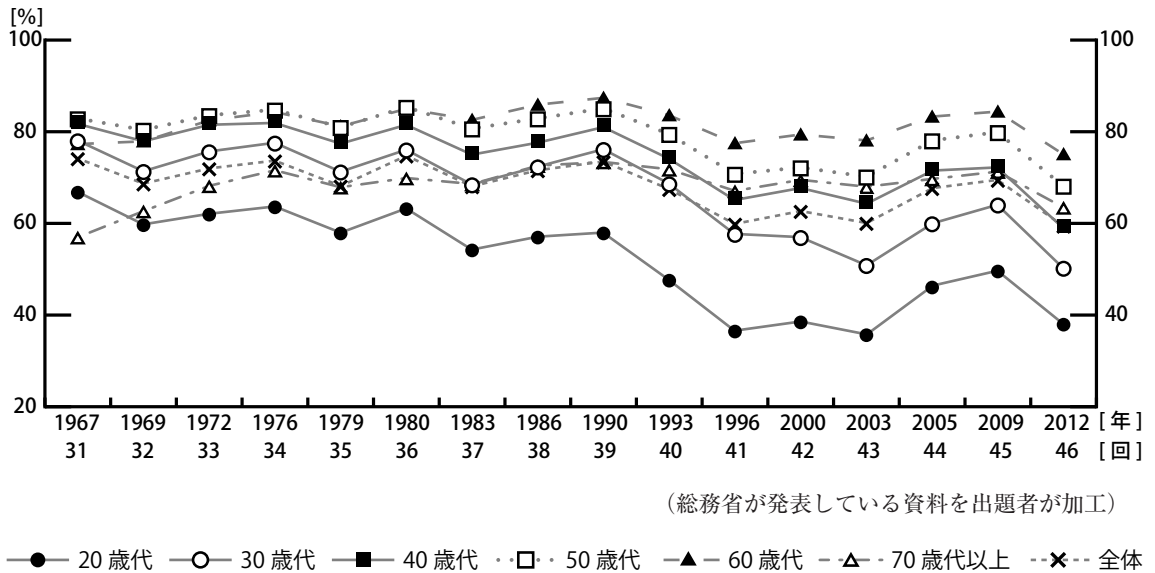
問8 地図中B・D・Nにあてはまる語句を、次からそれぞれ1つ選び、記号で答えなさい。

- | | | |
|------------------------|------------------------|------------------------|
| (ア) 夕張 | (イ) 北見 | (ウ) 天塩 |
| (エ) 石狩 | (オ) 日高 | (カ) 択捉 ^{エトロフ} |
| (キ) 国後 ^{クナシリ} | (ク) 色丹 ^{シコタン} | (ケ) 得撫 ^{ウルップ} |

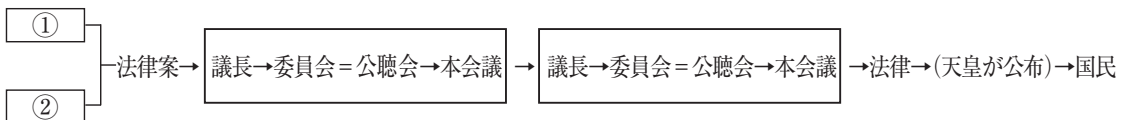
3 次の各問いに答えなさい。

問1 現在の選挙にはどのような問題があると思いますか、下のグラフを参考にして、説明しなさい。

【衆議院議員選挙における年代別投票率の移り変わり】



問2 法律の制定の流れについて、①・②にあてはまる語句を答えなさい。



問3 国会の仕事ではないものを次から1つ選び、記号で答えなさい。

- (ア) 予算の作成と決算の承認 (イ) 外国との条約の承認 (ウ) 内閣総理大臣の指名
(エ) 弾劾裁判所の設置 (オ) 憲法改正の発議

問4 国会の種類のうち、任期満了後の総選挙の後や参議院議員の3年ごとの通常選挙の後に開かれる国会は何ですか、答えなさい。

2015 年度 第 1 回入学試験解答用紙（社会）

※の欄には何も記入しないこと

※

受験番号		氏名	
------	--	----	--

1

問 1		問 2						
問 3	(1)		(2)				(3)	
問 4	(1)			(2)		(3)		
問 5	(1)				(2)			
問 6	(1)							
	(2)							

2

問 1								
問 2	(1)							
	(2)							
問 3	(1)		(2)	湾		問 4		
問 5	《 ④ 》	地方		《 ⑤ 》	地方		《 ⑥ 》	川
問 6	(1)		(2)		(3)			
問 7								
問 8	B		D		N			

3

問 1								
問 2	①				②	問 3		
問 4								