

1 次のふたばさんとお父さんの会話文を読み、後の問に答えなさい。

ふたば：夏休みに行った北海道旅行は楽しかったね。①飛行機で行ったから、すぐに到着してすごく近くに感じられたわ。

父：東京から北海道までの移動時間より、レンタカーで移動した北海道内での移動時間のほうが長かったね。

ふたば：車でしばらく行くと広々とした牧場や畑が広がっていて、②他の地域でみる農地と景色が違っていたよ。北海道には、素敵な景色もたくさんあったけれど、お野菜やお肉、乳製品はもちろん、③魚介類もおいしいものがたくさんあったね。先住民の人たちの文化も、とても興味深かったわ。

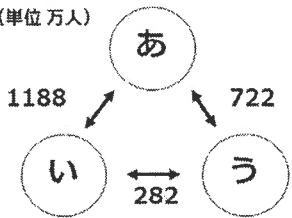
父：ふたばは、お母さんと行った先々で、北海道の特産品をたくさん買っていたね。

ふたば：うん、そうなの。そういえば、お店で④外国人観光客をたくさん見たわ。北海道は外国の方にも人気なのかしら。

父：そうだね。夏の北海道もよいけれど、冬の北海道のスキーリゾートなども人気らしいね。⑤季節によって異なる魅力があるのも⑥四季がある日本ならではのかもしれないね。

ふたば：また、別の季節の北海道にも行きたいし、他の地域にも行ってみたいわ。

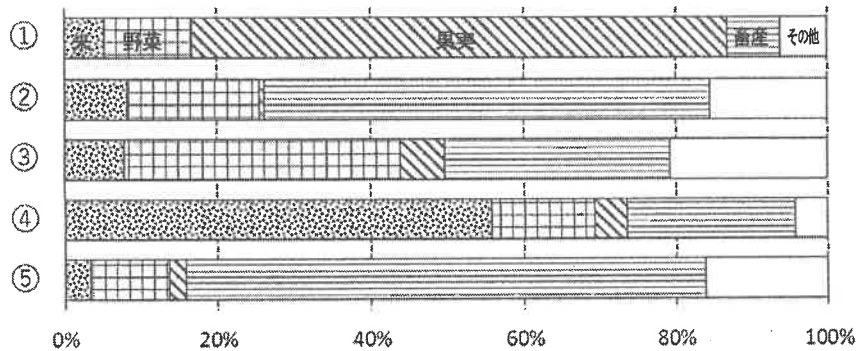
(単位 万人)



問1 下線部①について。左の図は、東京（羽田空港・成田空港の合計）、大阪（大阪空港・関西空港の合計）、札幌（新千歳空港）の各空港間の利用者数を示したものです。図中のあ～うは、東京、大阪、札幌のいずれかを示しています。このうち、札幌はどれか、記号で答えなさい。

(国土交通省「航空輸送統計調査」(2024)より作成)

問2 下線部②について。左下のグラフは、北海道、新潟県、山梨県、愛知県、鹿児島県のいずれかの農業生産の内訳を示したものです。地名と番号の正しい組み合わせを右下の表の選択肢イ～ヌから選び、記号で答えなさい。



米 田 野菜 果実 畜産 その他
『データでみる県勢 2025』より作成

	イ	ロ	ハ	ニ	ホ	ヘ	ト	チ	リ	ヌ
北海道	①	②	③	④	⑤	①	②	③	④	⑤
新潟県	②	③	④	②	④	②	④	④	①	④
山梨県	③	⑤	①	①	①	④	①	②	⑤	③
愛知県	④	①	②	③	②	③	③	⑤	②	②
鹿児島県	⑤	④	⑤	⑤	③	⑤	⑤	①	③	①

	水あげ量(トン)	主な漁獲物
イ	188,965	いわし さば あじ
ロ	115,275	いわし さば かに
ハ	189,921	いわし たら さんま
ニ	115,895	まぐろ かつお あじ

(水産庁「水産物流通調査」(2023)より作成)

問3 下線部③について。北海道には日本有数の水あげ量をほこる釧路漁港があります。

右の表は、釧路、銚子(千葉県)、焼津(静岡県)、境(鳥取県)のいずれかの漁港の水あげ量と主な漁獲物を示したものです。釧路はどれか、右の表の選択肢イ～ニから選び、記号で答えなさい。

問4 下線部④について。

(1) 近年、日本を訪れる外国人観光客は増えています。観光産業は、関連する業種が多く、経済効果が大きいと期待されている一方で、さまざまな課題があります。観光産業の課題について述べた文として、誤っているものを次の選択肢から1つ選び、記号で答えなさい。


イ 観光客が増えすぎると、観光地では、飲食店や宿泊施設の不足、公共交通機関の混雑などを招いてしまう。

ロ 観光施設を建設するなどの開発が進むことで、自然が破壊され、観光資源がかえって失われてしまう心配がある。

ハ 地域住民の生活している場所にまで観光客がやって来ると、騒音やごみ問題、住環境の悪化などが引き起こされてしまう。

ニ もともと発展している東京や大阪などの大都市では、観光客が多く来ることによる経済効果はなく、恩恵は地域によって偏りがある。

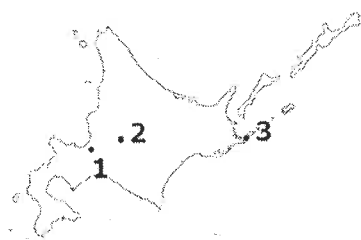
(2) 2011年は、日本で発生した自然災害が主な原因となり、訪日外国人観光客の数が減少しました。その後、過去に自然災害に見舞われた場所に建てられた石碑や建造物などを示す「自然災害伝承碑」の地図記号が作られ、地図に記されるようになりました。この地図記号を次の選択肢から1つ選び、記号で答えなさい。



(3) なぜ、地図に「自然災害伝承碑」の地図記号を記すのでしょうか。その意味を考えて説明しなさい。

問5 下線部⑤について。北海道の観光地とその季節による見どころについて述べた次のあ～うは、下の地図中の1～3のうち、それぞれどこについて述べたものか、文と位置の正しい組み合わせを表の選択肢イ～へから選び、記号を答えなさい。

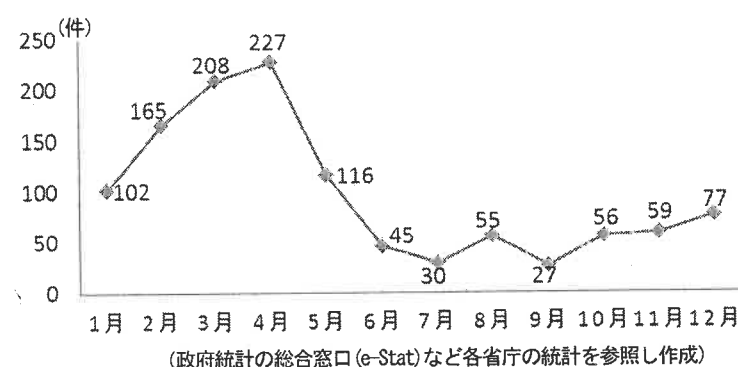
- あ たくさん降る雪をいかしてつくる巨大な雪像が、市内の大通公園などに展示される催しがあり、例年多くの観光客が訪れる。
- い 冬の降水量はさほど多くなく、越冬のためにやって来るタンチョウヅルや流氷は冬の風物詩となっている。
- う 冬の寒さは厳しいが、夏に気温があがる気候をいかしてラベンダーの栽培が行われており、7月から8月に見頃をむかえる。



	イ	ロ	ハ	ニ	ホ	へ
あ	1	1	2	2	3	3
い	2	3	1	3	1	2
う	3	2	3	1	2	1

問6 下線部⑥について。季節によって発生数が変わる災害もあります。右のグラフは、ある災害の2020年～2024年の月別発生件数の平均を示したものです。グラフが示す災害は何か、次の選択肢からふさわしいものを1つ選び、記号で答えなさい。

- イ 地震
- ロ 河川の氾濫
- ハ 林野火災
- ニ 竜巻
- ホ 火山噴火
- へ 雪崩



2 次の生徒と先生の会話文を読み、後の問に答えなさい。

生徒：アメリカの大統領は、世界の他の国々の大統領や首相と比べて、テレビなど日本の報道で見かける機会が特に多いように感じます。それはなぜでしょうか？

先生：うーん…。理由の一つとしては、アメリカが日本にとって、とても関係の深い国だからでしょうね。例えば、日本とアメリカとの間で、第二次世界大戦後、安全保障に関する条約が結ばれています。その他、社会の授業で扱った内容で何か覚えていることはありませんか？

生徒：アメリカは日本にとって、貿易相手国としても重要であると習いました。

先生：その通りです。日本の貿易に関して、アメリカは（ X ）と並び、輸出額、輸入額ともに非常に大きな国です。

生徒：大統領選挙の様子も、日本の報道で大きく取り上げられますよね。アメリカの大統領と、①日本の内閣総理大臣はどのように違うのでしょうか？

先生：大統領も総理大臣も、行政の最高責任者であることは同じですが、大統領は②議会の議員の選挙とは別に、議員以外から、国民による選挙で選ばれます。軍隊の最高指揮権を持ち、大統領令を出して議会の承認なく政策を実行することができます。議会を解散することはできませんが、議会から不信任決議を受けることもありません。ただし、③弾劾裁判を受けることはあります。大統領の任期は4年で、だれであっても2回を超えて大統領に選ばれることはできず、憲法に定められています。④現在の大統領は、2024年に2度目の当選を果たしました。

生徒：アメリカにも憲法はあるのですか？

先生：もちろんあります。⑤信教や言論・出版の自由、法の下での平等など、日本国憲法と同じように、人権保障に関する条文もあります。グローバル化が進む現在、さまざまな人種や民族が共生する多文化社会のアメリカでは、こうした自由や平等の考えを守っていくことが、いっそう重要になるでしょうね。

生徒：なるほど。グローバル化により、多様な人々がアメリカで生活し、多くの国がアメリカと貿易していることを考えると、アメリカの政治の動きは、他の世界の国々にも大きな影響を与えそうですね。

先生：そうですね。アメリカは日本との関係が深いだけでなく、国際連合で世界の平和を守るための中心機関である（ Y ）の常任理事国であり、⑥分担金の割合が最も大きく、軍事的にも経済的にも、世界に対して強い影響力を持つ国です。国際社会の平和を実現するうえで、アメリカは大きな役割と責任を担っているといえるでしょう。

生徒：…しかし、アメリカは国際社会の平和のためというよりも、自国の利益のためだけに、政策を実行しているようにも思えます。

先生：それも一つの事実です。そのため日本は、アメリカとの関係を深めていく中で、アメリカへの協力が⑦国際社会の平和につながるかどうかを、しっかりと考える必要があると思います。

問1 文中の（ X ）（ Y ）にふさわしい語句を入れなさい。

問2 下線部①について。内閣総理大臣が行う仕事としてふさわしいものを、次の選択肢から3つ選び、記号で答えなさい。

- イ 内閣総理大臣以外の国務大臣を任命する。
- ロ 国民に対して、憲法を改正することを発議する。
- ハ 新しく成立した法律を公布する。
- ニ 最高裁判所の長官を任命し、その他の裁判官を指名する。
- ホ 内閣を代表して、法律や予算の案を国会に提出する。
- へ 重要な政策の基本方針を決定するため、閣議を開く。

問3 下線部②について。アメリカの議会は日本と同じ、二院制をとっています。アメリカの議会は、上院と下院でつくりられており、上院の議席数は100、下院の議席数は435です。アメリカの上院と下院、日本の衆議院と参議院の議席数を多い順に並べたものを、次の選択肢から1つ選び、記号で答えなさい。

- イ 衆議院＞下院＞参議院＞上院
- ロ 衆議院＞参議院＞下院＞上院
- ハ 下院＞衆議院＞上院＞参議院
- ニ 下院＞衆議院＞参議院＞上院

問4 下線部③について。日本にも、憲法に定められている「弾劾裁判」の制度があります。日本の制度はどのようなものか、説明しなさい。

問5 下線部④について。現在のアメリカ大統領が1度目に当選した際の任期中に行ったこととして正しいものを、次の選択肢から1つ選び、記号で答えなさい。

- イ 「核兵器なき世界」をめざすことを宣言し、任期中のアメリカ大統領として初めて広島を訪問した。
- ロ 「テロとの戦い」を宣言し、アフガニスタンやイラクに対して攻撃を行うことを決定した。
- ハ 気候変動に関する国際的な枠組みであるパリ協定から、アメリカが離脱することを発表した。
- ニ 太平洋に面する国々の間で自由な貿易を進める、TPP協定についての話し合いに初めて参加した。

問6 下線部⑤について。次の文は、日本国憲法が保障する人権について説明したものです。文中の3つの【 】に共通して入るふさわしい語句を考えて、漢字2文字で答えなさい。

民主主義を実現するための憲法は、【 】の力を制限し、国民の権利を守るものである必要があります。信教や言論・出版の自由は、いずれも「自由権」と呼ばれます。この権利は、個人が信じる宗教を選ぶ自由や、考えていることを発表する自由のことです。これを守るため、日本国憲法では【 】が国民の信じる宗教を強制したり、表現の自由などを不当に制限したりしない、ということを決めています。また、「法の下での平等」は、【 】が国民を差別しないということであり、各個人の法的な権利が平等に保障されることを意味します。


問7 下線部⑥について。

(1) 下の図1は、2024年の国際連合の分担金について、主な加盟国の分担の割合を示したものです。図1中のA～Dのうち、日本はどれか、記号で答えなさい。

(2) 2024年度のアメリカの国防費の予算は、日本の防衛関係費の予算の約16倍でした。下の図2は、2024年度の日本の予算（一般会計）の歳出の内訳の割合を示したもので、図2中のあ～えの項目のいずれかは防衛関係費です。図2を参考にして、2024年度のアメリカの国防費の金額（ドルを円に直した場合）として最も近いものを、次の選択肢イ～ニから選び、記号で答えなさい。

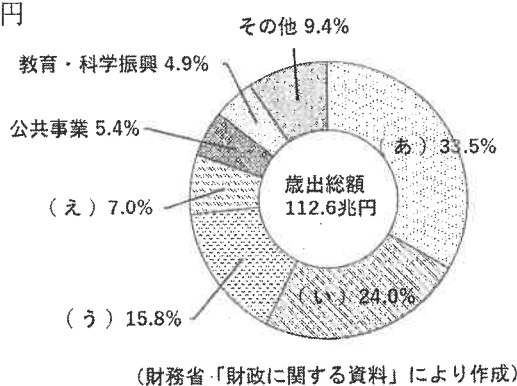
- イ 約89兆円
- ロ 約126兆円
- ハ 約285兆円
- ニ 約432兆円

図1



(国際連合広報センター「国連加盟国と分担率(2022-2024年)」により作成)

図2



(財務省「財政に関する資料」により作成)

問8 下線部⑦について。国際社会の平和を実現するために、国際連合は平和維持活動(PKO)を実施しています。アフリカでは、2011年にある国が紛争の末に独立し、その後、国際連合に加盟しました。この国の安全を守り発展を支援するためのPKOとして、2012年～2017年まで日本から自衛隊が派遣され、国際連合の施設の建設や道路を整備するなどの活動をしました。「世界で最も新しい国」といわれる、この国はどこですか。国名を答えなさい。

3 次の文を読み、後の問に答えなさい。

2025年に、①「戦後80年」ということが話題になりました。そこで私は、「日本の戦争」について調べてみました。まずわかったことは、1945年に戦争に敗れてからの80年間、日本が直接は外国と戦争をしていないということでした。しかし、それ以前の日本は、何度も外国と戦争をしてきたこともわかりました。特に②明治時代以降は、次々と大きな戦争をしていました。1894年に③日清戦争が、その10年後に日露戦争が始まり、1914年にはヨーロッパで始まった④第一次世界大戦に日本は参戦しました。1930年代に入ると、日本軍は⑤満州事変をおこして「満州国」をつくりました。その後、日中戦争が始まりました。中国での戦争を続けながら、⑥日本は南方へも関心を強め、東南アジアに軍隊を進めていきました。このような日本の動きに警戒を強めたアメリカとの関係は悪化していき、1941年に日本はアメリカなどとの戦争にふみきました。太平洋戦争では、日本各地の都市が空襲をうけて多くの人が亡くなり、⑦沖縄にはアメリカ軍が上陸して住民も巻き込んだ激しい戦いが行われました。

外国が日本を攻撃した例を、太平洋戦争以外で調べてみると、⑧鎌倉時代の元軍の襲来のほかに、それほど多くないことがわかりました。反対に、日本が海外に出兵した例は、日清戦争、日露戦争、第一次世界大戦、満州事変や日中戦争のほかにも見つかりました。日清戦争や日露戦争の時に日本が出兵した(あ)には、4世紀の末頃に大和政権が、7世紀の半ば頃に中大兄皇子が軍を送っていました。16世紀の末には豊臣秀吉も出兵しました。江戸時代の初めには、薩摩藩の軍が(い)王国を攻撃し、その後支配下に置くようになりました。

外国との戦争ではなくても、日本国内で戦いが続いた時期もありました。⑨日本各地に戦いが広がった最初の時代は、弥生時代だと考えられているようです。平安時代の終わり頃の源氏と平氏の戦いは5年間、室町時代の初めに⑩朝廷が南朝と北朝に分裂していた時期は約60年間、京都が戦場になった(う)とよばれる戦いは11年間、その後の⑪戦国時代には100年以上全国で戦いが続きました。私は戦争について調べる中で、戦争を始めるのは権力を持った人や軍隊であったとしても、一般の人々も戦争を支持したり、戦争に協力したりしてきたことを知りました。同時に、一度戦争を始めると、多くの人が苦しむことになるのだということにも気づきました。第二次世界大戦の犠牲者は、アジアだけで、兵士と一般の市民をあわせて推定で2000万人を超えるという数字を見つけた時には、大変に驚きました。そして、絶対に戦争をしてはいけないと思いました。

問1 文中の(あ)～(う)にふさわしい語句を入れなさい。

問2 下線部①について。

(1) 戦後6年目にあたる1951年に、日米安全保障条約が結ばれました。この条約によって、日本がアメリカに認めたことについて述べた次の文中の【イ】【ロ】に、それぞれふさわしい語句を入れなさい。同じ記号の【 】には、同じ語句が入ります。

アメリカの【イ】が日本に留まり、【イ】が使用する【ロ】を設置することを認めた。

(2) 戦後80年の間には、日本の経済がめざましく成長をとげた時期がありました。その時期に、「三種の神器」とよばれた電気製品が各家庭に広まり、その後、「3C」とよばれたものが広まっていきました。「三種の神器」と「3C」の組み合わせとして正しいものを次の選択肢イ～へから選び、記号で答えなさい。

- | | |
|-----------------------|-------------------------|
| イ 三種の神器—洗濯機・白黒テレビ・冷蔵庫 | 3C—クレジットカード・パソコン・カラーテレビ |
| ロ 三種の神器—洗濯機・扇風機・冷蔵庫 | 3C—カメラ・自動車・カラーテレビ |
| ハ 三種の神器—洗濯機・扇風機・冷蔵庫 | 3C—自動車・カラーテレビ・クーラー |
| ニ 三種の神器—白黒テレビ・ラジオ・冷蔵庫 | 3C—クレジットカード・パソコン・クーラー |
| ホ 三種の神器—洗濯機・白黒テレビ・冷蔵庫 | 3C—自動車・カラーテレビ・クーラー |
| ヘ 三種の神器—白黒テレビ・ラジオ・冷蔵庫 | 3C—カメラ・自動車・カラーテレビ |

問3 下線部②に関する説明として誤っているものを次の選択肢から2つ選び、記号で答えなさい。

- イ 江戸時代の身分制度が改められ、身分の違いはなくなり、差別のない平等な社会が実現した。
- ロ 国会を開くことや憲法を定めることなどを求めて、政府を離れた板垣退助らが、自由民権運動をおし進めた。
- ハ 各地に置かれていた藩を廃止し、新たに府と県を設置して、政府が任命した役人が派遣されることになった。
- ニ 政府は群馬県に富岡製糸場をつくり、日本の重要な輸出品だった綿糸の品質改良と生産に力を入れた。
- ホ 生活に困るようになった士族らが、政府に対する不満を高め、各地で反乱をおこすようになった。
- ヘ 大日本帝国憲法が定められ、主権者とされた天皇は、陸軍と海軍を直接指揮し統率する権限をもった。
- ト 国民の一部に衆議院議員を選ぶ権利が与えられ、自由党や立憲改進黨などから立候補した人々も選ばれた。

問4 下線部③に勝利をおさめた日本は、清から多額の賠償金を受け取りました。その賠償金は、何に対して最も多く使われたのか、答えなさい。

問5 下線部④がおきた時に、日本が同盟を結んでいた国を次の選択肢から1つ選び、記号で答えなさい。

- イ ドイツ ロ イタリア ハ オランダ ニ イギリス ホ ソ連

問6 下線部⑤に関する説明として正しいものを次の選択肢から1つ選び、記号で答えなさい。

- イ 一部の軍人や政治家らが、満州を日本が支配することを主張していた。
- ロ 日本は「満州国」をつくった後に、リヤオトン(遼東)半島を中国に返すことにした。
- ハ 中国軍が南満州鉄道の線路を爆破したため、日本軍が軍事行動を開始した。
- ニ 日本の訴えを受けた国際連盟は、満州事変に関する調査団を派遣した。
- ホ 好景気だった日本の経済が、満州事変をきっかけに、急に悪くなった。

問7 下線部⑥について。東南アジアに進出した日本は、現地の人々から抵抗を受けるようになりました。それはなぜですか。東南アジア各地に占領地を広げていった当時の日本が、戦争を続けるうえで必要としたものをあげ、説明しなさい。

問8 下線部⑦は、1951年にサンフランシスコ平和条約が結ばれた後も、アメリカの統治を受け続け、1972年によく日本に復帰しました。同じように、1951年以降もアメリカの統治を受け、後に日本に復帰した地域を2つ答えなさい。

問9 下線部⑧に関する説明として正しいものを次の選択肢から1つ選び、記号で答えなさい。

- イ 将軍を助ける執権だった北条氏が、幕府の政治の実権を握ったため、代々将軍に任命されるようになった。
- ロ 幕府が初めて武士のための法律である武家諸法度をつくり、公平な裁判を行うことをめざした。
- ハ 国ごとに犯罪の取りしまりなどにあたる地頭が置かれ、荘園などには軍事や警察の仕事をする守護が置かれた。
- ニ 3代将軍の保護を受けた観阿弥・世阿弥の親子によって、田楽や猿楽をもとにして、能と狂言が大成された。
- ホ 手柄をたてれば、幕府から新しい領地などを与えられることになっていたため、御家人は命がけで戦った。

問10 下線部⑨について。

- (1) 何をめぐって戦いがおこったのですか。主なものを1つ答えなさい。
- (2) 戦いがおこるようになったため、むらのつくりが変わりました。それについて述べた次の文中の【 】にふさわしい語句を入れなさい。
- 戦いに備えてむらを【 】などで囲むようになり、物見やぐらもつくられた。

問11 下線部⑩に関わる動きを、時代順に次に示しました。A・C・Eの各期間におこった出来事を、イ～ヨからそれぞれ2つずつ選び、2つのうち、おこった時期の遅い方の記号を答えなさい。

朝廷に仕える役人の位を示す、冠位十二階の制が定められた	A
朝廷で天皇をしのぐほどの勢力をもつようになった蘇我氏が、滅ぼされた	B
藤原道長が朝廷で権力を握り、天皇に代わって政治をすすめた	C
朝廷が幕府を倒す命令を出したが、承久の乱で幕府に敗れた	D
朝廷から征夷大將軍に任命された徳川家康が、江戸に幕府を開いた	E
徳川慶喜が大政奉還を行い、朝廷に政権を返した	

- | | |
|---------------------|----------------|
| イ 『解体新書』が出版された | ロ 聖徳太子が亡くなった |
| ハ 鉄砲が種子島に伝わった | ニ 卑弥呼が魏に使いを送った |
| ホ 大阪夏の陣がおこった | ヘ 鑑真が唐招提寺を開いた |
| ト 保元の乱がおこった | チ 藤原京に都を移した |
| リ 大陸から仏教が伝えられた | ヌ 五箇条の誓文が出された |
| ル 壇ノ浦の戦いがおこった | ヲ 京都に幕府が開かれた |
| ワ 小野妹子が隋に派遣された | カ 徴兵令が出された |
| ヨ 大仙(仁徳天皇陵)古墳がつくられた | |

問12 下線部⑪について。戦国大名らと戦った、石山本願寺を拠点にしていた勢力を答えなさい。

1

問 1		問 2		問 3		問 4	(1)	(2)	
問 4	(3)								
問 5		問 6							

2

問 1	X			Y				
問 2				問 3				
問 4								
問 5		問 6		問 7	(1)	(2)		
問 8								

3

問 1	(あ)			(い)			(う)		
問 2	(1) 【イ】	【ロ】			(2)	問 3			
問 4				問 5		問 6			
問 7									
問 8							問 9		
問 10	(1)				(2)				
問 11	A	C	E	問 12					