

1 下のA～Eの文は、それぞれ日本の歴史に登場する港町と港についての説明です。文を読んで、後の問に答えなさい。

- A ①古くから大陸や朝鮮半島との窓口として発展した、〔 〕湾に面する九州北部の港町である。②平清盛らがすすめた宋との貿易の拠点ともなった。鎌倉時代には、③元軍が〔 〕湾に侵入してきたため戦いがおこった。守りを固めるために、幕府が〔 〕湾に防塁を築かせた。また、室町時代には④明との貿易の拠点として栄えた。
- B 日明貿易や⑤南蛮貿易などで栄えた港町である。手工業がさかんで、戦国時代には鉄砲の生産地の一つにもなり、豊かな商工業者による自治が行われていた。しかしその後、織田信長によって支配されるようになり、⑥豊臣秀吉や、⑦徳川家康が開いた江戸幕府もこの港町を直接支配した。
- C 南蛮貿易でにぎわった港町である。1582年に、キリスト教徒の戦国大名が4人の少年を使節としてローマに派遣した時も、この港から出発した。江戸時代には、中国やオランダとの貿易を行う港となり、唐人やしきや出島がつくられた。また、⑧西洋文化を受け入れる窓口ともなった。
- D ⑨日米修好通商条約が調印された後、⑩東海道沿いの宿場町にかえて開港された。開港後、外国人居留地がつくられ、幕末に行われた貿易で最も取引が多い港として発展した。
- E 平氏が滅亡した壇ノ浦に近い港町である。江戸時代には、⑪蝦夷地や東北地方の産物を日本海から大阪へ運ぶ北前船の寄港地としても繁栄し、朝鮮通信使も江戸に向かう途中でこの港町を通った。⑫1895年には、日清戦争の講和会議が行われた。

問1 AとBについて。

- (1) Aの文中の〔 〕に、共通して入る言葉を答えなさい。
 (2) Bの港町を答えなさい。

問2 下線部①について。長く続いてきた九州北部と大陸や朝鮮半島との関わりについての説明として、正しいものを次のイ～へから二つ選び、記号で答えなさい。

- イ 大陸や朝鮮半島から移り住んだ人びとによって九州北部に伝えられた米づくりの様子は、三内丸山遺跡からわかる。
 ロ 邪馬台国の女王卑弥呼が中国に使いを送った時に中国の皇帝からおくられた金印が、志賀島から発見されている。
 ハ 中国や朝鮮の影響を受けていると考えられる、あざやかな色で絵や文様が内部に描かれた古墳が、九州北部に築かれた。
 ニ 日本が隋と百済に白村江の戦いで敗れた後、朝廷の役所である大宰府を守るために水城が築かれた。
 ホ 大宰府の役人に出世した菅原道真は、九州北部で大陸の情報を集め、遣唐使の派遣を中止するように意見した。
 ヘ 朝鮮から連れてこられた陶工によって、有田焼などのそれまでにない焼き物がつくられるようになった。

問3 下線部②について。平清盛に関する説明として、正しくないものを次のイ～ホから一つ選び、記号で答えなさい。

- イ 厳島神社には、平清盛が納めた「平家納経」がある。 ロ 都でおこった承久の乱に勝利した後、政治の実権をにぎった。
 ハ 平清盛の娘が天皇のきさきになり、生まれた子は天皇になった。 ニ 貿易のために、瀬戸内海の航路や兵庫の港を整備した。
 ホ 武士として初めて太政大臣になり、一族も朝廷で高い地位についた。

問4 下線部③について。元軍との戦いについての説明として、正しいものを次のイ～ホから一つ選び、記号で答えなさい。

- イ 元軍は火薬を用いた兵器を使い、集団戦法をとって御家人たちを苦しめた。
 ロ 元軍は、従えていた朝鮮半島の新羅の兵士を率いて日本に攻めてきた。
 ハ 元軍との戦いで活躍した御家人たちは皆、幕府から望み通りのほうびをもらった。
 ニ 元軍が初めて攻めてきた時、北条貞時が幕府の執権をつとめていた。
 ホ 元軍との戦いが終わった後まもなく、足利氏が幕府を倒すために兵をあげた。

問5 下線部④について。日明貿易の貿易船で雪舟が明に渡り、水墨画を学んで帰国しました。雪舟は、現在の山口県にあたる地域を支配していた大名の支援を受けていました。この大名を次のイ～ホから一つ選び、記号で答えなさい。

- イ 島津氏 ロ 大内氏 ハ 伊達氏 ニ 武田氏 ホ 上杉氏

問6 下線部⑤について。南蛮貿易で、日本の貿易相手となったヨーロッパの国を一つ答えなさい。

問7 下線部⑥について。豊臣秀吉は、キリスト教の宣教師を国外追放する命令を出しました。しかし、この命令は徹底されず、その後も宣教師は来日しました。それはなぜか説明しなさい。

問8 下線部⑦について。江戸幕府の将軍の説明として、正しいものを次のイ～へから二つ選び、記号で答えなさい。

- イ 徳川家康は、関ヶ原の戦いで豊臣氏を滅ぼし、征夷大將軍になった。 ロ 徳川家康が亡くなった後、息子の徳川秀忠が將軍になった。
 ハ 徳川秀忠は、日本人の海外への渡航と海外からの帰国を禁止した。 ニ 徳川家光は、武家諸法度に参勤交代の制度を加えた。
 ホ 徳川吉宗は、貧しい人びとのために江戸に小石川養生所をつくった。 ヘ 徳川慶喜は、大塩平八郎の乱がおきた時の將軍だった。

問9 下線部⑧について。江戸時代には、オランダ語の書物を通してヨーロッパの学問を研究する、蘭学を学ぶ人がいました。蘭学に関することとして、正しいものを次のイ～ニから一つ選び、記号で答えなさい。

- イ 医者である前野良沢や杉田玄白らが、オランダ語の入門書や辞書を参考に医学書を翻訳して『解体新書』を出版した。
 ロ 西洋の天文学や測量学を学んだ緒方洪庵は、正確な日本地図を作成するために、幕府の命令を受けて全国を測量して歩いた。
 ハ 將軍徳川吉宗は、西洋の書物を一部輸入することを認め、家臣に命じてオランダ語や海外の知識を学ばせた。
 ニ 蘭学者の本居宣長たちは、外国船を打ちはらうように命じた幕府を批判したため、捕らえられて厳しい処罰を受けた。

問10 下線部⑨について。日米修好通商条約には、日本にとって不平等な内容がふくまれていました。

- (1) 外国に領事裁判権を認めるという内容が撤廃された時の、日本の外務大臣を答えなさい。
- (2) 日本になかった関税自主権が認められることになった年に、最も近い時期の出来事を次のイ～トから一つ選び、記号で答えなさい。
 - イ 第一次世界大戦が始まる ロ 関東大震災がおきる ハ 米騒動がおきる ニ 韓国が日本の植民地にされる
 - ホ 第一回帝国議会が開かれる ヘ ノルマントン号事件がおきる ト 地租改正が行われる

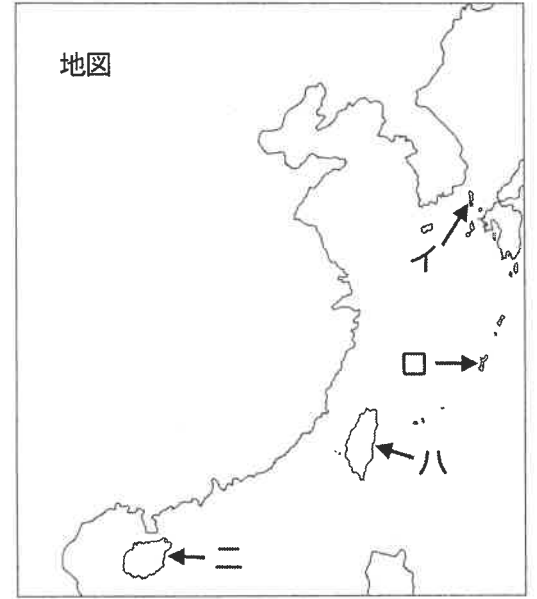
問11 下線部⑩について。東海道は、江戸の日本橋から京都を結んだ街道の一つです。五街道とよばれる街道のうち、東海道とは違う道順で江戸と京都を結んだ街道を答えなさい。

問12 下線部⑪について。この船の航路上にある、主な寄港地を次のイ～ホから二つ選び、記号で答えなさい。

- イ 敦賀 ロ 鎌倉 ハ 酒田 ニ 大津 ホ 気仙沼

問13 下線部⑫について。

- (1) この時結んだ講和条約で日本が獲得した島を、右の地図中のイ～ニから一つ選び、記号で答えなさい。また、その島の名前を答えなさい。
- (2) 日清戦争が終わってからの約50年間に、日本が関わった戦争の説明をあげました。時期の早い順に並べた時、3番目と5番目にあたるものを次のイ～トから選び、それぞれ記号で答えなさい。
 - イ 日本軍はハワイの真珠湾を攻撃するのとほぼ同時に、イギリス領のマレー半島に上陸した。
 - ロ 終戦直前に、ソ連が日本との条約を破って満州、樺太南部、千島列島に攻めこんだ。
 - ハ ロシアとの戦争後に結ばれた講和条約で、日本は樺太南部と南満州の鉄道などの権利を得た。
 - ニ 日中戦争が始まると、日本政府は国民全体を戦争に協力させるため国家総動員法を出した。
 - ホ 日本は満州事変で満州の主要な部分を占領し、日本が政治の実権をにぎる満州国を成立させた。
 - ヘ ヨーロッパで世界大戦がおこると、日本は同盟を結んでいたイギリス側に加わり戦った。
 - ト ドイツが、日本やイタリアと三国同盟を結ぶ前年に、イギリスやフランスなどと戦争を始めた。
- (3) 今年は日清戦争が終わってから130年目で、第二次世界大戦が終わってからは80年目にあたります。第二次世界大戦後におきた出来事を時期の早い順に並べました。「沖縄が日本に返還される」は【イ】～【ホ】のどこに入りますか。記号で答えなさい。



- 【イ】→日米安全保障条約が結ばれる →【ロ】→ 日本とソ連の国交が正常化する →【ハ】→ 韓国と条約が結ばれて国交が正常化する →【ニ】→ 日中平和友好条約が結ばれる →【ホ】

2 日本のある地域についてとりあげました。下の問に答えなさい。

問1 右の[地図1]は日本のある地域の海岸線を示しています。この海岸線に面した都道府県をすべて答えなさい。

問2 [地図1]中の矢印で示した湖の名前を答えなさい。

問3 [地図1]の範囲には貿易港や工業地帯があり、様々な物資が日本各地へ運ばれています。このことに関連して、日本国内で物資を運ぶ輸送機関について、次の問に答えなさい。



- (1) 次の表は、各産業において主にどのような輸送機関で、どのくらいの量の製品や資源などが運ばれているかを示しています。表中の①～④に当てはまる輸送機関の組み合わせとして正しいものを、次のイ～ホから選び記号で答えなさい。

	食料品製造業	原油・天然ガス鉱業	輸送用機械器具製造業	電子部品・デバイス・電子回路製造業
①	1,705,540	132,450	4,369,229	17,829
②	86,898,486	257,575	49,142,864	1,786,708
③	21,450	—	13,519	30,507
④	1,615,938	—	416,281	5,551

- イ ①船舶 ②トラック ③鉄道 ④航空機
- ロ ①航空機 ②船舶 ③トラック ④鉄道
- ハ ①トラック ②船舶 ③鉄道 ④航空機
- ニ ①船舶 ②トラック ③航空機 ④鉄道
- ホ ①鉄道 ②トラック ③航空機 ④船舶

(単位 トン)
国土交通省「産業業種・代表輸送機関別年間出荷量」(2021年)より作成

*この表における船舶は、海運に用いられるものを指している。

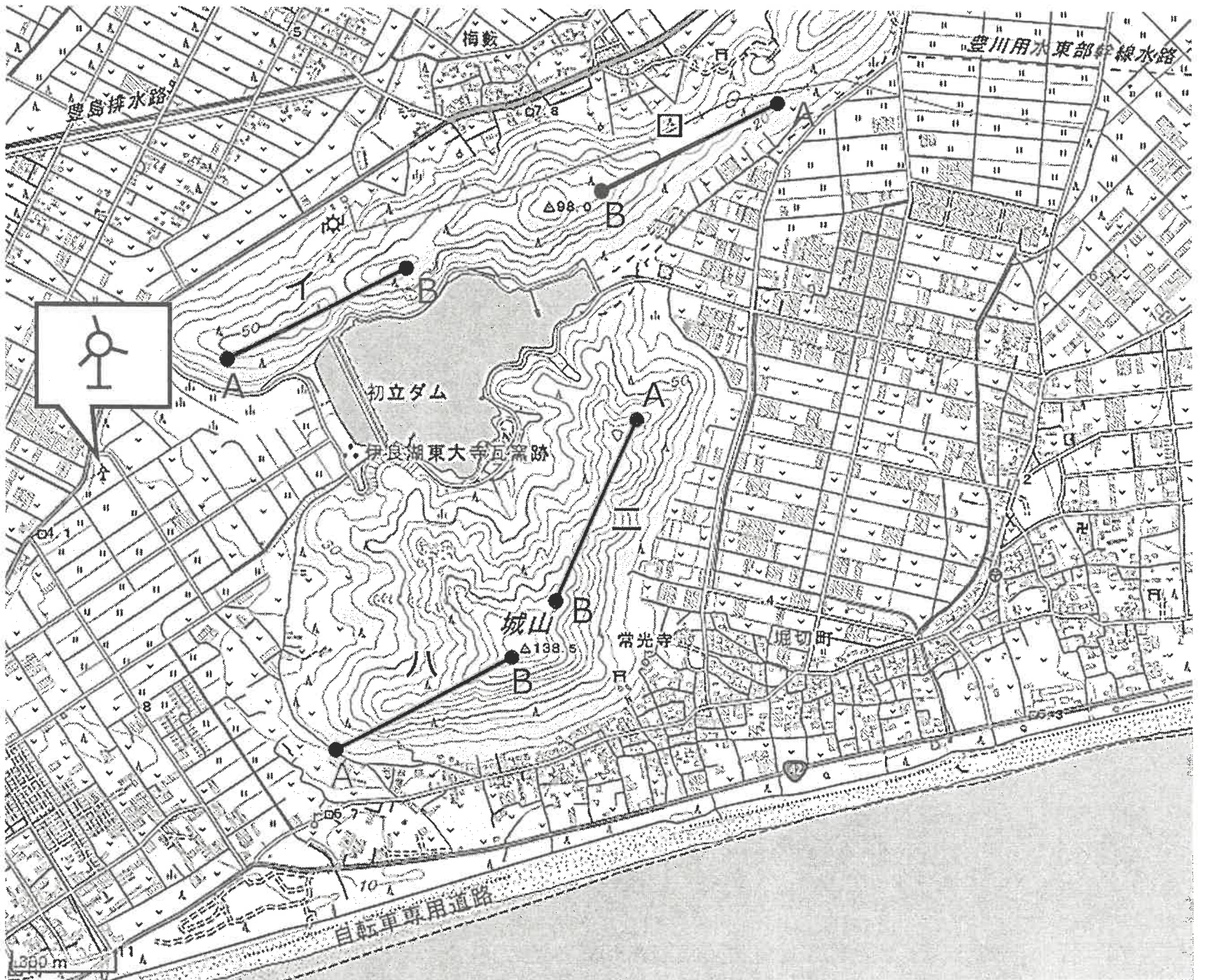
- (2) 近年は、(1)の表中の②の輸送機関から、別の輸送機関に切り替えるモーダルシフトが重要だと言われています。②の輸送機関から何の輸送機関へ切り替えるのか、表中の①～④から二つ選び番号で答えなさい。
 - (3) (2)で答えた輸送機関に共通する長所を一つあげて、その長所と関係する、これからの社会でモーダルシフトが重要な理由を二つ説明しなさい。
- 問4 [地図1]の地域では1959年に発生した台風で、多くの犠牲者が出ました。この台風で、特に沿岸部に浸水などの大きな被害をもたらしたのは、何による災害ですか。

問5 [地図1]の地域には、「日本六古窯」と呼ばれる、古くから生産が続く六つの代表的な窯のうちの二つがあります。残りの四つの窯と、その窯がある都道府県の組み合わせとして正しくないものを、次のイ～ニから一つ選び記号で答えなさい。

- イ 信楽—滋賀県 ロ 備前—山梨県 ハ 越前—福井県 ニ 丹波—兵庫県

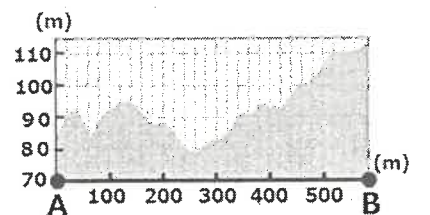
問6 次の[地図2]は、[地図1]中の点線で囲んだ半島の一部を示した地形図です。この地形図を見て、後の問に答えなさい。

[地図2]



- (1) [地図2]中に拡大して示した地図記号が示すものは、[地図1]中の点線で囲んだ半島の海沿いなどにも見られます。この地図記号は何を示しているか、答えなさい。
- (2) 右の図は、[地図2]中のイ～ニのいずれかの断面図を示しています。[地図2]中のイ～ニから、右の断面図に当てはまるものを一つ選び、記号で答えなさい。
- (3) [地図2]から読み取れることとして正しいものを、次のイ～ニから一つ選び、記号で答えなさい。
 - イ この地域には豊川用水が引かれており、耕地は畑だけでなく、水田としても利用されている。
 - ロ 初立ダムの下流側の斜面には、伊良湖東大寺瓦窯跡という石灰石の鉱山がある。
 - ハ 南の海沿いには砂浜が発達しており、自転車専用道路が東名高速道路と並行するように整備されている。
 - ニ 複数の自然の河川の終着点に初立ダムがあり、このダムから周辺の耕地へ水が供給されている。

国土地理院『地理院地図』より作成



国土地理院『地理院地図』より作成

問7 右の表は、市町村別の農業産出額（2022年）の上位5位までを示したもので、[地図2]の地域がふくまれるX市は全国2位です。この表中の各市町村の農業について述べた次のイ～ホから、X市について述べたものを選び、記号で答えなさい。




順位	市町村	農業産出額(億円)
1位	都城市(宮崎県)	911.3
2位	X市	900.4
3位	銚田市(茨城県)	655.7
4位	別海町(北海道)	625.3
5位	新潟市(新潟県)	534.8

- イ この市町村は県内で最も野菜栽培がさかんで、さつまいもやメロンの生産量が全国有数である。
- ロ この市町村は米の産出額が全国1位で、コシヒカリを中心としたブランド米を生産している。
- ハ この市町村はキャベツや菊の全国有数の生産地で、温暖な気候を生かした栽培が行われている。
- ニ この市町村は冷涼な気候であるため、酪農がさかんで乳用牛の産出額が全国1位である。
- ホ この市町村は肉用牛の産出額が全国1位で、黒毛和牛の生産がさかんである。

農林水産省「令和4年市町村別農業産出額（推計）」より作成

3 ふたばさんのクラスでは、選挙について学ぶために模擬選挙を行いました。その時、政治について同じ考えを持つ人同士で政党に見立てたグループを作り、それぞれのグループで実現したいことを下のようにまとめました。後の問に答えなさい。

<実現したいこと>

 <p>〇〇〇党</p>	<ul style="list-style-type: none"> 子どもからお年寄りまで、医療費を安くして、暮らしの安心を実現します。 A商品を買った時にかかる税を減らして、財政を見直します。 男女平等な社会にするため、結婚に関する制度を変更し、選択的（ ）制度を導入します。 障がいのある人が、好きな仕事について、働く機会を増やします。
 <p>△△△党</p>	<ul style="list-style-type: none"> 歴史ある美しい街並みを守るとともに、工場の騒音や大気汚染を規制します。 B会員の給与にかかる税を増やして、①国際平和のための活動に使います。 ②裁判所のはたらきを強めて、人権を守り、安全な社会にします。
 <p>□□□党</p>	<ul style="list-style-type: none"> AIなど新しい技術の開発や、研究を行う企業が自由に活動できるように、法律による規制を減らします。 C会社にかかる税を減らして、企業の経済活動を活発にします。 外国との経済協力を進めるため、D関税を減らして、貿易を活発にしていきます。 家族のつながりはとても大切なので、選択的（ ）制度の導入には反対します。

問1 〇〇〇党と□□□党の<実現したいこと>の中にある、（ ）に共通して入る言葉を答えなさい。

問2 下線部①について。1996年に世界文化遺産に登録された、国際平和を訴えるシンボルとなっている日本の建物は何か。

問3 下線部②について。司法権をもつ裁判所のはたらきとして正しいものを、次のイ～へから二つ選び、記号で答えなさい。

- イ 法律が憲法に違反していないかを判断すること
- ロ 内閣が指名した最高裁判所長官を任命すること
- ハ 憲法改正の国民投票の実施を知らせること
- ニ 国民審査を行うかどうかの決定をすること
- ホ 犯罪について有罪か無罪かの判決を出すこと
- ヘ 弾劾裁判により裁判官をやめさせるかどうかを決めること

問4 3つのグループがあげた<実現したいこと>と直接関わりのない人権を、次のイ～ホから一つ選び、記号で答えなさい。

- イ 生存権
- ロ 環境権
- ハ 法の下での平等
- ニ 教育を受ける権利
- ホ 職業選択の自由

問5 日本国憲法前文には、選挙に関する次のような文章があります。文中の（ ）に共通して入る漢字3文字の言葉を答えなさい。

日本国民は、正当に選挙された国会における（ ）を通じて行動し、(中略)ここに主権が国民に存することを宣言し、この憲法を確定する。そもそも国政は、国民の厳粛な信託によるものであつて、その権威は国民に由来し、その権力は国民の（ ）がこれを行使し、その福利は国民がこれを享受する。(以下略)

問6 日本での選挙権の広がりについて、制度の変更があった年を基準に期間を分け、表にまとめました。①～④の期間に関する下のイ～ニの文のうち、正しくないものを一つ選び、記号で答えなさい。

	①1889年～1925年	②1925年～1945年	③1945年～2015年	④2015年～現在
選挙権を持つ人	一定以上の税金を納めた25歳以上の男性	25歳以上のすべての男性	20歳以上のすべての国民	18歳以上のすべての国民

- イ ①の期間に作られた議会のうち、貴族院の方は、国民が選挙で議員を選ぶことができなかった。
- ロ ②の期間に発布された大日本帝国憲法により、貴族院が廃止され、政党が作られた。
- ハ ③の期間に行われた戦後初の衆議院議員選挙で、女性の国会議員が誕生した。
- ニ ④の期間に、内閣総理大臣に女性が就任したことはないが、国務大臣に任命された女性はいる。

問7 実際の選挙では、各政党の主張する税金の集め方や使い道が大きな争点となります。

(1) 少ない年金や貯金のみで暮らす高齢者にとって、直接、生活の負担となるのはどのような種類の税ですか。3つのグループの<実現したいこと>の中にある、A～Dの税から一つ選び、記号で答えなさい。

(2) 税金の使い方が決まるまでの手続きとして正しいものを、次のイ～ニから一つ選び、記号で答えなさい。

- イ 国会が内閣に提出した予算案を閣議で審議した後、国会で議決する。
- ロ 国会で最も多くの議席をもつ政党が内閣に予算案を提出した後、閣議で決定する。
- ハ 内閣が国会に提出した予算案を国会で審議した後、国会で議決する。
- ニ 財務省が国会に提出した予算案を国会で審議した後、閣議で決定する。

問8 選挙の仕事は、地方自治に関する仕事を行う中央省庁が担っています。その中央省庁を、次のイ～へから一つ選び、記号で答えなさい。

- イ 内閣府
- ロ 経済産業省
- ハ 厚生労働省
- ニ 法務省
- ホ 国土交通省
- ヘ 総務省

問9 国政選挙が行われるたびに、憲法に違反しているとして、弁護士の団体などが選挙の無効とやり直しを求めて裁判を起こしています。なぜ憲法に違反し、選挙が無効であると主張されているのか、憲法の内容に触れて説明しなさい。

1

問 1	(1)	(2)	問 2		
問 3		問 4		問 5	
問 7					
問 8			問 9	問 (1) 10	(2)
問 11			問 12		
問 13	(1) 記号	島の名前	(2) 3番目		5番目
問 13	(3)				

2

問 1				問 2	
問 3	(1)	(2)			
問 3	(3)				
問 4			問 5	問 (1) 6	(2)
問 6	(3)	問 7			

3

問 1			問 2		問 3	
問 4		問 5		問 6		
問 7	(1)	(2)	問 8			
問 9						