

1 次の文章を読み、下の問に答えなさい。

世界には、毎日の食糧や住む家にも困るような、きわめて貧困な状態に置かれている人たちがいます。こうした人たちの多くは、紛争の起こっている地域や、①気候変動の影響で洪水や干ばつなどの自然災害が発生している地域で暮らしています。②世界の平和と安全を守るための活動をしている国際連合は、「貧困をなくそう」や「飢餓をゼロに」といった、2030年までに達成することをめざす17の目標を設けて、この問題に取り組んでいます。また、③国際的に活動するNGOも、重要な役割を果たしています。

それでは、日本はどうでしょうか。たとえば、一年間に国内で生産されたモノやサービスの規模の大きさを見てみると、④世界の国々の中でも、日本は経済的に豊かな国であるということが出来ます。しかし、現在の日本では、毎日働いているにもかかわらず、最低限の生活をするための収入さえも得られない人がいます。⑤アルバイトや派遣社員など〔 〕雇用労働者として働き、不安定な労働条件であるため将来に不安を持つ人や、大きく広がる感染症の影響で経済の状況が悪化し、仕事を失った人もいます。さらに、他の家庭の子どもに比べて経済的に苦しい状態にあり、さまざまな機会を奪われている子どもが、ひとり親世帯で特に多くなっています。⑥こうした人権を脅かす社会問題を解決し、⑦すべての人が安心して暮らせる社会をつくるのが、政治の役割です。問題の解決に向けて、⑧国が必要な予算を配分し、地方公共団体が苦しい状況にある人に支援を行うなど、今後も積極的な対策が求められます。日本の社会をよりよくしていくためには、私たちが政治に関心を持つことも大切です。

問1 下線部①について。2015年に開かれた国際連合の気候変動問題に関する会議では、発展途上国をふくむすべての国が温室効果ガスの排出を減らすことについて、取り決めが行われました。この取り決めを何といいますか。

問2 下線部②について。国際連合とその機関についての説明として正しくないものを、次のイ～ニから一つ選び、記号で答えなさい。

- イ 国際連合は、1945年に51か国が参加して発足し、現在は190か国以上が加盟している。
- ロ ユニセフは、世界各地で困難な状況にある子どもたちの、命と健康を守るために活動している。
- ハ ユネスコは教育、科学、文化の国際協力を通じて、世界の平和と安全を実現することを目的に活動している。
- ニ 安全保障理事会は、加盟国に軍隊の廃止を呼びかけ、紛争の解決と平和の実現に向けた活動をしている。

問3 下線部③について。NGOに関する説明としてふさわしいものを、次のイ～ニから一つ選び、記号で答えなさい。

- イ 各国で人権が侵されることがないように監視する活動を行う、国際連合により組織される団体のことである。
- ロ 国際連合で採択された条約にもとづき、人権保護を目的として各国の政府により組織される団体のことである。
- ハ 国際連合や各国の政府から独立して、世界の平和や人権、環境保護のために活動を行う民間団体のことである。
- ニ 利益の追求を目的として、発展途上国で道路や港湾、空港などの施設を整備している民間団体のことである。

問4 下線部④について。先進国であり経済的に豊かな日本は、発展途上国に対して資金援助や技術協力をすることで、国際協力を行っています。このうち、政府が中心となって行う協力を何というか、漢字で答えなさい。

問5 下線部⑤について。文章中の〔 〕に入る漢字3文字を答えなさい。

問6 下線部⑥について。日本国憲法が保障するいくつかの人権を次にあげました。下の問に答えなさい。

- A 思想や信教の自由
- B 教育を受ける権利
- C 仕事に就いて働く権利
- D 言論や集会の自由
- E 政治に参加する権利
- F 裁判を受ける権利

(1) 文章中には人権を脅かす社会問題がいくつかあげられています。A～Fのうち、それによって脅かされるおそれがある人権を2つ選び、記号で答えなさい。

(2) 貧困状態で暮らさなければならない人がいることに対して、「その人の努力不足の結果であり、個人の責任の問題である」という意見があります。A～Fの人権以外で、日本国憲法が保障する人権の一つあげ、この意見に対する反対意見を考えて書きなさい。

問7 下線部⑦について。

(1) すべての人が暮らしやすい社会をつくるためには、政治の働きが重要です。行政権を持つ内閣は、法律にもとづいて実際に国の政策を行います。内閣について説明した次の文中の（イ）（ロ）にふさわしい語句を入れなさい。なお、同じ記号の（ ）には同じ語句が入ります。

国会議員の中から、国会の議決で（イ）された内閣総理大臣が、国務大臣を任命し、内閣が組織される。

内閣は国会の（ロ）にもとづいて成立し、国会が内閣を（ロ）しない場合には、国会はその決議を行うことができる。

(2) 内閣の仕事として正しいものを、次のイ～ハから3つ選び、記号で答えなさい。

- イ 国会の召集を決める。
- ロ 衆議院の解散を決める。
- ハ 裁判官をやめさせるかどうかの裁判をする。
- ニ 外国と条約を結ぶ。
- ホ 憲法改正を発議する。
- ヘ 法律が憲法に違反していないか調べる。

問8 下線部⑧について。

(1) 近年の国の予算（一般会計）や財政に関する説明として正しくないものを、次のイ～ニから一つ選び、記号で答えなさい。

- イ 国会に提出される予算案の総額は100兆円規模になっている。
- ロ 歳入の8割以上を税金が占めている。
- ハ 歳出のうち社会保障に関する費用が最も多くの割合を占めている。
- ニ 税金でまかなえない分は国債を発行して補っている。

(2) 国の予算や財政についての仕事を行っている省庁はどこですか。

2 雙葉中学校がある東京都千代田区は、秋田県五城目町と群馬県嬭恋村と姉妹都市提携を結んでいます。これらに関連する下の問に答えなさい。

問1 東京都千代田区、秋田県五城目町、群馬県嬭恋村の気候を比べてみました。次のイ～ホから正しいものを一つ選び、記号で答えなさい。

- イ 冬に積雪量が多い五城目町に比べ、嬭恋村と千代田区は雪があまり降らず、降っても積もることは少ない。
- ロ 最も寒い月の平均気温で比べると、北に位置する五城目町よりも内陸の高原に位置する嬭恋村の方が気温が低い。
- ハ 千代田区や嬭恋村は夏に降水量が多いが、五城目町は夏も冬も降水量が多く、季節による降水量の変化がほとんどない。
- ニ 千代田区や嬭恋村の降水量は、梅雨や台風の影響を受けるが、五城目町の降水量は梅雨や台風の影響を受けない。
- ホ 最も暖かい月の平均気温で比べると、ビルが建ち並び、夏に南西の乾いた風が吹きこむ千代田区が、最も気温が高い。

問2 日本には多くの活火山があり、千代田区がある東京都、五城目町がある秋田県、嬭恋村がある群馬県にもそれぞれ活火山があります。3つの都県と火山の組み合わせとして正しいものを次のイ～ニから選び、記号で答えなさい。

- イ 東京都 - 三原山                      ロ 東京都 - 霧島山                      ハ 東京都 - 霧島山                      ニ 東京都 - 三原山
- 秋田県 - 鳥海山                      秋田県 - 御嶽山                      秋田県 - 浅間山                      秋田県 - 鳥海山
- 群馬県 - 御嶽山                      群馬県 - 浅間山                      群馬県 - 鳥海山                      群馬県 - 浅間山

問3 秋田県五城目町のすぐ西側には八郎潟干拓地があります。

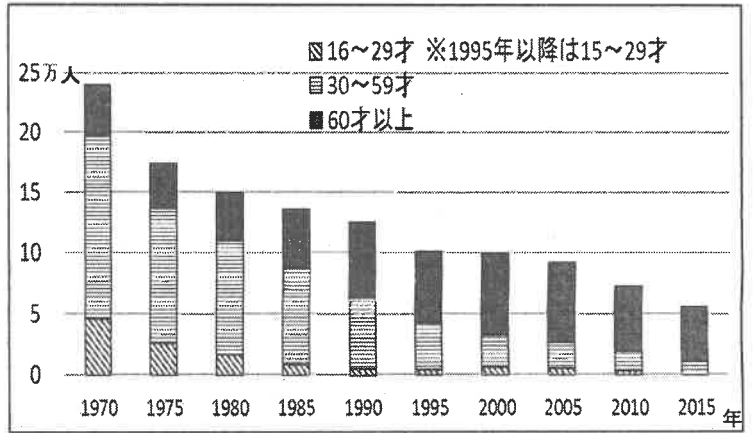
(1) 八郎潟干拓地の中央付近には北緯40度の緯線が通ります。次のイ～ホから北緯40度の線が通っていない国を2つ選び、記号で答えなさい。

- イ 大韓民国                      ロ 中華人民共和国                      ハ ミャンマー                      ニ アメリカ合衆国                      ホ スペイン

(2) 八郎潟干拓地の中央付近を通る経線の経度として正しいものを次のイ～ニから選び、記号で答えなさい。

- イ 東経125度                      ロ 東経130度
- ハ 東経135度                      ニ 東経140度

問4 五城目町には田園風景が広がり、農業が行われている様子が見られます。右のグラフは秋田県の農業人口の変化を示したもので、現在の日本の農業が抱える問題と同じ問題を抱えていることが読み取れます。グラフから読み取れる秋田県の農業の問題とは何か、考えて説明しなさい。

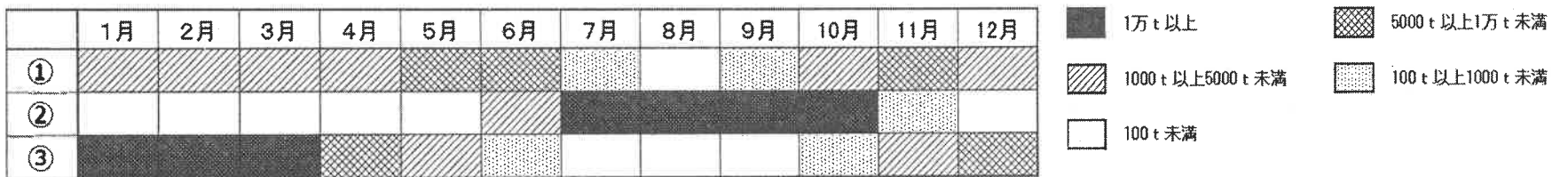


(農林水産省「農業構造動態調査」および「農業センサス」より作成)

問5 五城目町では江戸時代からたんすや建具などの木工品が作られてきました。この材料に秋田スギの天然林の木材も用いられています。次のイ～ニから秋田スギの天然林について説明したものとして正しいものを一つ選び、記号で答えなさい。

- イ 秋田スギの天然林は、秋田県から隣接する青森県にまたがり、世界自然遺産として登録されている。
- ロ 秋田スギの天然林は年々少なくなっており、植林を積極的に行うなどして天然林を保護している。
- ハ 秋田スギの天然林は青森のヒバ、木曽のヒノキとともに、日本の三大天然美林に数えられている。
- ニ 秋田スギの天然林は枝打ちや間伐などの手入れを行い、防風林や防雪林として多く利用されている。

問6 嬭恋村ではキャベツの生産がさかんで、嬭恋村をふくむ群馬県産のキャベツの多くが東京へ出荷されています。東京都中央卸売市場では、愛知県産、千葉県産、群馬県産のキャベツが取扱量の多くを占めています。次の図は、東京都中央卸売市場におけるこれら3県のキャベツの取扱量を、月ごとに示したものです。図中の①～③に当てはまる県の正しい組み合わせを下のイ～へから選び、記号で答えなさい。



(東京都中央卸売市場「市場統計情報(月報・年報)2020年」より作成)

- イ ① - 愛知県                      ロ ① - 千葉県                      ハ ① - 群馬県                      ニ ① - 愛知県                      ホ ① - 千葉県                      ヘ ① - 群馬県
- ② - 千葉県                      ② - 愛知県                      ② - 千葉県                      ② - 群馬県                      ② - 群馬県                      ② - 愛知県
- ③ - 群馬県                      ③ - 群馬県                      ③ - 愛知県                      ③ - 千葉県                      ③ - 愛知県                      ③ - 千葉県

問7 嬭恋村がある群馬県には、利根川の水源地があります。利根川について説明した次のイ～ニから正しいものを一つ選び、記号で答えなさい。

- イ 利根川は日本で2番目に長い河川で、流域面積も石狩川に次いで広く、下流域には琵琶湖の次に大きい霞ヶ浦がある。
- ロ 利根川は、群馬県、福島県、栃木県、茨城県、東京都、千葉県など複数の都県をまたいで流れている。
- ハ 利根川の河口付近にある銚子港の近海は利根川の水と親潮、黒潮が交わり、プランクトンが豊富な好漁場となっている。
- ニ たびたび氾濫をおこした利根川は、治水や利水の工事が何度も行われ、流路を西へ大きく変えられて現在の流れになった。

問8 群馬県は、日本のなかでも早くから工業化が進められてきた地域です。群馬県の工業を説明したものとしてふさわしいものを、次のイ～ホから一つ選び、記号で答えなさい。

- イ かつてさかんであった鉄鋼業が炭鉱の閉山とともに衰退したが、現在は自動車工業が発達している。
- ロ 造船業や繊維工業に加えて石油化学コンビナートや製鉄所が進出すると、工業地域として急速に成長した。
- ハ かつて繊維工業がさかんであったが、高速道路など道路網の整備が進むと自動車工場や機械工場が多く立つようになった。
- ニ 内陸の地域にも空港が建設され、原料や製品の輸送が便利になると、特に空港周辺に集積回路など半導体産業が発達した。
- ホ 窯業や繊維工業に加えて石油化学工業や自動車工業も発達し、自動車部品をつくる関連工場が多く集まっている。

問9 東京都と秋田県、群馬県の郷土料理について調べてみると、その土地でよくとれる産物を使った料理や風土にあった調理法があることがわかりました。東京都、秋田県、群馬県のいずれの郷土料理にもあてはまらないものを、次のイ～ニから一つ選び、記号で答えなさい。

- イ 特産品であるこんにゃく芋を、生のまますりおろしてこんにゃくを作り、刺身や味噌をつけた田楽などにした。
- ロ 暖かく湿気の多い地方で食べ物の保存性を高める工夫として、魚のすり身に豆腐などを混ぜたものを油であげた。
- ハ うるち米をつぶして、棒に塗りつけて焼いたものを、地鶏やきのこ、ねぎ、ごぼうなどと鶏ガラ出汁で煮込んだ。
- ニ かつてたくさんあった干潟で豊富にとれたあさりなどの貝を、ねぎなどと一緒に味噌で煮込んでご飯にかけた。

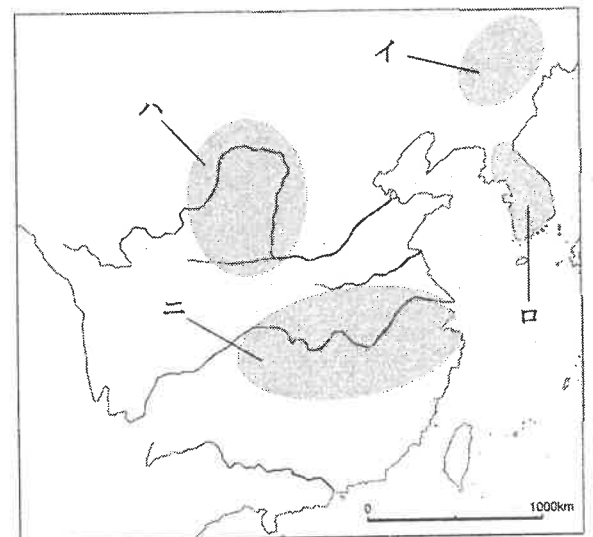
3 次に日本の歴史についての文を並べてみました。各文を読み、下の問に答えなさい。

- A 古墳時代の人々は、各地で勢力を伸ばした有力な豪族に支配され、古墳づくりや米づくりなどの労働力として使われた。
- B 律令にもとづき、人々は戸籍に登録されたうえで国から田を分け与えられて耕作し、税や労働、兵役など多くの義務を負った。
- C 開発した田畑を守るために武芸にはげんだり、都の警備などの任務についたりした人々の中から、武芸を専門とする武士が現れた。
- D 幕府が定めた身分制度のもとで、百姓は幕府や藩に年貢を納め、町人は商業や手工業の仕事を営み、税を納めた。
- E 村に住む人々が寄合を開いて話し合いを行い、きまりをつくって村を運営し、団結して幕府や守護大名にも対抗した。
- F 軍隊や税の制度の改革が行われ、20歳以上の平民の男子も軍隊に入ることになり、土地の所有者が現金で税を納めることになった。
- G 憲法で言論・出版・集会・結社の自由の権利が認められ、衆議院議員選挙法により国民の一部に選挙権も与えられることになった。
- H 日本による植民地政策により、土地を失った朝鮮の人々の中には、日本人地主から土地を借りて小作人になる人が現れた。
- I 「満州国」の建国の後に政府の強力な呼びかけに応募し、多くの人々が軍事などの訓練を受けて満州に移住した。
- J 連合軍による占領が始まった時から連合軍が撤退するまでの間に、初めて女性の選挙権が保障されるなど、社会が大きく変わった。
- K 高度経済成長が続く中、農村から都市に出稼ぎに行く人や、地方から都市の工場に就職する10代の若者が増えた。
- L アイヌ民族の伝統と文化を尊重するために「アイヌ文化振興法」が制定され、アイヌの人々をめぐる新しい動きが起こった。

問1 A～Lを年代順にするためには、A～Hまでの間の記号を入れかえる必要があります。どれとどれを入れかえれば良いか、記号で答えなさい。

問2 Aについて。

- (1) この時代の豪族の説明として正しいものを、次のイ～ニから一つ選び、記号で答えなさい。
  - イ くにぐにの争いが続いたため、豪族が相談して卑弥呼を王に立てた。
  - ロ 冠位十二階の制度により、豪族はみな能力や功績に応じて役人に取り立てられた。
  - ハ 九州から東北の豪族の中には、大王と同じように前方後円墳をつくった者がいた。
  - ニ 古墳の石室には、豪族の権力の象徴として銅鐸や土偶が納められた。
- (2) 日本に伝わった米づくりは、大陸で始まりました。米づくりは右の地図のイ～ニのどこで始まったと考えられているか、記号で答えなさい。



問3 Bについて。

- (1) 7世紀に律令をつくる努力が行われました。7世紀の出来事を次のイ～へから3つ選び、出来事が起こった順に記号を並べなさい。
  - イ 中大兄皇子が蘇我氏を倒す。
  - ロ 平城京に都が移される。
  - ハ 東大寺の大仏が完成する。
  - ニ 藤原京が築かれる。
  - ホ 小野妹子が隋に派遣される。
  - へ 唐が滅亡する。
- (2) 人々は、分け与えられた田から収穫した稲の一部を税として納めました。その税を何といいますか。
- (3) 律令にもとづいた政治は、やがて定められた通りに税や労働力、兵士が集められなくなり、行きつまりました。その原因となった、重い負担にたえられなくなった人々がとった行動について、「戸籍」という語句を使って説明しなさい。

問4 Cについて。武士はこの後勢力を伸ばしていきました。各時期の武士についての説明として正しくないものを、次のイ～トから2つ選び、記号で答えなさい。

- イ 源氏や平氏が、藤原氏や天皇家の人々につかえ、その身の安全を守る役割を果たした。
- ロ 平氏は大武士団を率いるようになり、西国を中心に勢力を広げた。
- ハ 鎌倉時代のすべての武士が、御恩と奉公の関係を将軍と結び、御家人となった。
- ニ 室町時代になると、書院造の部屋がある屋敷に住む武士が現れた。
- ホ 織田信長の家来の武士たちは、安土城のまわりに呼び寄せられて住んだ。
- ヘ 江戸時代には、庄屋などの村役人の地位についた武士が百姓から年貢を集めた。
- ト 明治時代に武士は士族とされ、政府の改革への不満を高めて反乱を起こした。

問5 Dについて。

(1) この身分制度は、豊臣秀吉の政策によって成立していったしくみを発展させたものでした。身分の区別や固定化を進めた秀吉の政策に刀狩令があります。その内容にふさわしい語句を、下の〔 〕に10字以内で書きなさい。

武器を所有し、年貢を出ししぶり、〔 〕者は処罰される。

(2) 百姓が生産した作物を使って、手工業を営む職人が製品をつくりました。作物と製品の組み合わせとして正しくないものを、次のイ～ホから一つ選び、記号で答えなさい。

- イ 藍—染め物      ロ 漆—塗り物      ハ 米—酒      ニ 菜種—しょう油      ホ 麻—織物

(3) この時代は、百姓や町人の子どもたちも「読み・書き・そろばん」などの教育を受けることができました。その教育施設を何といいますか。

問6 Eのように、住民同士で話し合っただけで決めたことにもとづいて、村を運営することを何というか、漢字2文字で答えなさい。

問7 Gについて。この憲法で定められている国民の自由の権利について、下の〔 〕にふさわしい語句を入れなさい。

国民は〔 〕の範囲の中で言論・出版・集会・結社の自由をもつ。

問8 Iについて。次のイ～へのうち、Iの下線部の出来事に最も時期が近いものを選び、記号で答えなさい。

- イ アメリカで始まった不景気が世界中に広がり、日本もその影響を受けてますます景気が悪くなっていった。
- ロ 日本に関税自主権がなかったため、イギリスなどから安い綿織物が輸入され、国産の綿織物が売れなくなった。
- ハ 関東大震災で東京や横浜が深刻な被害をうけ、多くの犠牲者が出るとともに会社や工場の倒産があいついだ。
- ニ 繭などの値段が下がったため、多くの借金を抱えた秩父地方の人々が、高利貸しや役所などを襲った。
- ホ 第一次世界大戦の主な戦場だったヨーロッパ諸国の産業が立ち直ったため、日本の輸出が減少した。
- ヘ 水俣病などの公害病を引き起こしたとして、いくつもの会社が住民に訴えられ、裁判で会社の責任が追及された。

問9 Iの下線部からJの下線部までの間の出来事を次にあげました。時期の早い順に並べた時に3番目と6番目となるものを選び、記号で答えなさい。

- イ 日本が国際連盟を脱退する。      ロ 日中戦争が始まる。      ハ 広島に原子爆弾が投下される。
- ニ アメリカ軍が沖縄島に上陸する。      ホ 二・二六事件が起こる。      ヘ 日本軍がハワイの真珠湾を攻撃する。
- ト 日独伊三国同盟が結ばれる。

問10 Jについて。

(1) 日本が連合軍に占領されていた時期の出来事ではないものを、次のイ～トから2つ選び、記号で答えなさい。

- イ 日本国憲法が施行される。      ロ 労働者の権利が保障される。
- ハ 小学校6年間・中学校3年間で義務教育となる。      ニ 自衛隊が発足する。
- ホ 日米安全保障条約が結ばれる。      ヘ 朝鮮戦争が始まる。
- ト 日本が国際連合に加盟する。

(2) 日本は連合軍が出した宣言を受け入れ、連合軍に占領されることになりました。その宣言を何といいますか。

問11 Kについて。高度経済成長が続いていた時期の日本の説明として正しくないものを、次のイ～ニから一つ選び、記号で答えなさい。

- イ 東京で高速道路や地下鉄の建設が進み、大阪まで東海道新幹線が開通した。
- ロ 電気冷蔵庫や電気洗濯機が家庭に広まり、暮らしが便利になっていった。
- ハ 日本企業の工場の海外進出が進み、自動車の海外生産の台数が国内生産の台数を上回った。
- ニ 安価な石油が大量に輸入され、主要なエネルギー資源が石炭から石油に変わった。

問12 Lについて。明治時代に行われた政策が大きなきっかけとなり、アイヌ独自の文化が失われていきました。かつてのアイヌの人々の伝統的な暮らしを支えていた、主な生活手段を2つ答えなさい。

