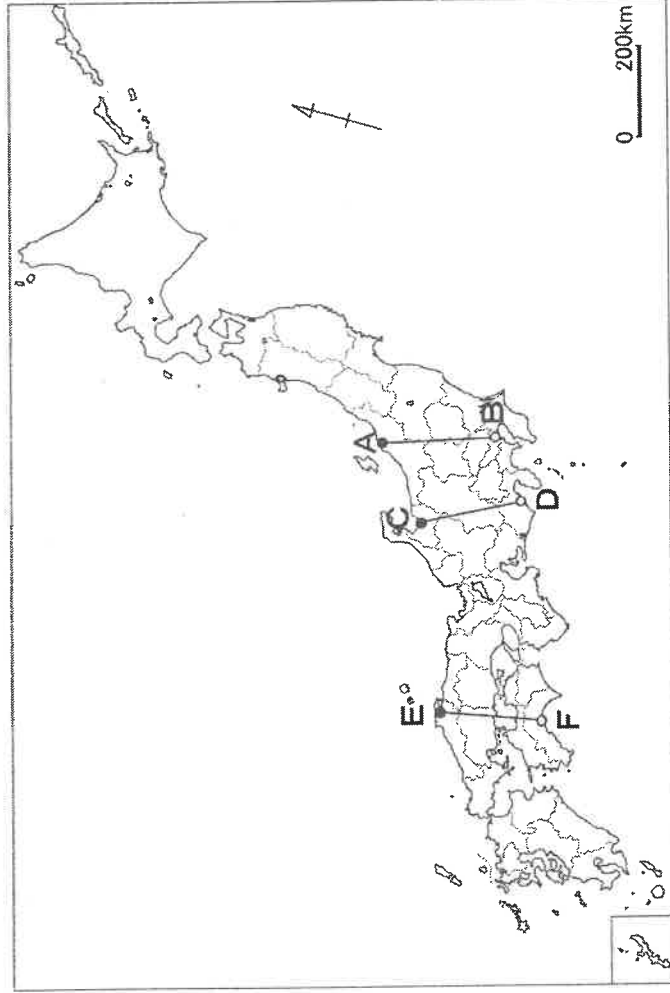


1 次の地図を見て、下の問に答えなさい。地図中のA～Fの地点は、全国の都道府県庁所在地のうちの6つを示しています。




問1 地図中のA～Fの中には、日本の湖の中で面積の大きさが10位以内である2つの湖に面している都市があります。それはどこか、A～Fの中から一つ選び、その都市名を答えなさい。

問2 地図中のA～Fの都市は、河川が流れる平野に位置しています。次のイ～ホに、日本各地の河川と平野の組み合わせをあげました。正しくないもの一つを選び、記号で答えなさい。

- イ 淀川・大阪平野 ロ 北上川・仙台平野
- ハ 筑後川・筑紫平野 ニ 天竜川・濃尾平野
- ホ 最上川・庄内平野

問3 右の図は、地図中のA—B、C—D、E—Fのいずれかの線に沿った地形の断面図です。断面図中の●印と○印は地図中の●印と○印に対応しています。
(横軸の距離に対し、縦軸の高さは約20倍で表現しています。)



(1) 地図中のどの線の断面図を表しているか、次のイ～ハから選び記号で答えなさい。

- イ A—B ロ C—D ハ E—F

(2) 断面図中の●印で示された都市の1月と7月の平均気温と降水量を次のイ～ニから選び、記号で答えなさい。

	イ	ロ	ハ	ニ
気温(℃)	6.7	17.0	2.7	24.9
降水量(mm)	75.0	107.0	259.5	240.4

	イ	ロ	ハ	ニ
気温(℃)	-3.6	2.7	24.9	20.5
降水量(mm)	113.6	259.5	240.4	81.0

(『理科年表2020』より作成)

問4 地図中のC—Dの線が通る内陸県に最も多く設置されている発電所としてふさわしいものを、次のイ～ニから選び記号で答えなさい。

- イ 地熱発電所 ロ 原子力発電所 ハ 水力発電所 ニ 風力発電所

問5 地図中のA～Fの都市とその周辺では、それぞれ異なる産業が発達しています。これらの地域の産業について述べた文として、正しくないものを次のイ～ハから二つ選び、記号で答えなさい。

- イ Aは大きな河川の河口に位置し、周辺には水田地帯が広がっており、特にコシヒカリの栽培がさかんである。
- ロ Bには多くの中小工場があり、そこで生産された工業製品は、現在、主に鉄道や船で日本各地へ運ばれている。
- ハ Cの周辺では稲作がさかんであるが、かつてこの地域を流れる河川にカドミウムが流れこみ、水田が被害を受けた。
- ニ Dが面する湾に沿った丘陵には、段々畑も見られ、温暖な気候を生かしたみかん栽培がさかんである。
- ホ 近海が対馬海流とリマン海流がぶつかる好漁場であるため、E周辺の漁港はマグロやカツオの水揚げ量が日本有数である。
- ハ 近海を流れる黒潮による温暖な気候を生かし、F近郊のビニールハウスでは、夏が旬の野菜を冬に栽培している。

問6 地図中のE、Fが位置する中国・四国地方の山村や瀬戸内海の離島などでは、人びとが他の地域へ流出する動きが見られます。このように、人口が大きく減少して、住民が生活を何となくしている状態を何と云いますか。

問7 地図中のBには、日本各地や海外からさまざまな物資が集まっています。

(1) Bにある港の、輸入額と輸出額の多いそれぞれ上位3品目として、正しいものを次のイ～ニから選び、記号で答えなさい。

イ

輸入品目	輸出品目
1位 通信機	科学光学機器
2位 医薬品	金(非貨幣用)
3位 集積回路	集積回路

ロ

輸入品目	輸出品目
1位 石油	石油製品
2位 液化ガス	鉄鋼
3位 自動車	自動車

ハ

輸入品目	輸出品目
1位 衣類	自動車部品
2位 コンピュータ	コンピュータ部品
3位 魚介類	内燃機関

ニ

輸入品目	輸出品目
1位 液化ガス	自動車
2位 衣類	自動車部品
3位 石油	金属加工機械

『日本国勢図会 2019/2020 年版』より作成)

(2) 地図中のBの都市は、日本の中でも特に人口が多く、たくさんの食料が消費されています。日本では、食品が食卓に届くまでに消費される燃料や二酸化炭素の排出量が、アメリカやイギリスに比べてはるかに多くなっています。それはなぜか、考えを説明しなさい。

2 次の各文は年代順に並んでいます。これらの文を読み、下の間に答えなさい。

約 2300 年前、①大陸から朝鮮半島を通じて、米づくりが日本の九州に伝わった。

く A 〉

3 世紀前半に、②邪馬台国の女王卑弥呼が魏に使節を派遣した。

く B 〉

中大兄皇子と中臣鎌足らが蘇我氏をたおし、唐にならって政治改革を始めた。

く C 〉

菅原道真の意見によって、遣唐使の派遣が中止された。

く D 〉

③元の大軍が、2 度にわたって九州北部に攻めてきた。

く E 〉

④室町幕府の3代将軍足利義満が、明に使節を派遣した。

く F 〉

宣教師フランシスコ・ザビエルが来日し、⑤キリスト教が伝わった。

く G 〉

⑥江戸幕府がオランダ商館を平戸から長崎の出島に移し、鎖国が完成した。

く H 〉

日清戦争の少し前から⑦日本国内で紡績業がさかんになり、各地に工場が建設された。

く I 〉

1933 年に、⑧日本は国際連盟を脱退した。

く J 〉

⑨日本は、アメリカなど48カ国との間でサンフランシスコ平和条約を結び、アメリカと⑩日米安全保障条約を結んだ。

く K 〉

1972 年に、日本と⑪中華人民共和国の国交を正常化することが宣言された。

く L 〉

問1 次のあ～おは、上のA～Lのどの時期に起きたか。それぞれ選び、記号で答えなさい。

あ 源義経が壇ノ浦で平氏をほろぼした。

う 日本が朝鮮を植民地にした。

え 中国から鑑真が来日した。

お 日本の国民総生産額が初めて世界第2位になった。

問2 下線部①について。次のイ～ホのうち、本格的に米づくりをしていたことがわかる遺跡で、最も東にあるものを選び、記号で答えなさい。

イ 大森貝塚

ロ 板付遺跡

ハ 三内丸山遺跡

ニ 登呂遺跡

ホ 吉野ヶ里遺跡

問3 下線部②について。邪馬台国は、当時の日本の中で強い勢力の一つでしたが、そのような邪馬台国の卑弥呼が、わざわざ遠く離れた魏まで使節を派遣したのはなぜですか。説明しなさい。

問4 下線部③について。この時の鎌倉幕府の執権を答えなさい。

はな

問5 下線部④について。足利義満は文化を保護したことでも知られています。室町時代の文化についての説明として、正しいものを次のイ～ホから一つ選び、記号で答えなさい。

イ 観阿弥・世阿弥の親子によって狂言が大成された。

ロ 京都の東山に豪華な2階建ての金閣が建てられた。

ハ 有田焼や薩摩焼などの陶磁器がつくられるようになった。

ニ 現在の和室にうけつがれている寝殿造りの様式がうまれた。

ホ 石や砂を用いて自然の風景をあらわす枯山水の庭園がつくられた。

問6 下線部⑤について。キリスト教を信仰する九州の戦国大名たちが、1582年に4人の少年を使節として派遣しました。この使節たちが、カトリック教会における最高位の人物と会った都市はどこですか。

問7 下線部⑥について。

(1) この時の将軍の時代に行われたこととして、正しいものを次のイ～へから二つ選び、記号で答えなさい。

イ 参勤交代の制度が確立された。

ロ 豊臣氏がほろぼされた。

ハ 大塩平八郎の乱が鎮圧された。

ニ 前野良沢たちがオランダ語の医学書を翻訳した。

ホ 日光東照宮が建てなおされた。

へ 伊能忠敬が全国の測量をすすめた。

(2) 鎖国が完成する以前の江戸時代の初めには、東南アジアなどに多くの貿易船が向かい、各地に日本町もつくられました。これらの貿易船に対して、幕府が発行した許可証を何とといいますか。

問8 下線部⑦について。この後、国内で紡績業がさらに発展すると、紡績業に用いられる原料が輸入品の中心になっていきました。この原料とは何ですか。

問9 下線部⑧について。日本が国際連盟を脱退したのは、日本がつくったある国が承認されなかつたからです。ある国の名前を答えなさい。

問10 下線部⑨について。48カ国の中には、ソ連などが入っていませんでした。その背景には、この頃アメリカを中心とする国ぐいと、ソ連を中心とする国ぐいへの間の対立がありました。この対立を何とといいますか。

問11 下線部⑩について。この条約を結んで以来、アメリカは日本に基地をおいて使用し続けています。現在、米軍基地が最も集中している日本の都道府県はどこですか。

問12 下線部⑪について。次のイ～ホのうち、中華人民共和国の建国と最も近い時期に起きた出来事を選び、記号で答えなさい。

イ 第一次世界大戦が始まった。

ロ 西南戦争が始まった。

ハ 朝鮮戦争が始まった。

ニ 日露戦争が始まった。

ホ 日中戦争が始まった。

3 次の葉子さんと花子さんの会話文を読み、下の問に答えなさい。

葉子：今日本では、政治、経済、教育、暮らし、①外国とのかかわり方などについて、さまざまな問題があるようね。

花子：問題が大きいと、私たちは不安におちいり、情報を正しく受け取り、適切に判断したりすることが難しくなるね。テレビやインターネットで次から次へと流れてくる情報の中で、何が正しいのかわからないことがあるわ。

葉子：②誤った情報が広がってしまうこともあるし、社会不安から差別も起きるのかな。社会の授業で過去にもあった、と習ったわ。

花子：最近、経済や国の財政も悪くなっていて、この先も国民が納める税金が減り、使われる税金がますます増えていくみたい。

こんな中で、③大きな災害などが起こると、日常生活が送れなくなるね。高齢者や小さな子どもは特に大変だと思う。

葉子：そういうことがないように、④国は政治で人びとの暮らしを支えてほしいな。⑤国民から集めた税金を有効に使うことが大切よね。⑥憲法の精神に立ちかえって、特に弱い立場の人びとの基本的人権を考えなければならぬと思う。

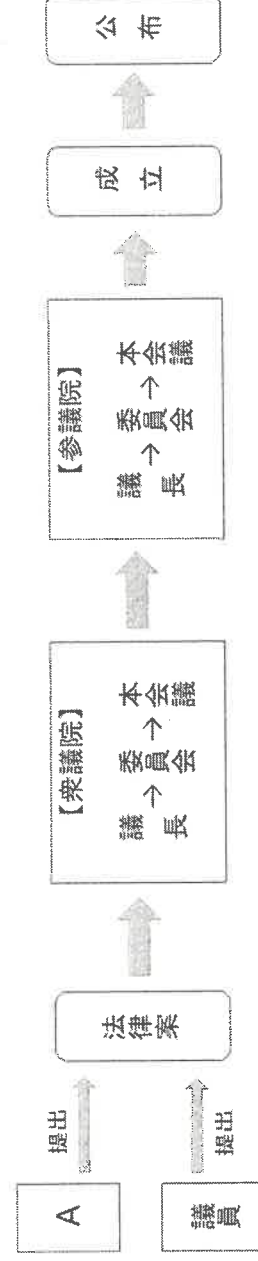
問1 下線部①について。現在、日本には300万人近い外国人が暮らしています。その中で、日本の企業や農家などで一定期間学び、日本の進んだ技術を身につけ、母国でその技術を伝えることを目的に日本で生活している外国人のことを、何といいいますか。

問2 下線部②について。次のイ～ホは、過去の日本において、誤った情報や社会不安が広がったことによって起こった差別や事件について説明しています。このうち、正しくないものを一つ選び、記号で答えなさい。

- イ かつては治療しても治らないと考えられたハンセン病の患者は、法律により社会から切り離された生活を強いられ、元患者やその家族が病気への偏見で苦しめられた。
- ロ 広島や長崎で原子爆弾の被害にあった人びとは、放射能の影響による後遺症を抱えただけでなく、結婚や就職など社会生活においても周囲の人びとからの偏見や差別に苦しんだ。
- ハ 関東南部で起こった関東大震災では、キリスト教徒たちが震災後の混乱の中で暴動を起こすといううわさが流れ、多くのキリスト教徒が迫害された。
- ニ 熊本県で発生した水俣病は、はじめは公害が原因だとわからず、空気などを通して人から人へとうつる病気であるなどと誤解され、患者たちは差別を受けた。
- ホ 東日本大震災による福島第一原子力発電所の事故のあと、放射性物質が拡散した地域から避難した人の中には、それを理由に移住先でいじめにあう人もいた。
- 問3 下線部③について。災害やそれにとまなう経済の悪化などで不自由な生活が続くと、国民の権利が十分に守られなくなるおそれがあります。この例として、次のイ～ニからふさわしくないものを一つ選び、記号で答えなさい。
- イ 避難所での生活で医療や介護が受けられない高齢者の中には、健康で文化的な生活を営む権利をおびやかされる人もいる。
- ロ 災害で経済が悪化すると、学生の中には学費などがはげはげと、教育を受ける権利を十分に行使できなくなる人がある。
- ハ 地震による被害を受けた地域で、人の往来や商店の営業が制限されると、職業を選ぶ自由を行使できなくなる人もいる。
- ニ 台風や集中豪雨が続いたことによって、住む家や土地を失った人の中には、生命・身体の自由を侵害される人がある。
- 問4 下線部④について。

(1) 日本の政治のしくみについての説明として正しくないものを、次のイ～ニから一つ選び、記号で答えなさい。

- イ 裁判所の違憲審査や、内閣による天皇の国事行為への助言と承認は、三権分立のしくみの一つである。
- ロ 国会は二院制をとり、衆議院は議員の任期が4年で解散があり、参議院は議員の任期が6年で解散がない。
- ハ 内閣総理大臣は、行政機関である各省の大臣を任命し、閣議を開いて国の政治の方針を相談して決める。
- ニ 裁判は原則として公開され、判決の内容に納得できない場合は、3回まで裁判を受けることができる。
- (2) 法律が成立するまでの流れを表した次の図を参考に、下の<説明文>のAにはふさわしい語句、Bには文を入れなさい。



<説明文>

法律案はAや国会議員が作成して国会に提出し、委員会での審議を経て本会議で議決されると、法律として成立する。図のように、話し合いを衆議院と参議院でそれぞれ行う目的は、B。

問5 下線部⑤について。現在、国が1年間に必要とするお金は、国民が納める税金だけでは足りません。今後この傾向は強まると考えられ、その理由の一つに少子高齢化があります。なぜ少子高齢化によって税金が不足すると考えられるのか、理由を説明しなさい。

問6 下線部⑥について。以下は、日本国憲法の3つの原則を説明した文です。憲法条文にある語句を使って、(イ)～(ハ)にふさわしい語句を入れなさい。なお、同じ記号の()には同じ語句が入ります。

日本国憲法では、政治の主人公は国民であることを定めています。憲法前文や第1条では、(イ)が国民にあることを宣言しています。また、第11条では、この憲法が国民に保障する基本的人権は、侵すことのできない(ロ)の権利として、現在および将来の国民に与えられているとしています。第9条では、日本国民は国権の発動たる戦争と、武力による威嚇または、武力の行使は、国際紛争を解決する手段としては、(ハ)にこれを(ハ)する、と定めています。

1

問 1	問 2	問 3	問 (1)	(2)	問 4
問 5	問 6	問 (1)		問 7	
問 7	(2)				

2

問 1	あ	い	う	え	お	問 2
問 3						
問 4	問 5	問 6				
問 7	(1)	(2)	問 8			
問 9	問 10	問 11	問 12			

3

問 1	問 2	問 3	問 (1)	問 4
問 4	(2)	B		
問 5				
問 6	イ	ロ	ハ	