

1 次の文章を読んで、下の問に答えなさい。

世界の情勢はめまぐるしく変化しています。変化の中にあっても、国と国とが助け合い、互いに協力する関係を築いていかなければなりません。戦争のない平和な世界と安定した暮らしを、世界中の誰もが願い求めています。

1945年に発足した①国際連合は、二度の世界大戦への反省からつくられた国際機関です。これまで国連は、②戦争や紛争を防ぎ、停戦を働きかける努力をしてきましたが、今なお、世界各地にたくさんの争いが残っています。今後も、③国や地域をこえて平和を実現していくというその努力が、国際社会に求められています。④日本も、周りの国々との関係を大切にしていかなければなりません。

世界で起こる政治や経済の動きに目を向けて、自分の暮らす社会を振り返ることも、とても大切なことです。これまで日本を含め多くの先進国は、資源を大量に消費して経済成長を続け、発展してきました。しかし、いくつかの先進国では、さまざまな事情により財政が行きづまりをみせています。⑤EU諸国の財政危機は、特にその影響の広がりが心配されています。アメリカや⑥日本の財政も良い状態とはいえ、国民生活の安定がゆらぎ始めています。また、経済発展から取り残された貧しい国や地域では、多くの人々が食料不足による飢えや病気で苦しんでいます。こうした地域と先進国との格差もますます広がっています。

多くの難題の解決にむけて、私たち一人ひとりが⑦国や地域の政治に積極的に参加して、より良い社会をつくっていかねばなりません。

問1 下線部①について。世界のどこかで争いが起こったときに、国連でもっとも重要な働きをしている安全保障理事会は、常任理事国と非常任理事国で構成されています。5つの常任理事国だけが使うことのできる権利がありますが、それは何ですか。

問2 下線部②について。

(1) 国際的に解決が求められているものに、パレスチナ地域の問題があります。次のイ～ホの中から、この地域の争いについて説明しているものを一つ選び、記号で答えなさい。

- イ 大国同士の対立に巻き込まれて南北に分けられた国が戦場となった。
- ロ 多くの言語・宗教が混じりあう地域で資源をめぐる紛争が続いている。
- ハ 政府軍と反政府軍が国民を巻き込んで争いを続けている。
- ニ 領土などをめぐり宗教の異なる二つの民族が争ってきた。
- ホ 少数民族が大国の支配から独立をめざす運動を展開している。

(2) カンボジア内戦中に使用されたある兵器が、戦後もそのまま放置され人々の生活をおびやかしました。国連は1997年にこの兵器を使用・製造・入手・保有することを全面禁止する条約を採択し、多くの国が署名してきました。ある兵器とは何ですか。

問3 下線部③について。例えば「国境なき医師団」のように、平和や人権、医療などの問題にどこか一つの国のためではなく、国の違いをこえて協力して取り組んでいる民間の団体のことを何といいますか。3文字で答えなさい。

問4 下線部④について。次のイ～ニは日本と外国との関係について述べています。正しくないものを一つ選び、記号で答えなさい。

- イ ソ連とは1956年の日ソ共同宣言で国交が開かれたが、ロシアとは平和条約を結んでいない。
- ロ 韓国とは1965年に日韓基本条約が結ばれたことによって、国交が開かれた。
- ハ 中国とは1972年に日中平和友好条約が結ばれたことによって、国交が開かれた。
- ニ 北朝鮮とは2002年に日朝首脳会談が行われたが、国交は開かれていない。

問5 下線部⑤について。次のイ～ホの中で、現在EUに加盟していない国を一つ選び、記号で答えなさい。

- イ フランス                      ロ スイス                      ハ ドイツ                      ニ イギリス                      ホ ギリシャ

問6 下線部⑥について。日本の財政は国民の税金でまかなわれています。次のA～Fは、国民が税金を納めてから使われるまでの過程を順番に説明しています。

- A 税金は、会社員の給与、商店や会社の利益、買った商品などにかけている。
- B 何に、どのくらい税金を使うかについては、**税務署**が予算案をつくり、国会に提出する。
- C 予算案については、**国会**で、その計画で良いのかを話し合い、多数決で決める。
- D 決められた予算の内容が、憲法に違反していないかどうかを、裁判所が審査する。
- E **内閣**のもとで内閣府と各省庁が、決定した予算にしたがって、仕事を分担して進める。
- F 税金は、公共施設の建設や国民の教育、社会保障など私たちの生活のために使われる。

(1) A～Fの中に、必要のない手続きがあります。一つ選び、記号で答えなさい。

(2) □の語句の中に、誤っているものが一つあります。その語句を抜き出し、正しく直しなさい。

問7 下線部⑦について。日本では、私たち一人ひとりが政治に参加する権利をもち、そのための制度が整えられています。次のイ～ホの中から、説明文の内容が正しくないものを一つ選び、記号で答えなさい。

- イ 選挙権 ……20才以上で国会議員や都道府県知事を選ぶことができ、25才以上で立候補をすることもできる。
- ロ 国民主権 ……国会議員は、公正な選挙によって選ばれた国民の代表として、国会で話し合いをしている。
- ハ 国民投票 ……憲法改正には、国会で提案され話し合われたあと、国民投票によって承認されることが必要である。
- ニ 国民審査 ……最高裁判所の裁判官をやめさせるかどうかについては、国民が投票によって審査することができる。
- ホ 住民投票 ……地方公共団体がその地域に住む人々の暮らしに関わる重要な政策・問題について、住民の意思を問う。


- 2 日本の歴史を見ると、政治や社会が大きく変化した時期が何度かあります。次のA～Iの文章を読んで下の間に答えなさい。
- A 日本列島に住む人々は、①今から1万数千年前頃から土器をつくり、狩りや採集・漁を中心とした生活をしていましたが、大陸から移り住んだ人々によって米づくりが伝えられると、農耕を中心とする生活に移行した。やがて日本の各地に、「むら」をまとめた「くに」を治める豪族や王があらわれた。
- B 古墳は九州から東北地方までの各地に見られるが、大きな前方後円墳を数多くつくらせた近畿地方の王たちは、連合してより大きな「くに」をつくった。その政府を大和朝廷、政権の中心となった王を大王とよぶ。②ワカタケル大王の頃には、大和朝廷が九州から関東地方あたりまでの豪族や王をしたがえ、日本列島の大部分に強い影響力をもつようになった。
- C 蘇我氏が天皇をしのぐほど勢力を強めたため、中大兄皇子と中臣鎌足が協力して蘇我氏をたおし、天皇を中心とする国づくりを始めた。それ以後も改革が進められ、③律令にもとづいた政治のしくみが整えられた。
- D 朝廷や貴族につかえていた武士の中から大きな力をつけていくものがあらわれた。④12世紀の半ばに都で起こった戦いで平氏が源氏をやぶり、平清盛が高い地位にのぼった。やがて清盛は朝廷の政治を思うままに動かすようになったが、貴族や武士の反感が高まって戦いが起こった。平氏をたおした源頼朝は、御家人との間に⑤土地を仲立ちとする関係を築き、幕府による政治を始めた。
- E 豊臣秀吉は大阪城を築いて政治の拠点とし、一向宗の勢力やほかの大名をおさえて全国を統一した。こうして、長い間続いた戦いが終わり、新しい時代が切り開かれていった。秀吉は、⑥武士・町人・百姓の身分の区別をはっきりとさせ、武士が支配する社会のしくみを整えていった。
- F 民衆の力が高まり、自治を行うまでになった。農民は村に住む武士と力を合わせ、⑦共通の目的のために団結して行動するようになり、領主の支配に対抗した。また、おきてをつくって自分たちの手で村を治めた。⑧応仁の乱で焼け野原になってしまった京都では、商人や手工業者が力を合わせて町を立て直した。外国との貿易で栄えた堺では、大商人が中心となって自治を行った。
- G 幕府が開かれた最初の頃は、朱印状をもったたくさんの貿易船が東南アジア各地に向かい、多くの日本人が住み着いた。また、とだえていた朝鮮との国交も回復し、多くの外国船が日本の港にやってきた。外国との交流がさかんになるとキリスト教の信者も増えたため、幕府は政策を変え、キリスト教を厳しく禁止するようになった。そして、⑨「鎖国」の体制が成立した。
- H 政府は首都を東京に移して、⑩欧米諸国とも本格的な交流を始め、諸外国に対応する必要から、全国に対する支配の強化につとめた。旧幕府勢力を武力でたおし、廃藩置県・地租改正により行政・財政のしくみを変え、⑪身分制度を廃止した。さらに軍事力・経済力を強めるための⑫富国強兵・殖産興業政策を進め、⑬学校教育も重視した。
- I 世紀末前後の10年ほどの間に、日本は二度にわたり外国との戦争を戦った。この間に⑭同盟を結ぶ国もあらわれ、アメリカの仲介によって二度目の戦争の講和条約を結ぶことができた。日本はこれらの過程を通じて⑮欧米諸国との不平等条約を改正していくことに成功した。その後、日本は中国で戦争を始めて新たな国を建て、ついにイギリス領の⑯〔 〕半島やハワイのアメリカ軍基地を攻撃した。

問1 下線部①について。

(1) この時代の説明として正しいものを次のイ～ホの中から二つ選び、記号で答えなさい。

- イ 海面が現在よりも低く、大陸と日本がつながっていた。
- ロ 地球が温暖化して、現在と同じような気候となった。
- ハ ナウマンゾウやオオツノジカを狩り、食料としていた。
- ニ 遠い地域との交易で、ひすいや黒曜石などを手に入れた。
- ホ 銅鏡や銅たくを使って、祈りやまじないを行った。

(2) この時代の人々が使ったものを次のイ～トの中から二つ選び、記号で答えなさい。



問2 下線部②について。この大王の時代には、Aの時期の日本の社会には見られなかった新しい動きが確認できます。あてはまるものを次のイ～二の中から一つ選び、記号で答えなさい。

- イ 朝廷が寺院や仏像をつくるようになった。
- ロ 鉄の農具や武器を使うようになった。
- ハ 大陸に使節を送るようになった。
- ニ 漢字を使いこなして文章を書くようになった。

問3 下線部③について。以前のしくみを改めて、土地と人々の支配について新しい考え方をとりました。これを何といいますか。

問4 下線部④について。これ以前のできごとをあげました。次のイ～トを時代の古い順番に並べたとき、5番目となるものを選び、記号で答えなさい。

- イ 鑑真が苦勞の末に来日した。
- ロ 白村江で唐と新羅にやぶれた。
- ハ 小野妹子が隋に派遣された。
- ニ 平等院鳳凰堂が建てられた。
- ホ 都が平安京に移された。
- ハ 藤原道長が摂政となった。
- ト 最後の遣唐使が派遣された。

問5 下線部⑤について。領地は武士の暮らしに深く関わる大切なものでした。それはなぜですか、説明しなさい。

問6 下線部⑥について。この政策によって「武士・町人」と、「百姓」とはどのように区別されましたか、説明しなさい。

問7 下線部⑦について。このことを何といいますか。

問8 下線部⑧について。この戦いで東軍と西軍に分かれて戦った大名たちは、ある役職に任命されて各国を治めていました。その役職名を答えなさい。

問9 下線部⑨について。この時の将軍は誰ですか。




問10 下線部⑩について。これ以前から長い間交流があった欧米の国を一つあげなさい。

問11 下線部⑪について。これによって身分制度が完全になくなったわけではありません。旧貴族・大名らは何とよばれましたか。

問12 下線部⑫について。20世紀になって実現したことから次のイ～二の中から一つ選び、記号で答えなさい。

- イ 成人男子に兵役が義務づけられた。
- ロ 官営の富岡製糸場が完成した。
- ハ 八幡製鉄所で生産が始まった。
- ニ 電信・電話が通じるようになった。

問13 下線部⑬について。学校教育においてひらがなは一音一字に統一されましたが、今でも古いかな文字を目にすることがあります。例えば『蒙古襲来絵詞』にはモンゴル軍の兵器の名が(イ)のように記され、旧東海道の起点である建造物(1911年完成)にはその名が(ロ)のように刻まれており、町の中でも(ハ)のような看板を見かけます。これらに用いられている **む** は現在のひらがなでは何という字にあたりますか。



問14 下線部⑭について。この国の名を答えなさい。

問15 下線部⑮について。このことに深く関わるできごとは何ですか。次のイ～ホの中から一つ選び、記号で答えなさい。

- イ フェートン号事件
- ロ モリソン号事件
- ハ エルトゥールル号事件
- ニ ノルマントン号事件
- ホ リーフデ号事件

問16 下線部⑯について。〔 〕にあてはまる語句を答えなさい。

問17 A～Iの文章を時代の古い順に並べるためには、どれとどれを入れかえれば良いですか、記号で答えなさい。

③ 私たちの暮らしは、時代とともに変化してより便利なものになってきました。生活の変化について、下の問に答えなさい。

問1 外国から輸入したものが私たちの生活のさまざまな場面で使われ、輸入相手国も変化してきました。次の表は1990年、2000年、2010年の日本の輸入相手国・地域の上位5つとその割合を示したものです。表中のA～Cのうち、Aの国はどこですか。国名を答えなさい。

	1位	2位	3位	4位	5位	輸入総額(億円)
1990年	A 22.3%	インドネシア 5.4%	C 5.3%	B 5.1%	韓国 5.0%	338,552
2000年	A 19.0%	B 14.5%	韓国 5.4%	台湾 4.7%	インドネシア 4.3%	409,384
2010年	B 22.1%	A 9.7%	C 6.5%	サウジアラビア 5.2%	アラブ首長国連邦 4.2%	607,650

(『日本国勢図会』による)

問2 食生活は、食材が豊富になり洋食もとり入れられるなど、大きく変化してきました。

(1) 次の表は、カレーライスの主な材料の生産における上位5位までの都道府県と生産量を示したものです。表中の①～④にあてはまる品目を下のイ～二の中からそれぞれ選び、記号で答えなさい。

(t)

	①		②		③		④		たまねぎ	
1位	北海道	1,753,000	新潟	617,800	鹿児島	218,899	北海道	163,800	北海道	577,500
2位	長崎	96,200	北海道	601,700	茨城	110,024	千葉	113,200	佐賀	144,900
3位	鹿児島	81,200	秋田	488,500	宮崎	82,232	徳島	51,000	兵庫	91,000
4位	茨城	42,200	福島	445,700	北海道	76,362	長崎	33,700	愛知	33,600
5位	千葉	31,100	山形	406,500	青森	73,570	青森	33,500	長崎	26,400
国内総生産量	2,290,000		8,483,000		1,309,910		593,200		1,047,000	

(『データで見る県勢 2012』による)

イ 米      □ にんじん      ハ ジャがいも      ニ 豚肉

(2) (1) の表にある都道府県の中で、県庁所在地が最も西に位置しているのはどこですか。都道府県名を答えなさい。

問3 食生活が豊かになってきた一方で、日本の食料自給率は低下しているという問題があります。

(1) 次のイ～ホの中から、現在の穀物自給率に最も近いものを選び、記号で答えなさい。

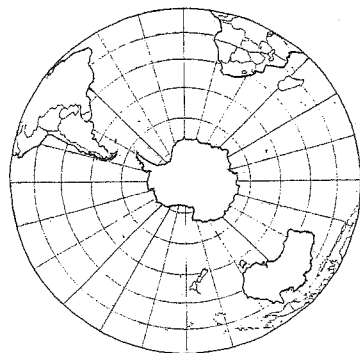
イ 90%      □ 70%      ハ 50%      ニ 30%      ホ 10%

(2) 漁獲量も減少しています。特に遠洋漁業は、多くの国が漁業資源の管理を主張し、他国が自由に魚をとることができない水域を設けたので、大きな打撃を受けています。この水域は沿岸からどれくらいの距離に設定されていますか。次のイ～ホの中から一つ選び、記号で答えなさい。

イ 約22km      □ 約200km      ハ 約370km      ニ 約500km      ホ 約740km

(3) 国内での漁獲量を回復させる対策として「つくり育てる漁業」が進められています。いろいろな種類の魚や貝をたまごから育て、川や海に放流し、大きくなったものを漁獲する方法を何といいますか。

問4 交通の発達により、目的地までの時間が大幅に短くなり、日本から南半球の遠いところへも、人や物を運ぶことが容易になりました。下の地図は南半球を示したものです。次のイ～ホの中で、地図中に見える大陸をすべて選び、記号で答えなさい。



- イ ユーラシア大陸
- アフリカ大陸
- ハ 北アメリカ大陸
- ニ 南アメリカ大陸
- ホ オーストラリア大陸

問5 自動車の普及により日常生活が便利になっています。日本の自動車工業について、次のイ～二の中から正しくないもの一つを選び、記号で答えなさい。

- イ 自動車工業では、必要なものを、必要な時に、必要な量だけ調達して生産するというやり方がとられている。
- 自動車工業では、コンピューターやロボットがとり入れられ、効率良く安全に組み立てられている。
- ハ 自動車をつくるには、1台につき2～3万もの部品が必要で、大小たくさんの工場や会社関わっている。
- ニ 自動車のほとんどの部品は、人件費の安い中国や東南アジアの国々でつくられ、日本で組み立てられている。

1

問 1		問 2	(1)	(2)	問 3				問 4	
--------	--	--------	-----	-----	--------	--	--	--	--------	--

2

問 5		問 6	(1)	(2)	誤った語句				正しい語句		問 7	
--------	--	--------	-----	-----	-------	--	--	--	-------	--	--------	--

問 1	(1)		(2)		問 2		問 3		問 4	
--------	-----	--	-----	--	--------	--	--------	--	--------	--

問 5											
--------	--	--	--	--	--	--	--	--	--	--	--

問 6											
--------	--	--	--	--	--	--	--	--	--	--	--

問 7		問 8		問 9							
--------	--	--------	--	--------	--	--	--	--	--	--	--

問 10		問 11		問 12		問 13					
---------	--	---------	--	---------	--	---------	--	--	--	--	--

問 14		問 15		問 16		問 17		と			
---------	--	---------	--	---------	--	---------	--	---	--	--	--

3

問 1		問 2	(1)	①	②	③	④	(2)			
--------	--	--------	-----	---	---	---	---	-----	--	--	--

問 3	(1)	(2)	(3)	問 4		問 5					
--------	-----	-----	-----	--------	--	--------	--	--	--	--	--