

1 日本産業や貿易の歴史について説明した次の【ア】と【イ】の文章を読んで、下の問に答えなさい。

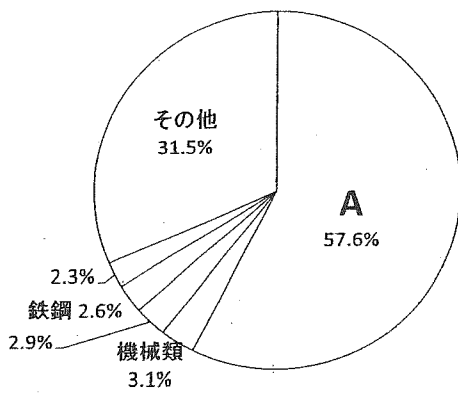
【ア】 1858年に江戸幕府が日米修好通商条約を結んで貿易を開始すると、日本国内の品物の値段が〔 1 〕ました。また、①日本の産業が大きな打撃を受けたので、貿易に不満を持つ人が増えました。明治時代になると、政府はヨーロッパの国々に追いつくため、外国から機械を買い入れ、技術者を招いて官営工場をつくりました。日清戦争のころから日本の産業は大きく発達し、貿易額も増えていきました。さらに第一次世界大戦が始まると、日本はヨーロッパやアジアへの輸出を大きくのばしました。しかし、戦争が終わると、日本の輸出は減って不景気になりました。その後、関東大震災や1929年にアメリカで始まった不景気の影響を受けて、日本では銀行や会社、工場が倒産し、多くの人々が失業しました。また、東北地方の農村では、冷害の上に農産物の値段が〔 2 〕、餓え死にする人が出るほど人々の生活が苦しくなりました。このような中で、不景気からぬけ出すために、中国の東北部を支配して広い土地と豊かな資源を手に入れようという主張が強まっていきました。

【イ】 第二次世界大戦が終わった時、日本国内は空襲によって多くの都市や工場が破壊され、田畑も荒れ果てていました。人々は家や食べ物などに不自由する生活をしながら、復興をすすめていきました。②朝鮮戦争のころから日本の産業は立ち直り、高度経済成長が始まりました。産業の各分野では、設備を大きくして新しい技術を開発する技術革新が進められ、政府も貿易の拡大、輸出の増加に力を入れました。高度経済成長の時期に人々の生活は豊かになりましたが、③各地で公害の問題が起きました。その後、1970年代中ごろに高度経済成長は終わりました。

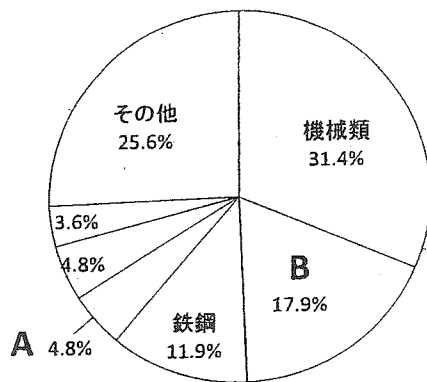
問1 日本から外国への主な輸出品とその割合を示す三つのグラフをあげました。グラフの中のAとBにあてはまるものを次のイ～ホの中からそれぞれ選び、記号で答えなさい。

イ 食料品 ロ せんい製品 ハ 船ぱく ニ 自動車 ホ 精密機械

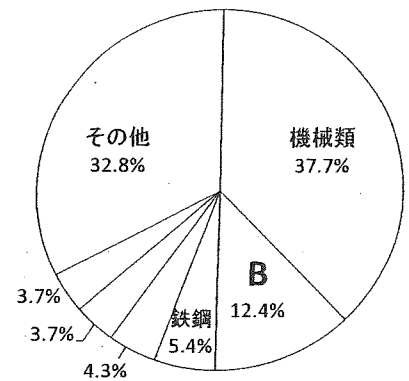
1934～36年の平均



1980年



2009年



『日本国勢図会』より作成

問2 文中の〔 1 〕〔 2 〕にあてはまる言葉の正しい組み合わせを、次のイ～への中から選び、記号で答えなさい。

イ 〔 1 〕上がり 〔 2 〕上がり ロ 〔 1 〕上がり 〔 2 〕下がり
 ハ 〔 1 〕上がり 〔 2 〕変わらず ニ 〔 1 〕下がり 〔 2 〕変わらず
 ホ 〔 1 〕下がり 〔 2 〕上がり ヘ 〔 1 〕下がり 〔 2 〕下がり

問3 【ア】と【イ】の文章の間の時期に、日本は15年間にわたって外国と戦争を行いました。

(1) 次のイ～へは、この時期に起きたできごとです。時代の古い順番に並べた時に4番目となるものを選び、記号で答えなさい。

イ 日本が国際連盟を脱退する ロ 日中戦争が始まる ハ 満州事変が起きる
 ニ 広島に原爆が投下される ホ 太平洋戦争が始まる ヘ 国民全員を総動員する法律が制定される

(2) この時期の朝鮮の人々についての説明としてあてはまらない文を、次のイ～二の中から一つ選び、記号で答えなさい。

イ 朝鮮の人々が、創氏改名という政策によって日本式に姓名を変えさせられた。
 ロ 朝鮮の学校では、日本語や日本の歴史の教育が行われ、人々は神社に参拝させられた。
 ハ 朝鮮の独立をめざす人々による大規模な運動が全国に広がったが、弾圧された。
 ニ 朝鮮の人々が連れて来られ、働き手が不足した日本国内の工場や鉱山で働かされた。

問4 下線部①について、外国との貿易が始まってから日本の産業が打撃を受けたのはなぜですか。説明しなさい。

問5 下線部②について。

(1) この戦争では、第二次世界大戦後、北緯 38 度線を境に分かれた朝鮮半島の二つの国が戦いました。北緯 38 度線が通る都道府県を次のイ～ハの中から一つ選び、記号で答えなさい。

- イ 栃木 □ 青森 ハ 鳥取 ニ 北海道 ホ 福井 ヘ 宮城

(2) この戦争が行われていた 1952 年に、日本は独立を回復して国際社会に復帰しました。これ以前のできごととして正しいものを次のイ～ホの中から二つ選び、記号で答えなさい。

- イ 日本国憲法が公布される □ 日中平和友好条約が結ばれる ハ 日本が国際連合に加盟する
 ニ 日本がソ連と国交を回復する ホ 日本人が初めてノーベル賞を受賞する

(3) 日本が独立を回復した時点で、外国の支配が残ったところを、次のイ～ハの中からすべて選び、記号で答えなさい。

- イ 沖縄 □ 隠岐諸島 ハ 八丈島 ニ 五島列島 ホ 対馬 ヘ 小笠原諸島

問6 下線部③について。次の A～D の四大公害病について、(1)～(3) の間に答えなさい。

- A 1953 年ころ、八代海沿岸で起きた公害病 B 1956 年ころ、神通川流域で起きた公害病
 C 1960 年ころ、四日市市で起きた公害病 D 1964 年ころ、阿賀野川流域で起きた公害病

(1) 次の表中のイ～ホの中に C と D の公害病が起きた県がふくまれています。C と D にあてはまるものをそれぞれ選び、記号で答えなさい。

	イ	□	ハ	ニ	ホ
面積 (km ²)	78,421	12,584	2,188	5,777	2,276
人口 (千人)	5,507	2,375	13,162	1,855	1,393
人口密度 (1km ² につき人)	70	189	6,016	321	612
農業産出額 (億円)	10,111	2,588	264	1,058	892
米の生産量 (t)	601,700	617,800	725	155,000	2,680
工業製造品出荷額 (億円)	52,571	41,838	82,457	94,026	5,557

『日本国勢図会』2011/12 年版より作成

(2) 上の A～D の公害病について述べた文として、正しいものを次のイ～ニの中から一つ選び、記号で答えなさい。

- イ A と D は、鉱山から流れ出た排水にふくまれるカドミウムという物質によってひき起こされたものである。
 □ B は、汚染された貝や魚を食べることでメチル水銀が人体に入り、ひき起こされたものである。
 ハ C は、石油化学コンビナートから出る煙にふくまれていた硫酸化合物が原因で、周辺に住む多くの人が苦しんだ。
 ニ D は、この病気にかかった人々の骨がもろくなり、「いたい、いたい」と言って苦しんだことから名前がついた。

(3) 四大公害病以来、公害に対する反対運動や裁判で、企業や国の責任が問われるようになり、1967 年には公害対策基本法も制定されました。代表的な公害としては、大気汚染、水質汚染、土壌汚染、振動、いやな臭い以外にどのような公害が考えられますか。二つ答えなさい。

問7 日本の産業は、世界の多くの国とのつながりによって成り立っています。日本の産業と世界の国々のつながりについて、(1)(2) の間に答えなさい。

(1) 次の表は日本が輸入している資源 A～C の輸入量の上位 3 国を示したものです (2009 年)。資源の正しい組み合わせを次のイ～ハの中から選び、記号で答えなさい。

	A	B	C
1 位	オーストラリア	サウジアラビア	オーストラリア
2 位	インドネシア	アラブ首長国連邦	ブラジル
3 位	カナダ	カタール	インド

- イ A 木材 B 原油 C 石炭 □ A 鉄鉱石 B 天然ガス C 木材
 ハ A 石炭 B 原油 C 鉄鉱石 ニ A 石炭 B 原油 C 木材
 ホ A 木材 B 天然ガス C 鉄鉱石 ヘ A 鉄鉱石 B 天然ガス C 石炭

(2) 現在、日本には多くの外国人労働者がいて、大きな役割を果たしています。その中にはブラジルからやってきた人もたくさんいます。日本とブラジルのかかわりについて述べた文として正しくないものを、次のイ～ニの中から一つ選び、記号で答えなさい。

- イ ブラジルに日本人が初めて移住してから 100 年余りがたった。
 □ ブラジルから多くの人々がヨーロッパの国々よりも近い日本に働きにくる。
 ハ 日本の自動車工場などで働くブラジル人の多くは日系人である。
 ニ 日本はブラジルから大豆や肉類などの食料を輸入している。

2 次の文章を読んで下の問に答えなさい。

私たちが生活している関東平野は、主として大きな河川が運んだ土砂が積もってできたものです。その河川の中でもっとも代表的なのは□であり、流域には①さまざまな遺跡が残されています。また、□は大きな水害をひき起こしてきた暴れ川としても知られます。

□は群馬県北部に源を発し、赤城山・榛名山のあいだを通して関東平野に注ぎこみます。そのあたりには5世紀ころ②巨大な古墳をつくる豪族たちがいましたが、③彼らは大和王権と政治的な結びつきがあったことが知られています。□はその東どなりを流れる渡良瀬川と埼玉県栗橋の手前で合流しますが、かつて栗橋には④奥州街道の関所が置かれていました。その後□は関宿で江戸川を分流した後、さらに鬼怒川・小貝川と合流し、太平洋に注いで河川としての流れを終えます。

このような□の流路は、自然のままにできたものではありません。もともとは現在の隅田川の流路で東京(江戸)湾に注いでおり、低湿地帯が広がる下流域はたえず洪水の被害を受けていました。16世紀末に全国が統一され、⑤徳川氏が江戸を治めることになり、やがて幕府を開くと、□を渡良瀬川・鬼怒川下流へつけかえる大工事が進められ、⑥おおよそ現在のような流路になったのです。

問1 下線部①について。

(1) 縄文時代の遺跡が発見されています。縄文時代は何年くらい続きましたか。次のイ～ホの中から選び、記号で答えなさい。

イ 2万年 □ 1万年 ハ 5000年 ニ 3000年 ホ 1000年

(2) 遺跡の中には国分寺跡もあります。国分寺が建てられたころのこととして、正しくないものを次のイ～二の中から一つ選び、記号で答えなさい。

イ 農民は調・庸の税を都まで運んで納めた。 □ 都や九州を守る兵士の役目は農民が負わされた。

ハ 山上憶良が農民の苦しい生活を歌によんだ。 ニ 農民は麻と木綿以外のものを着てはいけなかった。

問2 下線部②について。このためには進んだ知識や技術が必要でした。これらは大陸から移り住んだ人々によってつたえられましたが、この人々を何といいますか。

問3 下線部③について。このことはどのようなことからわかりますか。次のイ～二の中から一つ選び、記号で答えなさい。

イ 豪族の名が律令に家臣として記されていた。 □ 古墳の形式が大和王権と同じだった。

ハ 埋葬された豪族たちはみな地方の役人だった。 ニ 大和王権のつくった貨幣を使用していた。

問4 下線部④について。これは江戸とどこを結ぶ街道でしたか。次のイ～ホの中から選び、記号で答えなさい。

イ 新潟 □ 長野 ハ 白河 ニ 日光 ホ 京都

問5 下線部⑤について。

(1) 江戸幕府の時代のこととして正しくないものを次のイ～への中から一つ選び、記号で答えなさい。

イ 浅間山の噴火によって飢饉はいっそう悪化し、都市では打ちこわしがさかんに起こった。

□ 長崎の出島を通じて西洋の学問が伝わわり、医学をはじめとするさまざまな学問が研究され始めた。

ハ 大きな都市では人々の間に歌舞伎や人形浄瑠璃などが流行し、芝居小屋がたいへんにぎわった。

ニ 対馬藩をなかだちとして、幕府の将軍が代わるたびに朝鮮通信使が江戸をおとずれるようになった。

ホ 武士身分の者の多くは自分の領地に館を建てて住み、農民から年貢米を直接とりたてていた。

へ 農民は荒地を開いて新田を増やし、備中ぐわなどの農具や肥料を使用したので生産が高まった。

(2) 江戸幕府以前にも、関東地方には幕府が開かれたことがあります。その時から江戸幕府が開かれるまでの間のできごとを次にあげました。イ～へを時代の古い順に並べなさい。

イ 将軍のあとつぎをめぐる戦いが京都で約十年間続いた。

□ 元軍が二度にわたって日本の九州に攻めてきた。

ハ 多くの鉄砲を使った長篠の戦いで武田氏がやぶれた。


ニ 南北二つに分かれて争っていた朝廷が一つになった。

ホ 武士の裁判の基準となる御成敗式目がつくられた。


へ ザビエルがキリスト教を広めるために日本に来た。

問6 下線部⑥について。この主な流路としてふさわしいものを次のイ～二の中から選び、記号で答えなさい。

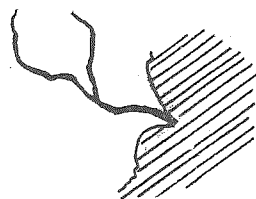
イ



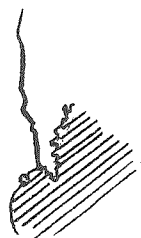
□



ハ



ニ



③ 次の文章を読んで下の問に答えなさい。

昨年は、東北で①大変な災害のあった年でした。誰もが犠牲者を悼み、被害を受けた人々が早く立ち直り、被災地の復興がすすむことを願っています。

19世紀の末、東北の詩人で童話作家の宮沢賢治が生まれたころにも東北で大きな地震がありました。東北はくり返し凶作にみまわられてきた土地です。そうした中で彼は、人々みんなが幸せになることを特に強く求めています。「世界ぜんたいが幸福にならないうちは〔 〕の幸福はありえない」というのがその思いでした。

②みんなの幸福とは何かということは、人によっても考え方に違いがあり難しい問題です。しかし、みんなが幸せであるためには、まずは何よりも③戦争がないこと、そして誰も④差別されることがないことも必要です。さらにいえば、すべての人々の幸福のためには一人ひとりが人間として大切にされること、つまり⑤基本的人権が尊重されることが必要な条件となるでしょう。宮沢賢治は⑥日本国憲法以前の時代を生きた人ですが、このような問題を深く考えていたともいえるのではないのでしょうか。日本国憲法には、「すべて国民は〔 〕として尊重される」という言葉が記されています(13条)。これは決して自分一人だけが幸福であればそれでよいということではありません。宮沢賢治にとっては、人間は自分だけで生きているのではなく、⑦多くの人々とのつながりの中でお互いに支えあって生きているのだから、みんなが幸福でなければならないということが強い信念としてあったのでしょうか。

問1 〔 〕にあてはまる語句を漢字2字で答えなさい。

問2 下線部①について。現在、大きな災害に際して、日本赤十字社などに救援活動が求められますが、その救援要請は、何という法律を適用して行われますか。

問3 下線部②について。みんなが同意できる答えを出すことは難しいことですが、すべての人が生活しやすくなるように、いろいろなものを使いやすくつくることができます。そのような設計を何といいますか。

問4 下線部③について。このことは、第二次世界大戦後の日本の国民にとって特に大切なこととなり、平和と安全を保つ強い決意が日本国憲法に記されました。この決意としてあてはまるものを、次のイ～ホの中から一つ選び、記号で答えなさい。

- イ 防衛のために必要な軍勢力を備えるとしても、決してその軍力で他国を侵略したりしない決意。
- ロ 戦争が周囲で起こったとしても、日本だけはその被害を受けずにいられるようにしようとする決意。
- ハ 他国と対立することがあっても、相手国の国民も平和や安全を願っていると考えて平和を求める決意。
- ニ 同盟国が紛争で困難な状態になったとき以外は、軍勢力をいっさい使わないという決意。
- ホ できるだけ強い国と友好関係を築くことによって、平和を実現し国民を守ろうという決意。

問5 下線部④について。世界では多くの民族が集まった国や地域があって、民族の違いによる差別が問題となることがありますが、「日本は海に囲まれた島国で、単一民族の国なのだから、そのような差別はない」という意見があります。この意見の誤りを具体例をあげて答えなさい。

問6 下線部⑤について。基本的人権の尊重の精神にふさわしくないものを次のイ～二の中から一つ選び、記号で答えなさい。

- イ 生活していくことが困難な場合でも、国民の義務である納税を求められること。
- ロ 企業で働く人々が、働きに応じて受け取る給料にある程度の差をつけられること。
- ハ 車いすを使っている人は、特別にスロープをつけた別のところから出入りすること。
- ニ 高齢者が、バスなどの公共交通機関の無料パスを、特別に使用できること。

問7 下線部⑥について。次のイ～二はこの時代における国家や政治のありかたについて述べたものです。正しくないものを一つ選び、記号で答えなさい。

- イ 国民には、法律の範囲内ではあるが、言論・出版・集会・団体をつくるなどの自由があたえられた。
- ロ 主権者は天皇であり、天皇の家系は過去から将来にわたって続き、日本の国を治めるものとされた。
- ハ 天皇は大臣を任命し、陸海軍を指揮して統率するなど、大きな権限をもつとされた。
- ニ 貴族院議員の選挙では、皇族・華族や多額の税金を納めている人にも選挙権があたえられた。

問8 下線部⑦について。障害のある人、高齢者、介護を必要とする人には支えが必要となります。国や地方自治体がそれらの人々のために施設をつくり、支援することを何といいますか。また、このようなことを担当する政府の中心的機関の名前を答えなさい。

1

問 1	A	B	問 2		問 3	(1)	(2)	
問 4								
問 5	(1)	(2)		(3)				
問 6	(1) C	D	(2)	(3)				
問 7	(1)	(2)						
問 1	(1)	(2)	問 2		問 3		問 4	
問 5	(1)	(2)	⇒ ⇒ ⇒ ⇒ ⇒				問 6	
問 1		問 2		問 3		問 4		
問 5								
問 6		問 7		問 8		中心的 機 関		

2

3