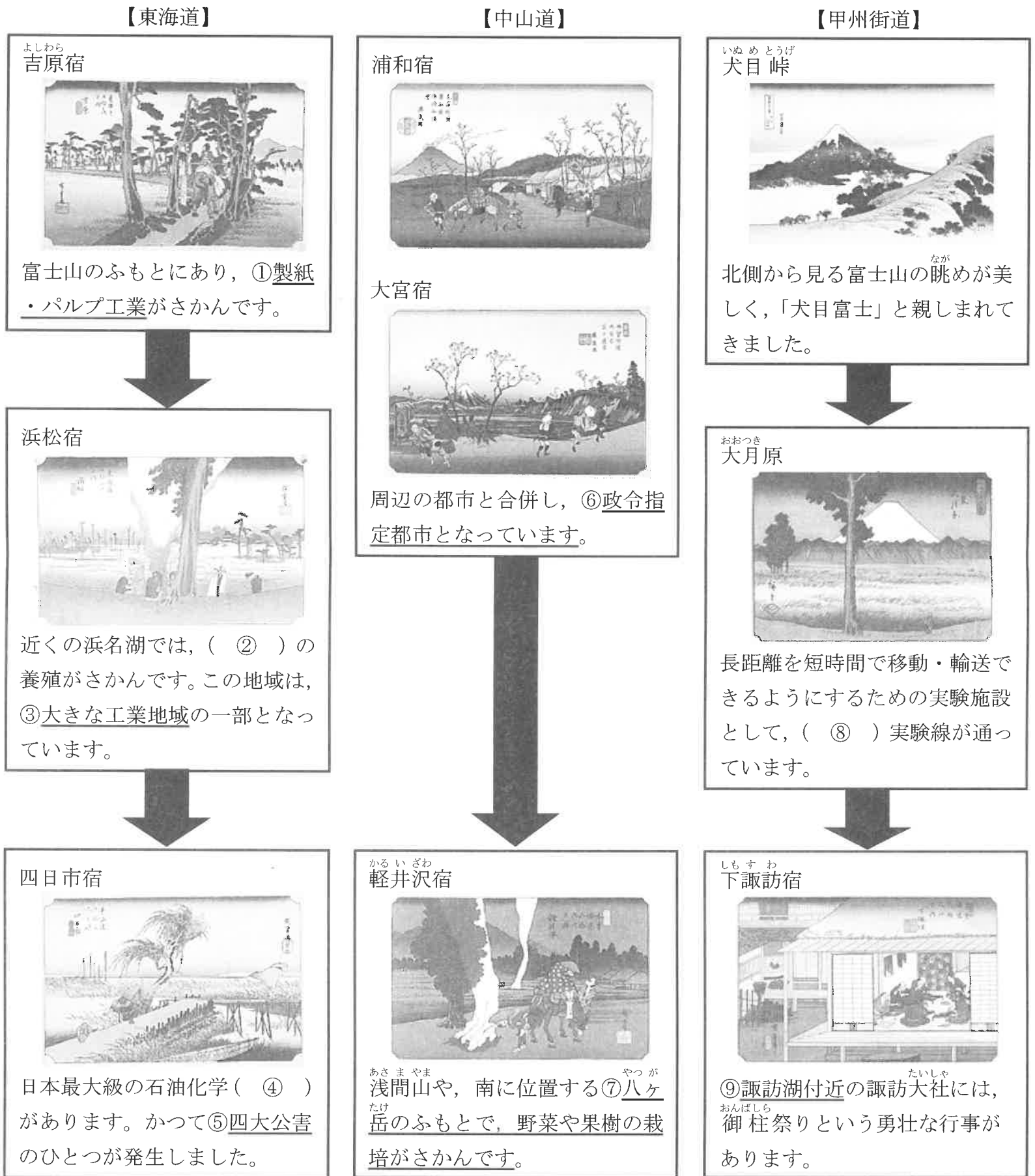


令和5年度 鶯谷中学校入学試験問題 社会(その1)

1 千絵美さんは、夏休みの自由研究で江戸時代に整備された街道について調べ、当時の宿場町や街道沿いの様子が描かれた浮世絵をもとに、現在の様子についても関連付けてまとめました。千絵美さんが作成した次の資料を読んで、あとの問いに答えなさい。



問1 東海道・中山道・甲州街道の起点となった場所として正しいものを、次のア～エの中から1つ選び、記号で答えなさい。

- ア 横浜 イ 浅草 ウ 日本橋 エ 新宿

令和5年度 鶯谷中学校入学試験問題 社会(その2)

問2 空欄(②)・(④)・(⑧)に入る言葉の組み合わせとして正しいものを、次のア～カの中から1つ選び、記号で答えなさい。

- | | | | |
|---------|----------|-------|--|
| ア ② 真珠 | ④ パイプライン | ⑧ リニア | |
| イ ② 真珠 | ④ パイプライン | ⑧ 飛行機 | |
| ウ ② 真珠 | ④ コンビナート | ⑧ リニア | |
| エ ② うなぎ | ④ パイプライン | ⑧ 飛行機 | |
| オ ② うなぎ | ④ コンビナート | ⑧ リニア | |
| カ ② うなぎ | ④ コンビナート | ⑧ 飛行機 | |

問3 下線部①について、富士山のふもとで製紙・パルプ工業がさかんになった理由を説明しなさい。

問4 下線部③について、この工業地域の説明として正しいものを、次のア～エの中から1つ選び、記号で答えなさい。

- ア 近年の成長がめざましく、中京工業地帯、阪神工業地帯に次ぐ国内第3位の生産額をほこります。
- イ わが国初の製鉄所がつくられ、それをもとに製鉄や金属工業が発達しました。
- ウ 豊富な電力と多くの労働力が得やすく、鯖江の地場産業を中心に発達しました。
- エ 高速道路をはじめとする交通網が整っており、楽器やオートバイ・自動車等の生産が発達しました。

問5 下線部⑤について、次の文章は、四大公害のひとつを説明しています。この公害が発生した河川名と公害名を、それぞれ答えなさい。

神岡鉱山から排出されたカドミウムが河川に流れ出て、その河川の水を利用して生活していた人々に健康被害が起きました。肩やろっ骨などの骨が簡単に折れてしまうなどの症状で、多くの被害者が苦しみました。

問6 下線部⑥について、現在の都市名を答えなさい。

問7 下線部⑦について、次の表は農作物の生産量を都道府県別で表しています。表中のA～Dにあてはまる農作物名と都道府県名の組み合わせとして正しいものを、あとのア～カの中から1つ選び、記号で答えなさい。

A	(単位 t)	B	(単位 t)	C	(単位 t)	もも	(単位 t)
D	182,200	山梨	35,000	青森	463,000	山梨	30,400
茨城	91,700	D	32,300	D	135,400	福島	22,800
群馬	54,800	山形	15,500	岩手	47,200	D	10,300
長崎	35,900	岡山	13,900	山形	41,500	山形	8,510
兵庫	29,300	北海道	6,940	秋田	25,200	和歌山	6,620
全国	563,900	全国	163,400	全国	763,300	全国	98,900

(日本国勢図会(2021/2022)より作成)

- | | | | |
|----------|-------|-------|------|
| ア A レタス | B なし | C りんご | D 栃木 |
| イ A レタス | B なし | C みかん | D 栃木 |
| ウ A レタス | B ぶどう | C りんご | D 長野 |
| エ A キャベツ | B なし | C みかん | D 長野 |
| オ A キャベツ | B ぶどう | C りんご | D 長野 |
| カ A キャベツ | B ぶどう | C みかん | D 栃木 |

令和5年度 鶯谷中学校入学試験問題 社会 (その3)

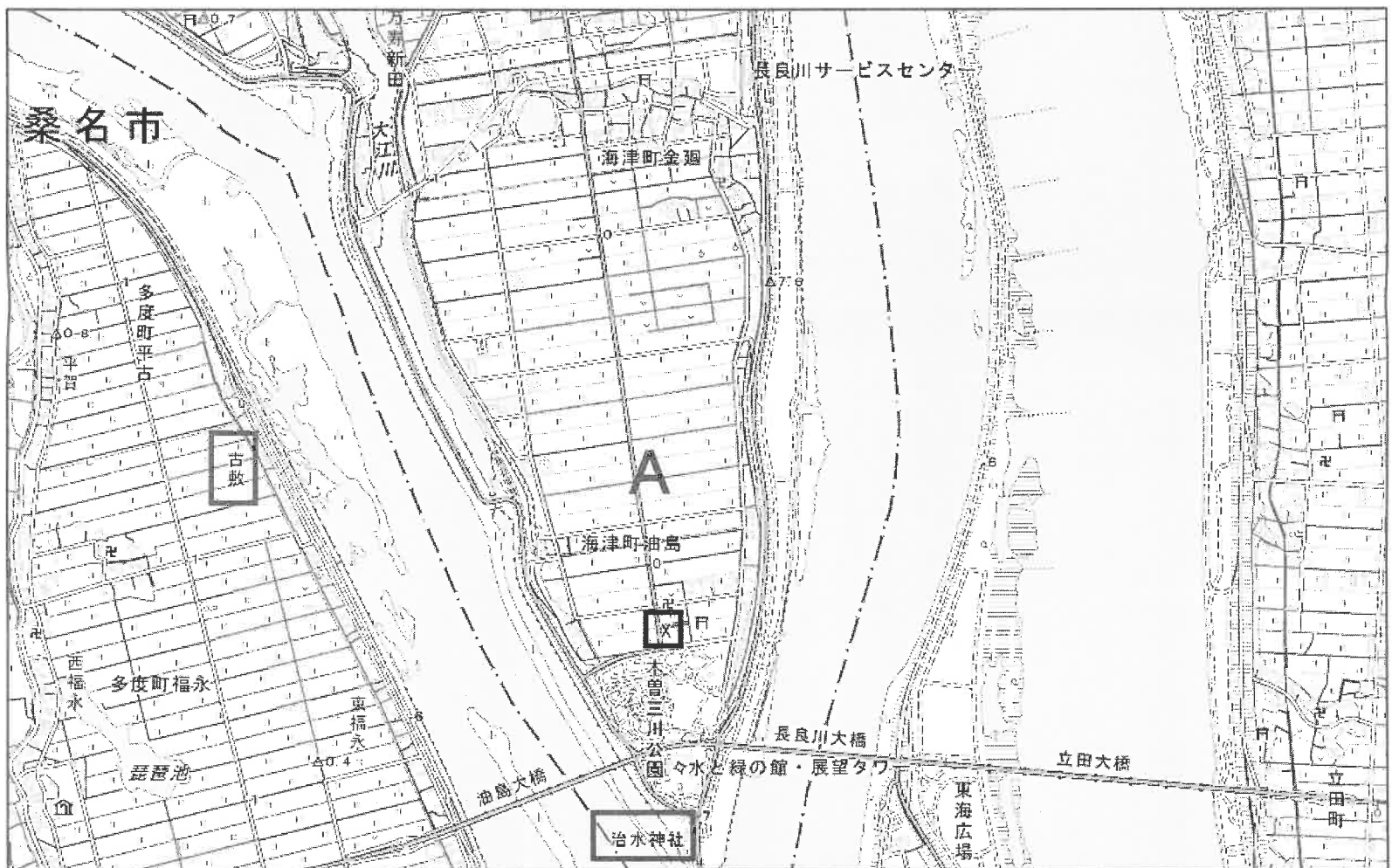
問8 下線部⑨について、諏訪湖周辺でさかんな産業を、次のア～エの中から1つ選び、記号で答えなさい。

ア 化学工業 イ 精密機械工業 ウ 鉄鋼業 エ 窯業

問9 次の写真は、甲州街道沿いに位置する甲府盆地を示しています。このような地形を何とといいますか。



問10 東海道を行き来する途中、江戸時代の人々は熱田宿(現 愛知県名古屋市の^{あつた})から桑名宿(現 三重県桑名市の^{くわな})までを舟で渡っていました。その周辺に位置する次の地形図を見て、あとの(1)～(4)に答えなさい。



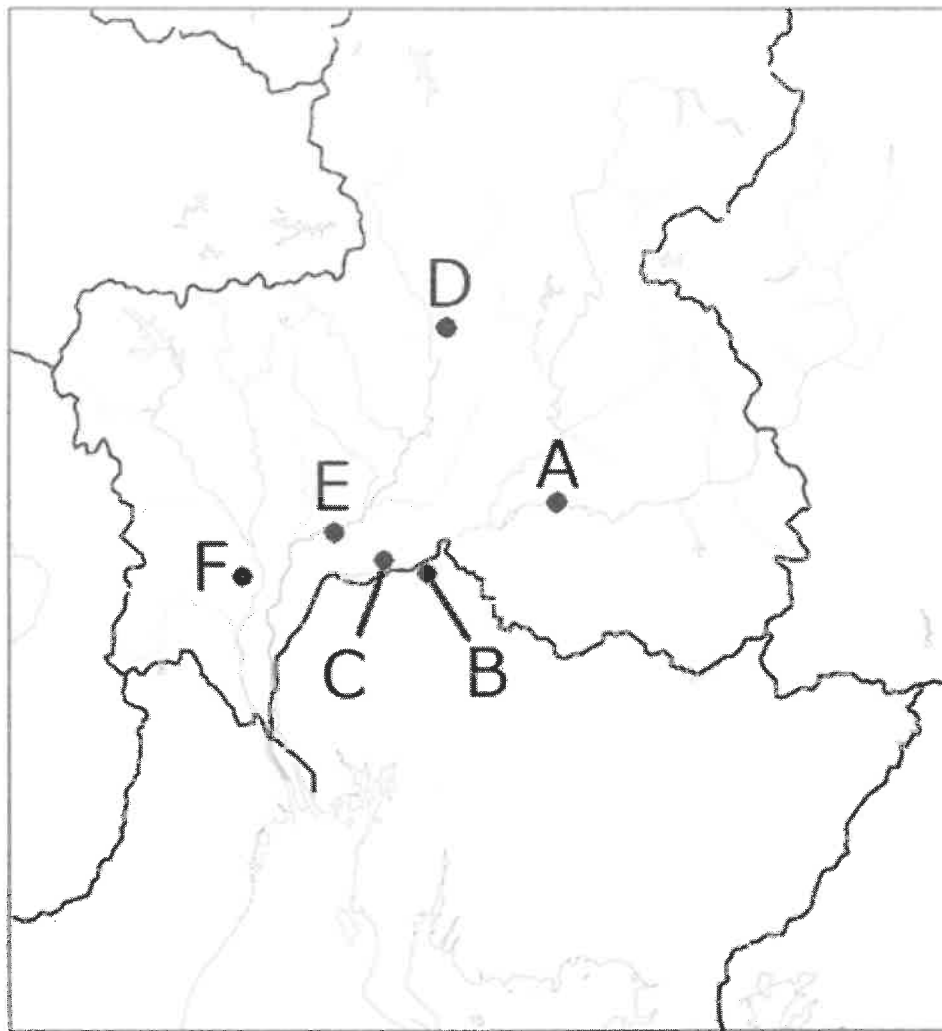
(国土地理院 地理院地図 (電子国土Web) より作成)

- (1) 地形図中Aの地域は、周りを^{ていぼう}堤防でかこまれています。このようなところを何とといいますか。漢字で答えなさい。
- (2) 地形図中Aの地域のなかで、地図記号 X で表されている施設を何とといいますか。
- (3) 地形図中の 古敷 から見て、治水神社 はどの方向にありますか。8方位で答えなさい。
- (4) 地形図中の 治水神社 には、江戸時代に河川の分流工事をした^{はん}藩の関係者が^{まつ}祀られています。この藩として正しいものを、次のア～エの中から1つ選び、記号で答えなさい。

ア 尾張藩 イ 大垣藩 ウ 長州藩 エ 薩摩藩

令和5年度 鶯谷中学校入学試験問題 社会(その4)

2 次の地図を見て、あとの問いに答えなさい。



問1 地図中Aの岐阜県加茂郡八百津町には、杉原千畝記念館があります。杉原千畝は、第二次世界大戦中に外交官として「命のビザ」を発給し、ナチスの迫害を受けていた多くのユダヤ人難民をたすけました。

(1) この大戦中のできごととして誤っているものを、次のア～エの中から1つ選び、記号で答えなさい。

ア 日本はドイツ、イタリアと軍事同盟を結びました。

イ 戦争の影響で輸出が増え、日本は好景気をむかえました。

ウ 空襲から避難するため、都市部の子供たちの集団疎開が行われました。

エ 沖縄でのアメリカ軍との戦いでは、一般市民や生徒までが動員され、多くの命が失われました。

(2) 日本が終戦に際して受け入れた、連合国側から発せられた宣言を何といいますか。

問2 地図中Bにある(あ)城は、現存する日本最古の木造天守で、国宝に指定されています。この城は、織田信長の叔父である織田信康によって建てられたといわれ、戦国時代を通じて政治・経済の重要な拠点でした。

(1) 空欄(あ)に入る言葉を答えなさい。

(2) 戦国時代に起きたできごととして正しいものを、次のア～エの中から1つ選び、記号で答えなさい。

ア 九州の島原や天草地方で、キリスト教信者を中心とした一揆が起こりました。

イ 幕府が明に使者を送り、貿易がはじまりました。

ウ 新たな武家諸法度が定められ、参勤交代が制度化されました。

エ 種子島に流れ着いたポルトガル人によって、鉄砲が伝えられました。

令和5年度 鶯谷中学校入学試験問題 社会(その5)

問3 地図中Cには、承久の乱合戦^{くようとう}供養塔があり、朝廷軍と幕府軍がこの地で戦ったといわれています。この戦いに勝利した幕府は、京都に(い)を置くなどして支配体制を整えました。

- (1) 空欄(い)に入る言葉を答えなさい。
- (2) 当時院政を行っており、承久の乱で敗れた上皇はだれですか。
- (3) 次の史料は、承久の乱で北条政子が御家人たちに対して行った演説について記したものです。これを参考にして、鎌倉時代の将軍と武士の関係がどのようなものであったか、説明しなさい。その際、「領地」と「戦い」という語を必ず使用すること。

「頼朝どのが平氏をほろぼして幕府を開いてから、そのご恩は、山よりも高く、海よりも深いほどです。ご恩に感じて^{めいよ}名誉を大切に^{めいよ}する武士ならば、よからぬ者をうちとり、幕府を守ってくれるにちがいありません。」政子はこのように頼朝のご恩を説いて、武士の団結をうったえました。武士たちは奉公をちかい、京都にせめ上りました。

問4 長良川中流域の岐阜県郡上市^{くじょう}には、多くの鍾乳洞^{しょうにゅうどう}があります。地図中Dにある縄文洞からは、縄文時代の住居跡^{あと}が発見され、炉^ろの跡や土器、人骨などが見つかっています。これに関連して、縄文時代について述べた文として誤っているものを、次のア～エの中から1つ選び、記号で答えなさい。

- ア 人々はたて穴住居という家に住み、集団で生活していました。
- イ 狩りや漁、木の実の採集などによって食料を手に入れていました。
- ウ はにわという土製の人形がつくられ、儀式^{ぎしき}などで使われました。
- エ 「縄文時代」という名称は、東京都の大森貝塚で発見された土器から考えられました。

問5 地図中Eの岐阜市にある岐阜公園には、板垣退助の銅像が立っています。板垣は、1882年にこの地で演説を行ったときに暴漢^{ぼうかん}に襲^{おそ}われました。この事件をきっかけに「板垣死すとも(う)は死せず」という言葉が生まれたといわれています。

- (1) 文中の空欄(う)に入る言葉を、次のア～エの中から1つ選び、記号で答えなさい。
ア 平等 イ 権利 ウ 自由 エ 平和
- (2) 板垣退助について述べた文として正しいものを、次のア～エの中から1つ選び、記号で答えなさい。
ア 大隈重信とともに、初めての政党内閣を組織しました。
イ 政府に不満を持つ士族たちを率いて、西南戦争を起こしました。
ウ 『学問のすゝめ』などを書いて、西洋の考え方を紹介しました。
エ 外務大臣として条約改正^{こうしやう}の交渉^{こうしやう}をおこない、領事裁判権^{ていばい}の撤廃に成功しました。

問6 地図中Fの大垣市は、揖斐川^{いび}をはじめとする多くの川が流れ、「水の都」として有名です。江戸時代には河川を利用した舟運^{しゅうん}がさかんでした。松尾芭蕉^{ばしやう}はこの地で『おくのほそ道』の旅を結んだ後、桑名へ旅立ちました。

- (1) 江戸時代のできごとを述べた次の文Ⅰ～Ⅲを、年代の古い順に並べなさい。
Ⅰ 平戸にあったオランダ商館が、長崎の出島に移されました。
Ⅱ 大坂町奉行所^{おさか}の元役人であった大塩平八郎が、反乱を起こしました。
Ⅲ 杉田玄白や前野良沢らが、『解体新書』を出版しました。
- (2) 松尾芭蕉と同じ時期の文化について述べた文として正しいものを、次のア～エの中から1つ選び、記号で答えなさい。
ア 近松門左衛門が、歌舞伎^{かぶき}や人形浄瑠璃^{じやうるり}の脚本^{きゃくほん}を書きました。
イ 千利休が、織田信長や豊臣秀吉の保護を受けてわび茶を完成させました。
ウ 観阿弥・世阿弥の父子によって、能が大成されました。
エ 浄土信仰にもとづき、藤原清衡^{きよひら}が平泉に中尊寺を建てました。

令和5年度 鶯谷中学校入学試験問題 社会(その6)

問7 長良川や木曾川では、伝統的な漁法である鵜飼^{うかい}が行われています。鵜飼は1300年以上の歴史をもつといわれており、東大寺正倉院に納められた8世紀^{こせき}の戸籍には、鵜飼を仕事としていたと考えられる人の名前が載^のっています。正倉院について述べた文として正しいものを、次のア～エの中から1つ選び、記号で答えなさい。

ア 寝殿造^{しんでん}という様式で建てられています。

イ 桓武天皇が愛用したものなどが収められています。

ウ 鑑真が創建した寺院にある建物です。

エ 正倉院の宝物には、西アジアやインドの影響が見られるものもあります。

令和5年度 鶯谷中学校入学試験問題 社会(その7)

3 次の文章を読んで、あとの問いに答えなさい。

2022(令和4)年7月、①3年ぶりに参議院議員通常選挙が行われました。②選挙に参加する権利をもつ年齢が満18歳以上に引き下げられて6年以上がたちますが、2022年には成年年齢も18歳に引き下げられ、少年法改正でも18~19歳が17歳以下とは異なる位置付けをされるなど、いっそう自由と責任が問われる時代となりました。

かつての③内閣総理大臣が「参議院を制する者は政界を制する」という言葉を残したように、参議院にはたいへん重要な役割があります。今回の選挙でも、憲法改正をめざす政党が参議院の総議席数のうち(④)以上を占められるか注目を集め、さかんに報道されました。この他、選挙を行うにあたり、⑤合区が認められていることに対して問題点も指摘されており、その解消方法についても議論がかさねられています。

現在わが国は、⑥経済に国防にと国内外に幅広く課題を抱えており、特に新型コロナウイルス感染症拡大と、ロシアのウクライナ侵攻という「2つの危機」に直面していると言われています。この影響から、世界最大の投資会社の最高責任者が「グローバル化は終わりを迎えた」と発表したり、EU(ヨーロッパ連合)では「原子力発電と天然ガス火力発電は地球温暖化対策に役立つ⑦クリーンエネルギー」と位置付けられたりと、私たちがなんとなくイメージしてきたであろう価値観が突然真逆になるできごとも起こっています。

問1 下線部①について、参議院議員の任期は6年ですが、なぜ「3年ぶり」にこの選挙が行われたのですか。その理由として正しいものを、次のア~エの中から1つ選び、記号で答えなさい。

- ア 任期の途中で参議院が解散されたから イ 3年ごとに半数ずつが選挙されるから
ウ 衆議院が参議院に選挙するよう求めたから エ 国会議員の定数を大幅に増やしたから

問2 下線部②に関連して、私たちには多くの人権が保障されていると同時に、果たすべき義務があります。日本国憲法に定められている権利であり義務でもあることとして正しいものを、次のア~エの中から1つ選び、記号で答えなさい。

- ア 言論活動を行う イ 教育を受ける ウ 働く人が団結する エ 仕事について働く

問3 下線部③に関連して、内閣の役割として正しいものを、次のア~エの中から1つ選び、記号で答えなさい。

- ア 裁判官を任命する イ 法律を制定する ウ 予算を議決する エ 条約を承認する

問4 空欄(④)に入る言葉として正しいものを、次のア~エの中から1つ選び、記号で答えなさい。

- ア 2分の1 イ 3分の1 ウ 3分の2 エ 4分の3

問5 下線部⑤について、ここでいう「合区」とは、複数の都道府県にまたがって1人の議員を選ぶ選挙区のことです。2022年の参議院議員通常選挙で対象となった県の組み合わせとして正しいものを、次のア~エの中から1つ選び、記号で答えなさい。

- ア 青森県と秋田県 イ 石川県と福井県 ウ 高知県と徳島県 エ 佐賀県と長崎県

問6 下線部⑥について、「自由で開かれたインド太平洋」構想をめざして近年すすめられている、クアッド(4カ国戦略対話)の参加国として誤っているものを、次のア~エの中から1つ選び、記号で答えなさい。

- ア ブラジル イ インド ウ アメリカ エ オーストラリア

問7 下線部⑦について、あなたが「クリーンエネルギー」と考えるものを次の語群の中から1つ挙げ、それが「クリーン」だと考えた理由と、逆にその発電方法について指摘されている問題点を、それぞれ説明しなさい。

風力発電 太陽光発電 地熱発電 バイオマス発電

社会解答用紙

受験番号	合計点

1

問1	問2		
問3			
問4	問5	問6	
	河川名	公害名	
問7	問8	問9	
問10			
(1)	(2)	(3)	(4)

2

問1		問2	
(1)	(2)	(1)	(2)
問3			
(1)	(2)		
(3)			
問4	問5		
	(1)	(2)	
問6			問7
(1)	→	(2)	

3

問1	問2	問3	問4
問5	問6		
問7			
発電方法	理由		
	問題点		