

1 次の文を読んで、——a～nの問いに答えなさい。

横浜港は、^a土砂を運んで海をうめ立てていくような大きな川が近くになく、また大きな船が入港できる十分な深さもある天然の良港です。この港や東京港を通して、たくさんの品物が^b首都圏に運ばれています。また、^c京浜工業地帯で生産された製品の多くが、横浜港と東京港から国内や海外へ積み出されています。^d横浜港は開港当時には、輸出入とも貿易額で全国1位でした。2008年の横浜港の貿易額は、輸出では^e成田国際空港と^f名古屋港に次いで全国第3位で、輸入では全国第5位となっています。

^g横浜港と名古屋港で最も輸出額の大きい製品は（ ）で、最も輸入額の大きいものは^h石油です。一方、ⁱ東京港は、大阪港と同様に、（ ）の輸入額が最も多くなっています。東京港と大阪港は生活に欠かせない品物を多く輸入しており、横浜港が工業関連の品物が多いのと対照的です。

横浜港と東京港には世界中から多くの物資が集まっていますが、アジアには^jシンガポール港や^k韓国のプサン港などの有力な港があります。これらは、日本の港の多くが受け入れることができないような^{きょだい}巨大な船もたくさん入港させることが可能で、また荷物の積み入れや積み出しが速く安く行える設備やしくみを持っています。横浜港や東京港も、これらの港のように便利な港を目指しています。また、横浜港は国際交流を深めるために、^lカナダのバンクーバー港や中国の^mシャanghai港などと姉妹港・友好港の関係を結んでいます。

東京湾には、横浜港や東京港といった国際貿易港以外にも、^{みうら}三浦半島の^{みさき}三崎港のように特に重要な漁港として指定されている港があります。三崎港で最も水あげ量の多い魚はマグロ類で、おもに首都圏で消費されています。三崎港と同じような漁港として、青森県の^{はちのへ}八戸や、鳥取県の^{さかい}境、ⁿ（ ）県の^{けせんぬま}気仙沼や^{いしのまき}石巻、静岡県の^{やいづ}焼津、千葉県の^{ちやうし}銚子など全国で13の港が指定を受けています。

a 日本にある平野の多くは、おもに大きな川が長い期間にわたって運んだ土砂によって、海がうめ立てられた結果できました。^{おも}雄物川によって作られた平野はなに平野ですか。

b ① 次のア～ウは、首都圏の人口について書いたものです。内容がまちがっているものの一つを選びなさい。

ア 東京都は夜間の人口よりも昼間の人口の方が多いが、^{さいたま}埼玉県・千葉県・

神奈川県は、夜間の人口よりも昼間の人口の方が少ない。

イ 東京都の人口は減っているが、埼玉県・千葉県・神奈川県の人口は増えている。

ウ 東京都の人口は、日本の総人口の約1割を占めている。

② 千葉県・茨城県で生産される食料は、首都圏でおもに消費されています。次の表は、ある家畜の数の多い全国上位5県（2008年）を示したものです。ある家畜とはなんですか。ア～エから選びなさい。

ア 乳牛 イ 肉牛 ウ ブタ エ 卵をとるためのニワトリ

順位	1位	2位	3位	4位	5位
県名	^{かごしま} 鹿児島	^{みやざき} 宮崎	茨城	^{ぐんま} 群馬	千葉
全体に対する割合	13.7%	9.2%	6.5%	6.5%	6.4%

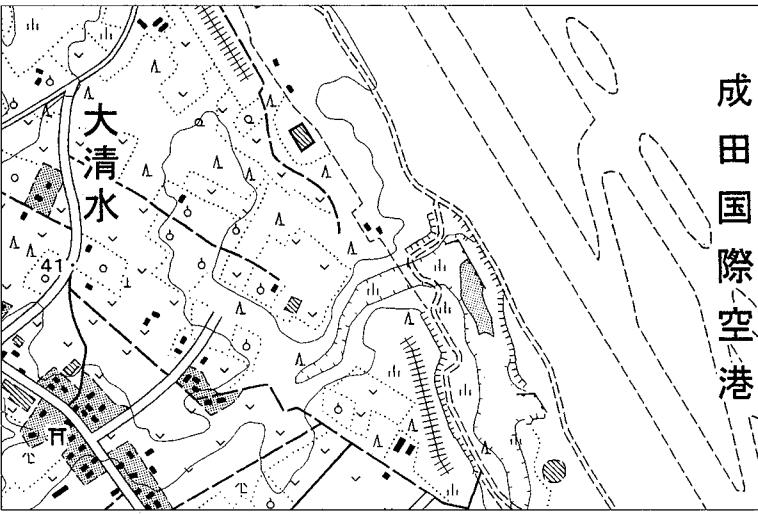
c 京浜工業地帯は太平洋ベルトの一部です。太平洋ベルトが全国の工業生産額に占める割合を、ア～ウから選びなさい。

ア 約80% イ 約65% ウ 約50%

d 開港当時、横浜港から最も多く輸出されていた品物はなんですか。

e 成田空港は千葉県北部の緑の多い地域に位置しています。次の地図は成田空港周辺の一部を示していますが、この地図に記されていないものをア～エから選びなさい。

ア くわ畑 イ 果物畑 ウ 針葉樹林 エ 畑・牧草地



(国土地理院発行2万5千分の1地形図「成田」より作成)

- f ① 名古屋港が面している湾の名前を答えなさい。
- ② この湾に面したある都市で広がった病気は、のちに四大公害病の一つに数えられるようになりました。その病気とはなんですか。

g ()に入るものをア～エから選びなさい。

ア IC (集積回路) イ 鉄鋼 ウ 精密機械 エ 自動車

h 石油の産出国としてまちがっているものを、ア～エから選びなさい。

ア アメリカ イ フランス ウ ロシア エ ノルウェー

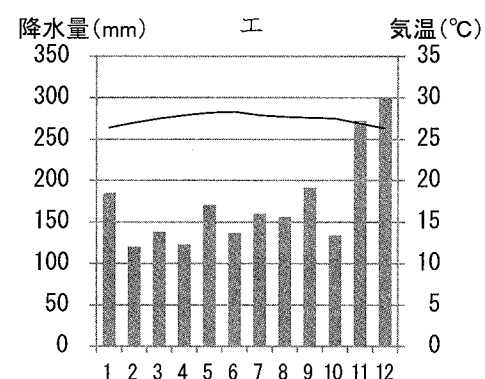
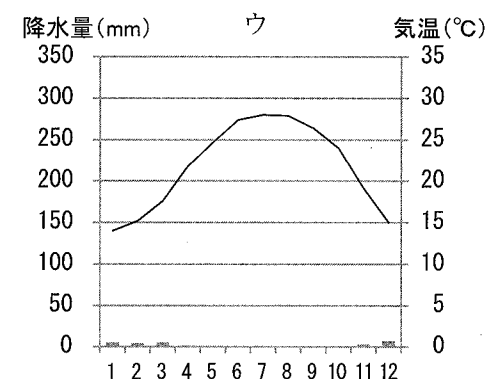
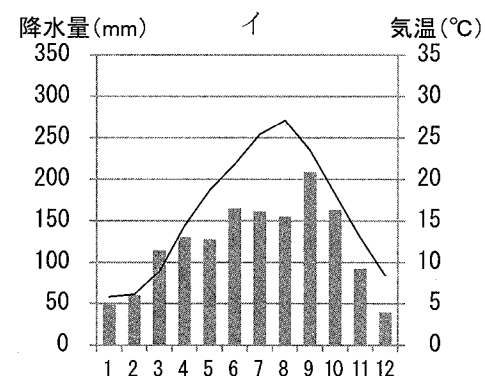
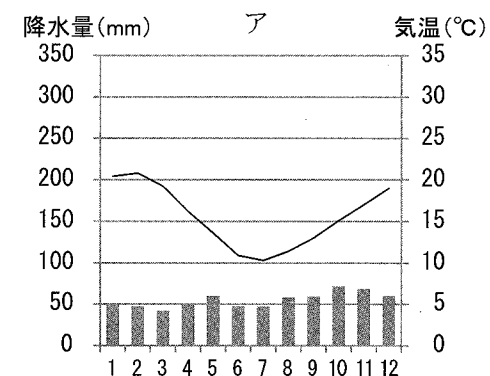
i ()に入る輸入品は、金額にしてその約8割が中国から日本に運ばれています。()に入るものを、ア～エから選びなさい。

ア テレビ イ 魚かい類 ウ 衣類 エ 果物

j ① シンガポール港は2008年に、世界で最も多くのコンテナ貨物を取りあつかいました。この港を持つシンガポールの面積は699平方キロメートルです。この面積に最も近い日本の島を、ア～エから選びなさい。

ア 淡路島 イ 沖縄島 ウ 四国 エ 三宅島

② 次の図は、シンガポール、東京、カイロ（エジプト）、メルボルン（オーストラリア）の気候図です。シンガポールの気候図をア～エから選びなさい。

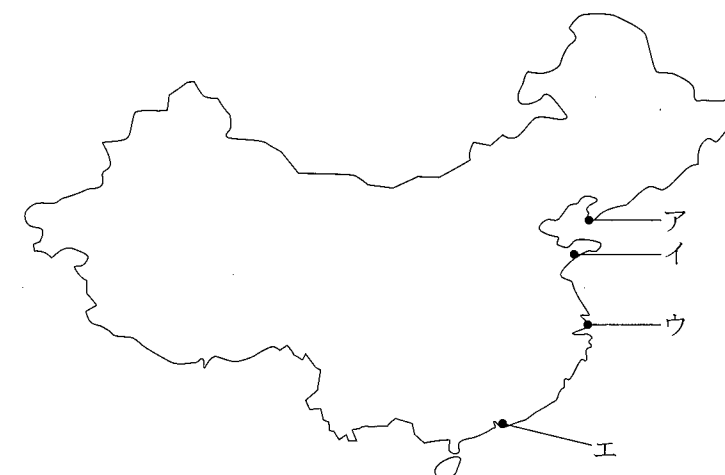


k プサンと九州の間を流れている暖流をなんといいいますか。

l ① 日本はカナダなどからたくさんの木材を輸入していますが、近年は外国産の木材が値上がりしているので、国産の木材が見直されています。しかし日本の林業は、国内で必要とされるだけの木材を十分まかなえない状況にあります。その理由を答えなさい。

② カナダの面積は世界でなん番目に大きいですか。

m シャンハイを地図のア～エから選びなさい。



n ① ()に入る県名を答えなさい。

② これら三つの漁港で最も水あげ量の多い魚を、ア～エから選びなさい。

ア サバ イ イカ ウ タラ エ カツオ

2 次の文を読んで、本文中の（ ）に入ることばを書き、——a～gについての問いに答えなさい。

日本国憲法が制定されたのは、第二次世界大戦後のことです。戦争が終わるときに日本は、連合国の出した（ 1 ）宣言を受け入れました。この宣言は、日本に対し、
a 軍国主義をやめること、民主主義を復活して強化すること、基本的人権を尊重することなどを要求するものでした。当時の日本にはすでに大日本帝国憲法がありましたが、この宣言の内容とは合わないため、連合国軍は、憲法を改正する指示を出しました。そこで、
b 新しく作られたのが、現在の日本国憲法です。

日本国憲法が施行されてすぐに、政府（文部省）は中学生用の教科書として『あたらしい憲法のはなし』という本をつくりました。この本を見ると、当時、政府がこの憲法についてどのように考えていたのかがわかります。中学生用の本ですが、少し見てみましょう。たとえば、この本の最初の方には、「こんどの憲法の根本となっている考えの第一は民主主義です」とあり、民主的な政治の進め方について、
c 「代表制民主主義」と
d 「直接民主主義」という二つの方法を例にあげながら詳しく説明しています。ここからは、民主主義に対する強い期待が伝わってきます。さらに続けて、「こんどの憲法は、いま申しましたように、民主主義を根本の考えとしていますから、（ 2 ）は、とうぜん日本国民にあるわけです。そこで前文の中にも、また憲法の第一条にも、『（ 2 ）が国民に存する』と、はっきりかいてあるのです」と述べ、大日本帝国憲法とのちがいを明らかにしています。そして、天皇についても「憲法は、天皇陛下を『（ 3 ）』としてゆくことにきめました」と書き、この結果、（ 3 ）である天皇は、
e 「憲法で定めたお仕事だけをされ、政治には関係されないことになりました」と説明しています。

この本の中で、当時のようなすが特に伝わってくるのは、「みなさんの中には、こんどの戦争に、おとうさんやにいさんを送りだされた人も多いでしょう。ごぶじにおかえりになったでしょうか」という文章で始まる、
f 「戦争の【 】」と題する章です。この章からは、戦争が終わった直後の人々の平和への熱い思いが伝わってきます。

日本国憲法のもう一つの柱である基本的人権については、「あたらしい憲法は、この基本的人権を、
g 「^{おか}侵すことのできない永久に与えられた権利として記しているのです」と書き、さらに「こんなにっぱな権利を与えられましたからには、みなさんは、じぶんでしっかりとこれを守って、失わないようにしてゆかなければなりません」と書いています。

日本国憲法がつくられてから、もう60年以上がたちました。かつて子どもたちが憲法について深く学んだように、私たちも憲法について学んでいくことが大切です。

- a 軍人の発言力が強くなっていくきっかけとなった事件が、1932年と1936年におこりました。それらはどのような事件ですか。共通する点を書きなさい。
b 日本国憲法は、1946年10月に議会の^{しんぎ}審議をへて可決され、同年11月3日に公布されましたが、この議会について書いた次のア～ウから正しいものを選びなさい。

ア 衆議院と貴族院からなる帝国議会で審議が行われた。

イ 連合国軍が特別に選んだ議員からなる一院制の議会で審議が行われた。

ウ 衆議院と参議院からなる二院制の新しい国会で審議が行われた。

- c 「代表制民主主義」とは、選挙によって選ばれた国会議員が、国会で国民全体を代表して政治を行っていくことを意味します。

① 国会議員の選挙について書いた次のア～ウから、正しいものを選びなさい。

ア 憲法がつくられた時の参議院議員の人数は250人、衆議院議員の人数は466人だったが、その後何度か改正され、現在はどちらの議院も最初の人数より少なくなっている。

イ 参議院も衆議院も、選挙制度が何度も改正されてきたが、現在ではどちらの選挙でも、小選挙区制と比例代表制をあわせて行っている。

ウ 国会議員の選挙に立候補する場合、多くの立候補者は政党の党員であるが、政党の党員でなくても国会議員の選挙に立候補することができ

② 国会の仕事として正しいものを、ア～ウから選びなさい。

ア 国務大臣をやめさせる

イ 国の仕事について調査する

ウ 裁判官を任命する

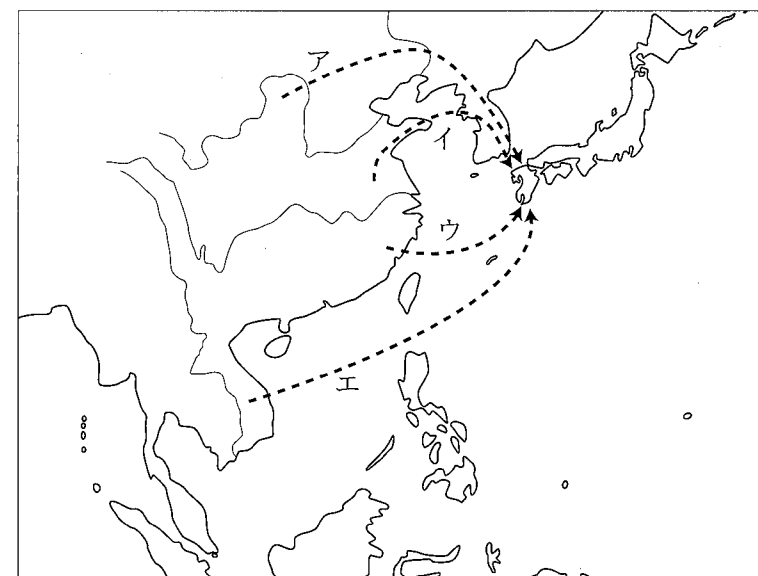
③ たとえば予算の問題は先に衆議院で話し合われるなど、衆議院は参議院よりも^{ゆうえつ}優越しています。これは、参議院よりも任期が短く解散があることが理由ですが、なぜそのことが、優越が認められる理由になるのですか。

④ 国会が内閣を（ ）しないことを決めると、内閣は総辞職をするか衆議院を解散しなければなりません。（ ）に入ることばを答えなさい。

- d 「直接民主主義」とは、たとえば最高裁判所裁判官の国民審査のように、国民が代表者を通じてではなく、自分で直接に決めることを意味します。日本国憲法はこのほかに、どのような場合に国民が直接に決めることができると定めていますか。
- e このような天皇の仕事をなんといいいますか。
- f []に入ることばは、憲法第9条に使われています。そのことばを答えなさい。
- g 憲法で保障されている基本的人権は、制限される場合もあります。それはどのような場合ですか。表現の自由を例にして答えなさい。

3 次のA～Cの問いに答えなさい。

- A 米作りが伝わったとみられる^{けいろ}経路を、ア～エから二つ選びなさい。



- B 次の文章は、米作りが伝わったころのようすを書いたものです。——ア～カのうち、まちがっているものを二つ選びなさい。


ア 米作りが伝えられると、人々は集団で定住するようになりました。米作りの結果、人々はそれまでより食料を安定して得られるようになり、長い間たくわえることができるようになりました。そのため、イ 漁や狩り、採集などは行われなくなりました。 ウ 菜畑遺跡や板付遺跡は、水田のあとが見つかった遺跡として有名です。これらから水田にあぜ道や水路が作られていたこと、また木製の農具が使われていたことがわかりました。米の作り方は、エ 田に種もみをじかにまく方法と、苗を育てて田植えをする方法のどちらも行われました。秋に稲がみのると、オ 石ぼうちょうで穂をつみ取って収かくし、たてぎねでもみを突いて脱こくしました。米をにたきするためには、カ 大陸の技術を用いて、かまで焼いた固い土器が使われるようになりました。

C 次の表は、三つの時代の農村のようすなどを書いたものです。

	① 鎌倉時代	② 室町時代	③ 江戸時代
村の支配	a <u>御家人が地頭に任命され、年貢の取り立てや犯罪のとりしまりを行う。</u>	農民たちが領主の支配から自立し、村のおきてを定めるなど、c <u>自治を行う。</u>	e () などの村役人が村を運営し、村人に共同で責任をとらせる五人組の制度が行われる。
村のようす	<ul style="list-style-type: none"> 農業に b <u>肥料が使われるようになる。</u> 村に鉄製の農具などを作る職人があらわれる。 	<ul style="list-style-type: none"> 手工業が発達し、地方の特産物が生まれる。 d <u>田植えのときに踊られていた () が、能や狂言に発展する。</u> 	<ul style="list-style-type: none"> f <u>新田開発がさかんに行われる。</u> g <u>新たな農具が開発される。</u>


問1 ——— a～gについて、次の問いに答えなさい。

- a 御家人は将軍に奉公し、また将軍からご恩をうけました。ご恩には、先祖から受けついだ領地を認められることのほかに、どのようなことがありましたか。
- b この時代の肥料には、どのようなものが用いられましたか。
- c 自治のため、村の農民たちが集まって話し合うことをなんといいますか。漢字で書きなさい。
- d () に入ることばを漢字で書きなさい。
- e () に入ることばを漢字で書きなさい。
- f 新田開発について書いた次のア～エのうち、正しいものを二つ選びなさい。
- ア 江戸時代の初期から中期までの間に、全国の田畑の面積は約2倍になった。
- イ 幕府は農民たちがあまり豊かにならないよう、新田開発を制限した。
- ウ 商人たちも新田開発を行い、新田の持ち主となり収入を増やした。
- エ 幕府はききんを防止する対策として、新田開発を積極的にすすめた。
- g 次の農具の名前を答えなさい。



問2 次のア～オは、表の①～③のどの時代にあてはまりますか。

- ア 綿、菜種、たばこなどが、売るための作物として作られるようになる。
- イ 各地で月に三回、定期的に市が開かれるようになる。
- ウ 西日本で行われていた二毛作が、東日本にも広まるようになる。
- エ 各地の米や特産物が、大阪に送られて売買されるようになる。
- オ 次の絵のような方法で、農作業を行うようになる。



- 4 日本とアメリカ合衆国との関係について書いた次の文を読んで、本文中の（ ）に入ることばを書き、——a～j についての問いに答えなさい。

1853年、アメリカの使節ペリーが率いる艦隊が浦賀に來航し、日本に開国をせまりました。翌年、日本は開国し、さらにその後貿易も開始して、200年以上続いた鎖国が終わりました。

やがて幕府が倒れ、明治政府が成立しましたが、その新政府では、a 岩倉使節団が派遣され、彼らは海を渡ってアメリカやヨーロッパの国々を訪問しました。また、政府は欧米から学者や技術者を招きました。彼らはお雇い外国人とよばれましたが、その一人、アメリカの動物学者モースは、横浜から東京に向かう汽車の窓から（ 1 ）を発見したことで知られています。また、アメリカの科学者であり教育家である（ 2 ）は、北海道の札幌農学校で若者の教育に力を尽くしました。

かつて植民地だったという歴史を持つアメリカは、自主独立を重んじ、外国の問題にかかわることを避けてきましたが、その方針は19世紀末ごろから変化していききました。20世紀に入って日露戦争が起こった際、アメリカの（ 3 ）大統領は、日本とロシアが講和条約を結ぶ際のなかだちをしました。1914年、b 第一次世界大戦が始まると、日本はそれを中国への進出の機会にしましたが、このような日本の姿勢に対して、アメリカは警戒を強めていきました。

1929年、アメリカを大変な不景気が襲いました。それはやがて世界に広がり、日本の経済をも直撃しました。経済がきびしくなる中で、日本は満州事変を起こしました。さらに、（ 4 ）年には、中国との全面的な戦争が始まりました。c 戦争が長引く中、行きづまった日本は、資源などを求めて東南アジアに軍隊を進めましたが、このことはアメリカとの関係をひじょうに悪化させることになりました。アメリカは、日本への石油や鉄の輸出を禁止しました。両国の間で話し合いが続けられたもののまとまらず、d 1941年12月8日、日本がハワイにあるアメリカ軍基地を攻撃して太平洋戦争が始まりました。

e 日本軍は初め、勢力を広げて東南アジアの都市を次々に占領していききましたが、半年を過ぎたころから資源や工業力でまさるアメリカ軍の反撃が始まりました。日本軍は各地で敗退し、やがて本土空襲も始まりました。そして1945年4月にはアメリカ軍が沖縄に上陸し、8月には広島と長崎に原子爆弾を投下し、日本はついに連合国に降伏しました。

戦後、アメリカを中心とする連合国軍が日本を占領し、日本政府に対して、f 民主化を進めるためのさまざまな指令を出しました。一方、戦後の国際社会では、アメリカとソ連の対立が深まり、世界は大きく二つに分けられました。その中で、1951年、アメリカの都市（ 5 ）で講和会議が開かれ、g 日本は、世界の48カ国と講和条約を結び、翌年に独立を回復しました。また、同時に（ 6 ）条約が結ばれました。

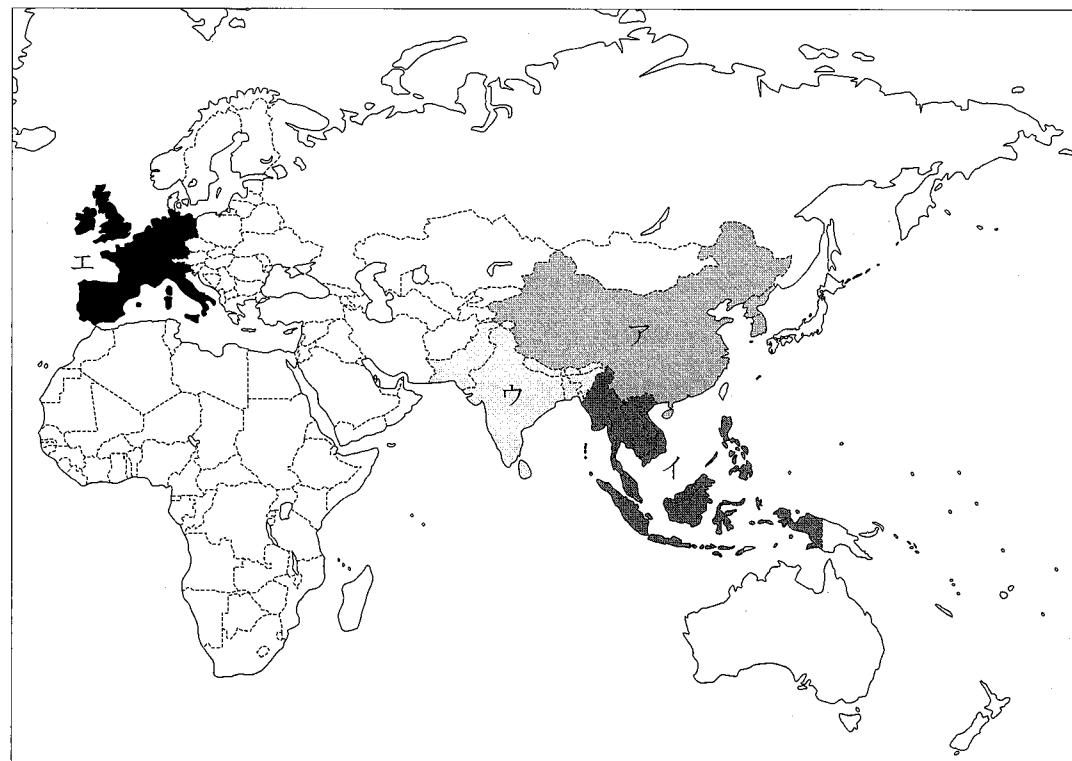
日本の独立後も、沖縄や奄美諸島、小笠原諸島は、アメリカに占領されたままでした。沖縄では、アメリカ軍の基地を広げるために土地が奪われたり、軍用機の事故で住民がまきぞえになったりしましたが、h 沖縄の人たちによる運動が粘り強く続けられ、1972年、沖縄は日本に返還されました。しかし今も多くのアメリカ軍基地が置かれています。

i 戦後、アメリカとソ連の対立の中で核兵器の開発が進められ、j 対立が終わった後も核兵器を持つ国が増えていきました。昨年、アメリカのオバマ大統領は、世界で唯一核兵器を使用した国の責任として、核のない世界をめざすと演説し、注目を浴びました。世界で原爆を投下された唯一の国である日本は、平和を築くためになにをすべきかが問われています。

- a この使節団の目的は、訪問のとちゅうで変化していききました。訪問のとちゅうからは、欧米の制度や産業のようすなどを視察することが目的になりましたが、出発したときの目的はどのようなことでしたか。
- b 日本と第一次世界大戦の関係について、正しいものをア～ウから一つ選びなさい。
- ア 大戦が始まると、国内の経済が混乱し、不景気におちいった。
- イ ヨーロッパに軍隊を派遣し、日露戦争を上回る戦死者を出した。
- ウ 大戦に参加して戦勝国の一つとなり、戦後につくられた国際連盟に加盟した。
- c 1940年に日本が行ったあることも、アメリカとの関係を悪化させました。日本が行ったことはなんですか。
- d この同じ日に、日本はある場所をも攻撃しました。そこはどこですか。
- e 東南アジアの占領地で、日本軍は人々にきびしい労働をしいて鉄道や飛行場などをつくらせました。きびしい労働をさせられたのは、現地の住民のほか、どのような人々でしたか。
- f この指令の中で、経済の民主化を進めるために行われたことを一つ答えなさい。

10 フェリス女学院

- g この条約が結ばれるとき、日本では、すぐに講和条約を結ぶべきだという意見とそうでない意見とが対立していました。そうでない意見は、この講和条約のどのような点を問題にしていたか。
- h 沖縄の返還を求める運動を、当時、沖縄の人たちは（ ）運動とよびました。（ ）に入ることばを答えなさい。
- i このようななか、日本で原水爆禁止運動がさかんになり、原水爆禁止世界大会が開かれましたが、そのきっかけとなったできごとはなんですか。
- j 世界には、核兵器を持たないことを決めている非核兵器地帯もたくさんあります。非核兵器地帯を、次の地図のア～エから一つ選びなさい。



ここは余白です。

番号		氏名	
----	--	----	--

1

a	平野			b ①	②	c	d	e		
f ①	湾			②	g			h	i	
j ①	②	k								
l ①								②	番目	
m	n ①	県			②					

2

1	2		3	
a	b			
c ①	②	③	④	
d	e		f	
g				

3

A	B				
C	a				
	b	c	d	e	
	f	g			
問2	ア	イ	ウ	エ	オ

4

1	2		3	
4	5		6	
a	b			
c	d		e	
f	g			
h	i	j		

1	2	3	4	