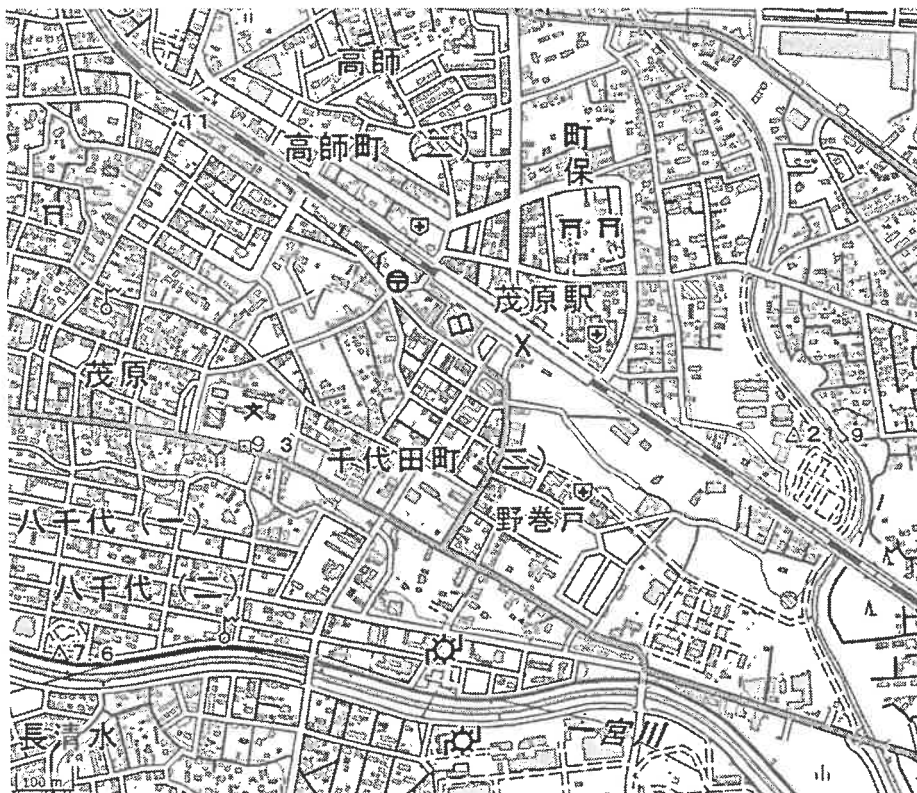


| | |
|------|--|
| 受験番号 | |
|------|--|

[1] 次の地図は、ある市の地形図です。この地図について、あとの問いに答えなさい。

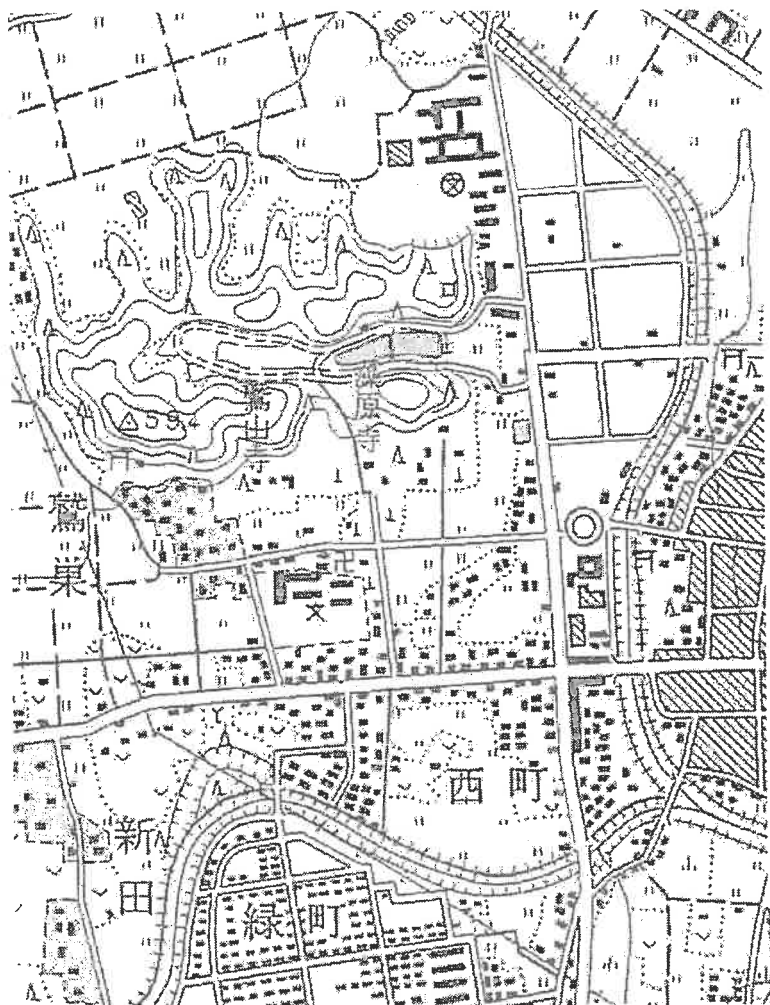
問1 地図の中心にある「茂原駅」から見て読みとれることとして誤っているものを2つ選び、記号で答えなさい。

- ア. 駅の北側には保健所があります。
- イ. 駅の北側の「町保」に神社が2つあります。
- ウ. 駅前に図書館があります。
- エ. 駅前に交番があります。
- オ. 南を流れる「一宮川」の両岸に工場が2つあります。
- カ. 駅の西側に郵便局があります。



地理院地図 (標準地図) より作成

問2 下の2つの地図は、問1の地図の場所から西の場所の地図です。左が古い地図、右が現在の地図です。2つの地図を見比べて述べた文として誤っているものをア～エの中から1つ選び、記号で答えなさい。



国土地理院 2万5千分の1 地形図「茂原」昭和51年修正測量



地理院地図 (標準地図)

- ア. 「鷺山寺」の北には新しく住宅地ができています。
- ウ. 高等学校の位置は変わっていません。

- イ. 「409号線」は新しくつくられた道路です。
- エ. 「茂原公園」の西に老人ホームが建てられました。

| | |
|------|--|
| 受験番号 | |
|------|--|

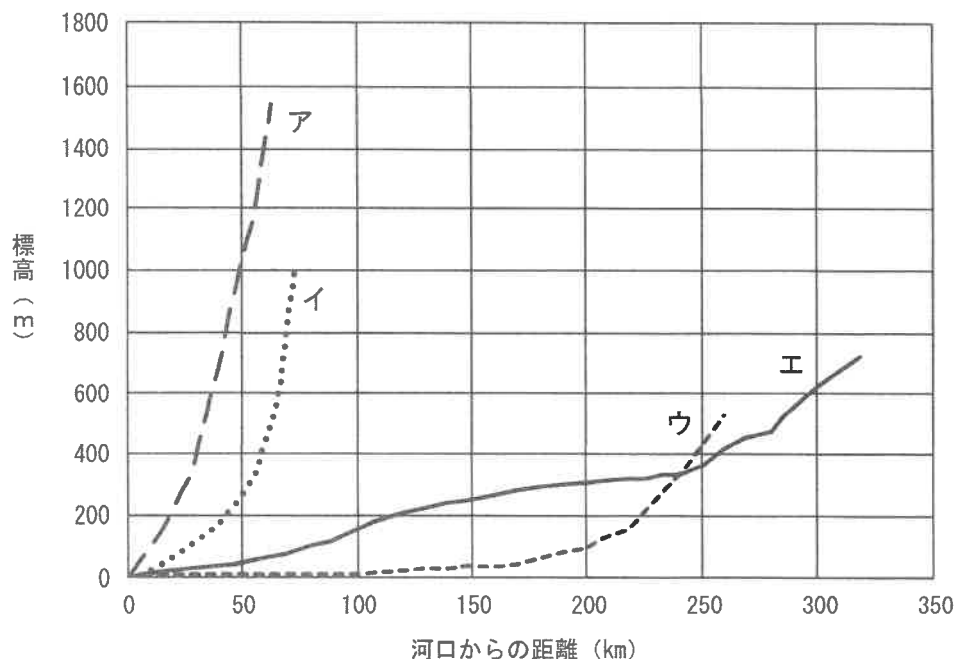
問3 この地図の場所は、千葉県内にあります。千葉県が属する地方名を次の中から選び、記号で答えなさい。

- ア. 東北地方 イ. 関東地方 ウ. 中部地方 エ. 中国地方 オ. 九州地方

問4 千葉県が橋やトンネルも含んだ地続きで隣り合っている都県を次の中から1つ選び、記号で答えなさい。

- ア. 茨城県、群馬県、埼玉県、栃木県
 イ. 茨城県、東京都、栃木県、山梨県
 ウ. 神奈川県、群馬県、埼玉県、山梨県
 エ. 神奈川県、東京都、栃木県、群馬県
 オ. 茨城県、埼玉県、神奈川県、東京都

問5 右のグラフは荒川（埼玉県～東京都）・黒部川（富山県）・信濃川（長野県～新潟県）・利根川の各河川の河口からの距離と標高の関係を示したものです。千葉県と隣り合っている県との県境にもなっている利根川をグラフ中のア～エから選び、記号で答えなさい。



国土交通省北陸地方整備局HP内
 「主要河川の勾配（国内）」より作成
 距離と標高は源流までは示していません

問6 次の表は北海道、千葉県、愛知県、兵庫県の工業製造品出荷金額（百万円）を示したものです。千葉県をア～エの中から選び、記号で答えなさい。

| | 輸送用機械器具 | 石油製品 石炭製品 | 食料品 |
|---|------------|--------------|-----------|
| ア | 28,415,280 | 1,008,230 | 1,888,664 |
| イ | 1,703,409 | 268,780 | 1,863,238 |
| ウ | 78,743 | 4,490,439 | 1,768,271 |
| エ | 422,269 | 869,884 | 2,385,426 |

経済産業省『2023年経済構造実態調査』

問7 次の文は千葉県のある農園のホームページの一文です（表記を一部改めたところがあります）。このような農園経営は何とよばれますか。「産業」の語を用いて答えなさい。

生育させて、収穫して終わり——というのが、1次産業であるいままでの農業の流れでした。本農園では、収穫した作物（落花生）を加工し、ピーナッツペーストや茹で落花生・炒り落花生といった商品化を手がけ、全国への製品出荷・流通も行っております。

千葉県香取市 オオノ農園HPより

| | |
|------|--|
| 受験番号 | |
|------|--|

[2] 次の文を読んで、あとの問いに答えなさい。

(a) ブラジル、(b) ロシア、(c) インド、中国、(d) 南アフリカ共和国の5か国から構成されていたBRICS (ブリックス) は、2023年の首脳会議において、2024年1月1日より、アルゼンチン、(e) エジプト、エチオピア、イラン、(f) サウジアラビア、アラブ首長国連邦の正式な加盟を認めました。これらの6か国はそれぞれの地域で政治的・経済的に重要な国であり、こうした国々を加えることで、BRICSの世界的な影響力を拡大するねらいがあります。

問1 ブラジル、ロシア、インド、中国、南アフリカ共和国のうち、赤道が通過する国を1つ答えなさい。

問2 下線部(a)について答えなさい。

(1) ブラジルの公用語を答えなさい。

(2) ブラジルでは、毎年2月ごろ、世界的に有名な祭りが行われます。この祭りはカトリックにおける祭事が起源となっています。

この祭りは何とよばれていますか。

問3 下線部(b)について、現在ロシアが占領しており、日本が返還を求めている地域のうち、日本最北端の島を次の中から選び、記号で答えなさい。

- ア. 択捉島 イ. 国後島 ウ. 色丹島 エ. 歯舞群島

問4 下線部(c)について、インドや中国にまたがってそびえる巨大な山脈を次の中から1つ選び、記号で答えなさい。

- ア. アルプス山脈 イ. アンデス山脈 ウ. ヒマラヤ山脈 エ. ロッキー山脈

問5 下線部(d)について、南アフリカ共和国では、スマートフォンや電気製品などに使われる希少な鉱物が多く産出されています。

このような鉱物をまとめて何といいますか。カタカナで答えなさい。

問6 下線部(e)について、エジプトを流れる世界で一番長い河川を次の中から選び、記号で答えなさい。

- ア. アマゾン川 イ. ナイル川 ウ. ミシシッピ川 エ. ライン川

問7 下線部(f)について、サウジアラビアではイスラム教が信仰されています。イスラム教のきまりについて述べた文として誤っているものを次の中から1つ選び、記号で答えなさい。

- ア. 1日5回、聖地であるメッカに向かって祈りをささげます。
 イ. 服装や利用できる施設、行動などに明確な男女の区別があります。
 ウ. 牛肉を食べることが禁じられており、牛肉のエキスが入った調味料も使用しません。
 エ. ラマダンとよばれる1か月間、日中に食べ物を口にしない断食の義務があります。

問8 次の表はサウジアラビア、中国、ブラジルについて、2022年における日本との主要な輸出入品の上位5品目を示したものです。表中の①～③と国の組み合わせとして正しいものをア～カの中から選び、記号で答えなさい。

| 相手国 | 貿易額 (億円) | | 日本の主要輸出入品 (貿易額の多い順) | | | | |
|-----|----------|---------|---------------------|--------|-------------|-------|-----------|
| ① | 輸出 | 5,674 | 一般機械 | 電気機器 | 有機化合物 | 鉄鋼 | 金属製品 |
| | 輸入 | 14,633 | 鉄鉱石 | トウモロコシ | 鶏肉 | 有機化合物 | コーヒー豆 |
| ② | 輸出 | 6,678 | 乗用車 | 一般機械 | バスとトラック | 自動車部品 | 鉄鋼 |
| | 輸入 | 55,690 | 原油 | 揮発油 | アルミニウムとその合金 | 有機化合物 | 銅くず |
| ③ | 輸出 | 190,038 | 電気機器 | 一般機械 | プラスチック | 乗用車 | 鉄鋼 |
| | 輸入 | 248,434 | 電気機器 | 一般機械 | 衣類 | 金属製品 | 織物用糸と繊維製品 |

二宮書店『地理統計要覧 2024年版』より作成

| | ア | イ | ウ | エ | オ | カ |
|---|---------|---------|---------|---------|---------|---------|
| ① | サウジアラビア | サウジアラビア | 中国 | 中国 | ブラジル | ブラジル |
| ② | 中国 | ブラジル | サウジアラビア | ブラジル | サウジアラビア | 中国 |
| ③ | ブラジル | 中国 | ブラジル | サウジアラビア | 中国 | サウジアラビア |

問9 2024年には、フランスで夏季オリンピック・パラリンピックが開催されました。ブラジル、ロシア、インド、中国、南アフリカ共和国のうち、21世紀になってから行われた夏季オリンピック・パラリンピックの開催都市がある国を2つ答えなさい。

| | |
|------|--|
| 受験番号 | |
|------|--|

[3] 歴史上の人物について記された次のカードを見て、あとの問いに答えなさい。

カード1

昨年(2024年)のNHKの大河ドラマの主人公でした。この人物の主著を題材とした絵巻物の一場面には、(1)を着て、書物を読んでいる貴族の女性が描かれています。

カード2

今川義元などの有力大名を倒して勢力を拡大しました。さらに当時の将軍を京都から追放し、幕府を滅ぼしました。宗教面では、仏教勢力を武力で弾圧した一方でキリスト教は保護しました。また、商工業により繁栄していた(2)を直接支配しました。

カード3

内乱に敗れて伊豆に流されましたが、その後、関東の武士たちを味方につけて、(a)平氏を倒すための戦いを始めました。また、(3)に中尊寺金色堂を建てた、東北地方の藤原氏を滅ぼしました。

カード4

蘇我氏とともに、(b)天皇中心の国づくりをめざして、政治の改革を進めました。外交面では、中国に(4)らを派遣して国交を開き、進んだ政治のしくみや文化を取り入れようとしてきました。

カード5

(c)3世紀ごろに活躍しました。『魏志』倭人伝という中国の歴史書には、「鬼道(まじない)をする力があり、人々を従えた」ことなどが記されています。この人物が、住んでいた場所については、現在でも九州地方とする説と(5)地方とする説などに分かれています。

カード6

(d)江戸時代の将軍で、新田開発を進めたり、米価の安定をはかったりして、幕府の財政再建政策をおし進めました。また、人々の意見を参考にするため(6)を設置し、町奉行には大岡忠相を任命して町の治安維持にあたらせました。

問1 文中の(1)・(2)にあてはまる語句の組み合わせとして正しいものを次の中から選び、記号で答えなさい。

- ア. 1-十二単(女房装束) 2-堺 イ. 1-十二単(女房装束) 2-国友
ウ. 1-振袖 2-堺 エ. 1-振袖 2-国友

問2 文中の(3)・(4)にあてはまる語句の組み合わせとして正しいものを次の中から選び、記号で答えなさい。

- ア. 3-壇ノ浦 4-小野妹子 イ. 3-平泉 4-小野妹子
ウ. 3-壇ノ浦 4-鑑真 エ. 3-平泉 4-鑑真

問3 文中の(5)・(6)にあてはまる語句の組み合わせとして正しいものを次の中から選び、記号で答えなさい。

- ア. 5-四国 6-寺子屋 イ. 5-近畿 6-寺子屋
ウ. 5-四国 6-目安箱 エ. 5-近畿 6-目安箱

問4 平安時代の始まりから鎌倉時代の終わりまでの間に活躍した人物のカードの組み合わせとして正しいものを次の中から1つ選

び、記号で答えなさい。

- ア. カード1とカード2 イ. カード1とカード3 ウ. カード1とカード4
エ. カード2とカード3 オ. カード2とカード4 カ. カード3とカード4

| | |
|------|--|
| 受験番号 | |
|------|--|

問5 カード2の人物によって焼き打ちにされた仏教寺院を次の中から1つ選び、記号で答えなさい。

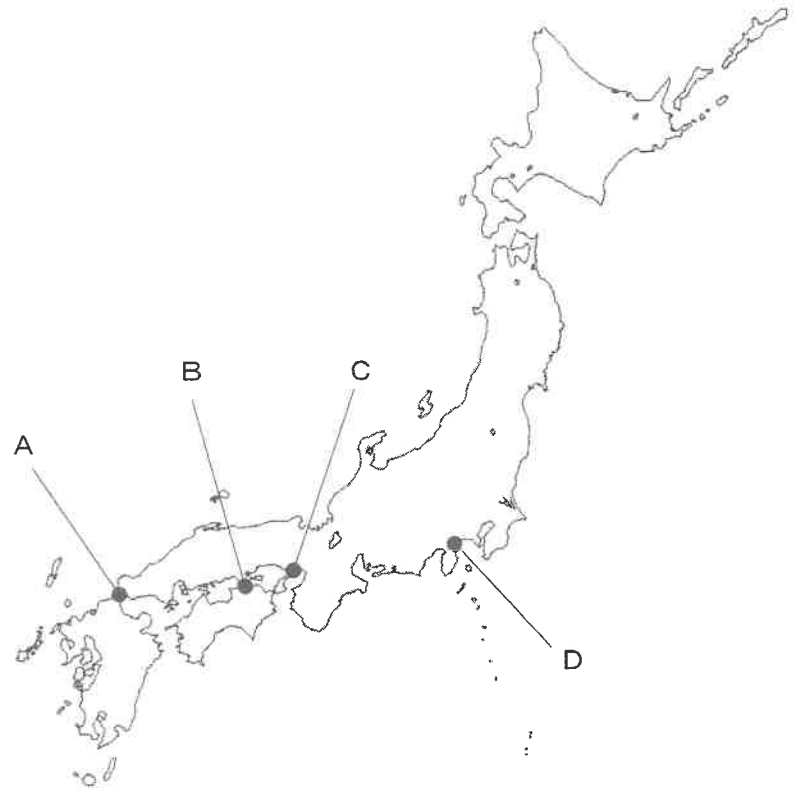
- ア. 法隆寺 イ. 本能寺 ウ. 金閣寺 エ. 延暦寺

問6 下線部(a)について、これらの戦いがあった地図上の場所と、その地名の組み合わせとして正しいものを次の中から1つ選び、記号で答えなさい。

- ア. A—ノ谷 イ. B—屋島
ウ. C—石橋山 エ. D—俱利伽羅峠

問7 下線部(b)について述べた文として正しい文を次の中から1つ選び、記号で答えなさい。

- ア. 地方の特産物を納める調など、税の制度が整えられました。
イ. 「大化」という日本で初めての年号(元号)が定められました。
ウ. 能力のある者を役人に取り立てたり、役人の心構えを示したりしました。
エ. 田畑の耕作者に対して、決められた税を納める義務を負わせました。



問8 下線部(c)の人々の生活について述べた文として正しいものを次の中から1つ選び、記号で答えなさい。

- ア. 農作業を共同で行うことも多くなり、集落の周りに濠をめぐらした環濠集落も生まれました。
イ. 牛や馬、鉄製農具を使った農耕が普及し、二毛作が行われる地域も現れました。
ウ. 建築や土木工事、養蚕や織物などの進んだ技術が、渡来人によって伝えられました。
エ. 田植えのときに田楽が踊られたり、祭りの時に猿楽が演じられたりしました。

問9 下線部(d)について述べた文として誤っているものを次の中から1つ選び、記号で答えなさい。

- ア. 幕府は、貧しい人々のために小石川養生所をつくりました。
イ. 朝鮮通信使が、12回にわたって日本を訪れました。
ウ. 幕府は、大名を親藩・譜代・外様に区別しました。
エ. 武士の間で、ご恩と奉公で結ばれた制度が始まりました。

| | |
|------|--|
| 受験番号 | |
|------|--|

[4] 次の会話文を読んで、あとの問いに答えなさい。

海山： 昨年（2024年）の夏に新しいお札（紙幣）が発行されたね。

星川： デザインや肖像画が変わったね。新紙幣には女性の津田梅子の肖像が描かれているよ。

先生： 名前だけじゃ男性か女性かわかりにくいけど、前の紙幣に肖像が使われた（1）も同じ明治時代の女性よ。本名は奈津。

星川： そうか。よく知られている名前が本名ではないのね。

先生： 筆名、つまりペンネームよ。前の紙幣に肖像があった夏目漱石の本名は金之助。ふだんは夏目金之助の名で生活してたの。でも、（1）は日常生活で、自分からは夏子を名のることが多かったらしいわ。

星川： 奈津だから夏子ね。女性の名前に「子」がつくのはなぜかしら。

海山： 男性でも聖徳太子には「子」がつくよ。聖徳太子は、これまで発行された紙幣のうち7種類で肖像が描かれているんだって。

先生： 「太子」は人名じゃなくて皇太子を指す敬称ね。「子」は「先生」という意味もあって、もともと高貴な男性の名前として使われていたの。蘇我馬子、とか。女性の「子」も天皇や貴族などの娘の名前につけられたんだけど、一般女性の名前に「子」が使われるようになるのは明治時代からよ。上流階級の高貴で上品なイメージから、憧れをこめて「～子」ってつけられたんでしょね。

海山： 明治って、日本の社会がいろんなところでそれまでと大きく変わっていった時代ですよ。

先生： 明治政府は欧米諸国にひけをとらない近代国家をつくろうと富国強兵を進めたの。その中心は、(a)兵制、税制、学制の改革、それに []。1872年に今の国立印刷局（当時は太政官正院印書局）が設立されて、5年後に国産第1号の一元紙幣が発行されたのも、そうした政策の一環ね。

海山： その明治政府の官僚や実業家として日本の資本主義を発展させたのが渋沢栄一だね。

星川： 欧米流の女子教育によって女性の地位向上を図ろうとした先駆者が津田梅子ね。彼女は子どものときに留学したんですよ。

先生： そう。明治時代の岩倉使節団といえば、岩倉具視や（2）などが有名だけど、これに留学生として参加していたのが津田梅子。留学したときは今の小学校1年生と同じ6歳で、そのまま11年間アメリカに残り、帰国したときは今の高校3年生と同じ年齢だったのよ。

海山： すごいな。親がよく送り出したなあ。

先生： 帰国後しばらくして、彼女は（2）のすすめで華族女学校の教師となって、同じ年に（2）も初代総理大臣に就任しているわ。梅子はその後も海外に渡り、同じ時代を生きたアメリカのヘレン・ケラーやイギリスのナイチンゲールら世界的に著名な女性にも直接会って感化され、35歳のときに今の津田塾大学を創立したの。

星川： 彼女と同じ時代に、欧米諸国にも負けない近代医学の発展に貢献したのが北里柴三郎ですね。

先生： 梅子が教師になった年、32歳の北里柴三郎は(b)国費の医学留学生としてドイツへ渡ることが決まって、細菌学の第一人者コッホのもとで6年間の研究生生活を送りました。そこで世界で初めて破傷風菌の純粋培養に成功して破傷風の血清療法を考案したの。帰国後はドイツのコッホ研究所やフランスのパスツール研究所と肩を並べる伝染病研究所を設立して、日本で初めての結核専門病院をつくり、翌年には世界で初めてペスト菌を発見しました。伝染病予防法の制定にも力を尽くしたのよ。

実は、前の紙幣で肖像が使われていた人の中にも柴三郎と深い関わりがある人物がいるわ。柴三郎が伝染病研究所の設立を考えていたとき、その土地と建設費を提供したのが（3）。そして研究所が開設されて6年後、ここに21歳で助手として採用されたのが（4）。彼も細菌学で世界的な業績を残したけれど、きっと柴三郎のもとで学んだ経験がいかされたはずよ。

のちに柴三郎は、世話になった（3）の恩に報いるために、（3）が創立した慶應義塾大学に新たに医学科（今の医学部）を設け、初代医学科長を務めました。

海山： でも、明治の人々の努力によって(c)日本が列強の一角を占めるようになると、それを快く思わない国も出てきたよね。

星川： (d)日本は国際関係に積極的に関与する立場になったけど、紛争を武力で解決しようとする傾向も顕著になっていった。そうした流れの中で(e)軍の力が国内の政治に大きな影響力をもつようになったのね。

| | |
|------|--|
| 受験番号 | |
|------|--|

問1 (1) ~ (4) はすべて、これまでに発行された紙幣に肖像が描かれている人物です。それぞれ人名を答えなさい。

問2 下線部(a)について答えなさい。

(1) これらの改革のうち、1873年に始まった兵制と税制の改革をそれぞれ答えなさい。

(2) [] にあてはまる語句と、その説明が正しい文を1つ選び、記号で答えなさい。

ア. 憲法制定： アジアで初めて立憲君主国となりました。しかし、議会には政府を組織する権限がなく、軍は政府からも議会からも独立した組織でした。

イ. 条約改正： 外国で起こった日本人の犯罪を日本の法律で取り締まり、輸出品に対する関税率を日本が自由に決めることができるようになりました。

ウ. 殖産興業： 官営模範工場が建設され、交通や通信などの社会資本、貨幣や銀行など金融制度が整えられました。新たな近代的産業も誕生しました。

エ. 版籍奉還： 廃藩置県後も旧藩主が地方を治めていたのを改め、政府が任命・派遣した府知事や県令に地方を治めさせて中央集権体制を強化しました。

オ. 文明開化： 都市では生活が欧米化し、西洋料理や洋装が広まりました。街路には電灯が灯り、人力車が走り、鹿鳴館では舞踏会が頻繁に開かれました。

問3 下線部(b)について、北里柴三郎のドイツ留学時代の写真に、彼と同時期に医学生としてドイツに国費留学していた森林太郎も写っています。帰国後、彼は軍医として活動しながら多くの文学作品を発表し、夏目漱石と並ぶ明治時代の文豪として知られます。この人物は誰ですか。作家としての筆名(ペンネーム)を答えなさい。



テルモ株式会社HP内「医療の挑戦者たち」より転載

問4 下線部(c)の例としてロシアがあげられます。

(1) ロシアは日本に対して、日清戦争で得た領土の一部を中国へ返還するよう迫りました。本文にある4か国のうち、ロシアに同調して三国干渉に加わった国の組み合わせとして正しいものを次の中から1つ選び、記号で答えなさい。

- ア. アメリカーイギリス イ. アメリカードイツ ウ. アメリカーフランス
 エ. イギリスードイツ オ. イギリスーフランス カ. ドイツーフランス

(2) 日本とロシアとの対立が深まる中、ロシアを警戒して日本を支援した国の組み合わせとして正しいものを、(1)のア～カの中から1つ選び、記号で答えなさい。

問5 下線部(d)・(e)についてのできごとA・Bは、これまで発行された紙幣の肖像に採用された人物に関係しています。A・Bは右の年表の①～④のどこにあてはまりますか。その組み合わせとして正しいものをア～カの中から選び、記号で答えなさい。

A. 国際連盟が設立されて日本は常任理事国となり、新渡戸稲造が連盟の初代事務次長に就任した。

B. 陸軍将校が首相官邸などを襲撃し、大蔵大臣(今の財務大臣)高橋是清ら多数の政府要人を殺害した。

- ア. A-① B-② イ. A-① B-③ ウ. A-① B-④
 エ. A-② B-③ オ. A-② B-④ カ. A-③ B-④

| | |
|-------|-------------|
| 1894年 | 日清戦争が起こる |
| 1904年 | 日露戦争が起こる |
| 1910年 | ① |
| 1914年 | 第一次世界大戦が起こる |
| 1919年 | ② |
| 1931年 | 満州事変が起こる |
| 1936年 | ③ |
| 1937年 | 日中戦争が起こる |
| 1939年 | ④ |
| 1941年 | 太平洋戦争が起こる |

受験番号

[5] 次の文を読んで、あとの問いに答えなさい。

昨年(2024年)、日本では物価の上昇^{しょうじょう}が続き、(a)夏には米不足が深刻化^{しんこくか}しました。家計の不安を減らすため、(b)政府は6月以降、対策を実施^ししましたが、それだけでは不十分だという声も多く聞かれました。政治の世界では、(c) (1) 氏が新たに内閣総理大臣となりました。地方の政治について見てみると、多くの立候補者が出て話題となった東京都知事選で (2) 氏が当選したほか、兵庫県では知事の (3) 氏の発言や行動について、(d) 県議会によって百条委員会が設置され、疑惑^{ぎわく}の追及が進められました。

問1 下線部(a)について、2024年に米不足が発生した理由の組み合わせとして正しいものを下から選び、記号で答えなさい。

- A. 2022年のロシアのウクライナ侵攻^{いんこう}以降、世界で小麦の代わりとして日本の米の需要^{じゅよう}が増えたから。
- B. 2023年が記録的な冷夏となり、米の収穫量が大きく落ちこんだから。
- C. 2024年に日本国内で地震^{としん}などの自然災害が多く発生し、災害に備えて米を買う人が増えたから。
- D. 2024年には2023年よりも外食産業用の米に対する需要が増えたから。

ア. A・B イ. A・C ウ. A・D エ. B・C オ. B・D カ. C・D

問2 下線部(b)について、実施した対策として正しいものを次の中から1つ選び、記号で答えなさい。

- ア. 所得税と住民税を一定の割合で減税しました。
- イ. 消費税を8%に引き下げました。
- ウ. 国民一人あたり10万円を給付しました。
- エ. 国民一人あたり所得税3万円と、住民税1万円を減らしました。

問3 (1) にあてはまる人名をフルネームで答えなさい。

問4 下線部(c)について答えなさい。

- (1) 内閣総理大臣が選ばれるまでの流れを説明した次の文の (A) ~ (D) にあてはまる語句を漢字で答えなさい。ただし、(A) は4字、(D) は3字とします。

日本国憲法の規定では、内閣総理大臣は (A) の中から (B) が指名し、(C) が任命します。指名にあたっては、(D) の優越^{ゆうえつ}が認められています。

- (2) イギリスやアメリカでも新たな政治指導者が誕生しました。2024年にイギリスで就任した首相と、アメリカで当選した大統領をそれぞれ次の中から選び、記号で答えなさい。

ア. キア=スターマー イ. ドナルド=トランプ ウ. ジョー=バイデン エ. カマラ=ハリス

問5 (2) ・ (3) にあてはまる人名として正しいものをそれぞれ次の中から選び、記号で答えなさい。

ア. 石丸伸二 イ. 斎藤元彦 ウ. 吉村洋文^{ひろふみ} エ. 小池百合子^{かりこ} オ. 稲村和美^{かづみ}

問6 下線部(d)について、県議会がもつ役割として誤っているものを次の中から1つ選び、記号で答えなさい。

- ア. 県の条例を制定します。
- イ. 県の予算を決めたり、予算が適切に使われたかどうかをチェックしたりします。
- ウ. 県内に裁判所を設置し、刑事裁判や民事裁判を行います。
- エ. 自動車税など、県税の金額や割合を決定します。

| | | | |
|------|--|----|--|
| 受験番号 | | 名前 | |
|------|--|----|--|

[1]

| | | | | | | | | | | | |
|-----|--|-----|--|-----|--|-----|--|-----|--|-----|--|
| 問 1 | | 問 2 | | 問 3 | | 問 4 | | 問 5 | | 問 6 | |
| 問 7 | | | | | | | | | | | |

[2]

| | | | | | | | | | | | | |
|-----|-----|-----|--|--|--|-----|--|-----|--|-----|-----|--|
| 問 1 | | | | | | | | | | | | |
| 問 2 | (1) | | | | | (2) | | | | | 問 3 | |
| 問 4 | | 問 5 | | | | 問 6 | | 問 7 | | 問 8 | | |
| 問 9 | | | | | | | | | | | | |

[3]

| | | | | | | | | | | | | | |
|-----|--|-----|--|-----|--|-----|--|-----|--|-----|--|-----|--|
| 問 1 | | 問 2 | | 問 3 | | 問 4 | | 問 5 | | 問 6 | | 問 7 | |
| 問 8 | | 問 9 | | | | | | | | | | | |

[4]

| | | | | | | | | | | | |
|-----|-----|----|--|--|-----|-----|--|-----|--|-----|--|
| 問 1 | (1) | | | | | (2) | | | | | |
| | (3) | | | | | (4) | | | | | |
| 問 2 | (1) | 兵制 | | | | 税制 | | | | (2) | |
| 問 3 | | | | | 問 4 | (1) | | (2) | | 問 5 | |

[5]

| | | | | | | | | | | | | | |
|-----|-----|-----|--|-----|--|-----|-----|--|--|--|--|-----|------|
| 問 1 | | 問 2 | | 問 3 | | | | | | | | | |
| 問 4 | (1) | (A) | | | | | (B) | | | | | (2) | イギリス |
| | | (C) | | | | | (D) | | | | | | アメリカ |
| 問 5 | (2) | | | (3) | | 問 6 | | | | | | | |