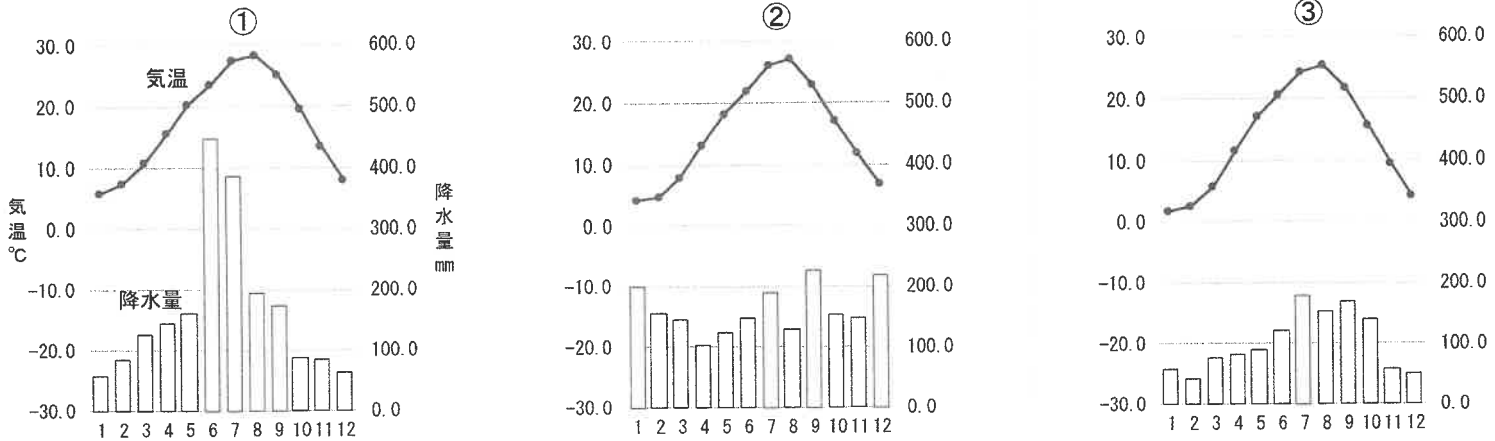


受験番号	
------	--

問6 文中の3県の県庁所在地と、その月別気温・降水量を示したグラフの組み合わせとして正しいものを下のア～カの中から選び、記号で答えなさい。



	ア	イ	ウ	エ	オ	カ
鳥取市	①	①	②	②	③	③
熊本市	②	③	①	③	①	②
福島市	③	②	③	①	②	①

問7 下の地図は日本の2つの県を合わせたもので、地図の縮尺や方位はすべて同じです。



- (1) 鳥取県とそれに隣接するA県を示す地図を選び、記号で答えなさい。
- (2) 熊本県とそれに隣接するB県を示す地図を選び、記号で答えなさい。
- (3) 福島県とそれに隣接するC県を示す地図を選び、記号で答えなさい。

問8 問7のA～Cの3県にある鉱山または炭田と、それについて述べた文の組み合わせが正しいものを下のア～カの中から選び、記号で答えなさい。

- ① 近くに、日清戦争に敗れた清朝からの賠償金をもとに八幡製鉄所が建設され、1901年から操業を開始しました。
- ② その遺構は、周囲の建造物や街道、港や町並みも含めて、2007年に、ユネスコの世界文化遺産に登録されました。
- ③ 精錬の過程で出た排煙や排水によって周辺の山林や河川流域の自然環境が破壊され、日本で初めての公害となりました。

	ア	イ	ウ	エ	オ	カ
A県の鉱山または炭田	①	①	②	②	③	③
B県の鉱山または炭田	②	③	①	③	①	②
C県の鉱山または炭田	③	②	③	①	②	①

受験番号	
------	--

[2] 次の文を読んで、あとの問いに答えなさい。

中国（中華人民共和国）は日本と同じく、東アジアに位置する国です。(a)国土面積はおよそ960万km²で、そこに(b)14億人以上の人々が暮らしています。中国と日本は古くから交流があり、中国料理や漢方薬、(1) など、様々な文化が日本に伝わりました。観光客の行き来もさかんで、特に中国における旧暦の正月にあたる(2)の時期には、多くの観光客が日本に訪れます。横浜の中華街や、神戸の(3)町でも、(2)の時期には盛大にお祝いが行われます。

中国は2000年代に(c)急速な経済成長をとげました。(d)日本や海外諸国との貿易が活発に行われるようになり、わたしたちの身のまわりにも、中国からの輸入品が多く見られます。

問1 文中の(1)～(3)にあてはまる語句をア～エの中から1つずつ選び、記号で答えなさい。

- (1) ア. ヒンドゥー教 イ. 仏教 ウ. キリスト教 エ. イスラム教
 (2) ア. 春節 イ. 夏節 ウ. 秋節 エ. 冬節
 (3) ア. 東京 イ. 西京 ウ. 南京 エ. 北京

問2 中国と国境が接していない国をア～オの中から1つ選び、記号で答えなさい。

- ア. ロシア イ. ベトナム ウ. インド エ. タイ オ. ミャンマー

問3 下線部(a)について、中国、サウジアラビア、ブラジル、ロシアの4か国が面積が大きい順に正しく並べられているものを次の中から選び、記号で答えなさい。

- ア. ロシア→サウジアラビア→中国→ブラジル イ. ロシア→サウジアラビア→ブラジル→中国
 ウ. ロシア→中国→サウジアラビア→ブラジル エ. ロシア→中国→ブラジル→サウジアラビア
 オ. ロシア→ブラジル→サウジアラビア→中国 カ. ロシア→ブラジル→中国→サウジアラビア

問4 下線部(b)について、中国では人口が急速に増加したため、1979年から2014年まで、人口の増加をゆるやかにするための政策がおこなわれました。この政策を何といいますか。

問5 下線部(c)について、経済成長の要因の一つとして、税金や貿易などを優遇して外国企業をいくつかの地域に呼び寄せたことがあげられます。外国企業を集中的に誘致したこのような地域のことを何といいますか。

問6 下線部(d)について、下の表は、アメリカ合衆国、中国、日本のいずれかの国の貿易相手国・地域について、輸出入先の上位5つの国・地域を示したものです(2021年、金額が多い順)。A・B・Cと国名の組み合わせとして正しいものを下のア～カの中から選び、記号で答えなさい。

A		B		C	
輸出先 上位5か国・地域	輸入先 上位5か国・地域	輸出先 上位5か国・地域	輸入先 上位5か国・地域	輸出先 上位5か国・地域	輸入先 上位5か国・地域
1 B	1 B	1 C	1 韓国	1 カナダ	1 B
2 C	2 C	2 (ホンコン)	2 A	2 メキシコ	2 メキシコ
3 韓国	3 オーストラリア	3 A	3 C	3 B	3 カナダ
4 (ホンコン)	4 韓国	4 韓国	4 オーストラリア	4 A	4 A
5 タイ	5 サウジアラビア	5 ベトナム	5 ドイツ	5 韓国	5 ドイツ

二宮書店『地理統計要覧2023年版』より作成。

	ア	イ	ウ	エ	オ	カ
A	アメリカ合衆国	アメリカ合衆国	中国	中国	日本	日本
B	中国	日本	アメリカ合衆国	日本	アメリカ合衆国	中国
C	日本	中国	日本	アメリカ合衆国	中国	アメリカ合衆国

受験番号	
------	--

[3] 次の会話文を読んで、あとの問いに答えなさい。

先生 : 今日は、日本の古代・中世・近世について調べたことを、班ごとに発表してください。

湯川 : 1班は、古代の人々の生活について調べました。まず、縄文時代の人々は、たて穴住居という家に住み、動物の骨や石や土などから必要な道具や器をつくりました。

江崎 : このころは、食料として食べたあとの貝がらや動物の骨を、住居の近くに穴を掘って捨てました。そのため、当時の住居跡の近くから、貝がらや動物の骨などが発掘されています。こうした遺跡を (1) といいます。

小柴 : 弥生時代には、米づくりが西日本を中心として広がっていきました。(a) 身近な材料から必要な農具もつくられました。米づくりが始まったころは、直接水田に籾(種)をまきましたが、生産性が低かったため、弥生時代中期には、現在と同じように、別の場所で育てた苗を水田に植える田植えという方法も始まりました。

先生 : 直接籾(種)を田にまくということであれば、2003年に (2) 県の庄内平野で、農作業の簡略化のため、「乾田じかまき」が始まりました。これは、水を張らない田に直接籾(種)をまき、苗が少し成長してから水を入れる方法です。

湯川 : 弥生時代に話を戻していいですか。このころには、土地や水、蓄えた食料などをめぐり、むらどうしで争いが起こるようになりました。中国の歴史書には、当時の日本で争いが絶えなかったことや、(3) の女王卑弥呼が、その争いを終わらせたことなどが書かれています。

江崎 : (b) 奈良時代の農民は、国からあたえられた土地を耕し、税として米を納めました。その他にも、特産物を税として納めたり、都や北九州の守りについたりするなど、農民の負担は重いものでした。

先生 : よく調べてきました。次の班の人、発表してください。

佐藤 : はい。2班は、中世の文化について調べました。平安時代の貴族社会では、儀式や年中行事がさかんに行われていました。

川端 : このころ、漢字からできた「かな文字」を使うようになりました。とくに朝廷に仕える女性たちは、多くの文学作品をつくりました。遣唐使が廃止になったことの影響もあり、(c) 美しく、はなやかな日本風の文化が生まれました。

大江 : (d) 鎌倉時代には、絵巻物が全盛期をむかえ、竹崎季長の活躍を描いた(e) 『蒙古襲来絵詞』などの合戦絵巻が多くつくられました。

佐藤 : このころには仏像彫刻もさかんとなり、東大寺南大門の金剛力士像などがつくられました。

大江 : 室町時代の文化としては、建築では金閣や銀閣が有名です。また、絵画では雪舟が多くの水墨画(墨絵)を描きました。

先生 : よく調べました。最後の班の人、発表してください。

田中 : 私たち3班は、近世の制度について調べました。幕府が大名を支配するために出した武家諸法度には(f) 参勤交代の制度が定められています。

山中 : また、幕府は同じころ、(g) 九州で発生した天草四郎を中心に発生した一揆を平定し、さらにきびしく (4) の信者を取り締まるとともに、貿易を制限する制度も決めました。

本庶 : こうして、日本は鎖国の状態となり、これ以降、(5) 年あまり国を閉ざす状態が続くことになりました。

先生 : みんなよく調べました。ところで、本庶さんは、2018年に、がんの治療に役立つ技術を開発したことで (6) を受賞した人と同姓ですが、親戚ですか。

本庶 : いいえ、ちがいます。

先生 : そうですか。他の発表者も (6) の受賞者と同姓ですが、親戚の人はいますか。

湯川 : 私は親戚ではありませんが、日本で初めてこの賞を受賞した湯川秀樹さんと同姓同名です。

問1 文中の (1)・(2) にあてはまる語句の組み合わせとして正しいものを次の中から選び、記号で答えなさい。

ア. 1-貝塚 2-宮城 イ. 1-貝塚 2-山形 ウ. 1-古墳 2-宮城 エ. 1-古墳 2-山形

問2 文中の (3)・(4) にあてはまる語句の組み合わせとして正しいものを次の中から選び、記号で答えなさい。

ア. 3-邪馬台国 4-キリスト教 イ. 3-邪馬台国 4-仏教

ウ. 3-ヤマト朝廷 4-キリスト教 エ. 3-ヤマト朝廷 4-仏教

受験番号	
------	--

明治時代になると、(e) 6歳以上の男女が小学校に通うことが定められ、その後、日本の学校制度は順調に発展しました。(f) 太平洋戦争中には小学生も学校で戦争の訓練をしました。また、今の中学生くらいの年齢になると勉強しないで工場などで働くようになりまし。その後の敗戦によって(g) 日本の教育は大きな改革を経験することになりました。連合国軍の指導により、学校教育は [X] になり、子どもが教育を受ける権利が保障されました。

問1 文中の (1) ~ (3) にあてはまる人名や語句を答えなさい。

問2 下線部(a)について、その理由として正しいものを次の中から1つ選び、記号で答えなさい。

- ア. 儒学は身分の秩序を大切にしたので、人々を支配する上で役に立つから。
- イ. 民衆を大切にするという儒学の考え方が、幕府や藩の考え方と同じだったから。
- ウ. 儒学は朝鮮から伝わったばかりの最新の学問だったから。
- エ. 儒学の学者たちのほとんどが幕府の役人になっていたから。

問3 下線部(b)はどのような学問ですか。次の中から1つ選び、記号で答えなさい。

- ア. 日本の歴史を研究し、日本の国の成り立ちを研究する学問。
- イ. 日本の古典をもとに仏教や儒学が伝わる前の日本人の考え方を明らかにしようとする学問。
- ウ. 日本国内の地名の由来、特産物、伝説などをまとめていく学問。
- エ. 世の中をおさめ、民衆を救うための方法を研究する学問。

問4 下線部(c)の琉球王国と蝦夷地について述べた文として正しいものを次の中から1つ選び、記号で答えなさい。


- ア. 薩摩藩は、琉球王国に対して、日本の天皇や琉球国王がかわるごとに江戸へ使節を派遣させました。
- イ. 薩摩藩は、琉球王国に対して、中国との間に使節を派遣することを認めませんでした。
- ウ. 松前藩は、蝦夷地の支配を幕府から認められ、アイヌの人々と交易を行いました。
- エ. 松前藩は、シャクシャインを中心にアイヌの人々が起こした反乱によって蝦夷地を追われました。

問5 下線部(d)について、下の表は寺子屋の開業数の変化を示したもので、絵は寺子屋の様子を描いたものです。この2つについて述べた文A~Dのうち正しいものの組み合わせを下のア~エの中から選び、記号で答えなさい。

年代	開業数	年平均開業数
宝暦 (1751~1763)	34	2.6
明和 (1764~1771)	30	3.8
安永 (1772~1780)	29	3.2
天明 (1781~1788)	101	12.6
寛政 (1789~1800)	165	13.8
享和 (1801~1803)	58	19.3

年代	開業数	年平均開業数
文化 (1804~1817)	387	27.4
文政 (1818~1829)	676	56.3
天保 (1830~1843)	1984	141.7
弘化~嘉永 (1844~1853)	2398	239.8
安政~慶応 (1854~1867)	4293	306.6

文部省『日本教育史資料』より



巖如春「加賀藩年中行事図絵」(金沢大学アーカイブより転載)

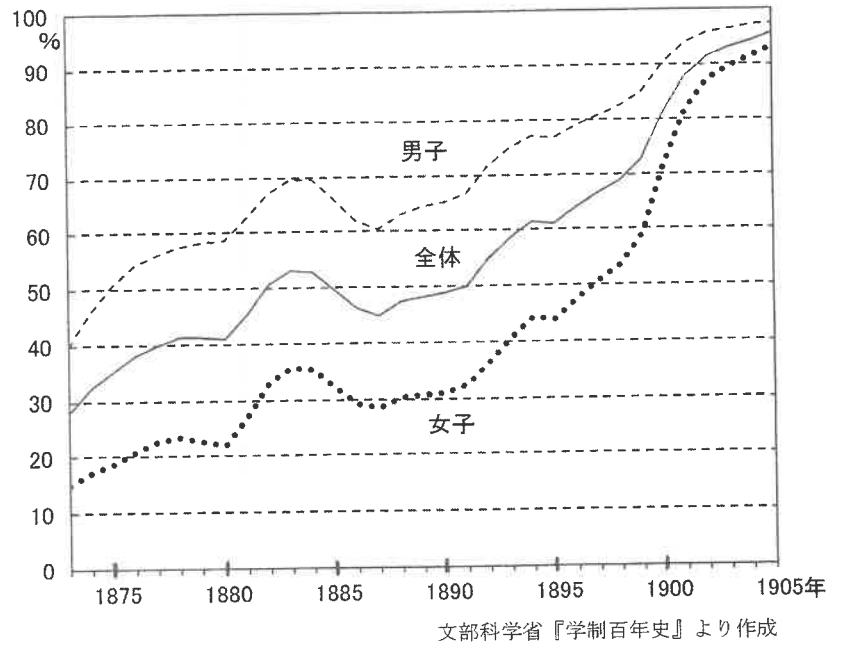
- A. 寺子屋の設置数は、江戸時代中期から幕末にかけて、ゆるやかに増加していきました。
- B. 寺子屋の年平均開業数は、天保年間から慶応年間にかけてほぼ倍増しました。
- C. 寺子屋では、先生が生徒たち全員にいつせいに同じ内容の授業を行っていました。
- D. 寺子屋では、いつせい授業ではなく一人一人に対して個別の指導が行われていました。

- ア. AとC イ. AとD ウ. BとC エ. BとD

受験番号	
------	--

問6 下線部(e)について、次の年表は明治時代のできごとを示したもので、グラフは明治時代の小学校に通う子どもたちの割合を表したものです。この2つの資料について述べた文として正しいものを下のア～エの中から1つ選び、記号で答えなさい。

1871年	文部省が設置される
1885年	伊藤博文が最初の内閣総理大臣になる
1890年	初めての国会が開かれる
1894年	日清戦争がおこる
1900年	義務教育の授業料が廃止される
1904年	日露戦争がおこる
1905年	ロシアと講和条約を結ぶ



- ア. 文部省が設置された10年後には、女子の就学率が50%に達しました。
- イ. 日清戦争が始まった年には、男子の就学率は女子の就学率の2倍を超えていました。
- ウ. 国会が開設されてから義務教育の授業料が廃止されるまでの10年間、男女の就学率の差は変わりませんでした。
- エ. 日露戦争が始まった年には、男女ともに就学率は90%を上回っていました。

問7 下線部(f)について、A～Cのできごとが起こった順に並んでいるものを下のア～カの中から選び、記号で答えなさい。

- A. 日本軍がイギリス領のマレー半島とハワイのアメリカ軍基地を攻撃しました。
- B. アメリカ軍が沖縄島に上陸を始め、攻撃がいつそう激しくなりました。
- C. ソ連軍が満州、樺太南部、千島列島に攻めこみました。

- ア. A→B→C イ. A→C→B ウ. B→A→C エ. B→C→A
- オ. C→A→B カ. C→B→A

問8 下線部(g)について、右の写真は「墨ぬりの教科書」です。墨で消されているのは主にどのような内容ですか。次の中から1つ選び、記号で答えなさい。

- ア. 日本政府を批判するような内容
- イ. 天皇を批判するような内容
- ウ. 軍国主義の影響が強い内容
- エ. 民主主義の影響が強い内容



文部省『ヨミカタ・二』
(東京書籍教科書図書館・東書文庫所蔵資料の概要HPより転載)

問9 文中の [X] にあてはまる内容として正しいものを次の中から1つ選び、記号で答えなさい。

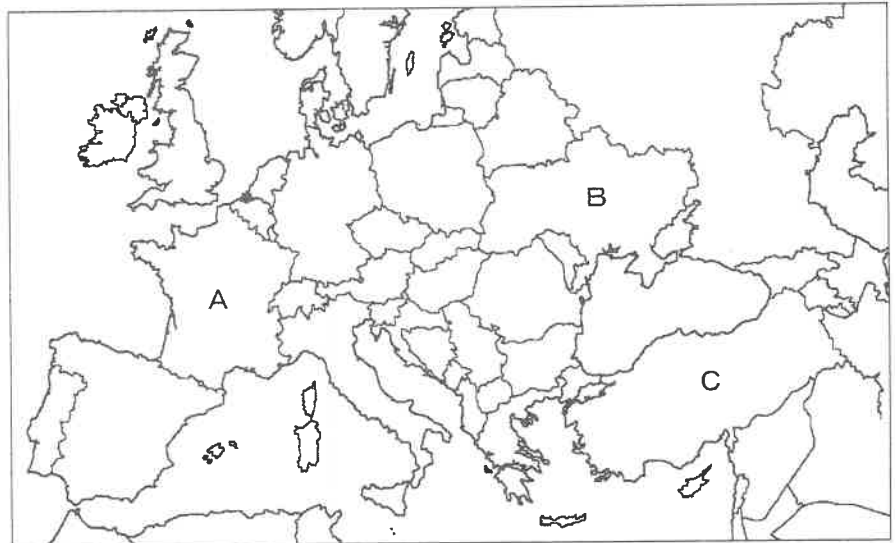
- ア. 小学校6年間で義務教育
- イ. 小学校6年間、中学校3年間で義務教育
- ウ. 小学校6年間、中学校3年間、高等学校3年間で義務教育
- エ. 小学校6年間、中学校3年間、高等学校3年間、大学4年間で義務教育

受験番号

【5】 海子さんは、2023年の主なニュースについてまとめました。表を見て、あとの問いに答えなさい。

2023年5月、日本の(1)でG7サミットが開催されました。最終日にはウクライナの(2)大統領が対面で参加しましたが、ウクライナをめぐる紛争は現在も解決していません。また10月以降、イスラエルによるパレスチナ自治区への攻撃が激しくなる中、(a)国際連合は有効な対策をとることができずにいます。このほか、トルコで大規模な地震が発生するなど、世界情勢は不安定な状況が続いています。一方、日本では、5月に新型コロナウイルスの扱いが(3)類に引き下げられ、6月には性的少数者に対する国民の理解を広めるための(4)理解増進法が成立しました。また、(b)統一地方選挙や(c)衆議院議員の補欠選挙も実施されましたが、その結果は岸田(d)内閣にとって厳しいものでした。(e)さまざまな商品が値上げされ、国民の生活がより苦しいものになる中で、どのような政策が行われるのか、わたしたちは注意深く見守っていく必要があります。

問1 右の地図で、ウクライナとトルコの組み合わせとして正しいものを次の中から選び、記号で答えなさい。



- ア. ウクライナーA トルコーB
- イ. ウクライナーA トルコーC
- ウ. ウクライナーB トルコーA
- エ. ウクライナーB トルコーC
- オ. ウクライナーC トルコーA
- カ. ウクライナーC トルコーB

問2 表の(1)～(4)にあてはまる語句を、※の指示に従って答えなさい。

※ (1): 地名・漢字 (2): 人名・カタカナ (3): 数字 (4): アルファベット

問3 下線部(a)について述べた文として正しいものを次の中から1つ選び、記号で答えなさい。

- ア. 本部はアメリカ合衆国のニューヨークに設置されています。
- イ. 安全保障理事会では、ものごとが全会一致で決められます。
- ウ. 国際司法裁判所は、個人の戦争犯罪を裁きます。
- エ. 2024年1月現在、事務総長は日本人です。

問4 下線部(b)に関連して、地方議会議員について述べた文として正しいものを次の中から1つ選び、記号で答えなさい。

- ア. 被選挙権は30歳以上です。
- イ. 地方議会議員になったことがある人は、国会議員になることができません。
- ウ. 任期は4年です。
- エ. 国会議員になったことがある人は、地方議会議員になることができません。

問5 下線部(c)について述べた文として正しいものを次の中から1つ選び、記号で答えなさい。

- ア. 議員の任期は6年です。
- イ. 予算の審議は参議院よりも先に行われます。
- ウ. 議員の定数は248です。
- エ. 議員の立候補者は小選挙区と比例代表の両方に立候補することができません。

問6 下線部(d)について述べた文として正しいものを次の中から1つ選び、記号で答えなさい。

- ア. 内閣の過半数は、女性でなければいけません。
- イ. 内閣は、内閣総理大臣と、天皇に任命された国務大臣で構成されます。
- ウ. 内閣には、法律を制定する権限があります。
- エ. 内閣の会議である閣議では、ものごとが全会一致で決められます。

問7 下線部(e)について述べた次の文の(5)・(6)にあてはまる語句を答えなさい。

これまで「物価の優等生」と呼ばれてきた(5)の値段が上昇し、2023年5月には、1個あたりの値段が全国平均で30円を超えました。また(6)ジュースは、ブラジルなどで(6)の病害が発生しているほか、2023年8月にはアメリカのフロリダ州に大型のハリケーンである「イダリア」が上陸したこともあって、大きく値上がりしました。

受験番号		名前	
------	--	----	--

[1]

問 1		問 2	(2)		(3)		問 3		問 4			
問 5		問 6		問 7	(1)		(2)		(3)		問 8	

[2]

問 1	(1)		(2)		(3)		問 2		問 3		
問 4						問 5				問 6	

[3]

問 1		問 2		問 3		問 4		問 5			
問 6					問 7			問 8		問 9	
問 10											

[4]

問 1	(1)		(2)								
	(3)			問 2		問 3		問 4		問 5	
問 6		問 7		問 8		問 9					

[5]

問 1							
問 2	(1)		(2)				
	(3)		(4)				
問 3		問 4		問 5		問 6	
問 7	(5)			(6)			