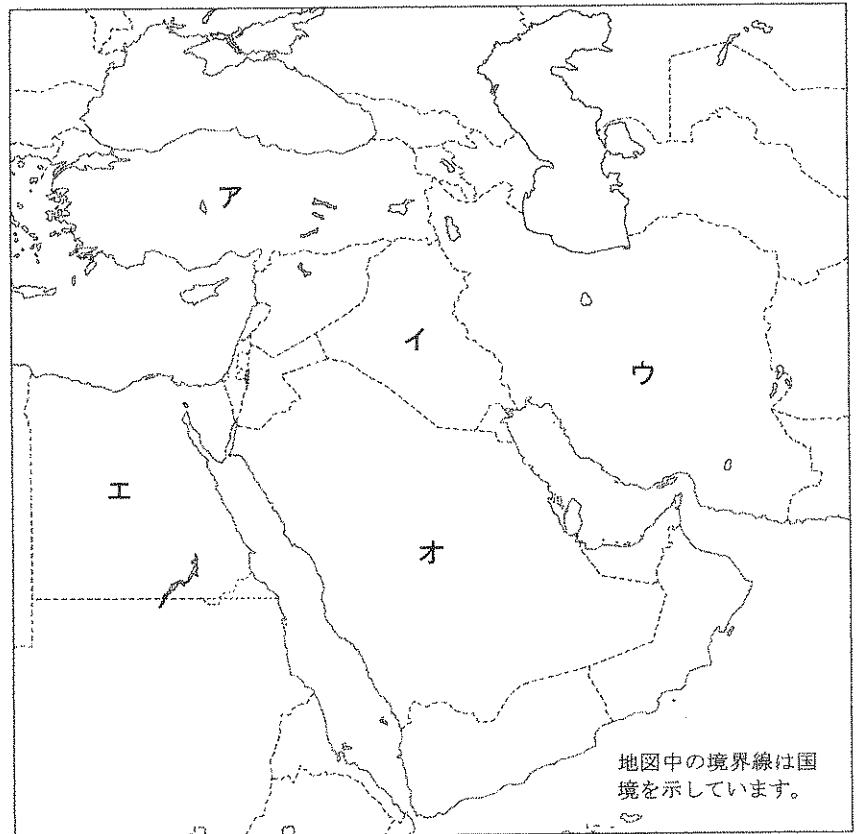


受験番号	
------	--

[1] 次の地図と文について、あとの問いに答えなさい。

サウジアラビアの首都は( 1 )です。この国は宗教を( 2 )と定めています。世界で( 2 )を信仰している人たちは、この国にある聖地( 3 )に向かって礼拝を行います。国内外の信者は聖地( 3 )へ巡礼に訪れます。サウジアラビアの子どもたちの通う学校では、聖典「( 4 )」の勉強が大切にされています。学校では、男子と女子は別々に学習しています。





問1 サウジアラビアの位置を地図中のア～オの中から選び、記号で選びなさい。

問2 サウジアラビアについて書かれた上の文の( 1 )～( 3 )にあてはまる語句として正しいものをア～エの中からそれぞれ選び、記号で答えなさい。

- |       |           |            |
|-------|-----------|------------|
| ( 1 ) | ア. アンカラ   | イ. カイロ     |
|       | ウ. テヘラン   | エ. リヤド     |
| ( 2 ) | ア. イスラム教  | イ. キリスト教   |
|       | ウ. ヒンドゥー教 | エ. 仏教      |
| ( 3 ) | ア. メッカ    | イ. エルサレム   |
|       | ウ. アクラ    | エ. イスタンプール |

問3 上の文の( 4 )にあてはまる言葉を答えなさい。

問4 上の文の下線部について、この国では大人になった女性の服装にも特徴があります。この国の女性の服装を次の中から選び、記号で答えなさい。



問5 下に4つの言語を示しました。このうち、サウジアラビアで使われている主な言語で「こんにちは」を表す文字を次の中から選び、記号で答えなさい。

- |                 |       |              |          |
|-----------------|-------|--------------|----------|
| ア. السلام عليكم | イ. 你好 | ウ. Boa tarde | エ. Hello |
|-----------------|-------|--------------|----------|

問6 サウジアラビアは日本にとって重要な貿易相手国です。右の表は2016年の日本とアメリカ合衆国、韓国、サウジアラビア、中国、ブラジルとの主要な輸出入品の上位5品目を示したものです。サウジアラビアをア～オの中から選び、記号で答えなさい。

相手国	日本の主要輸出入品 (貿易額の多い順)	
ア	輸出品 輸入品	乗用車・ <sup>いっぴん</sup> 一般機械・電気機器・自動車部品・航空機類 電気機器・一般機械・航空機類・元素と化合物・医薬品
イ	輸出品 輸入品	乗用車・一般機械・バスとトラック・鉄鋼・電気機器 原油・揮発油・液化天然ガス・有機化合物・アルミニウムと同合金
ウ	輸出品 輸入品	一般機械・自動車部品・電気機器・有機化合物・鉄鋼 鉄鉱石・ <sup>とり</sup> 鶏肉・飼料用とうもろこし・コーヒー豆・有機化合物
エ	輸出品 輸入品	一般機械・電気機器・鉄鋼・プラスチック・有機化合物 電気機器・化学薬品・一般機械・鉄鋼・石油製品
オ	輸出品 輸入品	電気機器・一般機械・科学光学機器・プラスチック・自動車部品 電気機器・一般機械・衣類と同付属品・化学薬品・金属製品

受験番号	
------	--

[2] 次の文を読み、あとの問いに答えなさい。

全国に 800 弱ある市の一部には、( ) によって「指定都市」や「<sup>ちゅうかく</sup>中核市」に指定されている市があります。2014 年から中核市となる要件が「人口 20 万以上」に<sup>ゆる</sup>緩められたこともあって、昨年 (2018 年) は兵庫県明石市など 6 つの市が中核市となりました。中核市になると、市に<sup>かかわ</sup>関わる行政のうち、これまで国や都道府県が管理していたいくつかの分野を市が<sup>かた</sup>担うことができるため、地域の実情にあった行政を独自の判断と責任で実施することが可能となります。今年もいくつか中核市が誕生する予定で、全国に 20 ある指定都市に対して中核市は 60 近くに増える見込みです。



問1 文中の ( ) にあてはまる語句を次の中から選び、記号で答えなさい。

- ア. 憲法                      イ. 条例                      ウ. 政令                      エ. 法律

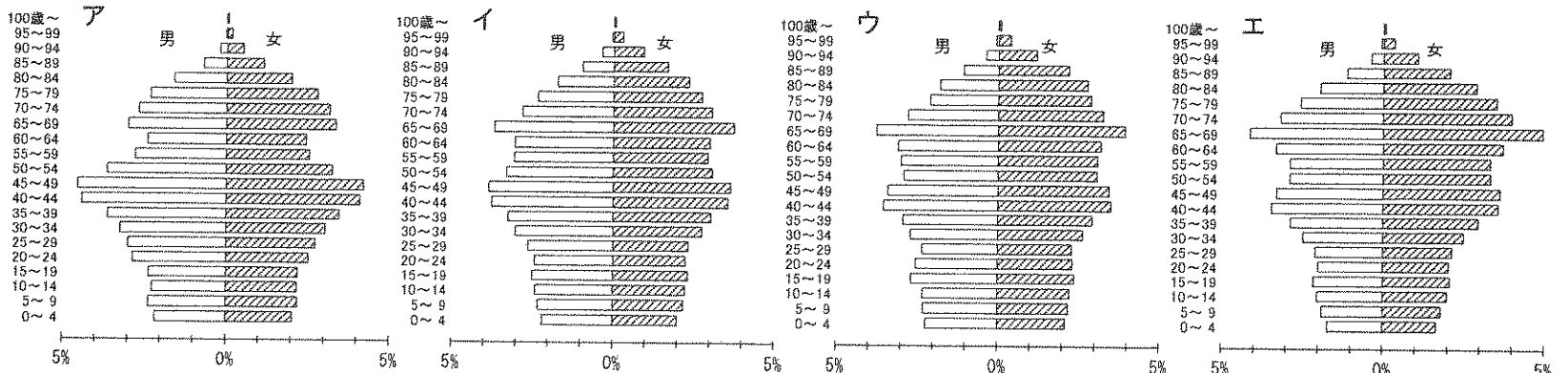
問2 次のA市・B市・C市はそれぞれ、右の地図で示した4つの指定都市または中核市のいずれかです。(1)~(3)に答えなさい。

(1) A市はかつての城下町から発展し、現在、地図中の4市の中で唯一の<sup>かいづ</sup>県庁所在地です。

A市について述べた文として正しいものを次の中から2つ選び、記号で答えなさい。

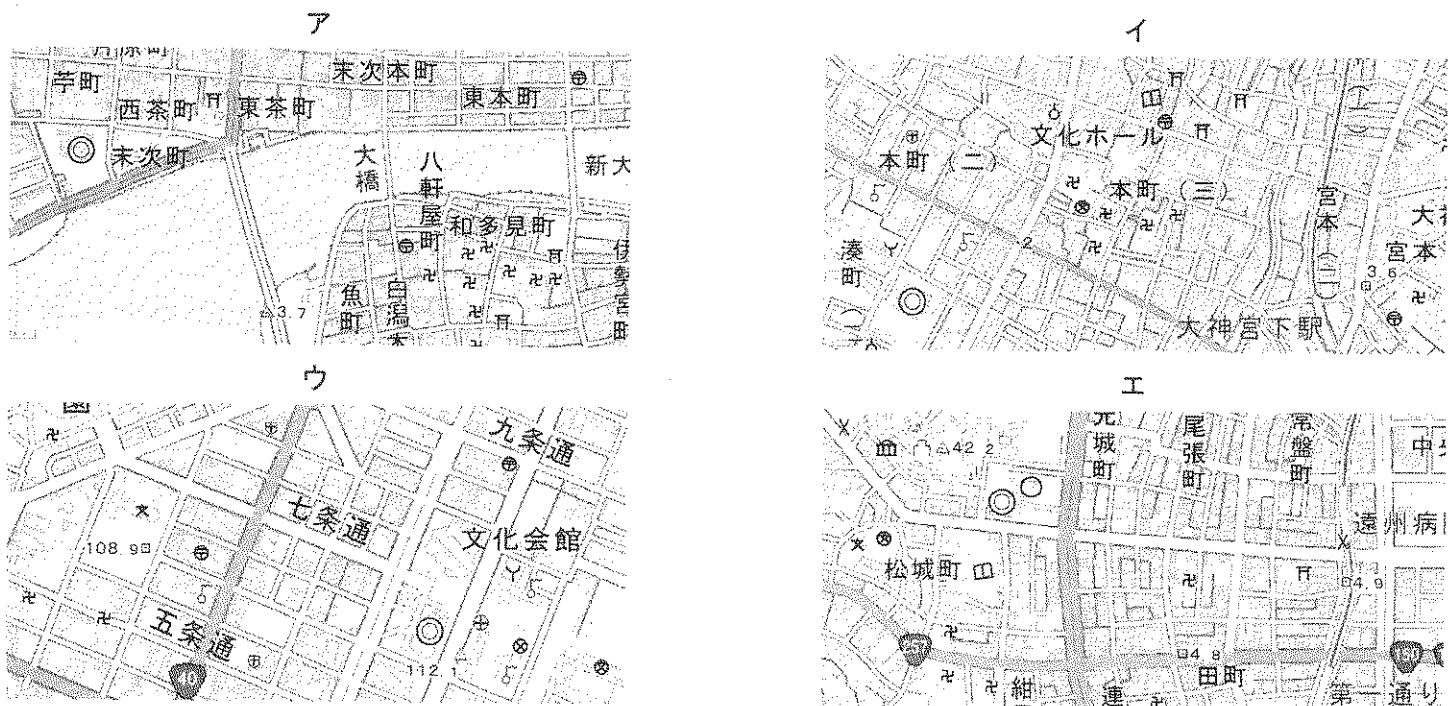
- ア. 1月の平均気温は氷点下まで下がります。                      イ. 市内に原子力発電所があります。  
 ウ. 市内を天竜川が流れ、西部に浜名湖があります。                      エ. 市内を東経 133 度の経線が通っています。  
 オ. 指定都市であるため、市内は複数の区に分けられています。                      カ. 新幹線が通っています。

(2) B市は人口増加が続き、平均年齢や高齢化率が地図中の4市の中で最も低くなっています。4市の年齢階層別の人口比率 (人口ピラミッド) を示した下の図の中からB市のものを選び、記号で答えなさい。



総務省「平成 30 年 1 月 1 日住民基本台帳年齢階級別人口 (市区町村別)」より作成。

(3) C市は海から離れた<sup>ぼんち</sup>内陸の盆地に位置し、市内を石狩川が流れています。地図中の4市の市役所付近を示した下の地形図の中からC市のものを選び、記号で答えなさい。



国土地理院「電子地形図 25000 分の 1」 (一部加工)

受験番号	
------	--

問3 文中の下線部について、一般の市は管理・運営できず、中核市になると管理・運営が認められる施設（機関・組織）があります。それは何ですか。次の中から1つ選び、記号で答えなさい。また、その施設を示す地図記号を記しなさい。

- ア. 警察署                      イ. 裁判所                      ウ. 郵便局                      エ. 保健所                      オ. 市立小学校

[3] 下の表を見て、あとの問いに答えなさい。

農業産出額が多い上位5都道府県の産出額上位5品目（2016年）

第1位	北海道	産出額 (億円)
1	( 1 )	3,641
2	米	1,167
3	乳用牛	1,071
4	肉用牛	1,041
5	じゃがいも	780
	道総額	12,115
第2位	茨城	産出額 (億円)
1	米	794
2	鶏卵	447
3	豚	384
4	さつまいも	261
5	はくさい	202
	県総額	4,903
第3位	鹿児島	産出額 (億円)
1	肉用牛	1,245
2	豚	723
3	ブロイラー	584
4	鶏卵	272
5	米	205
	県総額	4,736
第4位	( 3 )	産出額 (億円)
1	米	666
2	豚	499
3	鶏卵	381
4	( 1 )	244
5	ねぎ	222
	県総額	4,711
第5位	( 4 )	産出額 (億円)
1	ブロイラー	730
2	肉用牛	708
3	豚	517
4	きゅうり	199
5	米	172
	県総額	3,562

農業産出額が多い上位5品目の産出額上位5都道府県（2016年）

第1位	米	産出額 (億円)
1	新潟	1,484
2	北海道	( 2 )
3	秋田	944
4	山形	804
5	茨城	794
	全国計	16,579
第2位	( 1 )	産出額 (億円)
1	北海道	3,641
2	栃木	349
3	群馬	260
4	熊本	257
5	( 3 )	244
	全国計	7,406
第3位	肉用牛	産出額 (億円)
1	鹿児島	1,245
2	北海道	1,041
3	( 4 )	708
4	熊本	432
5	岩手	288
	全国計	7,334
第4位	豚	産出額 (億円)
1	鹿児島	723
2	( 4 )	517
3	( 3 )	499
4	群馬	430
5	北海道	424
	全国計	6,162
第5位	鶏卵	産出額 (億円)
1	茨城	447
2	( 3 )	381
3	鹿児島	272
4	広島	263
5	岡山	246
	全国計	5,192

農林水産省「平成28年 生産農業所得統計」より作成。

問1 ( 1 ) にあてはまる農産物を次の中から選び、記号で答えなさい。

- ア. 小麦                      イ. 生乳                      ウ. たまねぎ                      エ. ぶどう                      オ. とうもろこし

問2 ( 2 ) にあてはまる数字を答えなさい。

問3 ( 3 ) 県は、茨城県に隣接し、産出額が多い農産物が3品目で茨城県と共通しています。( 3 ) の県名を答えなさい。

問4 ( 4 ) 県は、鹿児島県に隣接し、産出額が多い農産物が4品目で鹿児島県と共通しています。( 4 ) の県名を答えなさい。

受験番号	
------	--

[4] 次のA～Fの文を読んで、あとの問いに答えなさい。

- A (a)元が2度にわたって攻めてきましたが、当時幕府の政治を進めていた執権(1)の命令を受けた御家人たちは、元軍の兵器や戦法に苦しみながらも激しく戦いました。
- B 徳川家康が(b)豊臣方に戦いをしかけ、豊臣氏を滅亡させました。
- C 保元の乱に続く(2)の乱での勝利で力を強めた平清盛は、宋との貿易を進めるために兵庫の港を整えました。
- D ペリーが来航し、その強い態度におされた幕府は、(c)日米和親条約を結びました。
- E 将軍は武家諸法度とよばれるきまりに新たに(d)参勤交代の制度を加えました。
- F (e)聖武天皇が東大寺の大仏づくりを進めていたころ、(3)という僧が農民に仏教の教えを説きながら、道路や橋・ため池などをつくって農民の暮らしを助けていました。

問1 (1)～(3)にあてはまる言葉を答えなさい。

問2 A～Fの各文はどの時期の出来事ですか。下の年表のア～カの中からそれぞれ選び、記号で答えなさい。同じ記号を何度使ってもかまいません。

607年	小野妹子が遣隋使として隋につかわされました。 ア
894年	菅原道真の意見もあって遣唐使がとりやめになりました。 イ
1192年	源頼朝が征夷大將軍に任命されました。 ウ
1467年	将軍のあとつぎ争いなどをきっかけにして応仁の乱が起こりました。 エ
1603年	徳川家康が征夷大將軍に任命されました。 オ
1867年	徳川慶喜が政権を天皇に返しました。 カ

問3 文中の下線部(a)～(c)の場所を右の地図中のア～オの中からそれぞれ選び、記号で答えなさい。

問4 下線部(d)について述べた文として誤っているものを次の中から1つ選び、記号で答えなさい。

- ア. 大名は、その妻子を江戸に置くことを義務づけられました。
- イ. 大名は、1年ごとに領国と江戸を往復することが原則とされました。
- ウ. 参勤交代にかかる費用の半分が幕府から大名に支払われました。
- エ. 大名は、江戸にも屋敷を置いて生活していました。

問5 下線部(e)の時代の農民について述べた文として誤っているものを次の中から1つ選び、記号で答えなさい。

- ア. 自分で切り開いた土地を所有し、税として米を地方の役所に納めていました。
- イ. 絹・塩・鉄などの地方の特産物を、税として都に運んで納めていました。
- ウ. 都の役所や寺をつくる工事で働いたり、兵士として都や北九州の守りについたりする農民もいました。
- エ. 農民の中には、重い負担に耐えかねて、土地を捨てて逃げ出す者もいました。



受験番号	
------	--

[5] 次の表は、おもな衆議院議員選挙法の公布（改正）の年、そのときの内閣総理大臣、公布（改正）されたのち最初の選挙が実施された年、そのときの選挙権をもつ人（有権者）の資格などについて示したものです。あとの問いに答えなさい。

公布年 (改正年)	内閣総理大臣	選挙実施年	有権者資格		有権者人口 (約、万人)	総人口 (約、万人)
			納税額	年齢と性別		
1889年	(a) <u>黒田清隆</u>	(b) 1890年	15円以上	( 2 )	45	3,990
(c) 1900年	(d) <u>山県有朋</u>	1902年	10円以上		98	4,496
1919年	(e) <u>原敬</u>	1920年	3円以上		307	5,596
( 1 )年	<u>加藤高明</u>	1928年	制限なし		1,241	6,260
(f) 1945年	<u>幣原喜重郎</u>	(g) 1946年	制限なし	20歳以上の男女	3,688	7,575

「有権者人口」と「総人口」は総務省の資料による。なお、有権者人口と総人口は、選挙法公布（改正）後、最初の選挙が実施された年度のもの。

問1 ( 1 ) にあてはまる西暦年を記入しなさい。

問2 ( 2 ) にあてはまる語句を次の中から選び、記号で答えなさい。

- ア. 20歳以上の男性      イ. 25歳以上の男性      ウ. 25歳以上の男女      エ. 30歳以上の男性  
オ. 30歳以上の男女

問3 上の表について述べた文として正しいものを次の中から1つ選び、記号で答えなさい。

- ア. 1890年に行われた衆議院議員総選挙のときには、有権者人口は日本の総人口の約1%でした。  
イ. 納税額が低くなるにつれて、衆議院議員総選挙での有権者人口の総人口に占める割合が低くなりました。  
ウ. 納税額の制限がなくなった最初の衆議院議員総選挙のときには、有権者人口は総人口の約35%でした。  
エ. 1946年に行われた衆議院議員総選挙のときには、総人口の約70%の人が20歳未満でした。

問4 下線部(a)は、第2代内閣総理大臣となった人物です。(1)・(2)に答えなさい。

(1) この人物が内閣総理大臣のときに、日本で最初の憲法が公布されました。この憲法に定められていることとして正しいものを次の中から1つ選び、記号で答えなさい。

- ア. 帝国議会（国会）は、衆議院と参議院からなる。  
イ. 天皇が国を治める主権をもつ。  
ウ. 天皇が内閣の協力を得て法律をつくる。  
エ. 陸軍や海軍などの戦力をもたない。

(2) この人物の前に内閣総理大臣を務めた人物の名前を答えなさい。

問5 下線部(b)に行われた第1回衆議院議員総選挙で栃木県から選出された人物は、のちに足尾銅山鉍毒事件で地域の人々のために献身的に努力しました。この人物の名前を答えなさい。

問6 下線部(c)以前について述べた文として正しいものを次の中から1つ選び、記号で答えなさい。

- ア. 東郷平八郎の指揮する艦隊は、日本海海戦で敵艦隊を破りました。  
イ. 日本軍が南満州鉄道の線路を爆破したのち、中国軍に攻撃を始めました。  
ウ. 日本は戦争に勝ち、台湾を譲り受けることなどが講和会議で決定しました。  
エ. 日本軍がハワイのアメリカ軍基地を攻撃しました。

問7 下線部(d)は、近代的陸軍を創始した人物といわれています。近代的陸軍を創設するために、1873年に明治政府が発布した法令を何というか答えなさい。

受験番号	
------	--

問8 下線部(e)は、平民身分から最初に内閣総理大臣に就任した人物です。平民とは明治政府が新しく定めた身分の一つです。明治時代の身分制度について述べた下の文の ( A ) ・ ( B ) にあてはまる言葉の組み合わせとして正しいものを次の中から選び、記号で答えなさい。

明治政府は、江戸時代の身分制度を改めて、公家や大名を ( A )、武士は ( B )、そのほかを平民としました。

- ア. A-貴族 B-豪族                      イ. A-貴族 B-士族                      ウ. A-町衆 B-豪族  
 エ. A-町衆 B-士族                      オ. A-華族 B-豪族                      カ. A-華族 B-士族

問9 下線部(f)について、この年の出来事A～Cが起こった順に正しく並べられているものをア～カの中から選び、記号で答えなさい。

- A. アメリカ軍が、広島に原子爆弾を投下しました。  
 B. 日本が、ポツダム宣言を受け入れました。  
 C. ソ連軍が、日本に宣戦布告し、満州などに侵攻してきました。

- ア. A→B→C                      イ. A→C→B                      ウ. B→A→C                      エ. B→C→A  
 オ. C→A→B                      カ. C→B→A

問10 下線部(g)以後に行われた日本の政策として正しいものを次の中から1つ選び、記号で答えなさい。

- ア. 小学校を国民学校と改めました。  
 イ. 国際連盟からの脱退を決定しました。  
 ウ. 国家総動員法を制定しました。  
 エ. 国民所得倍増計画を発表しました。

[6] 次の会話文を読み、あとの問いに答えなさい。

お母さん いよいよ星子も今年(2019年)の春から中学生だね。今までと生活が大きく変わるわね。  
 星子 今年はいろんなことがある1年になると思う。でも、私の周りだけじゃなくて、世の中でもいろんなことがあるんだよね。  
 お父さん そうだね。4月には統一地方選挙があるね。神戸市では兵庫県会議員と(a)神戸市会議員の選挙があるよ。  
 お母さん 5月からは新しい元号になるわ。どんな元号になるんだろうね。  
 お父さん 6月には大阪で(b)G20首脳会合も開かれるし、7月には(c)参議院議員選挙も予定されているね。  
 星子 8月には、海外旅行に行きたい! 外国語の勉強にもなるし。  
 お父さん 9月には神戸でもラグビーのワールドカップの試合が行われて、(d)これまで以上に多くの外国の人が神戸を訪れると考  
られているから、海外に行かなくても外国の人と話す機会はたくさんあると思うよ。  
 お母さん そういえば、10月には(e)消費税が上がるから、それまでに買わないといけないものがあるわね。

問1 下線部(a)に関連して、神戸市会の権限として誤っているものを次の中から1つ選び、記号で答えなさい。

- ア. ふさわしくないとされる神戸市長に対して、不信任の決議を行う。  
 イ. 神戸市の事務に関する調査を行う。  
 ウ. 神戸市で必要とされる予算の額やその使い道を定める。  
 エ. 神戸市役所で働く事務職員の採用を決める。

受験番号	
------	--

問2 下線部(b)に関連して、2019年にはG20の首脳会合だけでなく、さまざまな内容の会合が日本各地で行われます。このうち、長野県の軽井沢町では、環境問題について話し合う「( )な成長のためのエネルギー転換と地球環境に関する関係閣僚会合」が開かれる予定となっています。( )にあてはまる言葉を、地球環境を守りながら、限りある資源を有効に活用して発展していくことを意味する言葉を、漢字四字で答えなさい。

問3 下線部(c)に関連して、参議院議員選挙に関連する法律(公職選挙法)が2018年に改正されました。改正された内容について、次の文の(1)～(4)にあてはまる言葉として正しいものをア～エの中からそれぞれ選び、記号で答えなさい。

この法改正により、参議院の定数が(1)増加することになりました。これは、人口が多い(2)県の定数について変更するとともに、比例代表で特定枠を設け、(3)県などの合区されている地域の候補者が立候補しやすくなるようにするというねらいがあります。この改正の結果、参議院の定数は(4)となります。

- (1) ア. 2                      イ. 4                      ウ. 6                      エ. 8
- (2) ア. 埼玉                      イ. 沖縄                      ウ. 兵庫                      エ. 徳島
- (3) ア. 埼玉                      イ. 沖縄                      ウ. 兵庫                      エ. 徳島
- (4) ア. 242                      イ. 248                      ウ. 465                      エ. 475

問4 下線部(d)について、右の表は、日本を訪れた外国人と、そのうち神戸を訪れた外国人のおおよその数を示しています。この表から読み取れる内容として正しいものを次の中から1つ選び、記号で答えなさい。

	日本を訪れた外国人	神戸を訪れた外国人
2012年	836万人	38万人
2013年	1,036万人	55万人
2014年	1,341万人	74万人
2015年	1,974万人	108万人
2016年	2,404万人	124万人
2017年	2,869万人	134万人

日本については政府観光局の資料、神戸については市の資料より作成。

- ア. いずれの年も、日本を訪れた外国人のうち、5%以上が神戸を訪れています。
- イ. 2017年に訪れた外国人の数は、日本、神戸ともに2012年と比べて4倍以上に増えています。
- ウ. 訪れた外国人の数が、前の年と比べて最も増えたのは、日本、神戸ともに2015年です。
- エ. 訪れた外国人の数の増え方が、前の年と比べて最もにぶかったのは、日本、神戸ともに2016年です。

問5 下線部(e)に関連して、2019年10月から消費税が10%に引き上げられますが、場合によっては税率が8%にすえおかれることもあります。例えばハンバーガーショップでは、基本的にはハンバーガーを店内で食べた場合(イートイン)は消費税が10%になりますが、同じ商品を持ち帰りした場合(テイクアウト)は消費税が8%になります。

これまで税込価格108円(税抜価格100円)のハンバーガーを提供していたお店(A店・B店・C店)で、消費税の増税後に、各店の事情をふまえて、ハンバーガーのイートインとテイクアウトの税込価格がそれぞれいくらになるかについて、正しいものを右のア～クの中から1つずつ選び、記号で答えなさい。なお、すべてのお店で消費税がかかり、税込価格については小数第一位を四捨五入するものとします。また、ポイント還元などは考えないものとします。

- A店 イートインもテイクアウトも、税抜価格を変更せずに商品を提供する。
- B店 イートインもテイクアウトも同じ税込価格にするために、テイクアウトは袋などのコストが余計にかかることを理由として、税抜価格をイートインよりも2円値上げして提供する。
- C店 イートインもテイクアウトも同じ税込価格にするために、イートインはハンバーガーを少しだけ小さくすることを理由として、税抜価格をテイクアウトよりも2円値下げして提供する。

	イートイン	テイクアウト
ア	100円	108円
イ	108円	110円
ウ	110円	108円
エ	110円	112円
オ	112円	110円
カ	108円	108円
キ	110円	110円
ク	112円	112円

受験番号		名 前	
------	--	-----	--

[ 1 ]

問 1		問 2	(1)		(2)		(3)		問 3	
問 4		問 5		問 6						

[ 2 ]

問 1		問 2	(1)		(2)		(3)		問 3		地図記号
-----	--	-----	-----	--	-----	--	-----	--	-----	--	------

[ 3 ]

問 1		問 2		問 3		問 4	
-----	--	-----	--	-----	--	-----	--

[ 4 ]

問 1	(1)		(2)		(3)						
問 2	A		B		C		D		E		F
問 3	a		b		c		問 4		問 5		

[ 5 ]

問 1		年	問 2		問 3				
問 4	(1)		(2)		問 5				
問 6		問 7		問 8		問 9		問 10	

[ 6 ]

問 1		問 2								
問 3	(1)		(2)		(3)		(4)		問 4	
問 5	A 店		B 店		C 店					