





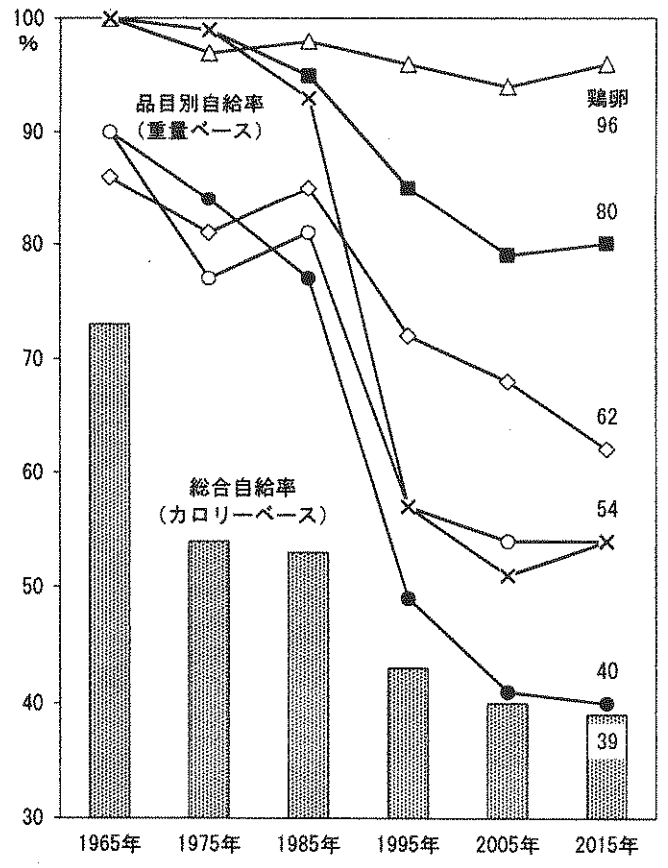
受験番号	
------	--

問1 下線部(a)に関連して、生産額ベースの食料の総合自給率を次の中から選び、記号で答えなさい。

- ア. 13%                      イ. 24%                      ウ. 35%                      エ. 66%

問2 右の資料の折れ線は、野菜、果実、肉類、魚介類、卵（鶏卵）、牛乳および乳製品、のいずれかの自給率を示しています。

- (1) 資料を見て、文中の ( 1 ) にあてはまる数字を答えなさい。  
 (2) 1985～1995年の10年間に多くの食品の自給率が大きく下がっています。その理由の一つとして正しいものを次の中から選び、記号で答えなさい。  
 ア. 日本と中国の国交が回復し、中国からの食品輸入が増えた。  
 イ. 日本がTPP（環太平洋パートナーシップ協定）に参加し、農産物の輸入が自由化された。  
 ウ. オイルショックが起こり、国産農産物の価格が高騰した。  
 エ. 急激な円高が進み、輸入食品の価格が下がった。  
 オ. 航空機を使った輸送量が貨物船による輸送量を上まわるようになり、新鮮な農産物が輸入されるようになった。  
 カ. 米や果実、畜産物の生産に力を入れる農家が増えたため、国内の野菜の生産が減った。



農林水産省「食糧需給表」より作成。

問3 ( 2 ) にあてはまることばを答えなさい。

問4 下線部(b)に関連して、右の資料を見て答えなさい。

- (1) 富山県は農業産出額に占める野菜の割合が最も低い県ですが、農業産出額に占めるある分野の割合が最も高い県です。ある分野とは何ですか。次の中から選び、記号で答えなさい。

- ア. 米                      イ. 果実                      ウ. 工芸作物<sup>※5</sup>                      エ. 畜産

※5 茶、綿花、ごま、なたね、さとうきびなど、加工されて製品となる作物。

- (2) 東京都は農業に占める野菜の割合が最も高い都道府県の一つといえます。しかし、東京都は野菜の生産がさかんであるとはいえません。このことを調べるために、右の資料とは別に、次のどの資料があればいいですか。1つ選び、記号で答えなさい。

- ア. 東京都の野菜の出荷量  
 イ. 東京都の野菜以外の農業産出額  
 ウ. 都道府県別の耕地面積に占める畑の割合  
 エ. 都道府県別の農業産出額

問5 下線部(c)をわかりやすく説明しなさい。

問6 右の資料は、下線部(d)の研究と同じ基準で同じ4品目の2015年の「見えない水」を輸入先別に調べたものです。A・Bにあてはまる国名を答えなさい。

1位	高知県	59.7%
2位	東京都	58.6%
...	...	...
46位	岩手県	10.6%
47位	富山県	9.0%

1位	富山県	64.9%
2位	福井県	62.5%
3位	滋賀県	54.5%
...	...	...
47位	東京都	0.3%

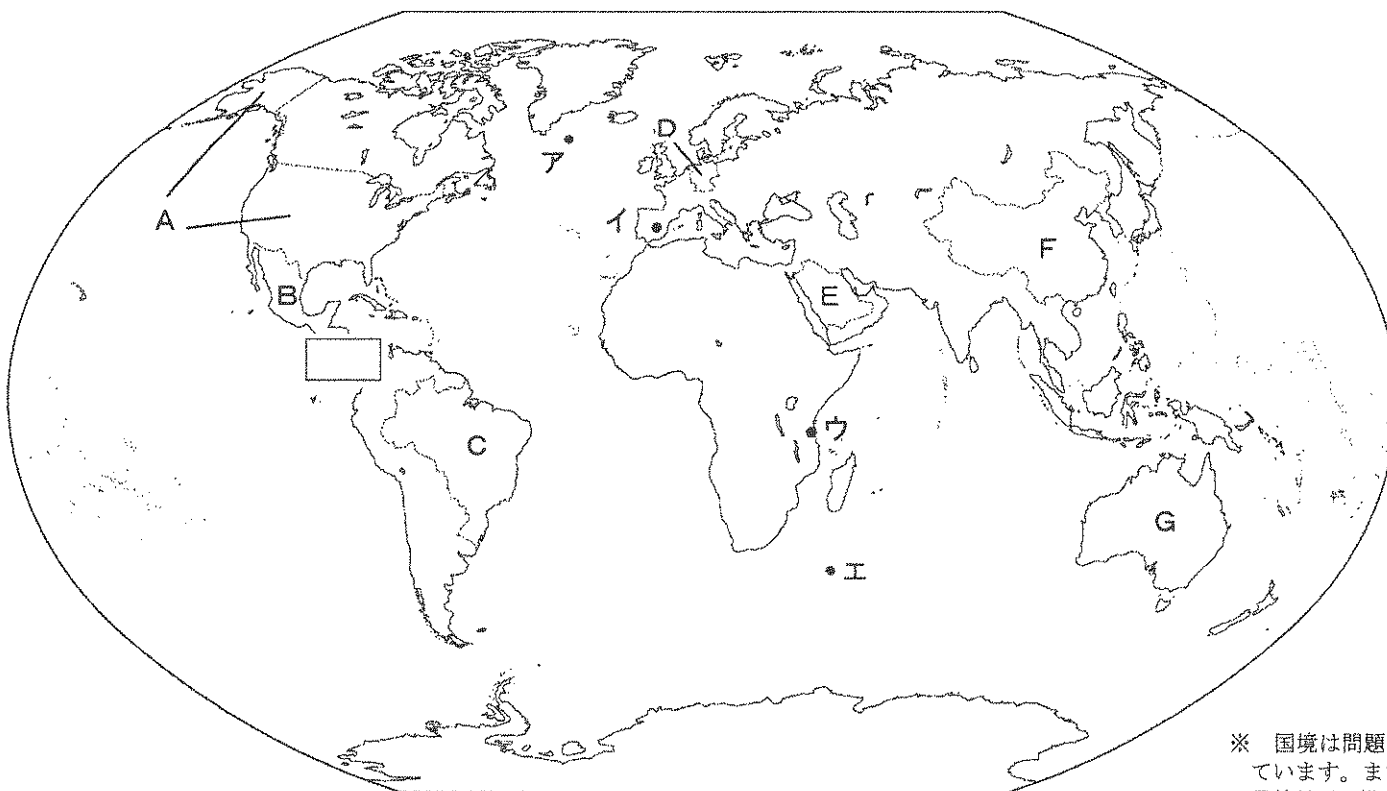
いずれも、農林水産省「平成26年農業産出額及び生産農業所得」より作成。

とうもろこし	アメリカ合衆国 106		ブラジル 21		ニュージーランド 3	その他 5
牛肉	A 60	アメリカ合衆国 34			その他 5	
小麦	アメリカ合衆国 45	B 26	A 14		その他 4	
大豆	アメリカ合衆国 58	ブラジル 13	B 9		その他 1	(単位 億m <sup>3</sup> )

財務省「貿易統計」の数値より算出、作成。

受験番号	
------	--

[3] 次の地図を見て、あとの問いに答えなさい。

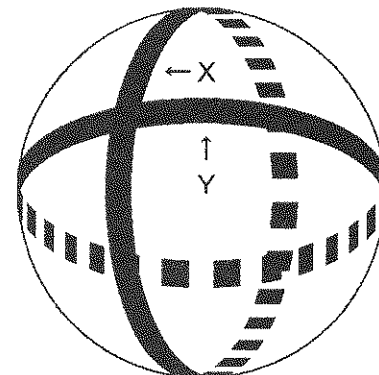


※ 国境は問題に関係する国のみ描いています。また、地図中 □ の境界線付近は描いていません。

問1 地球上の位置を正確に表すためのものとして緯度と経度があります。次の4つの地点の中から1年間の平均気温が最も低いものを選び、記号で答えなさい。なお、4つの地点の標高は全て同じです。

- ア. 東経 50 度 南緯 60 度
- イ. 東経 70 度 北緯 10 度
- ウ. 西経 80 度 南緯 20 度
- エ. 西経 30 度 北緯 40 度

問2 右の図のように、東京・北極点・南極点を通るテープXと、東京でテープXと直角に交わる同じ長さのテープYを地球儀に巻きました。テープYに隠れている地点を上地図中のア～エの中から1つ選び、記号で答えなさい。



問3 アフリカを原住地とする人々の子孫が人口の5%以上を占めている国を地図中のA～Gの中から2つ選び、記号で答えなさい。

問4 次の文は、地図中のA～Gのいずれかの国の生活について述べたものです。Aの国について述べた文を1つ選び、記号で答えなさい。


- ア. 私の国では国の政策の結果、家族に兄弟姉妹のいない人が多いです。受験勉強が熱心に行われています。朝食はおかゆやまんとうが食べられています。
- イ. 私の国には日本からの移民が多く、移住が始まったころは農業で生計を立てる人が多かったようです。フェイジョアードという豆料理が食べられています。
- ウ. 私の国では昔は羊や牛を飼って移動生活をしている人が多かったのですが、油田の開発とともに生活が豊かになり、今は定住が進んでいます。デザートは日常的な食べ物の一つです。
- エ. 私の国ではハロウィンや感謝祭などの季節の行事が多く、その時には家族や親せきが集まります。朝食はシリアルに牛乳をかけたものやトーストがよく食べられています。私の国からジーンズも生まれました。

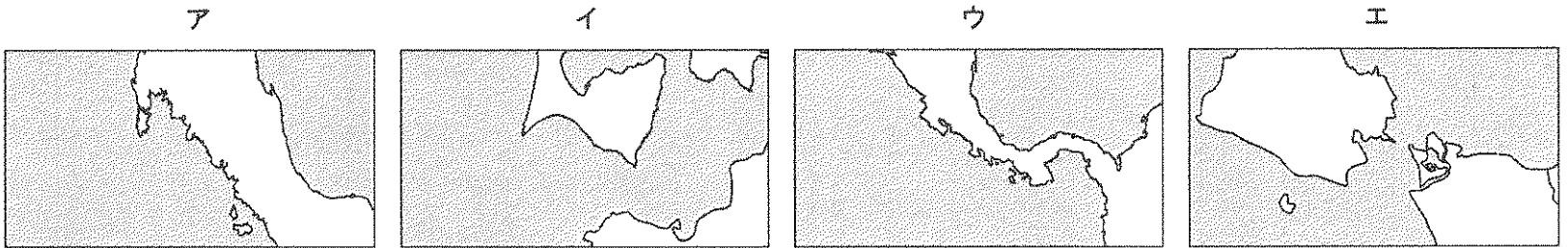
問5 ポルトガル語を公用語としている国を地図中のA～Gの中から1つ選び、記号で答えなさい。

問6 砂漠の気候が見られない国を地図中のA～Gの中から2つ選び、記号で答えなさい。

受験番号	
------	--

問7 2015年に日本に住んでいる外国人を出身国別に調べました。その人口が上位5か国に入る国を地図中のA～Gの中から2つ選び、記号で答えなさい。

問8 地図中の□の場所の海岸線として正しいものを次の中から選び、記号で答えなさい。なお、は海を示しています。



[4] 次の文を読み、あとの問いに答えなさい。

神戸の歴史は、出土した石器などから旧石器・縄文時代にさかのぼることができます。また、(a)1964年には灘区の桜ヶ丘で多くの銅鐸などが発見され、付近では弥生時代の集落跡も確認されています。

3世紀中ごろになると、各地の豪族は古墳を築くようになりました。神戸市には4世紀末ごろの、兵庫県一大きな(b)前方後円墳である五色塚古墳があります。4～5世紀はヤマト政権の大王が力を強めていく時代で、五色塚に葬られた人物は、ヤマト政権のために西の玄関口である明石海峡を守った人物と考えられています。このように昔から神戸は海との密接なかかわりの中で発展してきました。

国土統一のころ、大阪湾では、浪速(今の大阪)の津(船着き場・港)を出た船は、初め灘区にあった港に寄って西に航海していましたが、奈良時代になると船が速く進むようになったので、湊川の河口の(1)がにぎわいはじめました。

平安京遷都によって、(1)は都と瀬戸内海をつなぐ所としてますます重要になり、遣唐使に同行した最澄や空海もこの港を利用したと伝えられています。平安末期には、太政大臣になって間もない平清盛がたびたび神戸を訪れ、(1)を改修して、宋との貿易を行い、わずか半年足らずの間でしたが、福原(今の神戸市)に都を移しました。

やがて、源氏の政権が誕生したころから、(1)あたりは町として発展し、兵庫の津とよばれるようになりました。

室町時代になると、足利義満が始めた(2)との貿易も、はじめは兵庫の津が窓口となりました。しかし、室町幕府が弱り、争乱が起こると、その巻きぞえで兵庫の津は焼き打ちされ、100年ほど港は衰え、日本中が戦国の世となりました。さらに(c)織田信長が天下統一をめざす戦いの中で、灘も兵庫も戦火に巻き込まれることになりましたが、豊臣秀吉が天下統一に乗り出すころには兵庫の津も復興し、兵庫は政治・経済の中心地になりました。

江戸時代には兵庫は幕府領となり、天下の台所大阪のとなりの港として栄え、(3)を走る北前船などによって各地の物産も入ってきました。

ペリーの来航をきっかけに幕府は開国にふみ切りました。1858年に結ばれた(d)日米修好通商条約によって兵庫(神戸)港は開港地とされ、その当時は小さな貧しい村にすぎなかった(e)神戸には海軍操練所がおかれ、外国人居留地も建設されることになりました。しかし、兵庫港の開港は、当時の天皇が京都に近い兵庫の開港に断固反対していたため延期され、実際に、(f)現在の神戸が開港されたのは1867年12月のことでした。1892年に勅令により「神戸港」となると、急速に近代化し、人・物・情報が行き交う拠点として、また、(g)国際貿易港として、世界を代表する港に発展しました。

問1 (1)にあてはまる港の名前を答えなさい。

問2 (2)・(3)にあてはまる語句の組み合わせとして正しいものを次の中から選び、記号で答えなさい。

- |        |          |        |          |
|--------|----------|--------|----------|
| ア. 2-元 | 3-東まわり航路 | イ. 2-元 | 3-西まわり航路 |
| ウ. 2-明 | 3-東まわり航路 | エ. 2-明 | 3-西まわり航路 |

受験番号	
------	--

問3 下線部(a)について答えなさい。

(1) 銅鐸が使われていた弥生時代について述べた文A・Bの正誤の組み合わせとして正しいものを次の中から選び、記号で答えなさい。

A. 弥生時代の遺跡としては、青森県の三内丸山遺跡が知られています。

B. 弥生時代の遺跡からは、人骨に刺さった矢じりや、先の欠けた剣が出土しています。

ア. A-正 B-正      イ. A-正 B-誤      ウ. A-誤 B-正      エ. A-誤 B-誤

(2) この銅鐸が発見された1964年の出来事として正しいものを下から1つ選び、記号で答えなさい。

ア. 日中平和友好条約が結ばれました。

イ. ソ連との間で国交が回復しました。

ウ. 日本万国博覧会が大阪で開かれました。

エ. オリンピック東京大会が開かれました。

問4 下線部(b)について、右の表は、全長120m以上の前方後円墳がある都道府県について、その古墳の数を示したものです。この表から読みとれることとして誤っているものを1つ選び、記号で答えなさい。

ア. 全長120m以上の前方後円墳の半分以上が大阪府と奈良県に分布しています。

イ. 近畿地方に次いで全長120m以上の前方後円墳が多いのは関東地方です。

ウ. 近畿地方以外にも、全長300mを超える巨大な前方後円墳がみられます。

エ. 全長200mを超える前方後円墳は、西日本にしかみられません。

全長120m以上の前方後円墳の都道府県別分布

		300m以上	200-300m	150-200m	120-150m	合計
東北	宮城県	0	0	1	0	1
	福島県	0	0	0	1	1
関東	茨城県	0	0	2	1	3
	栃木県	0	0	0	1	1
	群馬県	0	1	2	7	10
	埼玉県	0	0	0	3	3
	千葉県	0	0	0	4	4
中部	山梨県	0	0	1	1	2
	愛知県	0	0	1	0	1
	岐阜県	0	0	0	1	1
	三重県	0	0	1	2	3
近畿	滋賀県	0	0	1	1	2
	京都府	0	1	3	3	7
	大阪府	4	8	8	8	28
	奈良県	2	18	5	10	35
中国	兵庫県	0	0	1	3	4
	岡山県	1	1	3	8	13
四国	山口県	0	0	0	1	1
	香川県	0	0	0	1	1
九州	福岡県	0	0	0	2	2
	宮崎県	0	1	1	0	2
合計		7基	30基	30基	58基	125基

和田 萃『体系日本の歴史<2>古墳の時代』より作成。

問5 下線部(c)は、どの戦国大名との戦いの中で起こったものですか。次の中から1つ選び、記号で答えなさい。

ア. 今川氏との戦い      イ. 武田氏との戦い

ウ. 明智氏との戦い      エ. 毛利氏との戦い

問6 下線部(d)に基づいて貿易のために開かれた港として誤っているものを、右の地図から1つ選び、記号で選びなさい。

問7 下線部(e)をつくった人物は、ペリー来航時に開国・貿易をすべきだと幕府に伝え、また、旧幕府軍が戦わずに江戸城を明けわたすことを新政府軍に申し入れて、江戸の町を戦火から救いました。この人物の名前を答えなさい。

問8 下線部(f)と同じ年に起こった出来事として正しいものを1つ選び、記号で答えなさい。

ア. 薩長同盟      イ. 大政奉還

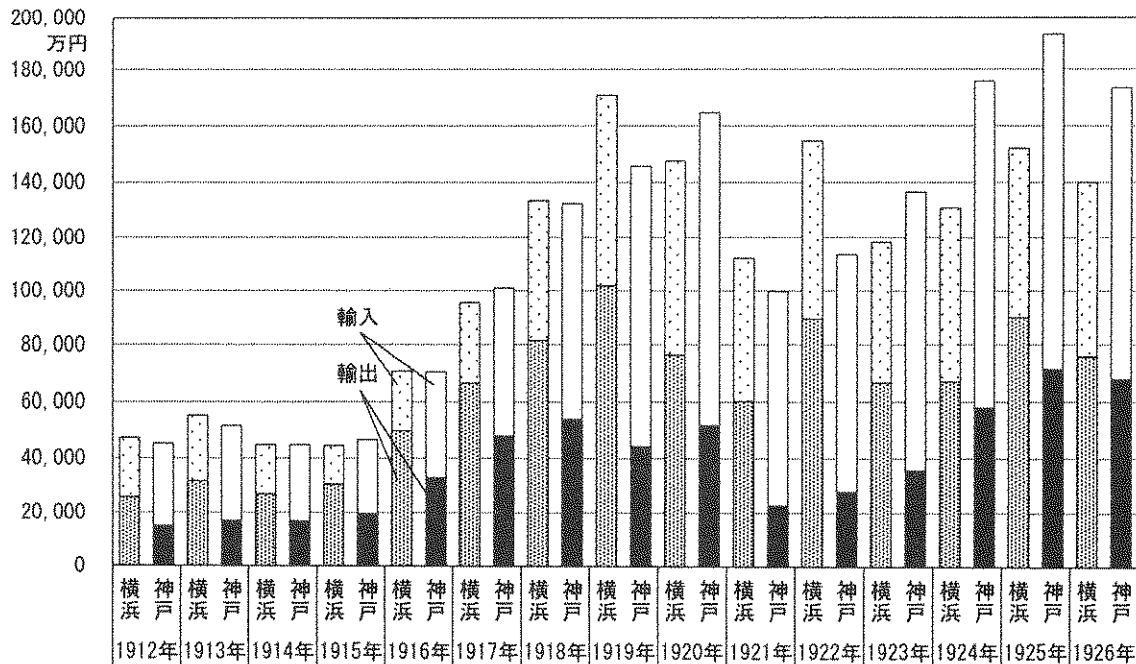
ウ. 西南戦争      エ. 大塩平八郎の乱



受験番号	
------	--

問9 下線部(g)について、次のグラフは大正時代の横浜港と神戸港での貿易の取扱額の推移を示したものです。このグラフについて説明した文として誤っているものを次の中から1つ選び、記号で答えなさい。

- ア. 関東大震災発生のに、神戸港の貿易額は大きく減少しました。
- イ. 開港50年目の神戸港の貿易額は、横浜港を上まわっています。
- ウ. 横浜港では貿易額に占める輸出の割合が、神戸港では輸入の割合が高い傾向が見られます。
- エ. 第一次世界大戦中、神戸港の貿易額は伸び続け、戦争が終わっても2年間は伸び続けました。



東洋経済新聞社『日本貿易精覧』より作成。

[5] 次の文を読み、あとの問いに答えなさい。

山口県にあたる地域は、古代から日本海と瀬戸内海を結ぶ海の道の帰着点として発展し、歴史上重要な役割を果たしてきました。

現在の山口市に大きな港はありませんが、15世紀から16世紀には(a)戦乱を避けて京都から移動してくる人も多く、(b)大陸とのつながりもあり、外国人も訪れる国際都市でした。支配者は(c)守護から成長した(1)から、16世紀半ばに(2)に代わりましたが、町は繁栄を続けました。

現在の下関市は昔から良港に恵まれ、7、8世紀に九州におかれて政治・軍事・外交を司った(3)へ役人や兵士が移動するときも下関を経由しました。江戸時代には、(d)将軍交代のお祝いに日本にやってきた外国の王の使者も下関を経由して江戸へ行きました。(4)で鳴滝塾を開いていたシーボルトも下関を訪れ、その過去に思いをめぐらせて(e)1185(寿永4)年に下関周辺で行われた戦争のことを旅行記に書いています。

江戸時代には、下関、山口を含む現在の山口県は、長州藩とよばれ、討幕運動の中心になりました。1864年には(f)下関で戦争が起こり、日本の歩みに大きな影響を与えました。(g)長州藩から明治政府の中心となる政治家が生まれるなど、山口県は歴史を動かしてきましたが、近年は(h)人口問題に対処を迫られています。

問1 (1)・(2)にあてはまる語句の組み合わせとして正しいものを次の中から選び、記号で答えなさい。

- ア. 1-毛利氏 2-有馬氏      イ. 1-毛利氏 2-大内氏      ウ. 1-有馬氏 2-毛利氏
- エ. 1-有馬氏 2-大内氏      オ. 1-大内氏 2-毛利氏      カ. 1-大内氏 2-有馬氏

問2 (3)・(4)にあてはまる語句の組み合わせとして正しいものを次の中から選び、記号で答えなさい。

- ア. 3-九州探題 4-長崎      イ. 3-九州探題 4-鹿児島      ウ. 3-大宰府 4-長崎
- エ. 3-大宰府 4-鹿児島      オ. 3-外国奉行 4-長崎      カ. 3-外国奉行 4-鹿児島

問3 下線部(a)の戦乱を次の中から選び、記号で答えなさい。

- ア. 承久の乱      イ. 応仁の乱      ウ. 関ヶ原の戦い      エ. 長祿の戦い

問4 下線部(b)について述べた文A・Bの正誤の組み合わせとして正しいものを次の中から選び、記号で答えなさい。

A. 浄土真宗の僧侶であった雪舟は、山口から中国に渡り、帰国後は水墨画の技法を完成しました。

B. 種子島に漂着したフランシスコ・ザビエルは、山口でもキリスト教の布教に努めました。

- ア. A-正 B-正      イ. A-正 B-誤      ウ. A-誤 B-正      エ. A-誤 B-誤



受験番号		名前	
------	--	----	--

[ 1 ]

問 1					問 2							
問 3	3		4		5		問 4		問 5		問 6	

[ 2 ]

問 1		問 2	(1)		(2)		問 3	
問 4	(1)		(2)		問 5			
問 6	A				B			

[ 3 ]

問 1		問 2		問 3		問 4		問 5		問 6	
問 7			問 8								

[ 4 ]

問 1				問 2		問 3	(1)		(2)		問 4	
問 5		問 6		問 7				問 8		問 9		

[ 5 ]

問 1		問 2		問 3		問 4		問 5		問 6		
問 7		問 8		問 9	人物		文		問 10			