

受験番号	
------	--

[1] 次の文を読み、あとの問いに答えなさい。

2015年、(a)選挙に関する法律が改正され、(b)2016年に行われる参議院議員選挙から、18歳以上の国民に選挙権が与えられるようになりました。選挙は「(c)大人」がするもので、自分たちには関係がないと考えていたかも知れませんが、今この試験を受けている皆さんは、国政選挙または地方選挙が行われる時点で18歳であれば、高校生でも投票することができるようになったわけです。また、すでに別の法律の改正によって、( )を改正する際に行われる国民投票の対象も18歳以上の国民となっています。皆さんは中学や高校の授業で、(d)法律が制定される流れや(e)社会保障制度、(f)税のしくみといったさまざまな世の中のことについて学んでいきますが、近いうちに自分が投票するのだということを常に意識し、主体的に学んでいくことが重要になります。

問1 文中の( )にあてはまる言葉を漢字5字で答えなさい。

問2 下線部(a)の法律を何といいますか。漢字5字で答えなさい。

問3 下線部(b)に関連して、2016年の参議院選挙から一部の選挙区で定数が改められました。この改正は、都道府県ごとの人口に応じて、選挙でできるかぎり有権者の一票の重みに差が出ないようにするために行われたものです。右の表の(1)～(3)にあてはまる都道府県名と、(4)にあてはまる定数を答えなさい。

定数が改められた選挙区の一覧 ※ 人口は2014年10月1日現在

都道府県名	人口(千人)	人口の都道府県別順位	これまでの定数	新たな定数
東京	13,390	1位	10	12
愛知	7,455	4位	6	8
(1)	5,541	7位	4	6
北海道	5,400	8位	4	6
福岡	5,091	9位	4	6
宮城	2,328	14位	4	2
新潟	2,313	15位	4	2
長野	2,109	16位	4	2
徳島	764	44位	2	} 2
(2)	738	45位	2	
島根	697	46位	2	} 2
(3)	574	47位	2	
全国の選挙区全体の合計			146	(4)

問4 下線部(c)に関連して、2015年の時点で18歳の女性に法律によって認められていること(O)、認められていないこと(X)の組み合わせを右の表のA～クの中から選び、記号で答えなさい。

- ① たばこを吸うこと
- ② 会社の株主になること
- ③ 父母の同意を得て、成人男性と結婚すること

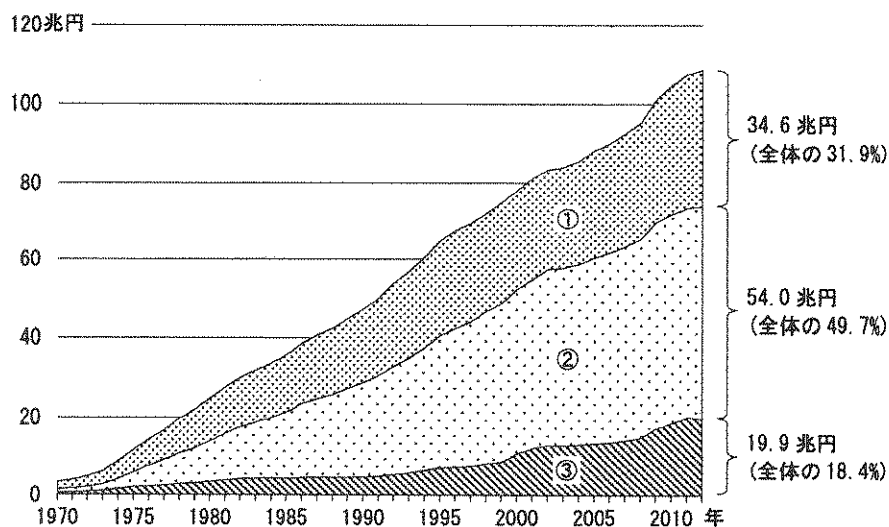
	①	②	③
ア	○	○	○
イ	○	○	×
ウ	○	×	○
エ	○	×	×
オ	×	○	○
カ	×	○	×
キ	×	×	○
ク	×	×	×

問5 下線部(d)に関連して、衆議院で可決された法律案が法律として成立するまでの説明として、正しいもの(O)、誤っているもの(X)の組み合わせを右の表のA～クの中から選び、記号で答えなさい。

- ① 参議院で可決された場合、そのまま法律となります。
- ② 参議院で否決された場合、両院協議会を開いて意見が一致しなければ、衆議院の案のまま法律となります。
- ③ 参議院で否決された場合、衆議院で出席議員の3分の2以上の多数で再可決すれば、衆議院の案のまま法律となります。

問6 下線部(e)について、右の資料は社会保障費のうちわけを示したものです。①～③の費目の組み合わせとして正しいものを次の中から選び、記号で答えなさい。

- ア. ①-医療 ②-年金 ③-福祉その他
- イ. ①-医療 ②-福祉その他 ③-年金
- ウ. ①-年金 ②-医療 ③-福祉その他
- エ. ①-年金 ②-福祉その他 ③-医療
- オ. ①-福祉その他 ②-医療 ③-年金
- カ. ①-福祉その他 ②-年金 ③-医療



(国立社会保障・人口問題研究所「社会保障統計年報データベース」より作成)

受験番号	
------	--

問7 下線部(f)に関連して、次の文は消費税の増税に向けて話し合われている内容について説明したものです。(1)にあてはまる言葉を漢字2字で、(2)にあてはまる言葉をカタカナで答えなさい。

他の国で用いられている、野菜などの生活必需品の税率について、通常よりも引き下げる「(1)税率」とよばれるしくみを導入することが考えられています。また、話し合いの中では、2015年10月から施行された「行政手続における特定の個人を識別するための番号の利用等に関する法律」、通称「(2)法」に基づいた、(2)カードをお店の機械に通すことで、あとから増税された金額の一部が返ってくるというしくみも考えられました。

[2] 次の会話文を読んで、あとの問いに答えなさい。

海子 世界にはいろいろな国がありますね。

先生 そうですね。現在の日本は、さまざまな国と交流が行われています。

海子 私の身のまわりにも、いろいろな国で作られたものがあります。日本の最大の貿易相手国はどこですか。

先生 2014年の輸出入の総額でみると(1)です。日本の経済はこの国と大きなつながりがあることがわかりますね。

海子 世界には、国と国が集まって大きなまとまりをつくっているところがあると聞きました。

先生 (a)地図中のグレーで示した地域が知られています。ここでは、自由貿易も行われています。(b)日本も自由な貿易を進めています。

海子 そういえば、太平洋やインド洋の島国では海面が上がって人々が生活に困り、国際会議で訴えているという話を聞きました。

先生 地球温暖化が原因で、二酸化炭素の排出を減らすことが大切だといわれています。(c)国どうしの話し合いや一人ひとりが考えて行動していくことも大切ですね。

海子 世界には、戦争や紛争が続いているところもあり新聞でもよく見かけます。

先生 そうですね。第二次世界大戦後に最も長く続く地域紛争では(2)紛争があります。子どもたちも戦争に自分たちの夢を奪われたりしています。(d)多くの人々が戦火を逃れて、自分の国から離れています。悲劇が繰り返されないように、日ごろから世界のできごとに関心を払い、考えることが大切ですね。

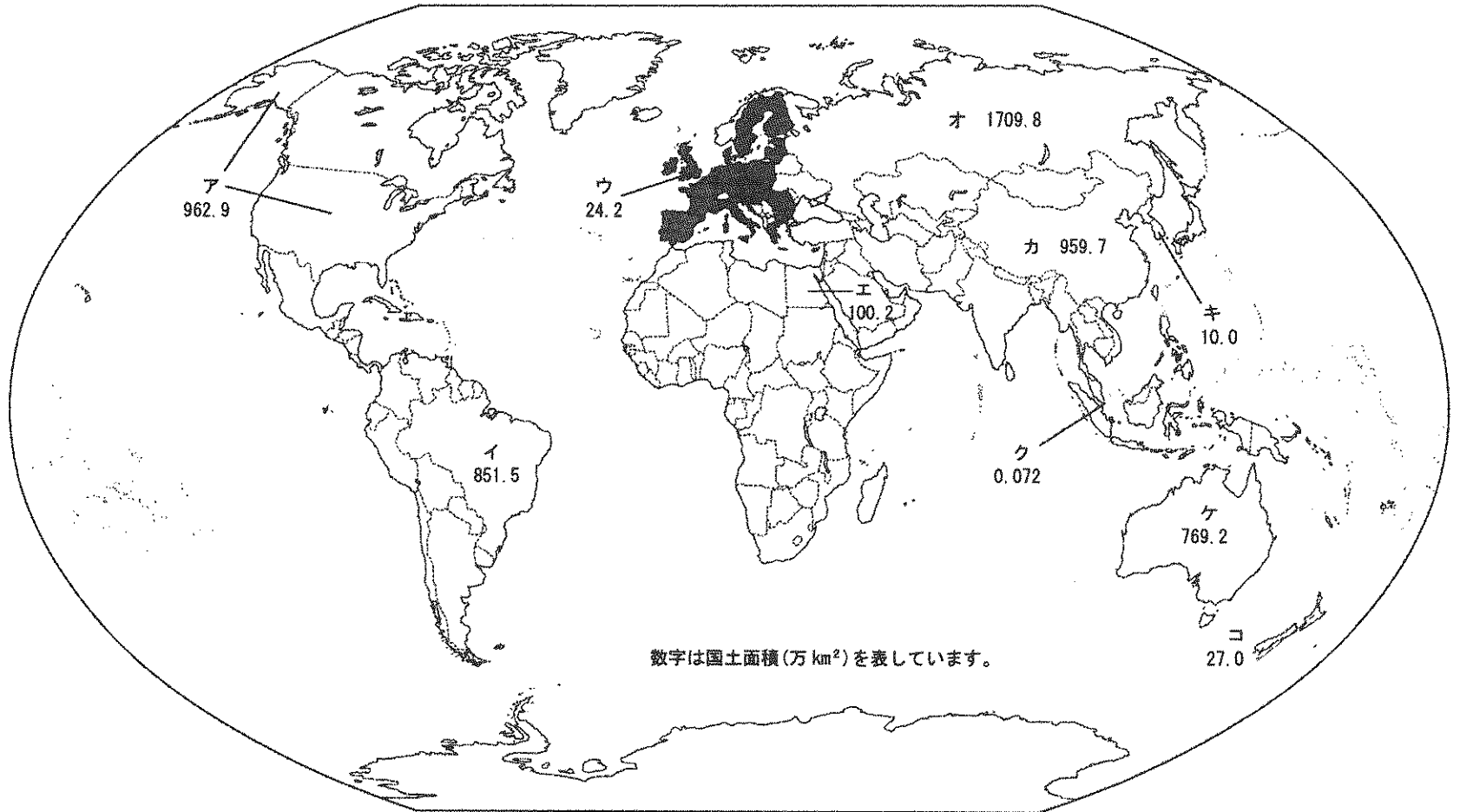
問1 文中の(1)にあてはまる国を【地図1】のA~Cの中から選び、記号で答えなさい。

問2 下線部(a)について、この地域のことを述べた文として誤っているものを次の中から1つ選び、記号で答えなさい。

- ア. この地域の国々のまとまりは、かつての戦争への反省をもとに拡大してきました。
- イ. この地域では多くの言語が使われていますが、共通の公用語もつくられ、使われています。
- ウ. この地域の多くの国は共通のお金を使っていますが、独自のお金を使っている国もあります。
- エ. この地域の多くの国境では、地域に住む人々が自由に行き来することが認められています。
- オ. この地域に暮らす多くの人々の生活には、同じ宗教の影響を受けた文化が根づいています。

受験番号	
------	--

[地図1]



問3 下線部(b)について、日本が関税をほとんどかけない貿易を行うようになった最初(2002年)の国を【地図1】のア～コの中から1つ選び、記号で答えなさい。

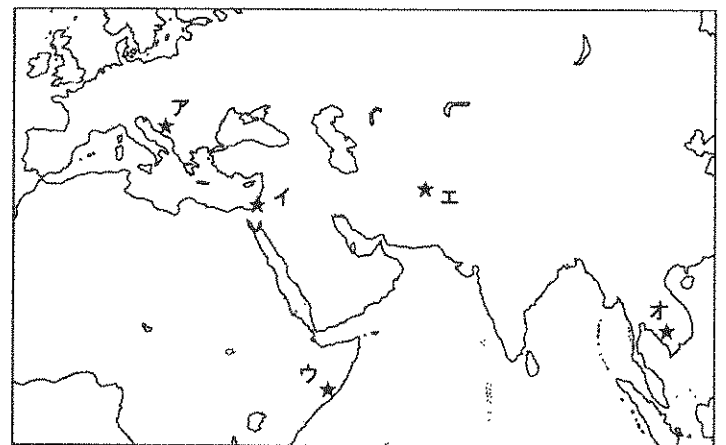
問4 下線部(c)について、各国政府や国際連合から独立して世界のさまざまな分野で問題解決のために活動している団体を何といいますか。漢字5字で答えなさい。

問5 文中の( 2 )には地方名が入ります。この地方を【地図2】のア～オの中から1つ選び、記号で答えなさい。

問6 下線部(d)について、このような人たちを守ったり、生まれた国や安心して暮らせる国に住むことを援助したりする国連の機関を次の中から1つ選び、記号で答えなさい。

- |           |           |
|-----------|-----------|
| ア. UNESCO | イ. ODA    |
| ウ. UNHCR  | エ. UNICEF |
| オ. WHO    |           |

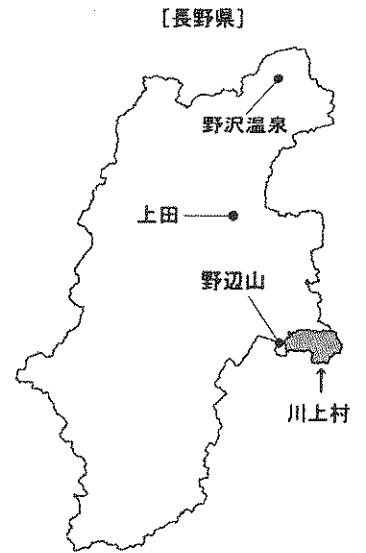
[地図2]



受験番号	
------	--

[3] 次の文を読んで、あとの問いに答えなさい。

- 一. (a) 信濃の国は十州に 境連ぬる国にして 聳ゆる山はいや高く 流るる川はいや遠し  
 松本 伊那 佐久 善光寺 四つの平は肥沃の地 海こそなけれ物さわに 万ず足らわぬ事ぞなき
- 二. 四方に聳ゆる山々は (b) 御嶽 乗鞍 駒ヶ岳 浅間は殊に活火山 いずれも国の鎮めなり  
 流れ淀まずゆく水は (c) 北に犀川 千曲川 南に木曾川 天竜川 これまた国の固めなり  
 (長野県歌「信濃の国」歌詞 ※三～六は省略)



長野県の人には郷土愛が強いといわれ、100年以上歌い継がれてきたこの歌をほとんどの県民が歌えるそうです。「信濃の国」は、かつて信濃国とよばれた長野県の風土・歴史・文化を詠み込んで1900年(明治33年)に作られました。同じ時期、歌に詠まれた佐久平で暮らしていた島崎藤村も、「小諸なる古城のほとり……」と、(d) 千曲川沿いの風景を詠んでいます。

藤村が「千曲川旅情の歌」や「千曲川のスケッチ」で描いた千曲川の源流に、昨年(2015年)、日本人10人目の宇宙飛行士として国際宇宙ステーション(ISS)で活動した油井亀美也さんの故郷の川上村があります。

(e) 川上村は人口4000人ほどの小さな村ですが、全国1700余の市町村の中で、最もレタスの収穫が多いところです(2013年、全国の14.4%)。自身もレタス農家の末っ子として生まれ育った油井さんは、少年時代、山々とレタス畑に囲まれた故郷の夜空を天体望遠鏡で一晩中眺めながら、天文学者や宇宙飛行士になる夢を育んだそうです。

昨年、(f) 油井さんの乗るロケットが打ち上げられた当日は、その様子が川上村の文化センター(公民館)で生中継され、朝早くから村の小中学生ら600名が集まって油井さんの出発を見守りました。3年前、宇宙飛行士になることが決まったとき、信濃毎日新聞のインタビューで、ISSで「信濃の国」を歌いたいと話していた油井さんは、昨年8月、ISS滞在中に行われた地球との通信回線による記者会見で、故郷への思いを問われると、「この歌がやっぱり頭に浮かんでくる」と「信濃の国」の一節を歌って答え、宇宙から長野県民を喜ばせました。

問1 下線部(a)は、「長野県は10の国と隣り合っている」という意味です。10の国は、現在の岐阜、静岡、愛知、新潟、群馬、埼玉、山梨、富山の8県にあたり、そのうち3県が川上村と接しています。次の文の( )にあてはまる、それら3県の県名を答えなさい。

- (1) 川上村から三国峠を越えると( )県秩父市に入ります。1884年(明治17年)、自由民権運動が高まる中、自由党员や生活に苦しむ農民が、この地を中心に大規模な反政府暴動を起こしました。
- (2) 2014年から建設が始められた中央新幹線(リニア新幹線)は、川上村の隣にある( )県甲府市を通る予定です。市内には、新たにリニア新幹線の駅も誕生することになっています。
- (3) 川上村と( )県上野村の境界に高天原山があります。1985年、上野村側の「御巣鷹の尾根」に日本航空のジャンボジェット機が墜落し、500名を超える犠牲者が出ました。

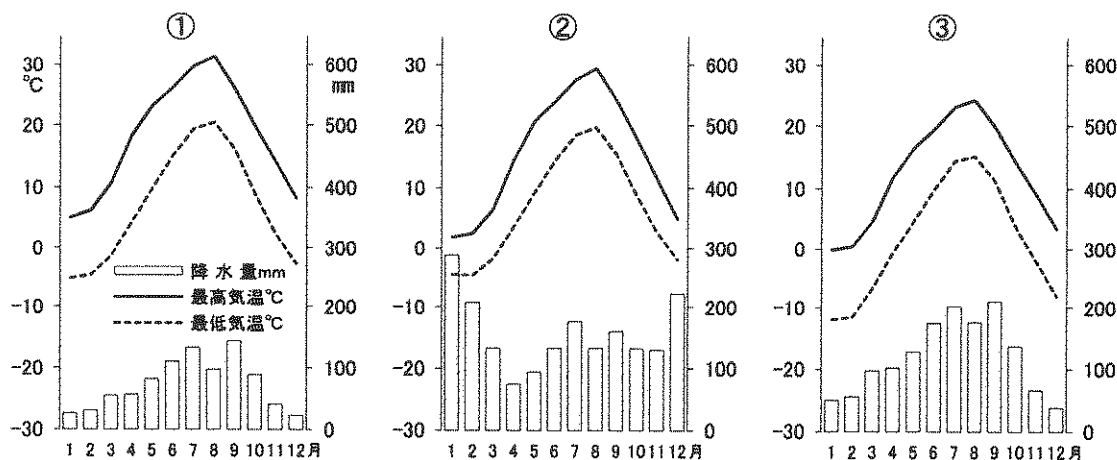
問2 下線部(b)について、火山噴火予知連絡会や気象庁の現在の基準では、「信濃の国」に歌われた4つの山のうち、浅間山を含む3つの山が「活火山」に分類されています。このうち、2014年9月に60名以上の死者・行方不明者を出す噴火を起こした山はどれですか。

問3 下線部(c)について答えなさい。

- (1) 千曲川は、犀川と長野市内で合流したのち長野県外へ出て、別の名でよばれる河川となって日本海に注ぎます。その河川名を答えなさい。
- (2) 天竜川の河口がある県を答えなさい。
- (3) 千曲川・木曾川・天竜川のほかに、県境を越えて流れる河川は全国にあります。例を1つ挙げ、源流の県名も答えなさい。ただし、長野県を源流とする河川を除きます。

受験番号	
------	--

問4 下線部(d)について、同じ川沿いでも風景や気候はかなり違います。川上村を出発し、隣の南牧村の野辺山から上田(市)を通って野沢温泉(村)へと、千曲川に沿って下流に向かいました。①～③の雨温図と、それら3地点の組み合わせとして正しいものを右の表のア～カの中から選び、記号で答えなさい。

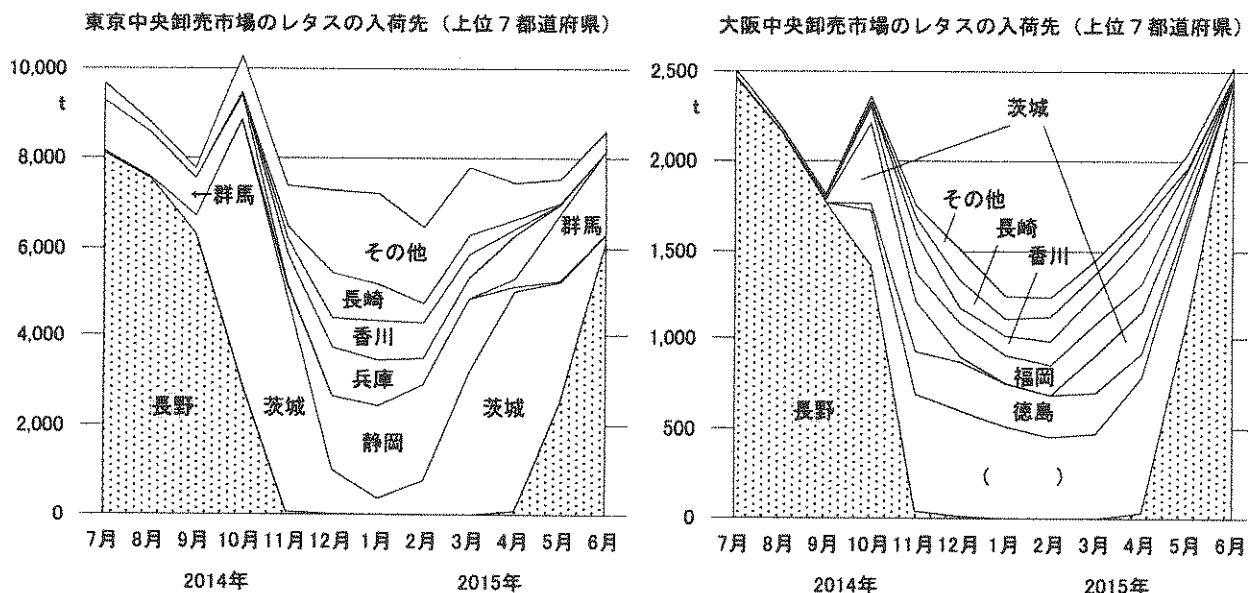


	①	②	③
ア	野辺山	上田	野沢温泉
イ	野辺山	野沢温泉	上田
ウ	上田	野辺山	野沢温泉
エ	上田	野沢温泉	野辺山
オ	野沢温泉	野辺山	上田
カ	野沢温泉	上田	野辺山

(数値は1981～2010年平均 気象庁「気象観測データ」より作成)

問5 下線部(e)について答えなさい。

(1) 長野県のレタスは川上村産のものが4割以上を占め(2013年)、それらは大量に大消費地へ出荷されています。しかし、市場でも長野県産のレタスが品薄になる時期があります。下の資料を見て、その時期の大阪中央卸売市場のレタスの入荷先( )の都道府県名を答えなさい。



(東京卸売市場「市況統計情報」  
大阪中央卸売市場「市況情報」  
より作成)

(2) 川上村の隣にある南牧村も人口3000人ほどの小さな村ですが、右の資料のように、ある農作物の収穫量が全国の市町村で第2位です(2013年、全国の5.8%)。この農作物を次の中から選び、記号で答えなさい。

- |          |         |         |
|----------|---------|---------|
| ア. ジャがいも | イ. きゅうり | ウ. なす   |
| エ. キャベツ  | オ. たまねぎ | カ. はくさい |

問6 下線部(f)について、油井さんが地球を離れてISSへ到着するまでに搭乗したロケットは、(1)が打ち上げた(2)でした。(1)・(2)にあてはまる言葉を次の中からそれぞれ選び、記号で答えなさい。

- |            |             |         |
|------------|-------------|---------|
| ア. アメリカ合衆国 | イ. ロシア      | ウ. 日本   |
| エ. H-2B    | オ. スペースシャトル | カ. ソユーズ |

ある農産物の収穫量(上位10市町村)

1	茨城県八千代町	64,800 t
2	長野県南牧村	52,390 t
3	茨城県結城市	48,710 t
4	長野県川上村	42,080 t
5	長野県小海町	29,160 t
6	茨城県古河市	19,700 t
7	茨城県坂東市	19,450 t
8	兵庫県南あわじ市	14,300 t
9	鹿児島県曾於市	13,500 t
10	長崎県島原市	12,600 t

(農林水産省「作況調査」より作成)

【4】 次の文を読んで、あとの問いに答えなさい。

(a) 三内丸山遺跡は、縄文時代を代表する集落のあとです。ここではとれた食料は平等に分けられ、人々が争うこともなかったと考えられています。(b) 静岡県で発見された遺跡の発掘などにより、弥生時代には稲作がさかんであったことがわかりました。このころ、むらどうしの争いが起こるようになり、争いに勝ったむらは、他のむらを支配して小さくなくにつくるようになりました。2世紀後半には、くにどうしの争いが絶えなかったこともわかっています。3世紀後半になると、(c) 大王を中心として、有力豪族が支える大和朝廷(大和王権)が誕生しました。

(d) 6世紀終わりから7世紀初めにかけて、聖徳太子は蘇我氏と協力して、天皇を中心とする政治のしくみを整えようとしました。8世紀初めに、都が(e) 平城京に移されましたが、8世紀後半には、貴族や僧侶の間で勢力争いが激しくなり、政治も混乱しました。そこで(f) 天皇は、新しい都で政治を立て直そうとして、都を平安京に移しました。

12世紀には、平清盛が武士として初めて中央の政治を行うようになりました。その後、(g) 源頼朝が、平氏に不満をもつ武士たちと協力して、平氏を倒すための戦いを始めました。平氏を滅ぼした源頼朝は、朝廷から征夷大將軍に任命され、鎌倉幕府を開き、(h) 鎌倉時代が始まりました。

14世紀前半には、足利尊氏が朝廷から征夷大將軍に任命され、室町幕府を開き、室町時代が始まりました。15世紀中ごろには、室町幕府の影響も衰え、(i) 応仁の乱が終わったあとも、各地で戦国大名たちが争いを続けました。

(j) 織田信長は、自分の領国に攻め込んできた今川義元の軍勢を破り、その後、室町幕府を滅ぼして、天下統一のための政策を進めていきました。織田信長のあとを継いで天下統一を完成した豊臣秀吉が亡くなると、徳川家康が石田三成らの軍勢を破りました。その後、徳川家康が朝廷から征夷大將軍に任命され、江戸幕府を開き、(k) 江戸時代が始まりました。

問1 下線部(a)の「三内丸山遺跡」と下線部(e)の「平城京」について述べた文として正しいものを次の中から1つ選び、記号で答えなさい。

- ア. 地図のAにある三内丸山遺跡からは、竪穴住居群のほか、大型住居跡も発見されました。
- イ. 地図のBにある三内丸山遺跡からは、物見やぐらや深い濠などの施設の跡が発見されました。
- ウ. 地図のCにあった平城京には、中央に朱雀大路という通りが走っていました。
- エ. 地図のDにあった平城京には、清水寺や龍安寺などの寺院が建てられました。

問2 下線部(b)について、この遺跡の名前を答えなさい。

問3 下線部(c)について、大和朝廷が日本を支配していたころのできごととして誤っているものを次の中から1つ選び、記号で答えなさい。

- ア. 中国や朝鮮半島から、渡来人とよばれる人々が日本に移り住みました。
- イ. 中国や朝鮮半島から、漢字や仏教などの新しい文化が伝わりました。
- ウ. 大王や豪族は、自分たちの国を防衛するために、巨大な前方後円墳をつくりました。
- エ. 大王や豪族は、家や武人などの形をした埴輪をつくり、古墳の上や斜面に置きました。

問4 下線部(d)について、このころ朝廷が定めた制度について述べた文として正しいものを次の中から1つ選び、記号で答えなさい。

- ア. 天皇を頂点として、17段階の位を定めました。
- イ. 家柄ではなく、個人の能力によって位を定めました。
- ウ. 石高の多さによって12段階の位を定めました。
- エ. 一族に与えられた職業によって位を定めました。

問5 下線部(f)について、この天皇の名前を答えなさい。



受験番号	
------	--

問6 下線部(g)について、源頼朝の軍勢が初めて平氏に勝った戦いを次の中から選び、記号で答えなさい。

- ア. 富士川の戦い                      イ. 屋島の戦い                      ウ. 石橋山の戦い                      エ. 倶利伽羅峠の戦い

問7 下線部(h)について、この時代に軍事や警察の仕事にあたるため、国ごとにおかれた役職を次の中から選び、記号で答えなさい。

- ア. 郡 司                                  イ. 地 頭                                  ウ. 守 護                                  エ. 執 権

問8 下線部(i)が始まったころに主戦場となった町では、伝統的な祭りが中断されました。しかし、応仁の乱のあと、町の人々によって祭りは再開されました。この祭りを次の中から1つ選び、記号で答えなさい。

- ア. 天神祭                                  イ. 祇園祭                                  ウ. ねぶた祭                                  エ. 神田祭

問9 下線部(j)について、この戦いを何といいますか。

問10 下線部(k)について、(1)・(2)に答えなさい。

(1) 江戸時代の大名について述べた文として正しいものを次の中から1つ選び、記号で答えなさい。

- ア. 将軍と御恩と奉公の関係を結んだ大名を、御家人といいました。  
 イ. 将軍と主従関係を結んだ10万石以上の武士を大名といいました。  
 ウ. 関ヶ原の戦いのころに徳川氏に従った大名を親藩といいました。  
 エ. 尾張・紀伊・水戸藩の徳川氏を御三家といいました。

(2) 江戸時代には、五街道をはじめとした全国的な陸上交通網が完成しました。五街道について述べた文として正しいものを次の中から1つ選び、記号で答えなさい。

- ア. 五街道とは、東海道・中山道・甲州街道(道中)・奥州街道(道中)・日光街道(道中)のことです。  
 イ. 東海道の風景を描いた『東海道五十三次』という浮世絵は、近松門左衛門の代表作です。  
 ウ. 京都を起点として整備され、それぞれの街道には宿場町が栄えました。  
 エ. 幕府は五街道の中で東海道だけに関所を設置し、そこで通行料を徴収しました。

[5] 次の文を読んで、あとの問いに答えなさい。

明治政府は、1871年、(a)廃藩置県という大きな改革を実施して、4ヶ月後に岩倉具視を団長とする使節団をアメリカとヨーロッパに派遣しました。条約改正の事前交渉を行うためと外国の政治・産業・文化を視察するためでした。各国の近代産業の姿に大きな影響を受けた明治政府は、(b)殖産興業に努め、富国強兵政策を展開し、領土拡大に努めた結果、現在は約38万平方キロメートルの日本の国土面積は、(c)明治時代の終わりには約68万平方キロメートルになっていました。けれども他国の領土を奪えば、当然反発が生じ、また国家間で領土をめぐる対立も激しくなりました。軍隊の発言力が大きくなり、言論の自由も保障されなくなりました。(d)1940年、齊藤隆夫という衆議院議員が、国会で行った演説のために議員を除名されましたが、この時には、ヨーロッパで第二次世界大戦が始まっていた。数年にわたり続いたこの戦争では、軍人だけでなく、多くの民間人が犠牲になりました。ドイツのナチス政権は、ドイツ人の居住地を得るためと称して、何百万人もの(1)人を(e)占領した国に建てた収容所に送り込んで殺害しました。日本人のリトアニア領事館の外交官であった(2)は(1)人の逃亡を助けるために、(f)日本政府がビザ発行を許可しなかったにもかかわらず、日本を通過するために必要なビザを2千枚以上も発行しました。

問1 文中の(1)・(2)にあてはまる言葉を答えなさい。

問2 下線部(a)について述べた次の文A・Bの内容が、どちらも正しければア、Aのみ正しければイ、Bのみ正しければウ、どちらも誤っていればエを記入しなさい。

- A. 大名は領地と領民を天皇に返し、天皇から給料を与えられることになりました。  
 B. 藩は廃止され、県がおかれ、旧大名は知事や県令とよばれることになりました。

受験番号	
------	--

問3 下線部(b)について、下の表は、1882年と1897年の貿易における上位4品目の割合を示したものです。

(1) 表のX・Y・Zにあてはまる品目の組み合わせとして正しいものを次の中から選び、記号で答えなさい。

- ア. X-生糸 Y-綿糸 Z-綿花
- イ. X-生糸 Y-綿花 Z-綿糸
- ウ. X-綿花 Y-生糸 Z-綿糸
- エ. X-綿花 Y-綿糸 Z-生糸
- オ. X-綿糸 Y-生糸 Z-綿花
- カ. X-綿糸 Y-綿花 Z-生糸

1882年			
輸入 総額 2,945万円		輸出 総額 3,772万円	
X	22%	Y	43%
砂糖	15%	緑茶	18%
綿織物	14%	その他	39%
毛織物	9%	-	-

1897年			
輸入 総額 2億1,930万円		輸出 総額 1億6,314万円	
Z	20%	Y	34%
砂糖	9%	X	8%
機械類	8%	綿織物	6%
X	4%	緑茶	5%

(『資料カラー歴史 兵庫県版』より作成)

(2) 1882年以前に起こったこととして誤っている

ものを次の中から1つ選び、記号で答えなさい。

- ア. 重工業や軍事産業をさかんにするため、八幡製鉄所が建設されました。
- イ. 政府が経営する模範工場として、富岡製糸場が建設されました。
- ウ. 外国に対抗して徴兵令が出され、兵役が国民の義務と定められました。
- エ. 富国強兵を実現する人材を育てるため、学制が公布されました。

問4 下線部(c)について、右の表は日本の国土面積の拡大の年を示しています。

(1) 表中のX・Yにあてはまる地名の組み合わせとして正しいものを次の中から選び、記号で答えなさい。

- ア. X-台湾 Y-朝鮮
- イ. X-台湾 Y-南樺太
- ウ. X-南樺太 Y-台湾
- エ. X-南樺太 Y-朝鮮
- オ. X-朝鮮 Y-台湾
- カ. X-朝鮮 Y-南樺太

	拡大した国土とその面積	
1871年	琉球諸島	2,386 km <sup>2</sup>
1895年	X	35,834 km <sup>2</sup>
1905年	Y	36,090 km <sup>2</sup>
1910年	Z	220,792 km <sup>2</sup>

(『数字で見る日本の100年』より作成)

※ 琉球諸島については、1871年に鹿児島県に編入し、1879年に沖縄県としました。

(2) 表中のZの現在の状態について述べた文として正しいものを次の中から1つ選び、記号で答えなさい。

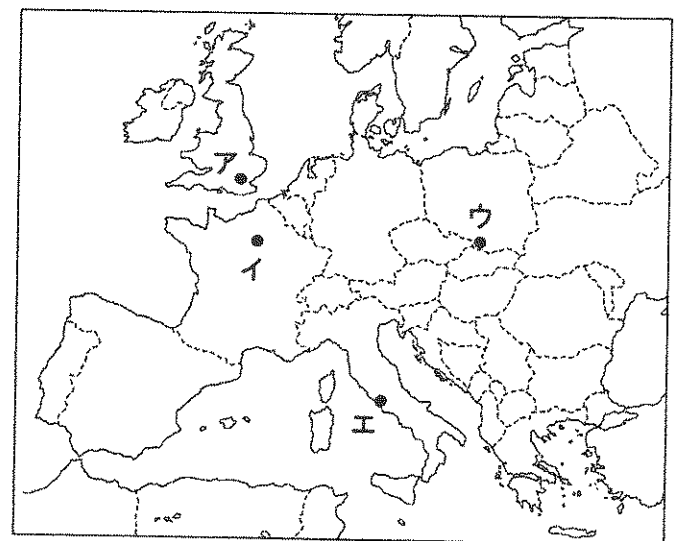
- ア. Zは2つの国に分裂しており、日本は一方の国とだけ国交があります。
- イ. 日本がZの領有権を主張していますが、ロシアに占領されています。
- ウ. Zは日本との対立関係を終了させ、平和友好条約を結んでいます。
- エ. 日本はZを独立国として承認していませんが、交流はさかんです。

問5 下線部(d)について、次の文はその演説をわかりやすく書き直したものです。( )にあてはまる言葉を下のア～エの中から選び、記号で答えなさい。

「……我が国は幾度か外国と事を構えたことはありますが、今回の( )のように規模が大きく、犠牲の大きいものはありません。従って( )がどのように処理・解決されるかということが、実に日本帝国がさかんになるか、すたれていくかがかかっているところです。……なるべく早く、なるべく上手に( )を処理・解決したい。これが全国民の偽りのない希望であり、政府としてやらなければならないところの重大な責任です。」

(齊藤隆夫『回顧七十年』)

- ア. アメリカとの戦争
- イ. 中国との戦争
- ウ. ロシアとの戦争
- エ. 朝鮮との戦争



※ 地図の国境は現在のものです。

問6 下線部(e)について、ナチス・ドイツが占領した国に建てた最大の収容所の跡が残っている場所を地図のA～Eの中から選び、記号で答えなさい。

問7 下線部(f)について、このとき日本政府が考慮する必要があった、外交上の課題について説明しなさい。

受験番号		名前	
------	--	----	--

[ 1 ]

問 1					問 2					
問 3	(1)					(2)				
	(3)					(4)				
問 4		問 5		問 6		問 7	(1)		(2)	

[ 2 ]

問 1		問 2		問 3		問 4				問 5	
問 6											

[ 3 ]

問 1	(1)					(2)				(3)		
問 2					問 3	(1)				(2)		
問 3	(3)	河川	県名				問 4					
問 5	(1)					(2)		問 6	(1)		(2)	

[ 4 ]

問 1		問 2					問 3		問 4		
問 5					問 6		問 7		問 8		
問 9					問 10	(1)			(2)		

[ 5 ]

問 1	(1)					(2)					問 2		
問 3	(1)		(2)		問 4	(1)		(2)		問 5		問 6	
問 7													