

受験番号	
------	--

【1】 次の文を読んで、あとの問いに答えなさい。

世界の国々と日本はいろいろな形で結びついています。文化や経済で結びついたり、人と人との交流がみられたりします。日本とつながりが深い国であるアメリカ合衆国、サウジアラビア、韓国、中国、ブラジルを選び、調べてみました。

まず、面積について調べてみました。これらの国々の中で日本より面積が小さい国は（ア）か国あります。次に、日本との距離を地球儀を使って測りました。サンパウロから東京までまっすぐ糸を張って印をつけ、その糸を赤道にあててみました。赤道上では、印の間の角度がおおよそ経度168度分あったので、距離は約（イ）kmであることがわかります。

(a)これらの国々と日本との貿易を調べると各国の特徴がみられます。 また、(b)日本と人と人との交流でも結びつきがみられます。 (c)これらの国の人たちの文化を調べてみると、日本とは違う面や似た面もみられます。 世界の各地域の文化の違いを知り、受け入れていくことは今後の私たちの生活の中でさらに大切なことになっていくでしょう。

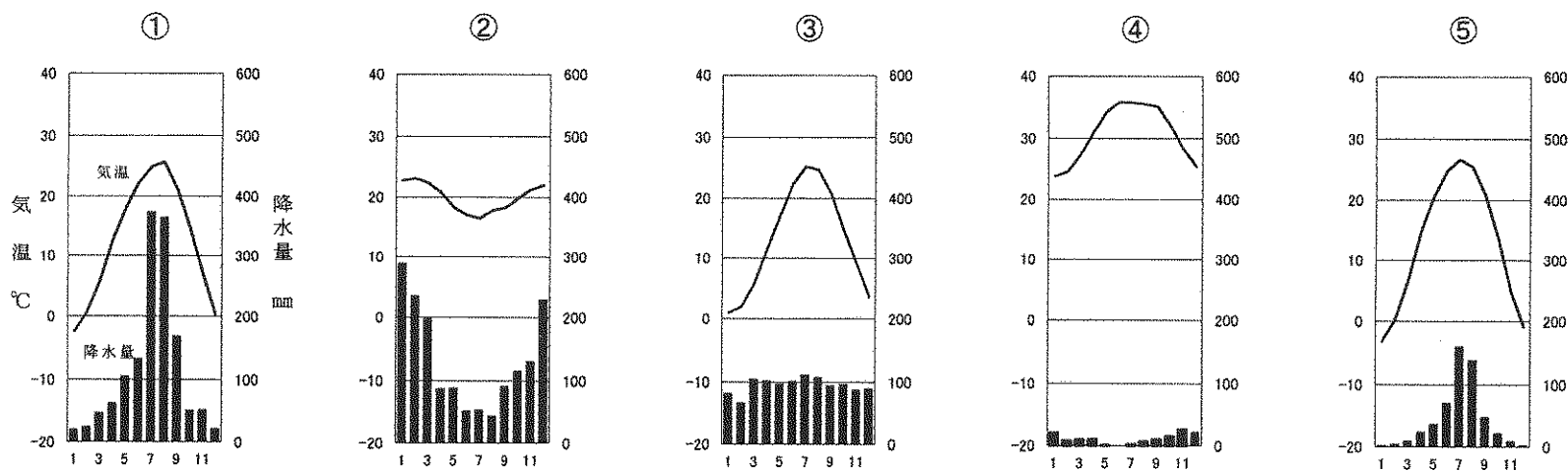
問1 文中の（ア）にあてはまる数字を答えなさい。

問2 文中の（イ）にあてはまる数字として正しいものを次の中から選び、記号で答えなさい。

- ① 4700                      ② 9300                      ③ 18700                      ④ 37300                      ⑤ 56000

問3 文中の5か国の中で、西半球に位置する国をすべて挙げなさい。

問4 下の図は、文中の5か国の都市の気温（℃）と降水量（mm）を示したものです。ブラジルの都市と考えられるものを選び、記号で答えなさい。 ※5か国の都市とは、ニューヨーク（アメリカ合衆国）、メッカ（サウジアラビア）、ソウル（韓国）、ペキン（中国）、サンパウロ（ブラジル）です。



問5 下線部(a)について、下の表は、日本が文中の5か国から輸入した品目について、上位の5品目を示したものです。表中のア～オと品目との組み合わせとして正しいものを①～⑧の中から選び、記号で答えなさい。

順位	1位	2位	3位	4位	5位
韓国	ア	イ	鉄鋼	エ	有機化合物
ブラジル	鉄鉱石	とうもろこし	ウ	コーヒー	アルミニウム
アメリカ合衆国	ア	航空機類	科学光学機器	医薬品	ウ
サウジアラビア	原油	液化石油ガス	イ	有機化合物	エ
中国	ア	オ	金属製品	家具	がん具

『日本国勢図会2014/15』より作成

	ア	イ	ウ	エ	オ
①	肉類	石油製品	機械類	プラスチック	衣類
②	肉類	機械類	石油製品	衣類	プラスチック
③	石油製品	機械類	肉類	プラスチック	衣類
④	石油製品	肉類	機械類	衣類	プラスチック
⑤	機械類	石油製品	肉類	プラスチック	衣類
⑥	機械類	肉類	石油製品	衣類	プラスチック
⑦	衣類	石油製品	機械類	プラスチック	肉類
⑧	衣類	機械類	石油製品	肉類	プラスチック

受験番号	
------	--

問6 下線部(b)について、日本に住んでいる外国の人の出身国(2012年)を調べると、右の表になりました。①～④には文中の5か国のいずれかが入ります。ブラジルにあてはまるものを選び、記号で答えなさい。なお、韓国については韓国・朝鮮の国籍になります。

国名	人
①	652555
②	530046
フィリピン	202974
③	190581
ベトナム	52364
ペルー	49248
④	48357

問7 下線部(c)について、下の文は、世界の宗教や教えについて説明したものです。このうち、サウジアラビアとブラジルの人々の生活や祭りに影響を与えている主要な宗教や教えについて説明したものをそれぞれ1つずつ選び、記号で答えなさい。

『2014データブック・オブ・ザ・ワールド』より作成

- ① この宗教は一つの神を信仰しており、信者が守るべきとされる5つの義務が有名です。豚肉を食べたりお酒を飲んだりすることは禁じられています。
- ② この宗教には、信者の修行により生き方の迷いをなくし、安らかな心の状態に達するという考え方があります。本来は、地域によっては豚肉を含め、肉や魚を食べたりお酒を飲んだりすることが禁じられていました。
- ③ この教えは、目上の人への言葉づかいや礼儀作法を大切にしています。かつては政治の考え方にも強く影響を与えました。豚肉を含め、肉や魚を食べたりお酒を飲んだりすることは許されています。
- ④ この宗教は一つの神を信仰しており、信者の守るべき義務があります。日曜日には礼拝に出かける人が大勢います。豚肉を食べたりお酒を飲んだりすることは許されています。
- ⑤ この宗教は、多くの神々を信仰しています。この宗教の教えで身分を分ける考え方も形づくられました。豚肉を食べたりお酒を飲んだりすることは許されていますが、牛肉を食べることは禁じられています。

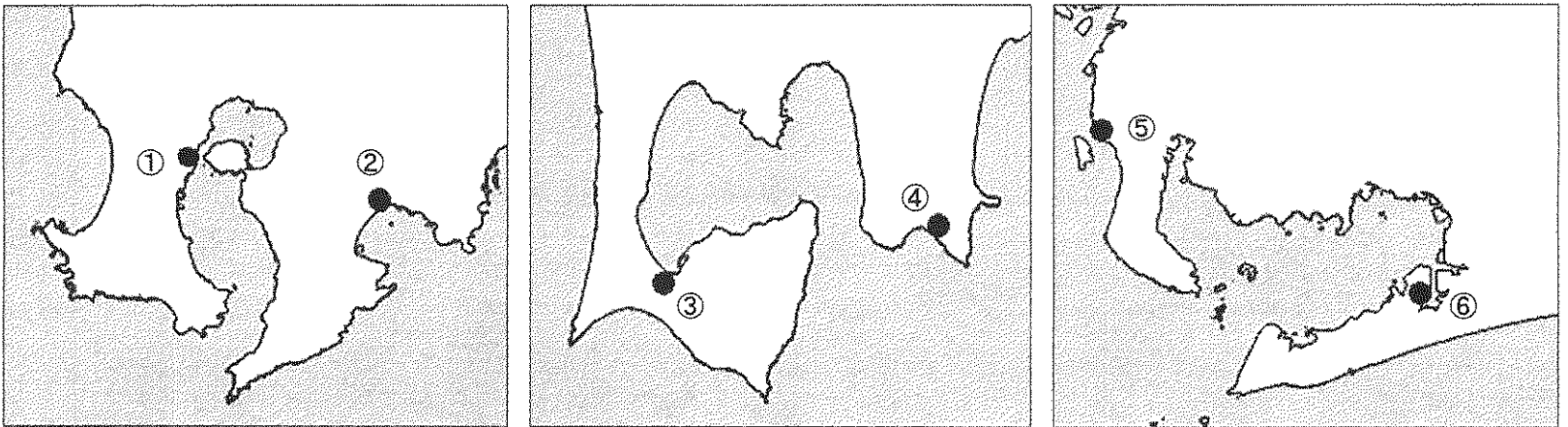
受験番号

[2] 次の文を読んで、あとの問いに答えなさい。

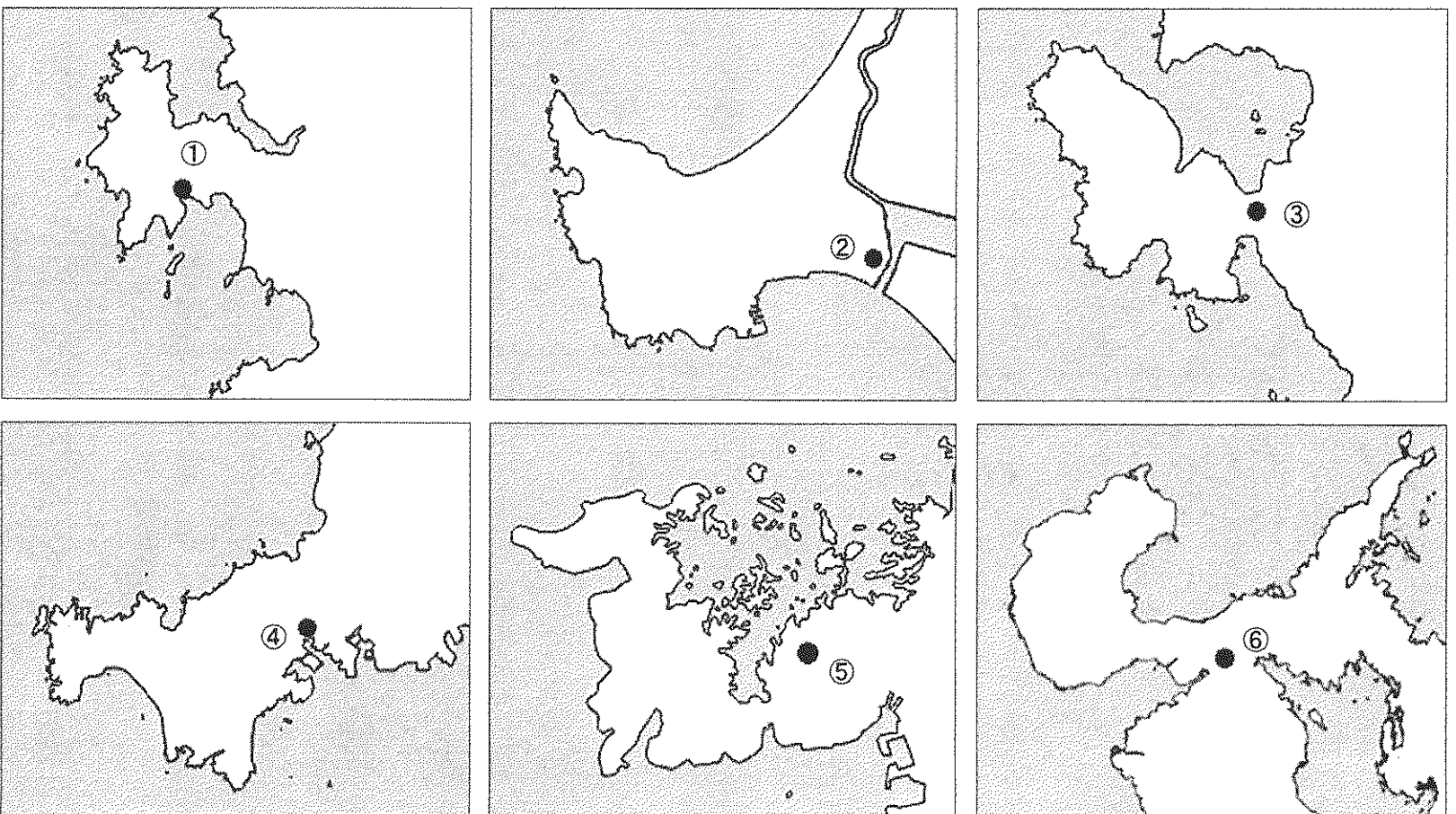
「津々浦々」とは、「あちらこちらの港や海岸、全国いたるところ」という意味です。「津」は「船着き場、船の泊まる場所、港」を指すことばで、「津波」とはまさに「津を襲う波」なのです。「浦」は壇ノ浦や浦賀がそうであるように、「海岸や入り江、湾」を表す言葉です。(a)「津」や「浦」の近くの、半島の付け根が細くくびれているような地域には「船越」という地名がよくみられます。その名は、反対側の海岸に行くのに船に乗って遠回りせず「船を運んで陸を越えた」ことに由来しています。地名に「津」がつく都市は、(b)三重県の津のほか、(c)富山県の魚津、千葉県の木更津、静岡県焼津、島根県の江津、大分県の中津、佐賀県の唐津など、海に面している例が多いのですが、内陸の場合もあります。福島県の会津は、盆地を流れる川が**出会う(集まる)**川舟の津が地名の由来といわれます。滋賀県の草津は昔から人や物資が行き来する草深い陸の津で、東海道と中山道が合流する宿場町でした。また、滋賀県北部の塩津は、かつて日本海の塩を集めて運び出す港でした。(d)到着した物資をさらに京都などへ運ぶために荷揚げした県南部の港は、今では県最大の都市に発展しています。

問1 下線部(a)に関連して、愛知県の渥美半島にある浦という名の町(愛知県田原市浦)と、秋田県の男鹿半島にある船越という名の町(秋田県男鹿市船越)について、(1)・(2)に答えなさい。

(1) 愛知県田原市浦を下の地図の①～⑥の中から選び、記号で答えなさい。 ※地図ごとの縮尺や方位は一定ではありません。



(2) 秋田県男鹿市船越を下の地図の①～⑥の中から選び、記号で答えなさい。 ※地図ごとの縮尺や方位は一定ではありません。



受験番号	
------	--

問2 下線部(b)に関連して、(1)～(4)に答えなさい。

(1) 次の文の (ア)・(イ) にあてはまる数字を答えなさい。

三重県は、京都府など (ア) 府県と隣りあっています。そのうち、(イ) 県は海に面していない内陸の県です。

(2) 世界で初めて真珠の養殖が成功したのは、三重県の志摩半島の南岸でした。[図1]のように、三重県は今でも真珠の収穫量が全国第3位で、志摩半島南岸と同じような地形の海岸があるウ・エとの3県で日本の真珠の9割以上を生産しています。ウ・エの県の組み合わせとして正しいものを次の中から選び、記号で答えなさい。

- ① ウー長崎県 エー茨城県                      ② ウー茨城県 エー北海道
- ③ ウー北海道 エー岩手県                      ④ ウー岩手県 エー青森県
- ⑤ ウー青森県 エー愛媛県                      ⑥ ウー愛媛県 エー長崎県

(3) 真珠のほかにも、三重県には[図2]のように、農業・漁業の分野で全国第3位のものがあります。オの内容、カの県または道の組み合わせとして正しいものを次の中から選び、記号で答えなさい。

- ① オー肉用牛の飼育頭数                      カー北海道
- ② オーブロイラーの飼育羽数                      カー宮崎県
- ③ オー茶の収穫量                                      カー静岡県
- ④ オーさとうきびの収穫量                      カー沖縄県
- ⑤ オーかき(貝)の収穫量                      カー広島県
- ⑥ オーかのにの収穫量                              カー島根県

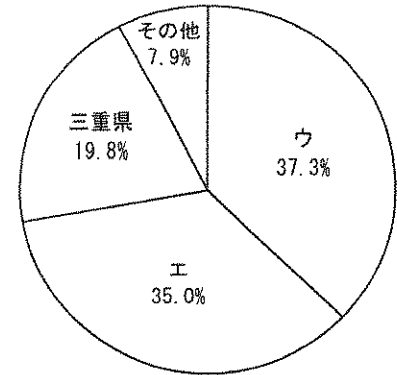
(4) [図3]・[図4]を見て、キの市名を答えなさい。

問3 下線部(c)のうち、日本有数の水揚げをほこる漁港がある市を次の中から選び、記号で答えなさい。

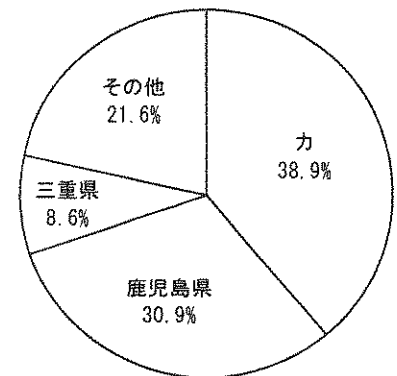
- ① 富山県の魚津                      ② 千葉県の木更津                      ③ 島根県の江津
- ④ 静岡県の焼津                      ⑤ 大分県の中津                      ⑥ 佐賀県の唐津

問4 下線部(d)の市名を答えなさい。


[図1] 真珠の収穫量の都道府県別割合 (2012年)



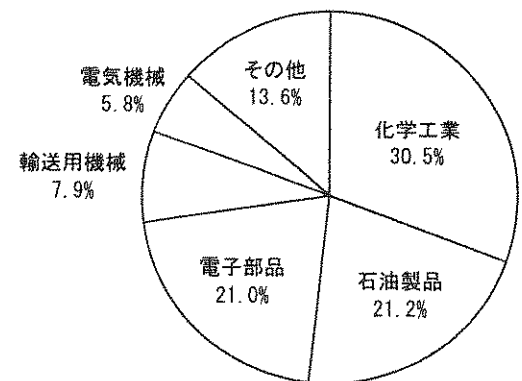
[図2] オの都道府県別割合 (2013年)



[図3] 三重県の工業製品出荷額の市町別割合 (2010年)



[図4] 図3のキの工業製品出荷額の分野別割合 (2010年)



[図1] 農林水産省「漁業・養殖業生産統計年報」より作成。

[図2] 農林水産省「作物統計」より作成。

[図3]・[図4] 三重県政策部統計室「平成21年工業統計調査結果」より作成。



受験番号	
------	--

問7 下線部(e)が生きた時代(1157~1225年)のできごととして誤っているものを次の中から1つ選び、記号で答えなさい。

- ① 承久の乱が起こりました。
- ② 平治の乱が起こりました。
- ③ 文永の役が起こりました。
- ④ 一の谷の戦いが起こりました。

問8 下線部(f)の時代の文化の内容として誤っているものを次の中から1つ選び、記号で答えなさい。

- ① 書院造が広まり、ふすまには金箔を用いた絵が多く描かれました。
- ② 武士や貴族は茶の湯を楽しむようになりました。
- ③ 庭には石や砂を用いて、滝や水面を表現する石庭がつけられました。
- ④ 「浦島太郎」や「一寸法師」など、おとぎ草子と呼ばれる絵入りの物語がつけられました。

問9 次の文は、江戸時代の女性の道徳を示したものです。この文を参考にして、         A         にあてはまる内容として正しいものを次の中から1つ選び、記号で答えなさい。

婦人には三従の道というのがある。だいたい婦人は穩やかで、人に従うのを本道とする。……父の家で成長しているときは父の言うままに従い、嫁いで夫の家にゆけば夫に従い、その夫が亡くなれば子に従うのを三従というのである。

(「和俗童子訓」)

- ① 女性の地位は、結婚するまでは低いものでしたが、結婚することによって高くなりました
- ② 女性の地位は、結婚してからも低いものでしたが、男の子を産むと高くなりました
- ③ 女性の地位は、結婚するまでは男性と同じでしたが、結婚で他の家に嫁ぐと低くなりました
- ④ 女性の地位は、生まれてから死ぬまでずっと低いものでした

問10 (エ)にあてはまる言葉を次の中から選び、記号で答えなさい。

- ① 仏教
- ② 儒学
- ③ 国学
- ④ 蘭学

[4] 次の2人の女性に関する年表について、あとの問いに答えなさい。

Aの年齢	Aの経歴		Bの年齢	Bの経歴
0歳	東京で誕生	↑ ① ↓ ↑ ② ↓ ↑ ③ ↓		
7歳	岩倉使節団に同行し渡米			
21歳	(a)華族女学校の教員に就任			
22歳			0歳	(b)東京で誕生
36歳	(c)女子英学塾を設立		14歳	
47歳			25歳	雑誌『青鞜』を刊行
56歳			34歳	(d)新婦人協会を設立
64歳	64歳で亡くなる	43歳		
		65歳	(e)再軍備反対婦人委員会を設立	
		85歳	85歳で亡くなる	

問1 年表中のAは、明治政府が派遣した最初の女子留学生の一人で、帰国後、日本の女子教育の向上をめざした教育者です。

- (1) この人物の名前を答えなさい。
- (2) この人物と同じように、パキスタンで女子教育の向上をめざして活動してきた女性が、昨年(2014年)ノーベル平和賞を受賞しました。この人物を次の中から選び、記号で答えなさい。

- ① マララ・ユスフザイ
- ② マザー・テレサ
- ③ ワンガリ・マータイ
- ④ アウン・サン・スー・チー

受験番号	
------	--

問2 年表中のBは、女性の自由と権利の拡大を目指し、雑誌『青鞥』に「女性は太陽であった。」という言葉で有名な女性解放宣言を書いた運動家です。この人物の名前を答えなさい。

問3 下線部(a)と同じ年に初めて内閣制度が制定されました。最初の内閣と現在(2015年1月)の内閣の共通点を述べた文として正しいものを次の中から1つ選び、記号で答えなさい。

- ① いずれの内閣でも、外交を担当した省庁は外務省です。
- ② いずれの内閣も、自由民主党の単独内閣です。
- ③ いずれの内閣総理大臣も、現在の鹿児島県出身です。
- ④ いずれの内閣総理大臣も、国民による直接選挙により選ばれました。

問4 下線部(b)と同じ年に起こったできごとについて述べた次の文の( )にあてはまる言葉を答えなさい。

日本政府は、東京に( )を建設し、<sup>ぶとろう</sup>舞踏会を開くなどして日本の<sup>せいおう</sup>西歐化を示して、条約の改正に取り組んできましたが、この年、ノルマントン号事件が起こると、治外法権の<sup>てつぱい</sup>撤廃を求める国民の声が一層高まりました。

問5 下線部(c)と同じ頃<sup>ころ</sup>の義務教育の就学率について述べた文X・Yの正誤の組み合わせとして正しいものを次の中から選び、記号で答えなさい。

X. 学校制度制定からこの頃まで、授業料などの負担が重く、男女とも児童の就学率は減少し続けました。

Y. この頃、農村の男子は農作業が<sup>いそが</sup>忙しかったため、男子児童の就学率は女子児童の就学率より下回っていました。

- ① X-正 Y-正
- ② X-正 Y-誤
- ③ X-誤 Y-正
- ④ X-誤 Y-誤

問6 下線部(d)は、女性の参政権獲得をめざして活動しました。女性の参政権について述べた文X・Yの正誤の組み合わせとして正しいものを次の中から選び、記号で答えなさい。

X. 1925年に衆議院議員選挙法が改正され、25歳以上の男女に選挙権が与えられ、有権者の割合が総人口の過半数を超えました。

Y. 1945年に衆議院議員選挙法が改正され、20歳以上の男女に選挙権が与えられ、翌年に<sup>じつし</sup>実施された選挙では女性議員も誕生しました。

- ① X-正 Y-正
- ② X-正 Y-誤
- ③ X-誤 Y-正
- ④ X-誤 Y-誤

問7 下線部(e)は、ある条約の調印反対を唱えて結成されましたが、同年、この条約は調印されました。この条約について述べた文として誤っているものを次の中から1つ選び、記号で答えなさい。

① 第二次世界大戦後、この条約が調印される年まで、日本はアメリカを中心とする連合軍に国土を<sup>せんりょう</sup>占領されてきました。

② この条約の調印により、沖縄県が日本に<sup>かへり</sup>返還されましたが、アメリカ軍は日本の基地にとどまることになりました。

③ この条約は、日本とアメリカなど48か国が調印したサンフランシスコ平和条約と、同じ日に調印されました。

④ この条約が調印された頃、アメリカを中心とする国々と、ソ連を中心とする国々が二つに分かれて対立していました。

問8 次の文(1)・(2)について、年表中の①の時期のできごとであれば①を、②の時期のできごとであれば②を、③の時期のできごとであれば③を、③よりあとのできごとであれば④を記入しなさい。

(1) 沖縄県でひめゆり学徒隊などの女子学徒が看護活動を行いました。

(2) 与謝野晶子が、戦地に向かう弟の身を案じる<sup>し</sup>詩をつくりました。

受験番号	
------	--

[5] 次の文を読んで、あとの問いに答えなさい。

2014年、政務活動費（議員として活動するための費用）の使い方について釈明した、ある兵庫県議会議員（当時）の会見が大きな話題となりました。いわゆる「政治とカネ」の問題は、(a)地方議会の議員だけでなく、(b)国会で活動する(c)議員（国会議員）についても古くからいわれており、その透明化をはかるために(d)法律を制定するなどさまざまな策が講じられてきましたが、十分とはいえない状況が続いています。(e)議員の歳費（給料）を含めた、活動に関する費用の多くは、私たちが支払う税金でまかなわれているのですから、(f)福祉、そして(g)環境といった、私たちが必要とするものに対して正しくお金が使われているかについて、十分注意して見ておかなければなりません。また、選挙でどのような人が立候補していて、どのような人が選ばれるかについて注目するのはもちろんのことですが、(h)選挙のしくみそのものについても知識を深めておく必要があります。

問1 下線部(a)に関連して、神戸市などの地方公共団体の議会が法律の範囲内において制定する、地方公共団体の中だけで適用されるルールのことを何といいますか。漢字二字で答えなさい。

問2 下線部(b)に関連して、国会の働きに関する文として正しいものを次の中から1つ選び、記号で答えなさい。

- ① 外国との約束である条約を結ぶ。
- ② 裁判官を裁く裁判所をつくる。
- ③ 最高裁判所の長官を指名する。
- ④ 内閣総理大臣を任命する。

問3 下線部(c)の国会議員について述べた次の文の（ア）・（イ）にあてはまる数字の組み合わせとして正しいものを次の中から選び、記号で答えなさい。

衆議院議員の定数は2012年の選挙まで（ア）人でしたが、法律の改正により、2014年の衆議院議員選挙から定数が（イ）人に変更されました。

- ① アー480 イー485
- ② アー485 イー480
- ③ アー242 イー252
- ④ アー252 イー242
- ⑤ アー480 イー475
- ⑥ アー475 イー480
- ⑦ アー262 イー252
- ⑧ アー252 イー262

問4 下線部(d)に関連して、国民の祝日も国会でつくった法律によって定められています。


2015年は、春だけでなく秋にも大型連休があることが決定しています。この秋の大型連休の祝日について述べた文として正しいものを次の中からそれぞれ1つ選び、記号で答えなさい。

月日	曜日	内 容
9月20日	日	
9月21日	月	(ウ)
9月22日	火	国民の休日
9月23日	水	(エ)

- ① 建国をしのび、国を愛する心を養う
- ② 自由と平和を愛し、文化をすすめる
- ③ 祖先を敬い、亡くなった人々をしのぶ
- ④ 天皇の誕生日を祝う
- ⑤ スポーツに親しみ、健康な心身を培う
- ⑥ 老人を敬い、長寿を祝う

受験番号	
------	--

問5 下線部(e)に関連して、右のグラフは平成26年度の兵庫県の一般会計当初予算を示したものです。グラフから読み取ることができる内容として正しいものを、次の中から1つ選び、記号で答えなさい。



兵庫県租税教育推進連絡協議会『平成26年度版 わたしたちの生活と税 兵庫県版』より作成

- ① 新たに発行した県の借金（県債）と、今年の返済額を示す公債費を比べると、金額が多いのは県債です。
- ② 県民から集めた税金と、国からの補助された金額を比べると、金額が多いのは国からの補助です。
- ③ お年寄りなどのために使われる民生費と、中小企業対策などに使われる商工費を合わせると、歳出の30%を超えています。
- ④ 教育に使われる教育費と、道路などの整備に使われる土木費を合わせると、歳出の40%を超えています。

問6 下線部(f)に関連して、福祉について定めた日本国憲法の条文の（オ）にあてはまる言葉を答えなさい。

第25条第1項 すべて国民は、健康で文化的な（オ）の生活を営む権利を有する。

問7 下線部(g)に関連して、環境問題について話しあうため、1972年に国際連合において国連人間環境会議が開かれました。この会議のスローガン（合い言葉）として正しいものを、次の中から1つ選び、記号で答えなさい。

- ① 持続可能な開発
- ② かけがえのない地球
- ③ われわれがのぞむ未来
- ④ 宇宙船地球号

問8 下線部(h)に関連して、選挙で私たちが投票をするときは、立候補している人の名前を正しく書く必要がありますが、実際には立候補者の一人を特定できる書き方であれば、その投票は有効票として取り扱われます。もし、一人を特定しきれない投票があった場合、これらの投票分は、おそらくこの立候補者を指していると考えられる複数の立候補者に対して、それぞれが獲得した票に応じて配分されます。このように配分される票のことを按分票といいます。

（例）を見てください。「海元星子」「海本秀夫」「青谷瞳」「人見祐二」の4人が立候補している選挙で、当選するのは1人です。この場合、「うみもと」と書いただけの700票の投票は、どちらに投票したのかわからないため、「海元星子」と「海本秀夫」さんが獲得した票数（按分の基礎となる得票数、表では基礎票と記載）に従って分配されます。つまり、海元さんと海本さんは4000票、海本さんは3000票を獲得しているので、700票をそれぞれ4対3の割合で分け合うのです。同様に「ひとみ」と書かれただけの600票も、「青谷瞳」と「人見祐二」さんのどちらに投票したかわからないため、基礎票に従って分配されます。その結果、最終的な得票数は右のようになります。

（例）

投票の内容	基礎票	得票数
海元 星子	4000	4400
海本 秀夫	3000	3300
青谷 瞳	2000	2400
人見 祐二	1000	1200
うみもと	700	—
ひとみ	600	—

当選者が3人の〇〇市の市議会議員の選挙に、「上田良和」「村山昭子」「植田真由美」「真弓正雄」「大平陽子」の5人が立候補しています。右の投票の内容を見て、按分票も計算した結果、最終的に3位で当選する人の名前として正しいものを、次の中から選び、記号で答えなさい。

- ① 上田 良和
- ② 村山 昭子
- ③ 植田 真由美
- ④ 真弓 正雄
- ⑤ 大平 陽子

〇〇市議会議員選挙 定数 3

投票の内容	基礎票	得票数
上田 良和	15000	
村山 昭子	14000	
植田真由美	13000	
真弓 正雄	12000	
大平 陽子	11000	
うえだ	5600	—
まゆみ	5000	—

受験番号		名前	
------	--	----	--

[ 1 ]

問 1		問 2		問 3						
問 4		問 5		問 6		問 7	サウジアラビア		ブラジル	

[ 2 ]

問 1	(1)		(2)		問 2	(1)	(7)	(4)	(2)		(3)	
問 2	(4)					問 3		問 4				

[ 3 ]

問 1					問 2		問 3				問 4	
問 5		問 6		問 7		問 8		問 9		問 10		

[ 4 ]

問 1	(1)				(2)		問 2				
問 3		問 4				問 5		問 6		問 7	
問 8	(1)		(2)								

[ 5 ]

問 1				問 2		問 3		問 4	(7)		(1)
問 5		問 6				問 7		問 8			