

第1回入試 社会科 訂正

訂正① 問題用紙

6 ページ 大問 2 問 3 問題文

文章中の下線部①に関する

(1)・(2)の問いに答えなさい。

(3)

訂正② 解答用紙

大問 2 問 7 ~~(8)~~ 問 8

第1回


中 令和6年度

社 会

注 意

- 1. 指示があるまで、この問題用紙を開いてはいけません。
- 2. 答えはすべて解答用紙に記入しなさい。
- 3. 答えはすべてわかりやすくはっきりと書きなさい。
氏名にはふりがなを忘れないこと。
- 4. 私語、用具類の貸し借りは禁止します。
- 5. 試験終了後も指示があるまで席をはなれてはいけません。
- 6. 質問があるときは、静かに手をあげなさい。
- 7. 解答用紙のみ提出しなさい。問題用紙は持ち帰りなさい。
問題用紙の余白は下書きに利用してかまいません。

受験番号					ふりがな	
					氏名	



1 次の文章A～Dを読み、あとの設問に答えなさい。

A．人類は長い歴史の中で、戦争を繰り返してきました。2023年に新たな墓が発掘された弥生時代の（ i ）遺跡（佐賀県）でも、首のない遺骨が発見されています。11世紀後半の後三年合戦では、（ あ ）の指示によって、敵方の女性や子どもまでも犠牲になりました。その後、奥州の支配者となった藤原清衡は、鎮魂のために①寺院を整備しました。

B．②南北朝の内乱は約60年間にわたって内戦が行われました。足利尊氏は北朝から征夷大將軍に任命されましたが、南朝は依然として存在していました。その後、（ い ）の時代によく、南北朝が合一しました。この時代に③明と正式な国交を結んで、朝貢貿易を行いました。

C．豊臣秀吉は織田信長を滅ぼした（ ii ）を倒した後、勢力を拡大し1590年には④後北条氏を屈服させて、天下を統一しました。その後、明を征服するため、（ iii ）を侵略しました。その後、大坂の陣や⑤島原・天草一揆を経て、徳川綱吉の時代によく社会全体が平和になっていきました。

D．近代の日本は欧米に対抗するため、富国強兵を実施し大陸へ侵略していきました。⑥いくつもの戦争を経験し、日本は欧米と肩を並べる列強となり、（ iii ）などを植民地支配していました。

⑦元号が昭和になると、経済不安や政党政治への失望から、軍部が政治に対する力をもち始め、1931年に⑧満州で関東軍が軍事行動を起こしました。そこから約15年間、⑨日本が1945年8月にポツダム宣言を受け入れて無条件降伏するまで、戦争が断続的に続きました。

日本の支配が終了した（ iii ）半島は、東アジアにおける冷戦対立の最前線となり、（ iii ）戦争が行われました。2023年は停戦70周年にあたりますが、未だ正式な戦争終結にいたっていません。

戦争は多くの犠牲を伴うものであり、決して賞賛されるものではありません。⑩ユネスコ憲章の前文にある「人の心の中に平和のとりでを築かなければならない」という言葉を、我々は今こそ思い返す必要があるでしょう。

問1．文中の空欄（ i ）～（ iii ）に入る語句を（ i ）は4字、（ ii ）は漢字4字、（ iii ）は漢字2字で答えなさい。

問2. 空欄(あ)、(い)に入る語句の組み合わせとして正しいものを、次のア～エの中から1つ選び、記号で答えなさい。

- ア (あ) 源頼朝 (い) 足利義満
- イ (あ) 源頼朝 (い) 足利義政
- ウ (あ) 源義家 (い) 足利義満
- エ (あ) 源義家 (い) 足利義政

問3. 下線部①を指す語句として最も適切なものを次のア～エの中から1つ選び、記号で答えなさい。

- ア 平等院 イ 延暦寺 ウ 中尊寺 エ 輪王寺

問4. 下線部②の時代を著した書物として正しいものを、次のア～エの中から1つ選び、記号で答えなさい。

- ア 『太平記』 イ 『平家物語』 ウ 『徒然草』 エ 『古事記伝』

問5. 下線部③について、中国と日本(倭国)との関係性について、間違っているものを次のア～エの中から1つ選び、記号で答えなさい。

- ア 卑弥呼は魏に朝貢し、魏の皇帝から親魏倭王という称号を授けられた。
- イ 隋の煬帝は倭国からの国書を無礼としたが、返礼の使者を遣わした。
- ウ 菅原道真の進言などもあり、遣唐使は派遣されなくなった。
- エ 日宋貿易で利益を得た源頼朝は、厳島神社の社殿を造営した。

問6. 下線部④について後北条氏の本拠地として正しいものを、次のア～オの中から1つ選び、記号で答えなさい。

- ア 春日山 イ 駿府 ウ 安土 エ 山口 オ 小田原

問 7. 下線部⑤に関連して、キリスト教に関する説明として正しいものを、次のア～エの中から1つ選び、記号で答えなさい。

- ア 大友義鎮（宗麟）はキリスト教を保護し、天正遣欧使節を派遣した大名の一人である。
- イ 徳川家康は1587年にバテレン追放令を出し、キリスト教を規制した。
- ウ ポルトガル船は島原・天草一揆より前に、幕府によって来航が禁止されていた。
- エ 1868年に出された五榜の掲示によって、キリスト教の布教が公認された。

問 8. 下線部⑥について、1895年の三国干渉によって清に返還した地名を漢字4字で答えなさい。

問 9. 下線部⑦の説明として間違っているものを、次のア～エの中から1つ選び、記号で答えなさい。

- ア 日本最初の元号は大化とされるが、元号の使用が定着したのは大宝以降とされている。
- イ 南北朝時代など元号が同時期に複数存在していた時代もある。
- ウ 明治時代に天皇一代につき、1つの元号と定められた。
- エ 現在の「令和」という元号は、『日本書紀』が出典となっている。

問 10. 下線部⑧について、満州事変の直接の原因となった事件を次のア～エの中から1つ選び、記号で答えなさい。

- ア ノモンハン事件 イ 柳条湖事件
- ウ 盧溝橋事件 エ 二・二六事件

問 11. 下線部⑨に関連して、ポツダム宣言を受け入れることを決めた時の内閣総理大臣を、次のア～エの中から1つ選び、記号で答えなさい。

ア 近衛文麿 イ 鈴木貫太郎 ウ 尾崎行雄 エ 大隈重信

問 12. 下線部⑩は世界遺産を登録する機関であるが、次のア～エの中で世界遺産に登録されたのが最も新しいものを1つ選び、記号で答えなさい。

ア 北海道・北東北の縄文遺跡
イ 富士山―信仰の対象と芸術の源泉―
ウ 小笠原諸島
エ 長崎と天草地方の潜伏キリシタン関連資産

2 次の文章は、2021 年 3 月 16 日の読売新聞オンラインの記事を抜粋し一部改変したものです。この文章を読み、設問に答えなさい。

日本には、国際機関が認定する「世界かんがい施設遺産」が 47 もあります。全遺産の 4 割弱を占め、各国で最多です。今年も新たな申請に向け、選定作業が進んでいます。雨が多く、水が豊富に見えるのに、どうしてだろう。

灌漑^{かんがい}は、人工的に水を引き、農作物が育つ環境を整えることです。河川^{こうせん}や湖沼^{こしやう}からの取水^{ぜき}堰^{えき}や用水路、①ため池などが、そのための施設にあたります。農業用の井戸も該当します。福岡県朝倉市の「山田堰・堀川用水・水車群」は、一連の施設が遺産に登録されています。一帯は江戸時代の初め、干ばつに見舞われ、多くの農民が飢えに苦しみました。まず、②筑後川から水を引き込んだ約 8 キロの用水路が整備され、高台へと水を送り込む三連水車、用水路に水が流れ込みやすいよう川の流れを変える堰の順に作られました。三つがそろうまでに 130 年近い歳月^{さいげつ}をかけた大事業でした。

日本でかんがい施設が広がったのは、大陸から渡来した③稲作と関係しています。

日本最古の稲作集落の一つとされる縄文晩期～弥生前期の「板付遺跡」（福岡県）からは、用水路の跡が見つかっています。飛鳥時代に作られた国内最古の人工ため池「狭山池」（大阪府 約 36 ヘクタール）は、奈良時代の僧侶・行基^{たずさ}も改修に携わったとされています。

戦国時代に入り、城を頂く石垣を築く技術が発展しました。それまで木造も多かった堰や水路は、堅固^{けんこ}な石造りへと代わっていきました。

④「見沼代用水」^{みぬまだい}（埼玉県）は、財政立て直しのためコメの収量を増やすことを考え、新田開発を推し進めた江戸幕府の 8 代将軍・（ i ）の命で作られたものです。利根川からの水が延長約 80 キロの水路を巡り、埼玉県東部を潤します。

明治政府の初代内務卿・（ ii ）が号令をかけたのが「安積疏水」^{あさかそすい}（福島県）です。延長は約 130 キロ。（ あ ）の水を近辺の原野へと引き、農地を生み出すだけでなく、封建制度の廃止で職を失った士族に仕事を与える「公共事業」としての意味合いもありました。

かんがい施設の整備は「治世」とも結びついていたのです。

日本の地形的な特徴も、かんがい施設を必要としました。農林水産省の担当者は「日本の国土は山がちで、河川の流れも急だ。⑤雨は梅雨や台風シーズンに集中し、水を蓄える施設が必要だった」と説明しています。国土交通省が発表した 2020 年 6 月時点のデータでは、日本の年平均降水量は世界平均の約 1.4 倍ですが、⑥実際に利用できる 1 人当たりの水の量は半分以下となります。

出所：雨が多く水が豊富に見えるのに…かんがい大国ニッポン 読売新聞

2021 - 03 - 16 読売新聞オンライン

問1. 文章中の空欄（ i ）・（ ii ）にあてはまる人物の氏名を漢字で答えなさい。

問2. 文章中の空欄（ あ ）にあてはまる湖としてもっとも適当なものを、
次のア～エの中から1つ選び、記号で答えなさい。

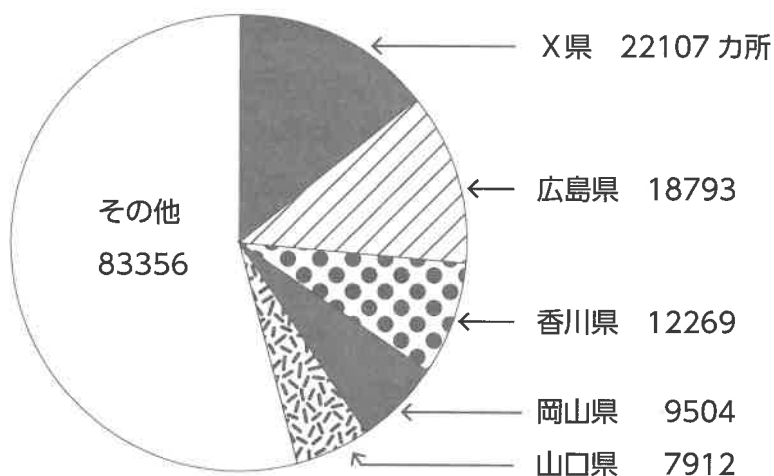
ア 十和田湖 イ 浜名湖 ウ 諏訪湖 エ 猪苗代湖

問3. 文章中の下線部①に関する（1）・（2）の問いに答えなさい。

（1）下の図は、都道府県別で、ため池の数を示したものです。図中のXにあてはまる
県名を答えなさい。

全国のため池数

※ 2021 年 12 月時点、農林水産省調べ



問4. 文章中の下線部②に関して、筑後川の運搬・堆積作用によって筑紫平野が形成されました。筑紫平野のうち、筑後川の西側（佐賀県側）を佐賀平野と呼びます。佐賀平野は、水不足に悩まされながらも、全国屈指の稲作地帯となっています。その理由として、佐賀平野の稲作地帯には、下の写真1のような水路が縦横に走っており、少ない水を効率的に利用する工夫がみられます。

このような水路を何というか、カタカナで答えなさい。



写真1

出所：農林水産省ホームページ

問5. 文章中の下線部③に関して、現在の日本の米の生産や消費に関する記述として
適当ではないものを、次のア～エの中から1つ選び、記号で答えなさい。

- ア 日本の米の自給率は、ほぼ100%だが、外国から米の輸入も行われている。
- イ 日本の米の輸出量は、減少している。
- ウ 日本の米の生産量を抑える減反政策は、廃止されている。
- エ 日本の農作物の作付け延べ面積の最大は、稲（水稻）である。

問6. 文章中の下線部④に関する地形図をみて、(1)・(2)に答えなさい。



出所：地理院地図より作成

(1) 埼玉県さいたま市には、「見沼田んぼ」という緑地空間が広がっており、地形図は見沼田んぼ周辺を示したものです。地形図を見ると、見沼田んぼの周辺では、農地が虫食い状態に宅地開発されている様子が読み取れます。このように、市街地が無秩序に郊外へ広がっていく現象を表す用語としてもっとも適当なものを、次のア～エの中から1つ選び、記号で答えなさい。

ア ストロー現象

イ ヒートアイランド現象

ウ ドーナツ化現象

エ スプロール現象

(2) 見沼田んぼでは、本来その地域にすむさまざまな野生生物が生息することができる空間の整備がすすめられています。このような空間を何というか、カタカナで答えなさい。

問7. 文章中の下線部⑤に関する以下の設問に答えなさい。

- (1) 2023年7月の世界の平均気温は、観測史上で最高を記録し、日本でも災害級の暑さが続きました。それをうけて、国連のグテーレス事務総長は、「地球温暖化の時代は終わり、地球（ Y ）の時代が来た」との言葉を発表し、最大限の注意を呼びかけました。空欄（ Y ）にあてはまる言葉をひらがなで答えなさい。
- (2) 2023年も各地で深刻な水害が発生しました。7月には、熊本県と九州地方の一部で次々と発生する発達した雨雲（積乱雲）が列をなし、数時間にわたってほぼ同じ場所を通過または停滞することにより、非常に激しい雨が降り続けました。このような雨域を何と
いうか、漢字5字で答えなさい。

問8. 文章中の下線部⑥に関して、水資源として理論上、人間が最大利用可能な量を水資源賦存量ふぞんといいます。日本の場合の水資源賦存量は、降水量から蒸発散によって失われる水量を引いたものに面積をかけた値となります。日本全体の平均的な年降水量は、東京の年降水量とほぼ同じであることがわかっているとします。日本全体の平均的な年蒸発散量を500mmとしたとき、その水資源賦存量（単位：億m³/年）としてもっとも適当なものを、次のア～エの中から1つ選び、記号で答えなさい。

ア 500 イ 1000 ウ 2000 エ 4000

3 次の設問に答えなさい。

問 1. 憲法が保障する人権について説明したア～エの文の中から、間違っているものを 1 つ選び、記号で答えなさい。

- ア 憲法が保障している思想・良心の自由は、人間の心の中まで権力によって支配されることがないことを保障するものだと言われています。
- イ 表現の自由は、無制限に保障されるわけではありません。他の人の権利を侵害するような場合には、公共の福祉の考え方から制限されることがあります。
- ウ 憲法は、人種や信条（考えていること）、性別、社会的な身分などの具体的な例をあげて差別を行ってはならないと規定しています。この規定は法の下での平等と呼ばれています。
- エ 選挙権や被選挙権の平等について、男女平等の観点から国会議員の一定割合を女性とする仕組みの導入が提案されています。この制度はアダムズ方式と呼ばれるものです。

問 2. 国会について説明したア～エの文の中から、間違っているものを 1 つ選び、記号で答えなさい。

- ア 国会は毎年 1 月に召集されますが、これは常会（通常国会）と呼ばれます。主な議案は予算で、会期は 150 日間と決まっていますが、必要に応じて延長することもできます。
- イ 法律の制定にあたり、衆議院が可決した法律案について参議院が否決した時は、衆議院が出席議員の 3 分の 2 以上の賛成で再度可決すれば、法律が成立します。
- ウ 衆議院と参議院はそれぞれ、国政に関して調査を行い、証人の出頭や書類の提出などを要求できます。これを国政調査権と呼び、この権限は、裁判所の判決などについても及びます。
- エ 予算案は衆議院で先に審議することが憲法で定められていますが、他の議案についてはどちらの院で先に審議するかは、憲法には定められていません。

問3. 内閣について説明したア～エの文の中から、間違っているものを1つ選び、記号で答えなさい。

- ア 内閣は、行政権を持つことが憲法に定められています。内閣を構成するのは首長である内閣総理大臣とその他の国務大臣です。
- イ 内閣総理大臣は、国会によって指名され天皇によって任命されます。内閣総理大臣は、国務大臣を任命することができます。
- ウ 三権分立の一つの形として、内閣は最高裁判所の長たる裁判官を指名する権限を持ちます。なお、任命を行うのは天皇です。
- エ 内閣は衆議院を解散する権限を持ちますが、その根拠となっているのは憲法の第7条の規定と第69条の規定の二種類です。2023年の末の時点で、第69条の規定による解散の方が第7条による解散よりも多くなっています。

問4. 裁判所（司法）について説明したア～エの文の中から、間違っているものを1つ選び、記号で答えなさい。

- ア 司法権は、最高裁判所と法律によって設置された下級裁判所に属していると憲法で規定しています。これは、司法権の独立を保障する規定とされています。
- イ 慎重な裁判を行い国民の人権を守ることなどを目的として、最大3回まで裁判を受けることができます。この仕組みを三審制と呼びます。
- ウ 裁判官は、公正な裁判を行うことができるよう、憲法で身分が保障されています。しかし、社会的に問題のある行為を行った場合には、弾劾裁判によって罷免されることもあります。
- エ 刑法に基づき、有罪か無罪か、有罪ならばどれ位の刑罰が適切かを判断するのが刑事裁判です。刑事裁判では地方裁判所と高等裁判所で裁判員制度が導入されています。


問5. 地方自治について説明したア～エの文の中から、間違っているものを1つ選び、記号で答えなさい。

- ア 憲法が規定する「地方自治の本旨」とは、住民が自らの意志で自治を行う団体自治と地方公共団体が独立して活動する住民自治の2つの意味であるとされています。
- イ 人々が自分の住む地域のことに関わることで、民主主義を身近な存在として感じ、学ぶことができることから、「地方自治は民主主義の学校」と言われます。
- ウ 地方公共団体では、住民が直接請求権を持ちます。そのうちの1つとして、都道府県知事や市町村長のリコールがあり、一定割合の有権者の署名を集めて選挙管理委員会に請求します。
- エ 各地に見られるポイ捨て禁止条例などのように、地方公共団体は、法律の範囲内で独自に条例を定めることができます。

問6. 次のア～エの文の中から、間違っているものを1つ選び、記号で答えなさい。

- ア 株式会社とは、多くの出資者から資金を集めることができる会社（企業）の形態です。ここでの出資者のことを株主と呼びます。
- イ 買い手（需要）と売り手（供給）が自由な意思を持ち行動することで、商品の価格と流通量が決まるとされています。しかし実際には、売り手（供給）が一方的に設定した価格で取引されていることが多く見られます。
- ウ 現在、国の経済規模をあらわす指標としてGDPが使われています。GDPは日本語では国内総生産で、国内で生み出された価値の合計をあらわすものです。そのため、日本企業の海外での生産額などは含みません。
- エ 異なる業種の企業が株式の所有などによって1つのグループとなる形態をコンツェルンといい、戦前の財閥が典型的な例です。戦後になって制定された独占禁止法によって、現在は全面的に禁止されています。

問7. 働き方改革関連法によって、「自動車運転の業務」に関して年間の時間外労働時間の上限が960時間に制限されることが決まっています。この結果、物流（商品の運送など）の面で大きな障害が発生してモノが運べなくなったり、モノが作れなくなったりする問題が起きると予想されています。この問題のことをなんといいますか、解答欄にあてはまるように答えなさい。



令和6年度
第1回入学試験《社会》解答用紙

受験番号				ふりがな	
				氏名	

合計

1

問1	(i)		(ii)		(iii)	
----	-------	--	--------	--	---------	--

問2		問3		問4		問5		問6		問7	
----	--	----	--	----	--	----	--	----	--	----	--

問8			問9		問10		問11		問12	
----	--	--	----	--	-----	--	-----	--	-----	--

1

2

問1	(i)		(ii)	
----	-------	--	--------	--

問2	
----	--

問3	(1)		(2)	
----	-------	--	-------	--

問3 (3)	特 徴	
	理 由	

問4		問5		問6	(1)		(2)	
----	--	----	--	----	-------	--	-------	--

問7	(1)		(2)		(8)	
----	-------	--	-------	--	-------	--

2

3

問1		問2		問3		問4	
----	--	----	--	----	--	----	--

問5		問6		問7		問題
----	--	----	--	----	--	----

3