

令和6年度

入学試験問題

(第1回入試)

[社会]

(注意) 解答は、すべて解答用紙に記入下さい。

共栄学園中学校

(問題は次ページより始まります)

1 下の文章を読み、あとの各問いに答えなさい。

九州地方南部に位置する鹿児島県は、面積が大きい島をいくつか有しています。中でも日本で初めて世界自然遺産に登録された（A）島と2021年に世界自然遺産に登録された（B）島、徳之島が世界的に有名です。他にも日本に初めて鉄砲が伝わった種子島などがあります。これらの島には、多くの観光客が訪れます。

（A）島には九州地方の最高峰である宮之浦岳がそびえ、温暖で多くの雨が降る気候のもと、樹齢1000年を超える杉の原生林、縄文杉（写真1）が残っています。世界遺産に登録されたことで知名度が上がり観光客が増え、観光業が急速に発展しましたが、①様々な問題も発生しました。

鹿児島県の人々は、島が持つ自然と共存をしてきました。中でも、桜島（写真2）との共存は人々に大きな影響を与えています。桜島は鹿児島県南部に位置しており、頻繁に噴火を起こす火山です。名前の通り、かつては島でしたが、現在は大隅半島と陸続きになっています。②桜島は鹿児島県の県庁所在地である鹿児島市の近くに位置しています。頻繁に噴火を起こす火山の近くに大きな都市があるというのは、大変めずらしい事例です。桜島が噴火すると、鹿児島市には多くの火山灰が降ります。火山灰が降ると、街を歩く人々は傘をさし、ハンカチで口や鼻を覆い灰を防ぎます。また、天気予報では桜島上空の風向きが伝えられず。火山の噴火は、人の命に関わる災害を引き起こしかねません。そのため鹿児島市の人々は③さまざまな工夫を通して噴火への備えを行い、火山と向き合いながら暮らしています。

火山は災害を引き起こす一方で、温泉を作り出し、④電力を生み出すエネルギー産業にも利用されています。



写真1 原生林（縄文杉）



写真2 桜島



- (1) 空欄A, Bにあてはまる言葉をそれぞれ答えなさい。Aは漢字2字, Bは漢字3字で答えなさい。
- (2) 下線部①について、世界自然遺産に登録されたことにより発生した問題について誤って述べているものを、次のア～エから1つ選んで記号で答えなさい。
- ア. 縄文杉の周囲が踏み荒らされた。
 - イ. 外国人観光客のみ訪れるので観光ツアーが開催できない。
 - ウ. 立ち入り禁止となっている神聖な場所へ立ち入る人が増加した。
 - エ. 観光バスやレンタカーが増えたことによる大気汚染。

- (3) 下線部②について、以下の地形図にある桜島港から桜島フェリーターミナルまでの地図上の長さは16cmである。実際の長さは何kmか、計算して求めなさい。なおこの地形図の縮尺は25,000分の1地形図である。
- (4) 地形図上でみられる①  と②  の記号が表すものは何か、それぞれ漢字で答えなさい。
- (5) 下線部③について、あなたが鹿児島市民だった場合、噴火に備えて具体的にどのようなことができますか。考えて答えなさい。
- (6) 下線部④について、火山のエネルギーを利用して電力を生み出すのは何による発電か、漢字2字で答えなさい。



2 次の文章を読み、あとの各問いに答えなさい。

九州地方南部の地域は①温暖な気候を生かし、野菜などの成長を早めて出荷を行っています。例えばきゅうりやピーマン、(A)などが生産され、全国に出荷されています。

九州南部には古い②火山の噴出物が50～100mほど厚く積もってできた台地が広がっています。ここは非常に水を通しやすく、やせた土地のため乾燥に強い(B)が主に栽培されていました。また、やせた土壌が広がっている九州南部では、家畜のふんを肥料として利用していたこともあり、③畜産も盛んにおこなわれています。

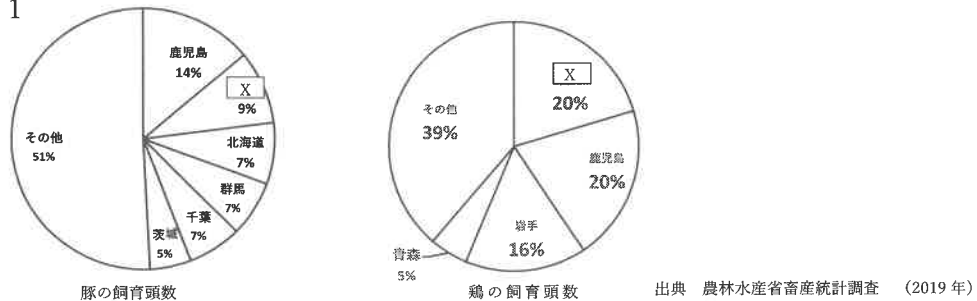
九州北部の佐賀県と福岡県にまたがる(C)平野は二毛作が行われており、有数の穀物の産地となっています。また、大消費地の福岡市に近いことからビニールハウスを利用した生鮮野菜の栽培も盛んです。特に「あまおう」や「さがほのか」などの(D)は人気が高く、アジア諸国に輸出されています。

- (1) 下線部①について、九州地方が比較的温暖な気候なのはなぜか説明しなさい。
- (2) 空欄(A)にあてはまる農作物として正しいものを語群Aから、空欄(B)にあてはまる農作物として正しいものを語群Bからそれぞれ1つずつ選んで答えなさい。

語群A	バナナ マンゴー パイナップル みかん
語群B	ジャガイモ タロイモ サツマイモ さといも

- (3) 下線部②について、この自然地形を何というか答えなさい。
- (4) 下線部③について、畜産とは牛・豚・鶏を飼育し、肉や卵を生産する農業です。図1は豚と鶏(食用)の飼育頭数の割合を示したグラフです。図1中の空欄Xに入る都道府県を答えなさい。

図1



- (5) 空欄Cにあてはまる言葉を次のア～エから1つ選んで記号で答えなさい。

ア. 岡崎 イ. 讃岐 ウ. 播磨 エ. 筑紫

- (6) 空欄Dにあてはまる作物を答えなさい。

3 次の会話文を読み、あとの各問いに答えなさい。

生徒：最近、呪術という言葉をよく耳にしますが、そもそも呪術って何ですか？

先生：呪術は自然的な力やエネルギーを扱あつかい、占うらいやまじない等を行う方法の1つです。実は、日本でも古代から行われてきたものなのですよ。

生徒：大昔から行われていたことなのですか？てっきり創作の物だと思っていました。日本における呪術の歴史について詳しく教えていただけますか？

先生：日本における呪術の源流は、あらゆるものに精霊せいれいが宿するとする自然信仰しぜんしんこうにさかのぼります。人々の生活が自然の恵みめぐみによって成り立っていたため、縄文時代の日本人は、あらゆる自然物や自然現象に神が宿ると信じていました。

生徒：そうなのですね。それで、日本に呪術がこのときから存在していたことがどうして分かるのですか？

先生：例えば、この時代の文化財として、(①) と呼ばれる土器人形が見つかっています。これらがつくられた理由ははっきりしていないのですが、女性をかたどったものが多いことから子孫の繁栄はんえいを祈いのったという説などが考えられています。

生徒：そうなのですね。それで、呪術はどのように発展していったのですか？

先生：弥生時代やよいになると、支配者ひみこがまじない、つまり呪術によって国を導く役割を果たすようになりました。卑弥呼という人物を知っていますか？

生徒：ああ、この人物は知っています。邪馬台国やまたいこくという国を治めた女王ですよ。

先生：その通りです。この人物は、②『魏志』倭人伝ぎし わじんでんによると、鬼道きどうによる政治を行っていたとされています。鬼道とはまじないのことで、これが呪術に当てはまります。

生徒：呪術を用いて政治を行った時代もあったのですね。

先生：その後、平安時代にはまじないが多く使われ、陰陽道おんみょうどうや③密教みつぎょうといった宗教が政治の中核ちゅうかくに据えられました。

生徒：陰陽道、聞いたことがあります。安倍晴明あべのせいめいという陰陽師おんみょうじがいましたよね。

先生：その通りです。陰陽師は、古代中国から伝わった知識をもとに占いやまじないを行っていました。安倍晴明は、一条天皇いちじょうや④藤原道長ふじわらのみちながに仕えたことが分かっている人物です。藤原道長は当時の権力者で、多くの人から呪われる対象にもなっていたといわれています。安倍晴明は、相当凄腕すごうでな陰

陽師だったのでしょうかね。

生徒：平安時代は、それほど多くの呪いが発生していたのですね。

先生：また、平安時代は怨^{おんりょう}霊も多数発生したといわれています。三大怨霊といわれる、(⑤), 菅原道真^{すがわらのみちざね}、崇徳上皇^{すとくじょうこう}は全員平安時代の人物です。

生徒：菅原道真って、学問の神様ではありませんでしたか？

先生：それは菅原道真が怨霊となってしまったことに由来します。菅原道真は、宇多天皇^{うだ}の時に活躍^{かつやく}した学者です。しかし、藤原氏との権力争いに敗れて大宰府に*左遷^{だざいふ}され、その地で亡くなりました。その後、都では道真を左遷^{させん}に追いやった人物が立て続けに亡くなり、その後朝廷^{ちやうてい}に雷^{かみなり}が落ちました。人々は道真の怨霊^{おそ}を恐れたため、菅原道真を神様として祀^{まつ}る神社が建てられたのです。

生徒：納得しました。ところで、武士が活躍する時代になると、呪術はどうなっていたのですか？

先生：源頼朝^{みなもとのよりとも}が鎌倉幕府^{かまくらばくふ}を開くと、武家社会が台頭し、呪術は国家の中心からは外れるようになりました。しかし、武士は戦の前に必勝を祈願^{きがん}する呪文^{じゆもん}を唱えたりしていたようです。また、元寇^{げんこう}の際に起きたという「神風」も、呪術の力によるものと伝えられています。

生徒：武士たちも呪術を使っていたのですね。でも、戦国時代と違ってそこまで怨霊の話は聞かないような気がします。なぜですか？

先生：それは、勝利した勢力が敵の大將の首^{ていねい}を丁寧^{ほうむ}に葬^{ほうむ}ったからです。これが、怨霊を防ぐ1つの方法だったとされています。

生徒：そうやって発展していったのですね。ただ、今は呪術が政治に関わっていることはないと思います。いったいなぜなのでしょう？

先生：それは、明治時代に政府が神道を国の宗教としようとしたためです。この過程^{はいじよ}で、呪術は国の中心からは排除されました。さらに、科学がより主流となった今では、呪術は非現実的なものとなっています。しかし、呪術は現在の人々にも密かに影響^{えいきやう}を与えています。例えば、コックリさんとか。今でもやっている人はいますよね。

生徒：あー、コックリさん！聞いたことがあります。まさかそれが呪術に繋が^{つな}っているとは思いませんでした。

*左遷^{させん}…人事異動によって今までよりも低い役職や地位に落とされること

- (1) 空欄 (①) にあてはまる語句を漢字で答えなさい。
- (2) 下線部②について、以下の史料は、『魏志』倭人伝を抜粋し、現代語訳したものである。この史料から読み取れることとして適するものの組み合わせを、次のア～エから1つ選んで記号で答えなさい。

その国は、もと男王が7, 80年支配していたが、倭国が乱れて何年間もたがいに攻め争うようになった。そこで諸国は共同して1人の女子を王に立てた。この女王の名を卑弥呼といい、女王は、呪術をよくして人民を従えた。年をとっても結婚せず、弟が政治をたすけた。…

魏の明帝の時、景初3(239)年6月に女王は大臣の難升米らを帯方郡に遣わして、魏の天子に朝献できるように願い出た。…同じ年の12月、明帝は詔書を下して倭の女王に報じていうには、「…今、あなたを『親魏倭王』とし、金印紫綬をさずけ、封をして帯方郡の長官にことづける。…また、とくにあなたに…銅鏡100枚…を与え、…それらの下賜品のすべてをあなたの国民に示して、わが国があなたをいつくしんでいることを知らしめよ。…」と。

卑弥呼が死んだ。大きな墓をつくった。…その後、男王が立ったが人々は服しなかった。おたがいに殺しあい、1000人ほど死んだ。卑弥呼の一族の女、壹与が13歳で王となると、国中が安定した。

- (a). 邪馬台国は、古くから女王が支配する国であった。
- (b). 卑弥呼には弟がおり、政治を助けた。
- (c). 卑弥呼は魏に使いを送り、銅鏡100枚などを授かった。
- (d). 卑弥呼の死後すぐに、壹与が王となった。

ア. a・c イ. a・d ウ. b・c エ. b・d

(3) 下線部③について、密教とは、真言宗でとり入れられた秘密の教えのことである。この真言宗を開いた人物はだれか。漢字で答えなさい。

(4) 下線部④の人物はどのようにして政治の実権をにぎったか、
 <資料 I>の家系図を参考にして文章で答えなさい。

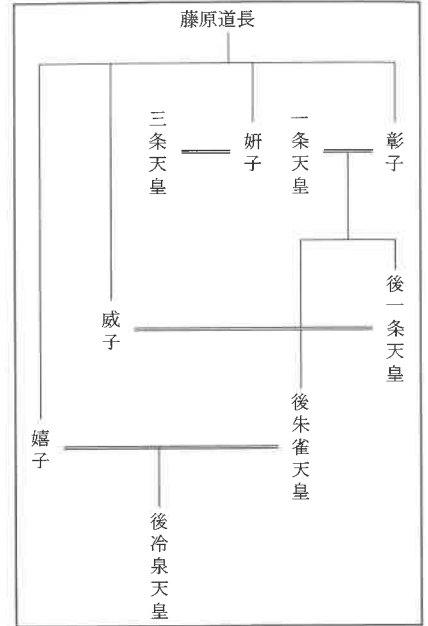
(5) 空欄 (⑤) は、10 世紀前半に関東地方で反乱を起こした人物の名前があてはまる。この人物名として適切なものを、次のア～エから 1 つ選んで記号で答えなさい。

- | | |
|----------------------------------|----------------------------------|
| ア. <small>たいらのまさかど</small> 平将門 | イ. <small>たいらのきよもり</small> 平清盛 |
| ウ. <small>ふじわらのすみとも</small> 藤原純友 | エ. <small>ふじわらのよりみち</small> 藤原頼通 |

(6) 下線部⑥の人物が 894 年に停止したものは何か、答えなさい。

(7) 下線部⑦の時の鎌倉幕府しつけんの執権はだれか。漢字で答えなさい。

<資料 I>



4 次の文章を読み、あとの各問いに答えなさい。

江戸は、もとは江戸城の近くまで海があり、平坦な土地も少ない場所であったといわれています。その江戸の町をつくったのは、①豊臣秀吉により江戸に領地替えされた徳川家康でした。徳川家康は、河川工事や埋め立てを行い、江戸の町を造りました。1600年の(②)の戦いで勝利し、幕府を開いてからは、全国の大名家に大がかりな工事を課したため、3代将軍である徳川家光の時代には江戸の町がほぼ完成したといわれています。

この江戸という町づくりには、呪術がかかわっているという説があります。家康・秀忠・家光3代の将軍に仕えていた天海という人物によるものです。天海は、③1635年に江戸城の*鬼門とされる東北方向に④寛永寺を建て、その住職となりました。また、城の*裏鬼門にあたる南西方向にある増上寺に秀忠を葬りました。天海はこのような形で結界を張ったとされています。

江戸の結界には、家康も関わっています。家康は生前、「遺体は駿河国の久能山(静岡県静岡市)に埋葬し、江戸の増上寺で葬儀を行い、三河国の大樹寺(愛知県岡崎市)に位牌を納め、一周忌の後に下野国の日光山(栃木県日光市)に小さな堂を建ててわが霊を勧請せよ。関東の鎮守となろう。」と遺言を残したとされています。秀忠はその遺言通りに家康の遺体を久能山に埋葬し、⑤日光にも家康を祀る神社を創建しました。久能山は裏鬼門にあたる江戸城の南西に位置し、日光の神社は江戸城のほぼ真北にあります。真北の方角は、江戸から見ると北極星を背にしています。北極星は古代中国では全宇宙を支配するとされていたことから、家康公を北極星と見立てることで正当性を高めようとしたということがうかがえます。

また、一説によると現在の東京も結界によって守られているといわれています。その正体が鉄道の路線です。鉄道の路線図を見ると、陰陽道における*太極図が浮かび上がることから、東京が結界によって守られているといわれているのです。この路線図が設計されたのは⑥第一次世界大戦中です。⑦明治時代以降、陰陽道は禁止されましたが、陰陽道は日本人に根付いたものであったのかもしれませんが。

*鬼門…北東の方角のこと。古代中国の考え方で北東の方角は「鬼の出入りする方角」を意味する。この考えが日本に伝来し、「不吉な方角」として広まった。

<資料Ⅱ>

^{うらきもん}
*裏鬼門…鬼門と反対の方角（南西）のこと。陰陽道では、
裏鬼門も不吉な方角とされている。

*太極図…<資料Ⅱ>を参照。



^{おだわらぜ}

(1) 下線部①について、徳川家康が江戸に領地替えされたのは1590年の小田原攻めの直後である。この小田原攻めにより、豊臣秀吉による天下統一が達成した。この天下統一よりも前にあった出来事として適切でないものを次のア～エから1つ選んで記号で答えなさい。

- ア. 山崎の戦いで豊臣秀吉が^{あけちみつひで}明智光秀をたおした。
イ. 豊臣秀吉が関白に任じられた。
ウ. ^{かたながりれい}刀狩令が出された。
エ. ^{ちょうせんしゅつぺい}朝鮮出兵が行われた。

(2) 空欄（②）にあてはまる語句を漢字で答えなさい。

(3) 下線部③の年に、参勤交代が制度化された。この参勤交代とはどのようなことか文章で説明しなさい。

(4) 下線部④の寺には、^{きょうほう}享保の改革を行った8代将軍である^{とくがわよしむね}徳川吉宗が埋葬されている。享保の改革の内容として適切なものを次のア～エから1つ選んで記号で答えなさい。

- ア. 裁判を公正に行うために^{くじかたおさだめがき}公事方御定書という法律を定めた。
イ. 江戸・大阪周辺を幕府の領地にしようとした。
ウ. 商業を^{しょうれい}奨励し、株仲間の結成を積極的にすすめた。
エ. ききんに備えて米を^{たくわ}蓄えさせた。

(5) 下線部⑤の神社の名前を答えなさい。

(6) 下線部⑥についての説明として適するものの組み合わせを、次のア～エから1つ選んで記号で答えなさい。

- (a). 日本はドイツの側に立って参戦した。
(b). 日本は中国に二十一か条の要求を出した。
(c). この戦争への反省から、1920年に国際連合がつくられた。
(d). この戦争の後、連合国とドイツとの間でベルサイユ条約が結ばれた。
- ア. a・c イ. a・d ウ. b・c エ. b・d

(7) 下線部⑦は、1868年に出された^{しんぶつぶんりれい}神仏分離令によるものであった。これが出された1868年に行われた出来事として適切でないものを、次のア～エから1つ選んで記号で答えなさい。

- ア. ^{ご か じょう} 五箇条 ^{ご せい もん} の御誓文が発表された。
- イ. ^{だい に ほんてい こく けん ぽう} 大日本帝国憲法が制定された。
- ウ. ^{ぼ しん せん そう} 戊辰戦争が始まった。
- エ. 江戸が東京に改められた。

5 次の文章を読み、あとの各問いに答えなさい。

世界の国々には様々な憲法や法律が存在します。我が国においては日本国憲法があります。

日本国憲法とは第二次世界大戦終結直後まで施行されていた大日本帝国憲法に代わり、1946年に新しく公布された憲法です。この憲法は、かつての憲法とは全くちがう性質をもつ原理が組みこまれました。それを三大原理と呼び、(①), (②) の尊重, さらに過去の戦争の反省をふまえて、(③) を採用しました。

私たちはこの憲法をもとに生活をしています。その生活の中で今まであるものをより良いものにしていたり、困っていることを解決したりするために、話し合いをする必要があります。その話し合いは国民全員が、1つの場所に集まって行うことは不可能なため、それぞれの地域から代表者を決めて、その選ばれた代表者が話し合いをする場が国会と言われる場所です。

憲法では国会は、「全国民を代表する機関」であると同時に「国権の最高機関であつて、国の唯一の(④)である」と定めています。その国会では日々変化する状況や将来について、様々なことを話し合っています。近年は世界の状況も目まぐるしく変化しています。この状況と上手に付き合いながら、我々国民は生活していかなければなりません。最近で言えば新型コロナウイルスが全世界に猛威を振るいましたが、世界保健機関と呼ばれる(⑤)は「国際的に懸念される公衆衛生上の緊急事態」の宣言を終了すると発表しました。しかしこの影響は計り知れません。

こうした様々な影響を受けているのは私達だけではなく、日本の経済も影響を受けています。例えば、ロシア・ウクライナ問題が発生しており、まだ終息する気配がありません。日本は火力発電の燃料となる LNG といわれる液化天然ガスの輸入を海外に頼っていましたが、ロシアによる軍事侵攻やヨーロッパ向けの天然ガスの供給停止などによって、天然ガスの価格が上がっています。またロシアとウクライナは世界有数の穀物の輸出大国であるため、軍事侵攻は多くの値上げに勢いをつけてしまいました。特に小麦は、主な産地のアメリカやカナダでの 2021 年夏の高温や乾燥による不作の影響もあり、値上げが続いています。上記のように世界情勢が日本の経済に影響を与えることは避けられないため、日々の状況をよく見て判断し、生活する必要があります。

物価が上がると支払うすべての金額が今までよりも増え、さらにそこに⑥消費税などの税金も同時に支払うため、生活するだけでも一苦勞になってしまいます。しかし納められた税金は日本を支えるためのお金でもあり、国民のために使用されるものでもあります。

これからの日本は国内の問題や世界情勢に対して、どのように取り組みをしていくかが

これからの課題になるでしょう。

- (1) 空欄 (①) ~ (⑤) に当てはまる語句を答えなさい。ただし⑤はアルファベット 3 文字で答えること。
- (2) 下線部⑥について、日本の消費税は過去に何回か税率が上げられてきました。最初の税率は 3%でしたが、現在は 10%です。世界の国々の消費税率は、ハンガリーは 27%、スウェーデン、デンマークなどは 25%です。これらの消費税の高い国々では、税率が高い分、福祉や教育が充実しています。例えば教育費はほとんどの大学で、授業料が無料であったり、医療費が子供だと無料になったりします。もし日本の消費税率が上がったとしたら、日本での生活にどのような影響を与えるのか、あなたの考えを答えなさい。

(問題はこれで終わりです)

1

(1)	A		B	
(2)		(3)		
(4)	①		②	
(5)				
(6)				

2

(1)				
(2)	A		B	
(3)		(4)		県
(5)		(6)		

3

(1)		(2)	
(3)			
(4)			
(5)		(6)	
(7)			

4

(1)		(2)	
(3)			
(4)		(5)	
(6)		(7)	

5

(1)	①		②		③	
④		⑤				
(2)						

受験 番号		氏名		得点	
----------	--	----	--	----	--