

1 写真1や4ページの地形図を見ながら次の文章を読み、あとの各問いに答えなさい。

男鹿半島(写真1)は秋田県の北部に位置し、日本海につき出していて、不思議な形をしています。この半島は、雄物川と米代川から(A)されて(B)したものが2本に伸びて、寒風山という①対岸の島が本土とつながってできました。このような地形を陸繋島と言います。なお、ふさがれて取り残された中心部の海は、八郎潟という②湖になりました。

男鹿半島は、「男鹿半島・大潟ジオパーク」の一部になっています。ジオパークとは、地球の歴史を学び、楽しむことのできる、地形や地層などが見られる公園です。男鹿半島のジオパークには、日本列島の過去7,000万年間の大地の歴史を、ほぼ連続して観察できる地層がそろっています。

ジオパークのみどころの1つである鶴ノ崎海岸は、日本の渚100選に選ばれている美しい海岸です。約1,000万年前の深さ2,000m級の海底にあった地層を見る事ができ、魚の骨やうろこの化石が見つかります。また、この海岸は波の(C)を受けて、やわらかい地層がけずられ、かたい地層が残された状態をしています。その様子から、(D)とも呼ばれています。



写真1 男鹿半島

(1) 空欄(A)～(C)には、川または波のはたらきを表す言葉が入る。次の【語群】の中から適切なものを1つずつ選んで書きなさい。

【語群】

浸食 運搬 堆積

(2) 下線部①について、日本国内で見られる陸繋島のほかの例を、次の写真を参考にして次のア～ウから1つ選んで記号で答えなさい。

ア. 天橋立

イ. 三保半島

ウ. 函館山



(3) 下線部②について、日本で一番面積が大きい湖の名前を答えなさい。また、その湖がある県の名前を漢字で答えなさい。

(4) 空欄(D)には、「鬼」がつく地形の名前が入る。次のア～ウから適切なものを1つ選んで記号で答えなさい。

ア. 鬼の洗濯板 イ. 鬼押し出し ウ. 鬼ヶ城

(5) 地形図の「おが駅」の近くにある①  と ②  の記号が表すものは何か、それぞれ漢字で答えなさい。

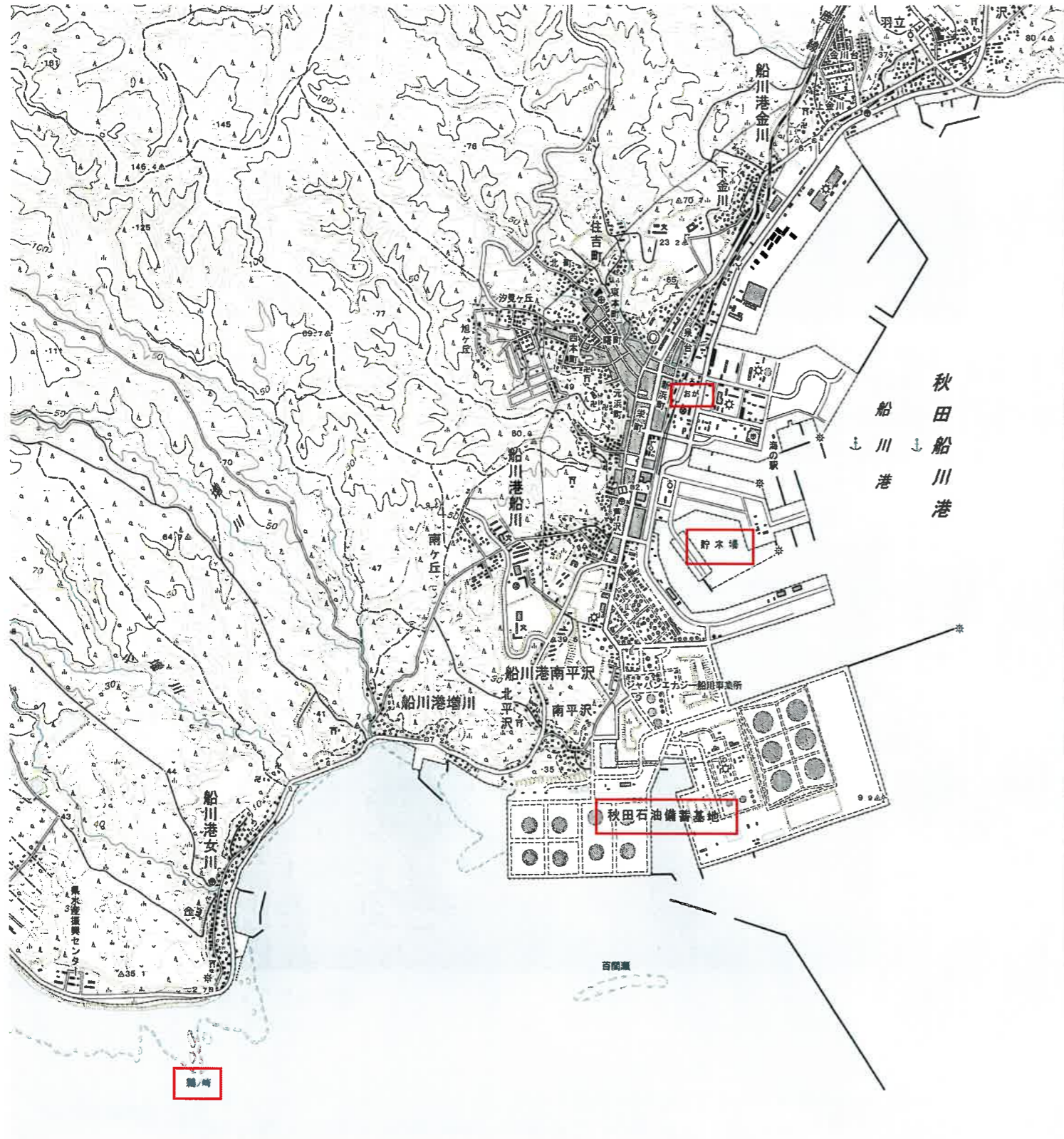
(6) おが駅から船川港の貯木場までは地図上で3cmある。実際の距離は何mか、計算して求めなさい。なお、この地形図の縮尺は25,000分の1である。

(7) 地形図から読み取れることとして、正しくない文章はどれか。次のア～ウから1つ選んで記号で答えなさい。

ア. 秋田石油備蓄基地には発電所がある。

イ. 建物が多く集まっているのは、おが駅より西側である。

ウ. おが駅から海の駅までの距離よりも図書館に行くほうが近い。



2 写真1・写真2を見ながら次の文章を読み、あとの各問いに答えなさい。

男鹿半島では、「なまはげ」（写真1）という伝統行事が今から350年以上前からつづいています。なまはげとは、「なまげ心をはぐ」という意味から名づけられたと言われていいます。なまはげは、毎年おおみそかの夜に家におとずれ、家の手伝いや勉強をしない子どもがいなかさがし回ります。なまはげがおとずれた家には、幸せがもたらされるといわれています。

なまはげは、“来訪神”仮面・仮装の神々として、2018年にユネスコの「無形文化遺産」に登録されました。この登録で、日本の無形文化遺産の登録は22件になりました。「無形文化遺産」とは、口承による芸能、社会的慣習、儀式および祭礼行事などが対象になるものです。無形文化遺産の例として、2013年に①和食が日本人の伝統的な食文化として登録されているのは、一般的に広く知られています。秋田県は日本人の主食であるお米の生産がさかんで、お米の収穫量は日本で第3位となっています（2018年現在）。

また、ユネスコが主催する事業として、無形文化遺産とは別に、「②自然遺産」があります。秋田県と（A）にまたがる白神山地は、1993年に自然遺産に登録されています。白神山地は、古くから生きつづける広大な（B）の森があり、生き物を育てる命の森と言われています。

秋田県には、なまはげのほかにも伝統行事がたくさんあります。夏に行われる「③竿燈まつり」（写真2）は、全国的に大変人気があるお祭りの1つです。④秋田新幹線が停まる秋田駅の近辺で行われるため、関東地方などからの交通の便も良く、観光で訪れる人が多くなっています。

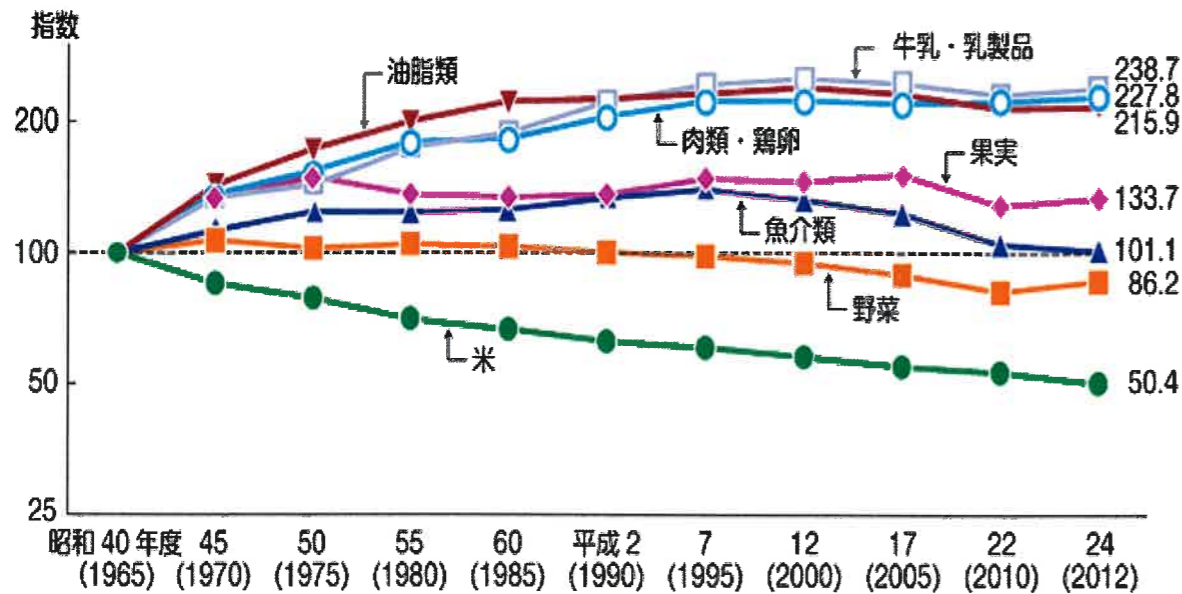


写真1 なまはげ



写真2 竿燈まつり

(1) 下線部①について、和食は長年にわたりつちかわれてきた日本の食文化といえますが、わが国の食生活は大きく変化しています。次のグラフは、日本国民1人当たりの品目別消費量を、昭和40（1965）年度を100とした場合の推移を表したものです。このグラフを見て、近年の日本人の食生活はどのように変化したか説明しなさい。



資料：農林水産省「食料需給表」

(2) 下線部②について、現在日本で登録されている自然遺産として正しくないものを次のア～ウから1つ選んで記号で答えなさい。

- ア. 屋久島 イ. 富士山 ウ. 小笠原諸島

(3) 空欄 (A) に入る県名を【語群A】から、空欄 (B) に入る木の名前を【語群B】から、それぞれ適切なものを1つずつ選んで書きなさい。

【語群A】 青森県 宮城県 山形県

【語群B】 スギ ヒノキ ブナ

(4) 下線部③について、竿燈まつりには、どのような願いや思いがこめられていると思いますか。写真2の竿燈の形に注目して答えなさい。

(5) 下線部④について、秋田新幹線は1997年に秋田と東京を3時間49分で結んだ新幹線です。この新幹線の愛称は何か、次のア～ウから1つ選んで記号で答えなさい。

- ア. ひかり イ. こまち ウ. とき

3 以下の文章を読み、あとの各問いに答えなさい。

日本人は、古くからさまざまな建造物をつくってきました。①佐賀県にある弥生時代の遺跡は、集落のまわりを二重の濠や土塁と柵で囲んでいました。集落の内側には、物見やぐらがあり、外からの攻撃にそなえるつくりをしており、弥生時代には集落のあいだで争いがあったことがわかります。3世紀ごろから、今の近畿地方には②大きな前方後円墳がつくられるようになります。西日本を統一したヤマト朝廷の大王の墓と考えられています。5世紀になると、ヤマト朝廷の支配力は東国や九州南部にまで広がるようになります。現在の埼玉県にある (③) 古墳から発見された鉄剣には、ワカタケル大王の名が確認されて、ヤマト朝廷との関係を証明しています。

6世紀に仏教が日本に伝わると、支配力を表す建造物が古墳から寺院建築に変わっていきます。7世紀に聖徳太子 (厩戸皇子) が建立した④法隆寺は、世界最古の木造建築物として知られています。

8世紀、都が平城京にうつされた時代、(⑤) 天皇は、伝染病や災害などから国を守るために全国に国分寺と国分尼寺をつくり奈良には大仏をつくるように命じました。東大寺の大仏殿は、12世紀と16世紀に焼失してしまい、現在の建物は江戸時代につくられたものです。伝統的建築物としては世界最大の木造建築物です。

室町時代には、床の間に違い棚が設けられ、部屋の仕切りにふすまを使い、窓の明かり取りに障子が用いられ、床には畳が敷き詰められた現代の和室建築の原型となる (⑥) が登場しました。

戦国時代から江戸時代初期にかけては、戦いのために天守閣をもつ城がつけられました。その多くは明治時代以降に取り壊されたり、太平洋戦争での空襲で失われたりしています。現在残る当時の天守閣は、全国に12数えられるのみです。その中でも、兵庫県の姫路城は白鷺城ともいわれ、世界遺産にも登録されています。


(1) 下線部①について、この遺跡を何といいますか。

(2) 下線部②について、2019年大阪府にある古墳群が新たに世界遺産に登録されました。この中で最も大きな古墳を何といいますか。漢字で答えなさい。

(3) 空欄 (③) に入る語として、正しいものを次のア～エから1つ選んで記号で答えなさい。

- ア. 江田船山 イ. 五色塚 ウ. 稲荷山 エ. 石舞台

(4) 下線部④について、この寺の写真として、正しいものを次のア～エから1つ選んで記号で答えなさい。



ウ.



エ.



(5) 空欄 (⑤) に入る天皇名を漢字で答えなさい。

(6) 空欄 (⑥) に入る語として、正しいものを次のア～エから1つ選んで記号で答えなさい。

ア. 武家造 イ. 書院造 ウ. 寝殿造 エ. 数寄屋造

(7) 下線部⑦について、この城の写真として、正しいものを次のア～エから1つ選んで記号で答えなさい。

ア.



イ.



ウ.



エ.



4 次の文章を読み、あとの各問いに答えなさい。

2019年4月、2024年から発行される新紙幣のデザインが発表されました。1万円札は①渋沢栄一、5千円札は②津田梅子、千円札は③北里柴三郎です。日本政府は、偽造防止などの理由から、およそ20年周期で紙幣を新しいデザインに変える改刷を行っています。今回は、1984年から1万円札に使用していた福沢諭吉、2004年から5千円札に使用していた樋口一葉、同じく2004年から千円札に使用していた④野口英世、3種類の紙幣を同時に新デザインにすると発表されました。

日本の紙幣の歴史を見てみましょう。江戸時代、伊勢山田地方の商人が発行した「山田はがき」といわれるものが日本最初のお札といわれています。その後、全国の大名家が「藩札」という大名の領地内だけで通用する紙幣を発行しました。最初に「藩札」を発行したのは福井藩だといわれています。

明治時代になると、政府が発行して全国で通用する紙幣がつくられるようになります。明治4(1871)年には、新貨条例で新しい単位である「円」が登場します。明治5(1872)年に「明治通宝」が発行されますが、偽造が多かったので新デザインに変えられます。明治14(1881)年、初めての肖像画入り紙幣が発行されます。肖像デザインは、神功皇后(14代仲恭天皇の皇后)でした。明治18(1885)年、銀貨と交換できる紙幣が発行されます。この肖像デザインには、商売の神様といわれる大黒天の肖像が描かれていました。明治21(1888)年から明治24(1891)年にかけて、菅原道真・武内宿禰・和氣清麻呂・藤原鎌足という歴史上の人物が次々と肖像デザインに登場しました。

昭和5(1930)年、聖徳太子が肖像デザインに登場します。聖徳太子は、全部で7種類の紙幣で肖像デザインとして使用されました。戦後は、二宮尊徳・⑤板垣退助・岩倉具視・高橋是清・⑥伊藤博文・新渡戸稲造・⑦夏目漱石が、肖像デザインとなりました。

(1) 下線部①について、この人物の写真として、正しいものを次のア～エから1つ選んで記号で答えなさい。

ア.



イ.



ウ.



エ.



(2) 下線部②について、この人物は少女時代にアメリカへ留学し、帰国後に学校を創設します。その学校名として、正しいものを次のア～エから1つ選んで記号で答えなさい。

ア. 日本女子大学校 イ. 女子英学塾 ウ. 大妻技芸学校
エ. 共立女子職業学校

(3) 下線部③について、この人物の写真として、正しいものを次のア～エから1つ選んで記号で答えなさい。



(4) 下線部④について、この人物は医学界で活躍したが、その功績として、正しいものを次のア～エから1つ選んで記号で答えなさい。

- ア. ペスト菌の発見 イ. 赤痢菌の発見 ウ. 黄熱病の研究
エ. ビタミンBの発見

(5) 下線部⑤について、この人物の説明として、正しくないものを次のア～エから1つ選んで記号で答えなさい。

- ア. 土佐藩（現在の高知県）の出身である。
イ. 征韓論を唱えたが、内治優先派に敗れて明治政府を去った。
ウ. 国会開設を求める意見書を政府に提出した。
エ. イギリス流の穏健な議会政治を唱えた。

(6) 下線部⑥について、この人物の説明として、正しくないものを次のア～エから1つ選んで記号で答えなさい。

- ア. 日露戦争後、初代の韓国統監に就任した。
イ. 薩摩藩（現在の鹿児島県）の出身である。
ウ. 内閣総理大臣に4回就任した。
エ. 憲法調査のため、ヨーロッパに派遣された。

(7) 下線部⑦について、この人物の作品を1つ答えなさい。

5 次のAとBの文を読み、あとの各問いに答えなさい。

A

2019年4月30日に天皇陛下が退位され、5月1日に皇太子さまが新しく天皇に即位され、令和時代がはじまりました。

天皇陛下は、国会の指名に基づく（①）の任命や、②内閣の助言と承認によって（③）を解散するといった国事行為のほか、外国への公式訪問や被災地の訪問といった様々なお仕事をされていますが、国の政治に関わることはできません。なぜなら、④日本国憲法では、天皇は日本や日本国統合の象徴であって、⑤主権をもたないからです。

- (1) 空欄（①）にあてはまる語句を漢字6字で答えなさい。
(2) 下線部②について、内閣の仕事の説明として正しくないものを次のア～エから1つ選んで記号で答えなさい。
ア. 国の予算をつくって国会に提出する。 イ. 国の法律を定める。
ウ. 行政の実務を行う。 エ. 外国と条約を結ぶ。
(3) 空欄（③）にあてはまる語句を漢字3字で答えなさい。
(4) 下線部④について、日本国憲法の三大原則には国民主権、（④）の尊重、平和主義があります。空欄（④）にあてはまる語句を漢字5字で答えなさい。
(5) 下線部⑤について、主権とはどのような権利ですか。説明しなさい。

B

2019年6月28日、29日にG20サミット（金融・世界経済に関する首脳会合）が（①）で行われました。アメリカ合衆国の（②）大統領、ロシアのプーチン大統領、中国の習近平国家主席や③国際連合の首脳といった世界中のリーダーたちが日本にきました。

G20サミットで話し合われる内容は世界経済、国際貿易といった経済の問題が中心ですが、環境問題、移民・難民問題、テロ対策など国際的に協力が必要な様々な問題も話し合われます。今回のG20サミットでは、国際貿易や地球温暖化について話し合われたほかに、議長国である日本は、④海洋プラスチックごみの世界規模の対策やデジタルデータの流通の国際ルール作りをとりあげました。

- (1) 空欄（①）にあてはまる都市を、次のア～エから1つ選んで記号で答えなさい。
ア. 大阪市 イ. 横浜市 ウ. 志摩市 エ. 京都市
(2) 空欄（②）にあてはまる人物の名前を答えなさい。
(3) 下線部③について、国際連合の主要機関で、世界の平和の維持について責任を負っている機関を何といいますか。漢字7字で答えなさい。
(4) 下線部④について、海洋プラスチックごみを削減するため、あなたならどのような対策をするとよいと考えますか。あなたの考えを答えなさい。

1

(1)	A		B		C	
(2)		(3)	湖		県	
(4)		(5)	①		②	
(6)			(7)			

2

(1)						
(2)		(3)	A		B	
(4)						
(5)						

3

(1)	遺跡		(2)	古墳		
(3)		(4)		(5)		
(6)		(7)				

4

(1)		(2)		(3)	
(4)		(5)		(6)	
(7)					

5

A

(1)		(2)	
(3)		(4)	
(5)			

B

(1)	
(2)	(3)
(4)	

受験 番号		氏名		得点	
----------	--	----	--	----	--