

[注意] 答えはすべて解答用紙に書きなさい。

[1] 次の図1・図2は、地理院地図で高知平野・讃岐平野の一部をそれぞれ示したものである。以下の問いに答えなさい。

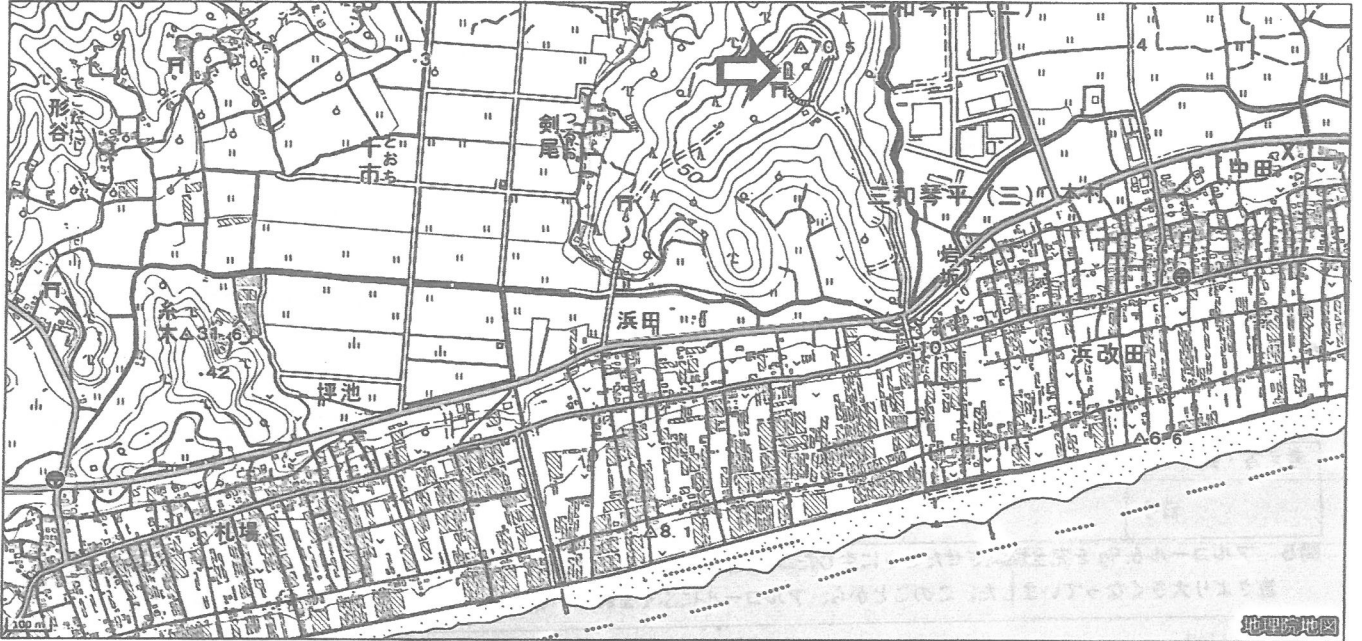



図1 高知県南国市付近

- 問1 図1の「札場」から「浜改田」にかけて、地図記号  が多く見られ、そのほとんどがある農業施設である。その農業施設とは何か答えなさい。
- 問2 問1の農業施設を主に用い、高知県が収穫量第1位(2023年)のものを、次のア～エより1つ選び、記号で答えなさい。
ア. トマト イ. きゅうり ウ. ほうれんそう エ. なす
- 問3 高知平野での野菜生産は、問1の農業施設を用いることで、他の産地と比べてどのような利点があるか説明しなさい。
- 問4 図1における矢印の地図記号「自然災害伝承碑」は、過去にどのような災害があつて建てられたと考えられるか、その災害種別を次のア～エより1つ選び、記号で答えなさい。
ア. 竜巻 イ. 土砂災害 ウ. 地震 エ. 火山災害
- 問5 図2における矢印の地図記号 Y は何を表しているか、次のア～エより1つ選び、記号で答えなさい。
ア. 消防署 イ. 税務署 ウ. 裁判所 エ. 警察署
- 問6 図2には池が多くみられる。この地域で池が多い理由と池の役割を、気候と関連づけて説明しなさい。
- 問7 以下の文章中の空らん(1)～(3)にあてはまる語句をそれぞれ答えなさい。
図2の香川県では、同じ耕地で1年間に2種類の異なる作物を育てる(1)がさかんであり、夏は米、冬は(2)を栽培している。農家では自家栽培の(2)を使用して郷土料理である(3)を作る食文化が受けつがれてきた。

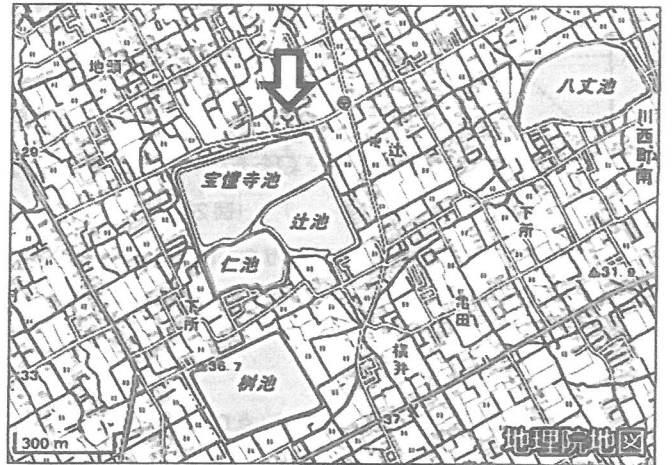


図2 香川県丸亀市付近

[注意] 答えはすべて解答用紙に書きなさい。

[2] 次の問いに答えなさい。

問1 右の表は、主な食料品の出荷額割合について上位3位(2022年)を示している。表中A～Cにあてはまるものを、次のア～カよりそれぞれ1つ選び、記号で答えなさい。

A	長野県 50.9%、群馬県 10.3%、愛知県 7.1%
B	千葉県 26.5%、兵庫県 15.7%、愛知県 8.0%
C	新潟県 49.1%、栃木県 5.4%、埼玉県 5.4%

ア. アイスクリーム イ. 米菓 ウ. 冷凍水産物 エ. しょうゆ
オ. チーズ カ. みそ

『データでみる県勢 2025』による

問2 右の表は、都道府県別の人口に関する統計である。表中A～Cにあてはまるものを、次のア～カよりそれぞれ1つ選び、記号で答えなさい。

	65歳以上の割合(%) (2023年)	昼夜間人口比率(%)※ (2020年)	過疎地域が総面積に占める割合(%) (2022年)
A	27.4	87.6	21.8
B	22.8	119.2	26.6
C	39.0	99.8	92.3
全国	29.1	100.0	63.2

ア. 秋田県 イ. 宮城県 ウ. 埼玉県
エ. 東京都 オ. 京都府 カ. 沖縄県

※昼夜間人口比率は、夜間人口100人あたりの昼間人口 『データでみる県勢 2025』による

問3 右の表は、北海道におけるさけ類、ぶり類の漁獲量の移り変わりを示している。北海道では、近年、さけ類の漁獲量が減少しつつあるのに対し、ぶり類の漁獲量は増加しつつある。その理由を説明しなさい。

	2005年	2010年	2015年	2020年	2023年
さけ類	187,339	133,715	117,111	51,789	59,674
ぶり類	3,088	2,190	10,063	15,344	13,659

(単位：トン) 『漁業・養殖業生産統計』より作成

[3] 次の文章を読み、以下の問いに答えなさい。

2023年は(1)のため売り物にならないコメが増え、供給不足になりました。その上に2024年8月の南海トラフ地震臨時情報以降、買いだめをする人が増えた結果、コメの品切れが続出し「令和の【あ】」という言葉が生まれました。その後もコメの価格は高値が続き、2025年3月にはスーパーのコメ5キロ当たりの価格が平均(2)円以上になっていました。同じ年の5月、新たに(3)大臣に就任した【い】進次郎氏が、(4)入札ではなく政府が価格を調整しやすい(5)契約にして政府の【う】米を放出し、「6月上旬に5キロ(6)円で店にならべる」と強気の発言もして話題になりました。

こうしたコメの値上がりの背景には、コメの生産が減り続けていることもあると言われています。これまで政府はコメの生産量が多くなりすぎないように調整する政策をとってきました。しかし(3)省が行った調査によると、2025年の主食用コメの生産量は、前年より約1割増となりました。

一方、卵は「価格の優等生」と言われるほど価格が安定していました。ところが、この数年値上がりが続いています。これは鳥【え】の流行や、[X]ことが原因と言われています。

問1 文中の空らん(1)～(6)にあてはまる数字または語句を、次のア～トよりそれぞれ1つ選び、記号で答えなさい。

ア. 1000 イ. 2000 ウ. 3000 エ. 4000 オ. 5000 カ. 円高 キ. 円安 ク. オークション ケ. 競争
コ. 指定 サ. 環境 シ. 農林水産 ス. 経済産業 セ. 財務 ソ. 冷夏 タ. 猛暑 チ. 獣害 ツ. 台風
テ. 随意 ト. 管理

問2 文中の空らん【あ】～【え】にあてはまる語句を答えなさい。

問3 [X]にあてはまる文を近年の国際情勢をふまえて答えなさい。

問4 日本から海外に輸出するコメの量を増やすにはどうしたらよいか、あなたの考えを説明しなさい。

問5 商品の価格について、次の問い<1><2>に答えなさい。

<1> 商品の価格が高くなるのは市場がどのような状態のときか、次のア～エより最も適切なものを1つ選び、記号で答えなさい。

ア. 商品の需要量も供給量も増えている イ. 商品の需要量も供給量も減っている
ウ. 商品の需要量が供給量を上まわっている エ. 商品の供給量が需要量を上まわっている

<2> ある国で多くの商品の価格が上がり続ける場合、その国の経済はどのような状態であることが多いか、次のア～エより1つ選び、記号で答えなさい。

ア. 不景気のとき イ. 好景気のとき ウ. 失業者が多いとき エ. 恐慌のとき

[注意] 答えはすべて解答用紙に書きなさい。

[4] 次の文章を読み、以下の問いに答えなさい。

沖縄県では①旧石器時代にあたる約1万8000年前の化石人骨が発見されました。沖縄では②日本の他の地域で米づくりが始まったあとも、狩りや漁をしたり、木の実などを採集する生活が続きましたが、③12世紀ころになると米づくりが広がり、室町時代には琉球王国がつくられました。琉球王国は日本と中国、朝鮮、東南アジアの国々をつなぐ(1)貿易で栄えました。江戸時代に入り、琉球王国は(2)藩に支配されるようになり、幕府の将軍や琉球国王が代わるたびに幕府へ使節を送りました。また、④いわゆる「四つの窓口」のひとつとなり、幕府は琉球王国を通して中国などの産物を手に入れました。

1853年、ペリーは琉球と小笠原諸島に寄港したのち、日本の(3)沖に現れました。明治政府は⑤1872年、琉球王国を琉球藩とし、1879年には琉球藩を廃止して沖縄県として日本に統合しました。昭和時代になり、太平洋戦争では1945年4月にアメリカ軍が沖縄に上陸し、激しい地上戦により⑥多くの住民が亡くなりました。戦後、1951年に結ばれた(4)条約により、日本の独立後もアメリカ軍が日本各地にとどまることになり、⑦現在でもアメリカ軍基地は沖縄県の面積の約10パーセントをしめています。⑧1972年に沖縄は日本に復帰し、1975年には本土復帰記念事業として沖縄国際海洋博覧会、⑨2000年には九州・沖縄サミットが開かれました。同じ年に琉球王国の城(グスク)が世界遺産に登録されましたが、その中の(5)城は2019年に火災にあい、現在、復元工事が進められています。

問1 空らん(1)～(5)にあてはまる語句をそれぞれ答えなさい。(4)は漢字6文字で答えなさい。

問2 下線部①について、旧石器時代の説明として正しくないものを、次のア～エより1つ選び、記号で答えなさい。

- ア. 日本列島はユーラシア大陸と陸続きであった
イ. 原石を打ち欠いて刃をつけた石器を使っていた
ウ. 子孫の繁栄や豊かな収穫を願って土偶がつくられた
エ. 寒い時期と比較的暖かい時期がくり返されていた

問3 下線部②について、米づくりが始まる前の社会と始まった後の社会の特徴を比べて、変化したことを説明しなさい。

問4 下線部③について、12世紀の一部は平安時代にあたる。次のア～エの平安時代のできごとについて、古いものから年代順になるように記号を並べかえなさい。

- ア. 平治の乱がおこる
イ. 藤原道長が摂政になる
ウ. 石橋山の戦いがおこる
エ. 白河上皇が院政をはじめ

問5 下線部④について、江戸幕府はいわゆる「四つの窓口」に外国との貿易や交渉を行う場所を制限した。1641年にはオランダ商館を長崎の出島に移した。それまでのオランダ商館はどこにあったのか、その地名を答えなさい。

問6 下線部⑤について、この年に刊行された『学問のすゝめ(すすめ)』を書いた人物の氏名を答えなさい。

問7 下線部⑥について、次の説明文の空らんにあてはまる語句を答えなさい。

[沖縄県糸満市につくられた「平和の()」という慰霊碑には、敵味方を問わず、沖縄の戦争で亡くなった約24万人の人々の名前が刻まれている。]

問8 下線部⑦について、沖縄県にアメリカ軍基地があることによっておきている問題を説明しなさい。

問9 下線部⑧について、この時の日本の内閣総理大臣を次のア～エより1つ選び、記号で答えなさい。

- ア. 池田勇人
イ. 佐藤栄作
ウ. 田中角栄
エ. 三木武夫

問10 下線部⑨について、この年に発行された2000円紙幣には「源氏物語絵巻」の図柄と『源氏物語』の作者が描かれている。『源氏物語』の作者名を答えなさい。

解 答 用 紙

[1]

問 1				問 2		
問 3						
問 4		問 5				
問 6						
問 7	1	2		3		

[2]

問 1	A	B	C	問 2	A	B	C
問 3	/						

[3]

問 1	1	2	3	4	5	6
問 2	あ		い	う		え
問 3						
問 4						
問 5	<1>		<2>			

[4]

問 1	1		2			3	
	4					5	問 2
問 3							
問 4	→ → →				問 5		
問 6				問 7			
問 8							
問 9		問 10					