

令和6年度

福岡大学附属大濠中学校

入学試験問題

社 会

[時間 45分]

注 意

1. 答えはすべて解答用紙に記入してください。
2. 解答用紙には氏名・受験番号（算用数字 例10001）をきちんと書いてください。

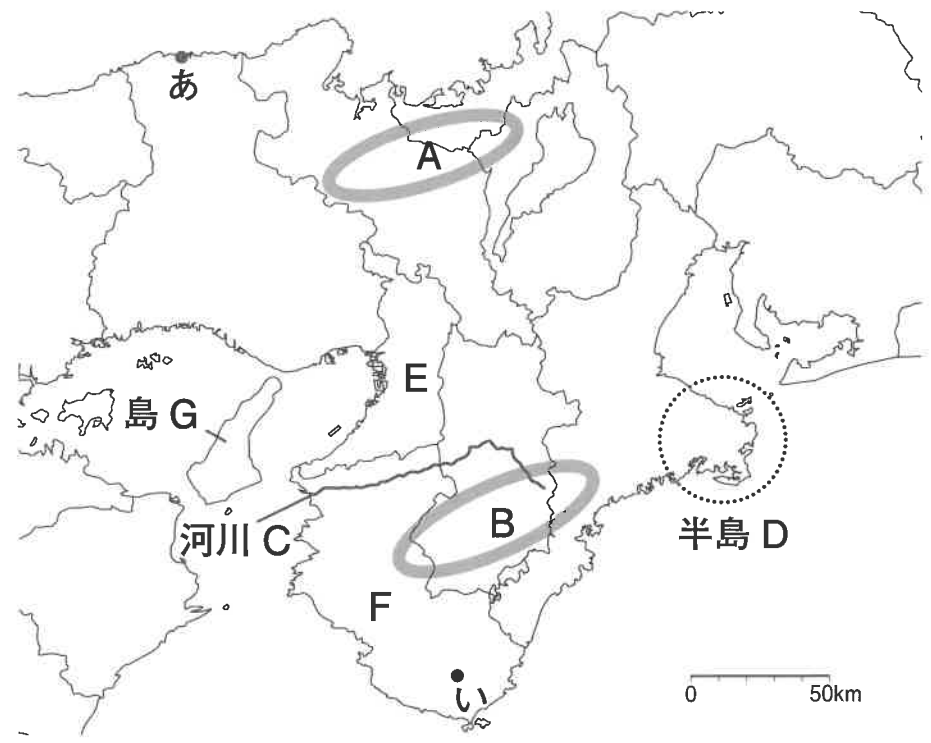
1

近畿地方について述べた次の文と図1に関して、あとの問いに答えなさい。

①近畿地方の地勢は、南北の山地とその間の盆地・平野に特徴づけられる。また②気候の特徴もそれぞれの地域で異なり、こうした自然環境は古くから③農業をはじめとした各地域の産業を特色づけてきた。

近畿地方では、中央部の平野や盆地に④人口が集中し、人や物の移動で強いつながりを持つ大都市圏が形成されている。この地域では大阪市を中心に鉄道網や道路網が整備され、それらの沿線を中心に市街地が広がっており、人口や産業が集中している。また沿岸部では⑤埋立地が造成され、港湾施設などが立地してきた。こうした大都市圏の様子は、⑥日本経済の成長にともなって変化してきた。

図1



問1 文中の下線部①に関して、図1中の〔1〕AとBの地域の地形を比べた場合、比較的なだらかな地域と、〔2〕河川Cの名称との正しい組合せを、次のイ～へから一つ選び記号で答えなさい。

解答の記号	イ	ロ	ハ	ニ	ホ	へ
〔1〕	A	A	A	B	B	B
〔2〕	熊野川	淀川	紀ノ川	熊野川	淀川	紀ノ川

問2 図1中の半島Dに関して、次の(1)～(3)の問いに答えなさい。

(1) 次の図2は、半島Dの一部地域の地理院地図(一部改変)で、図2中の表記は2万5千分の1の地形図と同じ表現形式です。図2から読み取れる内容について述べた文として誤っているものを、あとのイ～ニから一つ選び記号で答えなさい。

図2



- イ. 図中の地域の内陸にある「泉」では、集落から南部にかけて畑がある。
- ロ. 図中の東部にある「神津佐」には交番と自然災害伝承碑がある。
- ハ. 図中の北西部、国道の近くには、標高の基準となる水準点がある。
- ニ. 図中に示された地域には小・中学校と高等学校がある。

(2) 図2の地域では岬と入り江からなる複雑な海岸線が特徴的な地形が形成されています。同じ地形がみられない地域を次のイ～ニから一つ選び、記号で答えなさい。

- イ. 宮城県北東部      ロ. 千葉県北東部      ハ. 福井県西部      ニ. 愛媛県南西部

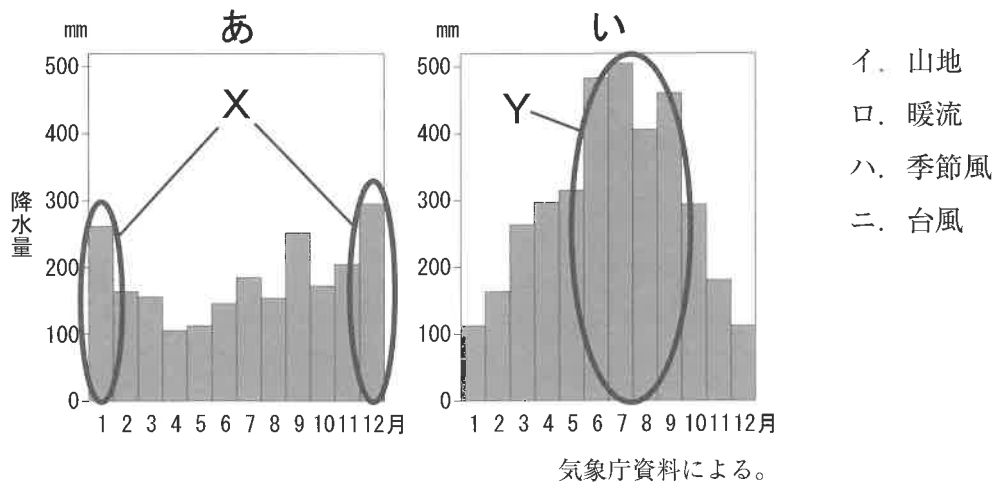
(3) 図2の地域でみられる養殖業について述べた次の文の波線部 (I) と (II) の正誤の正しい組合せを、あとのイ～ニから一つ選び記号で答えなさい。

この地域で真珠やたいの養殖業が発達している背景として、自然条件に恵まれていることがあげられる。この地域のような入り江は波のおだやかな水域になりやすく、養殖のためのいかだを設置しやすい。また、(I) 沿岸の山地から豊富な栄養分が流入することで水産資源に恵まれた豊かな水域となる。しかしこうした入り江では、(II) 地震にともなう高潮の被害が大きくなりやすいことが知られており、そうした自然災害への対策も必要である。

解答の記号	イ	ロ	ハ	ニ
(Ⅰ)	正	正	誤	誤
(Ⅱ)	正	誤	正	誤

問3 文中の下線部②に関して、次の図3は図1中のあ、いの地点の月ごとの降水量を示したものです。図中のX、Yはそれぞれの地点において比較的降水量の多い時期を示しています。これらの二つの時期の降水に共通して影響を与えている事柄として誤っているものを、あとのイ～ニから一つ選び記号で答えなさい。

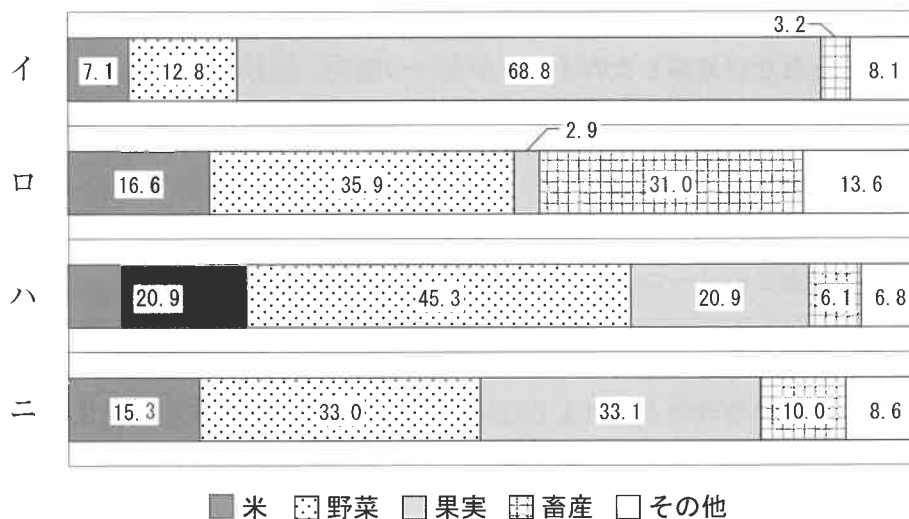
図3



問4 文中の下線部③に関して、次の図4は4つの府県の農業産出額に占める品目別の割合を示したもので、図中のイ～ニは図1中のE、Fの府県と、さらに千葉県、長野県のいずれかです。このうち、Eに当てはまるものをイ～ニから一つ選び記号で答えなさい。

図4

(単位は%)



統計年次は2020年。農林水産省資料による。

問5 文中の下線部④に関して、次の表1は人口密度、人口増加率、65歳以上人口の割合、第2次産業従事者の割合のいずれかの上位5都道府県を表したものです。このうち、人口密度に当てはまるものをイ～ニから一つ選び記号で答えなさい。

表1

解答の記号	イ	ロ	ハ	ニ
1位	富山県	秋田県	東京都	東京都
2位	静岡県	高知県	沖縄県	大阪府
3位	愛知県	山口県	神奈川県	神奈川県
4位	岐阜県	島根県	埼玉県	埼玉県
5位	三重県	山形県	千葉県	愛知県

統計年次は人口密度が2022年、人口増加率が2015年～2020年、65歳以上人口割合が2022年、第2次産業従事者の割合が2017年。総務省資料による。

問6 文中の下線部⑤について、近畿地方では1995年に大規模な地震が発生し、沿岸の埋立地でも液状化などの被害がみられました。この地震の震源は図1中の島Gの北部にある断層であったとされていますが、この島Gが属す府県の名称を答えなさい。

問7 文中の下線部⑥に関して、近畿地方の都市と都市圏の発達について述べた文として誤っているものを、次のイ～ニから一つ選び記号で答えなさい。

イ. 民間鉄道会社が沿線の開発を行い、住宅地やターミナル駅の百貨店などが作られた。

ロ. 沿岸部の埋立地には、家族経営の小規模な製造業者が集中している。

ハ. 戦後に開発された郊外の住宅地では、建物の老朽化や住民の高齢化が問題となっている。

ニ. 大都市圏の中心部では再開発が進み、工場などの跡地に新しい高層ビルがつくられた。

2

生徒2人による次の会話文を読んで、あとの問いに答えなさい。

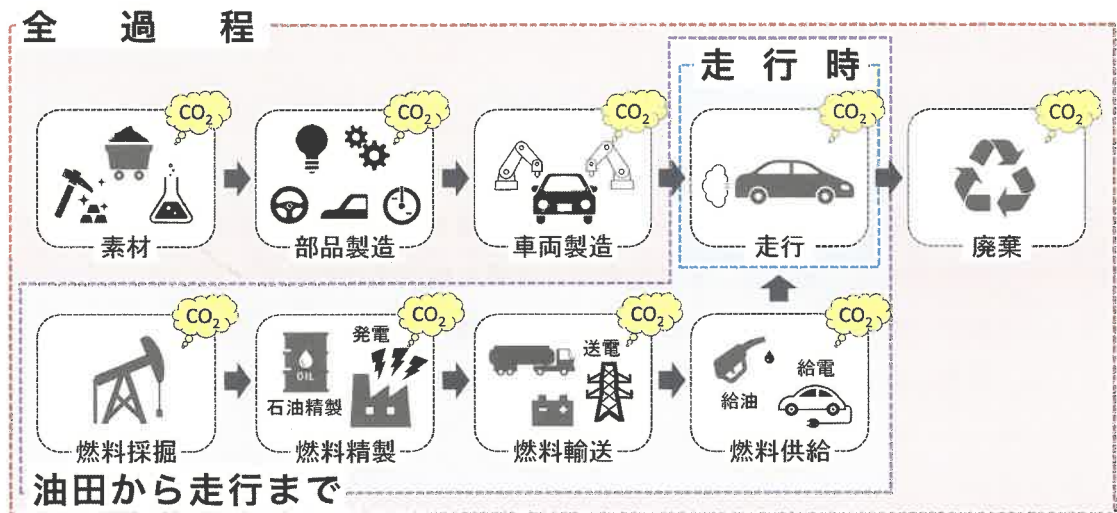
生徒A：最近いろいろなところでSDGsに関する事柄を見聞きするようになったね。①国際連合が進める国際的な目標だし、社会的な関心も高いみたいだ。

生徒B：SDGsは「持続可能な開発目標」のことだね。日本も含めた世界の国々が持続可能な社会を実現するために、17の目標が示されていて、それらを2030年までに達成することが目指されているよ。

生徒A：そういえば最近街中でも電気自動車をよく見るようになったよ。電気自動車は従来のガソリン車とは違って、温室効果ガスを排出しないし、SDGsの中でも「気候変動に具体的な対策を」という目標を達成していく上では欠かせない要素の一つだよ。

生徒B：②モータリゼーションが進んだ現代社会では、自動車は③船舶や航空機など他の交通手段に比べても、貨物輸送と旅客輸送の両方で特に重要な交通手段だ。これからも利用していくためには気候変動への対策も大切だよ。でも、電気自動車も温室効果ガスを全く出さないわけではないよ。自動車に関わる様々な過程を示した図1を見てみて。「CO<sub>2</sub>」と書かれた部分は温室効果ガスの代表的なものである二酸化炭素が排出されていることを示しているよ。

図1



みずほ情報総研、環境省資料より。一部改変。

生徒A：電気自動車はガソリン車と違って温室効果ガスを排出しない環境に優しい乗り物だと思っていたけれど、それが当てはまるのは「走行時」だけなんだね。実際には電力を作り出す部分や、電気自動車を製造・廃棄する部分で温室効果ガスが排出されている。これをみると、他にも④様々な過程で温室効果ガスが排出されているし、環境に優しいかどうかは「全過程」という視点で総合的に判断しないといけないね。

生徒B：そうだね。あと、電気自動車の走行に不可欠な⑤電力を得る方法もそれぞれの国や地域によって異なるから、火力発電を中心とする国や地域では、温室効果ガスの排出量も多くなる。また、様々な原料資源から金属や部品を製造する際にも温室効果ガスが発生する。⑥日

本はエネルギー資源や原料資源の多くを海外から輸入しているから、「全過程」での温室効果ガス排出量は、他国に比べて多くなる傾向にあるね。

生徒 A：電気自動車に使用されているリチウムや⑦コバルトなどを原料としたバッテリーも、現在の技術だと製造や廃棄の際に環境への負荷が大きいと聞いたことがあるよ。そうした面もあって、いろいろな国や地域で次世代バッテリーの開発も進んでいる。

生徒 B：日本の経済にとっても自動車工業はとても重要だから、私たちが暮らすこれからの世界に対応した優れた製品の開発に期待したいね。

問 1 会話文中の下線部①に関して、国際連合やそれに関連する国際的な取り組みについて述べた文として正しいものを次のイ～ニから一つ選び、記号で答えなさい。

イ. 国際連合の本部は、スイスのジュネーブに置かれている。

ロ. SDGs では、先進国のみが達成すべき17の目標が掲げられている。

ハ. ユネスコ (UNESCO) は世界各地の難民の保護や支援に取り組む機関である。

ニ. パリ協定は温室効果ガスの排出量削減のための国際的な取り決めである。

問 2 会話文中の下線部②に関して、モータリゼーションとは、人々の間に自動車が多く普及することで、通勤や買い物、レジャーなど日々の生活の中で自動車への依存が高まる状態のことをいいます。これに関して、次の (1)、(2) の問いに答えなさい。

(1) 2021年現在世界で最も自動車生産台数の多い国を、次のイ～ニから一つ選び記号で答えなさい。

イ. アメリカ合衆国

ロ. 日本

ハ. ドイツ

ニ. 中国

(2) モータリゼーションの進展にともなって、人々が自動車で郊外のショッピングセンターへ買い物に行くようになったことが、古くからの商店街が衰退する一因となりました。商店街に人々が来なくなったのはなぜか、商店街が立地する地域とその特徴に着目して説明しなさい。

問3 会話文中の下線部③に関して、次の表1は東京港、名古屋港、成田国際空港、関西国際空港のいずれかにおける貿易額と、輸出額・輸入額に占める割合の上位品目を示したものです。このうち、成田国際空港に当てはまるものをイ～ニから一つ選び、記号で答えなさい。

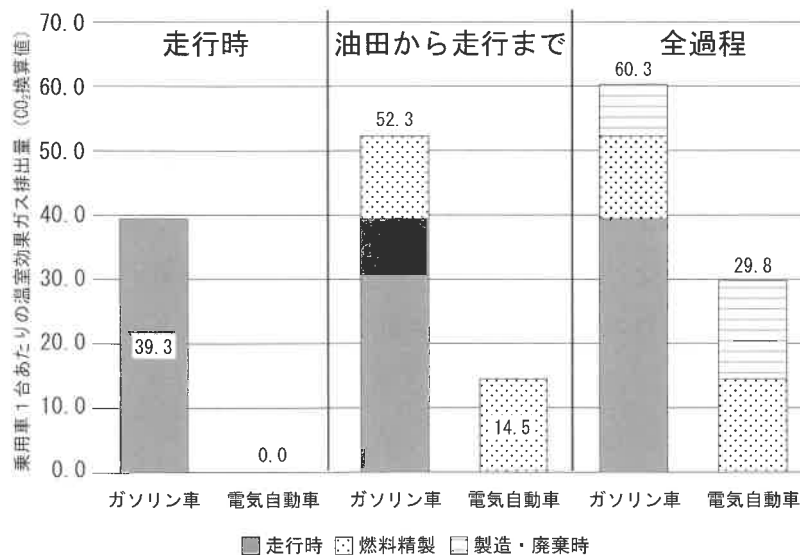
表1

解答の記号	貿易額(億円)	輸出上位品目	輸入上位品目
イ	147,297	自動車 自動車部品 内燃機関	液化ガス 衣類 石油
ロ	229,618	半導体製造装置 金(非貨幣用) 科学工学機器	通信機 医薬品 コンピュータ
ハ	87,363	集積回路 科学光学機器 電気回路用品	医薬品 通信機 集積回路
ニ	162,278	自動車部品 半導体製造装置 コンピュータ部品	衣類 コンピュータ 肉類

統計年次は2020年。日本国勢図会ほかによる。

問4 会話文中の下線部④に関して、次の図2はヨーロッパ州におけるガソリン車と電気自動車それぞれの乗用車の1台当たりの温室効果ガス排出量を示したものです。図2から読み取れる内容として誤っているものを、あとのイ～ニから一つ選び記号で答えなさい。

図2

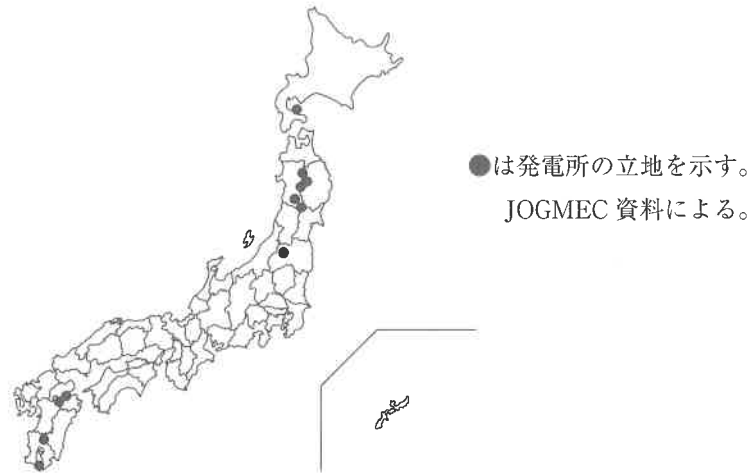


車両寿命は225,000kmとし、電力の温室効果ガス排出係数は147kgCO<sub>2</sub>換算値/kWhとして計算。  
環境省資料による。

- イ. 発電に輸入燃料を多く用いても、走行時に電気自動車から温室効果ガスは排出されない。
- ロ. 電気自動車よりもガソリン車の方が、燃料精製時の温室効果ガスの排出が少ない。
- ハ. 全過程では、走行時を含まない場合でも電気自動車の方が温室効果ガスの排出が少ない。
- ニ. ガソリン車と電気自動車の温室効果ガス排出量の差が最も大きくなるのは、走行時である。

問5 会話文中の下線部⑤に関して、次の図3は日本の発電所（特定の発電方法による出力5000kW以上、2023年現在）の立地を示したものです。図3に示されている発電所として正しいものを、あとのイ～ニから一つ選び記号で答えなさい。

図3



- イ. 火力発電所      ロ. 水力発電所      ハ. 原子力発電所      ニ. 地熱発電所

問6 会話文中の下線部⑥に関して、次の表2は日本の鉄鉱石、原油、石炭のいずれかの輸入相手国とその割合を示したものです。正しい組合せをあとのイ～へから一つ選び、記号で答えなさい。

表2

X	%	Y	%	Z	%
オーストラリア	65.4	オーストラリア	58.8	サウジアラビア	39.7
インドネシア	12.4	ブラジル	26.6	アラブ首長国連邦	34.7
ロシア	10.8	カナダ	6.3	クウェート	8.4
アメリカ合衆国	5.3	南アフリカ	3.3	カタール	7.6
カナダ	4.2	アメリカ合衆国	1.2	ロシア	3.6

統計年次は2021年。財務省貿易統計による。

解答の記号	イ	ロ	ハ	ニ	ホ	へ
X	鉄鉱石	鉄鉱石	原油	原油	石炭	石炭
Y	原油	石炭	鉄鉱石	石炭	鉄鉱石	原油
Z	石炭	原油	石炭	鉄鉱石	原油	鉄鉱石

問7 会話文中の下線部⑦に関して、電気自動車のバッテリーの原料であるコバルトは、地球上に存在する資源の量が少なく、取り出すことが難しい金属資源の一つです。こうした金属資源を何と云うか、カタカナで答えなさい。

## 3

次の文を読んで、あとの問いに答えなさい。

日本における農耕は、朝鮮半島から伝わってきたことではじまり、その時期は紀元前4世紀とも紀元前8世紀ともいわれている。また、①農耕とともに道具や技術なども伝わり、人々の生活文化に影響を与えたことによって、弥生文化が成立した。このうち、日本列島では多くの地域で農耕を基盤とする政治が行われた。

3世紀に成立した②大和政権に参加した豪族は、朝鮮半島から伝わった新しい技術を用いて耕地の拡大を目指すなど自らの支配を強化した。その後、中国や朝鮮半島の政治情勢が大きく変化したことを背景に、大和政権は中央集権的な律令国家の建設を目指し、701年には大宝律令を制定した。この律令体制では、③農民に対して一定の年齢に達した時点で口分田を与えることが定められ、農業の安定が目指された。しかし、農民が重い税負担から逃れようとしたことから上の仕組みが機能しなくなり、④政府は10世紀から地方の支配方法を変更することで対応した。

12世紀ころから、⑤院政のもと皇族・貴族や寺社の保護を受けることで各地に広がった荘園で、農業の発展が目指された。この結果、⑥鎌倉時代から室町時代にかけて農業技術が発達し、そのことを背景とする商工業も成長をとげた。

問1 文中の下線部①に関して、弥生時代に使用された祭りの道具として正しいものを、次のイ～ニから一つ選び記号で答えなさい。

- イ. 土偶      ロ. 埴輪      ハ. 銅鐸      ニ. 鉄剣

問2 文中の下線部②に関して、この時代の和政権や豪族について述べた文として誤っているものを、次のイ～ニから一つ選び記号で答えなさい。

- イ. 豪族は、大和政権に参加したことを示す古墳を造った。  
 ロ. 大和政権は、大宰府で中国の商人と貿易を行った。  
 ハ. 渡来人が伝えた技術によって作られた須恵器が使用された。  
 ニ. 大和政権は、朝鮮半島から儒教や仏教を導入した。

問3 文中の下線部③について、このことが定められた制度を何というか。漢字で答えなさい。

問4 文中の下線部④について、この支配方法として正しいものを、次のイ～ニから一つ選び記号で答えなさい。

- イ. 各地の小国の王が、濠やさく柵に囲まれた集落のなかで農民を指導した。  
 ロ. 地方の豪族が郡司に任命され、戸籍を作成して農民を支配した。  
 ハ. 領主から武士が現地の管理を任され、農民から年貢を集めた。  
 ニ. 国司に権限が集中し、農民からの税の取り立てを朝廷から任された。

問5 文中の下線部⑤について、院政は従来の政治に比べてどのような特徴があったのかについて述べた次の文中の  に当てはまる内容を答えなさい。

院政は、 ことによって上皇が実権を握り、摂政・関白をおさえて政治を行う点に特徴がある。


問6 文中の下線部⑥について、鎌倉時代から室町時代にかけて発達した農業技術や農作物として誤っているものを、次のイ～ニから一つ選び記号で答えなさい。

イ. 二毛作    ロ. <sup>ほしか</sup>干鰯    ハ. 桑    ニ. 藍

4

次の図や史料は、中世から近世にかけての民衆文化の発展を示すものです。史料を見て、あとの問いに答えなさい。

### 史料1



### 史料2

総じて北<sup>きた</sup>浜<sup>はま</sup>の米市は日本第一の港であるので、約二時間の間に五万<sup>かん</sup>貫もの米の相場取引もあった。その米は多くの蔵に積み重なり、夕の嵐や朝の雨、日和を見計らって、天候を見きわめて、前日の夜から相場を予想し、売る人もいれば買う人もいる。

にほんえいたいくら  
『日本永代蔵』

### 史料3



#### 史料4

役人の 子にはぎにぎを よく覚え

けんやくを 武芸のように いい立てる

はいふうやなぎだる  
『誹風柳多留』

問1 史料1は、応仁の乱をきっかけに一度とだえたのち、町衆によって再興された京都の祇園祭の様子を描いたものです。応仁の乱が起きた原因を、2点説明しなさい。その際、室町幕府の8代将軍の名前を必ずあげること。

問2 史料1に関して、祇園祭を行った町衆によって自治が行われた戦国時代の京都は、戦国大名からも政治的に重要な都市と考えられていました。京都に入って足利義昭を15代将軍に立て、勢力を拡大した戦国大名を、次のイ～ニから一つ選び記号で答えなさい。

イ. 徳川家康      ロ. 織田信長      ハ. 北条早雲      ニ. 武田信玄

問3 史料2は、町人の経済活動の活発化を背景に展開した元禄文化の時代に書かれた浮世草子の代表作の一部を要約したものです。史料2やこの時代の経済について述べた文として誤っているものを、次のイ～ニから一つ選び記号で答えなさい。

イ. 史料2のような浮世草子は、曲亭（滝沢）馬琴によってはじめられた。  
ロ. 史料2では、全国から物資が集まる大坂（阪）の様子が書かれている。  
ハ. 徳川綱吉が小判の質を変更したため、物価が上昇した。  
ニ. 木綿や菜種が商品作物として農村で生産された。

問4 史料3は、民衆に親しまれた浮世絵版画で、18世紀後半に多色刷りの錦絵を始めた人物の代表作です。この人物を、次のイ～ニから一つ選び記号で答えなさい。

イ. 歌川広重      ロ. 東洲斎写楽      ハ. 葛飾北斎      ニ. 鈴木春信

問5 史料4は、幕府への批判や世相を皮肉った内容を盛り込んで5・7・5の俳句の形式でよんだ歌です。このような歌を何というか漢字で答えなさい。

問6 史料4はいずれも幕府の政治を批判した内容になっていますが、こうした歌がさかんに作られた18世紀後半から19世紀前半の幕府や藩の政治について述べた文として正しいものを、次のイ～ニから一つ選び記号で答えなさい。

- イ. 田沼意次は、武士に対して儉約を命じた。
- ロ. 松平定信は、上知令を発した。
- ハ. 熊本藩は、専売制を実施した。
- ニ. 越前藩は、尊王攘夷運動の中心となった。

5 大濠中学校の生徒 A と生徒 B は、史料をみながら第一次世界大戦後の歴史について話をしています。会話文を読んで、あとの問いに答えなさい。

史料 1



史料 2



史料 3



生徒 A：第一次世界大戦後には、世界のさまざまな地域で、独立を求める民衆運動が起こったんだよね。史料 1 はインドの運動の指導者ガンディーをとらえたものだね。

生徒 B：そうだね、周囲には運動に参加している人々もいっしょに写っている。1930年頃に撮影されたものかな。

生徒 A：うん、ガンディーは第一次世界大戦後、植民地支配からの解放をもとめて  に対して非暴力・不服従の抵抗運動を行ったんだ。

生徒 B：史料 2 も、運動の様子だね。これは中国の五・四運動の様子かな。

生徒 A：そうだね。この事件の背景としては、中国への二十一ヶ条要求をはじめとする①日本の

中国進出があって、それに対する不満が大規模な反日運動につながったんじゃないかな。

生徒 B：他にも、この時期には東南アジアや中東など多くの地域で運動が起こされていたようだね。でもなぜこの時期に多くの運動が起こったのだろう。

生徒 A：この時期に世界的に民族運動や独立運動が活発になったことには、いろんな理由があるだろうね。例えばインドは、戦後の自治に期待して参戦したけれど、自治は実現しなかった。

生徒 B：そうか。そしてアメリカ大統領ウィルソンの②十四か条の平和原則や、ロシア革命の指導者レーニンが提唱した民族自決という考え方が、こうした運動に対して大きな影響を与えていたんだよね。ところで、運動では実際にはどんな抵抗が行われたのかな。

生徒 A：興味深いのは、**史料 1**のインドも**史料 2**の中国も、この時代とともに同じ方法で抵抗を試みていることかな。インドは  に対して、中国は日本に対して③  ことで抵抗した。これは相手国に対する政治的な主張を、経済的な抵抗によって押し通そうとしていたということかな。政治指導者だけでなく、多数の一般の人々が自分にできる消費行動で抵抗運動に参加したんだね。

生徒 B：では、一般の人々が写っているこの**史料 3**は何だろう。

生徒 A：これはラジオが置かれた部屋にいる日本の人々の様子を撮影したものだね。第一次世界大戦後、生活習慣が欧米化し都市化が進展したことで、同じような考え方や行動様式を共有する④**大衆**と呼ばれる人々が現れた。特に都市を中心に、雑誌や新聞、小説などを楽しむ人たちが増加したけど、ラジオはこの時代に大衆に受け入れられたメディアのひとつだったんだよ。

生徒 B：人々の考え方に大きな影響を与えるメディアが成長していったことは、世界で民族運動が活発化していったことなどと、何か関係があるかもしれないね。

問 1 会話文中の  に当てはまる国を、次のイ～ニから一つ選び記号で答えなさい。

イ. ドイツ    ロ. イタリア    ハ. イギリス    ニ. フランス

問2 下線部①に関して、日本の中国進出についての次の年表中に示したa～dの時期のうち、史料2の五・四運動が起こった時期として正しいものを、あとのイ～ニから一つ選び記号で答えなさい。

a
南満州鉄道株式会社（満鉄）が設立された。
b
張作霖爆殺事件が起きた。
c
満州国の建国が宣言された。
d

イ. a      ロ. b      ハ. c      ニ. d

問3 下線部②について、この提案をもとに成立した国際連盟において、1920年〔大正9年〕から1926年〔大正15年〕まで事務局次長を務めた人物を、次のイ～ニから一つ選び記号で答えなさい。

イ. 新渡戸稲造      ロ. 杉原千畝      ハ. 吉野作造      ニ. 松岡洋右

問4 下線部③について、文中の 

Y
---

 に当てはまる内容を答えなさい。

問5 下線部④について、第一次世界大戦後の日本の大衆文化や大衆の政治参加について述べた文として誤っているものを、次のイ～ニから一つ選び記号で答えなさい。

- イ. 和洋折衷<sup>せっちゆう</sup>の文化住宅が流行した。
- ロ. タイピストや電話交換手など、職業婦人が増えた。
- ハ. 朝鮮の民族美術を研究した柳宗悦が、民芸運動を提唱した。
- ニ. 五・一五事件によって加藤高明が暗殺され、政党内閣の時代が終わった。

## 6

次の文を読んで、あとの問いに答えなさい。

人権思想が①17世紀～18世紀ごろ、イギリスやフランスの思想家たちによって専制政治を否定する理論として説かれると、②基本的人権の尊重・③国民主権・④権力分立などが、近代民主政治の基本原則とされるようになった。19世紀以降、政治への参加を求める要求が強まり、それとともに⑤参政権が拡大していった。さらに20世紀になると、すべての人が人間らしく豊かに生きるための権利として⑥社会権が認められるようになった。

第二次世界大戦後、日本国憲法が制定され、人権の保障や民主的な制度が採用された。さらに、1960年代以降の社会・経済の変動とともに⑦国や地方公共団体に対して情報の公開を求める権利などの新しい人権も主張されるようになってきている。

問1 下線部①に関して、a、bの正しいものの組合せを次のイ～ニから一つ選び、記号で答えなさい。

- a ルソーは『社会契約論』を著し、間接民主制を主張した。  
b ロックは『統治二論』を著し、抵抗権を唱えた。

解答の記号	イ	ロ	ハ	ニ
a	正	正	誤	誤
b	正	誤	正	誤

問2 下線部②に関して、次の資料は、国民の平等や自由といった事柄を規定し、18世紀末までの民主主義思想を集大成したものといわれている。この資料の名称として正しいものをあとのイ～ニから一つ選び、記号で答えなさい。

## 資料



上の資料には、「人は、自由かつ権利において平等なものとして生まれ、生存する」という文言が見られます。

- イ. 世界人権宣言      ロ. 権利章典      ハ. マグナ・カルタ      ニ. フランス人権宣言

問3 下線部③に関して、日本では国民主権の採用によって、天皇の地位は日本国および日本国民統合の象徴として位置付けられています。次のa～cのうち、日本国憲法が定めている天皇の国事行為の正誤を判断し、その正しい組合せをあとのイ～へから一つ選び、記号で答えなさい。

- a 衆議院を解散する。
- b 国会の指名に基づいて国務大臣を任命する。
- c 内閣の指名に基づいて最高裁判所長官を任命する。

解答の記号	イ	ロ	ハ	ニ	ホ	ヘ
a	正	正	誤	誤	誤	正
b	誤	誤	誤	正	正	正
c	誤	正	正	誤	正	誤

問4 下線部④に関して、権力分立制を採る国では権力相互間の抑制と均衡がはかられています。日本において、国や地方自治体による権力行使に対して行われる裁判の種類を何というか、答えなさい。

問5 下線部⑤に関して、日本国憲法が定めている直接民主制的な参政権のうち、二つの規定について次の文中の  と  に当てはまる語句の正しい組合せを、あとのイ～ニから一つ選び記号で答えなさい。

憲法に規定されている直接民主制的参政権には、憲法改正の  や最高裁判所裁判官の  などがある。

解答の記号	イ	ロ	ハ	ニ
〈 X 〉	国民投票権	国民審査権	住民投票権	住民投票権
〈 Y 〉	国民審査権	国民投票権	国民投票権	国民審査権

問6 下線部⑥に関して、(1)、(2)に答えなさい。

- (1) 次の資料を読んで、世界で初めて生存権を含む社会権を規定したこの憲法の名称を答えなさい。

資料

第151条 経済生活の秩序は、すべての人に、人たるに値する生存を保障することを旨とし、正義の諸原則にかなうものでなければならない。

- (2) 日本の社会保障制度を説明した文として誤っているものを、次のイ～ニから一つ選び記号で答えなさい。

- イ. 公的扶助の中には、生活扶助や教育扶助があり、申請者の保険料が財源である。
- ロ. 社会保険には医療保険があり、医療などのサービスを提供する。
- ハ. 社会福祉は、児童、老人の支援を目的として、手当やサービスを提供する。
- ニ. 公衆衛生は、健康の増進、病気の予防についての活動を行う。

問7 下線部⑦の権利の名前を、次のイ～ニから一つ選び記号で答えなさい。

- イ. プライバシーの権利      ロ. 知る権利      ハ. 請願権      ニ. 意見表明権







氏名	
----	--

受験番号				
------	--	--	--	--

1	問1	問2	(1)	(2)	(3)	問3	問4
	問5	問6				問7	

小計	

2	問1	問2	(1)				
	問2	(2)					
	問3	問4	問5	問6	問7		

小計	

3	問1	問2	問3	問4			
	問5					問6	

小計	

4	問1					
	問2	問3	問4	問5	問6	

小計	

5	問1	問2	問3	問4			
	問5						

小計	

6	問1	問2	問3	問4			
	問5	問6	(1)	(2)	問7		

小計	